



# 長さのたんい 3

● 物のさしの見かた (cm)

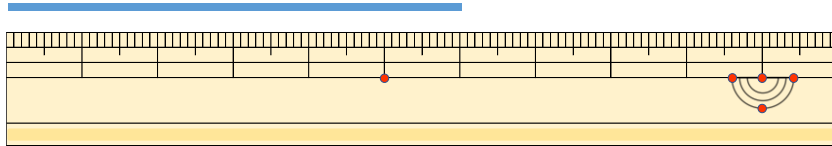


日にち：            月            日

名まえ \_\_\_\_\_

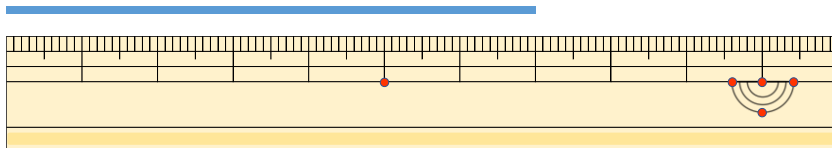
・ 線の <sup>せん</sup>長さは <sup>なが</sup>何 <sup>なん</sup>cm でしょう。

①



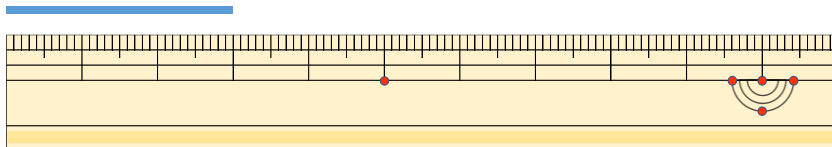
こた 答え (            )

②



こた 答え (            )

③



こた 答え (            )





# 長さのたんい 3

● 物のさしの見かた (cm)

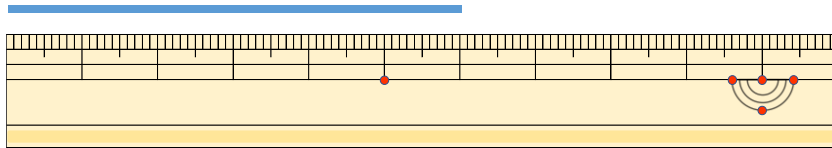


日にち：            月            日

名まえ \_\_\_\_\_

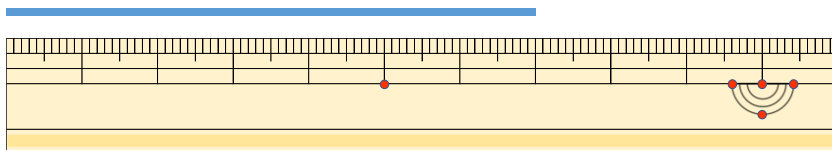
・ 線の <sup>せん</sup>長さは <sup>なが</sup>何 <sup>なん</sup>cm でしょう。

①



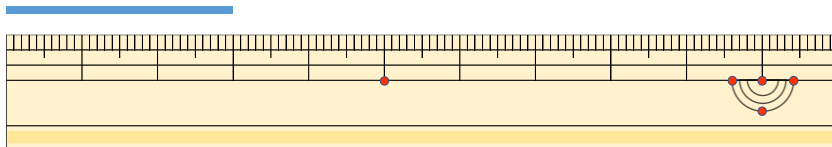
こた 答え (    6 cm    )

②



こた 答え (    7 cm    )

③



こた 答え (    3 cm    )

