



長さのたんい 3

● 物のさしの見かた (cm)

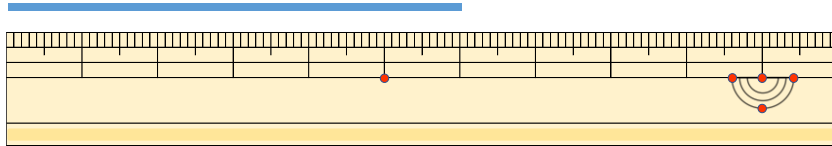


日にち： 月 日

名まえ _____

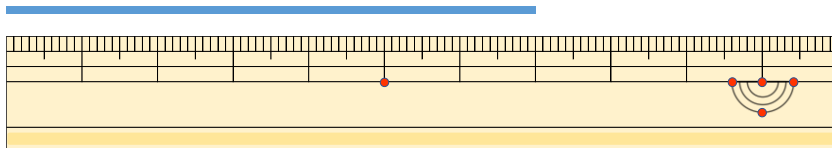
・ 線の ^{せん}長さは ^{なが}何 ^{なん}cm でしょう。

①



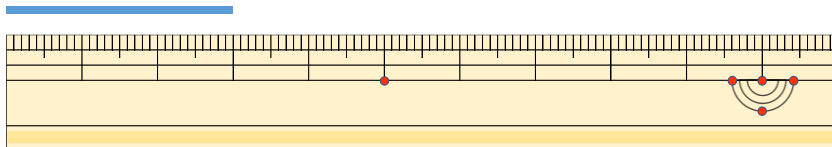
こた 答え ()

②



こた 答え ()

③



こた 答え ()





長さのたんい 3

● ものさしの見かた (cm)

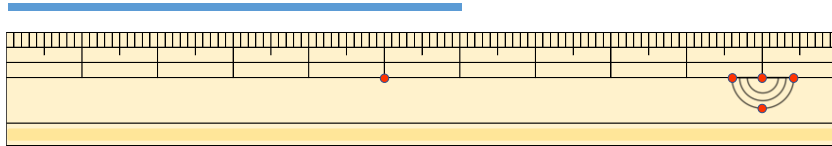


日にち： 月 日

名まえ _____

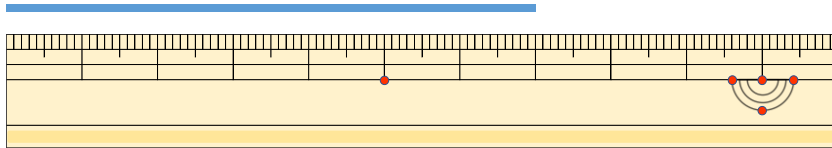
・ 線の ^{せん}長さは ^{なが}何 ^{なん}cm でしょう。

①



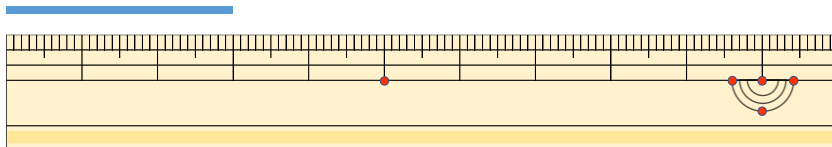
こた 答え (6 cm)

②



こた 答え (7 cm)

③



こた 答え (3 cm)

