





# 長さのたんい 6

● 物のさしの見かた (mm)

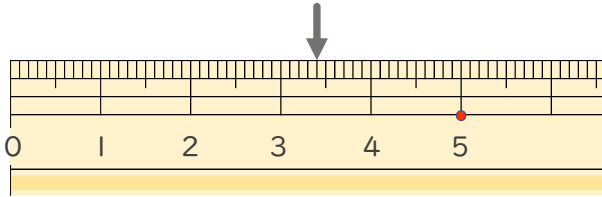


日にち：            月            日

名まえ \_\_\_\_\_

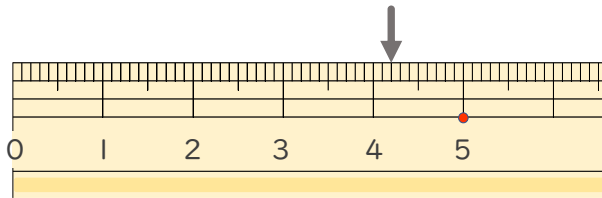
1 <sup>ひだり</sup> 左はしから <sup>なが</sup> ↓ までの <sup>なん</sup> 長さは <sup>なん</sup> 何cm何mm ですか。

①



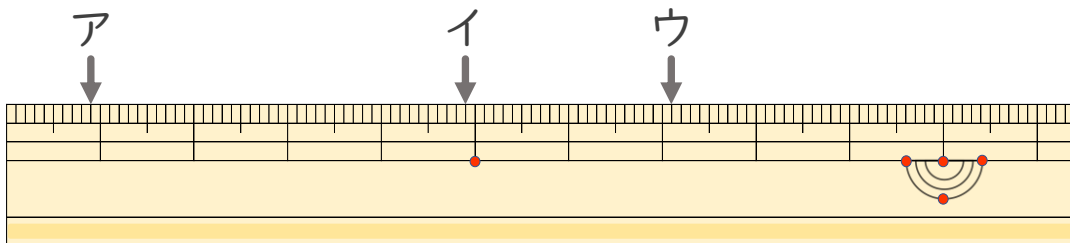
答え ( 3 cm 4 mm )

②



答え ( 4 cm 2 mm )

2 <sup>ひだり</sup> 左はしから ア、イ、ウ、までの <sup>なが</sup> 長さは それぞれ どれだけで ですか。



ア ( 9 mm )      イ ( 4 cm 9 mm )

ウ ( 7 cm 1 mm )