



長さのたんい 5

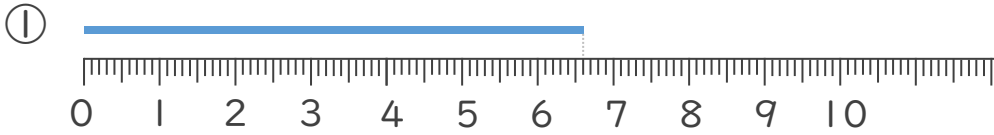
● ミリメートル



日にち： 月 日

名まえ _____

1 ^{せん}線の ^{なが}長さは ^{なん}何cm ^{なん}何mm でしょう。



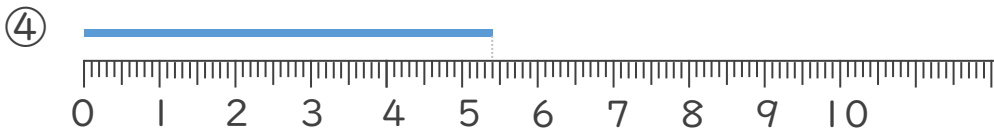
こた 答え ()



こた 答え ()



こた 答え ()



こた 答え ()





長さのたんい 5

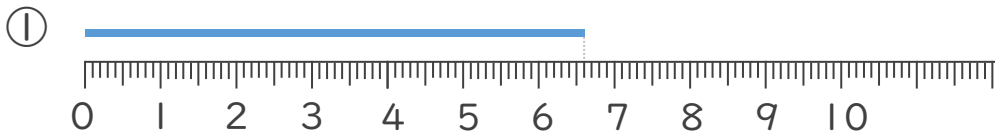
● ミリメートル



日にち： 月 日

名まえ _____

1 線の長さは何cm何mmでしょう。



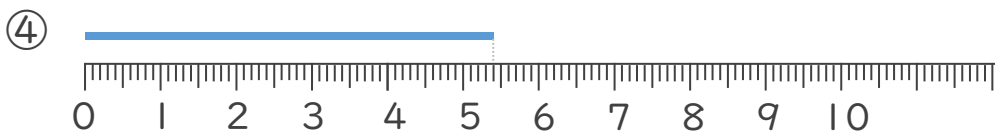
答え (6 cm 6 mm)



答え (4 cm 5 mm)



答え (3 cm 2 mm)



答え (5 cm 4 mm)

