



水のかさ4

リットルとデシリットル

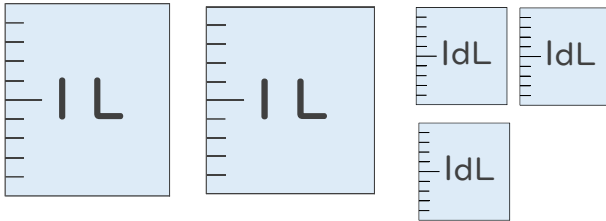


日にち： 月 日

名まえ _____

- 水のかさはどれだけですか。
それぞれのたんいであらわしましょう。

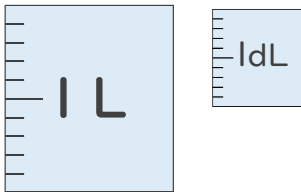
①



(L dL)

(dL)

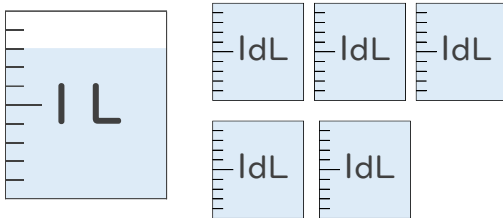
②



(L dL)

(dL)

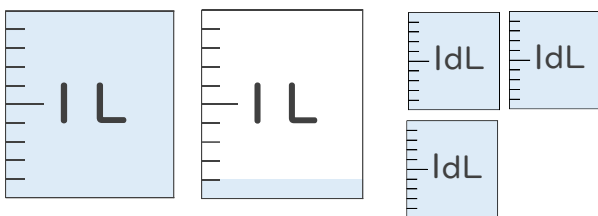
③



(L dL)

(dL)

④



(L dL)

(dL)



水のかさ4

● リットルとデシリットル

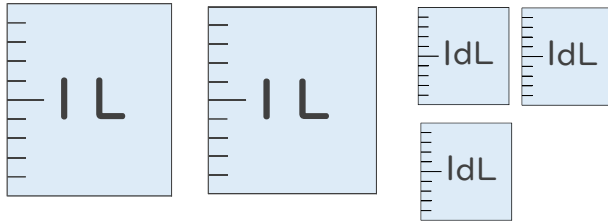


日にち： 月 日

名まえ _____

- 水のかさはどれだけですか。
それぞれのたんいであらわしましょう。

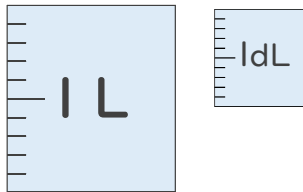
①



(2 L 3 dL)

(23 dL)

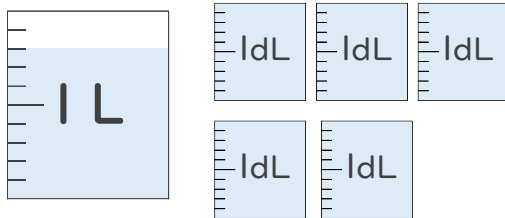
②



(1 L 1 dL)

(11 dL)

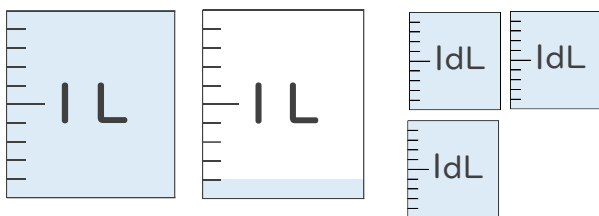
③



(1 L 3 dL)

(13 dL)

④



(1 L 4 dL)

(14 dL)