



# 水のかさ 3

リットル



日にち： 月 日

名まえ \_\_\_\_\_

1 つぎのペットボトルに入る水のかさをしらべましょう。

(うすい字はなぞりましょう。)



1 L



① ペットボトルに入る水のかさは、何dLですか。

答え： \_\_\_\_\_

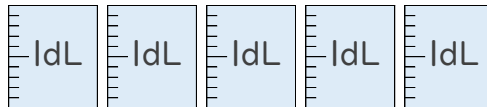
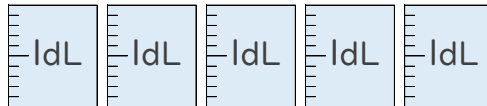
② ペットボトルに入る水のかさは、何L何dLですか。

答え： \_\_\_\_\_

2 つぎのペットボトルに入る水のかさをしらべましょう。



1 L



① ペットボトルに入る水のかさは、何dLですか。

答え： \_\_\_\_\_

② ペットボトルに入る水のかさは、何L何dLですか。

答え： \_\_\_\_\_





# 水のかさ 3

リットル



日にち： 月 日

名まえ \_\_\_\_\_

1 つぎの ペットボトルに入る 水のかさを しらべましょう。

(うすい字はなぞりましょう。)



1 L



① ペットボトルに入る 水のかさは、何dLですか。

答え： 15dL

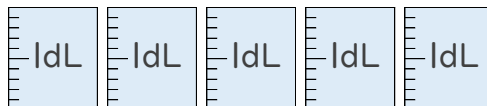
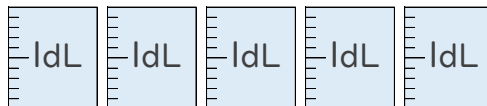
② ペットボトルに入る 水のかさは、何L何dLですか。

答え： 1 L 5 dL

2 つぎの ペットボトルに入る 水のかさを しらべましょう。



1 L



① ペットボトルに入る 水のかさは、何dLですか。

答え： 11dL

② ペットボトルに入る 水のかさは、何L何dLですか。

答え： 1 L 1 dL

