



水のかさ 3



● リットル

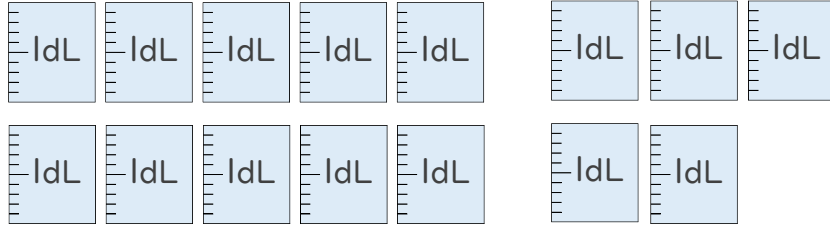
日にち： 月 日

名まえ _____

1 つぎのペットボトルに入る水のかさをしらべましょう。



1 L



① ペットボトルに入る水のかさは、何dLですか。

答え： _____

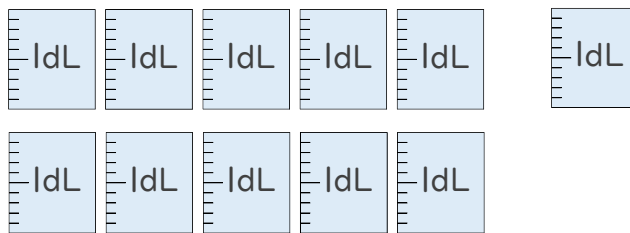
② ペットボトルに入る水のかさは、何L何dLですか。

答え： _____

2 つぎのペットボトルに入る水のかさをしらべましょう。



1 L



① ペットボトルに入る水のかさは、何dLですか。

答え： _____

② ペットボトルに入る水のかさは、何L何dLですか。

答え： _____



水のかさ 3



● リットル

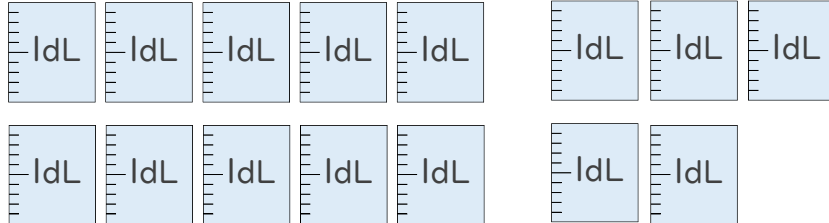
日にち： 月 日

名まえ _____

1 つぎのペットボトルに入る水のかさをしらべましょう。



1 L



① ペットボトルに入る水のかさは、何dLですか。

答え： 15dL

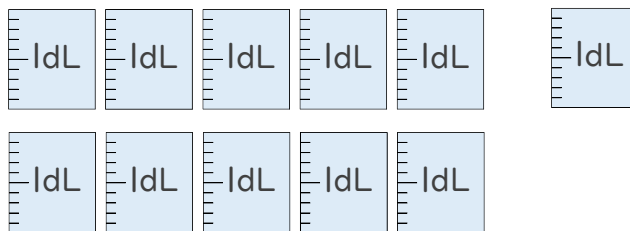
② ペットボトルに入る水のかさは、何L何dLですか。

答え： 1 L 5 dL

2 つぎのペットボトルに入る水のかさをしらべましょう。



1 L



① ペットボトルに入る水のかさは、何dLですか。

答え： 11dL

② ペットボトルに入る水のかさは、何L何dLですか。

答え： 1 L 1 dL