



かけ算 26

● リボンの2ばいの長さ

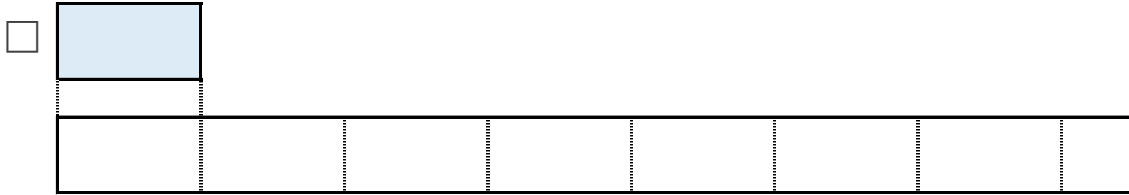


日にち： 月 日

名まえ _____

1 ㊦のリボンの4ばいの長さを求めましょう。

① ㊦のリボンの4ばいの長さに色をぬりましょう。



② ㊦のリボンの長さは、4cmです。


①でぬったところの長さは何cmですか。

しき：

答え： _____

2 ㊧のリボンの3ばいの長さを求めましょう。

① ㊧のリボンの3ばいの長さに色をぬりましょう。



② ㊧のリボンの長さは、6cmです。

①でぬったところの長さは何cmですか。

しき：

答え： _____





かけ算 26

● リボンの2ばいの長さ

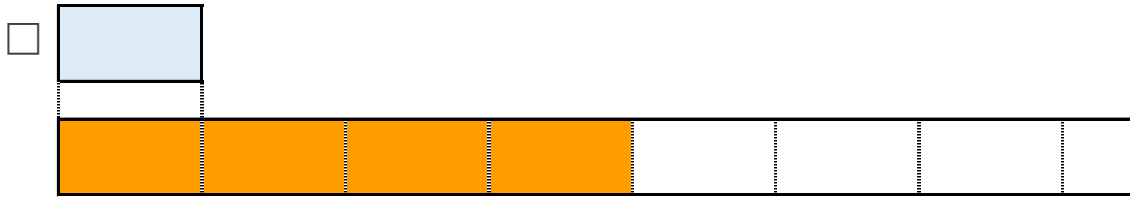


日にち： 月 日

名まえ _____

1 ㊦のリボンの4ばいの長さを求めましょう。

① ㊦のリボンの4ばいの長さに色をぬりましょう。



② ㊦のリボンの長さは、4cmです。


①でぬったところの長さは何cmですか。

$$\text{しき： } 4 \times 4 = 16$$

答え： 16cm

2 ㊧のリボンの3ばいの長さを求めましょう。

① ㊧のリボンの3ばいの長さに色をぬりましょう。



② ㊧のリボンの長さは、6cmです。

①でぬったところの長さは何cmですか。

$$\text{しき： } 6 \times 3 = 18$$

答え： 18cm

