



# 分数7

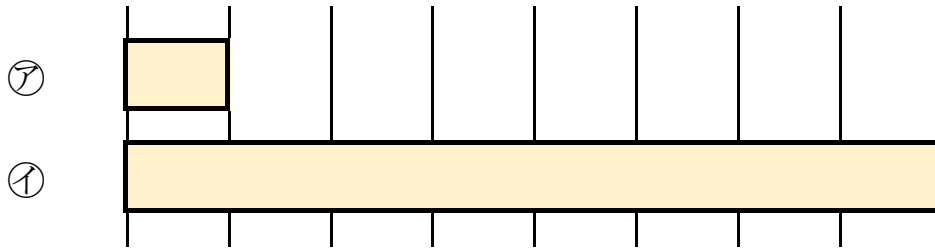
何倍？何分のー？



日にち： 月 日

名まえ \_\_\_\_\_

1 つぎの図を見てもんだいに答えましょう。



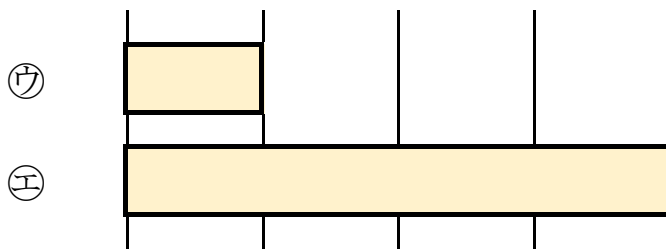
① 下の①のテープの長さは、⑦のテープの長さの何ばいですか。

答え： \_\_\_\_\_

② 上の⑦のテープの長さは、①のテープの長さの何分のーですか。

答え： \_\_\_\_\_

2 つぎの図を見てもんだいに答えましょう。




① 下の㉘のテープの長さは、㉗のテープの長さの何ばいですか。

答え： \_\_\_\_\_

② 上の㉗のテープの長さは、㉘のテープの長さの何分のーですか。

答え： \_\_\_\_\_





# 分数7

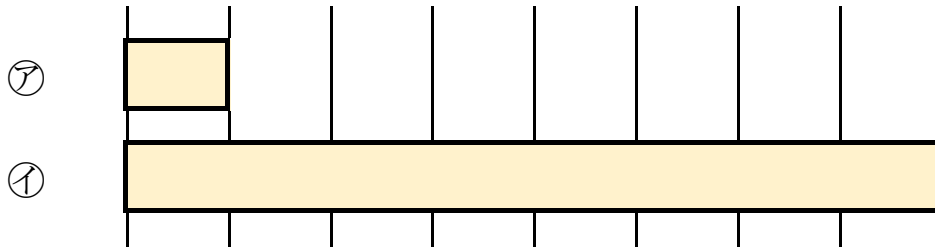
何倍？何分のー？



日にち： 月 日

名まえ \_\_\_\_\_

1 つぎの図を見てもんだいに答えましょう。



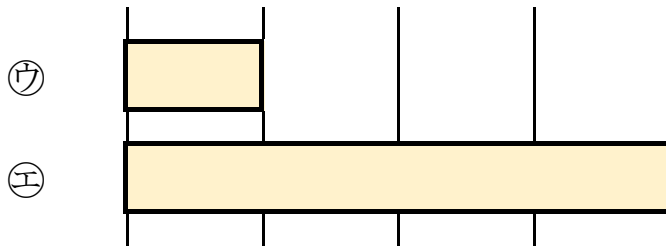
① 下の②のテープの長さは、①のテープの長さの何ばいですか。

答え： 8 ばい

② 上の①のテープの長さは、②のテープの長さの何分のーですか。

答え：  $\frac{1}{8}$

2 つぎの図を見てもんだいに答えましょう。



① 下の㉔のテープの長さは、㉓のテープの長さの何ばいですか。

答え： 4 ばい

② 上の㉓のテープの長さは、㉔のテープの長さの何分のーですか。

答え：  $\frac{1}{4}$