



分数7

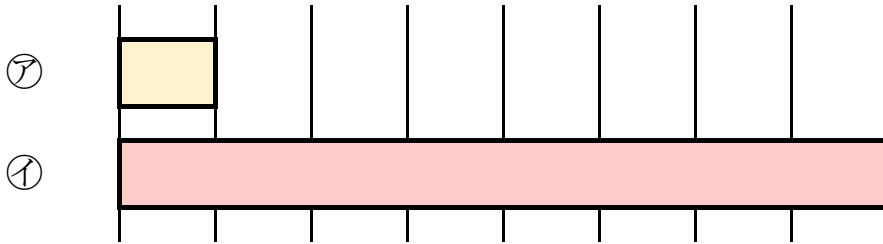
何倍？何分のー？



日にち： 月 日

名まえ _____

1 つぎの図を見てもんだいに答えましょう。



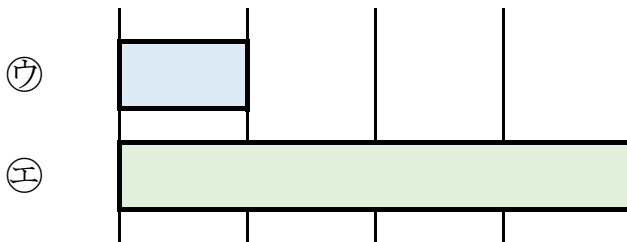
① 下の㉟のテープの長さは、㉞のテープの長さの何ばいですか。

答え： _____

② 上の㉞のテープの長さは、㉟のテープの長さの何分のーですか。

答え： _____

2 つぎの図を見てもんだいに答えましょう。



① 下の㉢のテープの長さは、㉡のテープの長さの何ばいですか。

答え： _____

② 上の㉡のテープの長さは、㉢のテープの長さの何分のーですか。

答え： _____





分数7

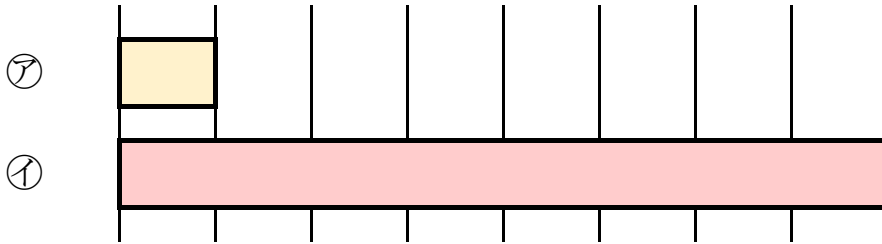
何倍？何分の一？



日にち： 月 日

名まえ _____

1 つぎの図を見てもんだいに答えましょう。



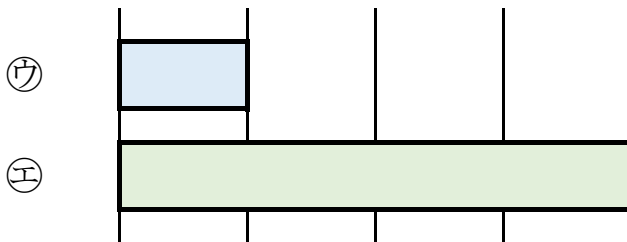
① 下の㉟のテープの長さは、㉞のテープの長さの何ばいですか。

答え： 8 ばい

② 上の㉞のテープの長さは、㉟のテープの長さの何分の一ですか。

答え： $\frac{1}{8}$

2 つぎの図を見てもんだいに答えましょう。



① 下の㉢のテープの長さは、㉡のテープの長さの何ばいですか。

答え： 4 ばい

② 上の㉡のテープの長さは、㉢のテープの長さの何分の一ですか。

答え： $\frac{1}{4}$