



# はこの形 5

● 組み立てて  
できる箱はどれ？

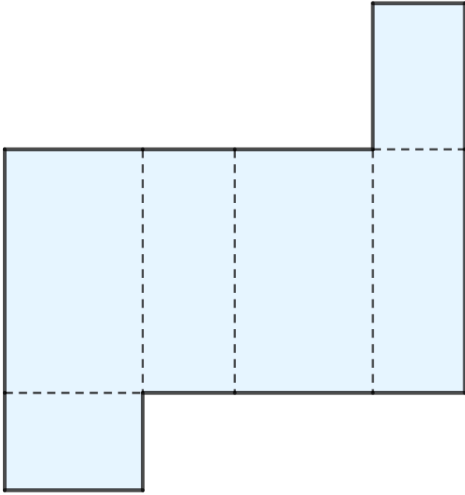


日にち： 月 日

名まえ \_\_\_\_\_

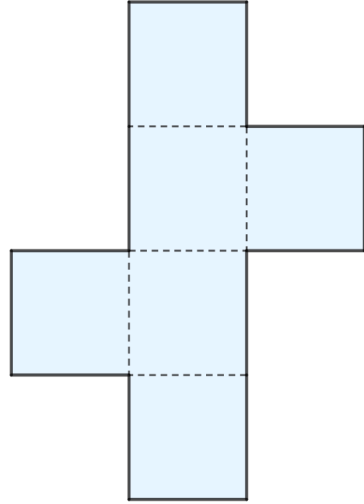
・ 組み立てると、どのはこができますか。㊶～㊸で答えましょう。

①



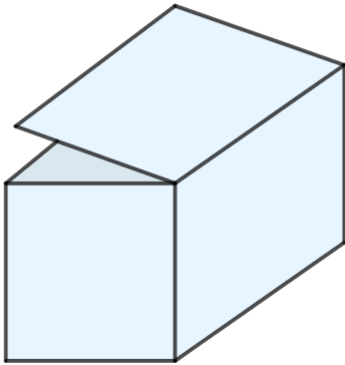
答え：  
\_\_\_\_\_

②

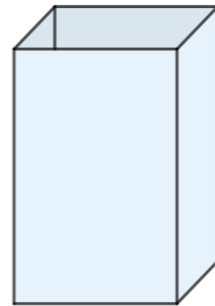


答え：  
\_\_\_\_\_

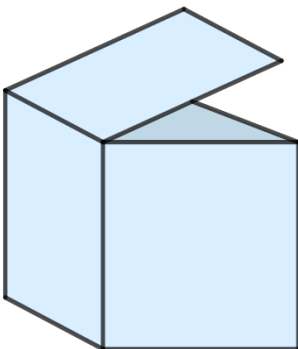
㊶



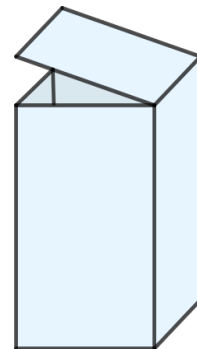
㊷



㊸



㊹





# はこの形 5

● 組み立てて  
できる箱はどれ？

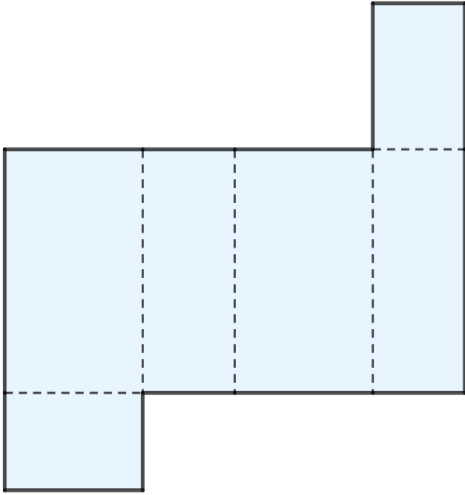


日にち： 月 日

名まえ \_\_\_\_\_

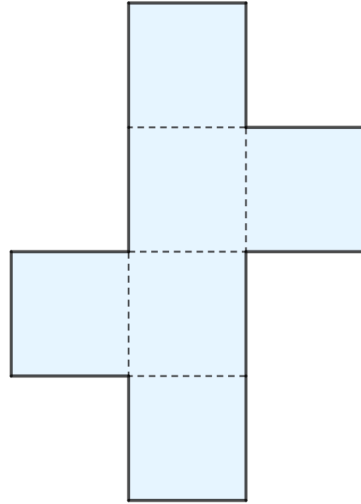
・ 組み立てると、どのはこができますか。㊶～㊸で答えましょう。

①



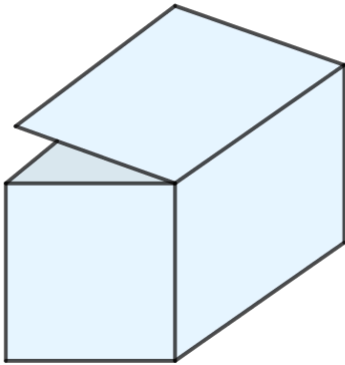
答え： ㊸

②

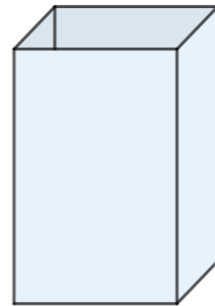


答え： ㊷

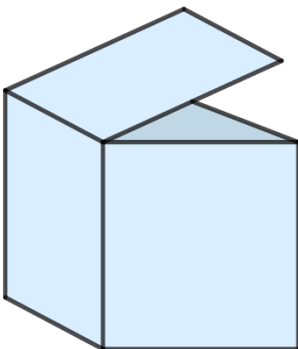
㊶



㊹



㊷



㊸

