



# かけ算 2

絵を見てかけ算のしきを作ろう




日にち： 月 日

名まえ \_\_\_\_\_

絵を見て、かけ算のしきをつかって、ぜんぶでいくつか答えましょう。

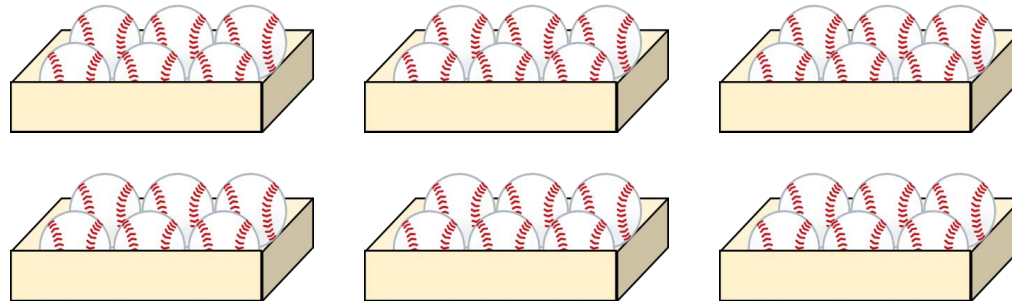
①



しき：

答え： \_\_\_\_\_

②



しき：

答え： \_\_\_\_\_





## かけ算 2

◎ 絵を見てかけ算の  
しきを作ろう




日にち：            月            日

名まえ \_\_\_\_\_

・ 絵を見て、かけ算のしきをつかって、ぜんぶでいくつか答えましょう。

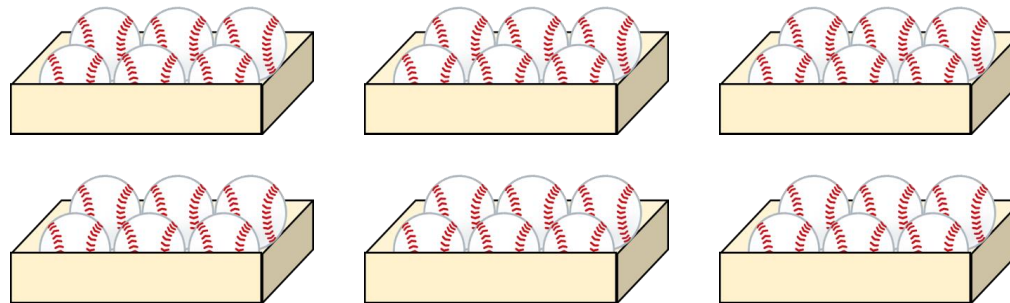
①



$$\text{しき： } 5 \times 3 = 15$$

答え： 15こ

②



$$\text{しき： } 6 \times 6 = 36$$

答え： 36こ

