



## 分数 2

● 色をぬった部分は何分の一？

9

日にち：            月            日

名まえ

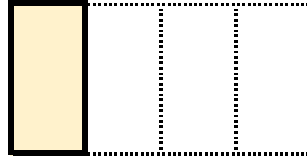
---

・色をぬったぶんはもとの大きさの何分の一ですか。

①




もとの大きさ



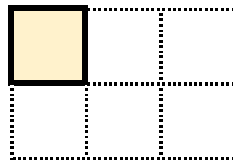
答え：

---

②



もとの大きさ




答え：

---

③




もとの大きさ



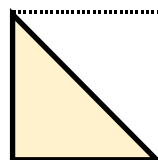
答え：

---

④




もとの大きさ



答え：

---



## 分数 2

● 色をぬった部分は何分の一？

9

日にち：            月            日

名まえ

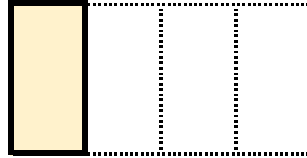
---

・ 色をぬったぶんはもとの大きさの何分の一ですか。

①



もとの大きさ



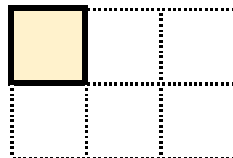
答え：  $\frac{1}{4}$

---

②



もとの大きさ




答え：  $\frac{1}{6}$

---

③




もとの大きさ



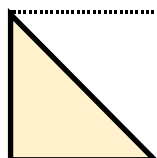
答え：  $\frac{1}{7}$

---

④



もとの大きさ



答え：  $\frac{1}{2}$

---

