



長方形と正方形 8

● 長方形や直角三角形をかいてみよう




日にち： 月 日

名まえ _____

・ つぎの形をかきましょう。


① たて4 cm、よこ8 cmの長方形。



② 6 cmのへんと 7 cmのへんの間に、直角のかどがある直角三角形。



③ 1つのへんの長さが 3 cmの正方形。





長方形と正方形 8

◎ 長方形や直角三角形をかいてみよう




日にち： 月 日

名まえ _____

・ つぎの形をかきましょう。

① たて4 cm、よこ8 cmの長方形。



② 6 cmのへんと7 cmのへんの間に、直角のかどがある直角三角形。



③ 1つのへんの長さが3 cmの正方形。

