



長いものの長さ3

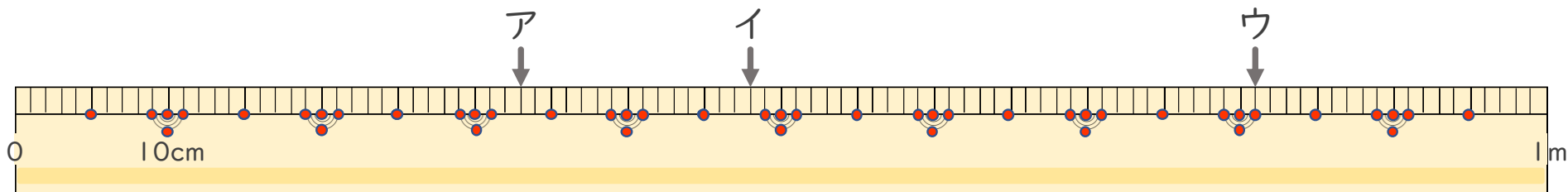
● 1メートルものさしの読みかた



日にち： 月 日

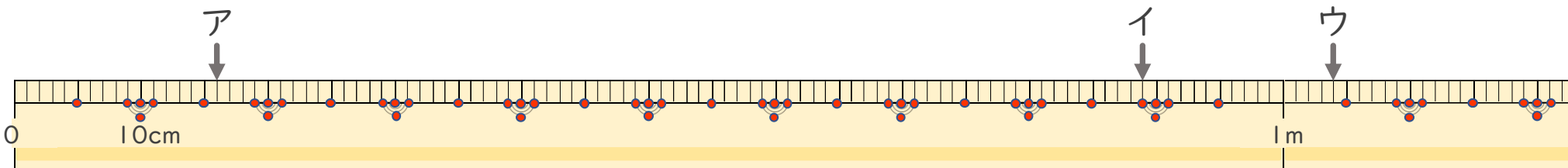
名まえ _____

1 ^{ひだり}左はしからア、イ、ウ、までの ^{なが}長さはそれぞれどれだけですか。



ア () イ () ウ ()

2 ^{ひだり}左はしからア、イ、ウ、までの ^{なが}長さはそれぞれどれだけですか。



ア () イ () ウ ()



長いものの長さ3

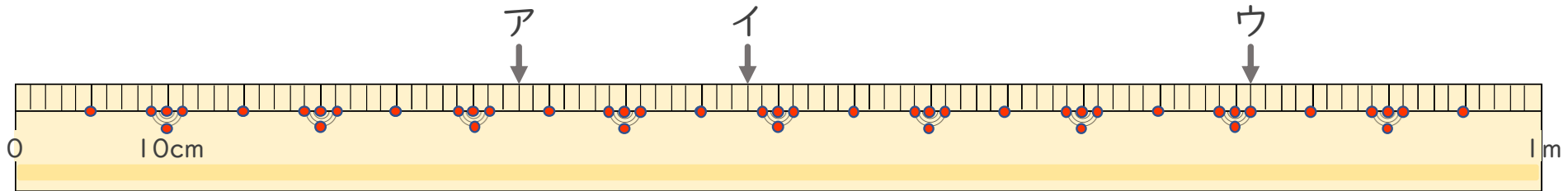
● 1メートルものさしの読みかた



日にち： 月 日

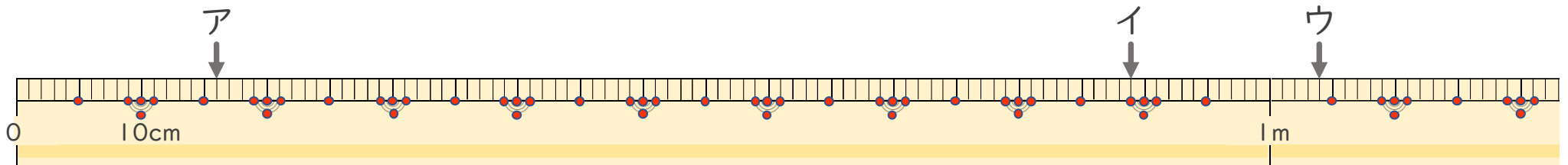
名まえ _____

1 ^{ひだり}左はしからア、イ、ウ、までの ^{なが}長さはそれぞれどれだけですか。



ア (33 cm) イ (48 cm) ウ (81 cm)

2 ^{ひだり}左はしからア、イ、ウ、までの ^{なが}長さはそれぞれどれだけですか。



ア (16 cm) イ (89 cm) ウ (1 m 4 cm)