



## かけ算 28

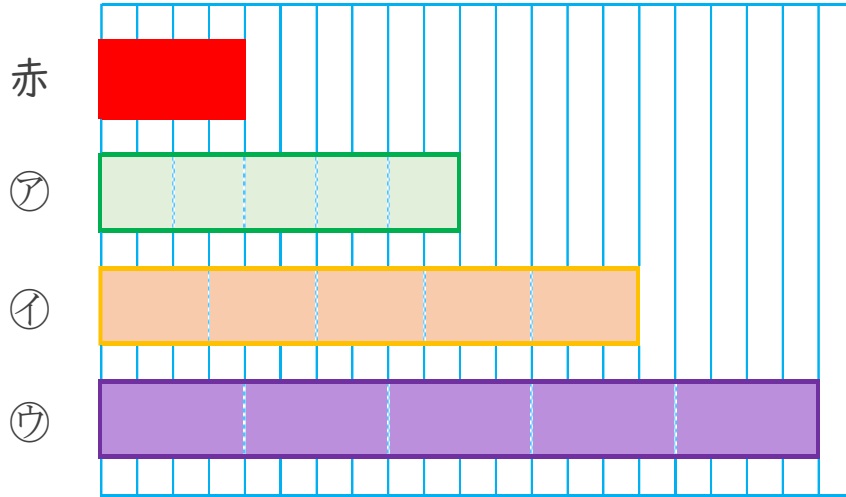
◎ 2ばいの長さのテープはどれ？



日にち：            月            日

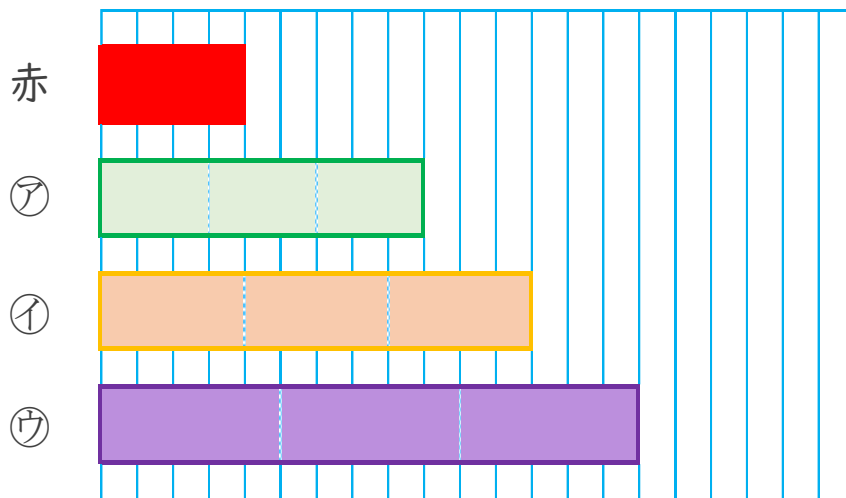
名まえ \_\_\_\_\_

1 下の赤いテープの5ばいの長さは、㉠、㉡、㉢のどれですか。



答え： \_\_\_\_\_

2 下の赤いテープの3ばいの長さは、㉠、㉡、㉢のどれですか。



答え： \_\_\_\_\_



## かけ算 28

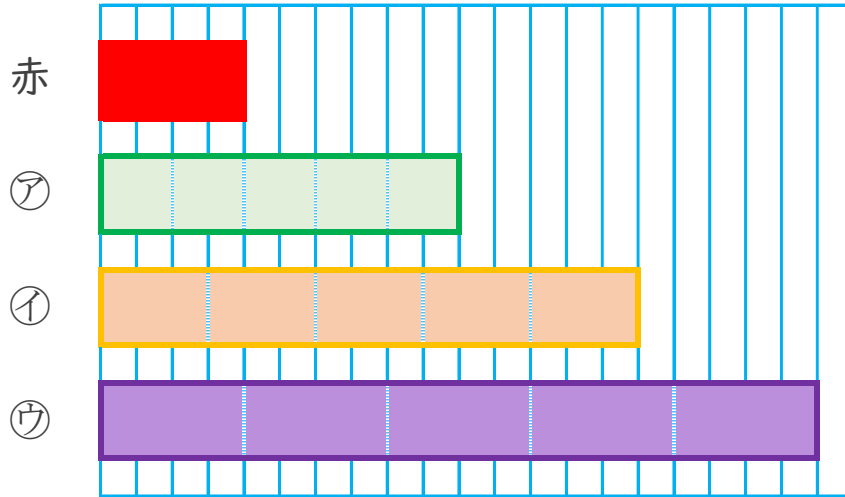
◎ 2ばいの長さのテープはどれ？



日にち：            月            日

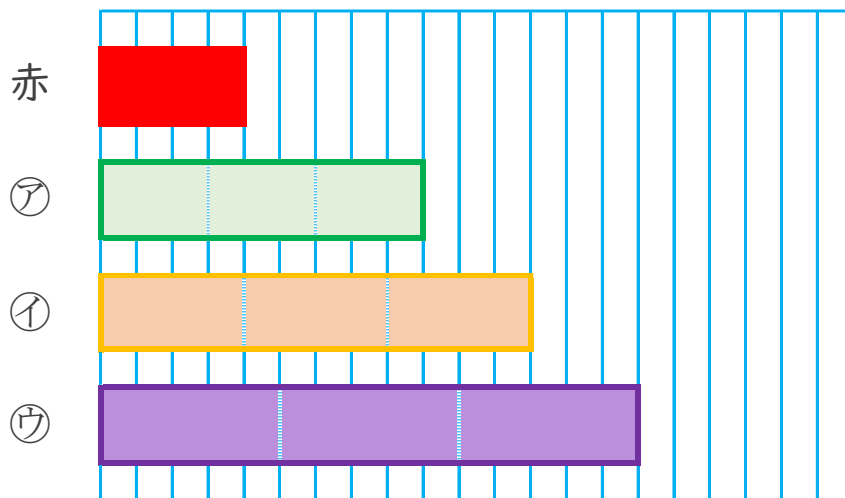
名まえ \_\_\_\_\_

1 下の赤いテープの5ばいの長さは、㉠、㉡、㉢のどれですか。



答え：            ㉢

2 下の赤いテープの3ばいの長さは、㉠、㉡、㉢のどれですか。



答え：            ㉡

