



## □を使った式

- たし算の場面を□を使った式で表す



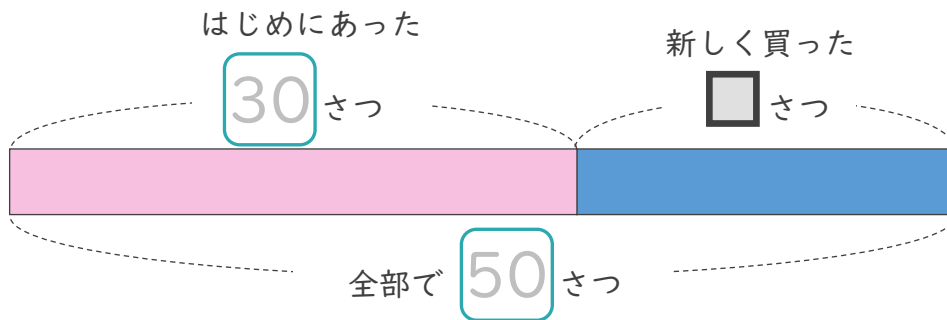
日にち：            月            日

名まえ \_\_\_\_\_

- ・ 次の文を読んで問いに答えましょう。（うすい字はなぞりましょう。）

さくらさんは本を30さつ持っています。新しい本を何さつか買いました。本は全部で50さつになりました。

- ① 図の □ にあてはまる数を書きましょう。



- ② 新しく買った本の数を □ として、たし算の式に表しましょう。

（はじめにあった数      +      買った数      =      全部の数）

式：      30      +      □      =      50

- ③ □ にあてはまる数をもとめましょう。

式： 50 - 30 =

答え： \_\_\_\_\_



## □を使った式 ①

- たし算の場面を□を使った式で表す



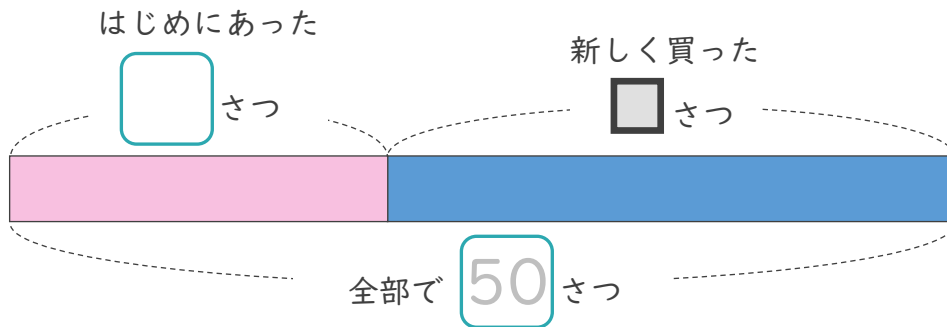
日にち：        月        日

名まえ \_\_\_\_\_

- ・ 次の文を読んで問いに答えましょう。（うすい字はなぞりましょう。）

はるかさんは本を20さつ持っています。新しい本を何さつか買いました。本は全部で50さつになりました。

- ① 図の □ にあてはまる数を書きましょう。



- ② 新しく買った本の数を □ として、たし算の式に表しましょう。

（はじめにあった数    +    買った数    =    全部の数）

式：                                  +                                  =

- ③ □ にあてはまる数をもとめましょう。

式：

答え： \_\_\_\_\_



## □を使った式 I

- たし算の場面を □を使った式で表す



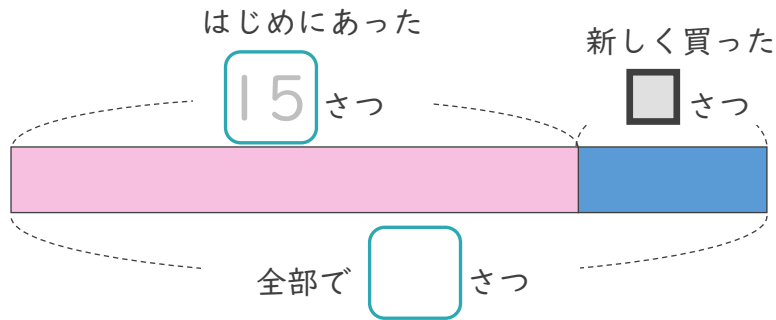
日にち：            月            日

名まえ \_\_\_\_\_

- ・ 次の文を読んで問いに答えましょう。(うすい字はなぞりましょう。)

さくらさんは本を15さつ持っています。新しい本を何さつか買いました。本は全部で20さつになりました。

- ① 図の □ にあてはまる数を書きましょう。



- ② 新しく買った本の数を □ として、たし算の式に表しましょう。

(はじめにあった数      +      買った数      =      全部の数)

式：                                      +                                      =

---

- ③ □ にあてはまる数をもとめましょう。

式：

答え： \_\_\_\_\_



# □を使った式 I

- たし算の場面を □を使った式で表す



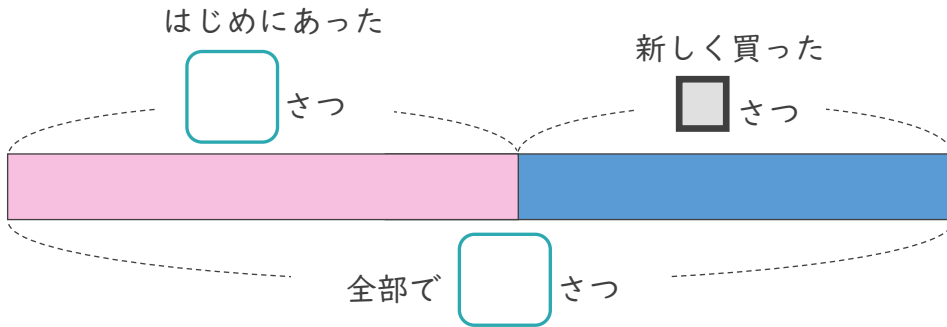
日にち：          月          日

名まえ \_\_\_\_\_

・ 次の文を読んで問いに答えましょう。

たろうさんは本を18さつ持っています。新しい本を何さつか買いました。本は全部で36さつになりました。

① 図の □ にあてはまる数を書きましょう。



② 新しく買った本の数を □ として、たし算の式に表しましょう。

(はじめにあった数          +          買った数          =          全部の数)

式：                          +                          =

③ □ にあてはまる数をもとめましょう。

式：

答え： \_\_\_\_\_





# □を使った式

● たし算の場面を  
□を使った式で表す



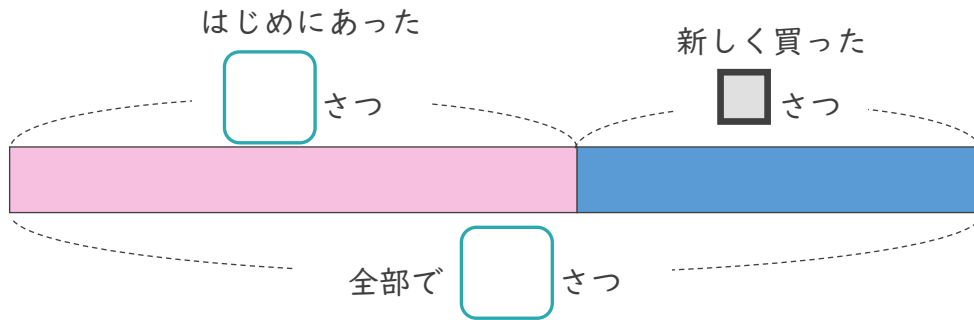
日にち：            月            日

名まえ \_\_\_\_\_

・ 次の文を読んで問いに答えましょう。

あゆみさんは本を35さつ持っています。新しい本を何さつか買いました。本は全部で60さつになりました。

① 図の □ にあてはまる数を書きましょう。



② 新しく買った本の数を □ として、たし算の式に表しましょう。

式：                                    +                                    =

③ □ にあてはまる数をもとめましょう。

式：

答え： \_\_\_\_\_



# □を使った式

● たし算の場面を  
□を使った式で表す



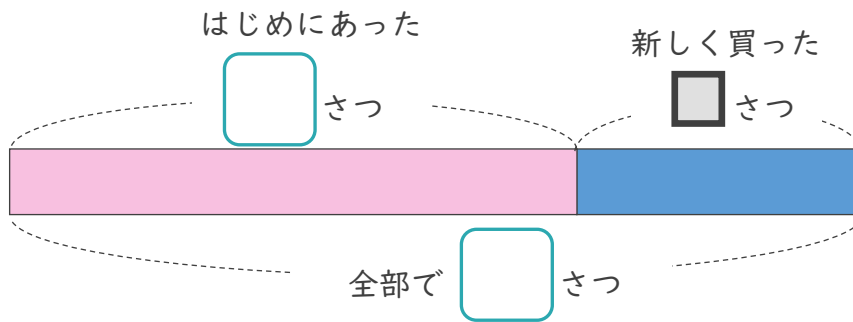
日にち：            月            日

名まえ \_\_\_\_\_

・ 次の文を読んで問いに答えましょう。

あゆみさんは本を26さつ持っています。新しい本を何さつか買いました。本は全部で40さつになりました。

① 図の □ にあてはまる数を書きましょう。



② 新しく買った本の数を □ として、たし算の式に表しましょう。

式：

\_\_\_\_\_

③ □ にあてはまる数をもとめましょう。

式：

答え：

\_\_\_\_\_



## □を使った式 ①

- たし算の場面を□を使った式で表す



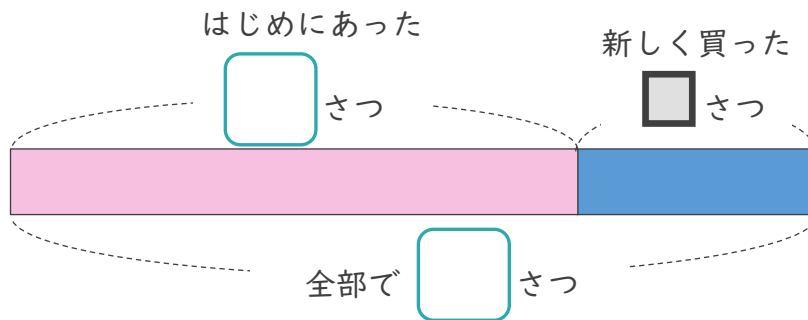
日にち：            月            日

名まえ \_\_\_\_\_

- ・ 次の文を読んで問いに答えましょう。

ゆうたさんは本を19さつ持っています。新しい本を何さつか買いました。本は全部で27さつになりました。

- ① 図の □ にあてはまる数を書きましょう。



- ② 新しく買った本の数をもとめ、□として、たし算の式に表しましょう。

式：

- ③ □ にあてはまる数をもとめましょう。

式：

答え：



# □を使った式

● たし算の場面を  
□を使った式で表す



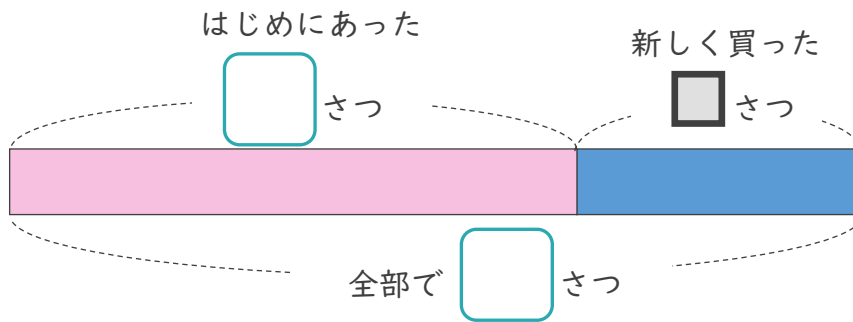
日にち：            月            日

名まえ \_\_\_\_\_

・ 次の文を読んで問いに答えましょう。

かずきさんは本を24さつ持っています。新しい本を何さつか買いました。本は全部で36さつになりました。

① 図の □ にあてはまる数を書きましょう。



② 新しく買った本の数を □ として、たし算の式に表しましょう。

式：

\_\_\_\_\_

③ □ にあてはまる数をもとめましょう。

式：

答え：

\_\_\_\_\_





## □を使った式 I

- たし算の場面を□を使った式で表す



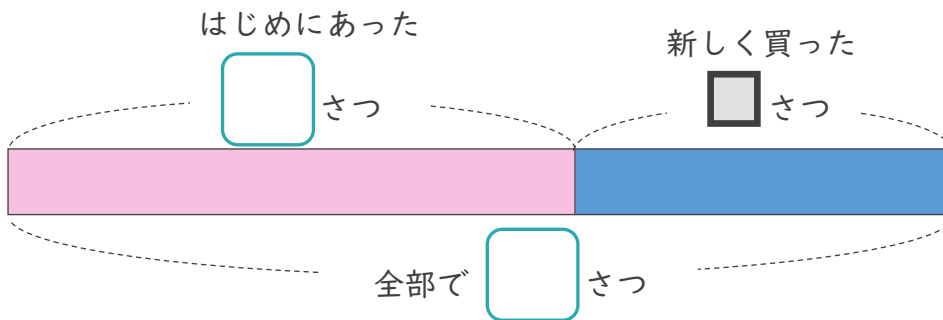
日にち：            月            日

名まえ \_\_\_\_\_

- ・ 次の文を読んで問いに答えましょう。

かずきさんは本を18さつ持っています。新しい本を何さつか買いました。本は全部で30さつになりました。

- ① 図の □ にあてはまる数を書きましょう。



- ② 新しく買った本の数を □ として、たし算の式に表しましょう。

式：

- ③ □ にあてはまる数をもとめましょう。

式：

答え： \_\_\_\_\_



## □を使った式

- たし算の場面を□を使った式で表す



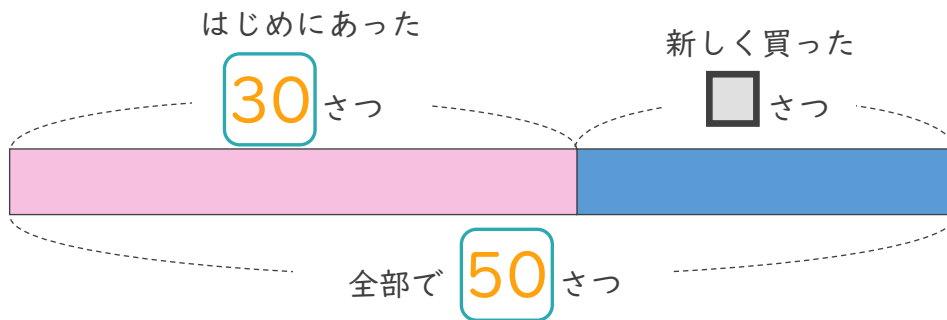
日にち：            月            日

名まえ \_\_\_\_\_

- 次の文を読んで問いに答えましょう。（うすい字はなぞりましょう。）

さくらさんは本を30さつ持っています。新しい本を何さつか買いました。本は全部で50さつになりました。

- ① 図の □ にあてはまる数を書きましょう。



- ② 新しく買った本の数を □ として、たし算の式に表しましょう。

(はじめにあった数 + 買った数 = 全部の数)

式：            30            +            □            =            50

- ③ □ にあてはまる数をもとめましょう。

式：            50 - 30 = 20

答え：            20



# □を使った式

● たし算の場面を  
□を使った式で表す



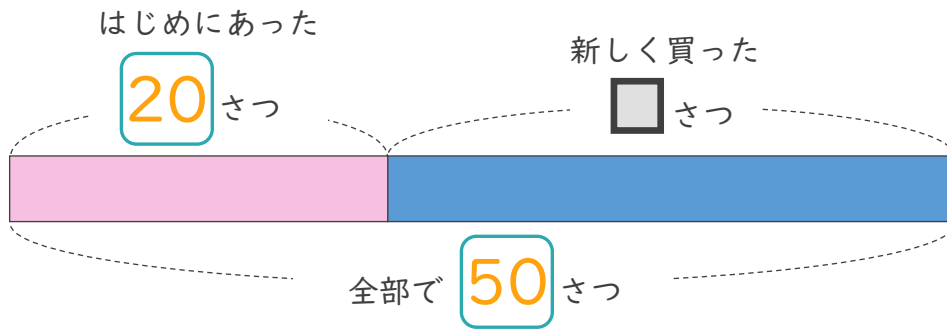
日にち：            月            日

名まえ \_\_\_\_\_

・ 次の文を読んで問いに答えましょう。（うすい字はなぞりましょう。）

はるかさんは本を20さつ持っています。新しい本を何さつか買いました。本は全部で50さつになりました。

① 図の □ にあてはまる数を書きましょう。



② 新しく買った本の数を □ として、たし算の式に表しましょう。

（はじめにあった数 + 買った数 = 全部の数）

式：            20            +            □            =            50

③ □ にあてはまる数をもとめましょう。

式：            50 - 20 = 30

答え：            30



# □を使った式 1

● たし算の場面を  
□を使った式で表す



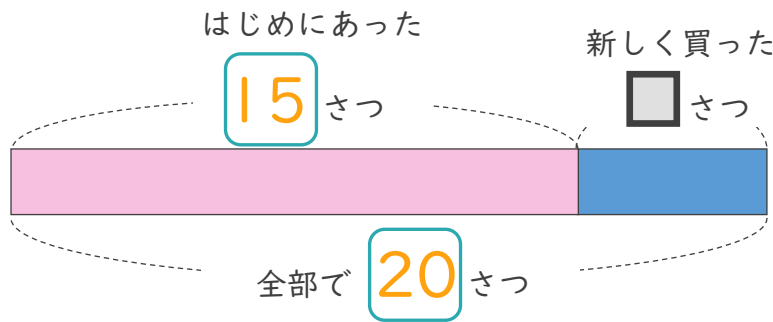
日にち：            月            日

名まえ \_\_\_\_\_

・ 次の文を読んで問いに答えましょう。（うすい字はなぞりましょう。）

さくらさんは本を15さつ持っています。新しい本を何さつか買いました。本は全部で20さつになりました。

① 図の □ にあてはまる数を書きましょう。



② 新しく買った本の数を □ として、たし算の式に表しましょう。

（はじめにあった数 + 買った数 = 全部の数）

式：            15            +            □            =            20

③ □ にあてはまる数をもとめましょう。

式：            20 - 15 = 5

答え：            5



# □を使った式

● たし算の場面を  
□を使った式で表す



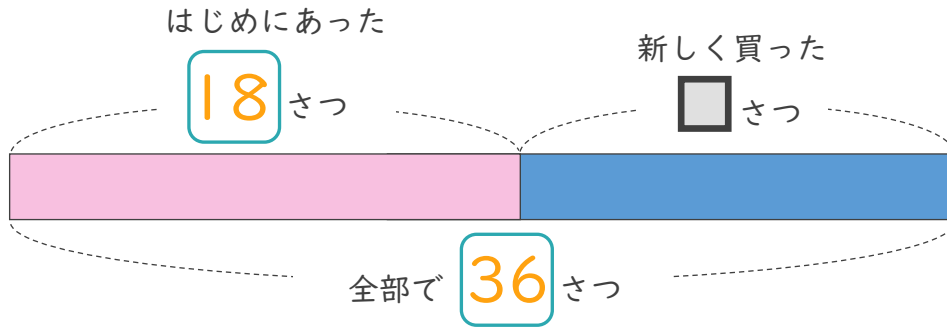
日にち：            月            日

名まえ \_\_\_\_\_

・ 次の文を読んで問いに答えましょう。

たろうさんは本を18さつ持っています。新しい本を何さつか買いました。本は全部で36さつになりました。

① 図の □ にあてはまる数を書きましょう。



② 新しく買った本の数を □ として、たし算の式に表しましょう。

(はじめにあった数 + 買った数 = 全部の数)

$$\text{式： } 18 + \square = 36$$

③ □ にあてはまる数をもとめましょう。

$$\text{式： } 36 - 18 = 18$$

答え：            18



# □を使った式

● たし算の場面を  
□を使った式で表す




日にち：            月            日

名まえ \_\_\_\_\_

・ 次の文を読んで問いに答えましょう。

あゆみさんは本を35さつ持っています。新しい本を何さつか買いました。本は全部で60さつになりました。

① 図の □ にあてはまる数を書きましょう。



② 新しく買った本の数を □ として、たし算の式に表しましょう。

式：            35            +            □            =            60

---

③ □ にあてはまる数をもとめましょう。

式：            60 - 35 = 25

答え：            25



# □を使った式

● たし算の場面を  
□を使った式で表す



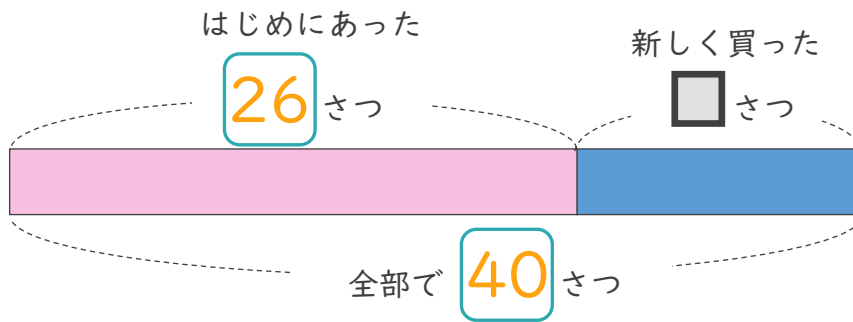
日にち：            月            日

名まえ \_\_\_\_\_

・ 次の文を読んで問いに答えましょう。

あゆみさんは本を26さつ持っています。新しい本を何さつか買いました。本は全部で40さつになりました。

① 図の □ にあてはまる数を書きましょう。



② 新しく買った本の数を □ として、たし算の式に表しましょう。

式：            26            +            □            =            40

---

③ □ にあてはまる数をもとめましょう。

式：            40 - 26 = 14

答え：            14



## □を使った式 ①

- たし算の場面を □を使った式で表す



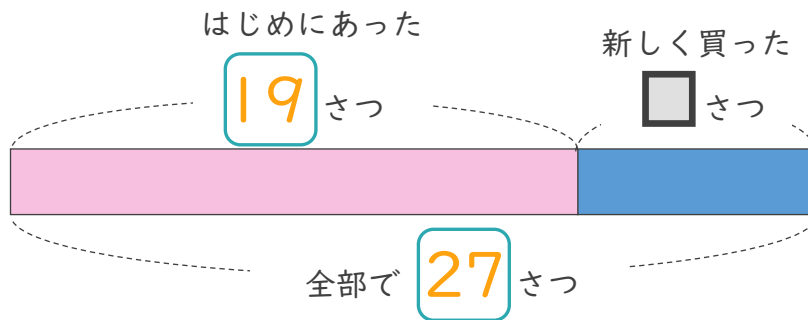
日にち：            月            日

名まえ \_\_\_\_\_

- ・ 次の文を読んで問いに答えましょう。

ゆうたさんは本を19さつ持っています。新しい本を何さつか買いました。本は全部で27さつになりました。

- ① 図の □ にあてはまる数を書きましょう。



- ② 新しく買った本の数を □ として、たし算の式に表しましょう。

式：  $19 + \square = 27$

- ③ □ にあてはまる数をもとめましょう。

式：  $27 - 19 = 8$

答え： 8





# □を使った式

● たし算の場面を  
□を使った式で表す



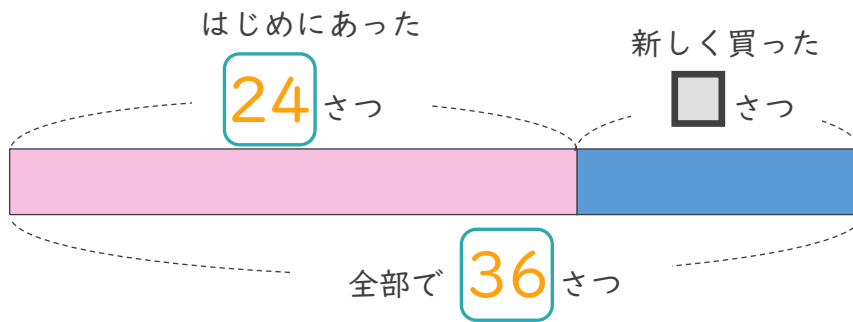
日にち：            月            日

名まえ \_\_\_\_\_

・ 次の文を読んで問いに答えましょう。

かずきさんは本を24さつ持っています。新しい本を何さつか買いました。本は全部で36さつになりました。

① 図の □ にあてはまる数を書きましょう。



② 新しく買った本の数を □ として、たし算の式に表しましょう。

式：            24            +            □            =            36

---

③ □ にあてはまる数をもとめましょう。

式：            36 - 24 = 12

答え：            12



## □を使った式 ①

- たし算の場面を □を使った式で表す



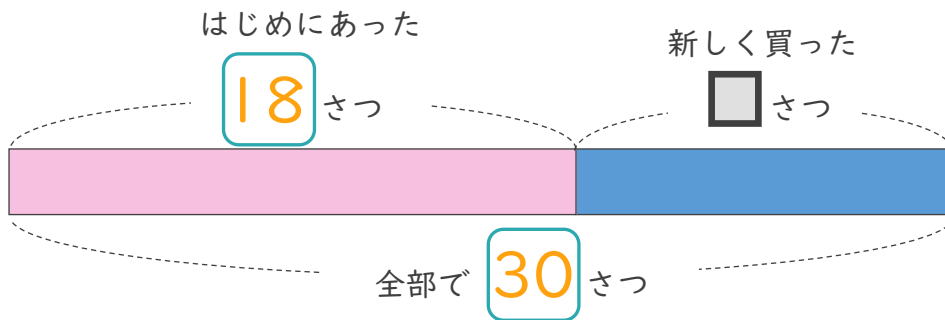
日にち：            月            日

名まえ \_\_\_\_\_

- ・ 次の文を読んで問いに答えましょう。

かずきさんは本を18さつ持っています。新しい本を何さつか買いました。本は全部で30さつになりました。

- ① 図の □ にあてはまる数を書きましょう。



- ② 新しく買った本の数を □ として、たし算の式に表しましょう。

式：            18            +            □            =            30

- ③ □ にあてはまる数をもとめましょう。

式：            30 - 18 = 12

答え：            12