



□を使った式 2

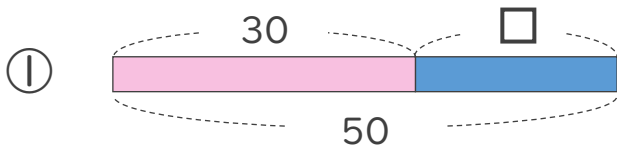
● □+数, 数+□ の
□をもとめる計算



日にち： 月 日

名まえ _____

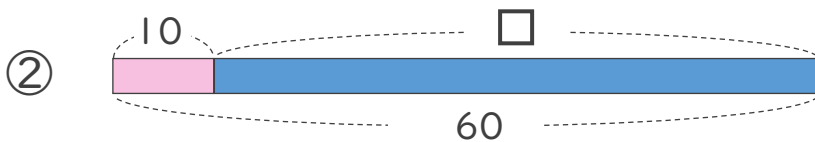
- にあてはまる数をもとめましょう。(うすい字はなぞりましょう)



$$30 + \square = 50$$

$$\square = 50 - 30$$

$$\square = 20$$



$$10 + \square = 60$$

$$\square = 60 - 10$$

$$\square =$$



□を使った式 2

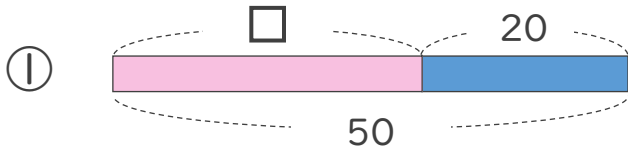
● □+数, 数+□ の
□をもとめる計算



日にち： 月 日

名まえ _____

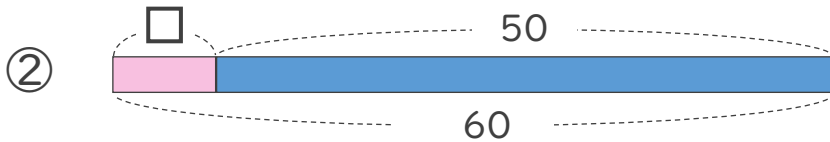
- にあてはまる数をもとめましょう。(うすい字はなぞりましょう)



$$\square + 20 = 50$$

$$\square = 50 - 20$$

$$\square =$$



$$\square + 50 = 60$$

$$\square =$$

$$\square =$$



□を使った式 2

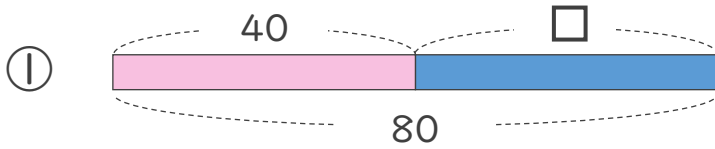
● □+数, 数+□ の
□をもとめる計算



日にち： 月 日

名まえ _____

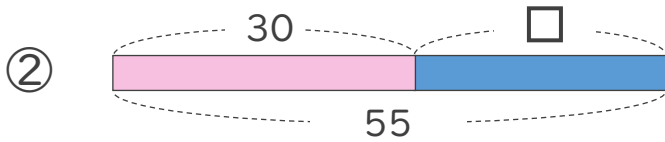
- にあてはまる数をもとめましょう。(うすい字はなぞりましょう)



$$40 + \square = 80$$

$$\square = 80 - 40$$

$$\square =$$



$$30 + \square = 55$$

$$\square =$$

$$\square =$$





□を使った式 2

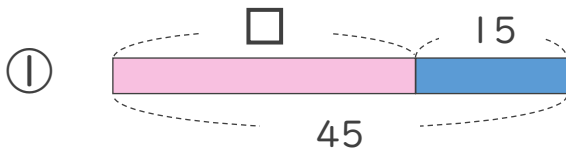
● □+数, 数+□ の
□をもとめる計算



日にち： 月 日

名まえ _____

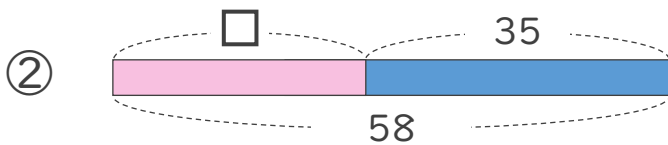
- にあてはまる数をもとめましょう。(うすい字はなぞりましょう)



$$\square + 15 = 45$$

$$\square = 45 - 15$$

$$\square =$$



$$\square + 35 = 58$$

$$\square =$$

$$\square =$$



□を使った式 2

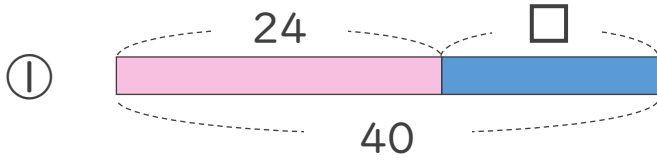
● □+数, 数+□ の □をもとめる計算



日にち： 月 日

名まえ _____

・ □にあてはまる数をもとめましょう。(うすい字はなぞりましょう)



$$24 + \square = 40$$

$$\square = 40 - 24$$

$$\square =$$

$$\textcircled{2} \quad 30 + \square = 60$$

$$\square =$$

$$\square =$$

$$\textcircled{3} \quad \square + 50 = 62$$

$$\square =$$

$$\square =$$



□を使った式 2

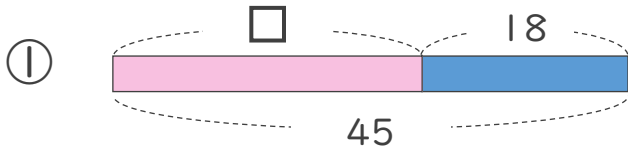
● □+数, 数+□ の
□をもとめる計算



日にち： 月 日

名まえ _____

・ □にあてはまる数をもとめましょう。(うすい字はなぞりましょう)



$$\square + 18 = 45$$

$$\square = 45 - 18$$

$$\square =$$

② $\square + 21 = 36$

$$\square =$$

$$\square =$$

③ $16 + \square = 32$

$$\square =$$

$$\square =$$



□を使った式 2

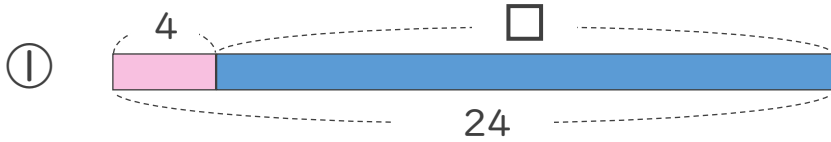
● □+数, 数+□ の □をもとめる計算



日にち： 月 日

名まえ _____

・ □にあてはまる数をもとめましょう。



$$20 + \square = 24$$

$$\square =$$

$$\square =$$

$$\textcircled{2} \quad 17 + \square = 50$$

$$\square =$$

$$\square =$$

$$\textcircled{3} \quad \square + 38 = 45$$

$$\square =$$

$$\square =$$



□を使った式 2

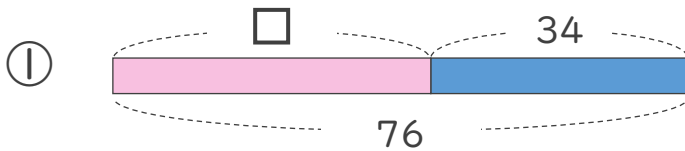
● □+数, 数+□ の
□をもとめる計算



日にち： 月 日

名まえ _____

・ □にあてはまる数をもとめましょう。



$$\square + 34 = 76$$

$$\square =$$

$$\square =$$

② $\square + 18 = 51$

$$\square =$$

$$\square =$$

③ $25 + \square = 34$

$$\square =$$

$$\square =$$



□を使った式 2

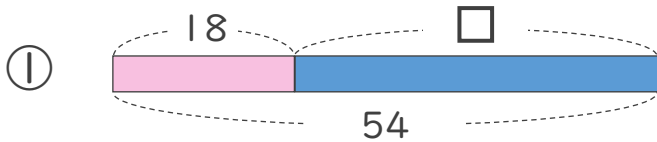
● □+数, 数+□ の
□をもとめる計算



日にち： 月 日

名まえ _____

- にあてはまる数をもとめましょう。



$$18 + \square = 54$$

$$\square =$$

$$\square =$$

② $11 + \square = 33$

$$\square =$$

$$\square =$$

③ $\square + 25 = 70$

$$\square =$$

$$\square =$$



□を使った式 2

● □+数, 数+□ の
□をもとめる計算



日にち： 月 日

名まえ _____

・ □にあてはまる数をもとめましょう。

① $14 + \square = 40$

$\square =$

$\square =$

② $36 + \square = 52$

③ $\square + 21 = 35$

④ $\square + 17 = 42$



□を使った式 2

● □+数, 数+□ の
□をもとめる計算



日にち： 月 日

名まえ _____

・ □にあてはまる数をもとめましょう。

① $37 + \square = 80$

② $\square + 18 = 34$

③ $25 + \square = 56$

④ $\square + 43 = 71$





□を使った式 2

● □+数, 数+□ の
□をもとめる計算



日にち： 月 日

名まえ _____

・ □にあてはまる数をもとめましょう。

① $29 + \square = 42$

② $17 + \square = 63$

③ $\square + 12 = 36$

④ $\square + 31 = 56$



□を使った式 2

● □+数, 数+□ の
□をもとめる計算

13

日にち： 月 日

名まえ _____

・ □にあてはまる数をもとめましょう。

① $43 + \square = 70$

② $\square + 21 = 37$

③ $34 + \square = 62$

④ $\square + 53 = 85$



□を使った式 2

● □+数, 数+□ の
□をもとめる計算

14

日にち： 月 日

名まえ _____

・ □にあてはまる数をもとめましょう。

① $20 + \square = 24$

② $35 + \square = 71$

③ $\square + 17 = 52$

④ $\square + 31 = 56$




□を使った式 2

● □+数, 数+□ の
□をもとめる計算

15

めざせ75点!



名まえ _____

・ □にあてはまる数をもとめましょう。(各25点)

① $23 + \square = 50$

② $14 + \square = 25$

③ $\square + 21 = 70$

④ $\square + 18 = 62$



□を使った式 2

● □+数, 数+□の
□をもとめる計算

16

めざせ75点!



名まえ _____

・ □にあてはまる数をもとめましょう。(各25点)

① $37 + \square = 52$

② $\square + 18 = 39$

③ $24 + \square = 47$

④ $\square + 48 = 92$



□を使った式 2

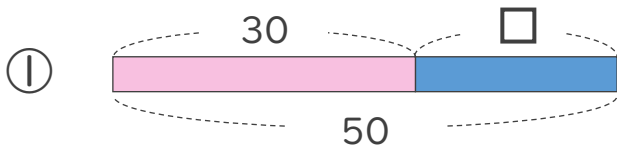
● □+数, 数+□ の
□をもとめる計算



日にち： 月 日

名まえ _____

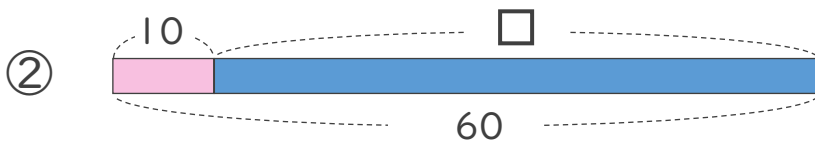
- にあてはまる数をもとめましょう。(うすい字はなぞりましょう)



$$30 + \square = 50$$

$$\square = 50 - 30$$

$$\square = 20$$



$$10 + \square = 60$$

$$\square = 60 - 10$$

$$\square = 50$$





□を使った式 2

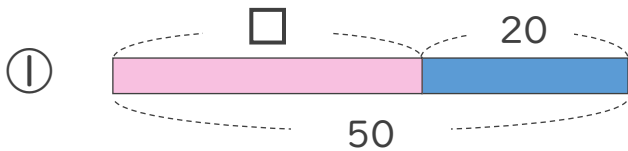
● □+数, 数+□ の
□をもとめる計算



日にち： 月 日

名まえ _____

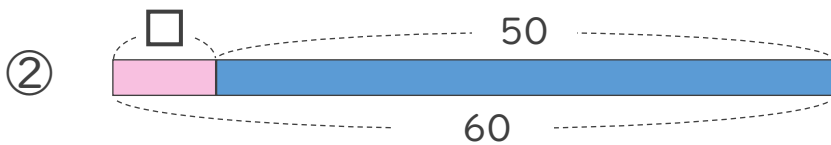
- にあてはまる数をもとめましょう。(うすい字はなぞりましょう)



$$\square + 20 = 50$$

$$\square = 50 - 20$$

$$\square = 30$$



$$\square + 50 = 60$$

$$\square = 60 - 50$$

$$\square = 10$$





□を使った式 2

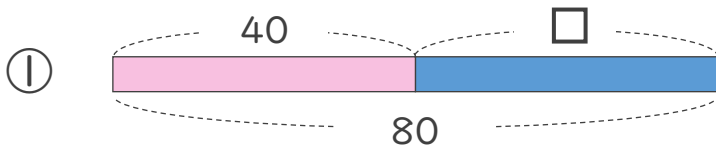
● □+数, 数+□ の
□をもとめる計算



日にち： 月 日

名まえ _____

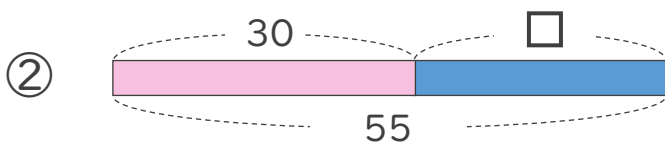
- にあてはまる数をもとめましょう。(うすい字はなぞりましょう)



$$40 + \square = 80$$

$$\square = 80 - 40$$

$$\square = 40$$



$$30 + \square = 55$$

$$\square = 55 - 30$$

$$\square = 25$$





□を使った式 2

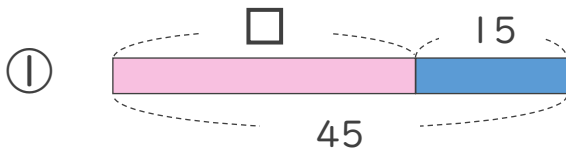
● □+数, 数+□ の
□をもとめる計算



日にち： 月 日

名まえ _____

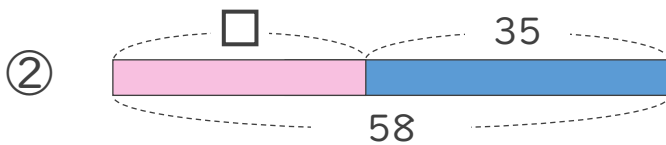
- にあてはまる数をもとめましょう。(うすい字はなぞりましょう)



$$\square + 15 = 45$$

$$\square = 45 - 15$$

$$\square = 30$$



$$\square + 35 = 58$$

$$\square = 58 - 35$$

$$\square = 23$$





□を使った式 2

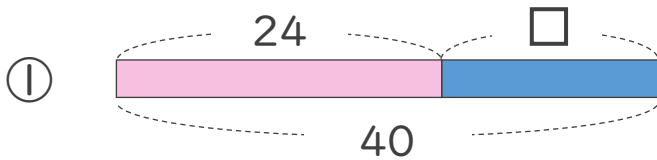
● □+数, 数+□の
□をもとめる計算



日にち： 月 日

名まえ _____

・ □にあてはまる数をもとめましょう。(うすい字はなぞりましょう)



$$24 + \square = 40$$

$$\square = 40 - 24$$

$$\square = 16$$

② $30 + \square = 60$

$$\square = 60 - 30$$

$$\square = 30$$

③ $\square + 50 = 62$

$$\square = 62 - 50$$

$$\square = 12$$





□を使った式 2

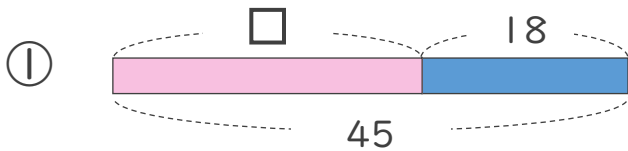
- □+数, 数+□ の □をもとめる計算



日にち： 月 日

名まえ _____

- にあてはまる数をもとめましょう。(うすい字はなぞりましょう)



$$\square + 18 = 45$$

$$\square = 45 - 18$$

$$\square = 33$$

② $\square + 21 = 36$

$$\square = 36 - 21$$

$$\square = 15$$

③ $16 + \square = 32$

$$\square = 32 - 16$$

$$\square = 16$$





□を使った式 2

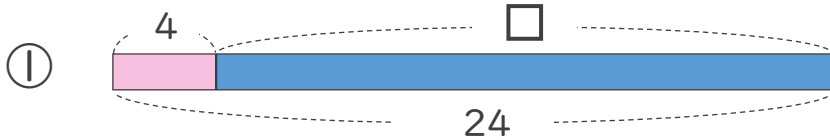
● □+数, 数+□ の
□をもとめる計算



日にち： 月 日

名まえ _____

- にあてはまる数をもとめましょう。



$$4 + \square = 24$$

$$\square = 24 - 4$$

$$\square = 20$$

② $17 + \square = 50$

$$\square = 50 - 17$$

$$\square = 33$$

③ $\square + 38 = 45$

$$\square = 45 - 38$$

$$\square = 7$$





□を使った式 2

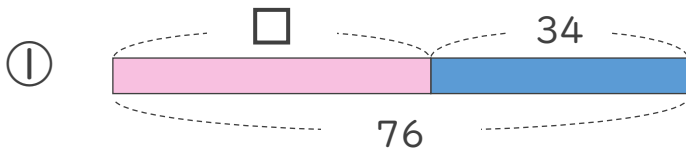
- □+数, 数+□ の □をもとめる計算



日にち： 月 日

名まえ _____

- ・ □にあてはまる数をもとめましょう。



$$\square + 34 = 76$$

$$\square = 76 - 34$$

$$\square = 42$$

② $\square + 18 = 51$

$$\square = 51 - 18$$

$$\square = 33$$

③ $25 + \square = 34$

$$\square = 34 - 25$$

$$\square = 9$$





□を使った式 2

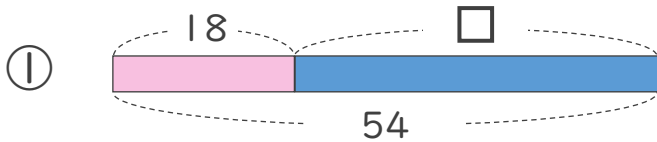
● □+数, 数+□ の
□をもとめる計算



日にち： 月 日

名まえ _____

- にあてはまる数をもとめましょう。



$$18 + \square = 54$$

$$\square = 54 - 18$$

$$\square = 36$$

② $11 + \square = 33$

$$\square = 33 - 11$$

$$\square = 22$$

③ $\square + 25 = 70$

$$\square = 70 - 25$$

$$\square = 45$$





□を使った式 2

● □+数, 数+□の
□をもとめる計算



日にち： 月 日

名まえ _____

・ □にあてはまる数をもとめましょう。

① $14 + \square = 40$

$$\square = 40 - 14$$

$$\square = 26$$

② $36 + \square = 52$

$$\square = 52 - 36$$

$$\square = 16$$

③ $\square + 21 = 35$

$$\square = 35 - 21$$

$$\square = 14$$

④ $\square + 17 = 42$

$$\square = 42 - 17$$

$$\square = 25$$





□を使った式 2

● □+数, 数+□の
□をもとめる計算



日にち： 月 日

名まえ _____

・ □にあてはまる数をもとめましょう。

$$\textcircled{1} \quad 37 + \square = 80$$

$$\square = 80 - 37$$

$$\square = 43$$

$$\textcircled{2} \quad \square + 18 = 34$$

$$\square = 34 - 18$$

$$\square = 16$$

$$\textcircled{3} \quad 25 + \square = 56$$

$$\square = 56 - 25$$

$$\square = 31$$

$$\textcircled{4} \quad \square + 43 = 71$$

$$\square = 71 - 43$$

$$\square = 28$$





□を使った式 2

● □+数, 数+□の
□をもとめる計算

12

日にち： 月 日

名まえ _____

・ □にあてはまる数をもとめましょう。

① $29 + \square = 42$

$$\square = 42 - 29$$

$$\square = 13$$

② $17 + \square = 63$

$$\square = 63 - 17$$

$$\square = 46$$

③ $\square + 12 = 36$

$$\square = 36 - 12$$

$$\square = 24$$

④ $\square + 31 = 56$

$$\square = 56 - 31$$

$$\square = 25$$





□を使った式 2

● □+数, 数+□の
□をもとめる計算

13

日にち： 月 日

名まえ _____

・ □にあてはまる数をもとめましょう。

$$\textcircled{1} \quad 43 + \square = 70$$

$$\square = 70 - 43$$

$$\square = 27$$

$$\textcircled{2} \quad \square + 21 = 37$$

$$\square = 37 - 21$$

$$\square = 16$$

$$\textcircled{3} \quad 34 + \square = 62$$

$$\square = 62 - 34$$

$$\square = 28$$

$$\textcircled{4} \quad \square + 53 = 85$$

$$\square = 85 - 53$$

$$\square = 32$$





□を使った式 2

● □+数, 数+□の
□をもとめる計算

14

日にち： 月 日

名まえ _____

・ □にあてはまる数をもとめましょう。

① $20 + \square = 24$

$$\square = 24 - 20$$

$$\square = 4$$

② $35 + \square = 71$

$$\square = 71 - 35$$

$$\square = 36$$

③ $\square + 17 = 52$

$$\square = 52 - 17$$

$$\square = 35$$

④ $\square + 31 = 56$

$$\square = 56 - 31$$

$$\square = 25$$






□を使った式 2

● □+数, 数+□の
□をもとめる計算

15

めざせ75点!



名まえ _____

・ □にあてはまる数をもとめましょう。(各25点)

① $23 + \square = 50$

$$\square = 50 - 23$$

$$\square = 27$$

② $14 + \square = 25$

$$\square = 25 - 14$$

$$\square = 11$$

③ $\square + 21 = 70$

$$\square = 70 - 21$$

$$\square = 49$$

④ $\square + 18 = 62$

$$\square = 62 - 18$$

$$\square = 44$$





□を使った式 2

● □+数, 数+□の
□をもとめる計算

16

めざせ75点!



名まえ _____

・ □にあてはまる数をもとめましょう。(各25点)

① $37 + \square = 52$

$$\square = 52 - 37$$

$$\square = 15$$

② $\square + 18 = 39$

$$\square = 39 - 18$$

$$\square = 21$$

③ $24 + \square = 47$

$$\square = 47 - 24$$

$$\square = 23$$

④ $\square + 48 = 92$

$$\square = 92 - 48$$

$$\square = 44$$

