

かけ算の筆算 5

◎ 2けた×1けた
(くり上がりなし)



日にち： 月 日

名まえ _____

・ 32×2 を筆算でしましょう。(うすい字はなぞりましょう)

	3	2
×		2
<hr/>		


^{くらい}位をそろえて
書く。

	3	2
×		2
<hr/>		
		4

一の^{くらい}位にかける。
 $2 \times 2 = 4$
4は一の^{くらい}位。

	3	2
×		2
<hr/>		
	6	4

十の^{くらい}位にかける。
 $2 \times 3 = 6$
6は十の^{くらい}位。



かけ算の筆算 5

◎ 2けた × 1けた
(くり上がりなし)



日にち： 月 日

名まえ _____

・ 12×4 を筆算でしましょう。(うすい字はなぞりましょう)

	1	2
×		4
<hr/>		


位をそろえて
書く。

	1	2
×		4
<hr/>		
		8

一の位にかける。
 $4 \times 2 = 8$
8は一の位。

	1	2
×		4
<hr/>		

十の位にかける。
 $4 \times 1 = 4$
4は十の位。



かけ算の筆算 5

◎ 2けた×1けた
(くり上がりなし)



日にち： 月 日

名まえ _____

・ 34×2 を筆算でしましょう。

	3	4
×		2
<hr/>		

位をそろえて
書く。

	3	4
×		2
<hr/>		

一の位にかける。
 $2 \times 4 = 8$
8は一の位。

	3	4
×		2
<hr/>		

十の位にかける。
 $2 \times 3 = 6$
6は十の位。



かけ算の筆算 5

◎ 2けた×1けた
(くり上がりなし)



日にち： 月 日

名まえ _____

・ 13×3 を筆算でしましょう。

	1	3
×		3
<hr/>		

位をそろえて
書く。

	1	3
×		3
<hr/>		

一の位にかける。
 $3 \times 3 = 9$
9は一の位。

	1	3
×		3
<hr/>		

十の位にかける。
 $3 \times 1 = 3$
3は十の位。



かけ算の筆算 5

◎ 2けた×1けた
(くり上がりなし)



日にち： 月 日

名まえ _____

・ 次の計算を筆算でしましょう。(うすい字はなぞりましょう)

①

	4	1
×		2
<hr/>		
	8	2

④

	1	4
×		2
<hr/>		

②

	2	2
×		3
<hr/>		
		6

⑤

	1	1
×		8
<hr/>		

③

	3	1
×		2
<hr/>		

⑥

	2	4
×		2
<hr/>		



かけ算の筆算 5

◎ 2けた × 1けた
(くり上がりなし)



日にち： 月 日

名まえ _____

・ 次の計算を筆算でしましょう。(うすい字はなぞりましょう)

①

	2	4
×		2
<hr/>		
	4	8

④

	4	4
×		2
<hr/>		

②

	3	3
×		3
<hr/>		

⑤


	1	1
×		8
<hr/>		

③

	2	3
×		2
<hr/>		

⑥

	2	1
×		3
<hr/>		



かけ算の筆算 5

◎ 2けた × 1けた
(くり上がりなし)



日にち： 月 日

名まえ _____

・ 次の計算を筆算でしましょう。

①

	1	2
×		3
<hr/>		

④

	2	4
×		2
<hr/>		

②

	2	4
×		2
<hr/>		

⑤

	1	4
×		2
<hr/>		

③

	1	3
×		2
<hr/>		

⑥

	1	1
×		7
<hr/>		



かけ算の筆算 5

◎ 2けた×1けた
(くり上がりなし)



日にち： 月 日

名まえ _____

・ 次の計算を筆算でしましょう。

①

	1	1
×		6
<hr/>		

④

	2	1
×		4
<hr/>		

②

	3	2
×		2
<hr/>		

⑤

	2	3
×		2
<hr/>		

③

	4	1
×		2
<hr/>		

⑥

	2	2
×		3
<hr/>		



かけ算の筆算5

◎ 2けた×1けた
(くり上がりなし)



日にち： 月 日

名まえ _____

・ 次の計算を筆算でしましょう。

①

	2	2
×		3
<hr/>		

④

	1	3
×		2
<hr/>		

②

	3	1
×		3
<hr/>		

⑤

	2	1
×		4
<hr/>		

③

	4	4
×		2
<hr/>		

⑥

	1	4
×		2
<hr/>		



かけ算の筆算5

● 2けた×1けた
(くり上がりなし)



日にち： 月 日

名まえ _____

・ 次の計算を筆算でしましょう。(うすい字はなぞりましょう)

① 32×2

	3	2
×		2
<hr/>		

④ 14×2

② 12×2

	1	2
×		2
<hr/>		

⑤ 11×8

③ 31×3

	3	1
×		3
<hr/>		

⑥ 24×2



かけ算の筆算5

● 2けた×1けた
(くり上がりなし)



日にち： 月 日

名まえ _____

・ 次の計算を筆算でしましょう。(うすい字はなぞりましょう)

① 44×2

	4	4
×		2
<hr/>		

④ 34×2

② 21×4

	2	1
×		4
<hr/>		

⑤ 22×3

③ 23×3

⑥ 31×3



かけ算の筆算5

● 2けた×1けた
(くり上がりなし)

12

日にち： 月 日

名まえ _____

・ 次の計算を筆算でしましょう。(うすい字はなぞりましょう)

① 34×2

	3	4
×		2


④ 24×2

② 41×2

⑤ 22×3

③ 31×3

⑥ 21×4



かけ算の筆算 5

● 2けた × 1けた
(くり上がりなし)



日にち： 月 日

名まえ _____

・ 次の計算を筆算でしましょう。

① 24×2

④ 31×3

② 42×2

⑤ 43×2

③ 22×3

⑥ 33×2



かけ算の筆算 5

● 2けた × 1けた
(くり上がりなし)



日にち： 月 日

名まえ _____

・ 次の計算を筆算でしましょう。

① 32×3

④ 23×3

② 34×2

⑤ 12×4

③ 13×2

⑥ 22×2



かけ算の筆算5

● 2けた×1けた
(くり上がりなし)

15

目指せ80点!



名まえ

・ 次の計算を筆算でしましょう。(各20点)

① 12×3

④ 24×2

② 32×3

⑤ 14×2

③ 22×3





かけ算の筆算5

● 2けた×1けた
(くり上がりなし)

16

目指せ80点!



名まえ

・ 次の計算を筆算でしましょう。(各20点)

① 23×2


④ 41×2

② 33×3

⑤ 34×2

③ 12×4





かけ算の筆算 5

◎ 2けた×1けた
(くり上がりなし)



日にち： 月 日

名まえ _____

・ 32×2 を筆算でしましょう。(うすい字はなぞりましょう)

	3	2
×		2
<hr/>		


^{くらい}位をそろえて
書く。

	3	2
×		2
<hr/>		
		4

一の^{くらい}位にかける。
 $2 \times 2 = 4$
4は一の^{くらい}位。

	3	2
×		2
<hr/>		
	6	4

十の^{くらい}位にかける。
 $2 \times 3 = 6$
6は十の^{くらい}位。



かけ算の筆算 5

◎ 2けた×1けた
(くり上がりなし)



日にち： 月 日

名まえ _____

・ 12×4 を筆算でしましょう。(うすい字はなぞりましょう)

	1	2
×		4
<hr/>		


位をそろえて
書く。

	1	2
×		4
<hr/>		
		8

一の位にかける。
 $4 \times 2 = 8$
8は一の位。

	1	2
×		4
<hr/>		
	4	8

十の位にかける。
 $4 \times 1 = 4$
4は十の位。



かけ算の筆算 5

◎ 2けた×1けた
(くり上がりなし)



日にち： 月 日

名まえ _____

・ 34×2 を筆算でしましょう。

	3	4
×		2
<hr/>		

位をそろえて
書く。

	3	4
×		2
<hr/>		
		8

一の位にかける。
 $2 \times 4 = 8$
8は一の位。

	3	4
×		2
<hr/>		
	6	8

十の位にかける。
 $2 \times 3 = 6$
6は十の位。



かけ算の筆算 5

◎ 2けた×1けた
(くり上がりなし)



日にち： 月 日

名まえ _____

・ 13×3 を筆算でしましょう。

	1	3
×		3
<hr/>		

位をそろえて
書く。

	1	3
×		3
<hr/>		
		9

一の位にかける。
 $3 \times 3 = 9$
9は一の位。

	1	3
×		3
<hr/>		
	3	9

十の位にかける。
 $3 \times 1 = 3$
3は十の位。



かけ算の筆算5

◎ 2けた×1けた
(くり上がりなし)



日にち： 月 日

名まえ _____

・ 次の計算を筆算でしましょう。(うすい字はなぞりましょう)

①

	4	1
×		2
<hr/>		
	8	2

④

	1	4
×		2
<hr/>		
	2	8

②

	2	2
×		3
<hr/>		
	6	6

⑤

	1	1
×		8
<hr/>		
	8	8

③

	3	1
×		2
<hr/>		
	6	2

⑥

	2	4
×		2
<hr/>		
	4	8



かけ算の筆算 5

◎ 2けた × 1けた
(くり上がりなし)



日にち： 月 日

名まえ _____

・ 次の計算を筆算でしましょう。(うすい字はなぞりましょう)

①

	2	4
×		2
<hr/>		
	4	8

④

	4	4
×		2
<hr/>		
	8	8

②

	3	3
×		3
<hr/>		
	9	9

⑤


	1	1
×		8
<hr/>		
	8	8

③

	2	3
×		2
<hr/>		
	4	6

⑥

	2	1
×		3
<hr/>		
	6	3



かけ算の筆算 5

◎ 2けた × 1けた
(くり上がりなし)



日にち： 月 日

名まえ _____

・ 次の計算を筆算でしましょう。

①

	1	2
×		3
<hr/>		
	3	6

④

	2	4
×		2
<hr/>		
	4	8

②

	2	4
×		2
<hr/>		
	4	8

⑤

	1	4
×		2
<hr/>		
	2	8

③

	1	3
×		2
<hr/>		
	2	6

⑥

	1	1
×		7
<hr/>		
	7	7



かけ算の筆算 5

◎ 2けた×1けた
(くり上がりなし)



日にち： 月 日

名まえ _____

・ 次の計算を筆算でしましょう。

①

	1	1
×		6
<hr/>		
	6	6

④

	2	1
×		4
<hr/>		
	8	4

②

	3	2
×		2
<hr/>		
	6	4

⑤

	2	3
×		2
<hr/>		
	4	6

③

	4	1
×		2
<hr/>		
	8	2

⑥

	2	2
×		3
<hr/>		
	6	6



かけ算の筆算 5

◎ 2けた×1けた
(くり上がりなし)



日にち： 月 日

名まえ _____

・ 次の計算を筆算でしましょう。

①

	2	2
×		3
<hr/>		
	6	6

④

	1	3
×		2
<hr/>		
	2	6

②

	3	1
×		3
<hr/>		
	9	3

⑤

	2	1
×		4
<hr/>		
	8	4

③

	4	4
×		2
<hr/>		
	8	8

⑥

	1	4
×		2
<hr/>		
	2	8



かけ算の筆算5

● 2けた×1けた
(くり上がりなし)



日にち： 月 日

名まえ _____

・ 次の計算を筆算でしましょう。(うすい字はなぞりましょう)

① 32×2

	3	2
×		2
<hr/>		
	6	4

④ 14×2

	1	4
×		2
<hr/>		
	2	8

② 12×2

	1	2
×		2
<hr/>		
	2	4

⑤ 11×8

	1	1
×		8
<hr/>		
	8	8

③ 31×3

	3	1
×		3
<hr/>		
	9	3

⑥ 24×2

	2	4
×		2
<hr/>		
	4	8



かけ算の筆算5

◎ 2けた×1けた
(くり上がりなし)



日にち： 月 日

名まえ _____

・ 次の計算を筆算でしましょう。(うすい字はなぞりましょう)

① 44×2

	4	4
×		2
<hr/>		
	8	8

④ 34×2

	3	4
×		2
<hr/>		
	6	8

② 21×4

	2	1
×		4
<hr/>		
	8	4

⑤ 22×3

	2	2
×		3
<hr/>		
	6	6

③ 23×3

	2	3
×		3
<hr/>		
	6	9

⑥ 31×3

	3	1
×		3
<hr/>		
	9	3

⑪ 仕上げ 答え



かけ算の筆算5

◎ 2けた×1けた
(くり上がりなし)

12

日にち： 月 日

名まえ _____

・ 次の計算を筆算でしましょう。(うすい字はなぞりましょう)

① 34×2

	3	4
×		2
<hr/>		
	6	8

④ 24×2

	2	4
×		2
<hr/>		
	4	8

② 41×2

	4	1
×		2
<hr/>		
	8	2

⑤ 22×3

	2	2
×		3
<hr/>		
	6	6


③ 31×3

	3	1
×		3
<hr/>		
	9	3

⑥ 21×4

	2	1
×		4
<hr/>		
	8	4

⑫ 仕上げ 答え



かけ算の筆算5

● 2けた×1けた
(くり上がりなし)

13

日にち： 月 日

名まえ _____

・ 次の計算を筆算でしましょう。

① 24×2

	2	4
×		2
<hr/>		
	4	8

④ 31×3

	3	1
×		3
<hr/>		
	9	3

② 42×2

	4	2
×		2
<hr/>		
	8	4

⑤ 43×2

	4	3
×		2
<hr/>		
	8	6

③ 22×3

	2	2
×		3
<hr/>		
	6	6

⑥ 33×2

	3	3
×		2
<hr/>		
	6	6



かけ算の筆算5

● 2けた×1けた
(くり上がりなし)

14

日にち： 月 日

名まえ _____

・ 次の計算を筆算でしましょう。

① 32×3

	3	2
×		3
<hr/>		
	9	6

④ 23×3

	2	3
×		3
<hr/>		
	6	9

② 34×2

	3	4
×		2
<hr/>		
	6	8

⑤ 12×4


	1	2
×		4
<hr/>		
	4	8

③ 13×2

	1	3
×		2
<hr/>		
	2	6

⑥ 22×2

	2	2
×		2
<hr/>		
	4	4




かけ算の筆算5

● 2けた×1けた
(くり上がりなし)

15

目指せ80点!



名まえ

・ 次の計算を筆算でしましょう。(各20点)

① 12×3

	1	2
×		3
<hr/>		
	3	6

④ 24×2

	2	4
×		2
<hr/>		
	4	8

② 32×3

	3	2
×		3
<hr/>		
	9	6

⑤ 14×2

	1	4
×		2
<hr/>		
	2	8

③ 22×3

	2	2
×		3
<hr/>		
	6	6






かけ算の筆算5

◎ 2けた×1けた
(くり上がりなし)

16

目指せ80点!



名まえ

・ 次の計算を筆算でしましょう。(各20点)

① 23×2

	2	3
×		2
<hr/>		
	4	6

④ 41×2

	4	1
×		2
<hr/>		
	8	2

② 33×3

	3	3
×		3
<hr/>		
	9	9

⑤ 34×2

	3	4
×		2
<hr/>		
	6	8

③ 12×4

	1	2
×		4
<hr/>		
	4	8

