



かけ算の筆算 35

◎ 2けた (3けた)
× 2けたの文章題



日にち： 月 日

名まえ _____

1 みかんが58こずつ入った箱が、40箱あります。

みかんは全部で何こありますか。(うすい字はなぞりましょう)

式： $58 \times 40 =$

		5	8
	×	4	0
<hr/>			

答え： _____

2 140円のおかしを32こ買います。

代金はいくらですか。(うすい字はなぞりましょう)

式： $140 \times 32 =$

		1	4	0
	×		3	2
<hr/>				

答え： _____



かけ算の筆算 35

◎ 2けた (3けた)
× 2けたの文章題



日にち： 月 日

名まえ _____

- 1 406円のおもちゃを25こ買います。
代金はいくらですか。(うすい字はなぞりましょう)

式：406 × 25

406
× 25

答え： _____

- 2 りんごが32こずつ入った箱が、18箱あります。
りんごは全部で 何こありますか。

式：

--

答え： _____



かけ算の筆算 35

◎ 2けた (3けた)
× 2けたの文章題



日にち： 月 日

名まえ

1 460円の本を41さつ買います。
代金はいくらですか。

式：

答え：

2 ドーナツが12こずつ入った箱が、50箱あります。
ドーナツは全部で 何こありますか。

式：

答え：



かけ算の筆算 35

● 2けた (3けた)
× 2けたの文章題



日にち： 月 日

名まえ _____

1 どんぐりが72こずつ入った箱が、31箱あります。
どんぐりは全部で何こありますか。

式：

答え： _____

2 205円のキャベツを30こ買います。
代金はいくらですか。

式：

答え： _____



かけ算の筆算 35

◎ 2けた (3けた)
× 2けたの文章題



日にち： 月 日

名まえ _____

1 りんごが38こずつ入った箱が、25箱あります。

りんごは全部で 何こありますか。(うすい字はなぞりましょう)

式： 38×25

答え： _____

2 680円のおもちゃを31こ買います。

代金はいくらですか。

式：

答え： _____



かけ算の筆算 35

◎ 2けた (3けた)
× 2けたの文章題



日にち： 月 日

名まえ _____

1 225円のおかしを14こ買います。
代金はいくらですか。

式：

答え： _____

2 いちごが42こずつ入った箱が、30箱あります。
いちごは全部で 何こありますか。

式：

答え： _____



かけ算の筆算 35

◎ 2けた (3けた)
× 2けたの文章題



日にち： 月 日

名まえ _____

1 ケーキが11こずつ入った箱が、50箱あります。
ケーキは全部で 何こありますか。

式：

答え： _____

2 724円の本を63さつ買います。
代金はいくらですか。

式：

答え： _____



かけ算の筆算 35

◎ 2けた (3けた)
× 2けたの文章題



日にち： 月 日

名まえ _____

1 180円のブロッコリーを20こ買います。
代金はいくらですか。

式：

答え： _____

2 ビー玉が38こずつ入った箱が、27箱あります。
ビー玉は全部で 何こありますか。

式：

答え： _____



かけ算の筆算 35

◎ 2けた (3けた)
× 2けたの文章題



日にち： 月 日

名まえ _____

1 508円のおもちゃを42こ買います。
代金はいくらですか。

式：

答え： _____

2 りんごが52こずつ入った箱が、13箱あります。
りんごは全部で 何こありますか。

式：

答え： _____



かけ算の筆算 35

◎ 2けた (3けた)
× 2けたの文章題



日にち： 月 日

名まえ _____

1 ドーナツが14こずつ入った箱が、60箱あります。
ドーナツは全部で 何こありますか。

式：

答え： _____

2 790円の本を27さつ買います。
代金はいくらですか。

式：

答え： _____



かけ算の筆算 35

◎ 2けた (3けた)
× 2けたの文章題



日にち： 月 日

名まえ

1 ゆずが62こずつ入った箱が、30箱あります。
ゆずは全部で何こありますか。

式：

答え：

2 152円のおかしを24こ買います。
代金はいくらですか。

式：

答え：



かけ算の筆算 35

◎ 2けた (3けた)
× 2けたの文章題



日にち： 月 日

名まえ _____

1 マフィンが16こずつ入った箱が、20箱あります。
マフンは全部で何こありますか。

式：

答え： _____

2 870円の本を47さつ買います。
代金はいくらですか。

式：

答え： _____



かけ算の筆算 35

● 2けた (3けた)
× 2けたの文章題



日にち： 月 日

名まえ

1 750円のすいかを30こ買います。
代金はいくらですか。

式：

答え：

2 おはじきが56こずつ入った箱が、34箱あります。
おはじきは全部で 何こありますか。

式：

答え：



かけ算の筆算 35

● 2けた (3けた)
× 2けたの文章題



日にち： 月 日

名まえ _____

1 ドーナツが14こずつ入った箱が、30箱あります。
ドーナツは全部で 何こありますか。

式：

答え： _____

2 924円の本を49さつ買います。
代金はいくらですか。

式：

答え： _____




かけ算の筆算 35

◎ 2けた (3けた)
× 2けたの文章題

15

目指せ100点!



名まえ

1 703円のプラモデルを60こ買います。
代金はいくらですか。(50点)

式：

答え：

2 うめが68こずつ入った箱が、72箱あります。
うめは全部で何こありますか。(50点)

式：

答え：



かけ算の筆算 35

◎ 2けた (3けた)
× 2けたの文章題

16

目指せ100点!



名まえ

- 1 さくらんぼが48こずつ入った箱が、60箱あります。
さくらんぼは全部で何こありますか。(50点)

式：

答え：

- 2 345円のおかしを75こ買います。
代金はいくらですか。(50点)

式：

答え：



かけ算の筆算 35

◎ 2けた (3けた)
× 2けたの文章題



日にち： 月 日

名まえ _____

1 みかんが58こずつ入った箱が、40箱あります。

みかんは全部で何こありますか。(うすい字はなぞりましょう)

$$\text{式： } 58 \times 40 = 2320$$

$$\begin{array}{r} 58 \\ \times 40 \\ \hline 23^3 20 \end{array}$$

答え：2320こ

2 140円のおかしを32こ買います。

代金はいくらですか。(うすい字はなぞりましょう)

$$\text{式： } 140 \times 32 = 4480$$

$$\begin{array}{r} 140 \\ \times 32 \\ \hline 280 \\ 4^1 20 \\ \hline 4480 \end{array}$$

答え：4480円



かけ算の筆算 35

◎ 2けた (3けた)
× 2けたの文章題



日にち： 月 日

名まえ _____

- 1 406円のおもちゃを25こ買います。
代金はいくらですか。(うすい字はなぞりましょう)

式： $406 \times 25 = 10150$

	4	0	6
×		2	5
<hr/>			
2 ²	0	3 ³	0
8	1 ¹	2	
<hr/>			
1 ¹	0	1	5 0

答え：10150円

- 2 りんごが32こずつ入った箱が、18箱あります。
りんごは全部で 何こありますか。

式： $32 \times 18 = 576$

	3	2
×	1	8
<hr/>		
2	5 ¹	6
3	2	
<hr/>		
5	7	6

答え：576こ



かけ算の筆算 35

◎ 2けた (3けた)
× 2けたの文章題



日にち： 月 日

名まえ _____

1 460円の本を41さつ買います。
代金はいくらですか。

$$\text{式：} 460 \times 41 = 18860$$

答え：18860円

		4	6	0
	×		4	1
		<hr/>		
		4	6	0
1	8 ²	4	0	
<hr/>				
1	8	8	6	0

2 ドーナツが12こずつ入った箱が、50箱あります。
ドーナツは全部で 何こありますか。

$$\text{式：} 12 \times 50 = 600$$

答え：600こ

		1	2
	×	5	0
		<hr/>	
		6	0
		0	0



かけ算の筆算 35

◎ 2けた (3けた)
× 2けたの文章題



日にち： 月 日

名まえ _____

- 1 どんぐりが72こずつ入った箱が、31箱あります。
どんぐりは全部で何こありますか。

式： $72 \times 31 = 2232$

$$\begin{array}{r} 72 \\ \times 31 \\ \hline 72 \\ 216 \\ \hline 2232 \end{array}$$

答え： 2232こ

- 2 205円のキャベツを30こ買います。
代金はいくらですか。

式： $205 \times 30 = 6150$

$$\begin{array}{r} 205 \\ \times 30 \\ \hline 6150 \end{array}$$

答え： 6150 円



かけ算の筆算 35

◎ 2けた (3けた)
× 2けたの文章題



日にち： 月 日

名まえ _____

1 りんごが38こずつ入った箱が、25箱あります。

りんごは全部で 何こありますか。(うすい字はなぞりましょう)

$$\text{式： } 38 \times 25 = 950$$

答え： 950 こ

$$\begin{array}{r} 38 \\ \times 25 \\ \hline 190 \\ 76 \\ \hline 950 \end{array}$$

2 680円のおもちゃを31こ買います。

代金はいくらですか。

$$\text{式： } 680 \times 31 = 21080$$

答え： 21080円

$$\begin{array}{r} 680 \\ \times 31 \\ \hline 680 \\ 2040 \\ \hline 21080 \end{array}$$



かけ算の筆算 35

◎ 2けた (3けた)
× 2けたの文章題



日にち： 月 日

名まえ _____

1 225円のおかしを14こ買います。
代金はいくらですか。

$$\text{式： } 225 \times 14 = 3150$$

$$\begin{array}{r} 225 \\ \times 14 \\ \hline 900 \\ 2250 \\ \hline 3150 \end{array}$$

答え：3150円

2 いちごが42こずつ入った箱が、30箱あります。
いちごは全部で 何こありますか。

$$\text{式： } 42 \times 30 = 1260$$

$$\begin{array}{r} 42 \\ \times 30 \\ \hline 1260 \end{array}$$

答え：1260こ



かけ算の筆算 35

◎ 2けた (3けた)
× 2けたの文章題



日にち： 月 日

名まえ _____

1 ケーキが11こずつ入った箱が、50箱あります。
ケーキは全部で 何こありますか。

$$\text{式： } 11 \times 50 = 550$$

$$\begin{array}{r} 11 \\ \times 50 \\ \hline 550 \end{array}$$

答え： 550 こ

2 724円の本を63さつ買います。
代金はいくらですか。

$$\text{式： } 724 \times 63 = 45612$$

$$\begin{array}{r} 724 \\ \times 63 \\ \hline 2172 \\ 4344 \\ \hline 45612 \end{array}$$

答え： 45612円



かけ算の筆算 35

◎ 2けた (3けた)
× 2けたの文章題



日にち： 月 日

名まえ _____

1 180円のブロッコリーを20こ買います。
代金はいくらですか。

$$\text{式： } 180 \times 20 = 3600$$

		1	8	0	
	×		2	0	
<hr/>					
		3	6	0	0

答え： 3600 円

2 ビー玉が38こずつ入った箱が、27箱あります。
ビー玉は全部で 何こありますか。

$$\text{式： } 38 \times 27 = 1026$$

			3	8		
		×	2	7		
<hr/>						
			2	6 ⁵	6	
			7	6		
<hr/>						
			1	0	2	6

答え： 1026こ



かけ算の筆算 35

◎ 2けた (3けた)
× 2けたの文章題



日にち： 月 日

名まえ _____

1 508円のおもちゃを42こ買います。
代金はいくらですか。

$$\text{式： } 508 \times 42 = 21336$$

		5	0	8
	×		4	2
		<hr/>		
		1	0	16
2	0	3 ³	2	
<hr/>				
2	1	3	3	6

答え：21336円

2 りんごが52こずつ入った箱が、13箱あります。
りんごは全部で 何こありますか。

$$\text{式： } 52 \times 13 = 676$$

		5	2
	×	1	3
		<hr/>	
		1	56
5	2		
<hr/>			
6	7	6	

答え：676こ



かけ算の筆算 35

◎ 2けた (3けた)
× 2けたの文章題



日にち： 月 日

名まえ _____

- 1 ドーナツが14こずつ入った箱が、60箱あります。
ドーナツは全部で何こありますか。

式： $14 \times 60 = 840$

$$\begin{array}{r} 14 \\ \times 60 \\ \hline 840 \end{array}$$

答え：840こ

- 2 790円の本を27さつ買います。
代金はいくらですか。

式： $790 \times 27 = 21330$

$$\begin{array}{r} 790 \\ \times 27 \\ \hline 5530 \\ 1580 \\ \hline 21330 \end{array}$$

答え：21330円



かけ算の筆算 35

◎ 2けた (3けた)
× 2けたの文章題



日にち： 月 日

名まえ _____

1 ゆずが62こずつ入った箱が、30箱あります。
ゆずは全部で何こありますか。

$$\text{式： } 62 \times 30 = 1860$$

$$\begin{array}{r} 62 \\ \times 30 \\ \hline 1860 \end{array}$$

答え：1860こ

2 152円のおかしを24こ買います。
代金はいくらですか。

$$\text{式： } 152 \times 24 = 3648$$

$$\begin{array}{r} 152 \\ \times 24 \\ \hline 6^2 08 \\ 3^1 04 \\ \hline 3648 \end{array}$$

答え：3648円



かけ算の筆算 35

● 2けた (3けた)
× 2けたの文章題

12

日にち： 月 日

名まえ _____

1 マフィンが16こずつ入った箱が、20箱あります。
マフンは全部で何こありますか。

$$\text{式： } 16 \times 20 = 320$$

$$\begin{array}{r} 16 \\ \times 20 \\ \hline 320 \end{array}$$

答え：320こ

2 870円の本を47さつ買います。
代金はいくらですか。

$$\text{式： } 870 \times 47 = 40890$$

$$\begin{array}{r} 870 \\ \times 47 \\ \hline 6090 \\ 3480 \\ \hline 40890 \end{array}$$

答え：40890円



かけ算の筆算 35

◎ 2けた (3けた)
× 2けたの文章題



日にち： 月 日

名まえ _____

1 750円のすいかを30こ買います。
代金はいくらですか。

$$\text{式： } 750 \times 30 = 22500$$

$$\begin{array}{r} 750 \\ \times 30 \\ \hline 22500 \end{array}$$

答え：22500円

2 おはじきが56こずつ入った箱が、34箱あります。
おはじきは全部で何こありますか。

$$\text{式： } 56 \times 34 = 1904$$

$$\begin{array}{r} 56 \\ \times 34 \\ \hline 224 \\ 168 \\ \hline 1904 \end{array}$$

答え：1904こ



かけ算の筆算 35

● 2けた (3けた)
× 2けたの文章題



日にち： 月 日

名まえ _____

- 1 ドーナツが14こずつ入った箱が、30箱あります。
ドーナツは全部で何こありますか。

$$\text{式： } 14 \times 30 = 420$$

$$\begin{array}{r} 14 \\ \times 30 \\ \hline 420 \end{array}$$

答え：420こ

- 2 924円の本を49さつ買います。
代金はいくらですか。

$$\text{式： } 924 \times 49 = 45276$$

$$\begin{array}{r} 924 \\ \times 49 \\ \hline 8316 \\ 3696 \\ \hline 45276 \end{array}$$

答え：45276円




かけ算の筆算 35

● 2けた (3けた)
× 2けたの文章題

15

目指せ100点!



名まえ

1 703円のプラモデルを60こ買います。
代金はいくらですか。(50点)

式： $703 \times 60 = 42180$

			7	0	3
			×		60
4	2	1	8	0	

答え：42180円

2 うめが68こずつ入った箱が、72箱あります。
うめは全部で何こありますか。(50点)

式： $68 \times 72 = 4896$

			6	8
			×	72
		1	3	6
4	7	6		
4	8	9	6	

答え：4896こ




かけ算の筆算 35

◎ 2けた (3けた)
× 2けたの文章題



目指せ100点!



名まえ _____

1 さくらんぼが48こずつ入った箱が、60箱あります。
さくらんぼは全部で何こありますか。(50点)

$$\text{式： } 48 \times 60 = 2880$$

$$\begin{array}{r}
 48 \\
 \times 60 \\
 \hline
 2880
 \end{array}$$

答え：2880こ

2 345円のおかしを75こ買います。
代金はいくらですか。(50点)

$$\text{式： } 345 \times 75 = 25875$$

$$\begin{array}{r}
 345 \\
 \times 75 \\
 \hline
 1725 \\
 2415 \\
 \hline
 25875
 \end{array}$$

答え：25875円