



# かけ算の筆算⑨

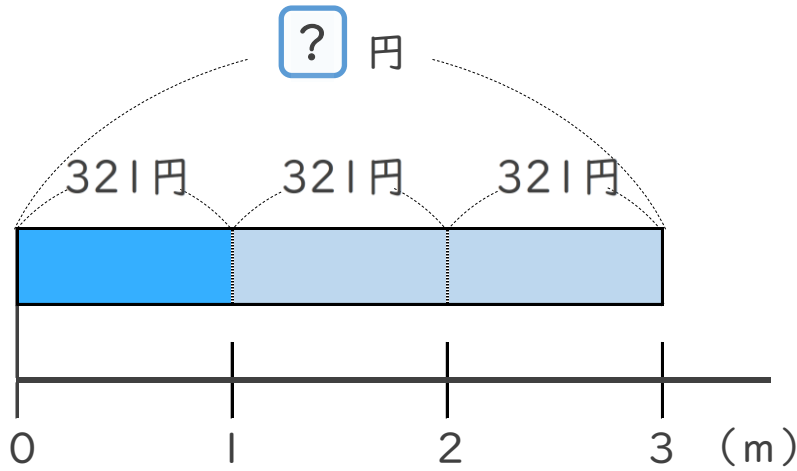
● 321 円のテープを  
3m 買った代金



日にち：            月            日

名まえ \_\_\_\_\_

1 mのねだんが321円のテープを、3m買います。  
代金はいくらですか。(うすい字はなぞりましょう)

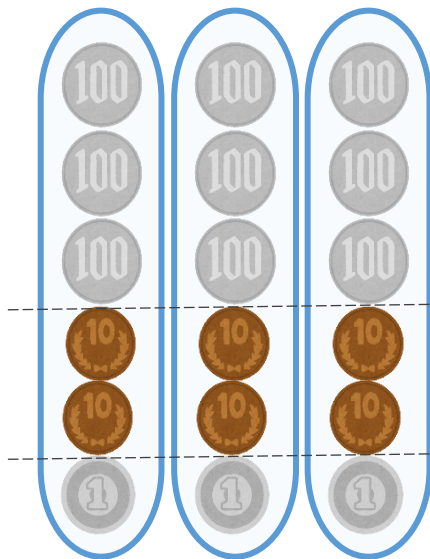


式：  $321 \times 3 =$

答え： \_\_\_\_\_



こうた



$300 \times 3 = 900$

$20 \times 3 = 60$

$1 \times 3 = 3$

あわせて

**963**



# かけ算の筆算⑨

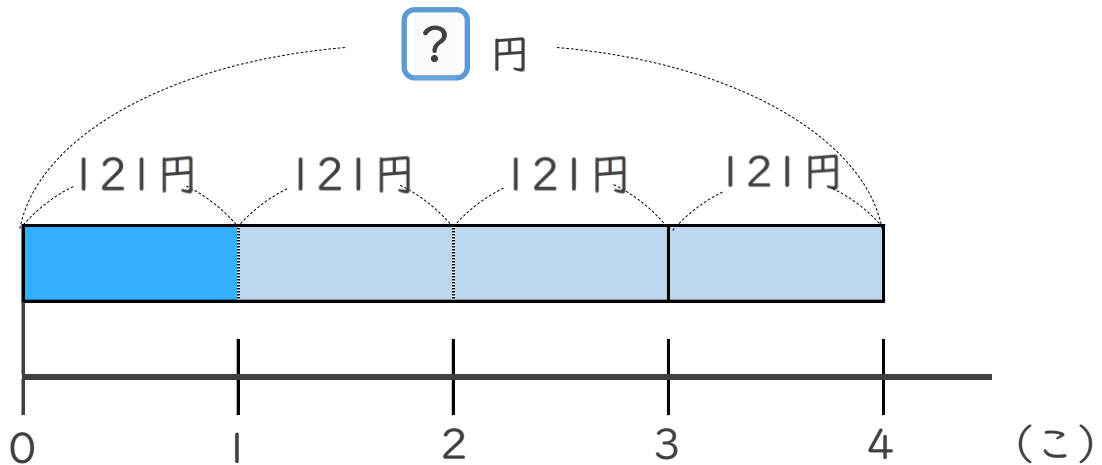
● 321 円のテープを  
3m 買った代金



日にち：            月            日

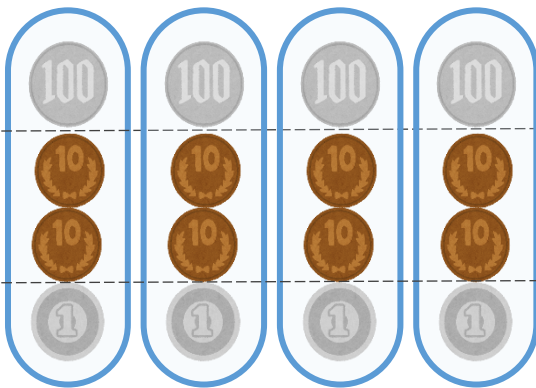
名まえ \_\_\_\_\_

1 このねだんが121円のおかしを、4こ買います。  
代金はいくらですか。(うすい字はなぞりましょう)



式：  $121 \times 4 =$

答え： \_\_\_\_\_



$100 \times 4 = 400$

$20 \times 4 = 80$

$1 \times 4 = 4$

あわせて



# かけ算の筆算 9

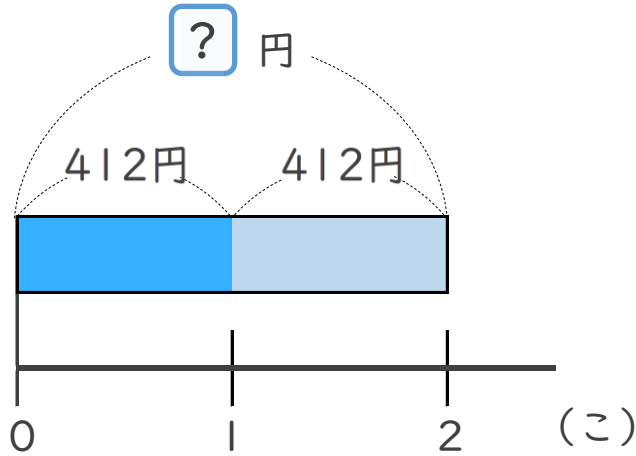
321 円のテープを  
3m 買った代金



日にち：            月            日

名まえ \_\_\_\_\_

1 このねだんが412円のケーキを、2こ買います。  
代金はいくらですか。

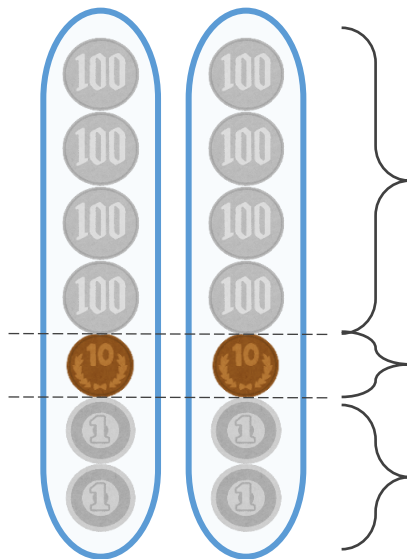


式：

答え： \_\_\_\_\_



こうた



$$400 \times 2 = 800$$

$$10 \times 2 = 20$$

$$2 \times 2 = 4$$

あわせて





# かけ算の筆算 9

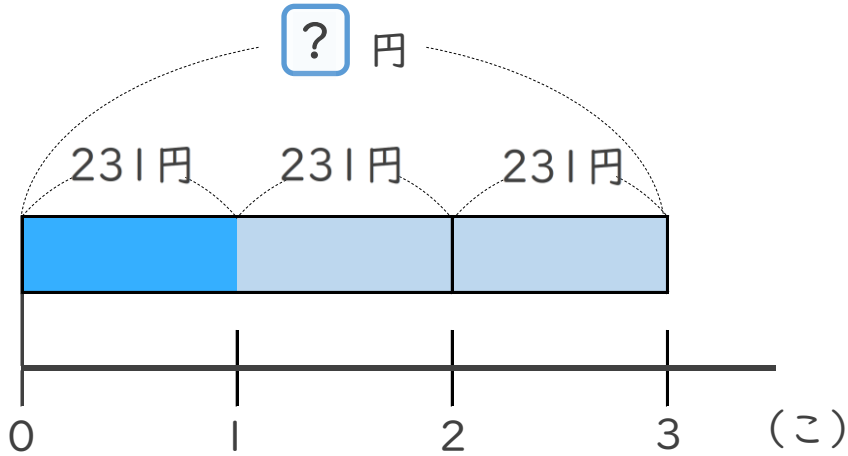
● 321 円のテープを  
3m 買った代金



日にち：            月            日

名まえ \_\_\_\_\_

1 このねだんが231円のドーナツを、3こ買います。  
代金はいくらですか。

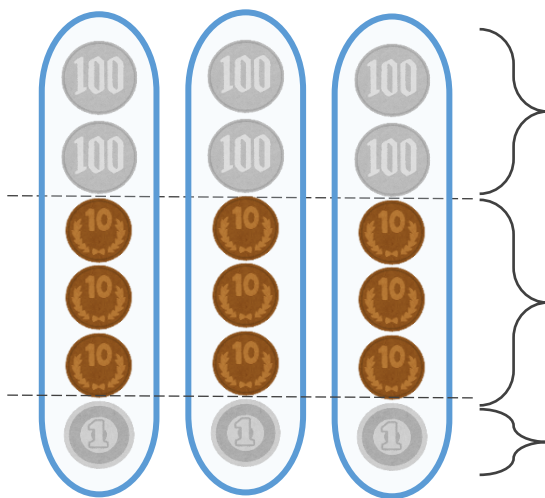


式：

答え： \_\_\_\_\_



こうた



$$200 \times 3 = 600$$

$$30 \times 3 = 90$$

$$1 \times 3 = 3$$

あわせて



# かけ算の筆算 9

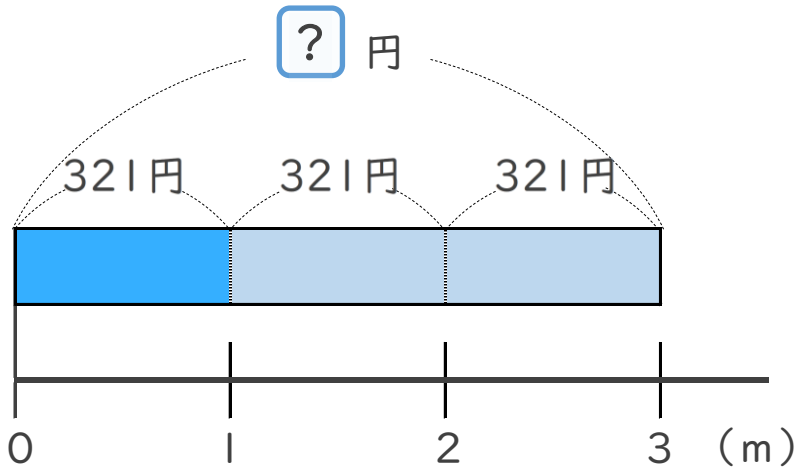
● 321 円のテープを  
3m 買った代金



日にち：            月            日

名まえ \_\_\_\_\_

1 mのねだんが321円のテープを、3m買います。  
代金はいくらですか。(うすい字はなぞりましょう)

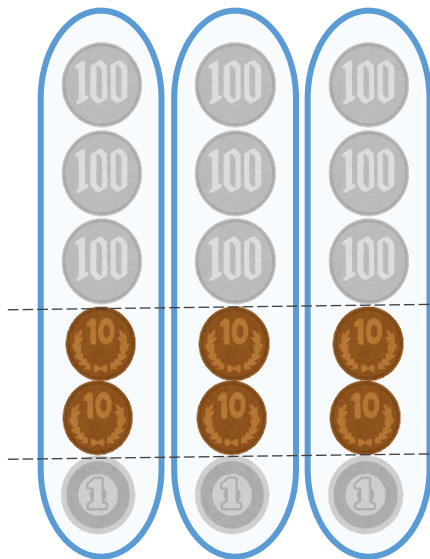


式：  $321 \times 3 = 963$

答え： 963 円



こうた



$300 \times 3 = 900$

$20 \times 3 = 60$

$1 \times 3 = 3$

あわせて

**963**





# かけ算の筆算⑨

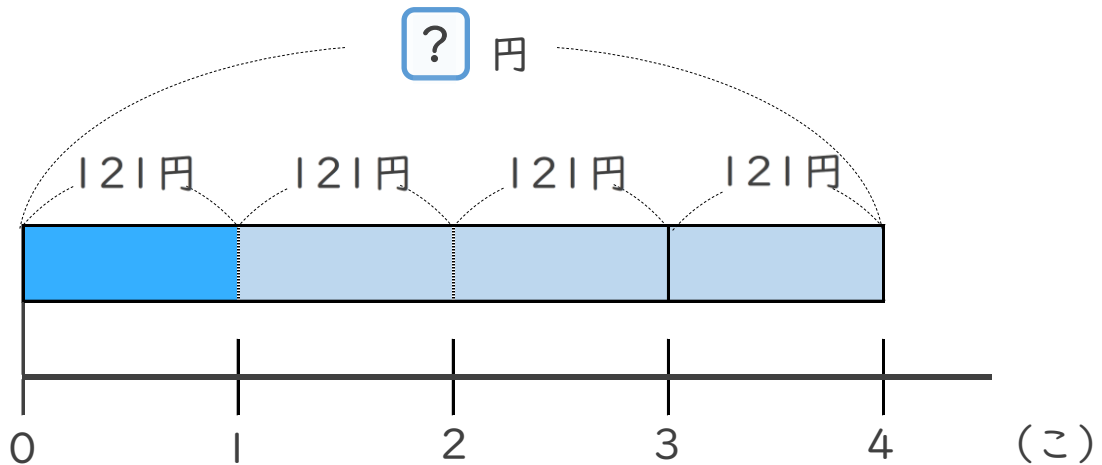
● 321 円のテープを  
3m 買った代金



日にち：            月            日

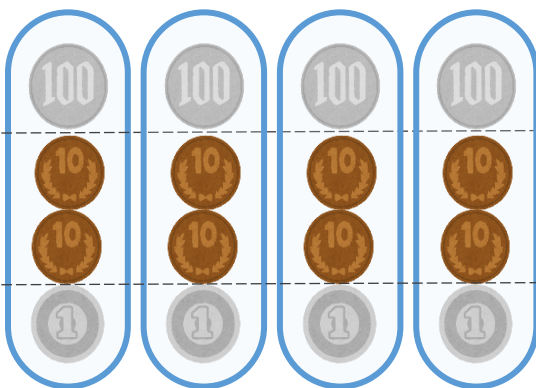
名まえ \_\_\_\_\_

1 このねだんが121円のおかしを、4こ買います。  
代金はいくらですか。(うすい字はなぞりましょう)



式：  $121 \times 4 = 484$

答え：484 円



$100 \times 4 = 400$

$20 \times 4 = 80$

$1 \times 4 = 4$

あわせて

**484**



## かけ算の筆算⑨

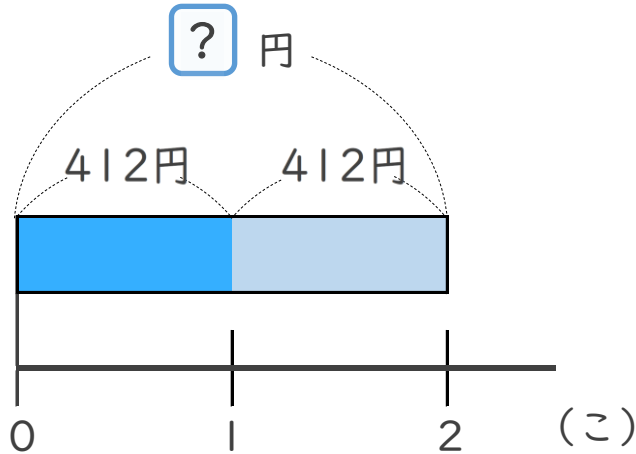
● 321 円のテープを  
3m 買った代金



日にち：            月            日

名まえ \_\_\_\_\_

- 1 このねだんが412円のケーキを、2こ買います。  
代金はいくらですか。

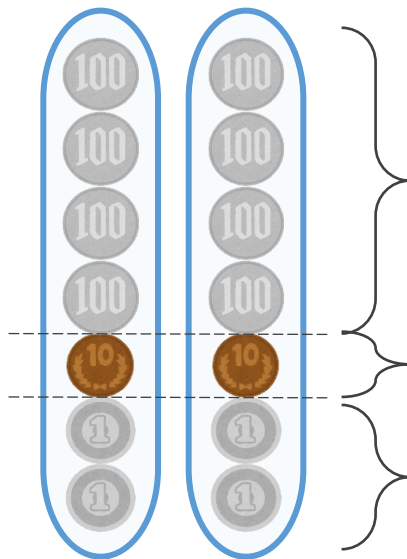


$$\text{式： } 412 \times 2 = 824$$

答え： 824 円



こうた



$$400 \times 2 = 800$$

$$10 \times 2 = 20$$

$$2 \times 2 = 4$$

あわせて

**824**



# かけ算の筆算 9

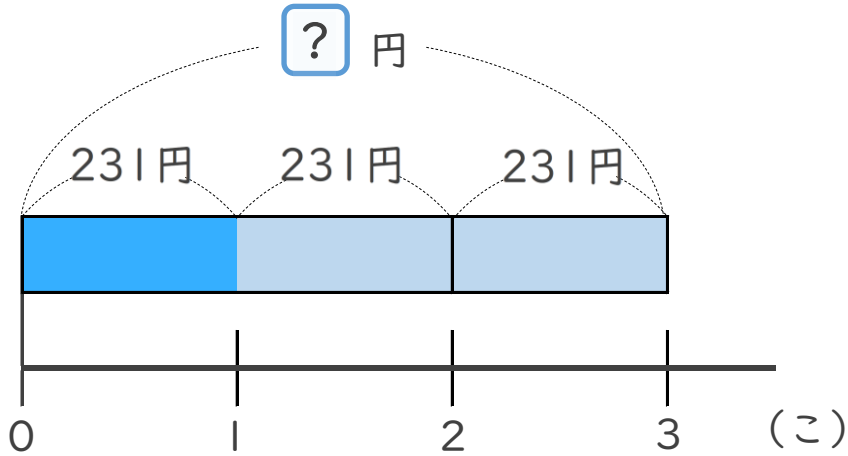
● 321 円のテープを  
3m 買った代金



日にち：            月            日

名まえ \_\_\_\_\_

1 このねだんが231円のドーナツを、3こ買います。  
代金はいくらですか。

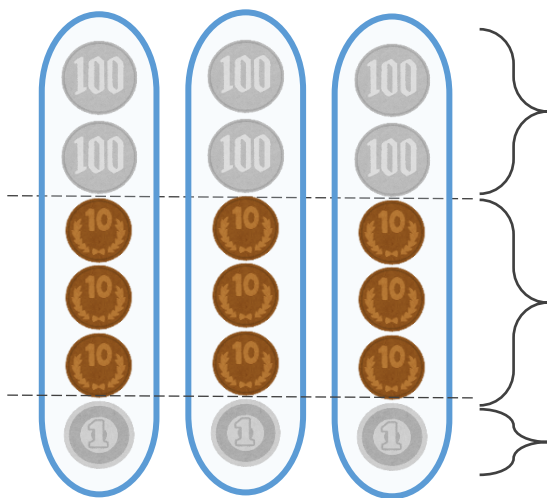


式：  $231 \times 3 = 693$

答え： 693 円



こうた



$200 \times 3 = 600$

$30 \times 3 = 90$

$1 \times 3 = 3$

あわせて

**693**

