



小3まとめ

● データの活用



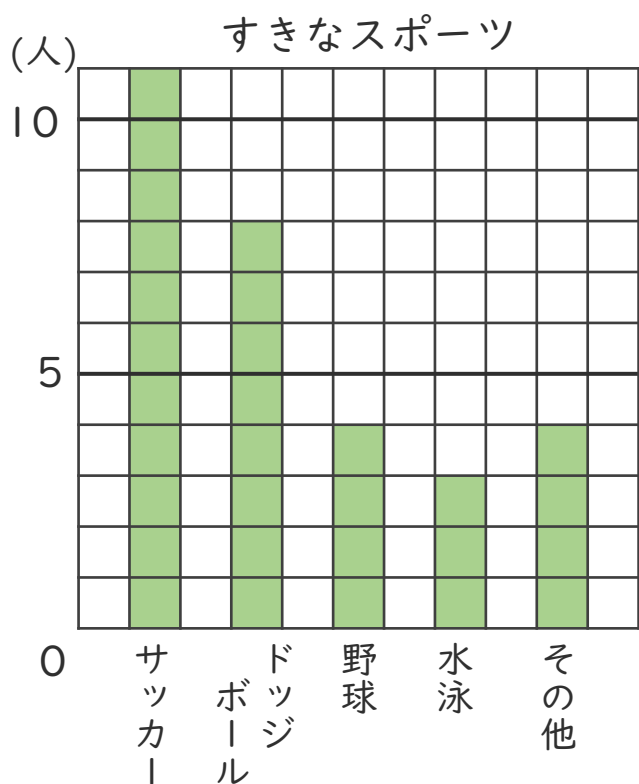
【出題範囲】
ばうグラフと表

50点まん点の
テストだよ!



名前 _____

1 次のグラフを見て、答えましょう。(各5点)



① すきな人がいちばん多いスポーツは何ですか。

[]

② ドッジボールの人数は、野球の人数の何倍ですか。

[]

2 3年生の町べつの人数を調べました。

3年生の町べつの人数 (人)

町 \ 組	1組	2組	3組	合計
東町	12	11	9	
西町	8	16	10	㊦ 34
さくら町	6	3	8	
その他	5	4		15
合計	㊩		33	

① 表の空らんをうめましょう。(各5点)

② 表の㊦、㊩に入る数は、それぞれ何を表していますか。(各5点)

㊦ [] ㊩ []





小3まとめ

データの活用



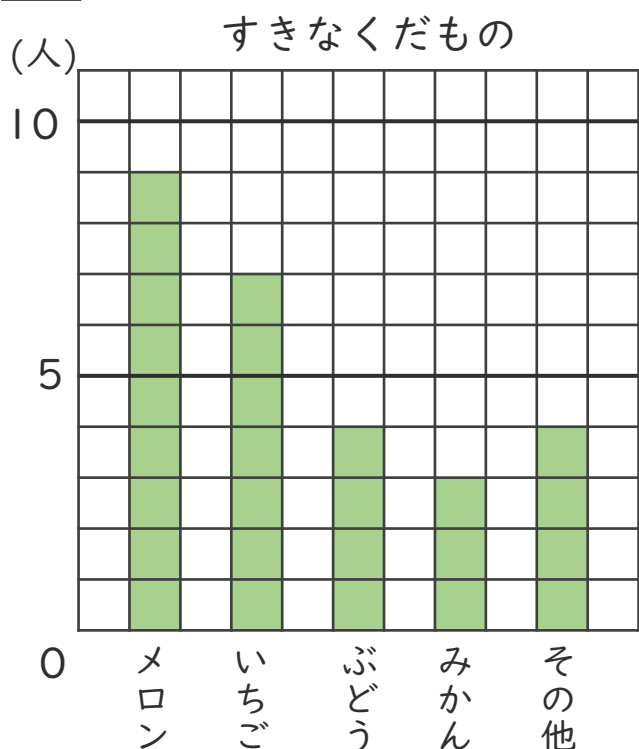
【出題範囲】
ばうグラフと表

50点まん点の
テストだよ!



名前

1 次のグラフを見て、答えましょう。(各5点)



① 横じくには、何を書いているでしょう。

[]

② メロンの人数は、みかんの人数の何倍ですか。

[]

2 3年生のすきなきゅう食のメニューを調べました。

3年生のすきなきゅう食のメニュー (人)

しゅるい \ 組	1組	2組	3組	合計
あげパン	12		7	27
スパゲッティ	8	10	9	
カレー		3	8	㊦
その他	6	7	5	18
合計	30	㊧		87

① 表の空らんをうめましょう。(各5点)

② 表の㊦、㊧に入る数は、それぞれ何を表していますか。(各5点)

㊦ [] ㊧ []





小3まとめ

データの活用



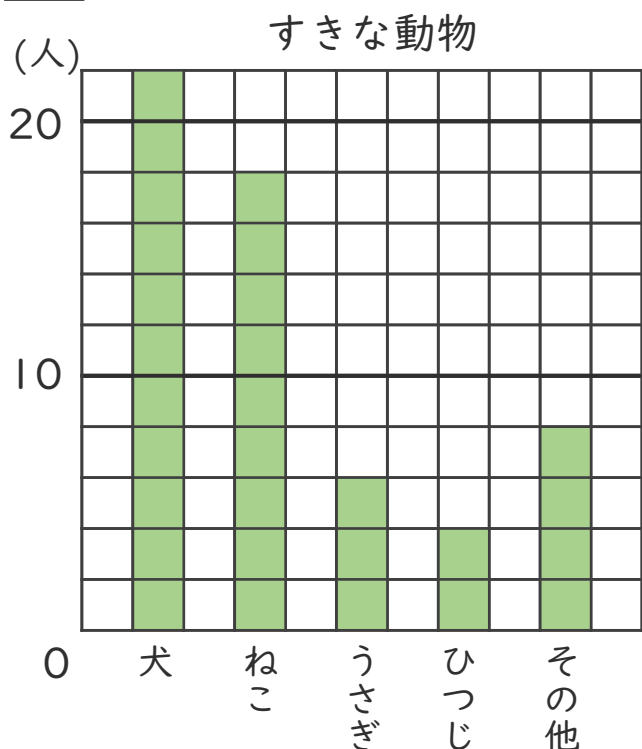
【出題範囲】
ばうグラフと表

50点まん点の
テストだよ!



名まえ

1 次のグラフを見て、答えましょう。(各5点)



① たてじくは、人数を表しています。
1めもりは何人でしょう。

[]

② ねこの人数は、うさぎの人数の何倍
ですか。

[]

2 3年生のすきな本を種類を調べました。

3年生のすきな本調べ (人)

組 しゅるい	1組	2組	3組	合計
物語	13	12		36
科学	9	8	12	㊦
スポーツ	8		6	24
その他	4	3	5	
合計		33	34	㊧

① 表の空らんをうめましょう。(各5点)

② 表の㊦、㊧に入る数は、それぞれ何を表していますか。(各5点)

㊦ [] ㊧ []



小3まとめ

● データの活用



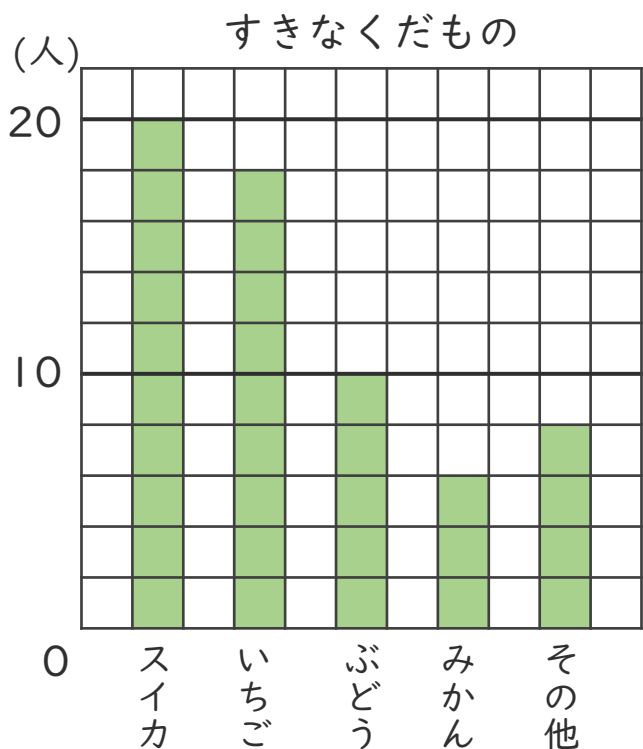
【出題範囲】
ぼうグラフと表

50点まん点の
テストだよ!



名まえ

1 次のグラフを見て、答えましょう。(各5点)



① すきな人がいちばん多いくだものは何ですか。

[]

② スイカの人数は、ぶどうの人数の何倍ですか。

[]

2 3年生のすきなスポーツの種類を調べました。

3年生のすきなスポーツ調べ (人)

しゅるい \ 組	1組	2組	3組	合計
サッカー		8	11	㊦
ドッジボール	9	12		28
水泳	8	9	10	
その他	4	3	3	10
合計	31	32	㊧	94

① 表の空らんをうめましょう。(各5点)

② 表の㊦、㊧に入る数は、それぞれ何を表していますか。(各5点)

㊦ [] ㊧ []



すらすらぷりんと



小3まとめ

データの活用



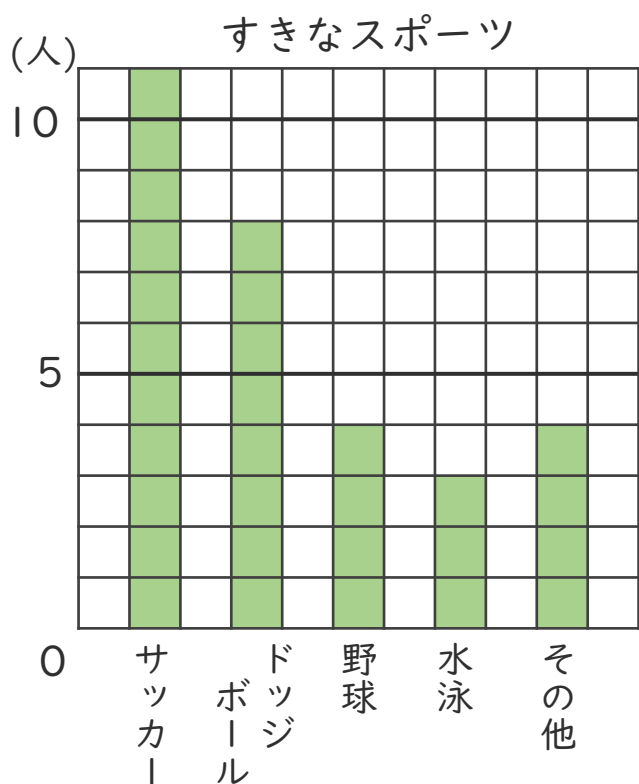
【出題範囲】
ばうグラフと表

50点まん点の
テストだよ!



名前

1 次のグラフを見て、答えましょう。(各5点)



① すきな人がいちばん多いスポーツは何ですか。

サッカー

② ドッジボールの人数は、野球の人数の何倍ですか。

$$8 \div 4 = 2$$

2倍

▶ばうグラフと表2

2 3年生の町べつの人数を調べました。

3年生の町べつの人数 (人)

町 \ 組	1組	2組	3組	合計
東町	12	11	9	32
西町	8	16	10	㊦ 34
さくら町	6	3	8	17
その他	5	4	6	15
合計	㊥ 31	34	33	98

▶ばうグラフと表6

① 表の空らんをうめましょう。(各5点)

② 表の㊦、㊥に入る数は、それぞれ何を表していますか。(各5点)

㊦ (3年生で)
西町にすんでいる人の合計

㊥ 3年1組(全体)の人数





小3まとめ

データの活用



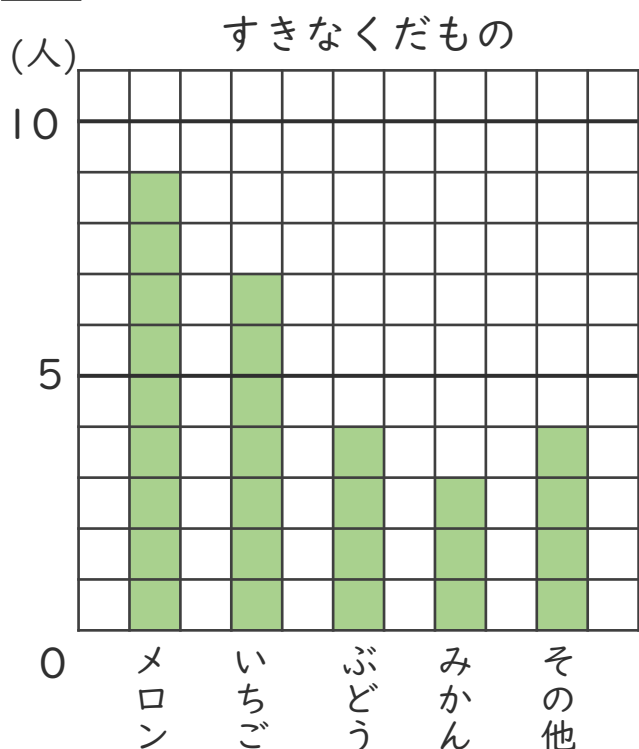
【出題範囲】
ばうグラフと表

50点まん点の
テストだよ!



名前 _____

1 次のグラフを見て、答えましょう。(各5点)



① 横じくには、何を書いているでしょう。

くだもののしゅるい

② メロンの人数は、みかんの人数の何倍ですか。

$$9 \div 3 = 3$$

3倍

▶ばうグラフと表2

2 3年生のすきなきゅう食のメニューを調べました。

3年生のすきなきゅう食のメニュー (人)

組 しゅるい	1組	2組	3組	合計
あげパン	12	8	7	27
スパゲッティ	8	10	9	27
カレー	4	3	8	⑦ 15
その他	6	7	5	18
合計	30	⑧ 28	29	87

▶ばうグラフと表6

① 表の空らんをうめましょう。(各5点)

② 表の⑦、⑧に入る数は、それぞれ何を表していますか。(各5点)

⑦ (3年生で)
カレーがすきな人の合計

⑧ 3年2組(全体)の人数





小3まとめ

データの活用



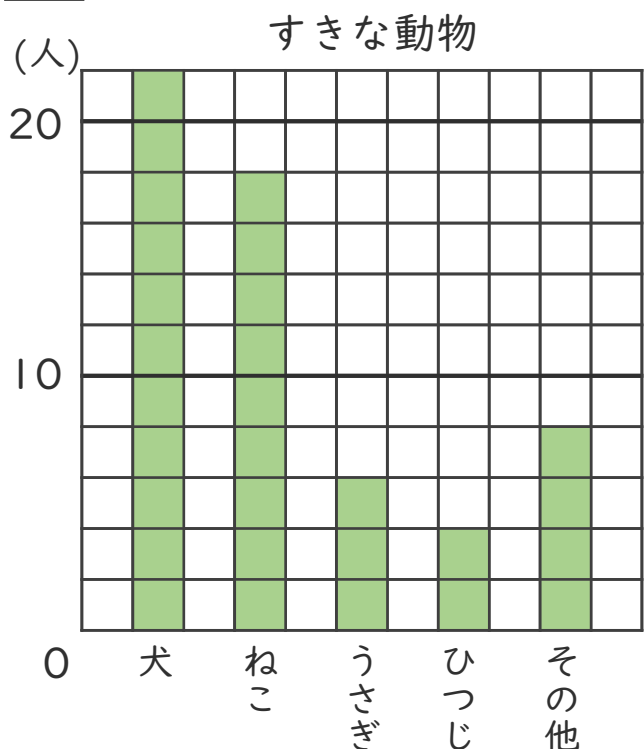
【出題範囲】
ばうグラフと表

50点まん点の
テストだよ!



名まえ

1 次のグラフを見て、答えましょう。(各5点)



① たてじくは、人数を表しています。
1めもりは何人でしょう。

2人

② ねこの人数は、うさぎの人数の何倍
ですか。

$$18 \div 6 = 3$$

3倍

▶ばうグラフと表2

2 3年生のすきな本を種類を調べました。

3年生のすきな本調べ (人)

組	1組	2組	3組	合計
しゅるい				
物語	13	12	11	36
科学	9	8	12	㊦ 29
スポーツ	8	10	6	24
その他	4	3	5	12
合計	34	33	34	㊧ 101

▶ばうグラフと表6

① 表の空らんをうめましょう。(各5点)

② 表の㊦、㊧に入る数は、それぞれ何を表していますか。(各5点)

㊦ (3年生で)
科学の本がすきな人の合計

㊧ 3年生(全体)の人数





小3まとめ

● データの活用



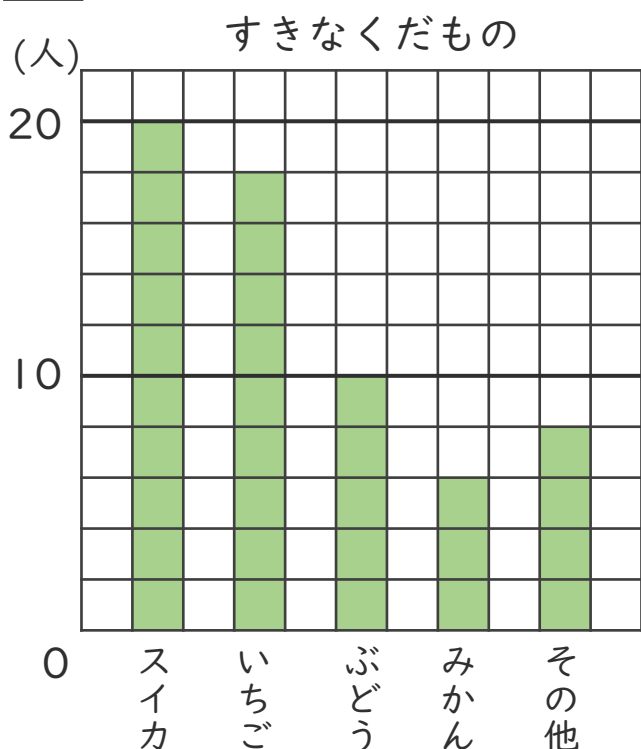
【出題範囲】
ばうグラフと表

50点まん点の
テストだよ!



名まえ

1 次のグラフを見て、答えましょう。(各5点)



① すきな人がいちばん多いくだものは何ですか。

スイカ

② スイカの人数は、ぶどうの人数の何倍ですか。

$$20 \div 10 = 2$$

2倍

▶ばうグラフと表2

2 3年生のすきなスポーツの種類を調べました。

3年生のすきなスポーツ調べ (人)

しゅるい \ 組	1組	2組	3組	合計
サッカー	10	8	11	ア 29
ドッジボール	9	12	7	28
水泳	8	9	10	27
その他	4	3	3	10
合計	31	32	イ 31	94

▶ばうグラフと表6

① 表の空らんをうめましょう。(各5点)

② 表のア、イに入る数は、それぞれ何を表していますか。(各5点)

ア (3年生で)
サッカーがすきな人の合計

イ 3年3組(全体)の人数

