



たし算と
ひき算の筆算 15

● 3けた-2けた
(十の位が0)



日にち： 月 日

名まえ _____

・ 次の計算を筆算でしましょう。(うすい字はなぞりましょう。)

①

		9	
	4	10	10
	5	0	3
-		7	6
<hr/>			
	4	2	7

②

		9	
	5	10	10
	6	0	0
-			8
<hr/>			
	5	9	2

③

	8	0	1
-			3
<hr/>			

④

	4	0	0
-		9	2
<hr/>			

⑤

		9	
	8	10	10
	9	0	3
-		1	5
<hr/>			

⑥

	8	0	6
-			9
<hr/>			





たし算と
ひき算の筆算 15

● 3けた-2けた
(十の位が0)



日にち： 月 日

名まえ _____

・ 次の計算を筆算でしましょう。(うすい字はなぞりましょう。)

①

		9	
	5	10	10
	6	0	5
-		6	7
	5	3	8

②

		9	
	6	10	10
	7	0	2
-			9
	6	9	3

③

	9	0	7
-			8

④

	5	0	1
-		8	4

⑤

		9	
	7	10	10
	8	0	4
-		3	9

⑥

	5	0	3
-			7





たし算と
ひき算の筆算 15

● 3けた-2けた
(十の位が0)



日にち： 月 日

名まえ

・ 次の計算を筆算でしましょう。(うすい字はなぞりましょう。)

①

		9	
	6	10	10
	7	0	7
-		5	8

②

	8	0	1
-			7

③

	7	0	0
-			9

④

	6	0	3
-		7	5

⑤

		9	
	8	10	10
	9	0	3
-		2	7

⑥

	6	0	5
-			8





たし算と
ひき算の筆算 15

● 3けた-2けた
(十の位が0)



日にち： 月 日

名まえ _____

・ 次の計算を筆算でしましょう。(うすい字はなぞりましょう。)

①

	6	0	5
-		4	8

②

	9	0	2
-			7

③

	8	0	7
-			9

④

	7	0	3
-		6	4

⑤

		9	
	1	10	10
	2	0	5
-		1	8

⑥

	7	0	4
-			6





たし算と
ひき算の筆算 15

● 3けた-2けた
(十の位が0)



日にち： 月 日

名まえ _____

・ 次の計算を筆算でしましょう。(うすい字はなぞりましょう。)

$$\begin{array}{r} \textcircled{1} \quad 604 \\ - \quad 39 \\ \hline \end{array}$$

$$\begin{array}{r} \textcircled{2} \quad 300 \\ - \quad \quad 6 \\ \hline \end{array}$$

$$\begin{array}{r} \textcircled{3} \quad 401 \\ - \quad 95 \\ \hline \end{array}$$

$$\begin{array}{r} \textcircled{4} \quad 503 \\ - \quad \quad 8 \\ \hline \end{array}$$

$$\textcircled{5} \quad 602 - 4$$

		9	
	5	0	10
	6	0	2
-			4

$$\textcircled{6} \quad 800 - 96$$

	8	0	0
-		9	6





たし算と
ひき算の筆算 15

● 3けた-2けた
(十の位が0)



日にち： 月 日

名まえ _____

・ 次の計算を筆算でしましょう。(うすい字はなぞりましょう。)

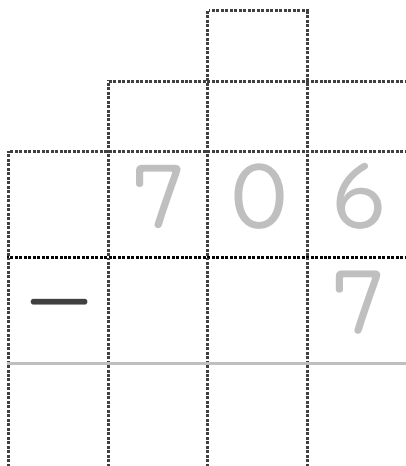
$$\begin{array}{r} \textcircled{1} \quad 702 \\ - \quad 26 \\ \hline \end{array}$$

$$\begin{array}{r} \textcircled{2} \quad 401 \\ - \quad \quad 6 \\ \hline \end{array}$$

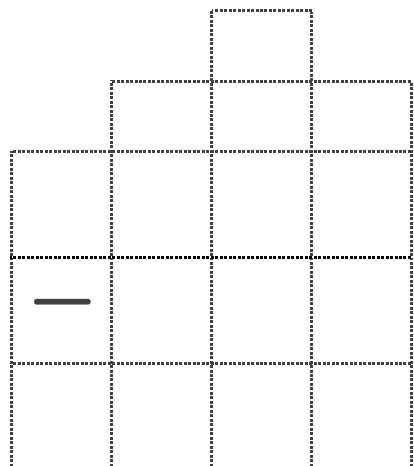
$$\begin{array}{r} \textcircled{3} \quad 502 \\ - \quad 75 \\ \hline \end{array}$$

$$\begin{array}{r} \textcircled{4} \quad 603 \\ - \quad \quad 7 \\ \hline \end{array}$$

$$\textcircled{5} \quad 706 - 7$$



$$\textcircled{6} \quad 904 - 89$$





たし算と
ひき算の筆算 15

● 3けた-2けた
(十の位が0)



日にち： 月 日

名まえ _____

・ 次の計算を筆算でしましょう。

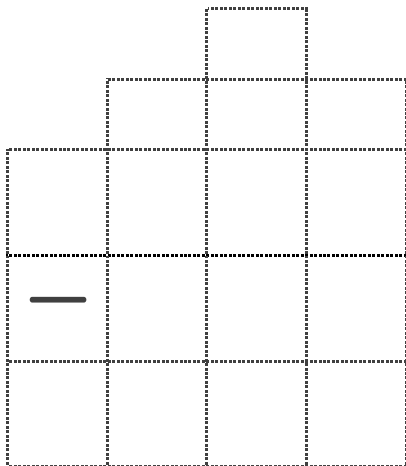
$$\begin{array}{r} \textcircled{1} \quad 803 \\ - \quad \quad 7 \\ \hline \end{array}$$

$$\begin{array}{r} \textcircled{2} \quad 505 \\ - \quad \quad 38 \\ \hline \end{array}$$

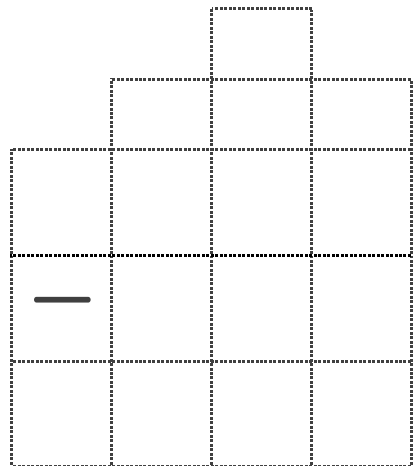
$$\begin{array}{r} \textcircled{3} \quad 601 \\ - \quad \quad 3 \\ \hline \end{array}$$

$$\begin{array}{r} \textcircled{4} \quad 702 \\ - \quad \quad 93 \\ \hline \end{array}$$

$$\textcircled{5} \quad 803 - 88$$



$$\textcircled{6} \quad 200 - 6$$





たし算と
ひき算の筆算 15

● 3けた-2けた
(十の位が0)



日にち： 月 日

名まえ _____

・ 次の計算を筆算でしましょう。

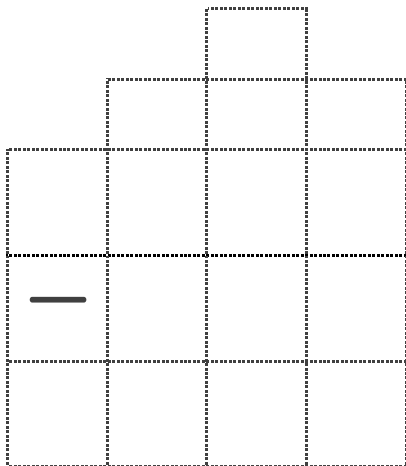
$$\begin{array}{r} \textcircled{1} \quad 905 \\ - \quad \quad 8 \\ \hline \end{array}$$

$$\begin{array}{r} \textcircled{2} \quad 602 \\ - \quad \quad 54 \\ \hline \end{array}$$

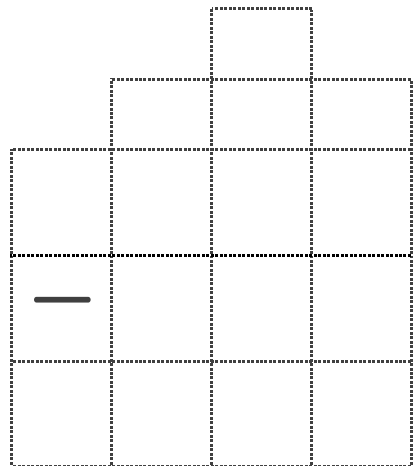
$$\begin{array}{r} \textcircled{3} \quad 704 \\ - \quad \quad 5 \\ \hline \end{array}$$

$$\begin{array}{r} \textcircled{4} \quad 803 \\ - \quad \quad 89 \\ \hline \end{array}$$

$$\textcircled{5} \quad 201 - 75$$



$$\textcircled{6} \quad 303 - 8$$





たし算と
ひき算の筆算 15

● 3けた - 2けた
(十の位が0)



日にち： 月 日

名まえ _____

・ 次の計算を筆算でしましょう。

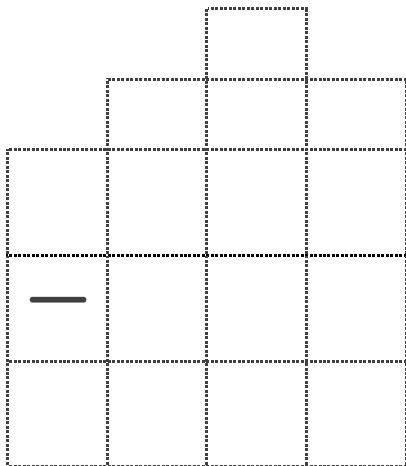
$$\begin{array}{r} \textcircled{1} \quad 207 \\ - \quad \quad 9 \\ \hline \end{array}$$

$$\begin{array}{r} \textcircled{2} \quad 702 \\ - \quad \quad 93 \\ \hline \end{array}$$

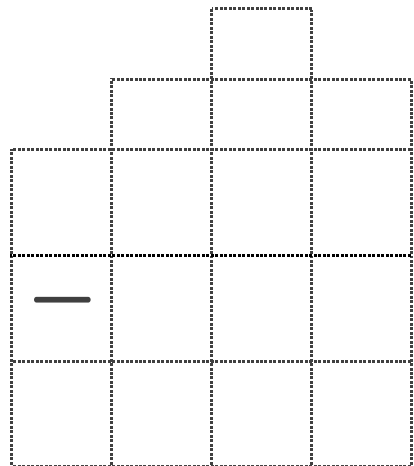
$$\begin{array}{r} \textcircled{3} \quad 800 \\ - \quad \quad 9 \\ \hline \end{array}$$


$$\begin{array}{r} \textcircled{4} \quad 901 \\ - \quad \quad 76 \\ \hline \end{array}$$

$$\textcircled{5} \quad 303 - 66$$



$$\textcircled{6} \quad 404 - 8$$





たし算と
ひき算の筆算 15
● 3けた-2けた
(十の位が0)

10

日にち： 月 日

名まえ _____



・ 次の計算を筆算でしましょう。

$$\begin{array}{r} \textcircled{1} \quad 807 \\ - \quad \quad 9 \\ \hline \end{array}$$

$$\begin{array}{r} \textcircled{2} \quad 701 \\ - \quad \quad 83 \\ \hline \end{array}$$



$$\textcircled{3} \quad 303 - 196$$

$$\textcircled{4} \quad 600 - 5$$



$$\textcircled{5} \quad 905 - 48$$

$$\textcircled{6} \quad 400 - 274$$





たし算と
ひき算の筆算 15

● 3けた - 2けた
(十の位が0)



日にち： 月 日

名まえ _____



・ 次の計算を筆算でしましょう。

$$\begin{array}{r} \textcircled{1} \quad 905 \\ - \quad \quad 6 \\ \hline \end{array}$$

$$\begin{array}{r} \textcircled{2} \quad 804 \\ - \quad \quad 78 \\ \hline \end{array}$$



$$\textcircled{3} \quad 402 - 184$$

$$\textcircled{4} \quad 703 - 9$$



$$\textcircled{5} \quad 205 - 38$$

$$\textcircled{6} \quad 601 - 366$$





たし算と
ひき算の筆算 15

● 3けた-2けた
(十の位が0)

12

日にち： 月 日

名まえ _____

・ 次の計算を筆算でしましょう。

$$\begin{array}{r} \textcircled{1} \quad 201 \\ - \quad 93 \\ \hline \end{array}$$

$$\begin{array}{r} \textcircled{2} \quad 903 \\ - \quad 6 \\ \hline \end{array}$$

$$\textcircled{3} \quad 806 - 477$$

$$\textcircled{4} \quad 802 - 7$$

$$\textcircled{5} \quad 304 - 26$$

$$\textcircled{6} \quad 905 - 559$$

--

--





たし算と
ひき算の筆算 15
● 3けた-2けた
(十の位が0)

13

日にち： 月 日

名まえ _____

・ 次の計算を筆算でしましょう。

$$\begin{array}{r} \textcircled{1} \quad 304 \\ - \quad 85 \\ \hline \end{array}$$

$$\begin{array}{r} \textcircled{2} \quad 405 \\ - \quad \quad 7 \\ \hline \end{array}$$

$$\textcircled{3} \quad 602 - 199$$

$$\textcircled{4} \quad 904 - 8$$

$$\textcircled{5} \quad 402 - 37$$

$$\textcircled{6} \quad 703 - 246$$





たし算と
ひき算の筆算 15

● 3けた-2けた
(十の位が0)

14

日にち： 月 日

名まえ _____



・ 次の計算を筆算でしましょう。

$$\begin{array}{r} \textcircled{1} \quad 403 \\ - \quad 76 \\ \hline \end{array}$$

$$\begin{array}{r} \textcircled{2} \quad 505 \\ - \quad 9 \\ \hline \end{array}$$



$$\textcircled{3} \quad 900 - 386$$

$$\textcircled{4} \quad 302 - 5$$



$$\textcircled{5} \quad 504 - 28$$

$$\textcircled{6} \quad 701 - 533$$





たし算と
ひき算の筆算 15

● 3けた - 2けた
(十の位が0)

15

目指せ90点!



名まえ

・ 次の計算を筆算でしましょう。



(①・②各10点/③~⑥各20点)

$$\begin{array}{r} \textcircled{1} \quad 506 \\ - \quad \quad 8 \\ \hline \end{array}$$

$$\begin{array}{r} \textcircled{2} \quad 301 \\ - \quad \quad 57 \\ \hline \end{array}$$



$$\textcircled{3} \quad 900 - 46$$

$$\textcircled{4} \quad 605 - 499$$



$$\textcircled{5} \quad 702 - 98$$

$$\textcircled{6} \quad 600 - 3$$






たし算と
ひき算の筆算 15

● 3けた - 2けた
(十の位が0)

16

目指せ90点!



名まえ

・ 次の計算を筆算でしましょう。



(①・②各10点/③~⑥各20点)

$$\begin{array}{r} \textcircled{1} \quad 605 \\ - \quad \quad 8 \\ \hline \end{array}$$

$$\begin{array}{r} \textcircled{2} \quad 403 \\ - \quad \quad 47 \\ \hline \end{array}$$



$$\textcircled{3} \quad 902 - 97$$

$$\textcircled{4} \quad 504 - 287$$



$$\textcircled{5} \quad 807 - 79$$

$$\textcircled{6} \quad 703 - 5$$





たし算と
ひき算の筆算 15

● 3けた-2けた
(十の位が0)



日にち： 月 日

名まえ _____

・ 次の計算を筆算でしましょう。(うすい字はなぞりましょう。)

①

		9	
	4	10	10
	5	0	3
-		7	6
	4	2	7

②

		9	
	5	10	10
	6	0	0
-			8
	5	9	2

③

		9	
	7	10	10
	8	0	1
-			3
	7	9	8

④

		9	
	3	10	10
	4	0	0
-		9	2
	3	0	8

⑤

		9	
	8	10	10
	9	0	3
-		1	5
	8	8	8

⑥

		9	
	7	10	10
	8	0	6
-			9
	7	9	7





たし算と
ひき算の筆算 15

● 3けた-2けた
(十の位が0)



日にち： 月 日

名まえ _____

・ 次の計算を筆算でしましょう。(うすい字はなぞりましょう。)

①

		9	
	5	10	10
	6	0	5
-		6	7
	5	3	8

②

		9	
	6	10	10
	7	0	2
-			9
	6	9	3

③

		9	
	8	10	10
	9	0	7
-			8
	8	9	9

④

		9	
	4	10	10
	5	0	1
-		8	4
	4	1	7

⑤

		9	
	7	10	10
	8	0	4
-		3	9
	7	6	5

⑥

		9	
	4	10	10
	5	0	3
-			7
	4	9	6





たし算と
ひき算の筆算 15

● 3けた-2けた
(十の位が0)



日にち： 月 日

名まえ _____

・ 次の計算を筆算でしましょう。(うすい字はなぞりましょう。)

①

		9	
	6	10	10
	7	0	7
-		5	8
	6	4	9

②

		9	
	7	10	10
	8	0	1
-			7
	7	9	4

③

		9	
	6	10	10
	7	0	0
-			9
	6	9	1

④

		9	
	5	10	10
	6	0	3
-		7	5
	5	2	8

⑤

		9	
	8	10	10
	9	0	3
-		2	7
	8	7	6

⑥

		9	
	5	10	10
	6	0	5
-			8
	5	9	7





たし算と
ひき算の筆算 15

● 3けた-2けた
(十の位が0)



日にち： 月 日

名まえ _____

・ 次の計算を筆算でしましょう。(うすい字はなぞりましょう。)

①

		9	
	5	10	10
	6	0	5
-		4	8
	5	5	7

②

		9	
	8	10	10
	9	0	2
-			7
	8	9	5

③

		9	
	7	10	10
	8	0	7
-			9
	7	9	8

④

		9	
	6	10	10
	7	0	3
-		6	4
	6	3	9

⑤

		9	
	1	10	10
	2	0	5
-		1	8
	1	8	7

⑥

		9	
	6	10	10
	7	0	4
-			6
	6	9	8





たし算と
ひき算の筆算 15

● 3けた-2けた
(十の位が0)



日にち： 月 日

名まえ _____

・ 次の計算を筆算でしましょう。(うすい字はなぞりましょう。)

$$\begin{array}{r} 5 \cancel{0} 10 \\ \textcircled{1} \quad \cancel{6} \cancel{0} 4 \\ - 3 9 \\ \hline 5 6 5 \end{array}$$

$$\begin{array}{r} 2 \cancel{0} 10 \\ \textcircled{2} \quad \cancel{3} \cancel{0} 0 \\ - 6 \\ \hline 2 9 4 \end{array}$$

$$\begin{array}{r} 3 \cancel{0} 10 \\ \textcircled{3} \quad \cancel{4} \cancel{0} 1 \\ - 9 5 \\ \hline 3 0 6 \end{array}$$

$$\begin{array}{r} 4 \cancel{0} 10 \\ \textcircled{4} \quad \cancel{5} \cancel{0} 3 \\ - 8 \\ \hline 4 9 5 \end{array}$$

⑤ 602 - 4

		9	
	5	0	10
	6	0	2
-			4
	5	9	8

⑥ 800 - 96

		9	
	7	0	10
	8	0	0
-		9	6
	7	0	4





たし算と
ひき算の筆算 15

● 3けた-2けた
(十の位が0)



日にち： 月 日

名まえ _____

・ 次の計算を筆算でしましょう。(うすい字はなぞりましょう。)

$$\begin{array}{r} \textcircled{1} \quad \begin{array}{r} 9 \\ 6 \cancel{10} 10 \\ \cancel{7} \cancel{0} 2 \\ - 2 6 \\ \hline 6 7 6 \end{array} \end{array}$$

$$\begin{array}{r} \textcircled{2} \quad \begin{array}{r} 9 \\ 3 \cancel{10} 10 \\ \cancel{4} \cancel{0} 1 \\ - 6 \\ \hline 3 9 5 \end{array} \end{array}$$

$$\begin{array}{r} \textcircled{3} \quad \begin{array}{r} 9 \\ 4 \cancel{10} 10 \\ \cancel{5} \cancel{0} 2 \\ - 7 5 \\ \hline 4 2 7 \end{array} \end{array}$$

$$\begin{array}{r} \textcircled{4} \quad \begin{array}{r} 9 \\ 5 \cancel{10} 10 \\ \cancel{6} \cancel{0} 3 \\ - 7 \\ \hline 5 9 6 \end{array} \end{array}$$

⑤ 706 - 7

		9	
	6	10	10
	7	0	6
-			7
	6	9	9

⑥ 904 - 89

		9	
	8	10	10
	9	0	4
-		8	9
	8	1	5



たし算と
ひき算の筆算 15

● 3けた-2けた
(十の位が0)



日にち： 月 日

名まえ _____

・ 次の計算を筆算でしましょう。

$$\begin{array}{r} 9 \\ 7 \cancel{10} 10 \\ \textcircled{1} \quad \cancel{8} \cancel{0} 3 \\ - 7 \\ \hline 7 \ 9 \ 6 \end{array}$$

$$\begin{array}{r} 9 \\ 4 \cancel{10} 10 \\ \textcircled{2} \quad \cancel{5} \cancel{0} 5 \\ - 3 \ 8 \\ \hline 4 \ 6 \ 7 \end{array}$$

$$\begin{array}{r} 9 \\ 5 \cancel{10} 10 \\ \textcircled{3} \quad \cancel{6} \cancel{0} 1 \\ - 3 \\ \hline 5 \ 9 \ 8 \end{array}$$

$$\begin{array}{r} 9 \\ 6 \cancel{10} 10 \\ \textcircled{4} \quad \cancel{7} \cancel{0} 2 \\ - 9 \ 3 \\ \hline 6 \ 0 \ 9 \end{array}$$

⑤ 803 - 88

		9	
	7	10	10
	8	0	3
-		8	8
	7	1	5

⑥ 200 - 6

		9	
	1	10	10
	2	0	0
-			6
	1	9	4





たし算と
ひき算の筆算 15

● 3けた-2けた
(十の位が0)



日にち： 月 日

名まえ _____

・ 次の計算を筆算でしましょう。

$$\begin{array}{r} 9 \\ 8 \cancel{0} 10 \\ \textcircled{1} \quad \cancel{7} \cancel{0} 5 \\ - 8 \\ \hline 8 \ 9 \ 7 \end{array}$$

$$\begin{array}{r} 9 \\ 5 \cancel{0} 10 \\ \textcircled{2} \quad \cancel{6} \cancel{0} 2 \\ - 5 \ 4 \\ \hline 5 \ 4 \ 8 \end{array}$$

$$\begin{array}{r} 9 \\ 6 \cancel{0} 10 \\ \textcircled{3} \quad \cancel{7} \cancel{0} 4 \\ - 5 \\ \hline 6 \ 9 \ 9 \end{array}$$

$$\begin{array}{r} 9 \\ 7 \cancel{0} 10 \\ \textcircled{4} \quad \cancel{8} \cancel{0} 3 \\ - 8 \ 9 \\ \hline 7 \ 1 \ 4 \end{array}$$

⑤ 201 - 75

		9	
	1	0	10
	2	0	1
-		7	5
	1	2	6

⑥ 303 - 8

		9	
	2	0	10
	3	0	3
-			8
	2	9	5





たし算と
ひき算の筆算 15

● 3けた-2けた
(十の位が0)



日にち： 月 日

名まえ _____

・ 次の計算を筆算でしましょう。

$$\begin{array}{r} \textcircled{1} \quad \begin{array}{r} \\ \cancel{10} \\ \cancel{2} \cancel{0} 7 \\ - 9 \\ \hline 1 8 \end{array} \end{array}$$

$$\begin{array}{r} \textcircled{2} \quad \begin{array}{r} \\ \cancel{10} \\ \cancel{7} \cancel{0} 2 \\ - 9 \\ \hline 6 9 \end{array} \end{array}$$

$$\begin{array}{r} \textcircled{3} \quad \begin{array}{r} \\ \cancel{10} \\ \cancel{8} \cancel{0} 0 \\ - 9 \\ \hline 7 1 \end{array} \end{array}$$

$$\begin{array}{r} \textcircled{4} \quad \begin{array}{r} \\ \cancel{10} \\ \cancel{9} \cancel{0} 1 \\ - 7 \\ \hline 8 4 \end{array} \end{array}$$

⑤ 303 - 66

		9	
	2	10	10
	3	0	3
-		6	6
	2	3	7

⑥ 404 - 8

		9	
	3	10	10
	4	0	4
-			8
	3	9	6





たし算と
ひき算の筆算 15

● 3けた-2けた
(十の位が0)



日にち： 月 日

名まえ _____

・ 次の計算を筆算でしましょう。

$$\begin{array}{r} 9 \\ 7 \cancel{0} 10 \\ \textcircled{1} \quad \cancel{8} \cancel{0} 7 \\ - 9 \\ \hline 7 \ 9 \ 8 \end{array}$$

$$\begin{array}{r} 9 \\ 6 \cancel{0} 10 \\ \textcircled{2} \quad \cancel{7} \cancel{0} 1 \\ - 8 \ 3 \\ \hline 6 \ 1 \ 8 \end{array}$$

③ 303 - 196

	9		
	2	$\cancel{0} 10$	
	$\cancel{3}$	$\cancel{0}$	3
-	1	9	6
	1	0	7

④ 600 - 5

	9		
	5	$\cancel{0} 10$	
	$\cancel{6}$	$\cancel{0}$	0
-			5
	5	9	5


⑤ 905 - 48

	9		
	8	$\cancel{0} 10$	
	$\cancel{9}$	$\cancel{0}$	5
-		4	8
	8	5	7

⑥ 400 - 274

	9		
	3	$\cancel{0} 10$	
	$\cancel{4}$	$\cancel{0}$	0
-	2	7	4
	1	2	6





たし算と ひき算の筆算 15

● 3けた - 2けた
(十の位が0)



日にち： 月 日

名まえ _____

・ 次の計算を筆算でしましょう。

$$\begin{array}{r} 9 \\ 8 \cancel{0} 10 \\ \textcircled{1} \quad \cancel{9} \cancel{0} 5 \\ - 6 \\ \hline 8 \ 9 \ 9 \end{array}$$

$$\begin{array}{r} 9 \\ 7 \cancel{0} 10 \\ \textcircled{2} \quad \cancel{8} \cancel{0} 4 \\ - 7 \ 8 \\ \hline 7 \ 2 \ 6 \end{array}$$

③ 402 - 184

	3	0	10
	4	0	2
-	1	8	4
	2	1	8

④ 703 - 9

	6	0	10
	7	0	3
-			9
	6	9	4

⑤ 205 - 38

	1	0	10
	2	0	5
-		3	8
	1	6	7

⑥ 601 - 366

	5	0	10
	6	0	1
-	3	6	6
	2	3	5





たし算と
ひき算の筆算 15

● 3けた-2けた
(十の位が0)

12

日にち： 月 日

名まえ _____

・ 次の計算を筆算でしましょう。

①

$$\begin{array}{r} 9 \\ 1 \cancel{0} 10 \\ \cancel{2} \cancel{0} 1 \\ - 9 3 \\ \hline 1 0 8 \end{array}$$

②

$$\begin{array}{r} 9 \\ 8 \cancel{0} 10 \\ \cancel{9} \cancel{0} 3 \\ - 6 \\ \hline 8 9 7 \end{array}$$

③ 806 - 477

$$\begin{array}{r} 9 \\ 7 \cancel{0} 10 \\ \cancel{8} \cancel{0} 6 \\ - 4 7 7 \\ \hline 3 2 9 \end{array}$$

④ 802 - 7

$$\begin{array}{r} 9 \\ 7 \cancel{0} 10 \\ \cancel{8} \cancel{0} 2 \\ - 7 \\ \hline 7 9 5 \end{array}$$

⑤ 304 - 26

$$\begin{array}{r} 9 \\ 2 \cancel{0} 10 \\ \cancel{3} \cancel{0} 4 \\ - 2 6 \\ \hline 2 7 8 \end{array}$$

⑥ 905 - 559

$$\begin{array}{r} 9 \\ 8 \cancel{0} 10 \\ \cancel{9} \cancel{0} 5 \\ - 5 5 9 \\ \hline 3 4 6 \end{array}$$





たし算と
ひき算の筆算 15

● 3けた-2けた
(十の位が0)



日にち： 月 日

名まえ _____

・ 次の計算を筆算でしましょう。

$$\begin{array}{r} 9 \\ 2 \cancel{0} 10 \\ \textcircled{1} \quad \cancel{3} \cancel{0} 4 \\ - 8 5 \\ \hline 2 1 9 \end{array}$$

$$\begin{array}{r} 9 \\ 3 \cancel{0} 10 \\ \textcircled{2} \quad \cancel{4} \cancel{0} 5 \\ - 7 \\ \hline 3 9 8 \end{array}$$

$$\textcircled{3} \quad 602 - 199$$

	5	9	10
	6	0	2
-	1	9	9
<hr/>			
	4	0	3

$$\textcircled{4} \quad 904 - 8$$

	8	9	10
	9	0	4
-			8
<hr/>			
	8	9	6

$$\textcircled{5} \quad 402 - 37$$

	3	9	10
	4	0	2
-		3	7
<hr/>			
	3	6	5

$$\textcircled{6} \quad 703 - 246$$

	6	9	10
	7	0	3
-	2	4	6
<hr/>			
	4	5	7





たし算と
ひき算の筆算 15

● 3けた-2けた
(十の位が0)

14

日にち： 月 日

名まえ _____

・ 次の計算を筆算でしましょう。

$$\begin{array}{r} 9 \\ 3 \cancel{0} 10 \\ \textcircled{1} \quad \cancel{4} \cancel{0} 3 \\ - 7 6 \\ \hline 3 2 7 \end{array}$$

$$\begin{array}{r} 9 \\ 4 \cancel{0} 10 \\ \textcircled{2} \quad \cancel{5} \cancel{0} 5 \\ - 9 \\ \hline 4 9 6 \end{array}$$

③ 900 - 386

	8	9	10
	9	0	0
-	3	8	6
	5	1	4

④ 302 - 5

	2	3	10
	3	0	2
-			5
	2	9	7

⑤ 504 - 28

	4	5	10
	5	0	4
-		2	8
	4	7	6

⑥ 701 - 533

	6	7	10
	7	0	1
-	5	3	3
	1	6	8





たし算と
ひき算の筆算 15

● 3けた - 2けた
(十の位が0)

15

目指せ90点!



名まえ

・ 次の計算を筆算でしましょう。

(①・②各10点/③~⑥各20点)

①

$$\begin{array}{r} 4 10 \\ \cancel{5} \cancel{0} 6 \\ - 8 \\ \hline 4 9 8 \end{array}$$

②

$$\begin{array}{r} 2 10 \\ \cancel{3} \cancel{0} 1 \\ - 5 7 \\ \hline 2 4 4 \end{array}$$

③ $900 - 46$

$$\begin{array}{r} 8 10 \\ \cancel{9} \cancel{0} 0 \\ - 4 6 \\ \hline 8 5 4 \end{array}$$

④ $605 - 499$

$$\begin{array}{r} 5 10 \\ \cancel{6} \cancel{0} 5 \\ - 4 9 9 \\ \hline 1 0 6 \end{array}$$

⑤ $702 - 98$

$$\begin{array}{r} 6 10 \\ \cancel{7} \cancel{0} 2 \\ - 9 8 \\ \hline 6 0 4 \end{array}$$

⑥ $600 - 3$

$$\begin{array}{r} 5 10 \\ \cancel{6} \cancel{0} 0 \\ - 3 \\ \hline 5 9 7 \end{array}$$





たし算と
ひき算の筆算 15

● 3けた-2けた
(十の位が0)

16

目指せ90点!



名まえ

・次の計算を筆算でしましょう。

(①・②各10点/③~⑥各20点)

①

$$\begin{array}{r} 9 \\ 5 \cancel{0} 10 \\ \cancel{6} \cancel{0} 5 \\ - 8 \\ \hline 5 \ 9 \ 7 \end{array}$$

②

$$\begin{array}{r} 9 \\ 3 \cancel{0} 10 \\ \cancel{4} \cancel{0} 3 \\ - 4 \ 7 \\ \hline 3 \ 5 \ 6 \end{array}$$

③ 902 - 97

$$\begin{array}{r} 9 \\ 8 \cancel{0} 10 \\ \cancel{9} \cancel{0} 2 \\ - 9 \ 7 \\ \hline 8 \ 0 \ 5 \end{array}$$

④ 504 - 287

$$\begin{array}{r} 9 \\ 4 \cancel{0} 10 \\ \cancel{5} \cancel{0} 4 \\ - 2 \ 8 \ 7 \\ \hline 2 \ 1 \ 7 \end{array}$$

⑤ 807 - 79

$$\begin{array}{r} 9 \\ 7 \cancel{0} 10 \\ \cancel{8} \cancel{0} 7 \\ - 7 \ 9 \\ \hline 7 \ 2 \ 8 \end{array}$$

⑥ 703 - 5

$$\begin{array}{r} 9 \\ 6 \cancel{0} 10 \\ \cancel{7} \cancel{0} 3 \\ - 5 \\ \hline 6 \ 9 \ 8 \end{array}$$

