



ぼうグラフと表 3

● 表をぼうグラフに表そう



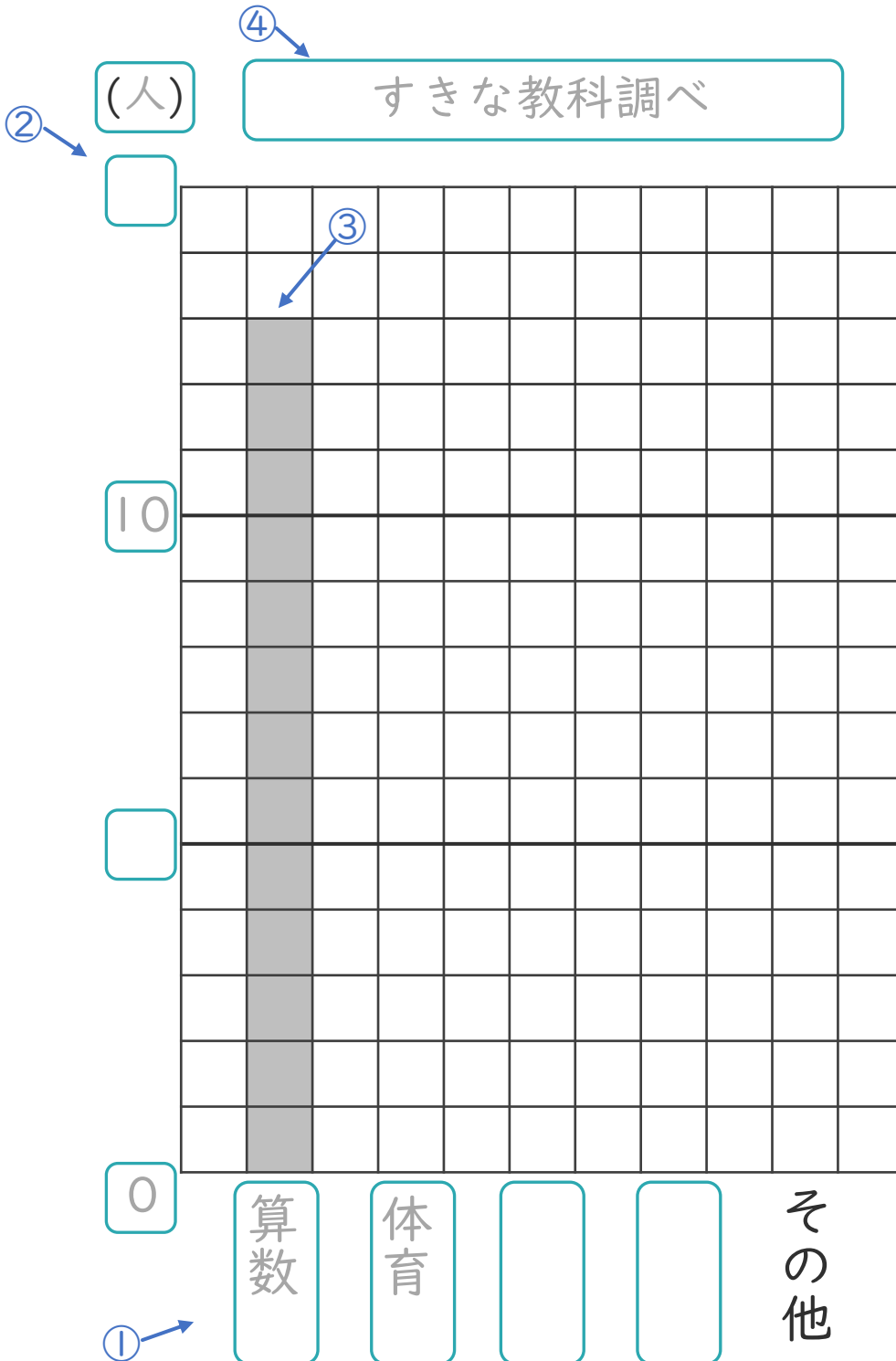
日にち： 月 日

名まえ _____

・ 次の表を、ぼうグラフに表しましょう。(うすい字はなぞりましょう。)

すきな教科調べ

場所	算数	体育	図工	音楽	その他	合計
人数(人)	13	7	5	3	2	30



① 横のじくにしゅるいを書く。

② たてのじくのメモリの数とたんいを書く。

いちばん多い数が表せるようにしよう!

③ 数にあわせてぼうを書く。

ひょうだい
④ 表題を書く。





ぼうグラフと表 3

● 表をぼうグラフに表そう



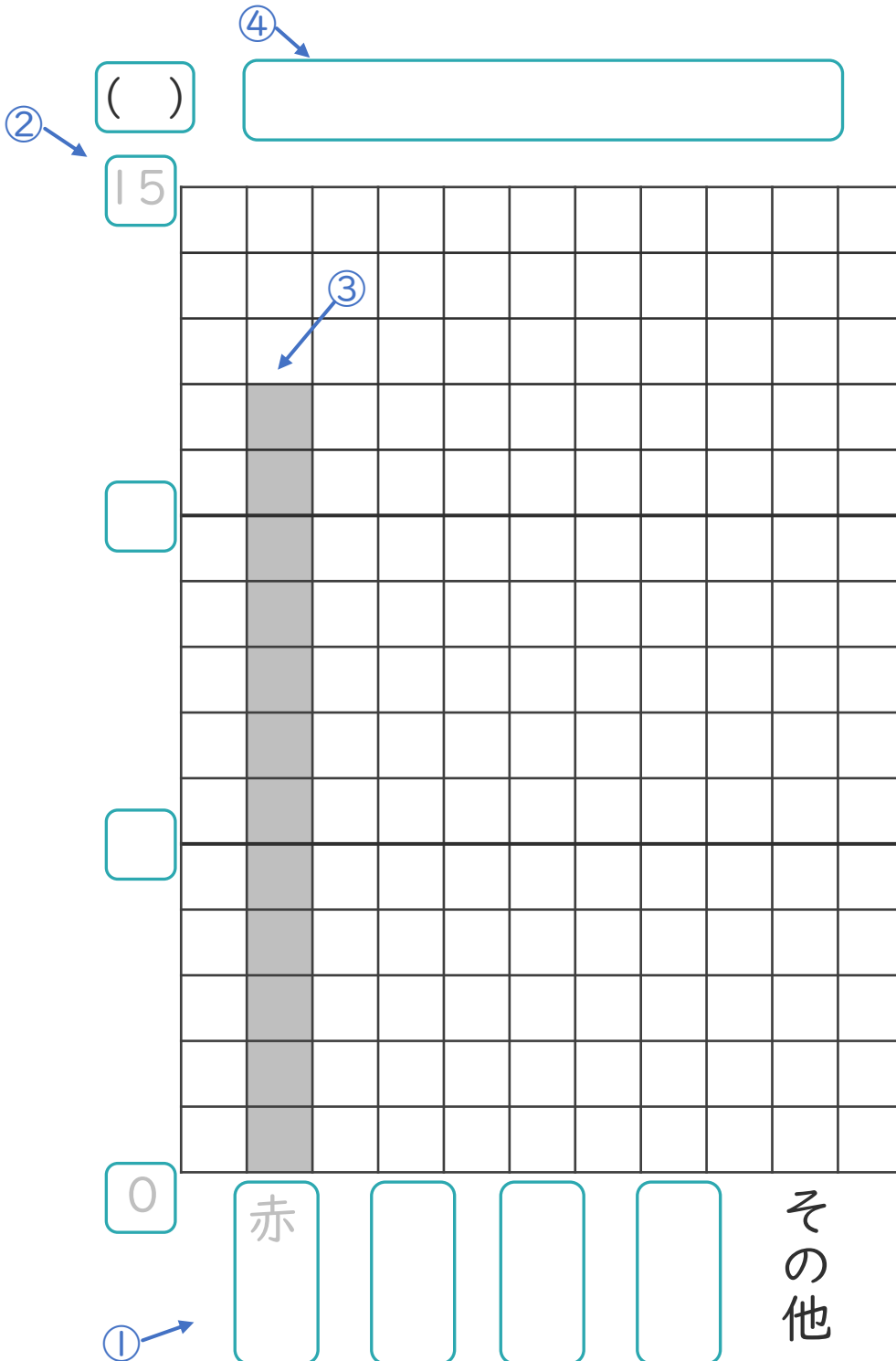
日にち： 月 日

名まえ _____

・ 次の表を、ぼうグラフに表しましょう。(うすい字はなぞりましょう。)

すきな色調べ

色	赤	青	黄色	緑	その他	合計
人数(人)	12	7	6	3	5	33



① 横のじくに
しゅるいを書く。

② たてのじくの
メモリの数と
たんいを書く。

いちばん多い数が
表せるようにしよう！

③ 数にあわせて
ぼうを書く。

④ 表題を書く。





ぼうグラフと表 3

● 表をぼうグラフに表そう



日にち： 月 日

名まえ _____

・ 次の表を、ぼうグラフに表しましょう。(うすい字はなぞりましょう。)

すきな教科調べ

教科	体育	算数	図工	理科	その他	合計
人数(人)	11	7	5	2	6	31

④

()

②

③

①

① 横のじくに
しゅるいを書く。

② たてのじくの
メモリの数と
たんいを書く。

いちばん多い数が
表せるようにしよう！

③ 数にあわせて
ぼうを書く。

④ 表題を書く。





ぼうグラフと表 3

● 表をぼうグラフに表そう



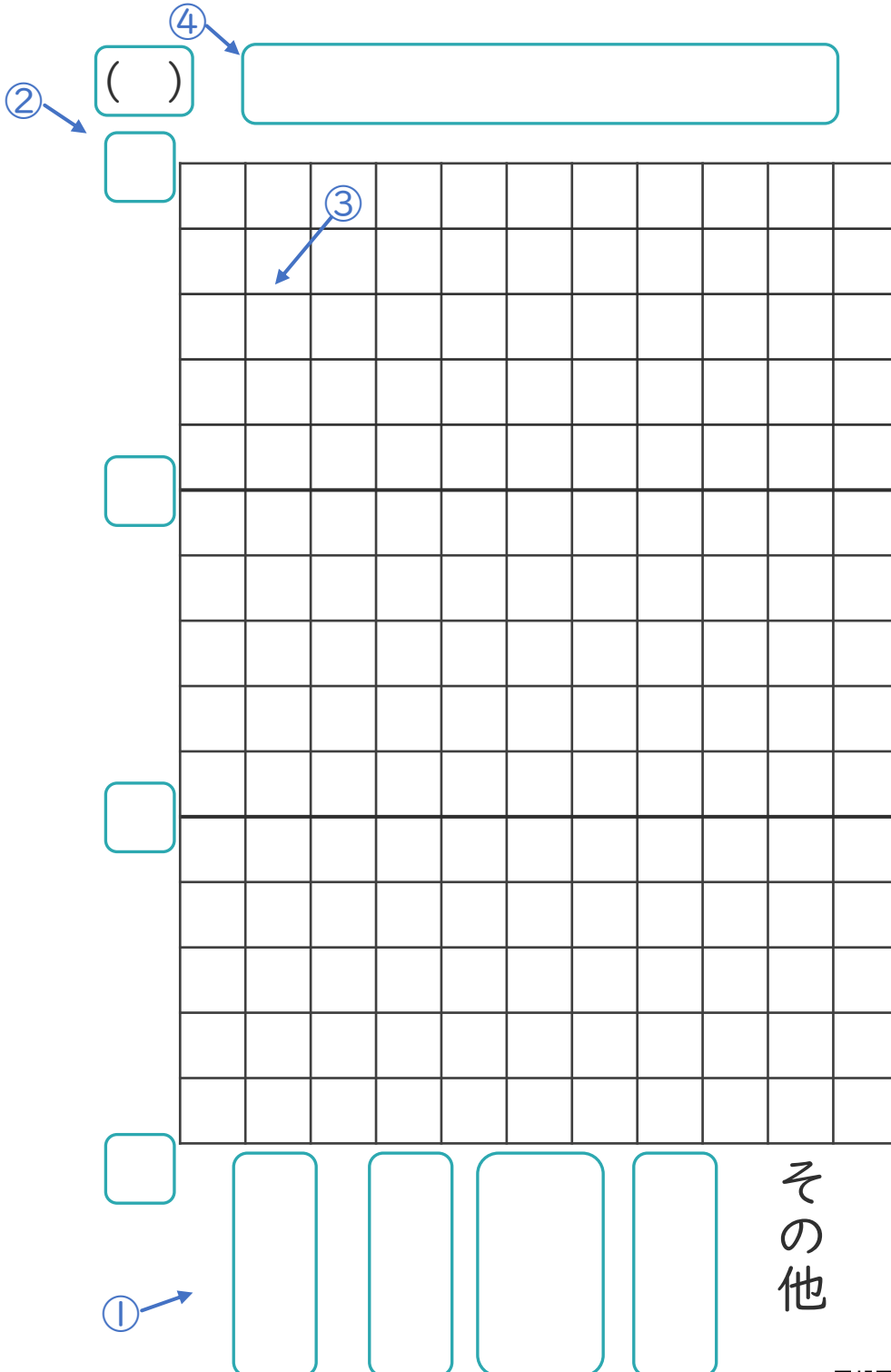
日にち： 月 日

名まえ _____

・ 次の表を、ぼうグラフに表しましょう。

すきなスポーツ調べ


スポーツ	サッカー	野球	ドッジボール	テニス	その他	合計
人数(人)	13	7	4	3	5	32



① 横のじくに
しゅるいを書く。

② たてのじくの
メモリの数と
たんいを書く。

いちばん多い数が
表せるようにしよう！



③ 数にあわせて
ぼうを書く。

④ 表題を書く。





ぼうグラフと表 3

● 表をぼうグラフに表そう



日にち： 月 日


名まえ _____

・ 次の表を、ぼうグラフに表しましょう。

すきな色調べ

色	青	赤	黄色	ピンク	その他	合計
人数(人)	14	10	5	2	3	34

()





ぼうグラフと表 3

● 表をぼうグラフに表そう



日にち： 月 日


名まえ _____

・ 次の表を、ぼうグラフに表しましょう。

すきな教科調べ

教科	図工	算数	国語	体育	その他	合計
人数(人)	12	8	4	3	5	32

()





ぼうグラフと表 3

● 表をぼうグラフに表そう



日にち： 月 日


名まえ _____

・ 次の表を、ぼうグラフに表しましょう。

すきなスポーツ調べ

スポーツ	野球	サッカー	ドッジボール	テニス	その他	合計
人数(人)	11	9	5	2	4	31

()





ぼうグラフと表 3

● 表をぼうグラフに表そう



日にち： 月 日


名まえ _____

・ 次の表を、ぼうグラフに表しましょう。

すきな動物調べ

場所	ねこ	パンダ	うさぎ	キリン	その他	合計
人数(人)	14	8	3	1	4	30

()





ぼうグラフと表 3

● 表をぼうグラフに表そう



日にち： 月 日


名まえ _____

・ 次の表を、ぼうグラフに表しましょう。

すきな教科調べ

教科	体育	算数	図工	音楽	その他	合計
人数(人)	12	8	4	3	3	30

()





ぼうグラフと表 3

● 表をぼうグラフに表そう



日にち： 月 日


名まえ _____

・ 次の表を、ぼうグラフに表しましょう。

すきな色調べ

色	黄色	赤	青	緑	その他	合計
人数(人)	13	9	5	2	3	32

()





ぼうグラフと表 3

● 表をぼうグラフに表そう

12

日にち： 月 日


名まえ _____

・ 次の表を、ぼうグラフに表しましょう。

すきなスポーツ調べ

スポーツ	サッカー	野球	バレー ボール	テニス	その他	合計
人数(人)	14	9	4	3	2	32

()





ぼうグラフと表 3

● 表をぼうグラフに表そう

13

日にち： 月 日


名まえ _____

・ 次の表を、ぼうグラフに表しましょう。

すきなデザート調べ

場所	プリン	ケーキ	ゼリー	クレープ	その他	合計
人数(人)	13	9	4	2	3	31

()





ぼうグラフと表 3

● 表をぼうグラフに表そう



日にち： 月 日


名まえ _____

・ 次の表を、ぼうグラフに表しましょう。

すきな教科調べ

教科	国語	算数	音楽	体育	その他	合計
人数(人)	11	9	5	4	3	32

()





ぼうグラフと表 3

● 表をぼうグラフに表そう

15

めざせ100点!




名まえ _____

・ 次の表を、ぼうグラフに表しましょう。(100点)

すきな色調べ

色	赤	青	黄色	緑	その他	合計
人数(人)	11	8	7	4	5	35

()






ぼうグラフと表 3

● 表をぼうグラフに表そう

16

めざせ100点!




名まえ _____

・ 次の表を、ぼうグラフに表しましょう。(100点)

すきな動物調べ

教科	犬	ねこ	うさぎ	パンダ	その他	合計
人数(人)	14	10	5	2	3	34

()





ぼうグラフと表 3

● 表をぼうグラフに表そう



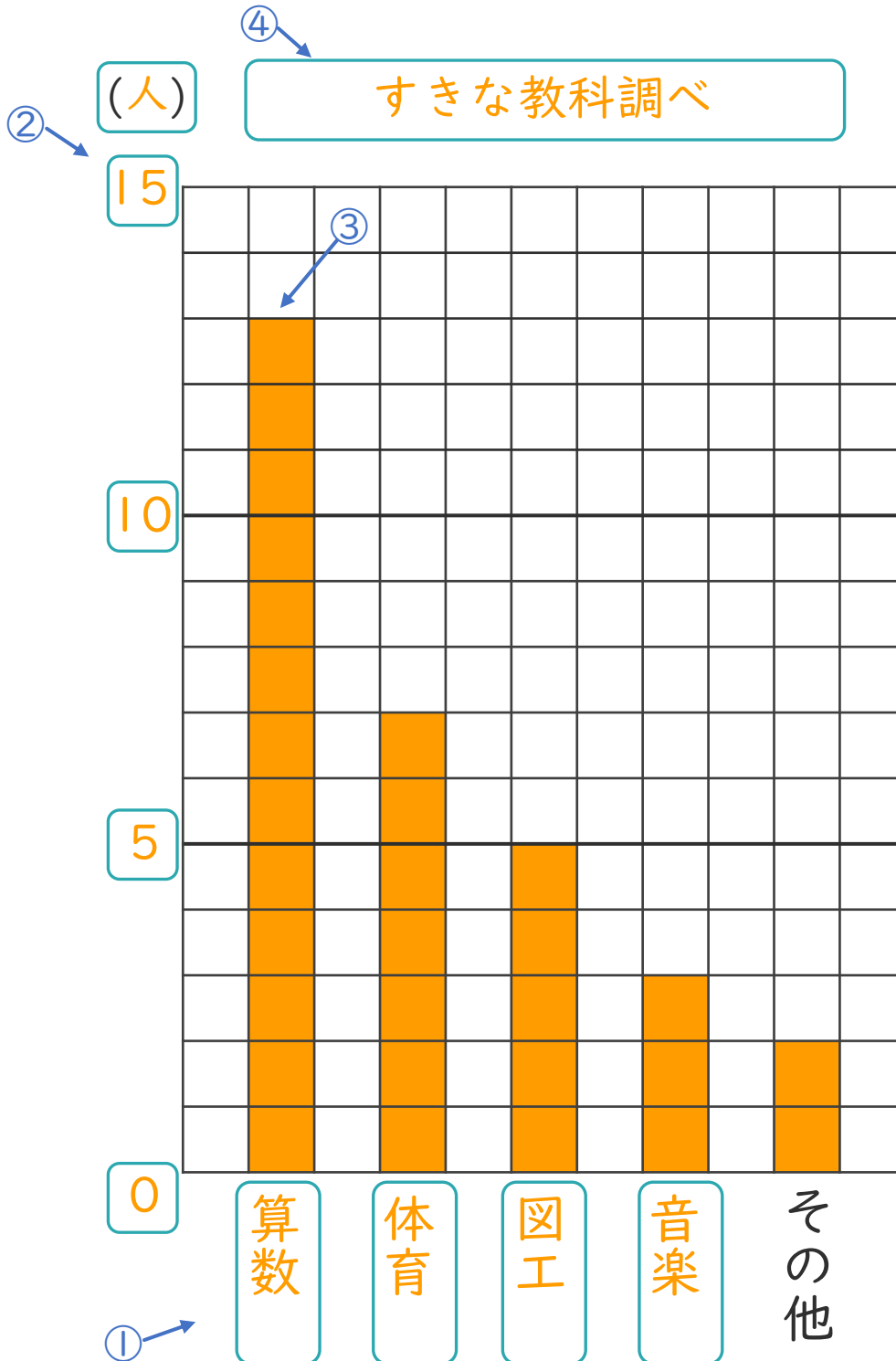
日にち： 月 日

名まえ _____

・ 次の表を、ぼうグラフに表しましょう。(うすい字はなぞりましょう。)

すきな教科調べ

場所	算数	体育	図工	音楽	その他	合計
人数(人)	13	7	5	3	2	30



① 横のじくに
しゅるいを書く。

② たてのじくの
メモリの数と
たんいを書く。

いちばん多い数が
表せるようにしよう!



③ 数にあわせて
ぼうを書く。

ひょうだい
④ 表題を書く。





ぼうグラフと表 3

● 表をぼうグラフに表そう



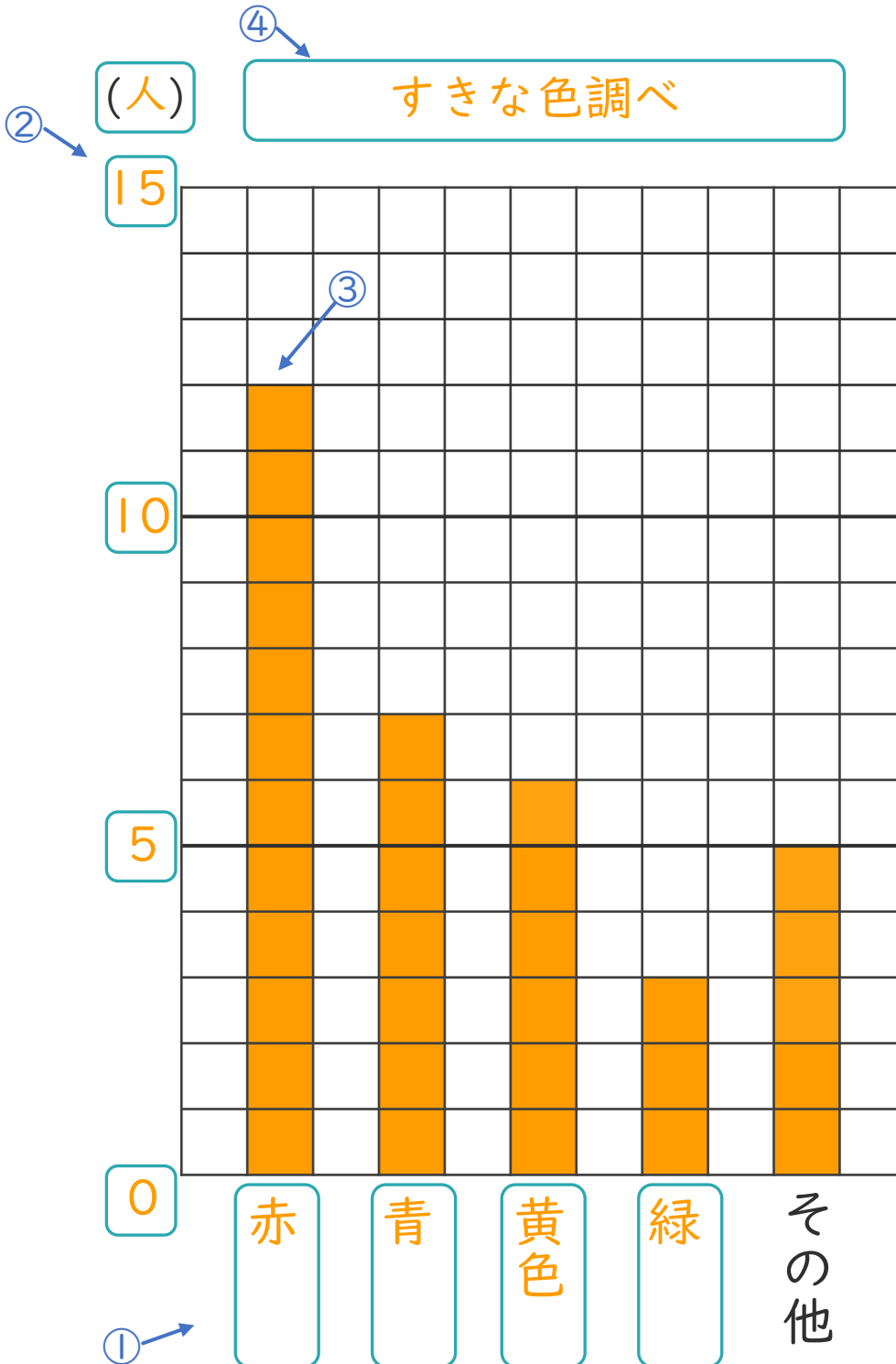
日にち： 月 日

名まえ _____

・ 次の表を、ぼうグラフに表しましょう。(うすい字はなぞりましょう。)

すきな色調べ

色	赤	青	黄色	緑	その他	合計
人数(人)	12	7	6	3	5	33



① 横のじくにしゅるいを書く。

② たてのじくのメモリの数とたんいを書く。

いちばん多い数が表せるようにしよう!



③ 数にあわせてぼうを書く。

④ 表題を書く。





ぼうグラフと表 3

● 表をぼうグラフに表そう



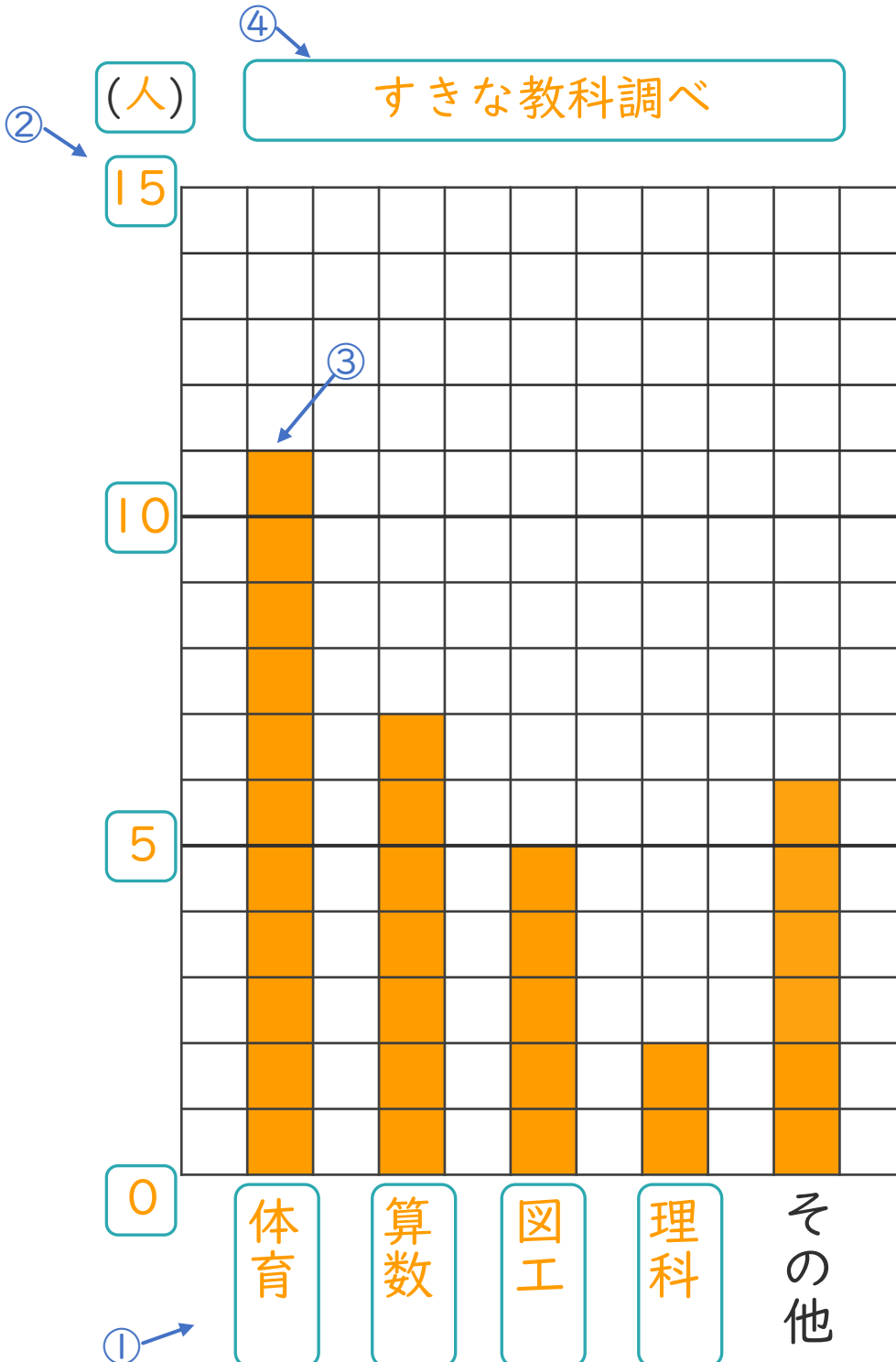
日にち： 月 日

名まえ _____

・ 次の表を、ぼうグラフに表しましょう。(うすい字はなぞりましょう。)

すきな教科調べ

教科	体育	算数	図工	理科	その他	合計
人数(人)	11	7	5	2	6	31



① 横のじくにしゅるいを書く。

② たてのじくのメモリの数とたんいを書く。

いちばん多い数が表せるようにしよう!



③ 数にあわせてぼうを書く。

④ 表題を書く。





ぼうグラフと表 3

● 表をぼうグラフに表そう

4

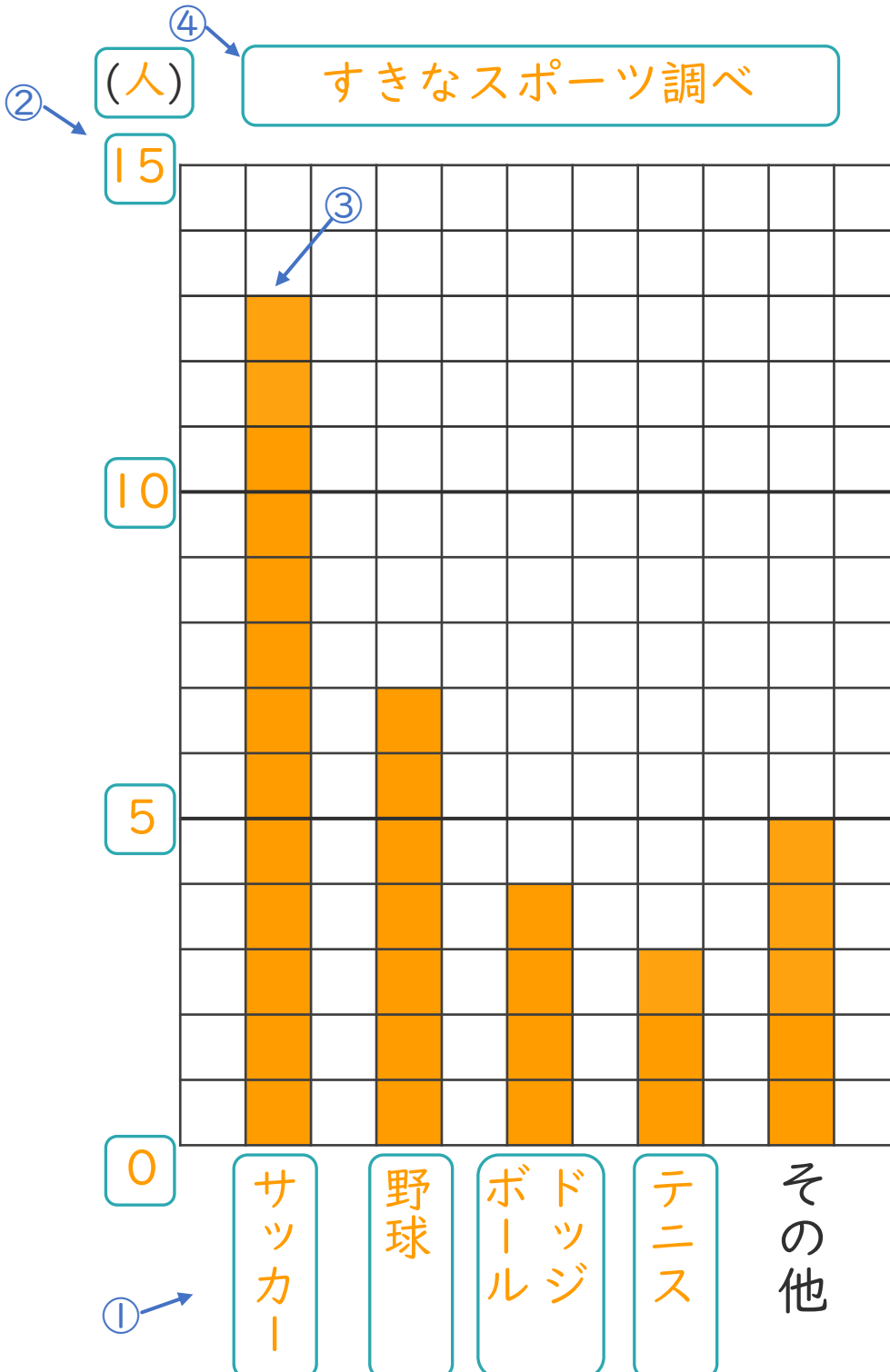
日にち： 月 日

名まえ _____

・ 次の表を、ぼうグラフに表しましょう。

すきなスポーツ調べ

スポーツ	サッカー	野球	ドッジボール	テニス	その他	合計
人数(人)	13	7	4	3	5	32



① 横のじくにしゅるいを書く。

② たてのじくのメモリの数とたんいを書く。

いちばん多い数が表せるようにしよう!



③ 数にあわせてぼうを書く。

④ 表題を書く。





ぼうグラフと表 3

● 表をぼうグラフに表そう



日にち： 月 日

名まえ _____

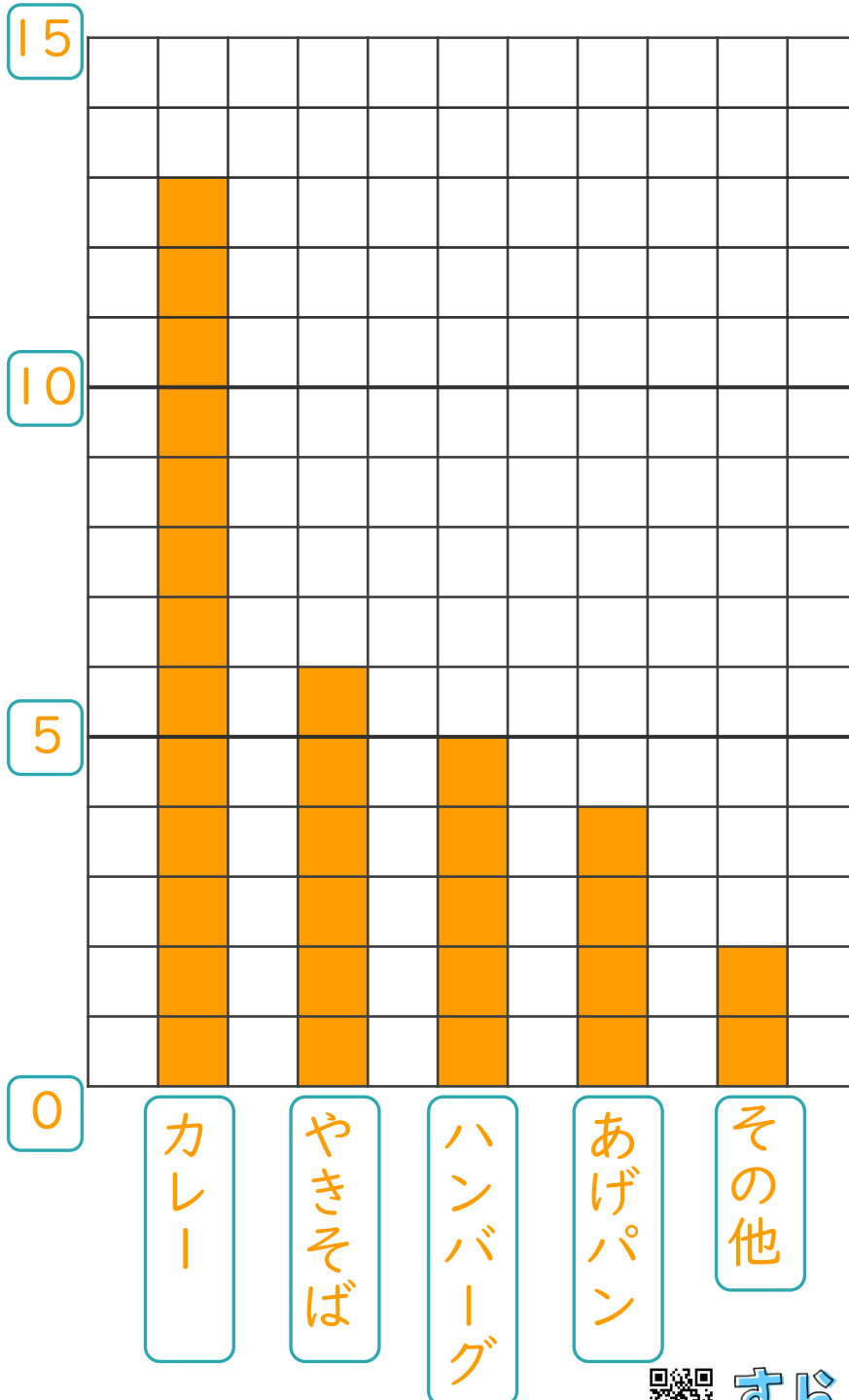
・ 次の表を、ぼうグラフに表しましょう。(うすい字はなぞりましょう。)

すきな給食のメニュー調べ

場所	カレー	やきそば	ハンバーグ	あげパン	その他	合計
人数(人)	13	6	5	4	2	30

(人)

すきな給食のメニュー調べ





ぼうグラフと表 3

◎ 表をぼうグラフに表そう



日にち： 月 日

名まえ _____

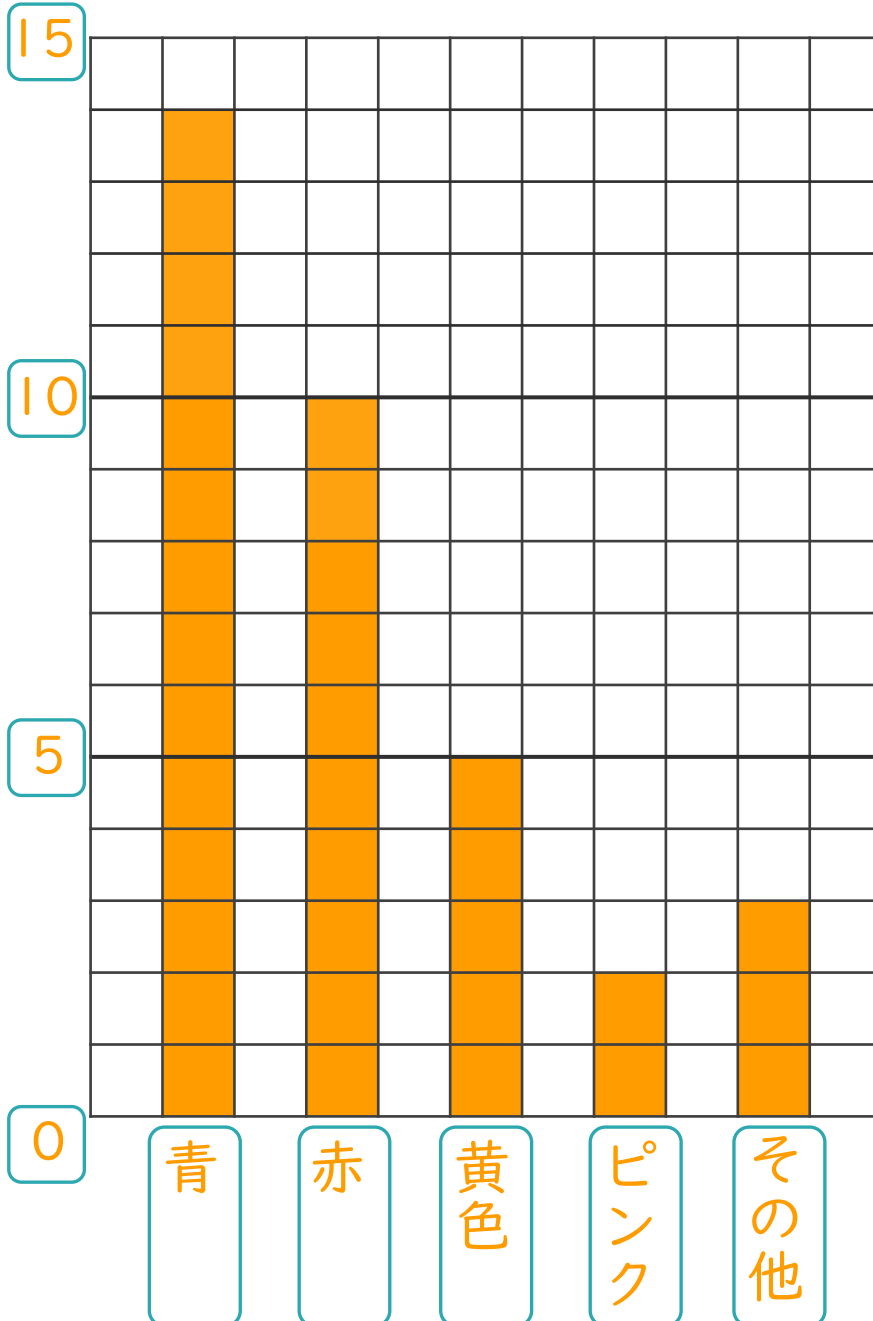
・ 次の表を、ぼうグラフに表しましょう。

すきな色調べ

色	青	赤	黄色	ピンク	その他	合計
人数(人)	14	10	5	2	3	34

(人)

すきな色調べ





ぼうグラフと表 3

● 表をぼうグラフに表そう



日にち： 月 日

名まえ _____

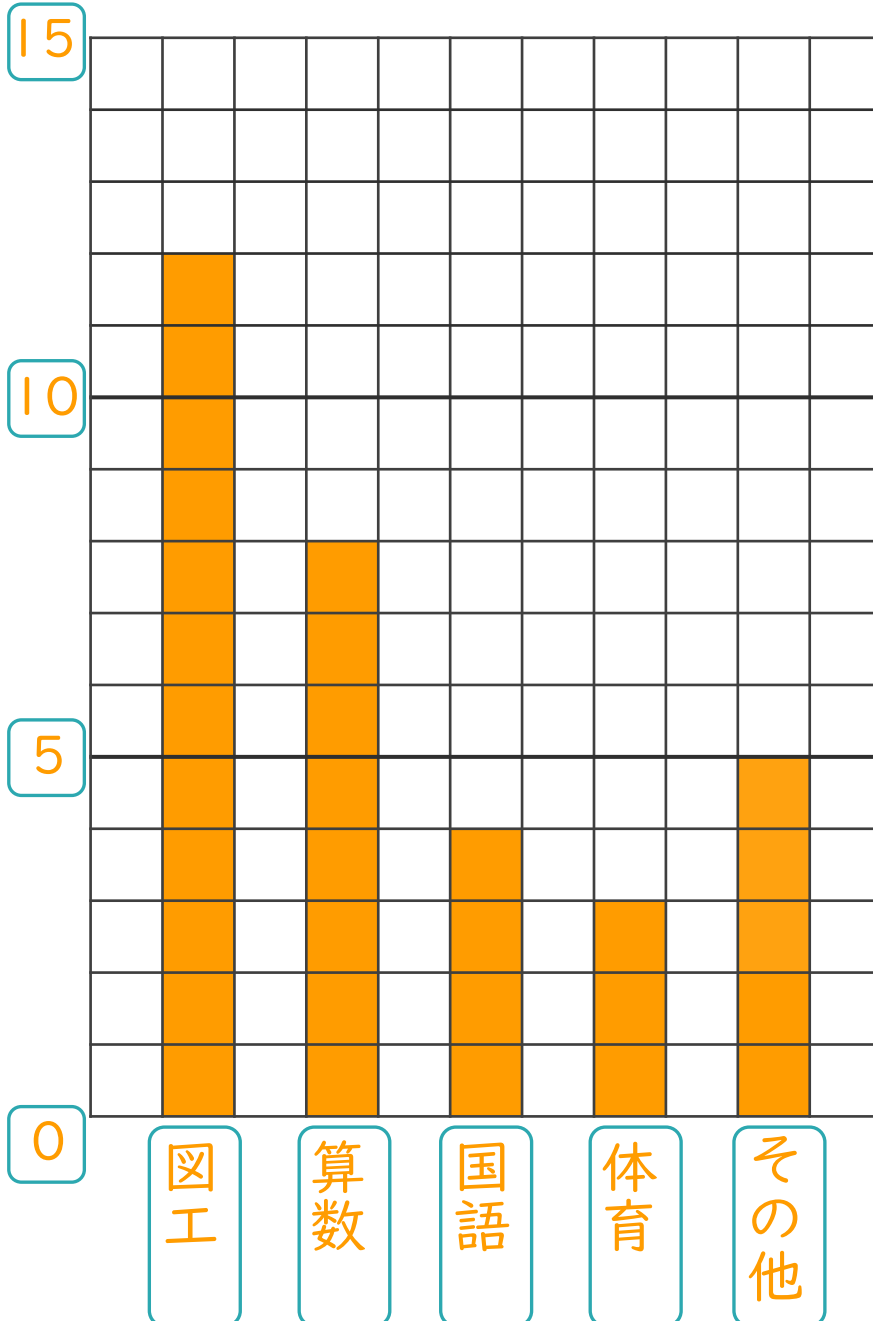
・ 次の表を、ぼうグラフに表しましょう。

すきな教科調べ

教科	図工	算数	国語	体育	その他	合計
人数(人)	12	8	4	3	5	32

(人)

すきな教科調べ





ぼうグラフと表 3

● 表をぼうグラフに表そう



日にち： 月 日

名まえ _____

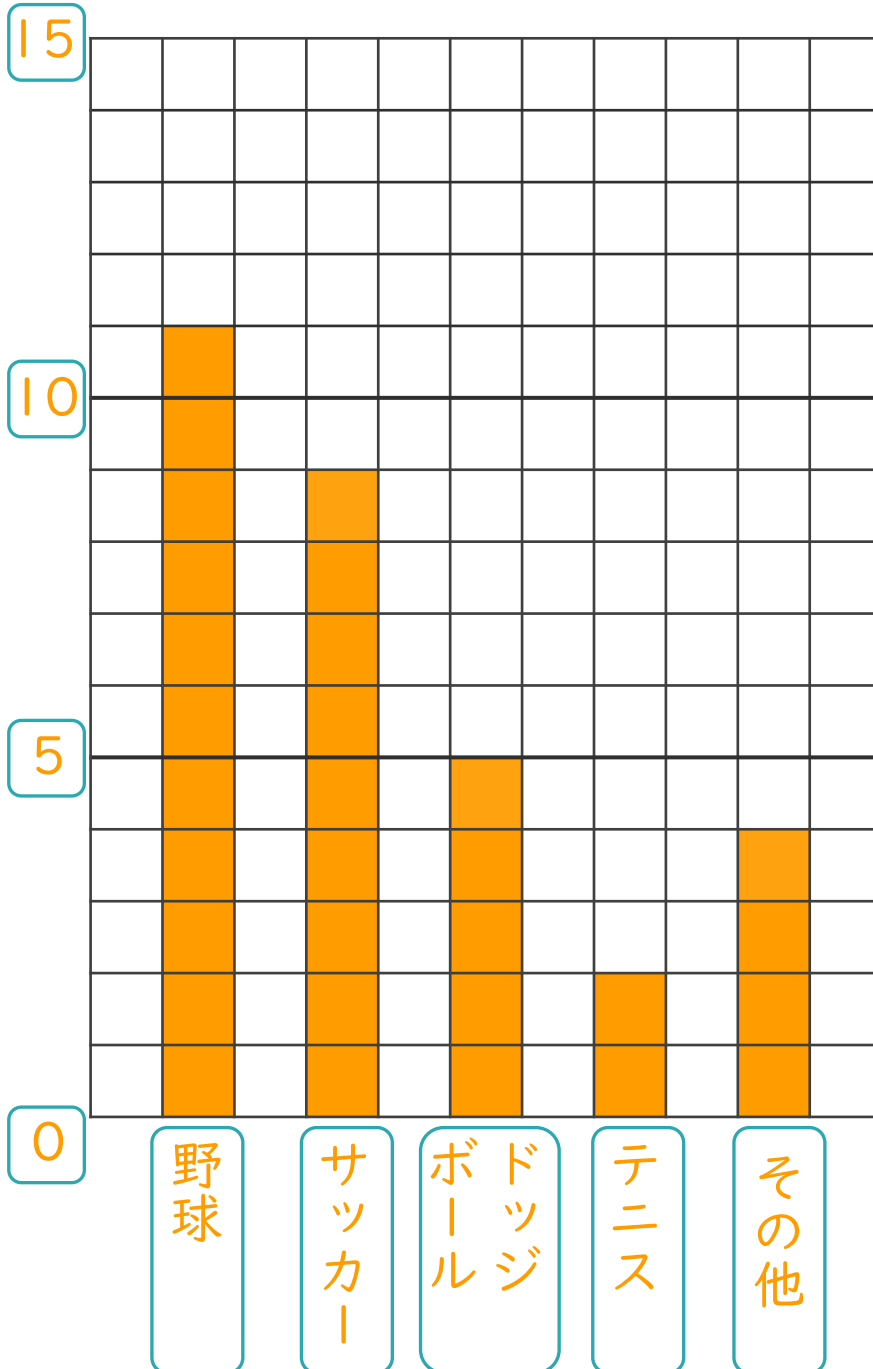
・ 次の表を、ぼうグラフに表しましょう。

すきなスポーツ調べ

スポーツ	野球	サッカー	ドッジボール	テニス	その他	合計
人数(人)	11	9	5	2	4	31

(人)

すきなスポーツ調べ





ぼうグラフと表 3

● 表をぼうグラフに表そう



日にち： 月 日

名まえ _____

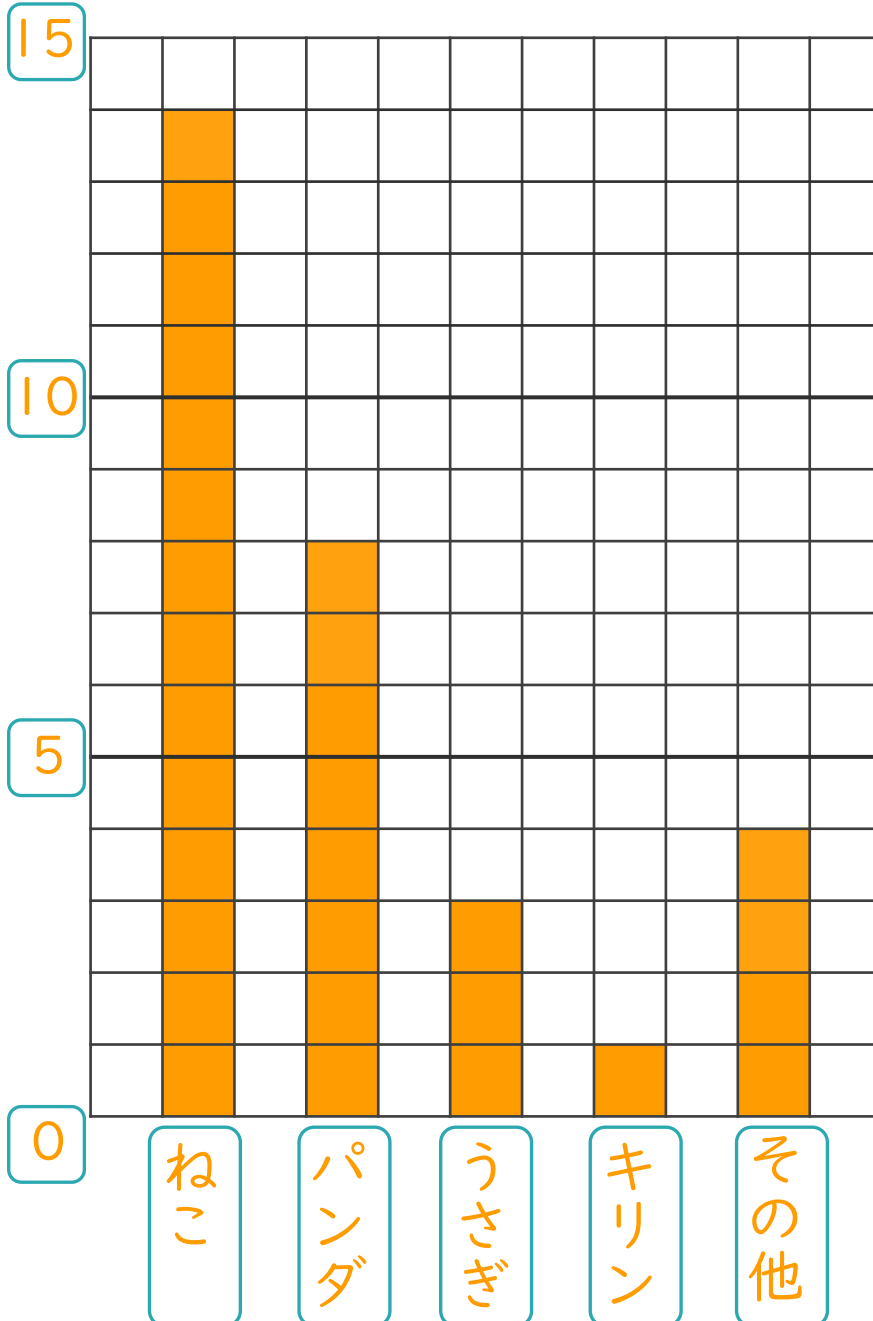
・ 次の表を、ぼうグラフに表しましょう。

すきな動物調べ

場所	ねこ	パンダ	うさぎ	キリン	その他	合計
人数(人)	14	8	3	1	4	30

(人)

すきな動物調べ





ぼうグラフと表 3

● 表をぼうグラフに表そう



日にち： 月 日

名まえ _____

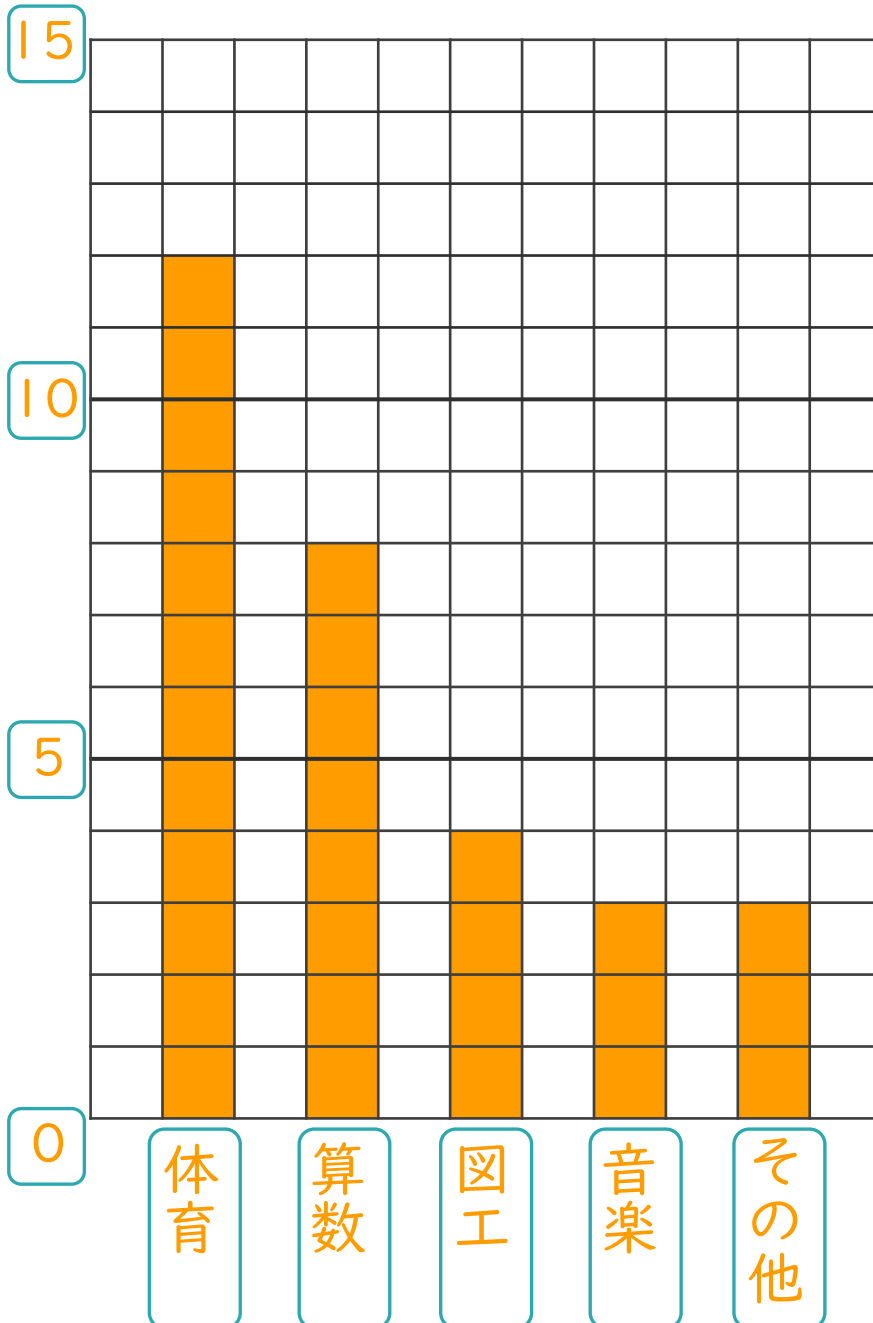
・ 次の表を、ぼうグラフに表しましょう。

すきな教科調べ

教科	体育	算数	図工	音楽	その他	合計
人数(人)	12	8	4	3	3	30

(人)

すきな教科調べ





ぼうグラフと表 3

● 表をぼうグラフに表そう



日にち： 月 日

名まえ _____

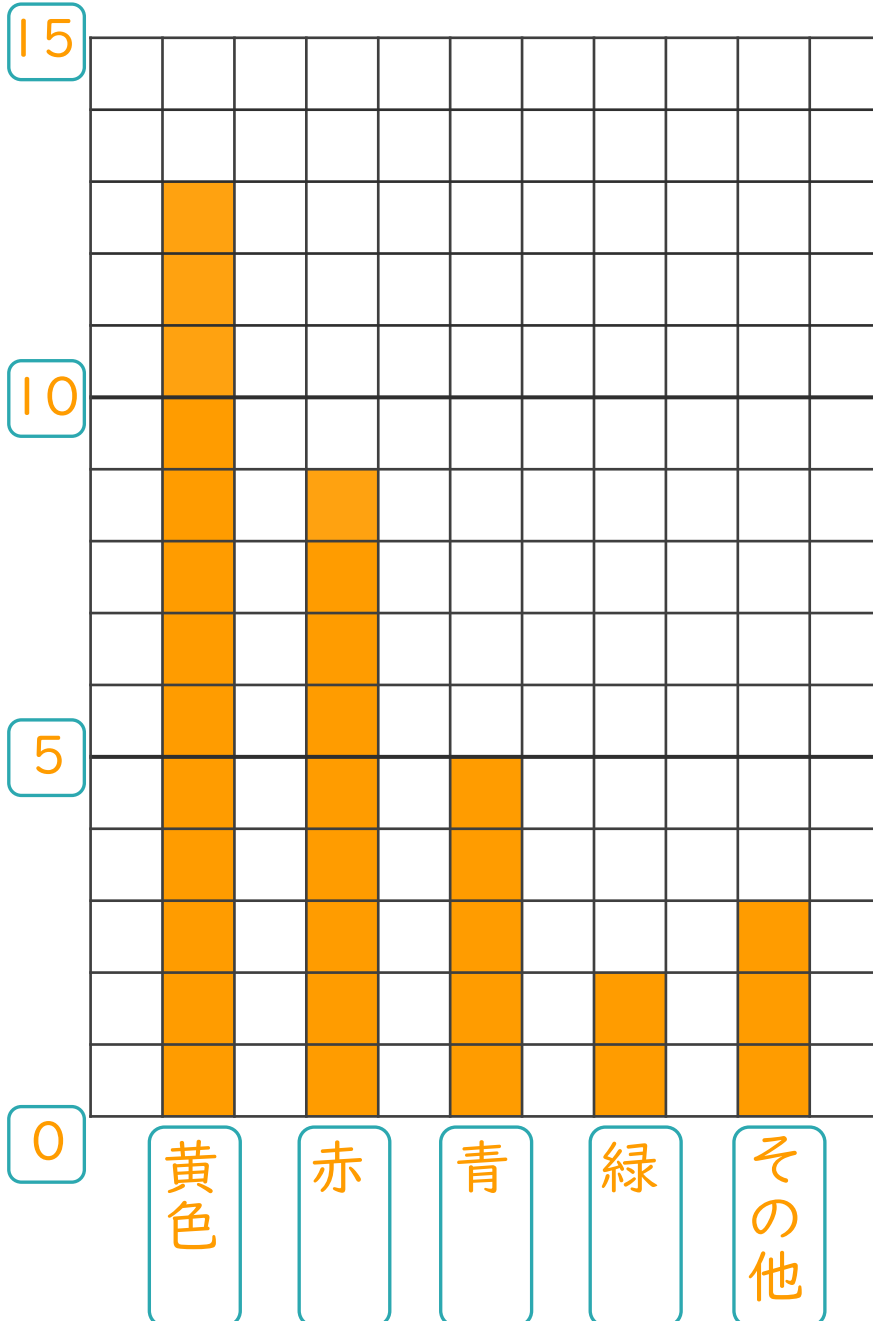
・ 次の表を、ぼうグラフに表しましょう。

すきな色調べ

色	黄色	赤	青	緑	その他	合計
人数(人)	13	9	5	2	3	32

(人)

すきな色調べ





ぼうグラフと表 3

● 表をぼうグラフに表そう

12

日にち： 月 日

名まえ _____

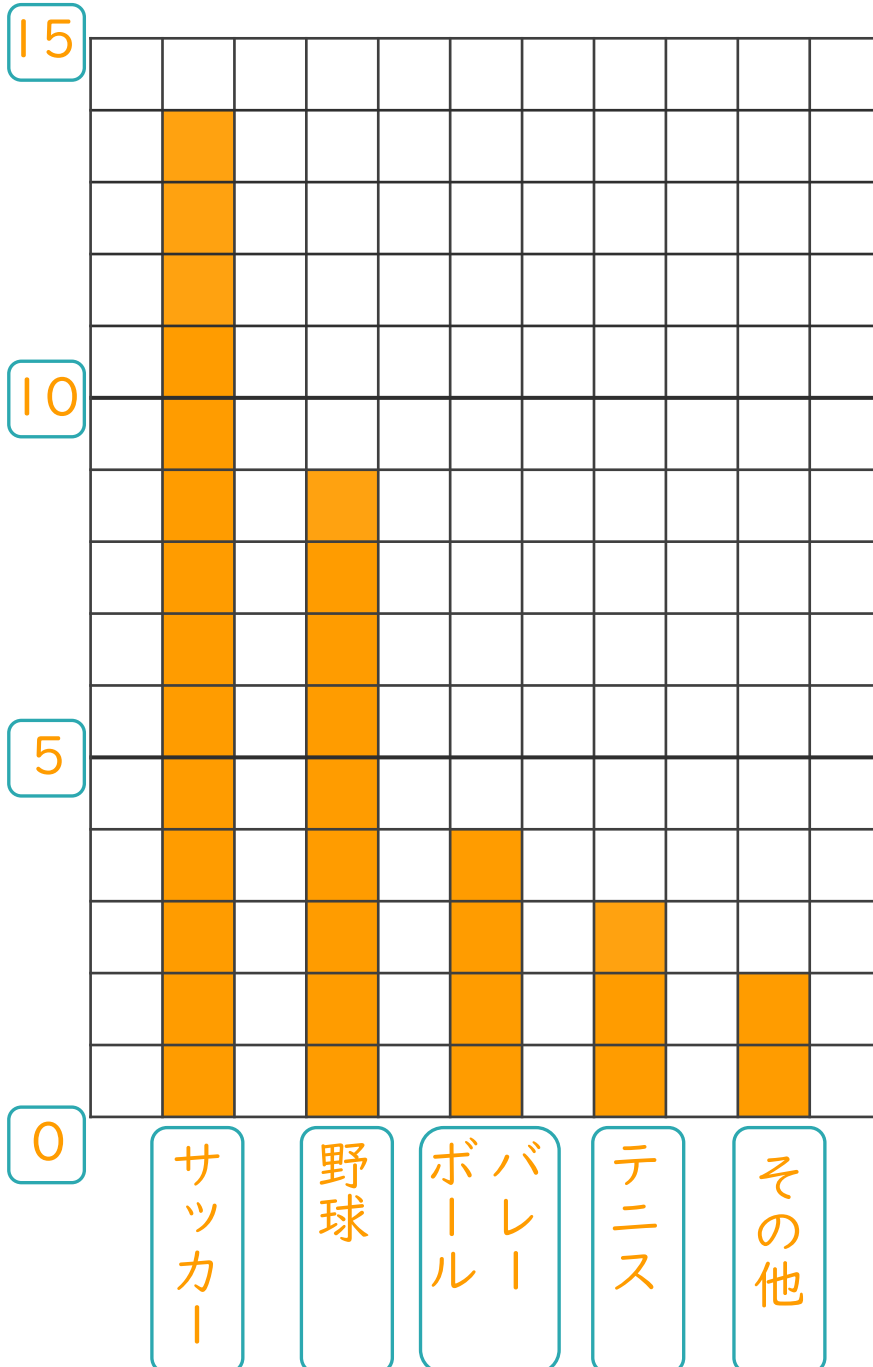
・ 次の表を、ぼうグラフに表しましょう。

すきなスポーツ調べ

スポーツ	サッカー	野球	バレーボール	テニス	その他	合計
人数(人)	14	9	4	3	2	32

(人)

すきなスポーツ調べ





ぼうグラフと表 3

● 表をぼうグラフに表そう

13

日にち： 月 日

名まえ _____

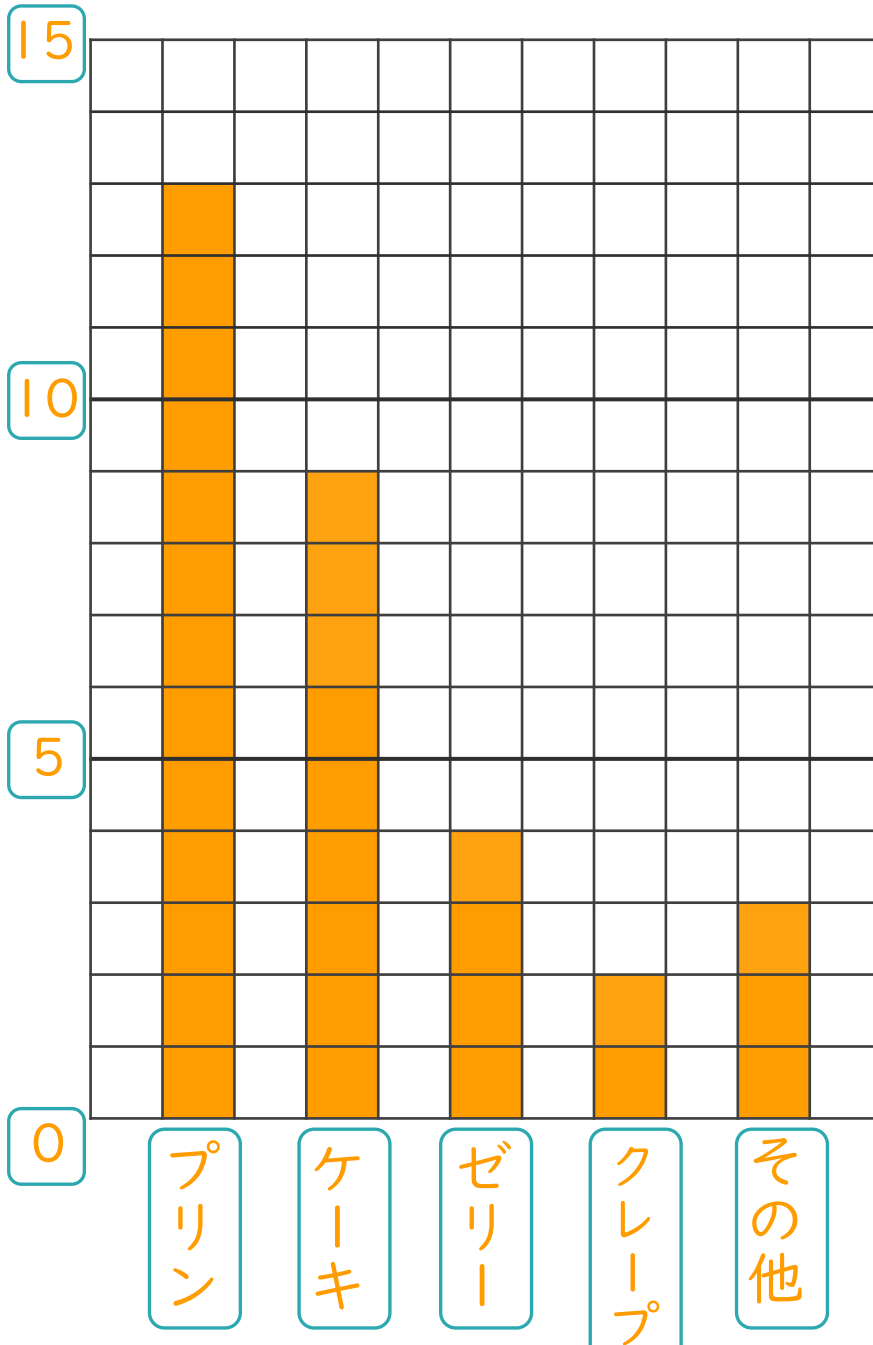
・ 次の表を、ぼうグラフに表しましょう。

すきなデザート調べ

場所	プリン	ケーキ	ゼリー	クレープ	その他	合計
人数(人)	13	9	4	2	3	31

(人)

すきなデザート調べ





ぼうグラフと表 3

● 表をぼうグラフに表そう

14

日にち： 月 日

名まえ _____

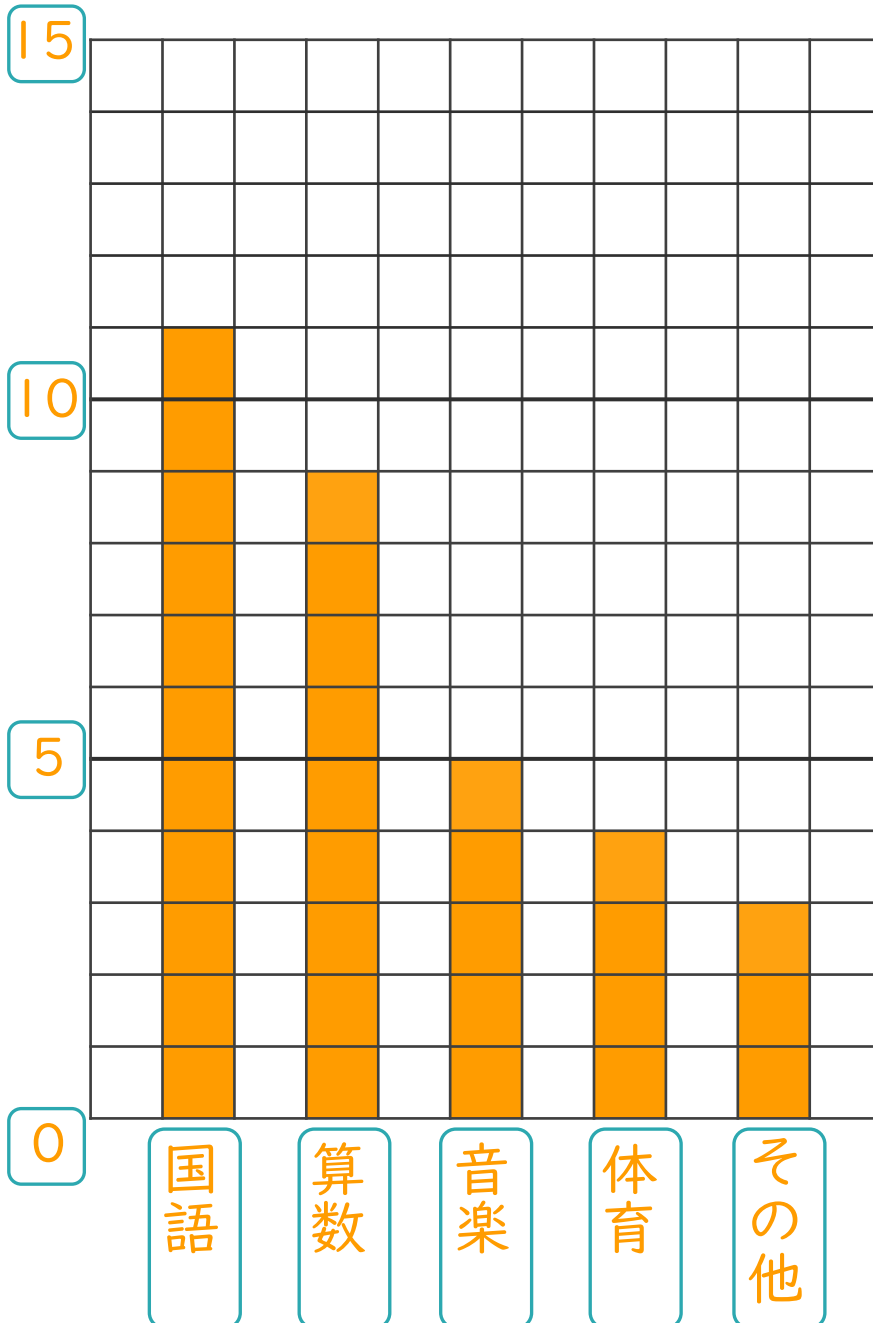
・ 次の表を、ぼうグラフに表しましょう。

すきな教科調べ

教科	国語	算数	音楽	体育	その他	合計
人数(人)	11	9	5	4	3	32

(人)

すきな教科調べ





ぼうグラフと表 3

● 表をぼうグラフに表そう

15

めざせ100点!



名まえ _____

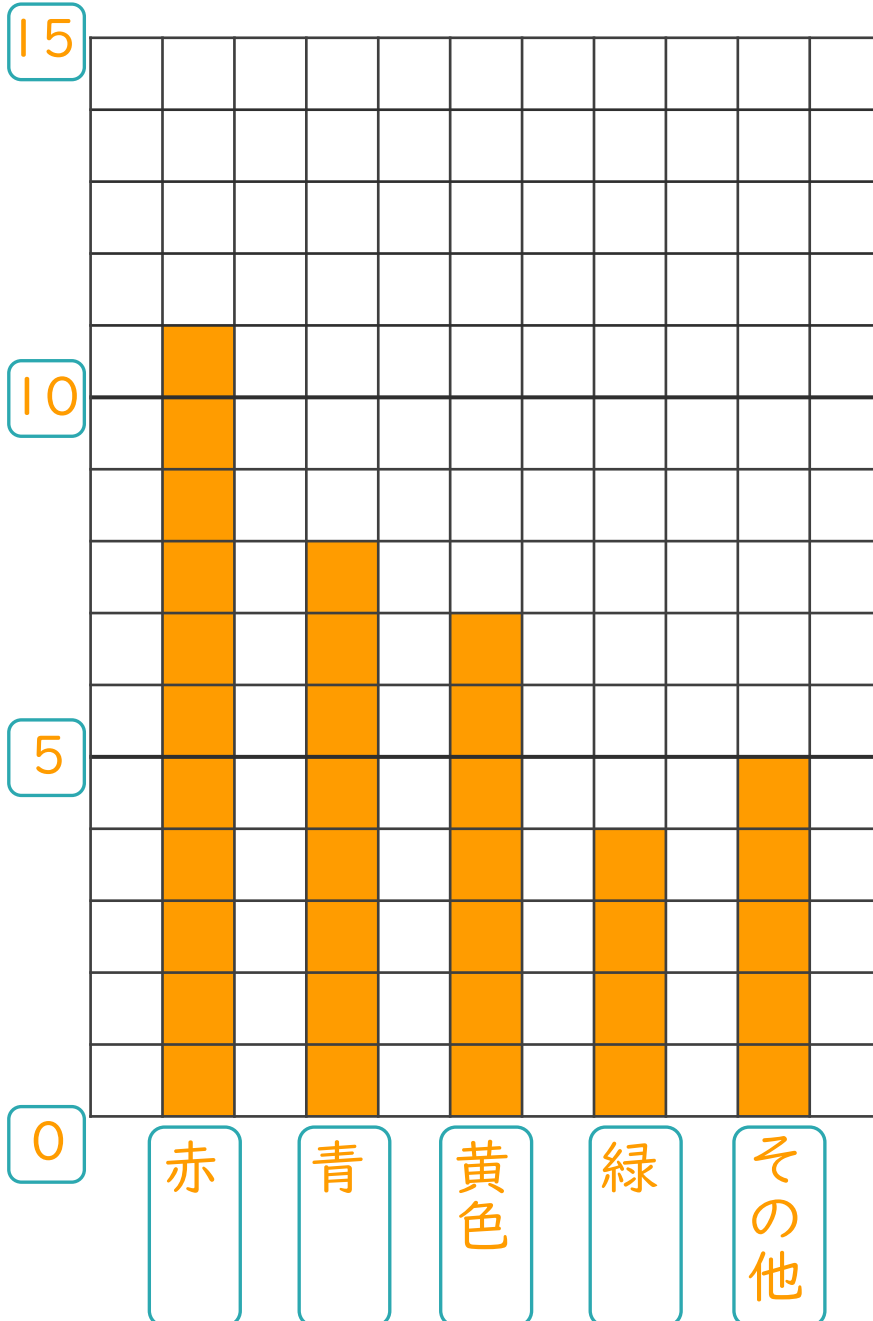
・ 次の表を、ぼうグラフに表しましょう。(100点)

すきな色調べ

色	赤	青	黄色	緑	その他	合計
人数(人)	11	8	7	4	5	35

(人)

すきな色調べ





ぼうグラフと表 3

● 表をぼうグラフに表そう

16

めざせ100点!



名まえ _____

・ 次の表を、ぼうグラフに表しましょう。(100点)

すきな動物調べ

教科	犬	ねこ	うさぎ	パンダ	その他	合計
人数(人)	14	10	5	2	3	34

(人)

すきな動物調べ

