



ぼうグラフと表4

◎ ぼうグラフを
横にして表そう

3

日にち： 月 日

名まえ _____

- ・ ぼうグラフは、ぼうを横にして表すこともできます。
下の表をぼうグラフに表しましょう。(うすい字はなぞりましょう。)


本をかりた人

0 5 10 (人)

本をかりた人

曜日	人数 (人)
月	8
火	9
水	11
木	10
金	7

月



- ① たてじくりに曜日を書きましょう。
- ② 表題をグラフの上に書きましょう。
- ③ ぼうをかき入れて、グラフを仕上げましょう。
- ④ 本をかりた人がいちばん多いのは、何曜日ですか。

[]





ぼうグラフと表 4

● ぼうグラフを
横にして表そう

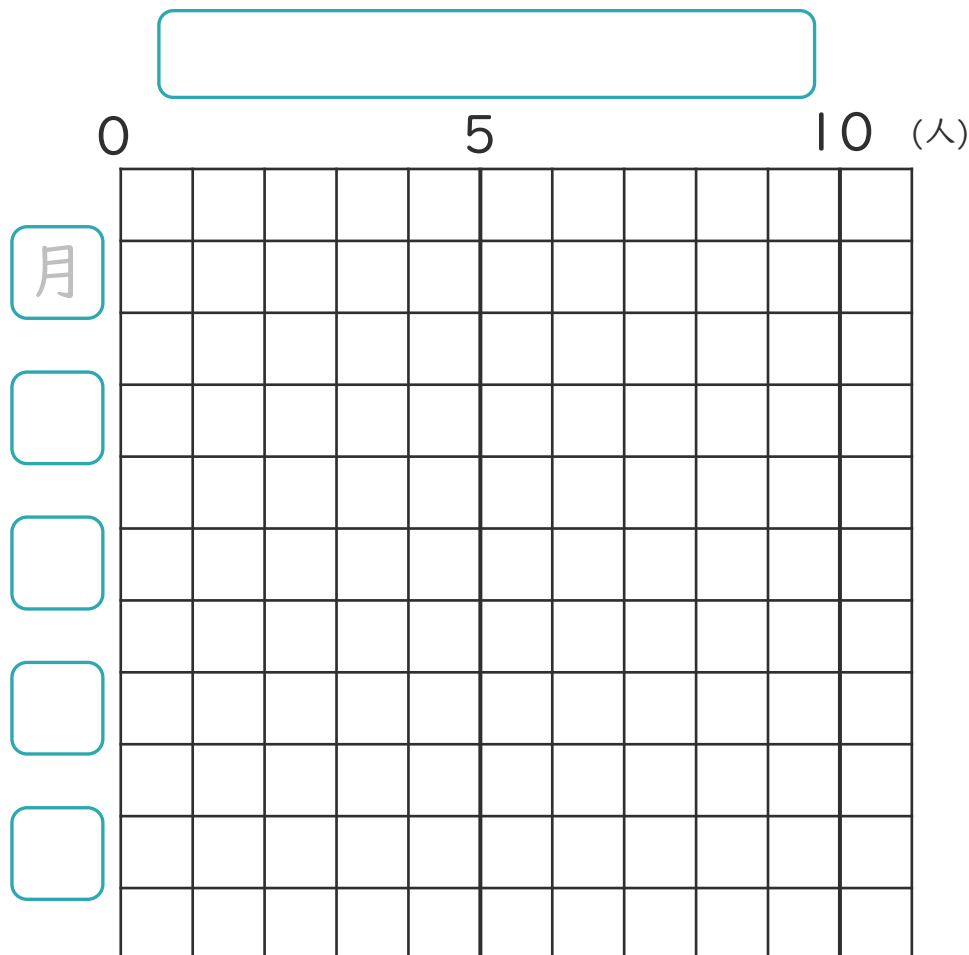


日にち： 月 日

名まえ _____

- ・ ぼうグラフは、ぼうを横にして表すこともできます。
下の表をぼうグラフに表しましょう。(うすい字はなぞりましょう。)

休んだ人	
曜日	人数 (人)
月	8
火	5
水	3
木	4
金	9



- ① たてじくくに曜日を書きましょう。
- ② 表題をグラフの上に書きましょう。
- ③ ぼうをかき入れて、グラフを仕上げましょう。
- ④ 休んだ人がいちばん多いのは、何曜日ですか。

[]





ぼうグラフと表 4

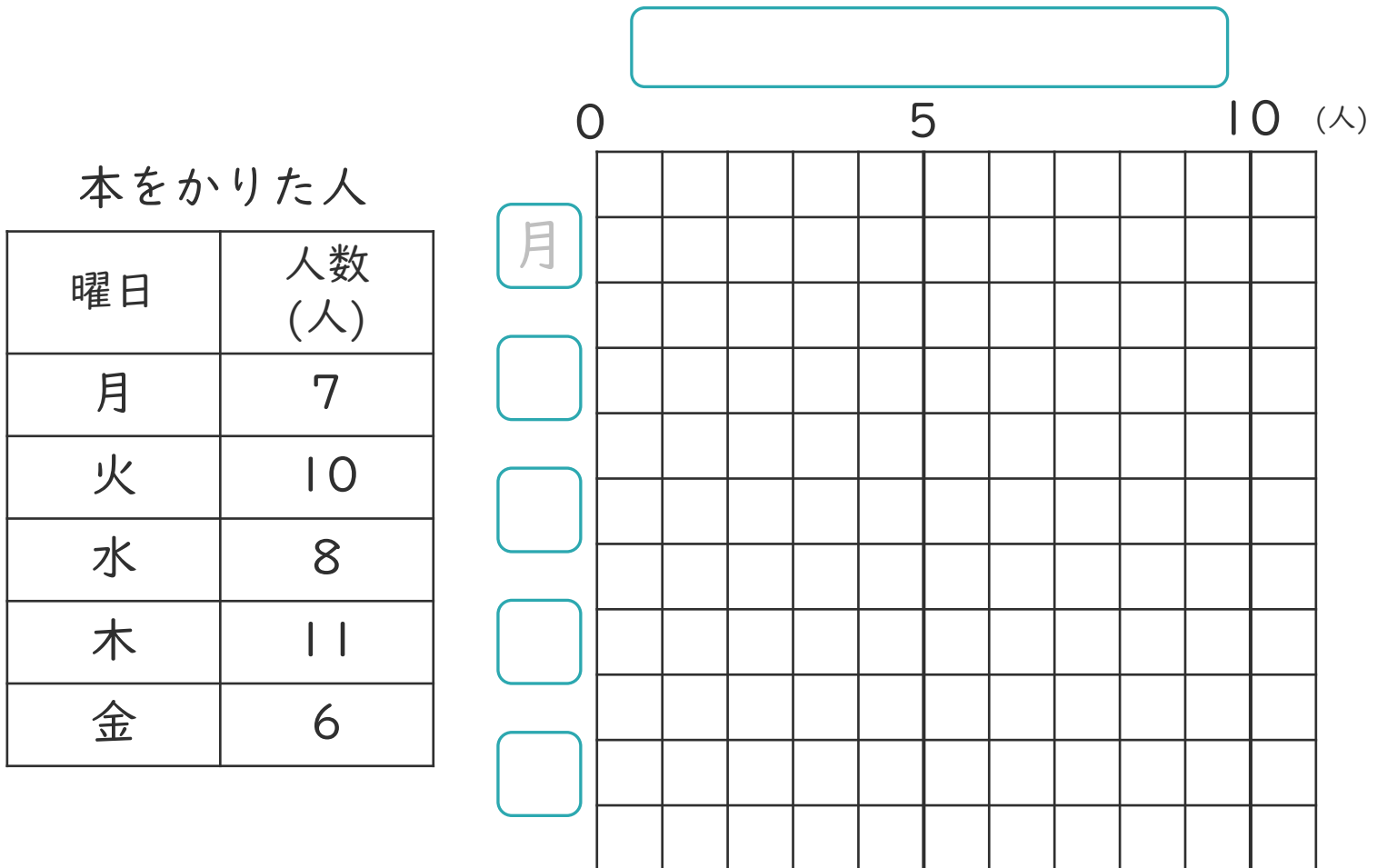
● ぼうグラフを
横にして表そう



日にち： 月 日

名まえ _____

- ・ ぼうグラフは、ぼうを横にして表すこともできます。
下の表をぼうグラフに表しましょう。(うすい字はなぞりましょう。)



- ① たてじくくに曜日を書きましょう。
- ② 表題をグラフの上に書きましょう。
- ③ ぼうをかき入れて、グラフを仕上げましょう。
- ④ 本をかりた人がいちばん多いのは、何曜日ですか。

[]





ぼうグラフと表 4

● ぼうグラフを
横にして表そう



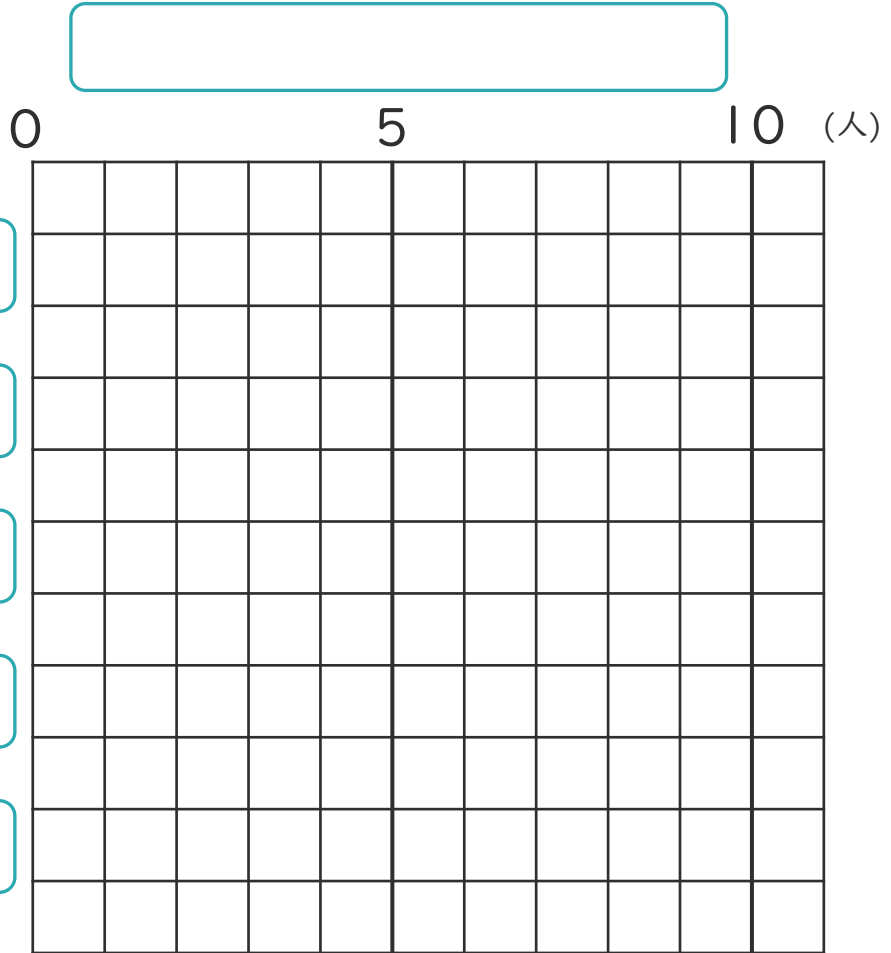
日にち： 月 日

名まえ _____

- ・ ぼうグラフは、ぼうを横にして表すこともできます。
下の表をぼうグラフに表しましょう。

本をかりた人

曜日	人数 (人)
月	3
火	10
水	9
木	4
金	6



- ① たてじくに曜日を書きましょう。
- ② 表題をグラフの上に書きましょう。
- ③ ぼうをかき入れて、グラフを仕上げましょう。
- ④ 本をかりた人がいちばん多いのは、何曜日ですか。

[]

ぼうグラフと表 4

● ぼうグラフを
横にして表そう



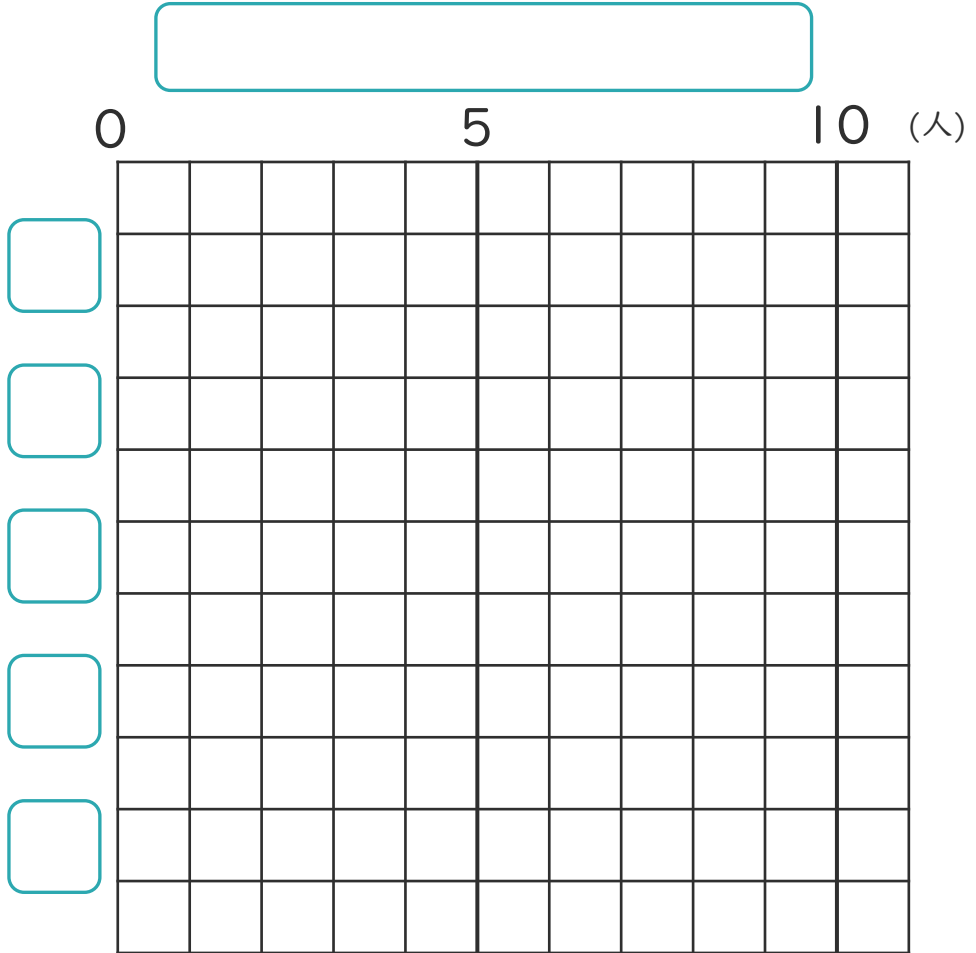
日にち： 月 日

名まえ _____

- ・ ぼうグラフは、ぼうを横にして表すこともできます。
下の表をぼうグラフに表しましょう。

休んだ人

曜日	人数 (人)
月	1
火	5
水	11
木	10
金	8



- ① たてじくに曜日を書きましょう。
- ② 表題をグラフの上に書きましょう。
- ③ ぼうをかき入れて、グラフを仕上げましょう。
- ④ 休んだ人がいちばん多いのは、何曜日ですか。

[]



ぼうグラフと表 4



● ぼうグラフを
横にして表そう

日にち： 月 日


名まえ _____

- ・ ぼうグラフは、ぼうを横にして表すこともできます。
下の表をぼうグラフに表しましょう。

0 5 10 (人)

ほけん室に来た人

曜日	人数 (人)
月	7
火	3
水	5
木	6
金	11



- ① たてじくりに曜日を書きましょう。
- ② 表題をグラフの上に書きましょう。
- ③ ぼうをかき入れて、グラフを仕上げましょう。
- ④ ほけん室に来た人がいちばん多いのは、何曜日ですか。





ぼうグラフと表 4

● ぼうグラフを
横にして表そう



日にち： 月 日

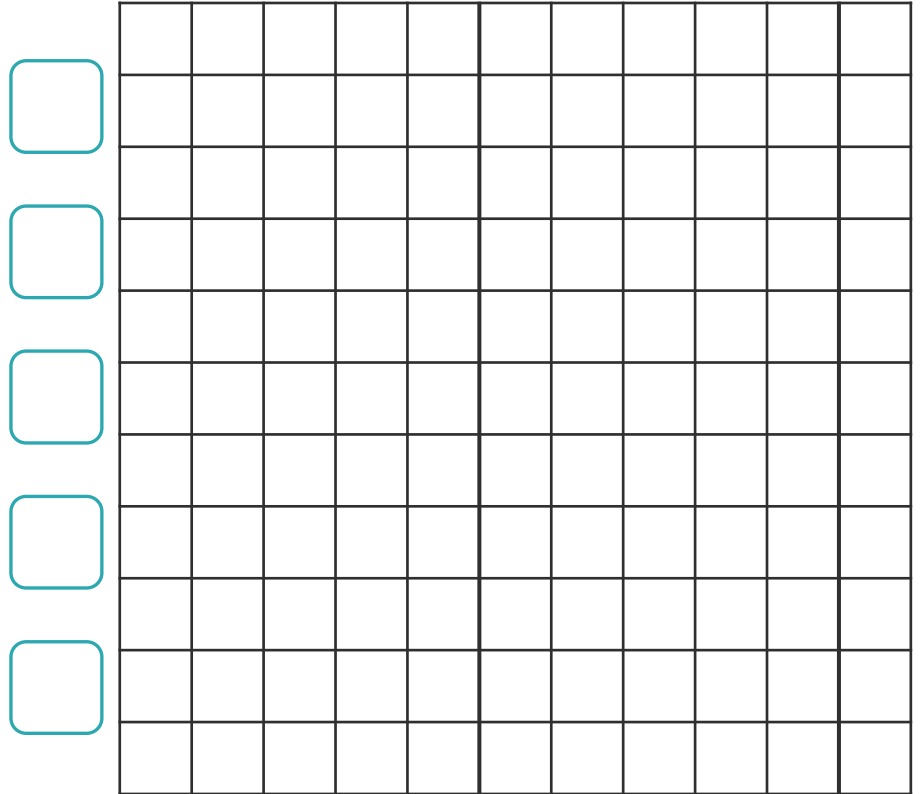
名まえ _____

- ・ ぼうグラフは、ぼうを横にして表すこともできます。
下の表をぼうグラフに表しましょう。

0 5 10 (人)

本をかりた人

曜日	人数 (人)
月	10
火	9
水	8
木	6
金	9



- ① たてじくに曜日を書きましょう。
- ② 表題をグラフの上にも書きましょう。
- ③ ぼうをかき入れて、グラフを仕上げましょう。
- ④ 本をかりた人がいちばん多いのは、何曜日ですか。

[]





ぼうグラフと表 4



● ぼうグラフを
横にして表そう

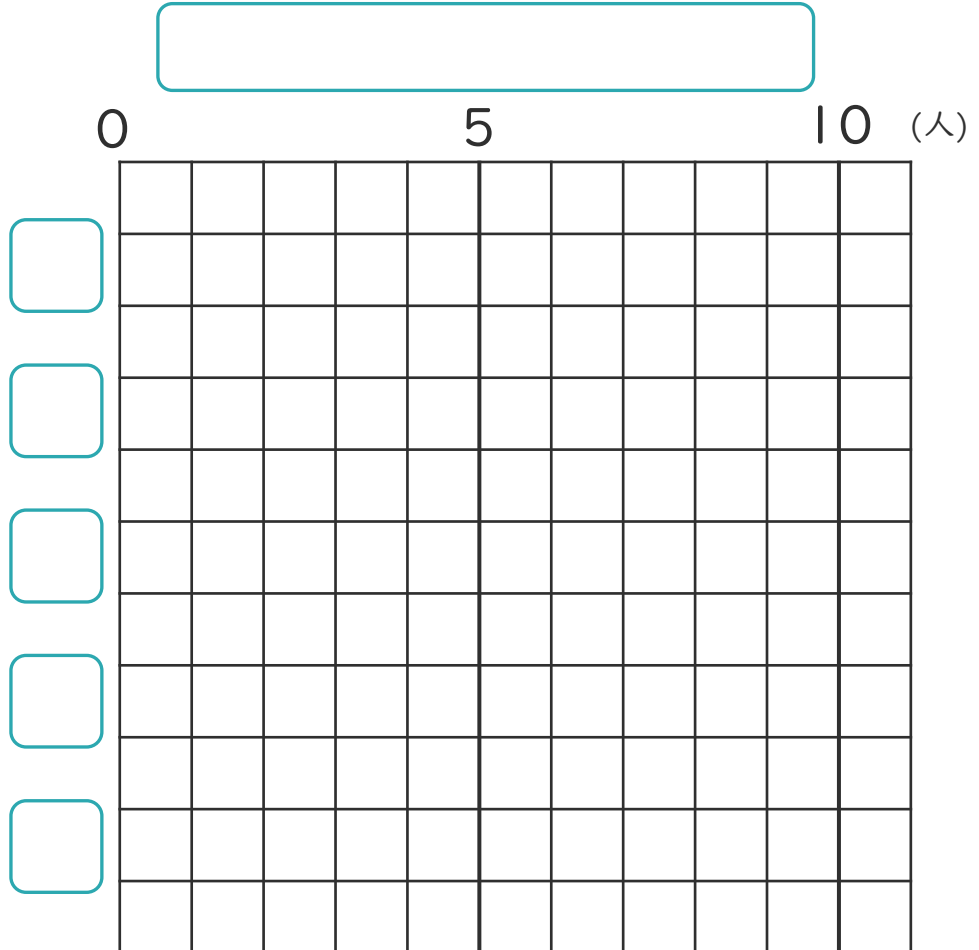
日にち： 月 日

名まえ _____

- ・ ぼうグラフは、ぼうを横にして表すこともできます。
下の表をぼうグラフに表しましょう。

本をかりた人

曜日	人数 (人)
月	11
火	5
水	10
木	8
金	9



- ① たてじくに曜日を書きましょう。
- ② 表題をグラフの上に書きましょう。
- ③ ぼうをかき入れて、グラフを仕上げましょう。
- ④ 本をかりた人がいちばん多いのは、何曜日ですか。

[]

ぼうグラフと表 4

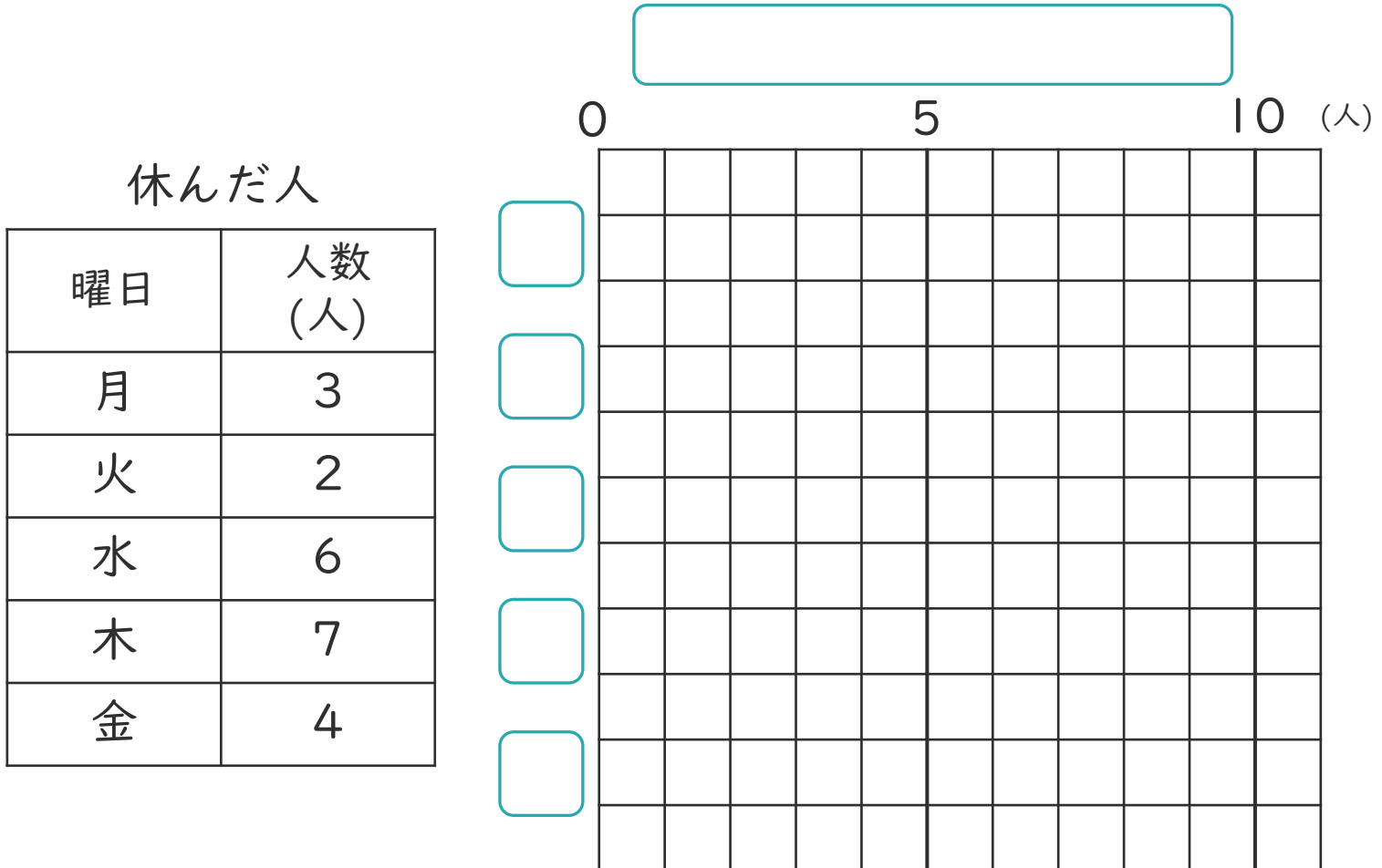
● ぼうグラフを
横にして表そう

12

日にち： 月 日

名まえ _____

- ・ ぼうグラフは、ぼうを横にして表すこともできます。
下の表をぼうグラフに表しましょう。



- ① たてじくに曜日を書きましょう。
- ② 表題をグラフの上に書きましょう。
- ③ ぼうをかき入れて、グラフを仕上げましょう。
- ④ 休んだ人がいちばん多いのは、何曜日ですか。

[]



ぼうグラフと表 4

● ぼうグラフを
横にして表そう



日にち： 月 日

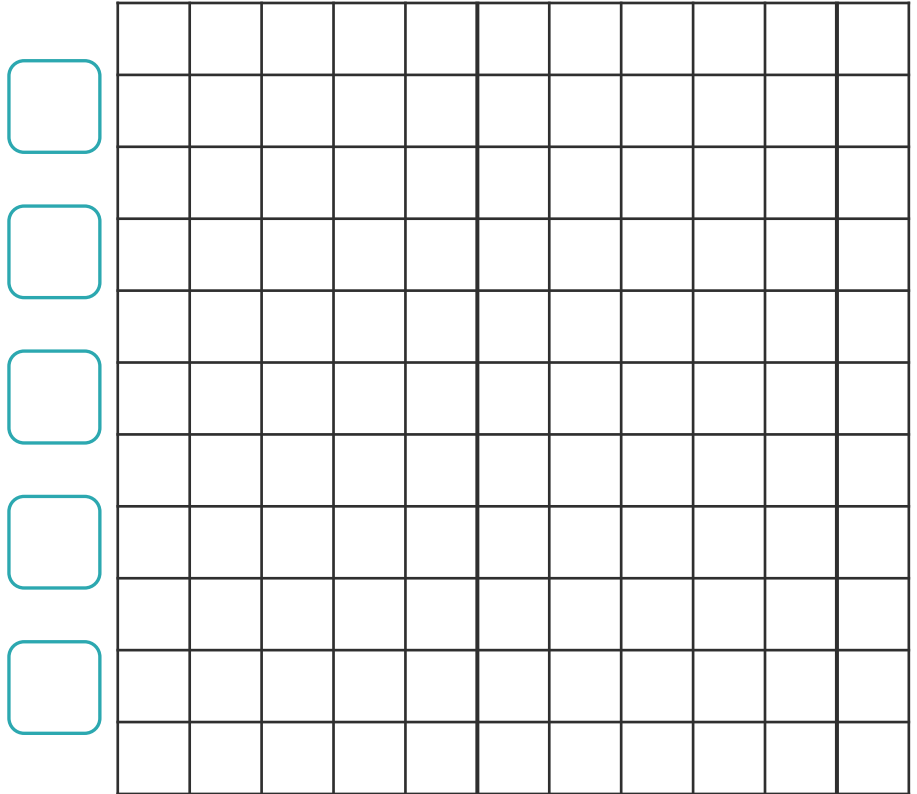
名まえ _____

- ・ ぼうグラフは、ぼうを横にして表すこともできます。
下の表をぼうグラフに表しましょう。

0 5 10 (人)

本をかりた人

曜日	人数 (人)
月	7
火	6
水	8
木	6
金	9



- ① たてじくくに曜日を書きましょう。
- ② 表題をグラフの上に書きましょう。
- ③ ぼうをかき入れて、グラフを仕上げましょう。
- ④ 本をかりた人がいちばん多いのは、何曜日ですか。

ぼうグラフと表 4

● ぼうグラフを
横にして表そう

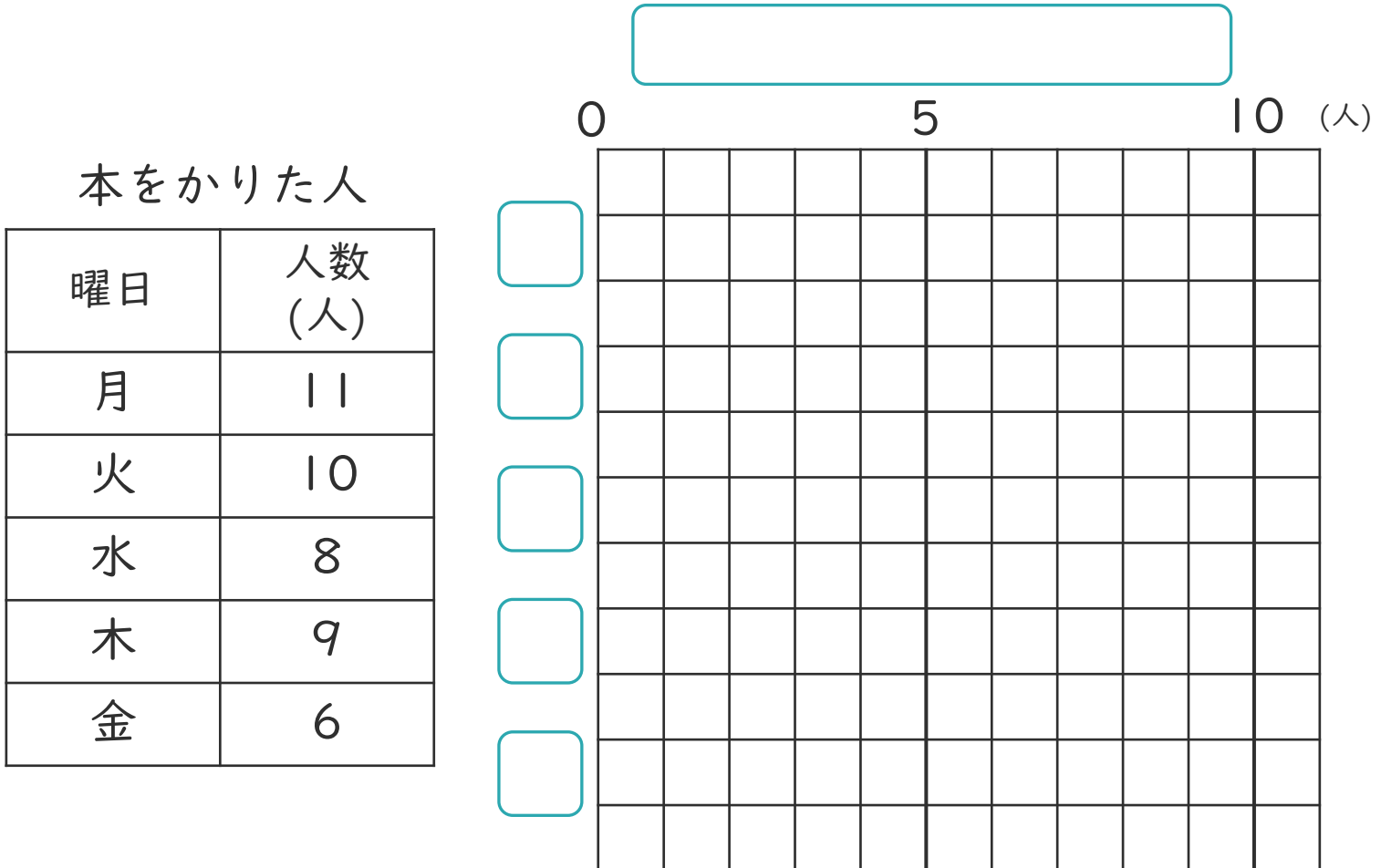
15

めざせ100点!

てん

名まえ _____

- ・ ぼうグラフは、ぼうを横にして表すこともできます。
下の表をぼうグラフに表しましょう。(各25点)



- ① たてじくりに曜日を書きましょう。
- ② 表題をグラフの上に書きましょう。
- ③ ぼうをかき入れて、グラフを仕上げましょう。
- ④ 本をかりた人がいちばん多いのは、何曜日ですか。

[]

ぼうグラフと表 4

● ぼうグラフを
横にして表そう

16

めざせ100点!

てん

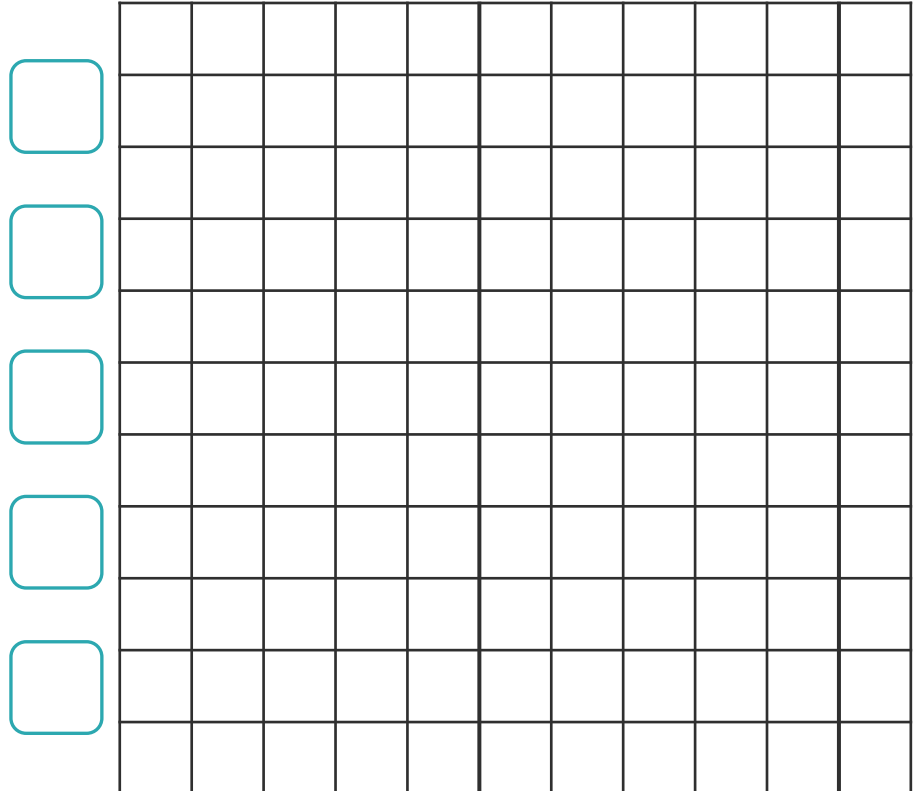
名まえ _____

- ・ ぼうグラフは、ぼうを横にして表すこともできます。
下の表をぼうグラフに表しましょう。(各25点)

休んだ人

曜日	人数 (人)
月	3
火	2
水	4
木	7
金	9

0 5 10 (人)



- ① たてじくに曜日を書きましょう。
- ② 表題をグラフの上に書きましょう。
- ③ ぼうをかき入れて、グラフを仕上げましょう。
- ④ 休んだ人がいちばん多いのは、何曜日ですか。

[]

ぼうグラフと表 4

● ぼうグラフを
横にして表そう



日にち： 月 日

名まえ _____

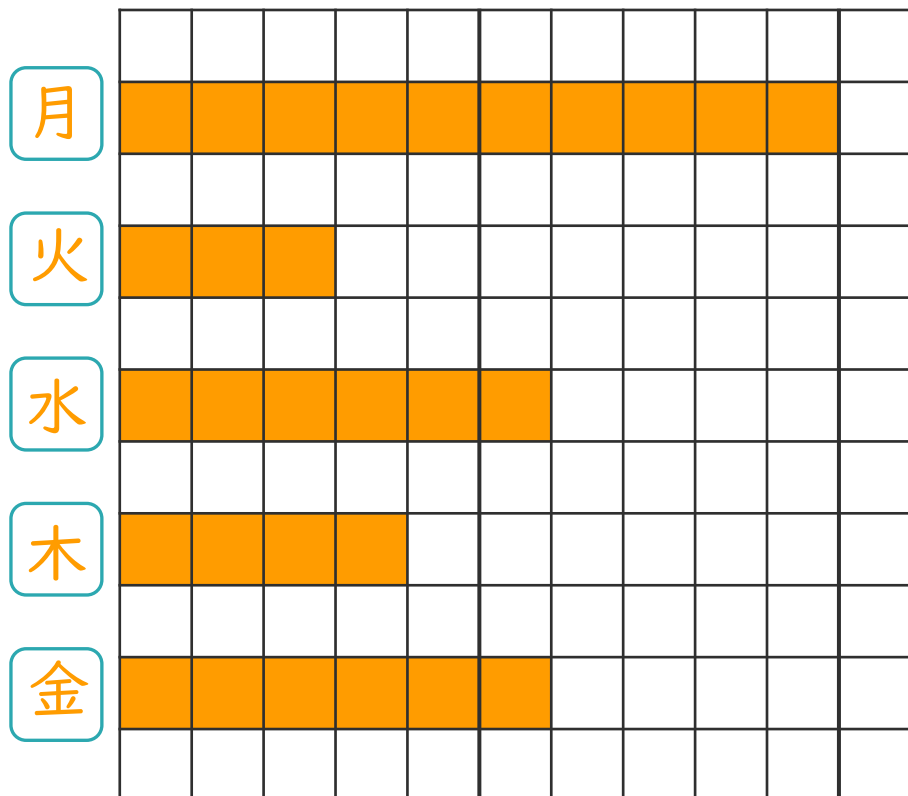
- ・ ぼうグラフは、ぼうを横にして表すこともできます。
下の表をぼうグラフに表しましょう。(うすい字はなぞりましょう。)

ほけん室に来た人

0 5 10 (人)

ほけん室に来た人

曜日	人数 (人)
月	10
火	3
水	6
木	4
金	6



- ① たてじくくに曜日を書きましょう。
- ② 表題をグラフの上にも書きましょう。
- ③ ぼうをかき入れて、グラフを仕上げましょう。
- ④ ほけん室に来た人がいちばん多いのは、何曜日ですか。

〔 月曜日 〕





ぼうグラフと表4

● ぼうグラフを横にして表そう

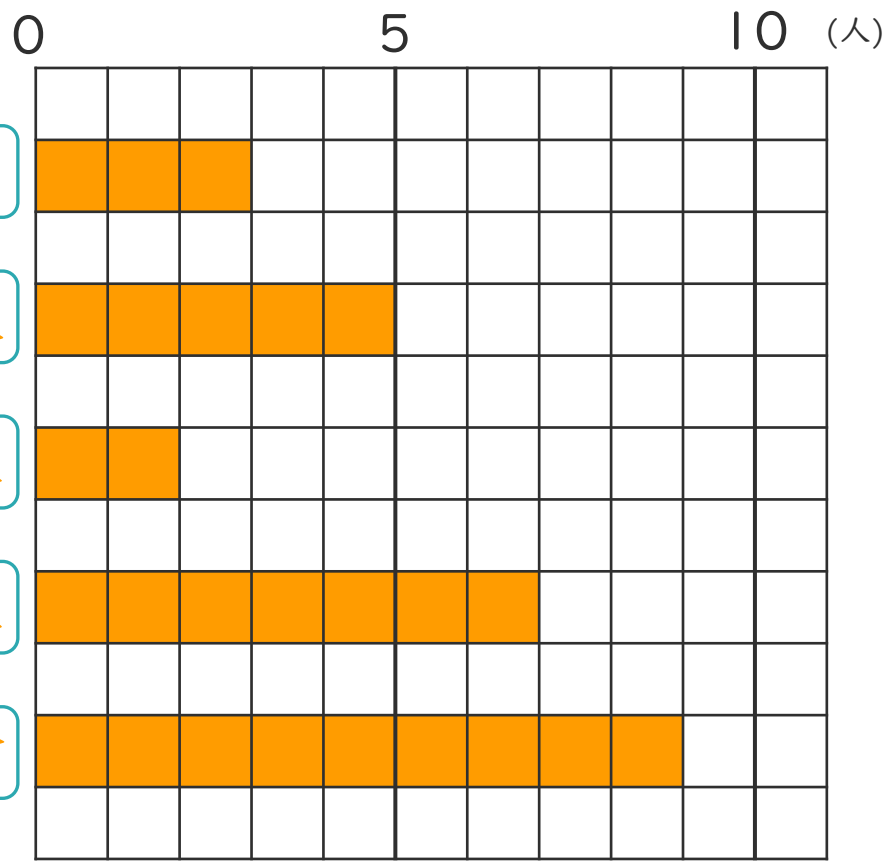


日にち： 月 日

名まえ _____

- ・ ぼうグラフは、ぼうを横にして表すこともできます。
下の表をぼうグラフに表しましょう。(うすい字はなぞりましょう。)

ほけん室に来た人



ほけん室に来た人

曜日	人数 (人)
月	3
火	5
水	2
木	7
金	9

- ① たてじくに曜日を書きましょう。
- ② 表題をグラフの上書きましょう。
- ③ ぼうをかき入れて、グラフを仕上げましょう。
- ④ ほけん室に来た人がいちばん多いのは、何曜日ですか。

〔 金曜日 〕



ぼうグラフと表 4

● ぼうグラフを
横にして表そう



日にち： 月 日

名まえ _____

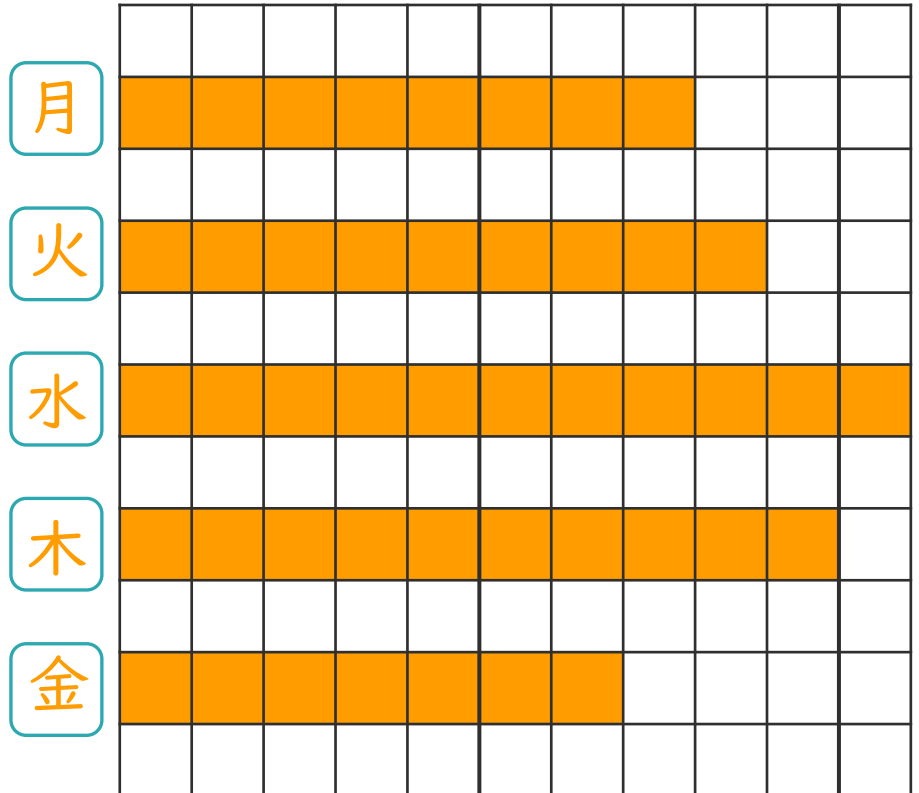
- ・ ぼうグラフは、ぼうを横にして表すこともできます。
下の表をぼうグラフに表しましょう。(うすい字はなぞりましょう。)

本をかりた人

0 5 10 (人)

本をかりた人

曜日	人数 (人)
月	8
火	9
水	11
木	10
金	7



- ① たてじくくに曜日を書きましょう。
- ② 表題をグラフの上書きましょう。
- ③ ぼうをかき入れて、グラフを仕上げましょう。
- ④ 本をかりた人がいちばん多いのは、何曜日ですか。

〔 水曜日 〕





ぼうグラフと表 4

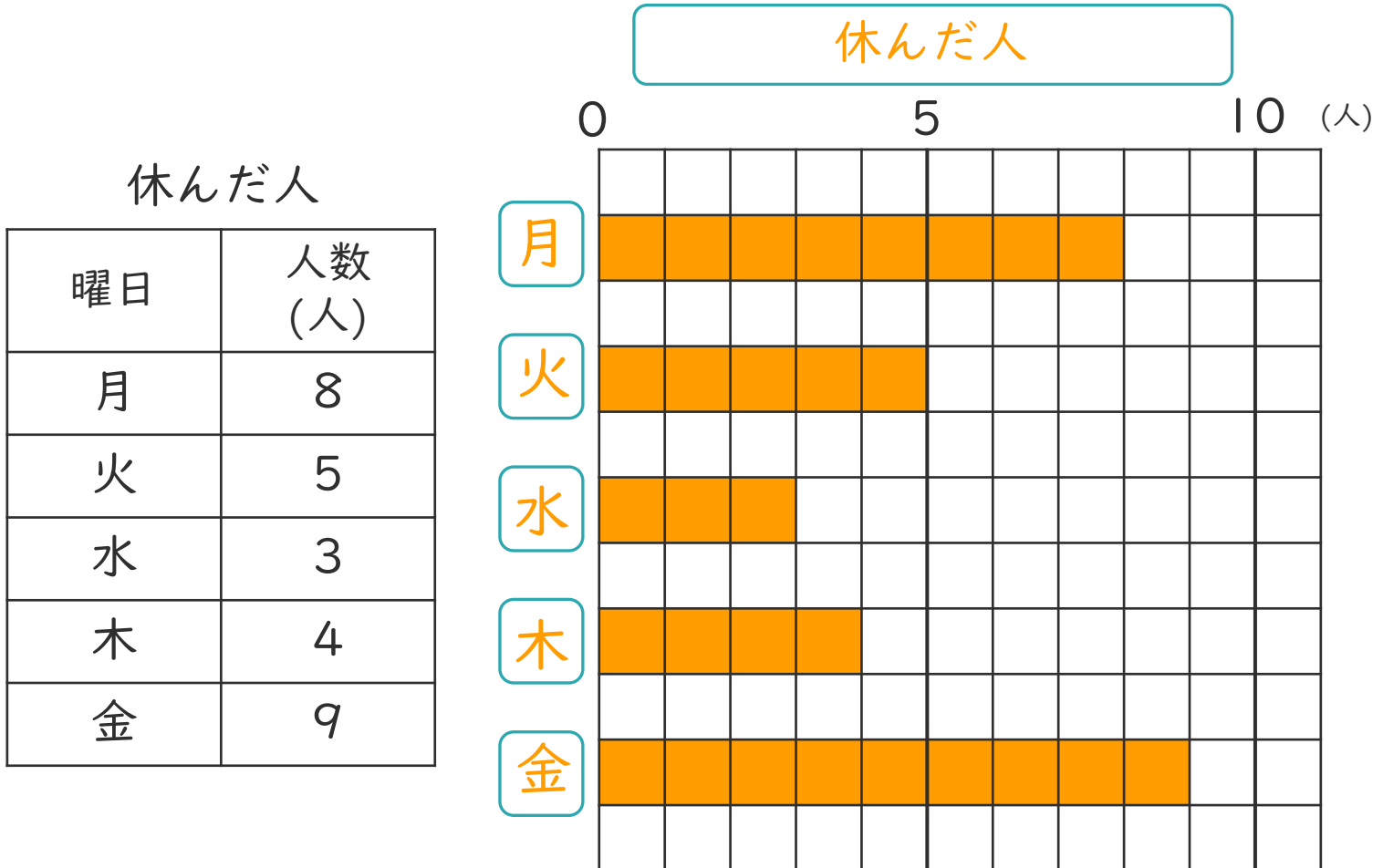
● ぼうグラフを
横にして表そう



日にち： 月 日

名まえ _____

- ・ ぼうグラフは、ぼうを横にして表すこともできます。
下の表をぼうグラフに表しましょう。(うすい字はなぞりましょう。)



- ① たてじくくに曜日を書きましょう。
- ② 表題をグラフの上にも書きましょう。
- ③ ぼうをかき入れて、グラフを仕上げましょう。
- ④ 休んだ人がいちばん多いのは、何曜日ですか。

〔 金曜日 〕

ぼうグラフと表 4

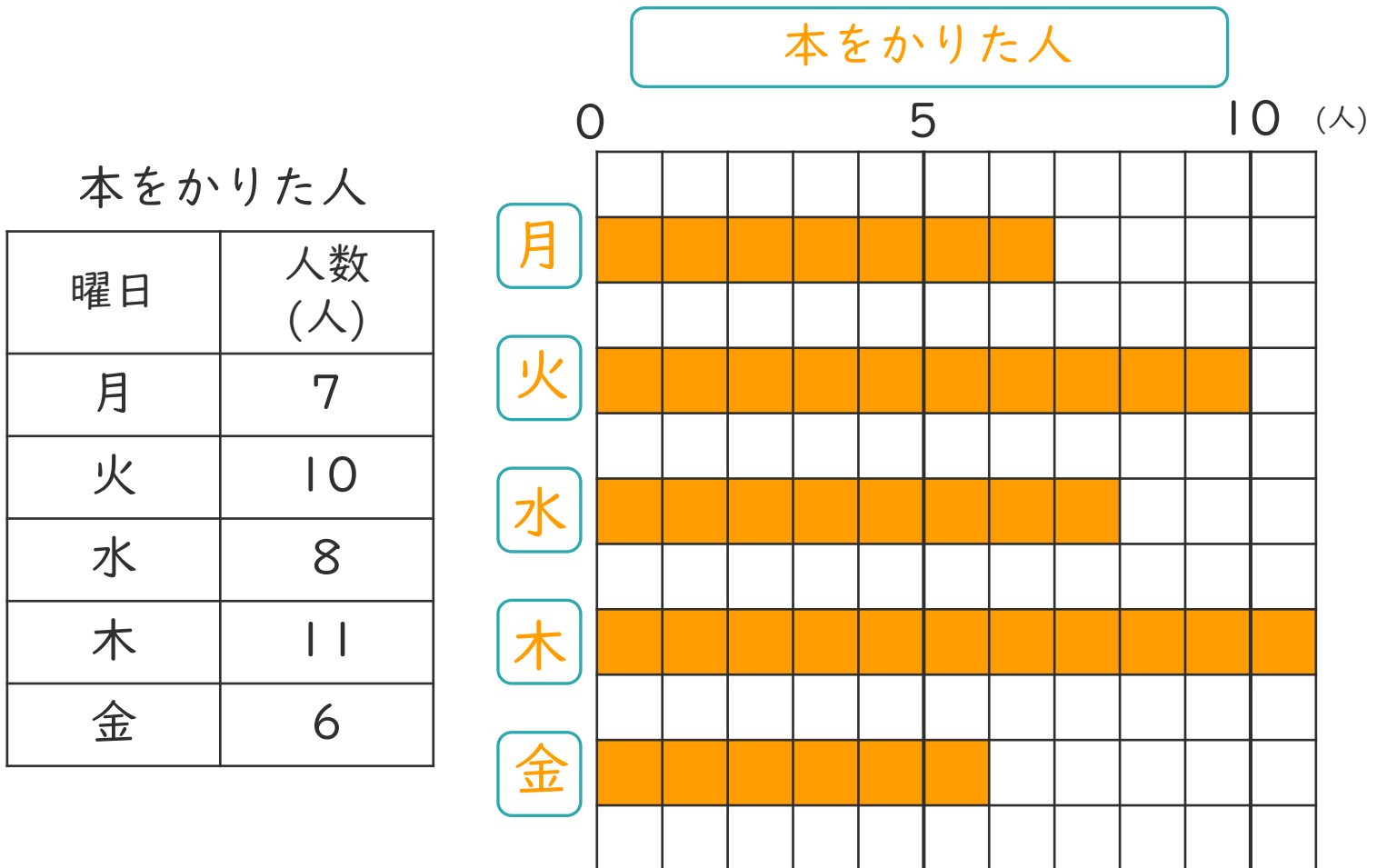
● ぼうグラフを
横にして表そう



日にち： 月 日

名まえ _____

- ・ ぼうグラフは、ぼうを横にして表すこともできます。
下の表をぼうグラフに表しましょう。(うすい字はなぞりましょう。)



- ① たてじくくに曜日を書きましょう。
- ② 表題をグラフの上書きましょう。
- ③ ぼうをかき入れて、グラフを仕上げましょう。
- ④ 本をかりた人がいちばん多いのは、何曜日ですか。

〔 木曜日 〕

ぼうグラフと表 4

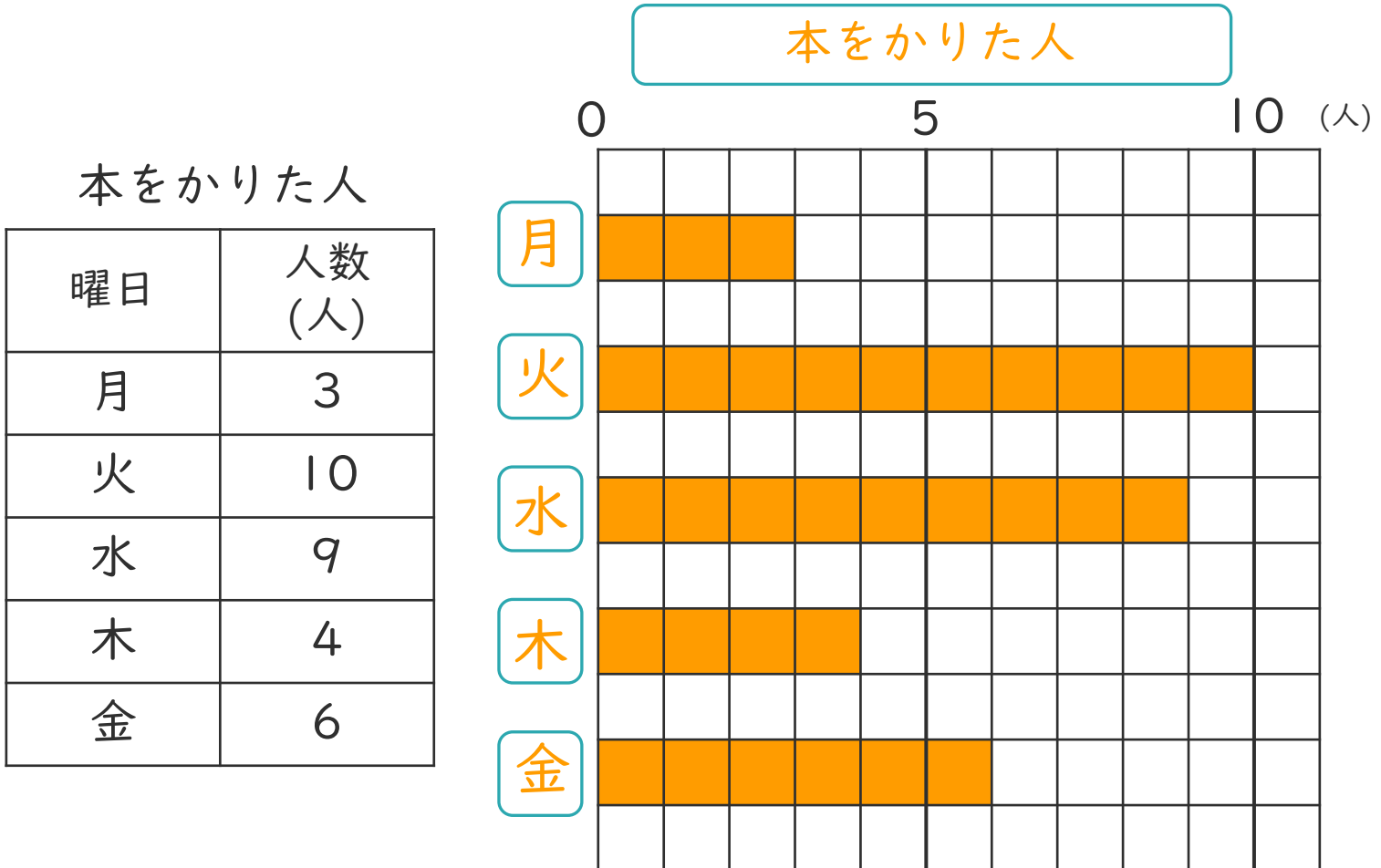
● ぼうグラフを
横にして表そう



日にち： 月 日

名まえ _____

- ・ ぼうグラフは、ぼうを横にして表すこともできます。
下の表をぼうグラフに表しましょう。



- ① たてじくに曜日を書きましょう。
- ② 表題をグラフの上書きましょう。
- ③ ぼうをかき入れて、グラフを仕上げましょう。
- ④ 本をかりた人がいちばん多いのは、何曜日ですか。

火曜日

ぼうグラフと表 4

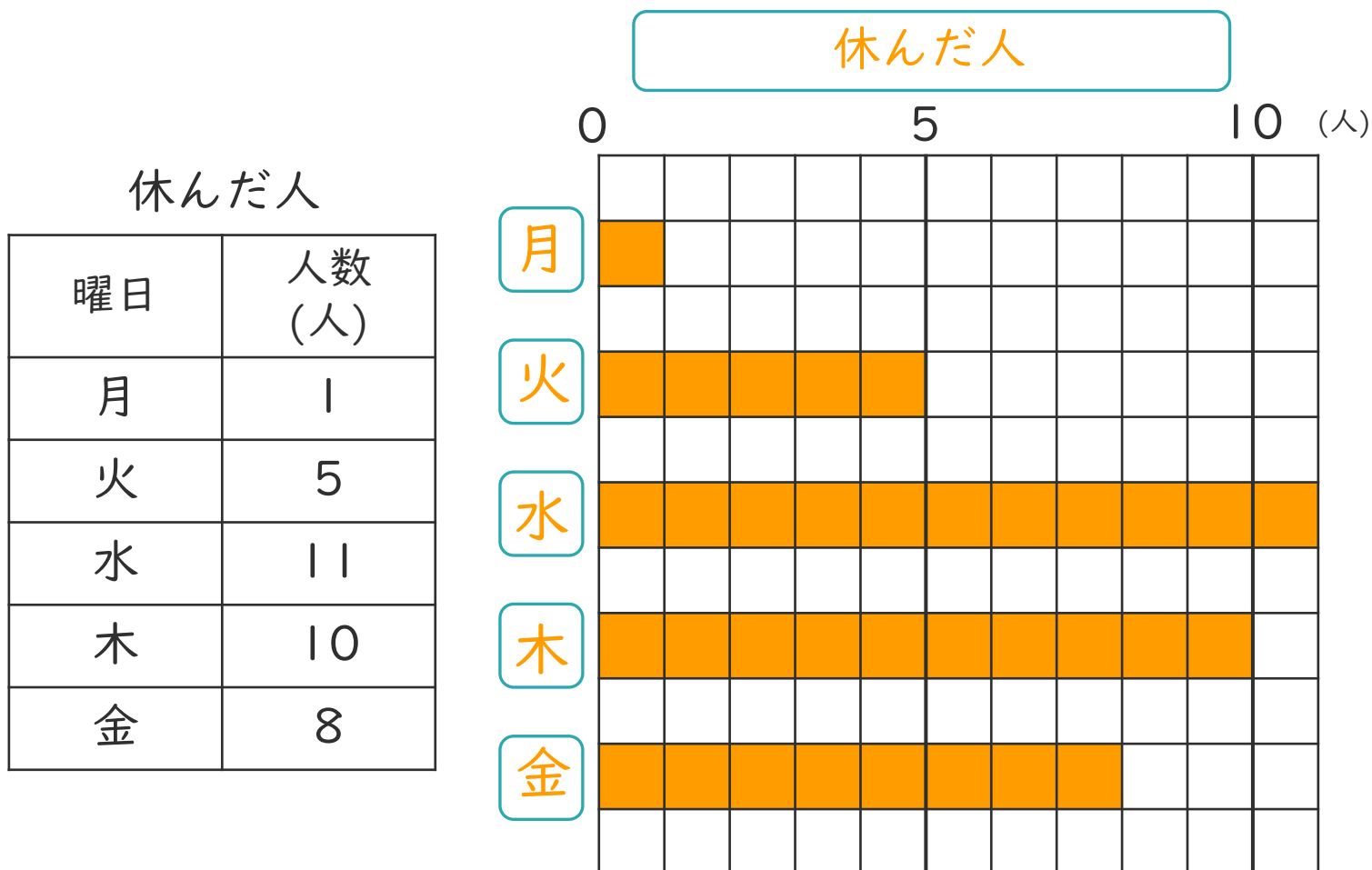
◎ ぼうグラフを
横にして表そう



日にち： 月 日

名まえ _____

- ・ ぼうグラフは、ぼうを横にして表すこともできます。
下の表をぼうグラフに表しましょう。



- ① たてじくくに曜日を書きましょう。
- ② 表題をグラフの上に書きましょう。
- ③ ぼうをかき入れて、グラフを仕上げましょう。
- ④ 休んだ人がいちばん多いのは、何曜日ですか。

[水曜日]

ぼうグラフと表 4

● ぼうグラフを
横にして表そう



日にち： 月 日

名まえ _____

- ・ ぼうグラフは、ぼうを横にして表すこともできます。
下の表をぼうグラフに表しましょう。

ほけん室に来た人

0 5 10 (人)

ほけん室に来た人

曜日	人数 (人)
月	7
火	3
水	5
木	6
金	11

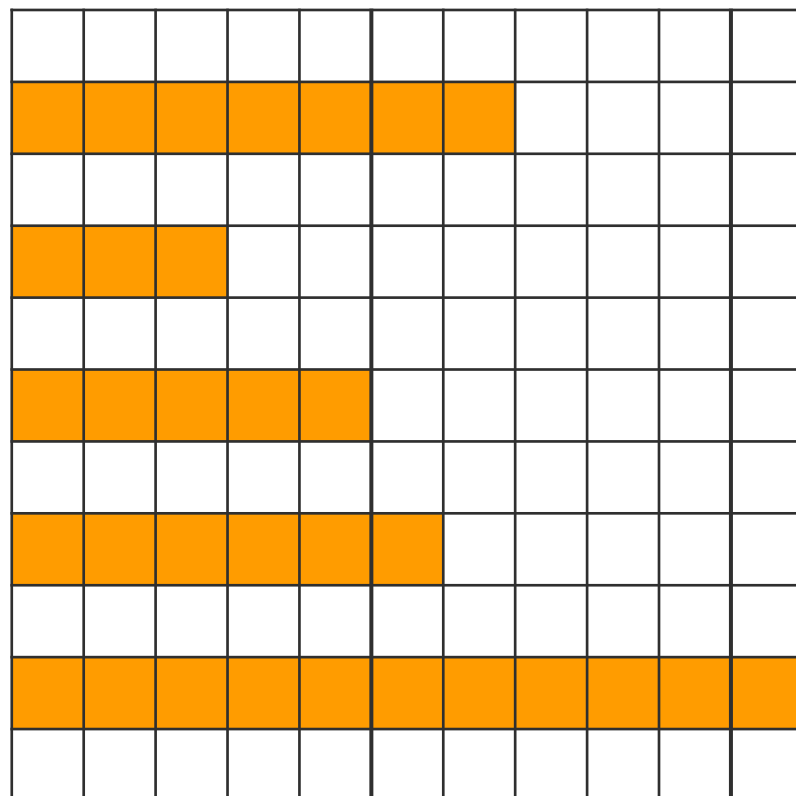
月

火

水

木

金



- ① たてじくに曜日を書きましょう。
- ② 表題をグラフの上書きましょう。
- ③ ぼうをかき入れて、グラフを仕上げましょう。
- ④ ほけん室に来た人がいちばん多いのは、何曜日ですか。

〔 金曜日 〕



ぼうグラフと表 4

● ぼうグラフを
横にして表そう

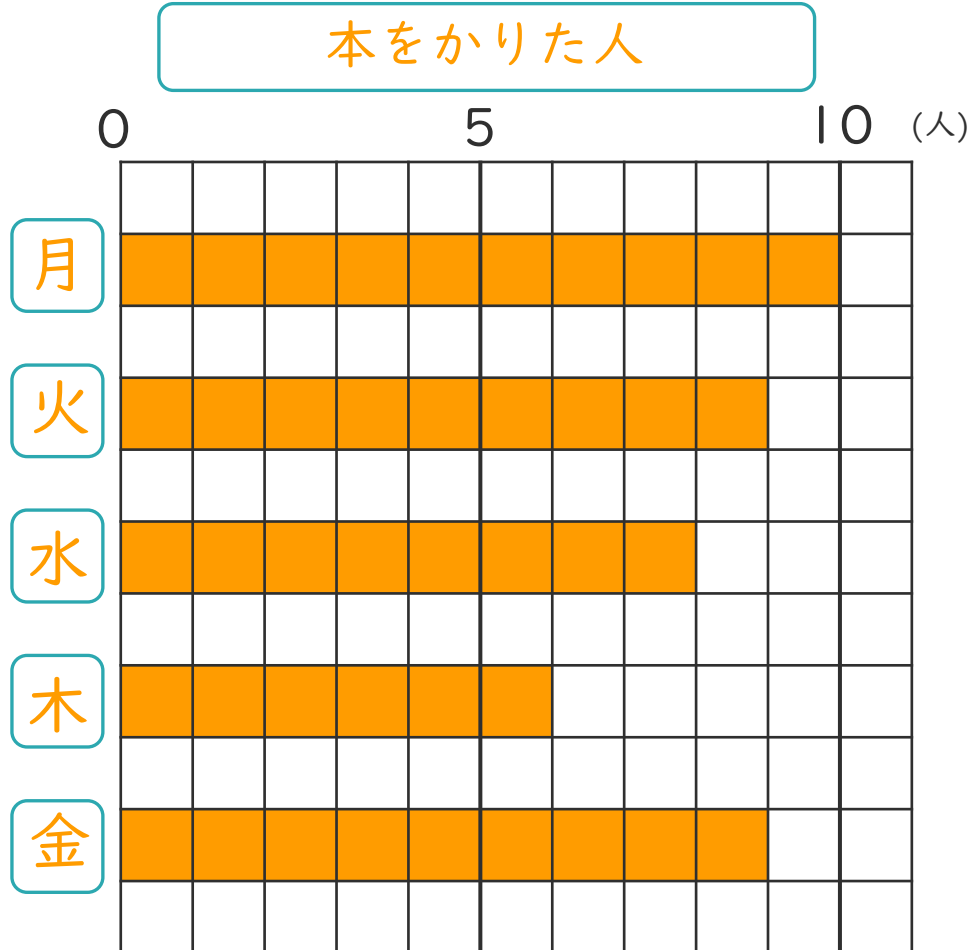


日にち： 月 日

名まえ _____

- ・ ぼうグラフは、ぼうを横にして表すこともできます。
下の表をぼうグラフに表しましょう。

本をかりた人	
曜日	人数 (人)
月	10
火	9
水	8
木	6
金	9



- ① たてじくに曜日を書きましょう。
- ② 表題をグラフの上に書きましょう。
- ③ ぼうをかき入れて、グラフを仕上げましょう。
- ④ 本をかりた人がいちばん多いのは、何曜日ですか。

〔 月曜日 〕





ぼうグラフと表 4

◎ ぼうグラフを
横にして表そう



日にち： 月 日

名まえ _____

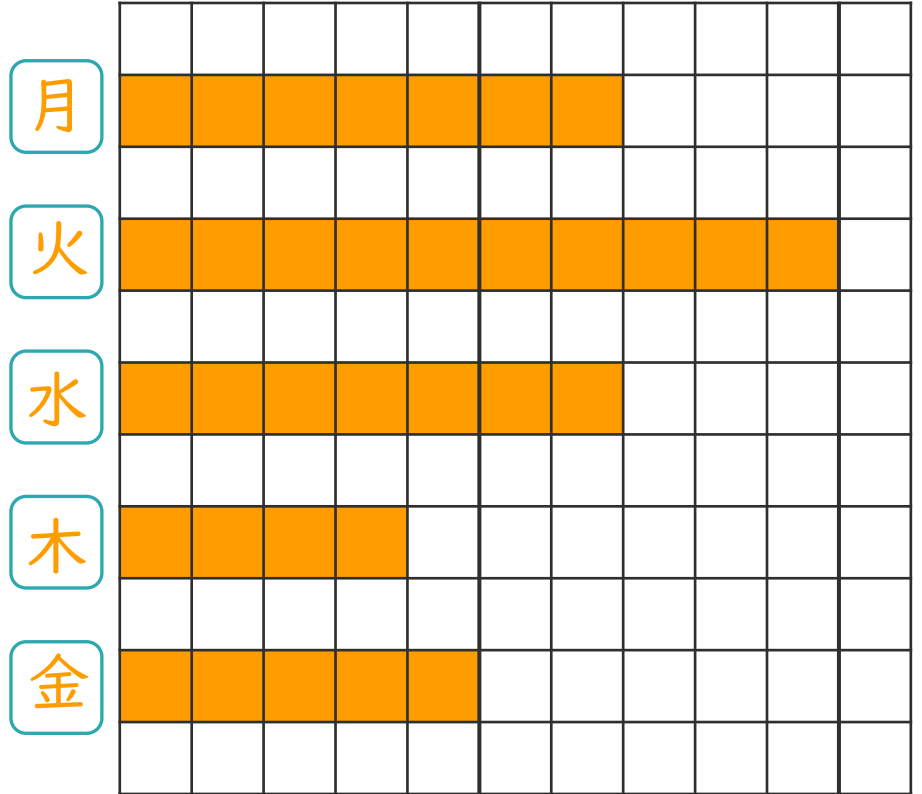
- ・ ぼうグラフは、ぼうを横にして表すこともできます。
下の表をぼうグラフに表しましょう。

ほけん室に来た人

0 5 10 (人)

ほけん室に来た人

曜日	人数 (人)
月	7
火	10
水	7
木	4
金	5



- ① たてじくに曜日を書きましょう。
- ② 表題をグラフの上にかきましょう。
- ③ ぼうをかき入れて、グラフを仕上げましょう。
- ④ ほけん室に来た人がいちばん多いのは、何曜日ですか。

〔 火曜日 〕

ぼうグラフと表 4

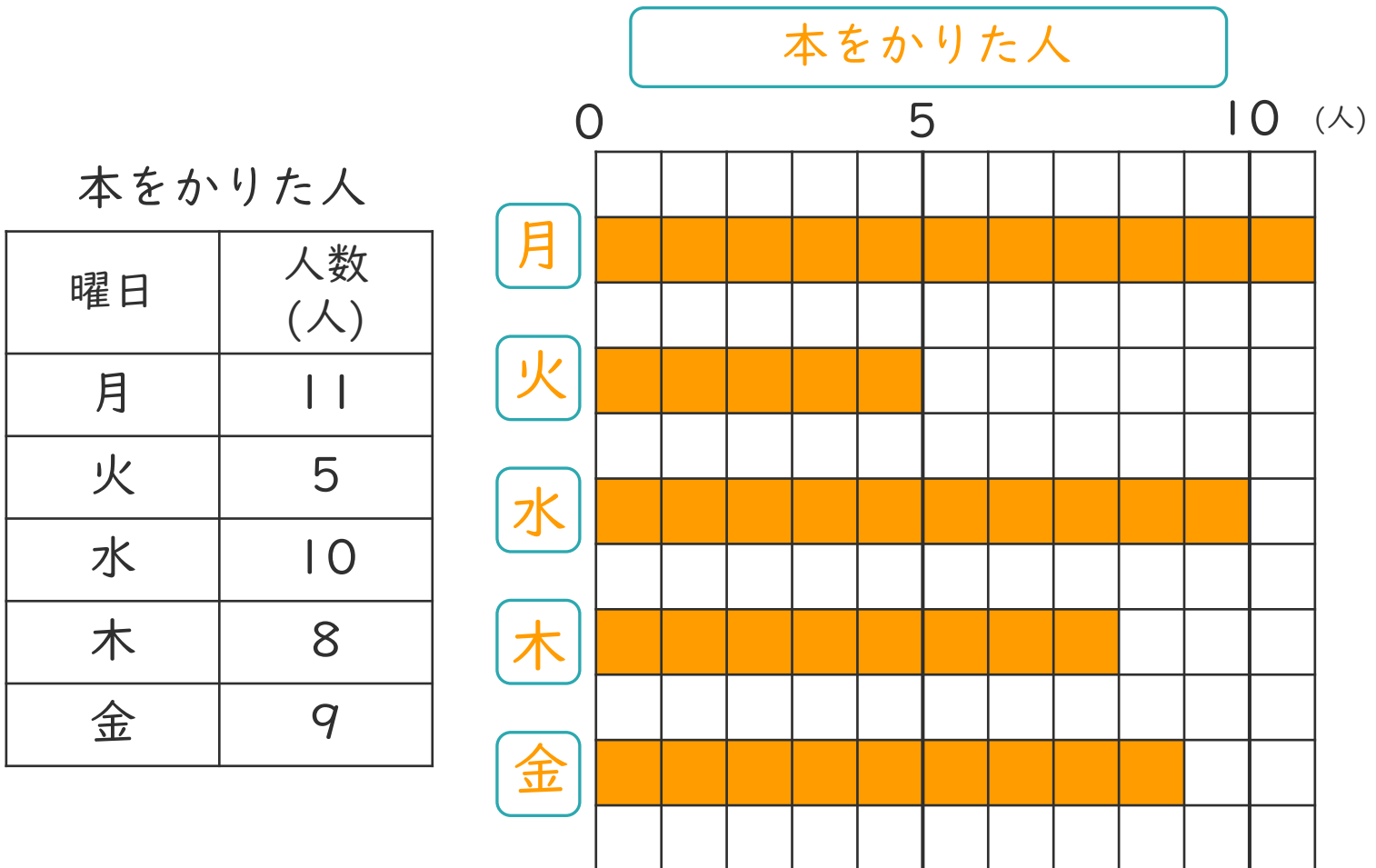
● ぼうグラフを
横にして表そう



日にち： 月 日

名まえ _____

- ・ ぼうグラフは、ぼうを横にして表すこともできます。
下の表をぼうグラフに表しましょう。



- ① たてじくに曜日を書きましょう。
- ② 表題をグラフの上に書きましょう。
- ③ ぼうをかき入れて、グラフを仕上げましょう。
- ④ 本をかりた人がいちばん多いのは、何曜日ですか。

〔 月曜日 〕



ぼうグラフと表 4

● ぼうグラフを
横にして表そう

12

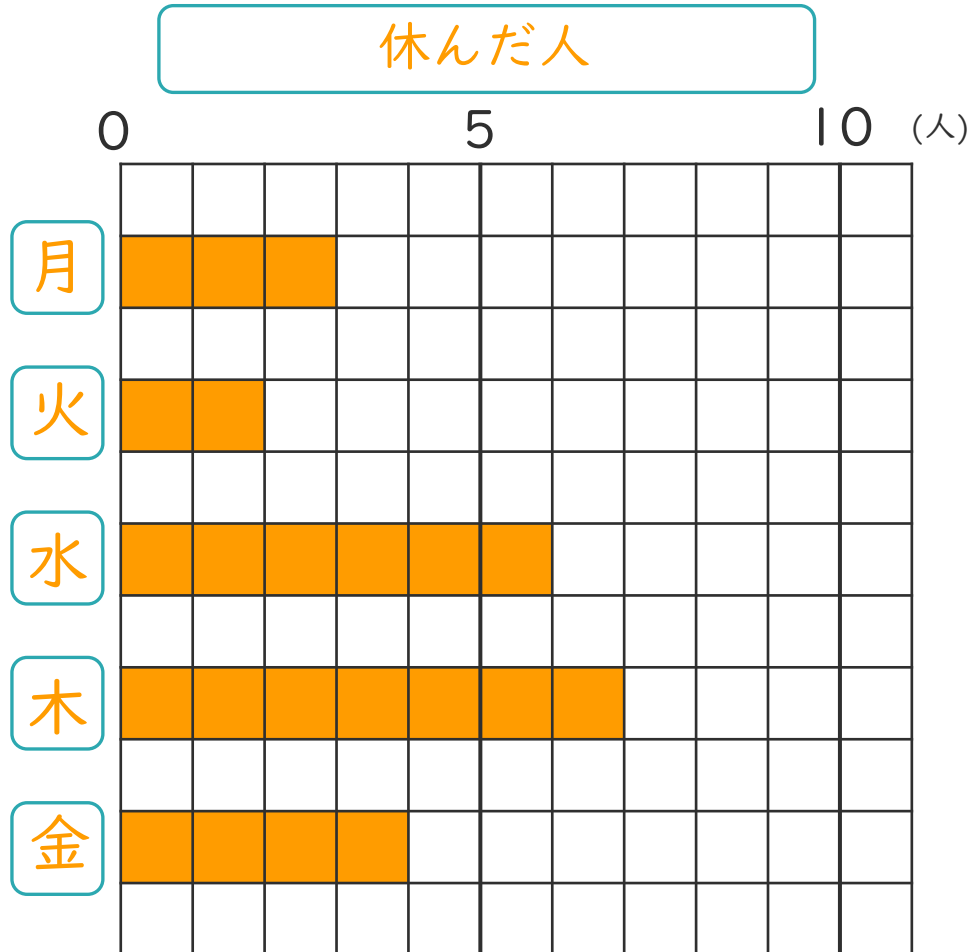
日にち： 月 日

名まえ _____

- ・ ぼうグラフは、ぼうを横にして表すこともできます。
下の表をぼうグラフに表しましょう。

休んだ人

曜日	人数 (人)
月	3
火	2
水	6
木	7
金	4



- ① たてじくに曜日を書きましょう。
- ② 表題をグラフの上書きましょう。
- ③ ぼうをかき入れて、グラフを仕上げましょう。
- ④ 休んだ人がいちばん多いのは、何曜日ですか。

〔 木曜日 〕



ぼうグラフと表 4

● ぼうグラフを
横にして表そう

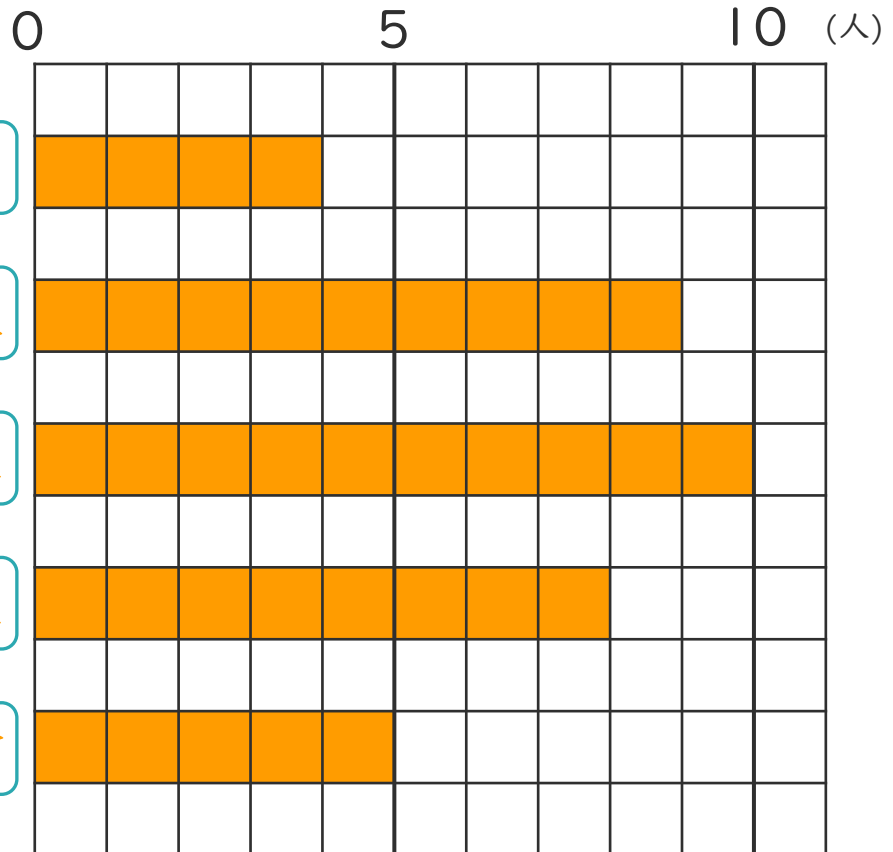


日にち： 月 日

名まえ _____

- ・ ぼうグラフは、ぼうを横にして表すこともできます。
下の表をぼうグラフに表しましょう。

ほけん室に来た人



ほけん室に来た人

曜日	人数 (人)
月	4
火	9
水	10
木	8
金	5

- ① たてじくに曜日を書きましょう。
- ② 表題をグラフの上に書きましょう。
- ③ ぼうをかき入れて、グラフを仕上げましょう。
- ④ ほけん室に来た人がいちばん多いのは、何曜日ですか。

〔 水曜日 〕



ぼうグラフと表 4

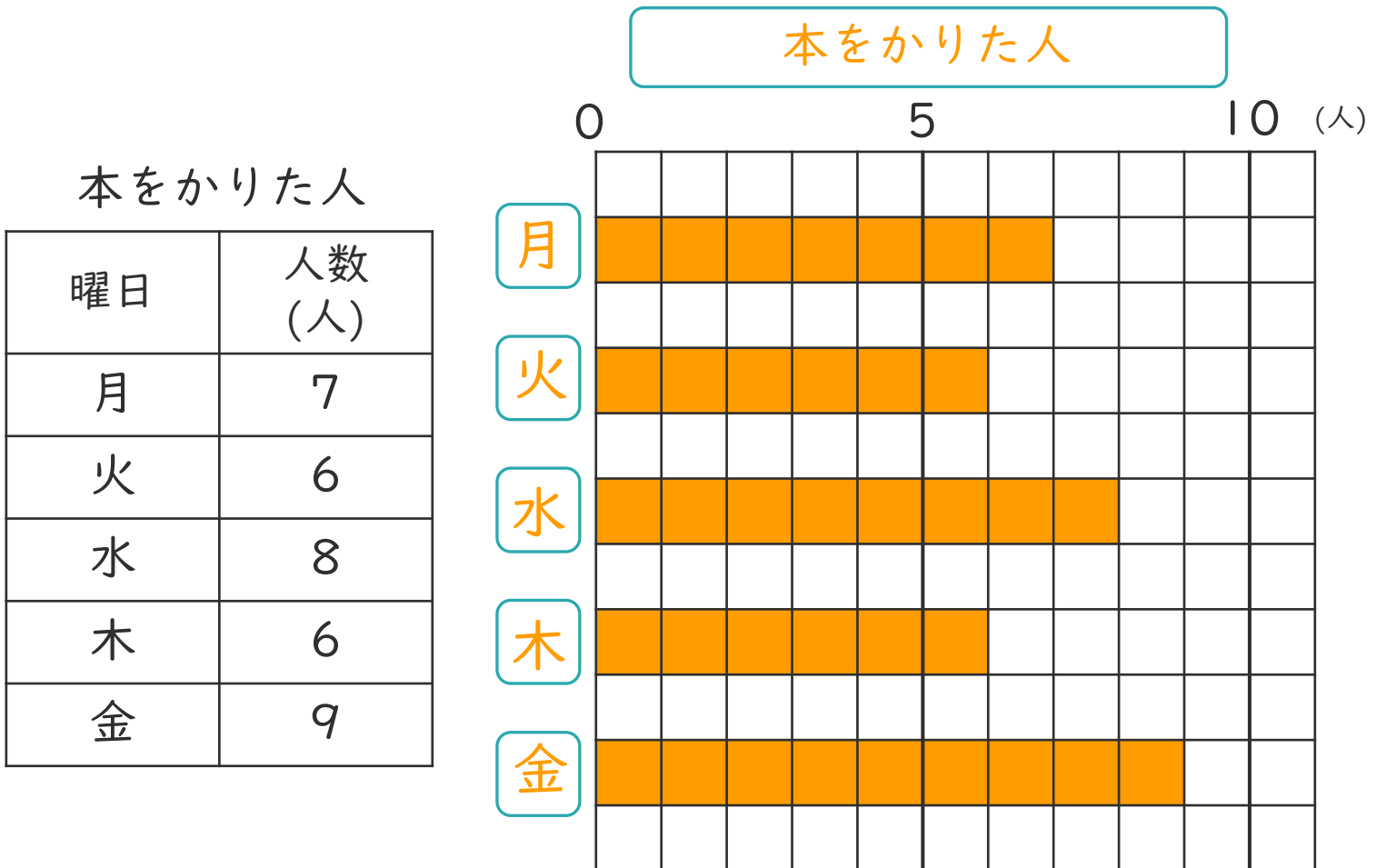
◎ ぼうグラフを
横にして表そう

14

日にち： 月 日

名まえ _____

- ・ ぼうグラフは、ぼうを横にして表すこともできます。
下の表をぼうグラフに表しましょう。



- ① たてじくりに曜日を書きましょう。
- ② 表題をグラフの上に書きましょう。
- ③ ぼうをかき入れて、グラフを仕上げましょう。
- ④ 本をかりた人がいちばん多いのは、何曜日ですか。

金曜日



ぼうグラフと表 4

● ぼうグラフを
横にして表そう

15

めざせ100点!

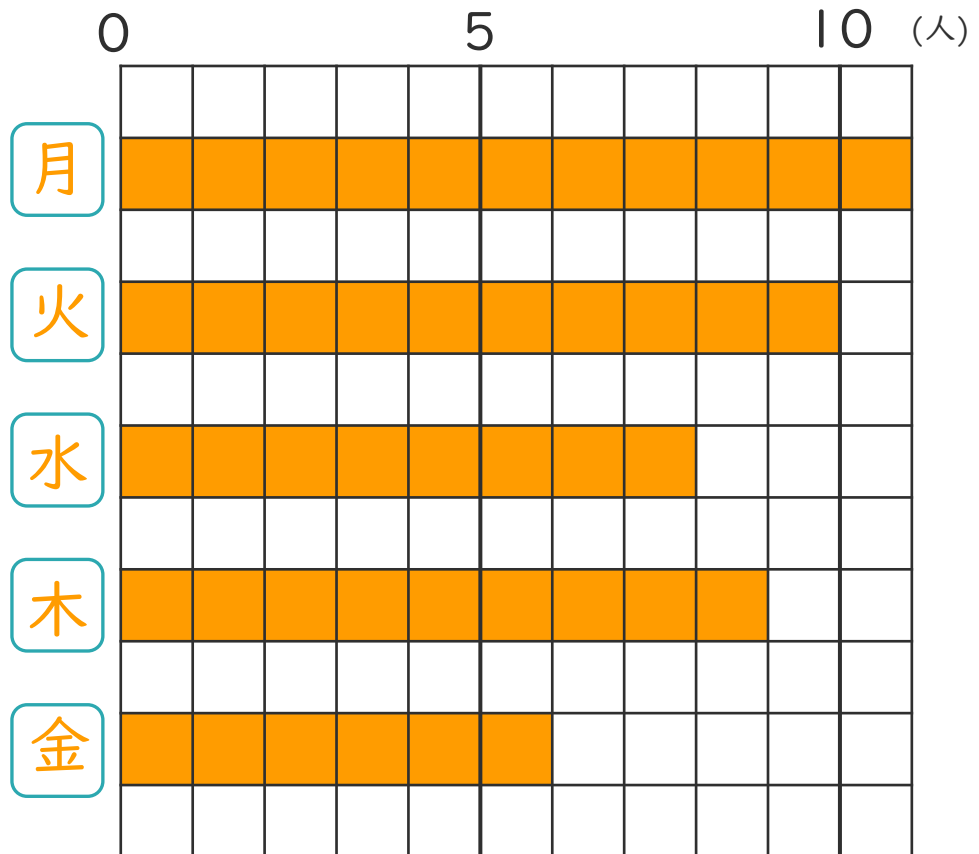
てん

名まえ _____

- ・ ぼうグラフは、ぼうを横にして表すこともできます。
下の表をぼうグラフに表しましょう。(各25点)

本をかりた人

本をかりた人	
曜日	人数 (人)
月	11
火	10
水	8
木	9
金	6



- ① たてじくくに曜日を書きましょう。
- ② 表題をグラフの上にも書きましょう。
- ③ ぼうをかき入れて、グラフを仕上げましょう。
- ④ 本をかりた人がいちばん多いのは、何曜日ですか。

〔 月曜日 〕



ぼうグラフと表 4

● ぼうグラフを
横にして表そう

16

めざせ100点!

てん

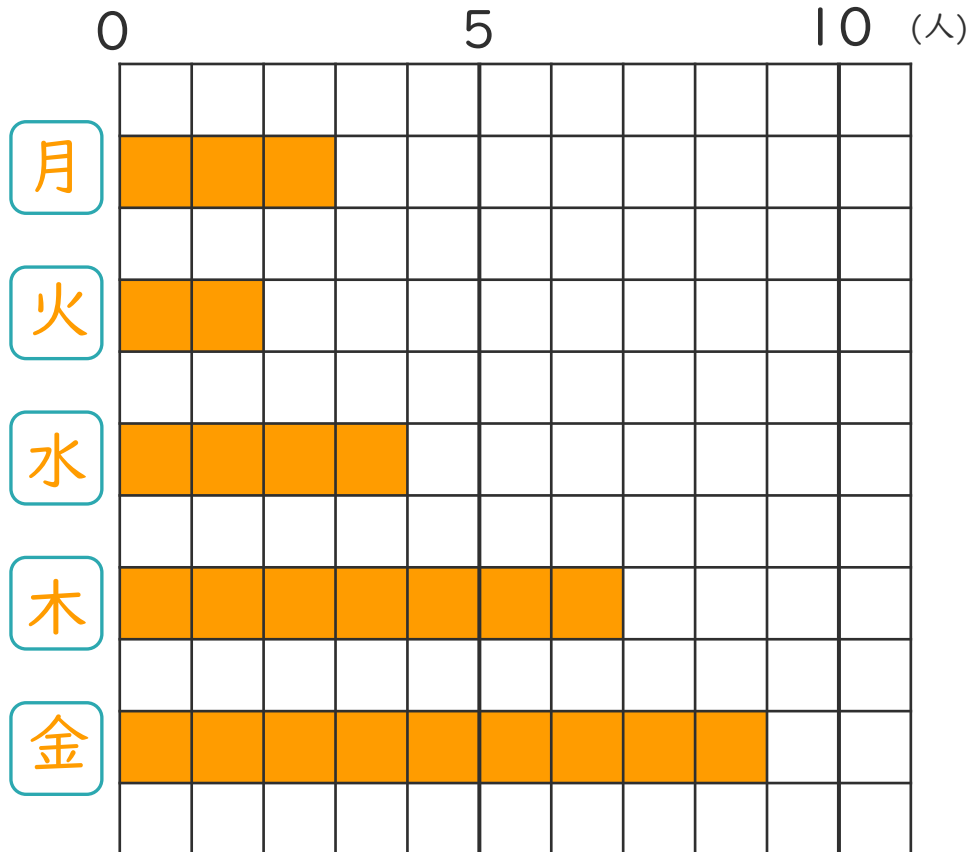
名まえ _____

- ・ ぼうグラフは、ぼうを横にして表すこともできます。
下の表をぼうグラフに表しましょう。(各25点)

休んだ人

曜日	人数 (人)
月	3
火	2
水	4
木	7
金	9

休んだ人



- ① たてじくに曜日を書きましょう。
- ② 表題をグラフの上書きましょう。
- ③ ぼうをかき入れて、グラフを仕上げましょう。
- ④ 休んだ人がいちばん多いのは、何曜日ですか。

〔 金曜日 〕