




## わり算2

◎ 1人分の数を求める



日にち： 月 日

名まえ \_\_\_\_\_

- ① ゼリーが15こあります。  
5人で同じ数ずつ分けると、1人分は何こになりますか。   
(うすい字はなぞりましょう。)

式:  $15 \div 5 = 3$

<ヒント>

15÷5の答えは

**5**のだんの九九で見つけられる


$5 \times 1 = 5$

$5 \times 2 = 10$

★  $5 \times 3 = 15$

答え

こ

- ② いちごが24こあります。  
4人で同じ数ずつ分けると、1人分は何こになりますか。   
(うすい字はなぞりましょう。)

式:  $24 \div 4 =$

<ヒント>

24÷4の答えは

**4**のだんの九九で見つけられる

$4 \times 1 = 4$

$4 \times 2 = 8$

$4 \times 3 = 12$

$4 \times 4 = 16$

$4 \times 5 = 20$

★  $4 \times 6 = 24$

答え

こ



## わり算 2

① 1人分の数を求める



日にち： 月 日

名まえ \_\_\_\_\_

- 1 クッキーが14こあります。  
7人で同じ数ずつ分けると、1人分は何こになりますか。  
(うすい字はなぞりましょう。)



式:  $14 \div 7 =$

<ヒント>

14÷7の答えは

のだんの九九で見つけられる

$7 \times 1 = 7$

★  $7 \times 2 = 14$

答え \_\_\_\_\_

こ

- 2 みかんが30こあります。  
5人で同じ数ずつ分けると、1人分は何こになりますか。  
(うすい字はなぞりましょう。)



式:  $\quad \div \quad =$

<ヒント>

30÷5の答えは

のだんの九九で見つけられる

$5 \times 1 = 5$

$5 \times 2 = 10$

$5 \times 3 = 15$

$5 \times 4 = 20$

$5 \times 5 = 25$

★  $5 \times 6 = 30$

答え \_\_\_\_\_




## わり算 2

● 1人分の数を求める



日にち： 月 日

名まえ \_\_\_\_\_

- 1 色紙が18まいあります。  
6人で同じ数ずつ分けると、1人分は何まいになりますか。  
(うすい字はなぞりましょう。)

式：        ÷        =

答え                      まい

<ヒント>


18÷6の答えは

のだんの九九で見つけられる

$$6 \times 1 = 6$$

$$6 \times 2 = 12$$

$$\star 6 \times \quad = 18$$

- 2 あめが20こあります。  
4人で同じ数ずつ分けると、1人分は何こになりますか。  
(うすい字はなぞりましょう。)

式：        ÷        =

答え

<ヒント>

20÷4の答えは

のだんの九九で見つけられる

$$4 \times 1 = 4$$

$$4 \times 2 = 8$$

$$4 \times 3 = 12$$

$$4 \times \quad = 16$$

$$\star 4 \times \quad = 20$$



## わり算 2

● 1人分の数を求める



日にち： 月 日

名まえ \_\_\_\_\_

- 1 花が6本あります。  
3人で同じ数ずつ分けると、1人分は何本になりますか。  
(うすい字はなぞりましょう。)



式：      ÷      =

<ヒント>

6 ÷ 3の答えは

のだんの九九で見つけられる

$$3 \times 1 = 3$$

★  $3 \times \quad = 6$

答え                  本

- 2 チョコレートが18こあります。  
3人で同じ数ずつ分けると、1人分は何こになりますか。  
(うすい字はなぞりましょう。)



式：      ÷      =

<ヒント>

18 ÷ 3の答えは

のだんの九九で見つけられる

$$3 \times 1 = 3$$

$$3 \times 2 = 6$$

$$3 \times 3 = 9$$

$$3 \times \quad = 12$$

$$3 \times \quad = 15$$

★  $3 \times \quad = 18$

答え



## わり算 2

● 1人分の数を求める



日にち： 月 日

名まえ \_\_\_\_\_

- 1 花が25本あります。  
5人で同じ数ずつ分けると、1人分は何本になりますか。  
(うすい字はなぞりましょう。)

式:  $25 \div 5 =$

答え \_\_\_\_\_ 本

- 2 いちごが32こあります。  
8人で同じ数ずつ分けると、1人分は何こになりますか。  
(うすい字はなぞりましょう。)

式:  $32 \div \quad =$

答え \_\_\_\_\_ こ

- 3 クッキーが28こあります。  
4人で同じ数ずつ分けると、1人分は何こになりますか。

式:

答え \_\_\_\_\_

- 4 みかんが42こあります。  
7人で同じ数ずつ分けると、1人分は何こになりますか。

式:

答え \_\_\_\_\_



## わり算 2

● 1人分の数を求める



日にち： 月 日

名まえ \_\_\_\_\_

- 1 色紙が56まいあります。  
7人で同じ数ずつ分けると、1人分は何まいになりますか。  
(うすい字はなぞりましょう。)

式:  $56 \div 7 =$

答え \_\_\_\_\_

- 2 ゼリーが16こあります。  
4人で同じ数ずつ分けると、1人分は何こになりますか。

式:

答え \_\_\_\_\_

- 3 チョコレートが30こあります。  
5人で同じ数ずつ分けると、1人分は何こになりますか。

式:

答え \_\_\_\_\_

- 4 クッキーが15こあります。  
3人で同じ数ずつ分けると、1人分は何こになりますか。

式:

答え \_\_\_\_\_



## わり算 2

● 1人分の数を求める



日にち： 月 日

名まえ \_\_\_\_\_

- 1 みかんが30こあります。  
6人で同じ数ずつ分けると、1人分は何こになりますか。

式:

答え \_\_\_\_\_

- 2 花が27本あります。  
3人で同じ数ずつ分けると、1人分は何本になりますか。

式:

答え \_\_\_\_\_

- 3 ゼリーが56こあります。  
8人で同じ数ずつ分けると、1人分は何こになりますか。

式:

答え \_\_\_\_\_

- 4 いちごが21こあります。  
7人で同じ数ずつ分けると、1人分は何こになりますか。

式:

答え \_\_\_\_\_



## わり算 2

● 1人分の数を求める



日にち： 月 日

名まえ \_\_\_\_\_

- 1 あめが18こあります。  
9人で同じ数ずつ分けると、1人分は何こになりますか。

式:

答え \_\_\_\_\_

- 2 色紙が16まいあります。  
4人で同じ数ずつ分けると、1人分は何まいになりますか。

式:

答え \_\_\_\_\_

- 3 花が48本あります。  
6人で同じ数ずつ分けると、1人分は何本になりますか。

式:

答え \_\_\_\_\_

- 4 みかんが32こあります。  
8人で同じ数ずつ分けると、1人分は何こになりますか。

式:

答え \_\_\_\_\_





## わり算 2

● 1人分の数を求める



日にち： 月 日

名まえ \_\_\_\_\_

- 1 クッキーが72こあります。  
8人で同じ数ずつ分けると、1人分は何こになりますか。

式:

答え \_\_\_\_\_

- 2 花が25本あります。  
5人で同じ数ずつ分けると、1人分は何本になりますか。

式:

答え \_\_\_\_\_

- 3 あめが49こあります。  
7人で同じ数ずつ分けると、1人分は何こになりますか。

式:

答え \_\_\_\_\_

- 4 いちごが18こあります。  
6人で同じ数ずつ分けると、1人分は何こになりますか。

式:

答え \_\_\_\_\_



## わり算 2

● 1人分の数を求める



日にち： 月 日

名まえ \_\_\_\_\_

- 1 あめが36こあります。  
6人で同じ数ずつ分けると、1人分は何こになりますか。

式:

答え \_\_\_\_\_

- 2 色紙が40まいあります。  
5人で同じ数ずつ分けると、1人分は何まいになりますか。

式:

答え \_\_\_\_\_

- 3 ゼリーが16こあります。  
4人で同じ数ずつ分けると、1人分は何こになりますか。

式:

答え \_\_\_\_\_

- 4 チョコレートが27こあります。  
3人で同じ数ずつ分けると、1人分は何こになりますか。

式:

答え \_\_\_\_\_



## わり算 2

◎ 1人分の数を求める



日にち：      月      日

名まえ \_\_\_\_\_

- 1 チョコレートが27こあります。  
3人で同じ数ずつ分けると、1人分は何こになりますか。

式:

答え \_\_\_\_\_

- 2 みかんが32こあります。  
4人で同じ数ずつ分けると、1人分は何こになりますか。

式:

答え \_\_\_\_\_

- 3 花が21本あります。  
7人で同じ数ずつ分けると、1人分は何本になりますか。

式:

答え \_\_\_\_\_

- 4 いちごが42こあります。  
6人で同じ数ずつ分けると、1人分は何こになりますか。

式:

答え \_\_\_\_\_



## わり算 2

● 1人分の数を求める



日にち： 月 日

名まえ \_\_\_\_\_

- 1 ゼリーが25こあります。  
5人で同じ数ずつ分けると、1人分は何こになりますか。

式:

答え \_\_\_\_\_

- 2 いちごが32こあります。  
4人で同じ数ずつ分けると、1人分は何こになりますか。

式:

答え \_\_\_\_\_

- 3 色紙が18まいあります。  
2人で同じ数ずつ分けると、1人分は何まいになりますか。

式:

答え \_\_\_\_\_

- 4 クッキーが28こあります。  
7人で同じ数ずつ分けると、1人分は何こになりますか。

式:

答え \_\_\_\_\_



## わり算 2

● 1人分の数を求める



日にち： 月 日

名まえ \_\_\_\_\_

- 1 花が24本あります。  
4人で同じ数ずつ分けると、1人分は何本になりますか。

式:

答え \_\_\_\_\_

- 2 みかんが30こあります。  
6人で同じ数ずつ分けると、1人分は何こになりますか。

式:

答え \_\_\_\_\_

- 3 ゼリーが27こあります。  
9人で同じ数ずつ分けると、1人分は何こになりますか。

式:

答え \_\_\_\_\_

- 4 色紙が56まいあります。  
7人で同じ数ずつ分けると、1人分は何まいになりますか。

式:

答え \_\_\_\_\_



## わり算 2

● 1人分の数を求める



日にち： 月 日

名まえ \_\_\_\_\_

- 1 いちごが24こあります。  
3人で同じ数ずつ分けると、1人分は何こになりますか。

式:

答え \_\_\_\_\_

- 2 あめが81こあります。  
9人で同じ数ずつ分けると、1人分は何こになりますか。

式:

答え \_\_\_\_\_

- 3 花が49本あります。  
7人で同じ数ずつ分けると、1人分は何本になりますか。

式:

答え \_\_\_\_\_

- 4 チョコレートが18こあります。  
3人で同じ数ずつ分けると、1人分は何こになりますか。

式:

答え \_\_\_\_\_



## わり算 2

● 1人分の数を求める

15

目指せ75点!



名まえ

---

- 1 花が21本あります。  
3人で同じ数ずつ分けると、1人分は何本になりますか。 (25点)

式:

答え

---

- 2 あめが18こあります。  
2人で同じ数ずつ分けると、1人分は何こになりますか。 (25点)

式:

答え

---

- 3 いちごが35こあります。  
7人で同じ数ずつ分けると、1人分は何こになりますか。 (25点)

式:

答え

---

- 4 色紙が24まいあります。  
8人で同じ数ずつ分けると、1人分は何まいになりますか。 (25点)

式:

答え

---



## わり算 2

◎ 1人分の数を求める

16

目指せ75点!



名まえ

---

- 1 ゼリーが42こあります。  
7人で同じ数ずつ分けると、1人分は何こになりますか。 (25点)

式:

答え

---

- 2 花が27本あります。  
3人で同じ数ずつ分けると、1人分は何本になりますか。 (25点)

式:

答え

---

- 3 色紙が24まいあります。  
6人で同じ数ずつ分けると、1人分は何まいになりますか。 (25点)

式:

答え

---

- 4 クッキーが45こあります。  
9人で同じ数ずつ分けると、1人分は何こになりますか。 (25点)

式:

答え

---






## わり算 2

● 1人分の数を求める



日にち： 月 日

名まえ \_\_\_\_\_

- ① ゼリーが15こあります。  
5人で同じ数ずつ分けると、1人分は何こになりますか。   
(うすい字はなぞりましょう。)

式:  $15 \div 5 = 3$

答え 3こ

<ヒント>


15÷5の答えは

**5**のだんの九九で見つけられる

$$5 \times 1 = 5$$

$$5 \times 2 = 10$$

★  $5 \times 3 = 15$

- ② いちごが24こあります。  
4人で同じ数ずつ分けると、1人分は何こになりますか。   
(うすい字はなぞりましょう。)

式:  $24 \div 4 = 6$

答え 6こ

<ヒント>

24÷4の答えは

**4**のだんの九九で見つけられる

$$4 \times 1 = 4$$

$$4 \times 2 = 8$$

$$4 \times 3 = 12$$

$$4 \times 4 = 16$$

$$4 \times 5 = 20$$

★  $4 \times 6 = 24$



## わり算 2

① 1人分の数を求める



日にち： 月 日

名まえ \_\_\_\_\_

- 1 クッキーが14こあります。  
7人で同じ数ずつ分けると、1人分は何こになりますか。  
(うすい字はなぞりましょう。)



式:  $14 \div 7 = 2$

<ヒント>

14÷7の答えは

**7** のだんの九九で見つけられる

$$7 \times 1 = 7$$

★  $7 \times 2 = 14$

答え 2こ

- 2 みかんが30こあります。  
5人で同じ数ずつ分けると、1人分は何こになりますか。  
(うすい字はなぞりましょう。)



式:  $30 \div 5 = 6$

<ヒント>

30÷5の答えは

**5** のだんの九九で見つけられる

$$5 \times 1 = 5$$

$$5 \times 2 = 10$$

$$5 \times 3 = 15$$

$$5 \times 4 = 20$$

$$5 \times 5 = 25$$

★  $5 \times 6 = 30$

答え 6こ




## わり算 2

● 1人分の数を求める



日にち： 月 日

名まえ \_\_\_\_\_

- 1 色紙が18まいあります。  
6人で同じ数ずつ分けると、1人分は何まいになりますか。  
(うすい字はなぞりましょう。)

式:  $18 \div 6 = 3$

答え 3まい

<ヒント>


18÷6の答えは

**6**のだんの九九で見つけられる

$$6 \times 1 = 6$$

$$6 \times 2 = 12$$

$$\star 6 \times 3 = 18$$

- 2 あめが20こあります。  
4人で同じ数ずつ分けると、1人分は何こになりますか。  
(うすい字はなぞりましょう。)

式:  $20 \div 4 = 5$

答え 5こ

<ヒント>

20÷4の答えは

**4**のだんの九九で見つけられる

$$4 \times 1 = 4$$

$$4 \times 2 = 8$$

$$4 \times 3 = 12$$

$$4 \times 4 = 16$$

$$\star 4 \times 5 = 20$$



## わり算 2

● 1人分の数を求める



日にち：      月      日

名まえ \_\_\_\_\_

- 1 花が6本あります。  
3人で同じ数ずつ分けると、1人分は何本になりますか。  
(うすい字はなぞりましょう。)



式:  $6 \div 3 = 2$

<ヒント>

6 ÷ 3の答えは

3のだんの九九で見つけられる

$$3 \times 1 = 3$$

★  $3 \times 2 = 6$

答え 2本

- 2 チョコレートが18こあります。  
3人で同じ数ずつ分けると、1人分は何こになりますか。  
(うすい字はなぞりましょう。)



式:  $18 \div 3 = 6$

<ヒント>

18 ÷ 3の答えは

3のだんの九九で見つけられる

$$3 \times 1 = 3$$

$$3 \times 2 = 6$$

$$3 \times 3 = 9$$

$$3 \times 4 = 12$$

$$3 \times 5 = 15$$

★  $3 \times 6 = 18$

答え 6こ



## わり算 2

◎ 1人分の数を求める



日にち： 月 日

名まえ \_\_\_\_\_

- 1 花が25本あります。  
5人で同じ数ずつ分けると、1人分は何本になりますか。  
(うすい字はなぞりましょう。)

$$\text{式: } 25 \div 5 = 5$$

答え 5本

- 2 いちごが32こあります。  
8人で同じ数ずつ分けると、1人分は何こになりますか。  
(うすい字はなぞりましょう。)

$$\text{式: } 32 \div 8 = 4$$

答え 4こ

- 3 クッキーが28こあります。  
4人で同じ数ずつ分けると、1人分は何こになりますか。

$$\text{式: } 28 \div 4 = 7$$

答え 7こ

- 4 みかんが42こあります。  
7人で同じ数ずつ分けると、1人分は何こになりますか。

$$\text{式: } 42 \div 7 = 6$$

答え 6こ



## わり算 2

● 1人分の数を求める



日にち： 月 日

名まえ \_\_\_\_\_

- 1 色紙が56まいあります。  
7人で同じ数ずつ分けると、1人分は何まいになりますか。  
(うすい字はなぞりましょう。)

$$\text{式: } 56 \div 7 = 8$$

答え 8まい

- 2 ゼリーが16こあります。  
4人で同じ数ずつ分けると、1人分は何こになりますか。

$$\text{式: } 16 \div 4 = 4$$

答え 4こ

- 3 チョコレートが30こあります。  
5人で同じ数ずつ分けると、1人分は何こになりますか。

$$\text{式: } 30 \div 5 = 6$$

答え 6こ

- 4 クッキーが15こあります。  
3人で同じ数ずつ分けると、1人分は何こになりますか。

$$\text{式: } 15 \div 3 = 5$$

答え 5こ



## わり算 2

● 1人分の数を求める



日にち： 月 日

名まえ \_\_\_\_\_

- 1 みかんが30こあります。  
6人で同じ数ずつ分けると、1人分は何こになりますか。

$$\text{式: } 30 \div 6 = 5$$

答え 5こ

- 2 花が27本あります。  
3人で同じ数ずつ分けると、1人分は何本になりますか。

$$\text{式: } 27 \div 3 = 9$$

答え 9本

- 3 ゼリーが56こあります。  
8人で同じ数ずつ分けると、1人分は何こになりますか。

$$\text{式: } 56 \div 8 = 7$$

答え 7こ

- 4 いちごが21こあります。  
7人で同じ数ずつ分けると、1人分は何こになりますか。

$$\text{式: } 21 \div 7 = 3$$

答え 3こ



## わり算 2

● 1人分の数を求める



日にち： 月 日

名まえ \_\_\_\_\_

- 1 あめが18こあります。  
9人で同じ数ずつ分けると、1人分は何こになりますか。

$$\text{式: } 18 \div 9 = 2$$

答え 2こ

- 2 色紙が16まいあります。  
4人で同じ数ずつ分けると、1人分は何まいになりますか。

$$\text{式: } 16 \div 4 = 4$$

答え 4まい

- 3 花が48本あります。  
6人で同じ数ずつ分けると、1人分は何本になりますか。

$$\text{式: } 48 \div 6 = 8$$

答え 8本

- 4 みかんが32こあります。  
8人で同じ数ずつ分けると、1人分は何こになりますか。

$$\text{式: } 32 \div 8 = 4$$

答え 4こ





## わり算 2

◎ 1人分の数を求める



日にち： 月 日

名まえ \_\_\_\_\_

- 1 クッキーが72こあります。  
8人で同じ数ずつ分けると、1人分は何こになりますか。

$$\text{式: } 72 \div 8 = 9$$

答え 9こ

- 2 花が25本あります。  
5人で同じ数ずつ分けると、1人分は何本になりますか。

$$\text{式: } 25 \div 5 = 5$$

答え 5本

- 3 あめが49こあります。  
7人で同じ数ずつ分けると、1人分は何こになりますか。

$$\text{式: } 49 \div 7 = 7$$

答え 7こ

- 4 いちごが18こあります。  
6人で同じ数ずつ分けると、1人分は何こになりますか。

$$\text{式: } 18 \div 6 = 3$$

答え 3こ



## わり算 2

● 1人分の数を求める



日にち： 月 日

名まえ \_\_\_\_\_

- 1 あめが36こあります。  
6人で同じ数ずつ分けると、1人分は何こになりますか。

$$\text{式: } 36 \div 6 = 6$$

答え 6こ

- 2 色紙が40まいあります。  
5人で同じ数ずつ分けると、1人分は何まいになりますか。

$$\text{式: } 40 \div 5 = 8$$

答え 8まい

- 3 ゼリーが16こあります。  
4人で同じ数ずつ分けると、1人分は何こになりますか。

$$\text{式: } 16 \div 4 = 4$$

答え 4こ

- 4 チョコレートが27こあります。  
3人で同じ数ずつ分けると、1人分は何こになりますか。

$$\text{式: } 27 \div 3 = 9$$

答え 9こ



## わり算 2

◎ 1人分の数を求める



日にち： 月 日

名まえ \_\_\_\_\_

- 1 チョコレートが27こあります。  
3人で同じ数ずつ分けると、1人分は何こになりますか。

$$\text{式: } 27 \div 3 = 9$$

答え 9こ

- 2 みかんが32こあります。  
4人で同じ数ずつ分けると、1人分は何こになりますか。

$$\text{式: } 32 \div 4 = 8$$

答え 8こ

- 3 花が21本あります。  
7人で同じ数ずつ分けると、1人分は何本になりますか。

$$\text{式: } 21 \div 7 = 3$$

答え 3本

- 4 いちごが42こあります。  
6人で同じ数ずつ分けると、1人分は何こになりますか。

$$\text{式: } 42 \div 6 = 7$$

答え 7こ



## わり算 2

● 1人分の数を求める



日にち： 月 日

名まえ \_\_\_\_\_

- 1 ゼリーが25こあります。  
5人で同じ数ずつ分けると、1人分は何こになりますか。

$$\text{式: } 25 \div 5 = 5$$

答え 5こ

- 2 いちごが32こあります。  
4人で同じ数ずつ分けると、1人分は何こになりますか。

$$\text{式: } 32 \div 4 = 8$$

答え 8こ

- 3 色紙が18まいあります。  
2人で同じ数ずつ分けると、1人分は何まいになりますか。

$$\text{式: } 18 \div 2 = 9$$

答え 9まい

- 4 クッキーが28こあります。  
7人で同じ数ずつ分けると、1人分は何こになりますか。

$$\text{式: } 28 \div 7 = 4$$

答え 4こ



## わり算 2

● 1人分の数を求める



日にち： 月 日

名まえ \_\_\_\_\_

- 1 花が24本あります。  
4人で同じ数ずつ分けると、1人分は何本になりますか。

$$\text{式: } 24 \div 4 = 6$$

答え 6本

- 2 みかんが30こあります。  
6人で同じ数ずつ分けると、1人分は何こになりますか。

$$\text{式: } 30 \div 6 = 5$$

答え 5こ

- 3 ゼリーが27こあります。  
9人で同じ数ずつ分けると、1人分は何こになりますか。

$$\text{式: } 27 \div 9 = 3$$

答え 3こ

- 4 色紙が56まいあります。  
7人で同じ数ずつ分けると、1人分は何まいになりますか。

$$\text{式: } 56 \div 7 = 8$$

答え 8まい



## わり算 2

● 1人分の数を求める



日にち： 月 日

名まえ \_\_\_\_\_

- 1 いちごが24こあります。  
3人で同じ数ずつ分けると、1人分は何こになりますか。

$$\text{式: } 24 \div 3 = 8$$

答え 8こ

- 2 あめが81こあります。  
9人で同じ数ずつ分けると、1人分は何こになりますか。

$$\text{式: } 81 \div 9 = 9$$

答え 9こ

- 3 花が49本あります。  
7人で同じ数ずつ分けると、1人分は何本になりますか。

$$\text{式: } 49 \div 7 = 7$$

答え 7本

- 4 チョコレートが18こあります。  
3人で同じ数ずつ分けると、1人分は何こになりますか。

$$\text{式: } 18 \div 3 = 6$$

答え 6こ



## わり算 2

● 1人分の数を求める

15

目指せ75点!



名まえ

---

- 1 花が21本あります。  
3人で同じ数ずつ分けると、1人分は何本になりますか。 (25点)

$$\text{式: } 21 \div 3 = 7$$

答え 7本

- 2 あめが18こあります。  
2人で同じ数ずつ分けると、1人分は何こになりますか。 (25点)

$$\text{式: } 18 \div 2 = 9$$

答え 9こ

- 3 いちごが35こあります。  
7人で同じ数ずつ分けると、1人分は何こになりますか。 (25点)

$$\text{式: } 35 \div 7 = 5$$

答え 5こ

- 4 色紙が24まいあります。  
8人で同じ数ずつ分けると、1人分は何まいになりますか。 (25点)

$$\text{式: } 24 \div 8 = 3$$

答え 3まい



## わり算 2

● 1人分の数を求める

16

目指せ75点!



名まえ

---

- 1 ゼリーが42こあります。  
7人で同じ数ずつ分けると、1人分は何こになりますか。 (25点)

$$\text{式: } 42 \div 7 = 6$$

答え 6こ

- 2 花が27本あります。  
3人で同じ数ずつ分けると、1人分は何本になりますか。 (25点)

$$\text{式: } 27 \div 3 = 9$$

答え 9本

- 3 色紙が24まいあります。  
6人で同じ数ずつ分けると、1人分は何まいになりますか。 (25点)

$$\text{式: } 24 \div 6 = 4$$

答え 4まい

- 4 クッキーが45こあります。  
9人で同じ数ずつ分けると、1人分は何こになりますか。 (25点)

$$\text{式: } 45 \div 9 = 5$$

答え 5こ