




わり算2

◎ 1人分の数を求める



日にち： 月 日

名まえ _____

- ① あめが15こあります。
5人で同じ数ずつ分けると、1人分は何こになりますか。 
(うすい字はなぞりましょう。)

式: $15 \div 5 = 3$

<ヒント>

15÷5の答えは

5のだんの九九で見つけられる


$5 \times 1 = 5$

$5 \times 2 = 10$

★ $5 \times 3 = 15$

答え

こ

- ② いちごが24こあります。
4人で同じ数ずつ分けると、1人分は何こになりますか。 
(うすい字はなぞりましょう。)

式: $24 \div 4 =$

<ヒント>

24÷4の答えは

4のだんの九九で見つけられる

$4 \times 1 = 4$

$4 \times 2 = 8$

$4 \times 3 = 12$

$4 \times 4 = 16$

$4 \times 5 = 20$

★ $4 \times 6 = 24$

答え

こ



わり算 2

① 1人分の数を求める



日にち： 月 日

名まえ _____

- 1 クッキーが14こあります。
7人で同じ数ずつ分けると、1人分は何こになりますか。
(うすい字はなぞりましょう。)



式: $14 \div 7 =$

<ヒント>

14÷7の答えは

7のだんの九九で見つけられる

$7 \times 1 = 7$

★ $7 \times 2 = 14$

答え _____

こ

- 2 みかんが30こあります。
5人で同じ数ずつ分けると、1人分は何こになりますか。
(うすい字はなぞりましょう。)



式: \div =

<ヒント>

30÷5の答えは

 のだんの九九で見つけられる

$5 \times 1 = 5$

$5 \times 2 = 10$

$5 \times 3 = 15$

$5 \times 4 = 20$

$5 \times 5 = 25$

★ $5 \times 6 = 30$

答え _____




わり算 2

● 1人分の数を求める



日にち： 月 日

名まえ _____

- 1 色紙が18まいあります。
6人で同じ数ずつ分けると、1人分は何まいになりますか。
(うすい字はなぞりましょう。)

式： ÷ =

答え _____

まい

<ヒント>


18÷6の答えは

のだんの九九で見つけられる

$$6 \times 1 = 6$$

$$6 \times 2 = 12$$

$$\star 6 \times \quad = 18$$

- 2 あめが20こあります。
4人で同じ数ずつ分けると、1人分は何こになりますか。
(うすい字はなぞりましょう。)

式： ÷ =

答え _____

<ヒント>

20÷4の答えは

のだんの九九で見つけられる

$$4 \times 1 = 4$$

$$4 \times 2 = 8$$

$$4 \times 3 = 12$$

$$4 \times \quad = 16$$

$$\star 4 \times \quad = 20$$



わり算 2

● 1人分の数を求める



日にち： 月 日

名まえ _____

- 1 花が6本あります。
3人で同じ数ずつ分けると、1人分は何本になりますか。
(うすい字はなぞりましょう。)



式: ÷ =

答え _____

本

<ヒント>

6 ÷ 3の答えは

のだんの九九で見つけられる

3 × 1 = 3

★ 3 × = 6

- 2 チョコレートが18こあります。
3人で同じ数ずつ分けると、1人分は何こになりますか。
(うすい字はなぞりましょう。)



式: ÷ =

答え _____

<ヒント>

18 ÷ 3の答えは

のだんの九九で見つけられる

3 × 1 = 3

3 × 2 = 6

3 × 3 = 9

3 × = 12

3 × = 15

★ 3 × = 18



わり算 2

◎ 1人分の数を求める



日にち： 月 日

名まえ _____

- 1 花が25本あります。
5人で同じ数ずつ分けると、1人分は何本になりますか。
(うすい字はなぞりましょう。)

式: $25 \div 5 =$

答え _____ 本

- 2 いちごが32こあります。
8人で同じ数ずつ分けると、1人分は何こになりますか。
(うすい字はなぞりましょう。)

式: $32 \div \quad =$

答え _____ こ

- 3 クッキーが28こあります。
4人で同じ数ずつ分けると、1人分は何こになりますか。

式:

答え _____

- 4 みかんが42こあります。
7人で同じ数ずつ分けると、1人分は何こになりますか。

式:

答え _____



わり算 2

● 1人分の数を求める



日にち： 月 日

名まえ _____

- 1 色紙が56まいあります。
7人で同じ数ずつ分けると、1人分は何まいになりますか。
(うすい字はなぞりましょう。)

式: $56 \div 7 =$

答え _____

- 2 ゼリーが16こあります。
4人で同じ数ずつ分けると、1人分は何こになりますか。

式:

答え _____

- 3 チョコレートが30こあります。
5人で同じ数ずつ分けると、1人分は何こになりますか。

式:

答え _____

- 4 クッキーが15こあります。
3人で同じ数ずつ分けると、1人分は何こになりますか。

式:

答え _____



わり算 2

● 1人分の数を求める



日にち： 月 日

名まえ _____

- 1 みかんが30こあります。
6人で同じ数ずつ分けると、1人分は何こになりますか。

式:

答え _____

- 2 花が27本あります。
3人で同じ数ずつ分けると、1人分は何本になりますか。

式:

答え _____

- 3 ゼリーが56こあります。
8人で同じ数ずつ分けると、1人分は何こになりますか。

式:

答え _____

- 4 いちごが21こあります。
7人で同じ数ずつ分けると、1人分は何こになりますか。

式:

答え _____



わり算 2

● 1人分の数を求める



日にち： 月 日

名まえ _____

- 1 あめが18こあります。
9人で同じ数ずつ分けると、1人分は何こになりますか。

式:

答え _____

- 2 色紙が16まいあります。
4人で同じ数ずつ分けると、1人分は何まいになりますか。

式:

答え _____

- 3 花が48本あります。
6人で同じ数ずつ分けると、1人分は何本になりますか。

式:

答え _____

- 4 みかんが32こあります。
8人で同じ数ずつ分けると、1人分は何こになりますか。

式:

答え _____



わり算 2

● 1人分の数を求める



日にち： 月 日

名まえ _____

- 1 クッキーが72こあります。
8人で同じ数ずつ分けると、1人分は何こになりますか。

式:

答え _____

- 2 花が25本あります。
5人で同じ数ずつ分けると、1人分は何本になりますか。

式:

答え _____

- 3 あめが49こあります。
7人で同じ数ずつ分けると、1人分は何こになりますか。

式:

答え _____

- 4 いちごが18こあります。
6人で同じ数ずつ分けると、1人分は何こになりますか。

式:

答え _____



わり算 2

● 1人分の数を求める



日にち： 月 日

名まえ _____

- 1 あめが36こあります。
6人で同じ数ずつ分けると、1人分は何こになりますか。

式:

答え _____

- 2 色紙が40まいあります。
5人で同じ数ずつ分けると、1人分は何まいになりますか。

式:

答え _____

- 3 ゼリーが16こあります。
4人で同じ数ずつ分けると、1人分は何こになりますか。

式:

答え _____

- 4 チョコレートが27こあります。
3人で同じ数ずつ分けると、1人分は何こになりますか。

式:

答え _____



わり算 2

● 1人分の数を求める



日にち： 月 日

名まえ _____

- 1 チョコレートが27こあります。
3人で同じ数ずつ分けると、1人分は何こになりますか。

式:

答え _____

- 2 みかんが32こあります。
4人で同じ数ずつ分けると、1人分は何こになりますか。

式:

答え _____

- 3 花が21本あります。
7人で同じ数ずつ分けると、1人分は何本になりますか。

式:

答え _____

- 4 いちごが42こあります。
6人で同じ数ずつ分けると、1人分は何こになりますか。

式:

答え _____



わり算 2

● 1人分の数を求める



日にち： 月 日

名まえ _____

- 1 ゼリーが25こあります。
5人で同じ数ずつ分けると、1人分は何こになりますか。

式:

答え _____

- 2 いちごが32こあります。
4人で同じ数ずつ分けると、1人分は何こになりますか。

式:

答え _____

- 3 色紙が18まいあります。
2人で同じ数ずつ分けると、1人分は何まいになりますか。

式:

答え _____

- 4 クッキーが28こあります。
7人で同じ数ずつ分けると、1人分は何こになりますか。

式:

答え _____



わり算 2

● 1人分の数を求める



日にち： 月 日

名まえ _____

- 1 花が24本あります。
4人で同じ数ずつ分けると、1人分は何本になりますか。

式:

答え _____

- 2 みかんが30こあります。
6人で同じ数ずつ分けると、1人分は何こになりますか。

式:

答え _____

- 3 ゼリーが27こあります。
9人で同じ数ずつ分けると、1人分は何こになりますか。

式:

答え _____

- 4 色紙が56まいあります。
7人で同じ数ずつ分けると、1人分は何まいになりますか。

式:

答え _____



わり算 2

● 1人分の数を求める



日にち： 月 日

名まえ _____

- 1 いちごが24こあります。
3人で同じ数ずつ分けると、1人分は何こになりますか。

式:

答え _____

- 2 あめが81こあります。
9人で同じ数ずつ分けると、1人分は何こになりますか。

式:

答え _____

- 3 花が49本あります。
7人で同じ数ずつ分けると、1人分は何本になりますか。

式:

答え _____

- 4 チョコレートが18こあります。
3人で同じ数ずつ分けると、1人分は何こになりますか。

式:

答え _____



わり算 2

● 1人分の数を求める

15

目指せ75点!



名まえ

- 1 花が21本あります。
3人で同じ数ずつ分けると、1人分は何本になりますか。 (25点)

式:

答え

- 2 あめが18こあります。
2人で同じ数ずつ分けると、1人分は何こになりますか。 (25点)

式:

答え

- 3 いちごが35こあります。
7人で同じ数ずつ分けると、1人分は何こになりますか。 (25点)

式:

答え

- 4 色紙が24まいあります。
8人で同じ数ずつ分けると、1人分は何まいになりますか。 (25点)

式:

答え



わり算 2

● 1人分の数を求める

16

目指せ75点!



名まえ

- 1 ゼリーが42こあります。
7人で同じ数ずつ分けると、1人分は何こになりますか。 (25点)

式:

答え

- 2 花が27本あります。
3人で同じ数ずつ分けると、1人分は何本になりますか。 (25点)

式:

答え

- 3 色紙が24まいあります。
6人で同じ数ずつ分けると、1人分は何まいになりますか。 (25点)

式:

答え

- 4 クッキーが45こあります。
9人で同じ数ずつ分けると、1人分は何こになりますか。 (25点)

式:

答え




わり算 2

● 1人分の数を求める



日にち： 月 日

名まえ _____

- 1 あめが15こあります。
5人で同じ数ずつ分けると、1人分は何こになりますか。 
(うすい字はなぞりましょう。)

式: $15 \div 5 = 3$

答え 3こ

<ヒント>


15÷5の答えは

5のだんの九九で見つけられる

$$5 \times 1 = 5$$

$$5 \times 2 = 10$$

★ $5 \times 3 = 15$

- 2 いちごが24こあります。
4人で同じ数ずつ分けると、1人分は何こになりますか。 
(うすい字はなぞりましょう。)

式: $24 \div 4 = 6$

答え 6こ

<ヒント>

24÷4の答えは

4のだんの九九で見つけられる

$$4 \times 1 = 4$$

$$4 \times 2 = 8$$

$$4 \times 3 = 12$$

$$4 \times 4 = 16$$

$$4 \times 5 = 20$$

★ $4 \times 6 = 24$





わり算 2

● 1人分の数を求める



日にち： 月 日

名まえ _____

- 1 クッキーが14こあります。
7人で同じ数ずつ分けると、1人分は何こになりますか。
(うすい字はなぞりましょう。)



式: $14 \div 7 = 2$

<ヒント>

14÷7の答えは

7 のだんの九九で見つけられる

$$7 \times 1 = 7$$

★ $7 \times 2 = 14$

答え 2こ

- 2 みかんが30こあります。
5人で同じ数ずつ分けると、1人分は何こになりますか。
(うすい字はなぞりましょう。)



式: $30 \div 5 = 6$

<ヒント>

30÷5の答えは

5 のだんの九九で見つけられる

$$5 \times 1 = 5$$

$$5 \times 2 = 10$$

$$5 \times 3 = 15$$

$$5 \times 4 = 20$$

$$5 \times 5 = 25$$

★ $5 \times 6 = 30$

答え 6こ




わり算 2

● 1人分の数を求める



日にち： 月 日

名まえ _____

- 1 色紙が18まいあります。
6人で同じ数ずつ分けると、1人分は何まいになりますか。
(うすい字はなぞりましょう。)

式: $18 \div 6 = 3$

答え 3まい

<ヒント>


18÷6の答えは

6のだんの九九で見つけられる

$$6 \times 1 = 6$$

$$6 \times 2 = 12$$

$$\star 6 \times 3 = 18$$

- 2 あめが20こあります。
4人で同じ数ずつ分けると、1人分は何こになりますか。
(うすい字はなぞりましょう。)

式: $20 \div 4 = 5$

答え 5こ

<ヒント>

20÷4の答えは

4のだんの九九で見つけられる

$$4 \times 1 = 4$$

$$4 \times 2 = 8$$

$$4 \times 3 = 12$$

$$4 \times 4 = 16$$

$$\star 4 \times 5 = 20$$



わり算 2

● 1人分の数を求める



日にち： 月 日

名まえ _____

- 1 花が6本あります。
3人で同じ数ずつ分けると、1人分は何本になりますか。
(うすい字はなぞりましょう。)



式: $6 \div 3 = 2$

<ヒント>

6 ÷ 3の答えは

3のだんの九九で見つけられる

$$3 \times 1 = 3$$

★ $3 \times 2 = 6$

答え 2本

- 2 チョコレートが18こあります。
3人で同じ数ずつ分けると、1人分は何こになりますか。
(うすい字はなぞりましょう。)



式: $18 \div 3 = 6$

<ヒント>

18 ÷ 3の答えは

3のだんの九九で見つけられる

$$3 \times 1 = 3$$

$$3 \times 2 = 6$$

$$3 \times 3 = 9$$

$$3 \times 4 = 12$$

$$3 \times 5 = 15$$

★ $3 \times 6 = 18$

答え 6こ



わり算 2

◎ 1人分の数を求める



日にち： 月 日

名まえ _____

- 1 花が25本あります。
5人で同じ数ずつ分けると、1人分は何本になりますか。
(うすい字はなぞりましょう。)

$$\text{式: } 25 \div 5 = 5$$

答え 5本

- 2 いちごが32こあります。
8人で同じ数ずつ分けると、1人分は何こになりますか。
(うすい字はなぞりましょう。)

$$\text{式: } 32 \div 8 = 4$$

答え 4こ

- 3 クッキーが28こあります。
4人で同じ数ずつ分けると、1人分は何こになりますか。

$$\text{式: } 28 \div 4 = 7$$

答え 7こ

- 4 みかんが42こあります。
7人で同じ数ずつ分けると、1人分は何こになりますか。

$$\text{式: } 42 \div 7 = 6$$

答え 6こ



わり算 2

● 1人分の数を求める



日にち： 月 日

名まえ _____

- 1 色紙が56まいあります。
7人で同じ数ずつ分けると、1人分は何まいになりますか。
(うすい字はなぞりましょう。)

$$\text{式: } 56 \div 7 = 8$$

答え 8まい

- 2 ゼリーが16こあります。
4人で同じ数ずつ分けると、1人分は何こになりますか。

$$\text{式: } 16 \div 4 = 4$$

答え 4こ

- 3 チョコレートが30こあります。
5人で同じ数ずつ分けると、1人分は何こになりますか。

$$\text{式: } 30 \div 5 = 6$$

答え 6こ

- 4 クッキーが15こあります。
3人で同じ数ずつ分けると、1人分は何こになりますか。

$$\text{式: } 15 \div 3 = 5$$

答え 5こ



わり算 2

● 1人分の数を求める



日にち： 月 日

名まえ _____

- 1 みかんが30こあります。
6人で同じ数ずつ分けると、1人分は何こになりますか。

$$\text{式: } 30 \div 6 = 5$$

答え 5こ

- 2 花が27本あります。
3人で同じ数ずつ分けると、1人分は何本になりますか。

$$\text{式: } 27 \div 3 = 9$$

答え 9本

- 3 ゼリーが56こあります。
8人で同じ数ずつ分けると、1人分は何こになりますか。

$$\text{式: } 56 \div 8 = 7$$

答え 7こ

- 4 いちごが21こあります。
7人で同じ数ずつ分けると、1人分は何こになりますか。

$$\text{式: } 21 \div 7 = 3$$

答え 3こ



わり算 2

● 1人分の数を求める



日にち： 月 日

名まえ _____

- 1 あめが18こあります。
9人で同じ数ずつ分けると、1人分は何こになりますか。

$$\text{式: } 18 \div 9 = 2$$

答え 2こ

- 2 色紙が16まいあります。
4人で同じ数ずつ分けると、1人分は何まいになりますか。

$$\text{式: } 16 \div 4 = 4$$

答え 4まい

- 3 花が48本あります。
6人で同じ数ずつ分けると、1人分は何本になりますか。

$$\text{式: } 48 \div 6 = 8$$

答え 8本

- 4 みかんが32こあります。
8人で同じ数ずつ分けると、1人分は何こになりますか。

$$\text{式: } 32 \div 8 = 4$$

答え 4こ



わり算 2

● 1人分の数を求める



日にち： 月 日

名まえ _____

- 1 クッキーが72こあります。
8人で同じ数ずつ分けると、1人分は何こになりますか。

$$\text{式: } 72 \div 8 = 9$$

答え 9こ

- 2 花が25本あります。
5人で同じ数ずつ分けると、1人分は何本になりますか。

$$\text{式: } 25 \div 5 = 5$$

答え 5本

- 3 あめが49こあります。
7人で同じ数ずつ分けると、1人分は何こになりますか。

$$\text{式: } 49 \div 7 = 7$$

答え 7こ

- 4 いちごが18こあります。
6人で同じ数ずつ分けると、1人分は何こになりますか。

$$\text{式: } 18 \div 6 = 3$$

答え 3こ



わり算 2

● 1人分の数を求める



日にち： 月 日

名まえ _____

- 1 あめが36こあります。
6人で同じ数ずつ分けると、1人分は何こになりますか。

$$\text{式: } 36 \div 6 = 6$$

答え 6こ

- 2 色紙が40まいあります。
5人で同じ数ずつ分けると、1人分は何まいになりますか。

$$\text{式: } 40 \div 5 = 8$$

答え 8まい

- 3 ゼリーが16こあります。
4人で同じ数ずつ分けると、1人分は何こになりますか。

$$\text{式: } 16 \div 4 = 4$$

答え 4こ

- 4 チョコレートが27こあります。
3人で同じ数ずつ分けると、1人分は何こになりますか。

$$\text{式: } 27 \div 3 = 9$$

答え 9こ



わり算 2

◎ 1人分の数を求める



日にち： 月 日

名まえ _____

- ① チョコレートが27こあります。
3人で同じ数ずつ分けると、1人分は何こになりますか。

$$\text{式: } 27 \div 3 = 9$$

答え 9こ

- ② みかんが32こあります。
4人で同じ数ずつ分けると、1人分は何こになりますか。

$$\text{式: } 32 \div 4 = 8$$

答え 8こ

- ③ 花が21本あります。
7人で同じ数ずつ分けると、1人分は何本になりますか。

$$\text{式: } 21 \div 7 = 3$$

答え 3本

- ④ いちごが42こあります。
6人で同じ数ずつ分けると、1人分は何こになりますか。

$$\text{式: } 42 \div 6 = 7$$

答え 7こ



わり算 2

● 1人分の数を求める



日にち： 月 日

名まえ _____

- 1 ゼリーが25こあります。
5人で同じ数ずつ分けると、1人分は何こになりますか。

式: $25 \div 5 = 5$

答え 5こ

- 2 いちごが32こあります。
4人で同じ数ずつ分けると、1人分は何こになりますか。

式: $32 \div 4 = 8$

答え 8こ

- 3 色紙が18まいあります。
2人で同じ数ずつ分けると、1人分は何まいになりますか。

式: $18 \div 2 = 9$

答え 9まい

- 4 クッキーが28こあります。
7人で同じ数ずつ分けると、1人分は何こになりますか。

式: $28 \div 7 = 4$

答え 4こ



わり算 2

● 1人分の数を求める



日にち： 月 日

名まえ _____

- 1 花が24本あります。
4人で同じ数ずつ分けると、1人分は何本になりますか。

$$\text{式: } 24 \div 4 = 6$$

答え 6本

- 2 みかんが30こあります。
6人で同じ数ずつ分けると、1人分は何こになりますか。

$$\text{式: } 30 \div 6 = 5$$

答え 5こ

- 3 ゼリーが27こあります。
9人で同じ数ずつ分けると、1人分は何こになりますか。

$$\text{式: } 27 \div 9 = 3$$

答え 3こ

- 4 色紙が56まいあります。
7人で同じ数ずつ分けると、1人分は何まいになりますか。

$$\text{式: } 56 \div 7 = 8$$

答え 8まい



わり算 2

● 1人分の数を求める



日にち： 月 日

名まえ _____

- 1 いちごが24こあります。
3人で同じ数ずつ分けると、1人分は何こになりますか。

$$\text{式: } 24 \div 3 = 8$$

答え 8こ

- 2 あめが81こあります。
9人で同じ数ずつ分けると、1人分は何こになりますか。

$$\text{式: } 81 \div 9 = 9$$

答え 9こ

- 3 花が49本あります。
7人で同じ数ずつ分けると、1人分は何本になりますか。

$$\text{式: } 49 \div 7 = 7$$

答え 7本

- 4 チョコレートが18こあります。
3人で同じ数ずつ分けると、1人分は何こになりますか。

$$\text{式: } 18 \div 3 = 6$$

答え 6こ



わり算 2

● 1人分の数を求める

15

目指せ75点!



名まえ

- 1 花が21本あります。
3人で同じ数ずつ分けると、1人分は何本になりますか。 (25点)

式: $21 \div 3 = 7$

答え 7本

- 2 あめが18こあります。
2人で同じ数ずつ分けると、1人分は何こになりますか。 (25点)

式: $18 \div 2 = 9$

答え 9こ

- 3 いちごが35こあります。
7人で同じ数ずつ分けると、1人分は何こになりますか。 (25点)

式: $35 \div 7 = 5$

答え 5こ

- 4 色紙が24まいあります。
8人で同じ数ずつ分けると、1人分は何まいになりますか。 (25点)

式: $24 \div 8 = 3$

答え 3まい



わり算 2

◎ 1人分の数を求める

16

目指せ75点!



名まえ

- 1 ゼリーが42こあります。
7人で同じ数ずつ分けると、1人分は何こになりますか。 (25点)

$$\text{式: } 42 \div 7 = 6$$

答え 6こ

- 2 花が27本あります。
3人で同じ数ずつ分けると、1人分は何本になりますか。 (25点)

$$\text{式: } 27 \div 3 = 9$$

答え 9本

- 3 色紙が24まいあります。
6人で同じ数ずつ分けると、1人分は何まいになりますか。 (25点)

$$\text{式: } 24 \div 6 = 4$$

答え 4まい

- 4 クッキーが45こあります。
9人で同じ数ずつ分けると、1人分は何こになりますか。 (25点)

$$\text{式: } 45 \div 9 = 5$$

答え 5こ