



わり算5

◎長さや水の量のわり算



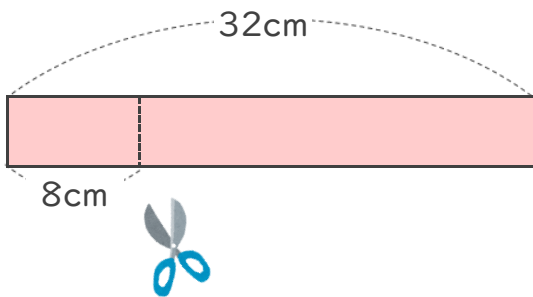
日にち： 月 日

名まえ _____

- 1 32cmのリボンがあります。
8cmずつに切ると、何本になりますか。

(うすい字はなぞりましょう。)

式: $32 \div 8 =$



答え

本

<ヒント>

32÷8の答えは

のだんの九九で見つけられる

$8 \times 1 = 8$

$8 \times 2 = 16$

$8 \times 3 = 24$

★ $8 \times \quad = 32$

- 2 24dLのジュースがあります。
4dLずつコップに分けるには、コップは何こいりますか。

(うすい字はなぞりましょう。)

式: $24 \div 4 =$

<ヒント>

24÷4の答えは

のだんの九九で見つけられる

$4 \times 1 = 4$

$4 \times 2 = 8$

$4 \times 3 = 12$

$4 \times 4 = 16$

$4 \times 5 = 20$

★ $4 \times \quad = 24$

答え

つ



わり算5

◎長さや水の量のわり算

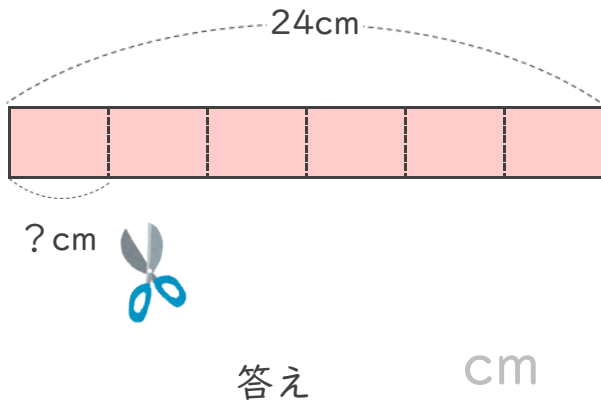


日にち： 月 日

名まえ _____

- 1 24cmのテープがあります。
 同じ長さで6つに分けると、1つ分は何cmになりますか。
 (うすい字はなぞりましょう。)

式： ÷ =



<ヒント>

24÷6の答えは

6のだんの九九で見つけられる

$$6 \times 1 = 6$$

$$6 \times 2 = 12$$

$$6 \times 3 = 18$$

★ $6 \times 4 = 24$

- 2 12Lの油があります。
 2本のびんに同じように分けて入れると、びん1本分は何Lですか。
 (うすい字はなぞりましょう。)

式： ÷ =

答え _____

<ヒント>

12÷2の答えは

 のだんの九九で見つけられる

$$2 \times 1 = 2$$

$$2 \times 2 = 4$$

$$2 \times 3 = 6$$

$$2 \times 4 = 8$$

$$2 \times 5 = 10$$

★ $2 \times 6 = 12$



わり算5

◎長さや水の量のわり算



日にち： 月 日

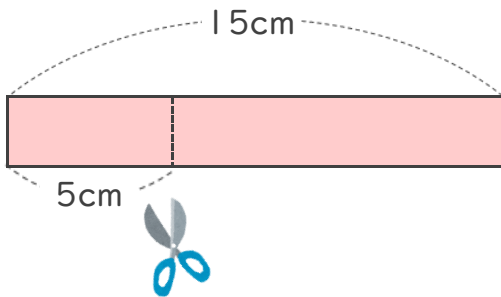
名まえ _____

③ 確認

- 1 15cmのリボンがあります。
5cmずつに切ると、何本になりますか。

(うすい字はなぞりましょう。)

式： ÷ =



答え _____

<ヒント>

15÷5の答えは

のだんの九九で見つけられる

5 × 1 = 5

5 × = 10

★ 5 × = 15

- 2 35dLのジュースがあります。
7dLずつコップに分けるには、コップは何こいりますか。

式： ÷ =

<ヒント>

35÷7の答えは

のだんの九九で見つけられる

7 × = 7

7 × = 14

7 × = 21

7 × = 28

★ 7 × = 35

答え _____

③ 確認



わり算5

◎長さや水の量のわり算

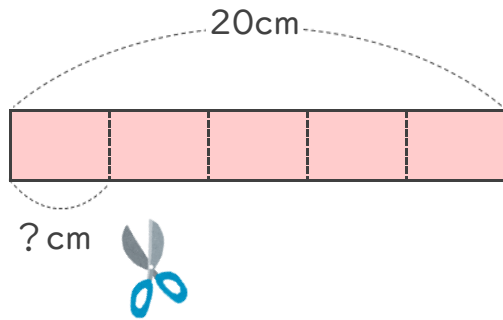


日にち： 月 日

名まえ _____

- 1 20cmのテープがあります。
 同じ長さで5つに分けると、1つ分は何cmになりますか。
 (うすい字はなぞりましょう。)

式: ÷ =



答え _____

<ヒント>

20÷5の答えは

のだんの九九で見つけられる

5 × 1 = 5

5 × = 10

5 × = 15

★ 5 × = 20

- 2 45Lの油があります。
 9本のびんに同じように分けて入れると、びん1本分は何Lですか。

式: ÷ =

<ヒント>

45÷9の答えは

のだんの九九で見つけられる

9 × = 9

9 × = 18

9 × = 27

9 × = 36

★ 9 × = 45

答え _____



わり算5

◎ 長さや水の量のわり算



日にち： 月 日

名まえ _____

- 1 24cmのテープがあります。
同じ長さで8つに分けると、1つ分は何cmになりますか。

(うすい字はなぞりましょう。)

式： \div =

答え _____ cm

- 2 12Lの油があります。
4本のびんに同じように分けて入れると、びん1本分は何Lですか。

(うすい字はなぞりましょう。)

式： \div =

答え _____ L

- 3 36dLのジュースがあります。
6dLずつコップに分けるには、コップは何こいりますか。

式：

答え _____

- 4 45cmのテープがあります。
5cmずつにきると、何本になりますか。

式：

答え _____



わり算5

◎長さや水の量のわり算



日にち： 月 日

名まえ _____

- 1 21cmのテープがあります。
同じ長さで3つに分けると、1つ分は何cmになりますか。

(うすい字はなぞりましょう。)

式: $21 \div 3 =$

答え _____

- 2 16Lの油があります。
4本のびんに同じように分けて入れると、びん1本分は何Lですか。

式:

答え _____

- 3 18dLのジュースがあります。
9dLずつコップに分けるには、コップは何こいりますか。

式:

答え _____

- 4 48cmのリボンがあります。
6cmずつに切ると、何本になりますか。

式:

答え _____



わり算5

◎ 長さや水の量のわり算



日にち： 月 日

名まえ _____

- 1 63dLのジュースがあります。
7dLずつコップに分けるには、コップは何こいりますか。

式:

答え _____

- 2 15cmのリボンがあります。
5cmずつに切ると、何本になりますか。

式:

答え _____

- 3 36cmのテープがあります。
同じ長さで6つに分けると、1つ分は何cmになりますか。

式:

答え _____

- 4 12Lの油があります。
3本のびんに同じように分けて入れると、びん1本分は何Lですか。

式:

答え _____



わり算 5

◎ 長さや水の量のわり算



日にち： 月 日

名まえ _____

- 1 24Lの油があります。
4本のびんに同じように分けて入れると、びん1本分は何Lですか。

式:

答え _____

- 2 72cmのリボンがあります。
8cmずつに切ると、何本になりますか。

式:

答え _____

- 3 27cmのテープがあります。
同じ長さで9つに分けると、1つ分は何cmになりますか。

式:

答え _____

- 4 56dLのジュースがあります。
7dLずつコップに分けるには、コップは何こいりますか。

式:

答え _____



わり算 5

◎ 長さや水の量のわり算



日にち： 月 日

名まえ _____

- 1 14cmのリボンがあります。
7cmずつに切ると、何本になりますか。

式:

答え _____

- 2 40Lの油があります。
5本のびんに同じように分けて入れると、びん1本分は何Lですか。

式:

答え _____

- 3 72cmのテープがあります。
同じ長さで8つに分けると、1つ分は何cmになりますか。

式:

答え _____

- 4 63dLのジュースがあります。
9dLずつコップに分けるには、コップは何こいりますか。

式:

答え _____



わり算5

◎ 長さや水の量のわり算



日にち： 月 日

名まえ _____

- 1 36cmのテープがあります。
同じ長さで9つに分けると、1つ分は何cmになりますか。

式:

答え _____

- 2 15このボールを5こずつかごに入れます。
かごはいくついらいますか。

式:

答え _____

- 3 28dLのジュースがあります。
4dLずつコップに分けるには、コップは何こいらいますか。

式:

答え _____

- 4 クッキーを32こやきました。
1つのふくろに8こずつ入れると、何ふくろできますか。

式:

答え _____



わり算5

◎ 長さや水の量のわり算



日にち： 月 日

名まえ _____

- 1 21cmのテープがあります。
同じ長さで7つに分けると、1つ分は何cmになりますか。

式:

答え _____

- 2 32Lの油があります。
8本のびんに同じように分けて入れると、びん1本分は何Lですか。

式:

答え _____

- 3 24このボールを4こずつかごに入れます。
かごはいくついらいますか。

式:

答え _____

- 4 お手玉が27こあります。
1人に3こずつ分けると、何人に分けられますか。

式:

答え _____



わり算5

◎ 長さや水の量のわり算

12

日にち： 月 日

名まえ _____

- 1 36dLのジュースがあります。
9dLずつコップに分けるには、コップは何こいりますか。

式:

答え _____

- 2 40cmのリボンがあります。
8cmずつに切ると、何本になりますか。

式:

答え _____

- 3 クッキーを56こやきました。
1つのふくろに7こずつ入れると、何ふくろできますか。

式:

答え _____

- 4 チョコレートが32こあります。
1人に4こずつ分けると、何人に分けられますか。

式:

答え _____



わり算5

◎長さや水の量のわり算

13

日にち： 月 日

名まえ _____

- 1 24cmのテープがあります。
同じ長さで4つに分けると、1つ分は何cmになりますか。

式:

答え _____

- 2 25Lの油があります。
5本のびんに同じように分けて入れると、びん1本分は何Lですか。

式:

答え _____

- 3 64ページの本を、1日に8ページずつ読みます。
何日で読み終わりますか。

式:

答え _____

- 4 色紙が42まいあります。6まいずつ分けると、
何人に分けられますか。

式:

答え _____



わり算5

◎ 長さや水の量のわり算

14

日にち： 月 日

名まえ _____

- 1 12dLのジュースがあります。
4dLずつコップに分けるには、コップは何こいりますか。

式:

答え _____

- 2 54cmのリボンがあります。
9cmずつに切ると、何本になりますか。

式:

答え _____

- 3 宿題が54まいあります。
1日に6まいずつやると、何日でおわりますか。

式:

答え _____

- 4 あめが28こあります。
1人に7こずつ分けると、何人に分けられますか。

式:

答え _____



わり算 5

◎ 長さや水の量のわり算

15

目指せ75点!



名まえ

- 1 18Lの油があります。
6本のびんに同じように分けて入れると、びん1本分は何Lですか。
(25点)

式:

答え

- 2 色紙が72まいあります。
1人に8まいずつ分けると、何人に分けられますか。
(25点)

式:

答え

- 3 63cmのリボンがあります。
9cmずつに切ると、何本になりますか。
(25点)

式:

答え

- 4 花が12本あります。3本ずつたばにして花たばを作ります。
花たばはいくつできますか。
(25点)

式:

答え



わり算5

◎ 長さや水の量のわり算

16

目指せ75点!



名まえ

- 1 42dLのジュースがあります。
7dLずつコップに分けるには、コップは何こいりますか。 (25点)

式:

答え

- 2 54このボールを6こずつかごに入れます。
かごはいくついりますか。 (25点)

式:

答え

- 3 40人の子どもが、5人ずつ長いすにすわります。
長いすはいくついりますか。 (25点)

式:

答え

- 4 24cmのテープがあります。
同じ長さで3つに分けると、1つ分は何cmになりますか。 (25点)

式:

答え



わり算5

◎長さや水の量のわり算



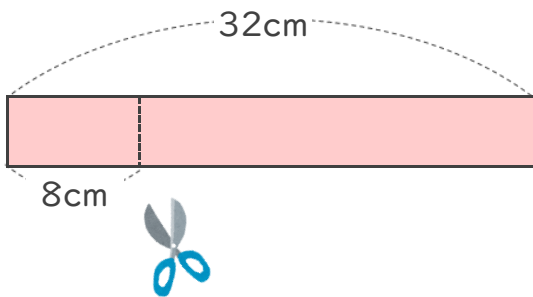
日にち： 月 日

名まえ _____

- 1 32cmのリボンがあります。
8cmずつに切ると、何本になりますか。

(うすい字はなぞりましょう。)

式: $32 \div 8 = 4$



答え 4本

<ヒント>

32÷8の答えは

8のだんの九九で見つけられる

$8 \times 1 = 8$

$8 \times 2 = 16$

$8 \times 3 = 24$

★ $8 \times 4 = 32$

- 2 24dLのジュースがあります。
4dLずつコップに分けるには、コップは何こいりますか。

(うすい字はなぞりましょう。)

式: $24 \div 4 = 6$

<ヒント>

24÷4の答えは

4のだんの九九で見つけられる

$4 \times 1 = 4$

$4 \times 2 = 8$

$4 \times 3 = 12$

$4 \times 4 = 16$

$4 \times 5 = 20$

★ $4 \times 6 = 24$

答え 6つ



わり算5

◎長さや水の量のわり算

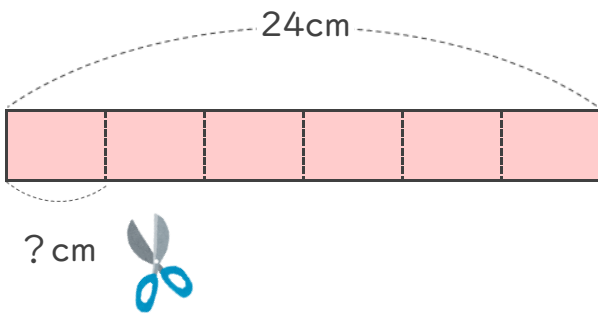


日にち： 月 日

名まえ _____

- 1 24cmのテープがあります。
同じ長さで6つに分けると、1つ分は何cmになりますか。
(うすい字はなぞりましょう。)

式: $24 \div 6 = 4$



答え 4cm

<ヒント>

24÷6の答えは

6のだんの九九で見つけられる

$$6 \times 1 = 6$$

$$6 \times 2 = 12$$

$$6 \times 3 = 18$$

★ $6 \times 4 = 24$

- 2 12Lの油があります。
2本のびんに同じように分けて入れると、びん1本分は何Lですか。
(うすい字はなぞりましょう。)

式: $12 \div 2 = 6$

<ヒント>

12÷2の答えは

2のだんの九九で見つけられる

$$2 \times 1 = 2$$

$$2 \times 2 = 4$$

$$2 \times 3 = 6$$

$$2 \times 4 = 8$$

$$2 \times 5 = 10$$

★ $2 \times 6 = 12$

答え 6L



わり算5

◎長さや水の量のわり算



日にち： 月 日

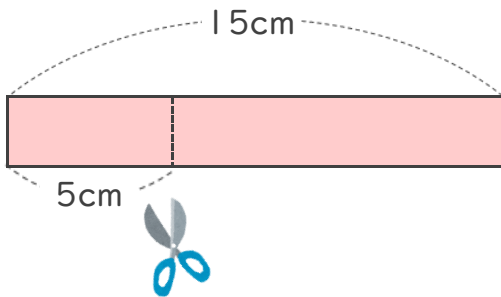
名まえ _____

③ 確認 答え

- 1 15cmのリボンがあります。
5cmずつに切ると、何本になりますか。

(うすい字はなぞりましょう。)

式: $15 \div 5 = 3$



答え 3本

<ヒント>

15÷5の答えは

5のだんの九九で見つけられる

$$5 \times 1 = 5$$

$$5 \times 2 = 10$$

★ $5 \times 3 = 15$

- 2 35dLのジュースがあります。
7dLずつコップに分けるには、コップは何こいりますか。

(うすい字はなぞりましょう。)

式: $35 \div 7 = 5$

<ヒント>

35÷7の答えは

7のだんの九九で見つけられる

$$7 \times 1 = 7$$

$$7 \times 2 = 14$$

$$7 \times 3 = 21$$

$$7 \times 4 = 28$$

★ $7 \times 5 = 35$

答え 5こ

③ 確認 答え



わり算5

◎長さや水の量のわり算

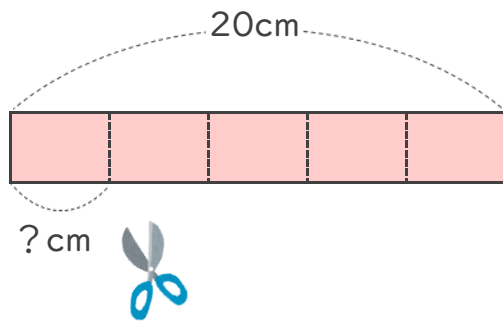


日にち： 月 日

名まえ _____

- 1 20cmのテープがあります。
同じ長さで5つに分けると、1つ分は何cmになりますか。
(うすい字はなぞりましょう。)

式: $20 \div 5 = 4$



答え 4cm

<ヒント>

20÷5の答えは

5のだんの九九で見つけられる

$$5 \times 1 = 5$$

$$5 \times 2 = 10$$

$$5 \times 3 = 15$$

★ $5 \times 4 = 20$

- 2 45Lの油があります。
9本のびんに同じように分けて入れると、びん1本分は何Lですか。

式: $45 \div 9 = 5$

<ヒント>

45÷9の答えは

9のだんの九九で見つけられる

$$9 \times 1 = 9$$

$$9 \times 2 = 18$$

$$9 \times 3 = 27$$

$$9 \times 4 = 36$$

★ $9 \times 5 = 45$

答え 5L



わり算5

◎長さや水の量のわり算



日にち： 月 日

名まえ _____

- 1 24cmのテープがあります。
同じ長さで8つに分けると、1つ分は何cmになりますか。

(うすい字はなぞりましょう。)

$$\text{式: } 24 \div 8 = 3$$

答え 3 cm

- 2 12Lの油があります。
4本のびんに同じように分けて入れると、びん1本分は何Lですか。

(うすい字はなぞりましょう。)

$$\text{式: } 12 \div 4 = 3$$

答え 3 L

- 3 36dLのジュースがあります。
6dLずつコップに分けるには、コップは何こいりますか。

$$\text{式: } 36 \div 6 = 6$$

答え 6 こ

- 4 45cmのテープがあります。
5cmずつにきると、何本になりますか。

$$\text{式: } 45 \div 5 = 9$$

答え 9 本



わり算5

◎ 長さや水の量のわり算



日にち： 月 日

名まえ _____

- 1 21cmのテープがあります。
同じ長さで3つに分けると、1つ分は何cmになりますか。

(うすい字はなぞりましょう。)

$$\text{式: } 21 \div 3 = 7$$

答え 7cm

- 2 16Lの油があります。
4本のびんに同じように分けて入れると、びん1本分は何Lですか。

$$\text{式: } 16 \div 4 = 4$$

答え 4L

- 3 18dLのジュースがあります。
9dLずつコップに分けるには、コップは何こいりますか。

$$\text{式: } 18 \div 9 = 2$$

答え 2こ

- 4 48cmのリボンがあります。
6cmずつに切ると、何本になりますか。

$$\text{式: } 48 \div 6 = 8$$

答え 8本



わり算5

◎ 長さや水の量のわり算



日にち： 月 日

名まえ _____

- 1 63dLのジュースがあります。
7dLずつコップに分けるには、コップは何こいりますか。

$$\text{式: } 63 \div 7 = 9$$

答え

9こ

- 2 15cmのリボンがあります。
5cmずつに切ると、何本になりますか。

$$\text{式: } 15 \div 5 = 3$$

答え

3本

- 3 36cmのテープがあります。
同じ長さで6つに分けると、1つ分は何cmになりますか。

$$\text{式: } 36 \div 6 = 6$$

答え

6cm

- 4 12Lの油があります。
3本のびんに同じように分けて入れると、びん1本分は何Lですか。

$$\text{式: } 12 \div 3 = 4$$

答え

4L



わり算 5

◎ 長さや水の量のわり算



日にち： 月 日

名まえ

- 1 24Lの油があります。
4本のびんに同じように分けて入れると、びん1本分は何Lですか。

式: $24 \div 4 = 6$

答え 6L

- 2 72cmのリボンがあります。
8cmずつに切ると、何本になりますか。

式: $72 \div 8 = 9$

答え 9本

- 3 27cmのテープがあります。
同じ長さで9つに分けると、1つ分は何cmになりますか。

式: $27 \div 9 = 3$

答え 3cm

- 4 56dLのジュースがあります。
7dLずつコップに分けるには、コップは何こいらいますか。

式: $56 \div 7 = 8$

答え 8こ



わり算 5

◎ 長さや水の量のわり算



日にち： 月 日

名まえ

- 1 14cmのリボンがあります。
7cmずつに切ると、何本になりますか。

$$\text{式: } 14 \div 7 = 2$$

答え 2本

- 2 40Lの油があります。
5本のびんに同じように分けて入れると、びん1本分は何Lですか。

$$\text{式: } 40 \div 5 = 8$$

答え 8L

- 3 72cmのテープがあります。
同じ長さで8つに分けると、1つ分は何cmになりますか。

$$\text{式: } 72 \div 8 = 9$$

答え 9cm

- 4 63dLのジュースがあります。
9dLずつコップに分けるには、コップは何こいらいますか。

$$\text{式: } 63 \div 9 = 7$$

答え 7こ



わり算5

◎ 長さや水の量のわり算



日にち： 月 日

名まえ _____

- 1 36cmのテープがあります。
同じ長さで9つに分けると、1つ分は何cmになりますか。

$$\text{式: } 36 \div 9 = 4$$

答え 4 cm

- 2 15このボールを5こずつかごに入れます。
かごはいくついらいますか。

$$\text{式: } 15 \div 5 = 3$$

答え 3 こ

- 3 28dLのジュースがあります。
4dLずつコップに分けるには、コップは何こいらいますか。

$$\text{式: } 28 \div 4 = 7$$

答え 7 こ

- 4 クッキーを32こやきました。
1つのふくろに8こずつ入れると、何ふくろできますか。

$$\text{式: } 32 \div 8 = 4$$

答え 4 ふくろ



わり算5

◎ 長さや水の量のわり算



日にち： 月 日

名まえ _____

- 1 21cmのテープがあります。
同じ長さで7つに分けると、1つ分は何cmになりますか。

式: $21 \div 7 = 3$

答え 3cm

- 2 32Lの油があります。
8本のびんに同じように分けて入れると、びん1本分は何Lですか。

式: $32 \div 8 = 4$

答え 4L

- 3 24このボールを4こずつかごに入れます。
かごはいくついらいますか。

式: $24 \div 4 = 6$

答え 6つ

- 4 お手玉が27こあります。
1人に3こずつ分けると、何人に分けられますか。

式: $27 \div 3 = 9$

答え 9人



わり算5

◎ 長さや水の量のわり算

12

日にち： 月 日

名まえ

- 1 36dLのジュースがあります。
9dLずつコップに分けるには、コップは何こいらいますか。

$$\text{式: } 36 \div 9 = 4$$

答え 4こ

- 2 40cmのリボンがあります。
8cmずつに切ると、何本になりますか。

$$\text{式: } 40 \div 8 = 5$$

答え 5本

- 3 クッキーを56こやきました。
1つのふくろに7こずつ入れると、何ふくろできますか。

$$\text{式: } 56 \div 7 = 8$$

答え 8ふくろ

- 4 チョコレートが32こあります。
1人に4こずつ分けると、何人に分けられますか。

$$\text{式: } 32 \div 4 = 8$$

答え 8人



わり算5

◎ 長さや水の量のわり算

13

日にち： 月 日

名まえ

- 1 24cmのテープがあります。
同じ長さで4つに分けると、1つ分は何cmになりますか。

式: $24 \div 4 = 6$

答え 6cm

- 2 25Lの油があります。
5本のびんに同じように分けて入れると、びん1本分は何Lですか。

式: $25 \div 5 = 5$

答え 5L

- 3 64ページの本を、1日に8ページずつ読みます。
何日で読み終わりますか。

式: $64 \div 8 = 8$

答え 8日

- 4 色紙が42まいあります。6まいずつ分けると、
何人に分けられますか。

式: $42 \div 6 = 7$

答え 7人



わり算5

◎ 長さや水の量のわり算

14

日にち： 月 日

名まえ

- 1 12dLのジュースがあります。
4dLずつコップに分けるには、コップは何こいらいますか。

$$\text{式: } 12 \div 4 = 3$$

答え

3こ

- 2 54cmのリボンがあります。
9cmずつに切ると、何本になりますか。

$$\text{式: } 54 \div 9 = 6$$

答え

6本

- 3 宿題が54まいあります。
1日に6まいずつやると、何日でおわりますか。

$$\text{式: } 54 \div 6 = 9$$

答え

9日

- 4 あめが28こあります。
1人に7こずつ分けると、何人に分けられますか。

$$\text{式: } 28 \div 7 = 4$$

答え

4人



わり算5

◎長さや水の量のわり算

15

目指せ75点!



名まえ

- 1 18Lの油があります。
6本のびんに同じように分けて入れると、びん1本分は何Lですか。
(25点)

$$\text{式: } 18 \div 6 = 3$$

答え 3L

- 2 色紙が72まいあります。
1人に8まいずつ分けると、何人に分けられますか。
(25点)

$$\text{式: } 72 \div 8 = 9$$

答え 9人

- 3 63cmのリボンがあります。
9cmずつに切ると、何本になりますか。
(25点)

$$\text{式: } 63 \div 9 = 7$$

答え 7本

- 4 花が12本あります。3本ずつたばにして花たばを作ります。
花たばはいくつできますか。
(25点)

$$\text{式: } 12 \div 3 = 4$$

答え 4つ



わり算5

◎ 長さや水の量のわり算

16

目指せ75点!



名まえ

- 1 42dLのジュースがあります。
7dLずつコップに分けるには、コップは何こいらいますか。 (25点)

$$\text{式: } 42 \div 7 = 6$$

答え 6こ

- 2 54このボールを6こずつかごに入れます。
かごはいくついらいますか。 (25点)

$$\text{式: } 54 \div 6 = 9$$

答え 9つ

- 3 40人の子どもが、5人ずつ長いすにすわります。
長いすはいくついらいますか。 (25点)

$$\text{式: } 40 \div 5 = 8$$

答え 8つ

- 4 24cmのテープがあります。
同じ長さで3つに分けると、1つ分は何cmになりますか。 (25点)

$$\text{式: } 24 \div 3 = 8$$

答え 8cm