



## わり算 5

◎ 長さや水の量のわり算



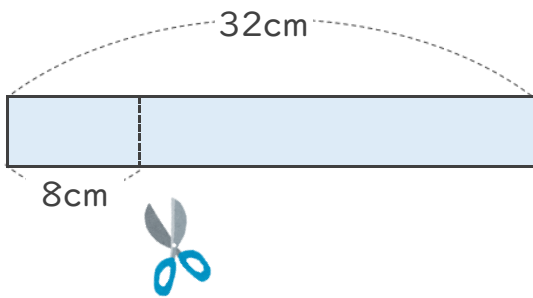
日にち： 月 日

名まえ \_\_\_\_\_

- 1 32cmのテープがあります。  
8cmずつに切ると、何本になりますか。

(うすい字はなぞりましょう。)

式:  $32 \div 8 =$



答え                      本

<ヒント>

32÷8の答えは

のだんの九九で見つけられる

$8 \times 1 = 8$

$8 \times 2 = 16$

$8 \times 3 = 24$

★  $8 \times \quad = 32$

- 2 24dLの牛にゆうがあります。  
4dLずつコップに分けるには、コップは何こいりますか。

(うすい字はなぞりましょう。)

式:  $24 \div 4 =$

答え                      こ

<ヒント>

24÷4の答えは

のだんの九九で見つけられる

$4 \times 1 = 4$

$4 \times 2 = 8$

$4 \times 3 = 12$

$4 \times 4 = 16$

$4 \times 5 = 20$

★  $4 \times \quad = 24$



# わり算 5

◎ 長さや水の量のわり算



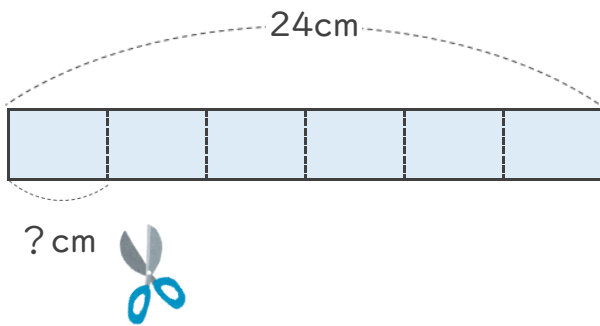
日にち： 月 日

名まえ \_\_\_\_\_

- 1 24cmのテープがあります。  
 同じ長さで6つに分けると、1つ分は何cmになりますか。

(うすい字はなぞりましょう。)

式：        ÷        =



答え \_\_\_\_\_ cm

<ヒント>

24÷6の答えは

6 のだんの九九で見つけられる

$6 \times 1 = 6$

$6 \times \quad = 12$

$6 \times \quad = 18$

★  $6 \times \quad = 24$

- 2 12Lの油があります。  
 2本のびんに同じように分けて入れると、びん1本分は何Lですか。

(うすい字はなぞりましょう。)

式：        ÷        =

<ヒント>

12÷2の答えは

   のだんの九九で見つけられる

$2 \times 1 = 2$

$2 \times 2 = 4$

$2 \times 3 = 6$

$2 \times \quad = 8$

$2 \times \quad = 10$

★  $2 \times \quad = 12$

答え \_\_\_\_\_



# わり算 5

◎ 長さや水の量のわり算



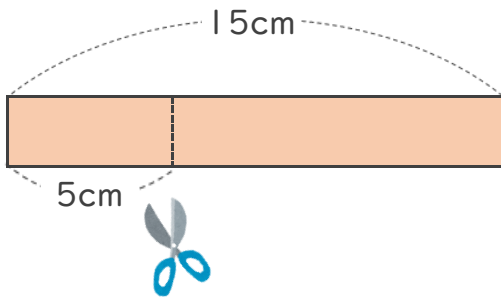
日にち： 月 日

名まえ \_\_\_\_\_

- 1 15cmのリボンがあります。  
5cmずつに切ると、何本になりますか。

(うすい字はなぞりましょう。)

式：        ÷        =



答え \_\_\_\_\_

<ヒント>

15÷5の答えは

のだんの九九で見つけられる

5 × 1 = 5

5 ×    = 10

★ 5 ×    = 15

- 2 35dLのジュースがあります。  
7dLずつコップに分けるには、コップは何こいりますか。

式：        ÷        =

<ヒント>

35÷7の答えは

のだんの九九で見つけられる

7 ×    = 7

7 ×    = 14

7 ×    = 21

7 ×    = 28

★ 7 ×    = 35

答え \_\_\_\_\_



# わり算 5

◎ 長さや水の量のわり算



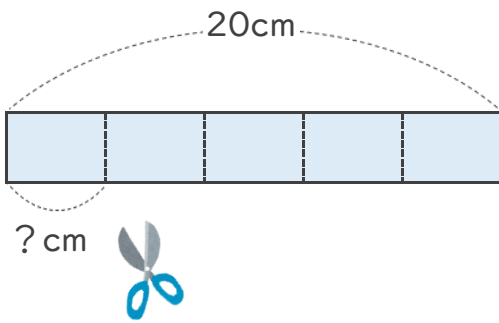
日にち： 月 日

名まえ \_\_\_\_\_

- 1 20cmのテープがあります。  
 同じ長さで5つに分けると、1つ分は何cmになりますか。

(うすい字はなぞりましょう。)

式：        ÷        =



答え \_\_\_\_\_

<ヒント>

20÷5の答えは

のだんの九九で見つけられる

5 × 1 = 5

5 ×    = 10

5 ×    = 15

★ 5 ×    = 20

- 2 45Lの油があります。  
 9本のびんに同じように分けて入れると、びん1本分は何Lですか。

式：        ÷        =

<ヒント>

45÷9の答えは

のだんの九九で見つけられる

9 ×    = 9

9 ×    = 18

9 ×    = 27

9 ×    = 36

★ 9 ×    = 45

答え \_\_\_\_\_



## わり算 5

◎ 長さや水の量のわり算

5

日にち： 月 日

名まえ \_\_\_\_\_

- 1 24cmのテープがあります。  
同じ長さで8つに分けると、1つ分は何cmになりますか。

(うすい字はなぞりましょう。)

式:        ÷        =

答え

cm

- 2 12Lの油があります。  
4本のびんに同じように分けて入れると、びん1本分は何Lですか。

(うすい字はなぞりましょう。)

式:        ÷        =

答え

L

- 3 36dLのジュースがあります。  
6dLずつコップに分けるには、コップは何こいりますか。

式:

答え

- 4 45cmのテープがあります。  
5cmずつにきると、何本になりますか。

式:

答え



## わり算 5

◎ 長さや水の量のわり算



日にち： 月 日

名まえ \_\_\_\_\_

- 1 21cmのテープがあります。  
同じ長さで3つに分けると、1つ分は何cmになりますか。

(うすい字はなぞりましょう。)

式:  $21 \div 3 =$

答え \_\_\_\_\_

- 2 16Lの油があります。  
4本のびんに同じように分けて入れると、びん1本分は何Lですか。

式:

答え \_\_\_\_\_

- 3 18dLのジュースがあります。  
3dLずつコップに分けるには、コップは何こいりますか。

式:

答え \_\_\_\_\_

- 4 48cmのリボンがあります。  
6cmずつに切ると、何本になりますか。

式:

答え \_\_\_\_\_



## わり算 5

◎ 長さや水の量のわり算



日にち： 月 日

名まえ \_\_\_\_\_

- 1 45dLのジュースがあります。  
5 dLずつコップに分けるには、コップは何こいりますか。

式:

答え \_\_\_\_\_

- 2 49cmのリボンがあります。  
7 cmずつに切ると、何本になりますか。

式:

答え \_\_\_\_\_

- 3 36cmのテープがあります。  
同じ長さで6つに分けると、1つ分は何cmになりますか。

式:

答え \_\_\_\_\_

- 4 12Lの油があります。  
3本のびんに同じように分けて入れると、びん1本分は何Lですか。

式:

答え \_\_\_\_\_



## わり算 5

◎ 長さや水の量のわり算



日にち： 月 日

名まえ \_\_\_\_\_

- 1 24Lの油があります。  
4本のびんに同じように分けて入れると、びん1本分は何Lですか。

式:

答え \_\_\_\_\_

- 2 72cmのリボンがあります。  
8cmずつに切ると、何本になりますか。

式:

答え \_\_\_\_\_

- 3 27cmのテープがあります。  
同じ長さで9つに分けると、1つ分は何cmになりますか。

式:

答え \_\_\_\_\_

- 4 16dLのジュースがあります。  
2dLずつコップに分けるには、コップは何こいりますか。

式:

答え \_\_\_\_\_





## わり算 5

◎ 長さや水の量のわり算



日にち： 月 日

名まえ \_\_\_\_\_

- 1 14cmのリボンがあります。  
7cmずつに切ると、何本になりますか。

式:

答え \_\_\_\_\_

- 2 40Lの油があります。  
5本のびんに同じように分けて入れると、びん1本分は何Lですか。

式:

答え \_\_\_\_\_

- 3 72cmのテープがあります。  
同じ長さで8つに分けると、1つ分は何cmになりますか。

式:

答え \_\_\_\_\_

- 4 21dLの牛乳があります。  
3dLずつコップに分けるには、コップは何こいりますか。

式:

答え \_\_\_\_\_



## わり算5

◎ 長さや水の量のわり算



日にち： 月 日

名まえ \_\_\_\_\_

- 1 36cmのテープがあります。  
同じ長さで9つに分けると、1つ分は何cmになりますか。

式:

答え \_\_\_\_\_

- 2 15このボールを5こずつかごに入れます。  
かごはいくついらいますか。

式:

答え \_\_\_\_\_

- 3 28dLのジュースがあります。  
4dLずつコップに分けるには、コップは何こいらいますか。

式:

答え \_\_\_\_\_

- 4 クッキーを32こやきました。  
1つのふくろに8こずつ入れると、何ふくろできますか。

式:

答え \_\_\_\_\_



## わり算 5

◎ 長さや水の量のわり算



日にち： 月 日

名まえ \_\_\_\_\_

- 1 21cmのテープがあります。  
同じ長さで7つに分けると、1つ分は何cmになりますか。

式:

答え \_\_\_\_\_

- 2 32Lの油があります。  
8本のびんに同じように分けて入れると、びん1本分は何Lですか。

式:

答え \_\_\_\_\_

- 3 24このボールを4こずつかごに入れます。  
かごはいくつありますか。

式:

答え \_\_\_\_\_

- 4 お手玉が27こあります。  
1人に3こずつ分けると、何人に分けられますか。

式:

答え \_\_\_\_\_



## わり算 5

◎ 長さや水の量のわり算

12

日にち： 月 日

名まえ \_\_\_\_\_

- 1 27dLのジュースがあります。  
3 dLずつコップに分けるには、コップは何こいりますか。

式:

答え \_\_\_\_\_

- 2 40cmのリボンがあります。  
8 cmずつに切ると、何本になりますか。

式:

答え \_\_\_\_\_

- 3 クッキーを56こやきました。  
1つのふくろに7こずつ入れると、何ふくろできますか。

式:

答え \_\_\_\_\_

- 4 チョコレートが32こあります。  
1人に4こずつ分けると、何人に分けられますか。

式:

答え \_\_\_\_\_



## わり算 5

◎ 長さや水の量のわり算

13

日にち： 月 日

名まえ \_\_\_\_\_

- 1 24cmのテープがあります。  
同じ長さで4つに分けると、1つ分は何cmになりますか。

式:

答え \_\_\_\_\_

- 2 25Lの油があります。  
5本のびんに同じように分けて入れると、びん1本分は何Lですか。

式:

答え \_\_\_\_\_

- 3 64ページの本を、1日に8ページずつ読みます。  
何日で読み終わりますか。

式:

答え \_\_\_\_\_

- 4 色紙が42まいあります。  
1人に6まいずつ分けると、何人に分けられますか。

式:

答え \_\_\_\_\_



## わり算 5

◎ 長さや水の量のわり算

14

日にち： 月 日

名まえ \_\_\_\_\_

- 1 12dLのジュースがあります。  
4 dLずつコップに分けるには、コップは何こいりますか。

式:

答え \_\_\_\_\_

- 2 54cmのリボンがあります。  
9 cmずつに切ると、何本になりますか。

式:

答え \_\_\_\_\_

- 3 宿題プリントが54まいあります。  
1日に6まいずつやると、何日でおわりますか。

式:

答え \_\_\_\_\_

- 4 あめが28こあります。  
1人に7こずつ分けると、何人に分けられますか。

式:

答え \_\_\_\_\_



## わり算 5

◎ 長さや水の量のわり算

15

目指せ75点!



名まえ

---

- 1 18Lの油があります。  
6本のびんに同じように分けて入れると、びん1本分は何Lですか。  
(25点)

式:

答え

---

- 2 色紙が72まいあります。  
1人に8まいずつ分けると、何人に分けられますか。  
(25点)

式:

答え

---

- 3 63cmのリボンがあります。  
9cmずつに切ると、何本になりますか。  
(25点)

式:

答え

---

- 4 花が12本あります。3本ずつたばにして花たばを作ります。  
花たばはいくつできますか。  
(25点)

式:

答え

---



## わり算 5

◎ 長さや水の量のわり算

16

名まえ

- 1 16dLの牛乳があります。  
4dLずつコップに分けるには、コップは何こいりますか。 (25点)

式:

答え

- 2 54このボールを6こずつかごに入れます。  
かごはいくついりますか。 (25点)

式:

答え

- 3 40人の子どもが、5人ずつ長いすにすわります。  
長いすはいくついりますか。 (25点)

式:

答え

- 4 24cmのテープがあります。  
同じ長さで3つに分けると、1つ分は何cmになりますか。 (25点)

式:

答え





## わり算 5

◎ 長さや水の量のわり算



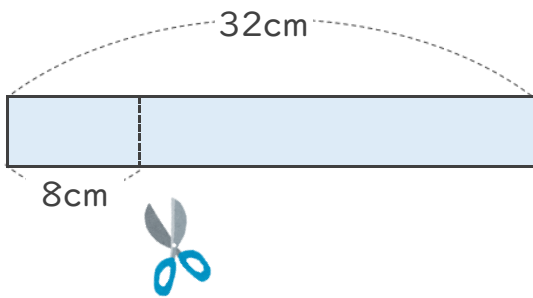
日にち： 月 日

名まえ \_\_\_\_\_

- 1 32cmのテープがあります。  
8cmずつに切ると、何本になりますか。

(うすい字はなぞりましょう。)

式:  $32 \div 8 = 4$



答え 4本

<ヒント>

32÷8の答えは

**8**のだんの九九で見つけられる

$$8 \times 1 = 8$$

$$8 \times 2 = 16$$

$$8 \times 3 = 24$$

★  $8 \times 4 = 32$

- 2 24dLの牛にゆうがあります。  
4dLずつコップに分けるには、コップは何こいりますか。

(うすい字はなぞりましょう。)

式:  $24 \div 4 = 6$

<ヒント>

24÷4の答えは

**4**のだんの九九で見つけられる

$$4 \times 1 = 4$$

$$4 \times 2 = 8$$

$$4 \times 3 = 12$$

$$4 \times 4 = 16$$

$$4 \times 5 = 20$$

★  $4 \times 6 = 24$

答え 6こ



## わり算 5

◎ 長さや水の量のわり算



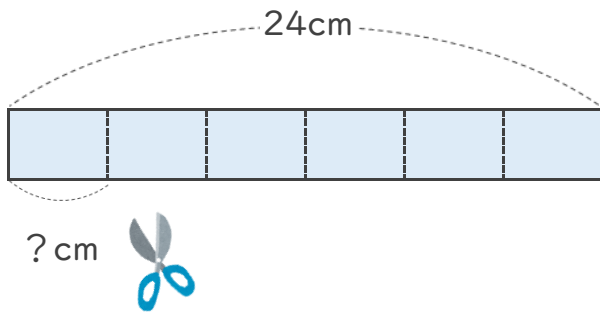
日にち： 月 日

名まえ \_\_\_\_\_

- 1 24cmのテープがあります。  
同じ長さで6つに分けると、1つ分は何cmになりますか。

(うすい字はなぞりましょう。)

式:  $24 \div 6 = 4$



答え 4 cm

<ヒント>

24÷6の答えは

**6** のだんの九九で見つけられる

$$6 \times 1 = 6$$

$$6 \times 2 = 12$$

$$6 \times 3 = 18$$

★  $6 \times 4 = 24$

- 2 12Lの油があります。  
2本のびんに同じように分けて入れると、びん1本分は何Lですか。

(うすい字はなぞりましょう。)

式:  $12 \div 2 = 6$

<ヒント>

12÷2の答えは

**2** のだんの九九で見つけられる

$$2 \times 1 = 2$$

$$2 \times 2 = 4$$

$$2 \times 3 = 6$$

$$2 \times 4 = 8$$

$$2 \times 5 = 10$$

★  $2 \times 6 = 12$

答え 6 L



## わり算 5

◎ 長さや水の量のわり算

3

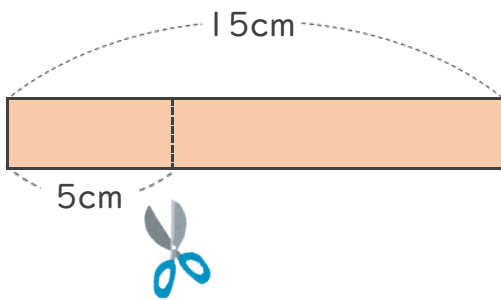
日にち： 月 日

名まえ \_\_\_\_\_

- 1 15cmのリボンがあります。  
5cmずつに切ると、何本になりますか。

(うすい字はなぞりましょう。)

式:  $15 \div 5 = 3$



答え 3本

<ヒント>

15÷5の答えは

**5** のだんの九九で見つけられる

$$5 \times 1 = 5$$

$$5 \times 2 = 10$$

★  $5 \times 3 = 15$

- 2 35dLのジュースがあります。  
7dLずつコップに分けるには、コップは何こいりますか。

(うすい字はなぞりましょう。)

式:  $35 \div 7 = 5$

<ヒント>

35÷7の答えは

**7** のだんの九九で見つけられる

$$7 \times 1 = 7$$

$$7 \times 2 = 14$$

$$7 \times 3 = 21$$

$$7 \times 4 = 28$$

★  $7 \times 5 = 35$

答え 5こ



## わり算 5

◎ 長さや水の量のわり算

4

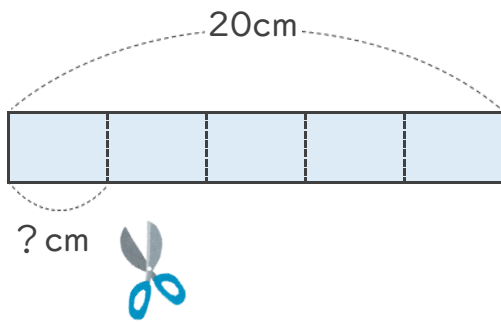
日にち： 月 日

名まえ \_\_\_\_\_

- 1 20cmのテープがあります。  
同じ長さで5つに分けると、1つ分は何cmになりますか。

(うすい字はなぞりましょう。)

式:  $20 \div 5 = 4$



答え

4 cm

<ヒント>

20÷5の答えは

5

のだんの九九で見つけられる

$$5 \times 1 = 5$$

$$5 \times 2 = 10$$

$$5 \times 3 = 15$$

★  $5 \times 4 = 20$

- 2 45Lの油があります。

9本のびんに同じように分けて入れると、びん1本分は何Lですか。

式:  $45 \div 9 = 5$

<ヒント>

45÷9の答えは

9

のだんの九九で見つけられる

$$9 \times 1 = 9$$

$$9 \times 2 = 18$$

$$9 \times 3 = 27$$

$$9 \times 4 = 36$$

★  $9 \times 5 = 45$

答え

5 L



## わり算 5

◎ 長さや水の量のわり算

5

日にち： 月 日

名まえ

- 1 24cmのテープがあります。  
同じ長さで8つに分けると、1つ分は何cmになりますか。

(うすい字はなぞりましょう。)

$$\text{式: } 24 \div 8 = 3$$

答え 3 cm

- 2 12Lの油があります。  
4本のびんに同じように分けて入れると、びん1本分は何Lですか。

(うすい字はなぞりましょう。)

$$\text{式: } 12 \div 4 = 3$$

答え 3 L

- 3 36dLのジュースがあります。  
6dLずつコップに分けるには、コップは何こいりますか。

$$\text{式: } 36 \div 6 = 6$$

答え 6 こ

- 4 45cmのテープがあります。  
5cmずつにきると、何本になりますか。

$$\text{式: } 45 \div 5 = 9$$

答え 9 本



## わり算 5

◎ 長さや水の量のわり算



日にち： 月 日

名まえ

---

- 1 21cmのテープがあります。  
同じ長さで3つに分けると、1つ分は何cmになりますか。

(うすい字はなぞりましょう。)

$$\text{式: } 21 \div 3 = 7$$

答え 7 cm

- 2 16Lの油があります。  
4本のびんに同じように分けて入れると、びん1本分は何Lですか。

$$\text{式: } 16 \div 4 = 4$$

答え 4 L

- 3 18dLのジュースがあります。  
3dLずつコップに分けるには、コップは何こいりますか。

$$\text{式: } 18 \div 3 = 6$$

答え 6 こ

- 4 48cmのリボンがあります。  
6cmずつに切ると、何本になりますか。

$$\text{式: } 48 \div 6 = 8$$

答え 8 本



## わり算 5

◎ 長さや水の量のわり算



日にち： 月 日

名まえ \_\_\_\_\_

- 1 45dLのジュースがあります。  
5 dLずつコップに分けるには、コップは何こいらいますか。

$$\text{式: } 45 \div 5 = 9$$

答え 9こ

- 2 49cmのリボンがあります。  
7 cmずつに切ると、何本になりますか。

$$\text{式: } 49 \div 7 = 7$$

答え 7本

- 3 36cmのテープがあります。  
同じ長さで6つに分けると、1つ分は何cmになりますか。

$$\text{式: } 36 \div 6 = 6$$

答え 6 cm

- 4 12Lの油があります。  
3本のびんに同じように分けて入れると、びん1本分は何Lですか。

$$\text{式: } 12 \div 3 = 4$$

答え 4L



## わり算 5

◎ 長さや水の量のわり算



日にち： 月 日

名まえ

---

- 1 24Lの油があります。  
4本のびんに同じように分けて入れると、びん1本分は何Lですか。

$$\text{式: } 24 \div 4 = 6$$

答え 6L

- 2 72cmのリボンがあります。  
8cmずつに切ると、何本になりますか。

$$\text{式: } 72 \div 8 = 9$$

答え 9本

- 3 27cmのテープがあります。  
同じ長さで9つに分けると、1つ分は何cmになりますか。

$$\text{式: } 27 \div 9 = 3$$

答え 3cm

- 4 16dLのジュースがあります。  
2dLずつコップに分けるには、コップは何こいりますか。

$$\text{式: } 16 \div 2 = 8$$

答え 8こ





## わり算 5

◎ 長さや水の量のわり算



日にち： 月 日

名まえ

---

- 1 14cmのリボンがあります。  
7cmずつに切ると、何本になりますか。

$$\text{式: } 14 \div 7 = 2$$

答え 2本

- 2 40Lの油があります。  
5本のびんに同じように分けて入れると、びん1本分は何Lですか。

$$\text{式: } 40 \div 5 = 8$$

答え 8L

- 3 72cmのテープがあります。  
同じ長さで8つに分けると、1つ分は何cmになりますか。

$$\text{式: } 72 \div 8 = 9$$

答え 9cm

- 4 21dLの牛乳があります。  
3dLずつコップに分けるには、コップは何こいりますか。

$$\text{式: } 21 \div 3 = 7$$

答え 7こ



## わり算 5

◎ 長さや水の量のわり算



日にち： 月 日

名まえ

---

- 1 36cmのテープがあります。  
同じ長さで9つに分けると、1つ分は何cmになりますか。

$$\text{式: } 36 \div 9 = 4$$

答え 4 cm

- 2 15このボールを5こずつかごに入れます。  
かごはいくついりますか。

$$\text{式: } 15 \div 5 = 3$$

答え 3 こ

- 3 28dLのジュースがあります。  
4dLずつコップに分けるには、コップは何こいりますか。

$$\text{式: } 28 \div 4 = 7$$

答え 7 こ

- 4 クッキーを32こやきました。  
1つのふくろに8こずつ入れると、何ふくろできますか。

$$\text{式: } 32 \div 8 = 4$$

答え 4 ふくろ



## わり算 5

◎ 長さや水の量のわり算



日にち： 月 日

名まえ \_\_\_\_\_

- 1 21cmのテープがあります。  
同じ長さで7つに分けると、1つ分は何cmになりますか。

$$\text{式: } 21 \div 7 = 3$$

答え 3 cm

- 2 32Lの油があります。  
8本のびんに同じように分けて入れると、びん1本分は何Lですか。

$$\text{式: } 32 \div 8 = 4$$

答え 4 L

- 3 24このボールを4こずつかごに入れます。  
かごはいくついきますか。

$$\text{式: } 24 \div 4 = 6$$

答え 6 つ

- 4 お手玉が27こあります。  
1人に3こずつ分けると、何人に分けられますか。

$$\text{式: } 27 \div 3 = 9$$

答え 9 人



## わり算 5

◎ 長さや水の量のわり算

12

日にち： 月 日

名まえ

---

- 1 27dLのジュースがあります。  
3dLずつコップに分けるには、コップは何こいらいますか。

$$\text{式: } 27 \div 3 = 9$$

答え 9こ

---

- 2 40cmのリボンがあります。  
8cmずつに切ると、何本になりますか。

$$\text{式: } 40 \div 8 = 5$$

答え 5本

---

- 3 クッキーを56こやきました。  
1つのふくろに7こずつ入れると、何ふくろできますか。

$$\text{式: } 56 \div 7 = 8$$

答え 8ふくろ

---

- 4 チョコレートが32こあります。  
1人に4こずつ分けると、何人に分けられますか。

$$\text{式: } 32 \div 4 = 8$$

答え 8人

---



## わり算 5

◎ 長さや水の量のわり算

13

日にち： 月 日

名まえ

---

- 1 24cmのテープがあります。  
同じ長さで4つに分けると、1つ分は何cmになりますか。

$$\text{式: } 24 \div 4 = 6$$

答え 6 cm

- 2 25Lの油があります。  
5本のびんに同じように分けて入れると、びん1本分は何Lですか。

$$\text{式: } 25 \div 5 = 5$$

答え 5 L

- 3 64ページの本を、1日に8ページずつ読みます。  
何日で読み終わりますか。

$$\text{式: } 64 \div 8 = 8$$

答え 8 日

- 4 色紙が42まいあります。  
1人に6まいずつ分けると、何人に分けられますか。

$$\text{式: } 42 \div 6 = 7$$

答え 7 人



## わり算 5

◎ 長さや水の量のわり算

14

日にち： 月 日

名まえ \_\_\_\_\_

- 1 12dLのジュースがあります。  
4dLずつコップに分けるには、コップは何こいらいますか。

$$\text{式: } 12 \div 4 = 3$$

答え 3こ

- 2 54cmのリボンがあります。  
9cmずつに切ると、何本になりますか。

$$\text{式: } 54 \div 9 = 6$$

答え 6本

- 3 宿題プリントが54まいあります。  
1日に6まいずつやると、何日でおわりますか。

$$\text{式: } 54 \div 6 = 9$$

答え 9日

- 4 あめが28こあります。  
1人に7こずつ分けると、何人に分けられますか。

$$\text{式: } 28 \div 7 = 4$$

答え 4人



## わり算5

◎ 長さや水の量のわり算

15

名まえ

- 1 18Lの油があります。  
6本のびんに同じように分けて入れると、びん1本分は何Lですか。  
(25点)

$$\text{式: } 18 \div 6 = 3$$

答え 3L

- 2 色紙が72まいあります。  
1人に8まいずつ分けると、何人に分けられますか。  
(25点)

$$\text{式: } 72 \div 8 = 9$$

答え 9人

- 3 63cmのリボンがあります。  
9cmずつに切ると、何本になりますか。  
(25点)

$$\text{式: } 63 \div 9 = 7$$

答え 7本

- 4 花が12本あります。3本ずつたばにして花たばを作ります。  
花たばはいくつできますか。  
(25点)

$$\text{式: } 12 \div 3 = 4$$

答え 4つ



## わり算5

◎ 長さや水の量のわり算

16

名まえ

- 1 16dLの牛乳があります。  
4dLずつコップに分けるには、コップは何こいりますか。 (25点)

$$\text{式: } 16 \div 4 = 4$$

答え 4こ

- 2 54このボールを6こずつかごに入れます。  
かごはいくついりますか。 (25点)

$$\text{式: } 54 \div 6 = 9$$

答え 9つ

- 3 40人の子どもが、5人ずつ長いすにすわります。  
長いすはいくついりますか。 (25点)

$$\text{式: } 40 \div 5 = 8$$

答え 8つ

- 4 24cmのテープがあります。  
同じ長さで3つに分けると、1つ分は何cmになりますか。 (25点)

$$\text{式: } 24 \div 3 = 8$$

答え 8cm