



三角形と角 10

● 角を大きい
じゅんにならべる

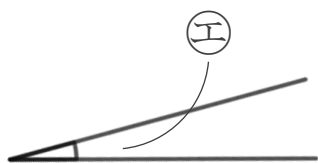
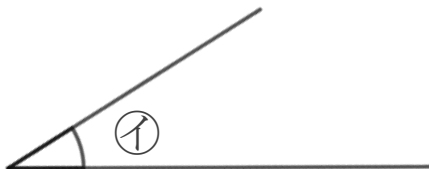
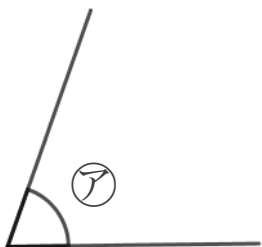


日にち： 月 日

名まえ _____

1 次の角の大きさをくらべて、大きいじゅんに書きましょう。

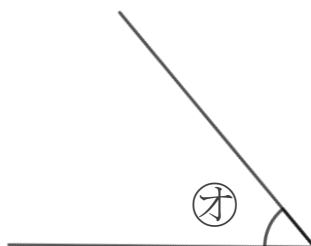
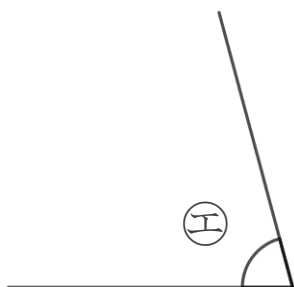
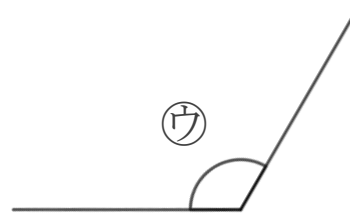
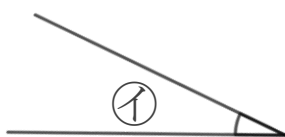
(うすい字はなぞりましょう。)



答え： → (ウ) → (ア) → (イ) →

2 次の角の大きさをくらべて、小さいじゅんに書きましょう。

(うすい字はなぞりましょう。)



答え： → (オ) → (エ) → →





三角形と角 10

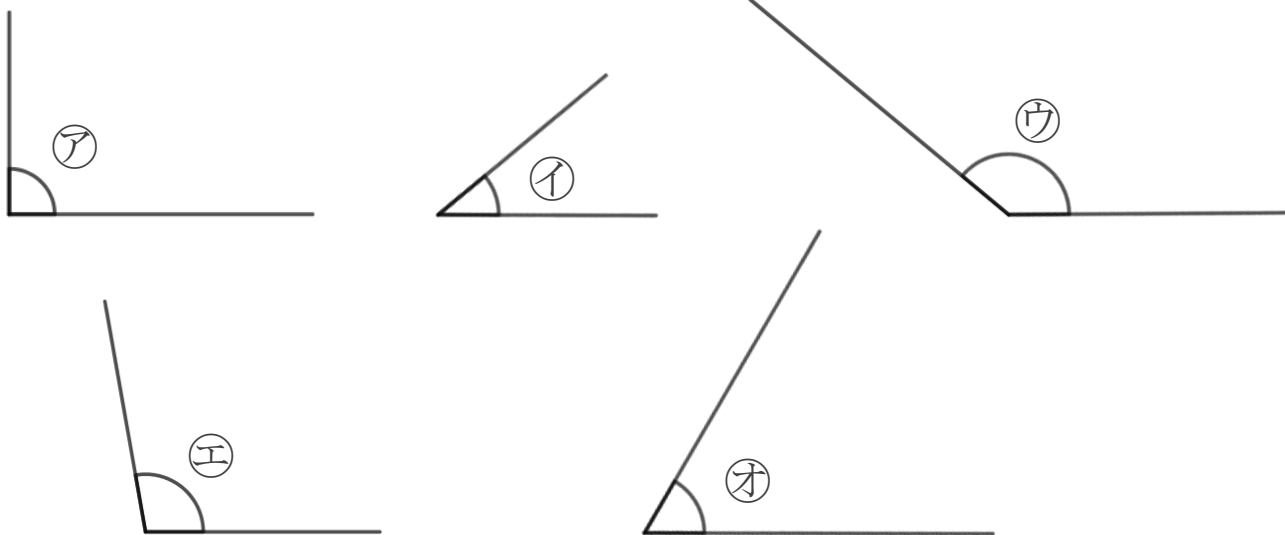
● 角を大きい
じゅんにならべる



日にち： 月 日

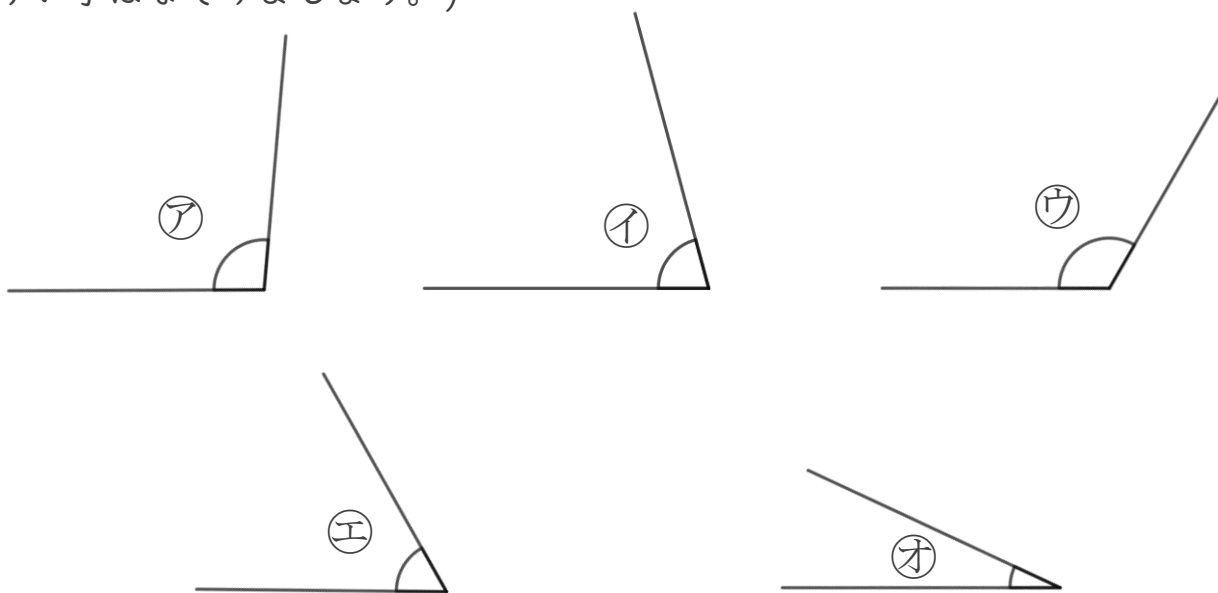
名まえ _____

1 次の角の大きさをくらべて、大きいじゅんに書きましょう。
(うすい字はなぞりましょう。)



答え： → → ア → オ →

2 次の角の大きさをくらべて、小さいじゅんに書きましょう。
(うすい字はなぞりましょう。)



答え： → エ → イ → →





三角形と角 10

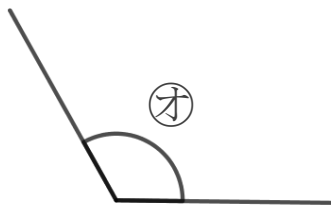
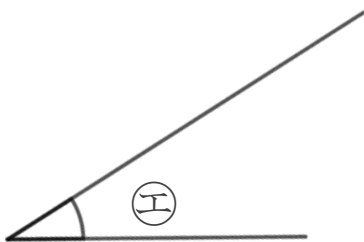
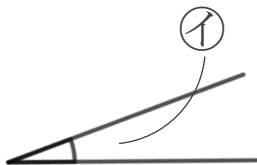
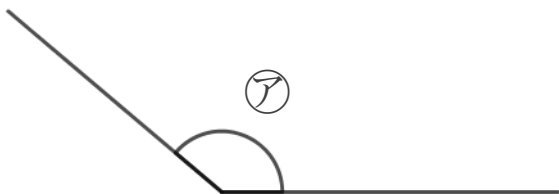
● 角を大きい
じゅんにならべる



日にち： 月 日

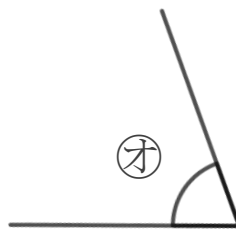
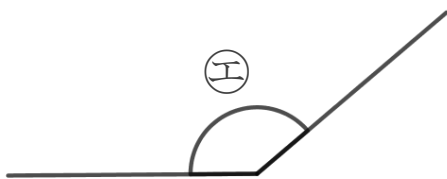
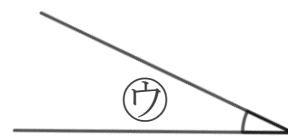
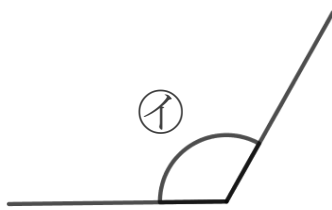

名まえ _____

1 次の角の大きさをくらべて、小さいじゅんに書きましょう。
(うすい字はなぞりましょう。)



答え：  → →  → →

2 次の角の大きさをくらべて、大きいじゅんに書きましょう。
(うすい字はなぞりましょう。)



答え： →  →  → →





三角形と角 10

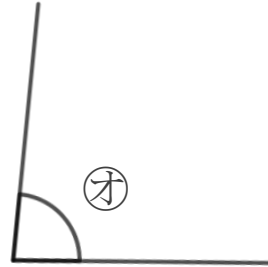
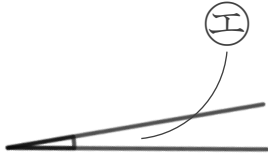
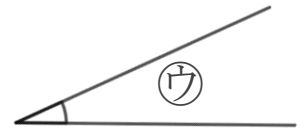
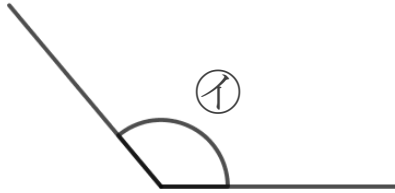
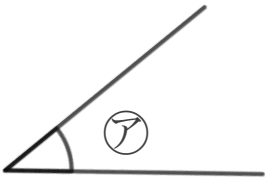
● 角を大きい
じゅんにならべる

4

日にち： 月 日

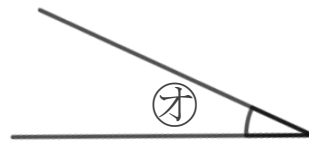
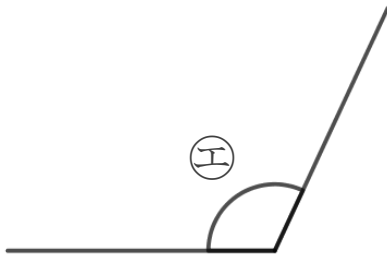
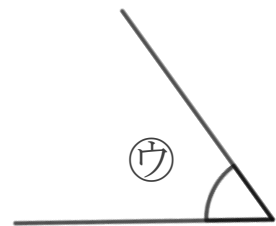
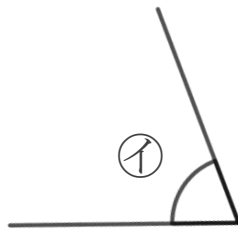
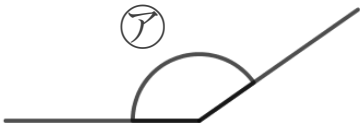
名まえ _____

1 次の角の大きさをくらべて、小さいじゅんに書きましょう。
(うすい字はなぞりましょう。)



答え： → (ウ) → (ア) → →

2 次の角の大きさをくらべて、大きいじゅんに書きましょう。



答え： → → (イ) → →





三角形と角 10

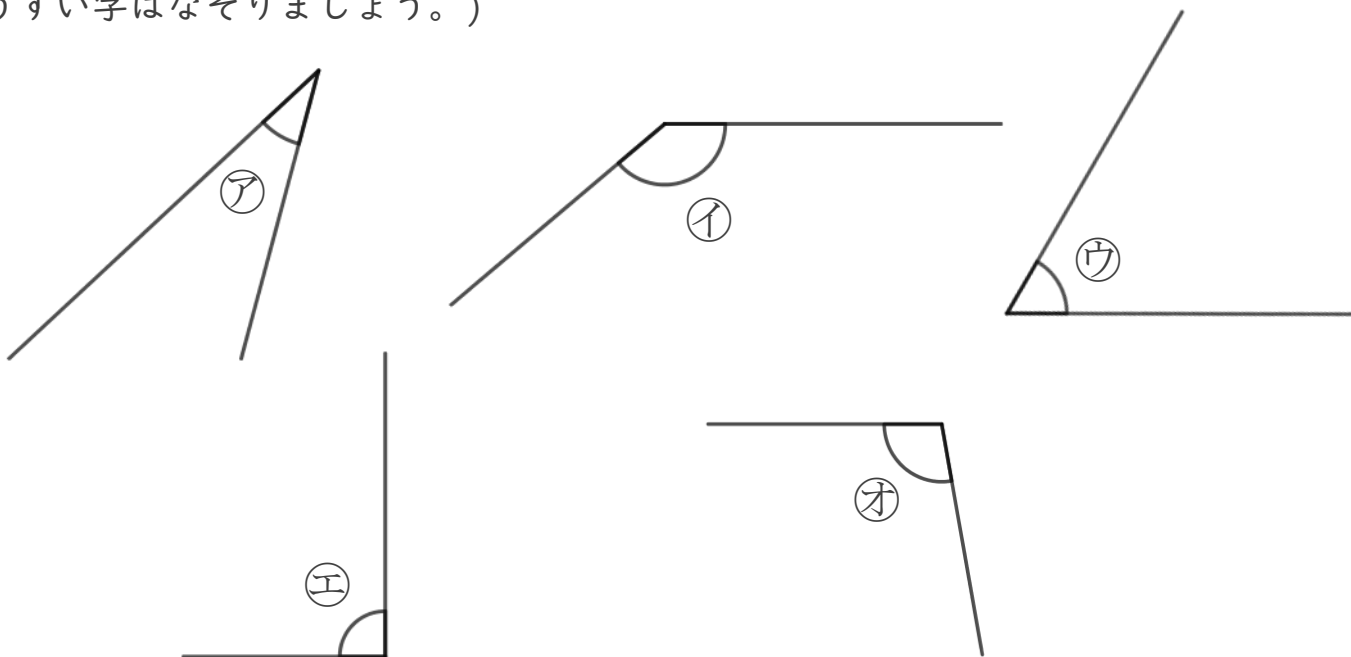
● 角を大きい
じゅんにならべる



日にち： 月 日

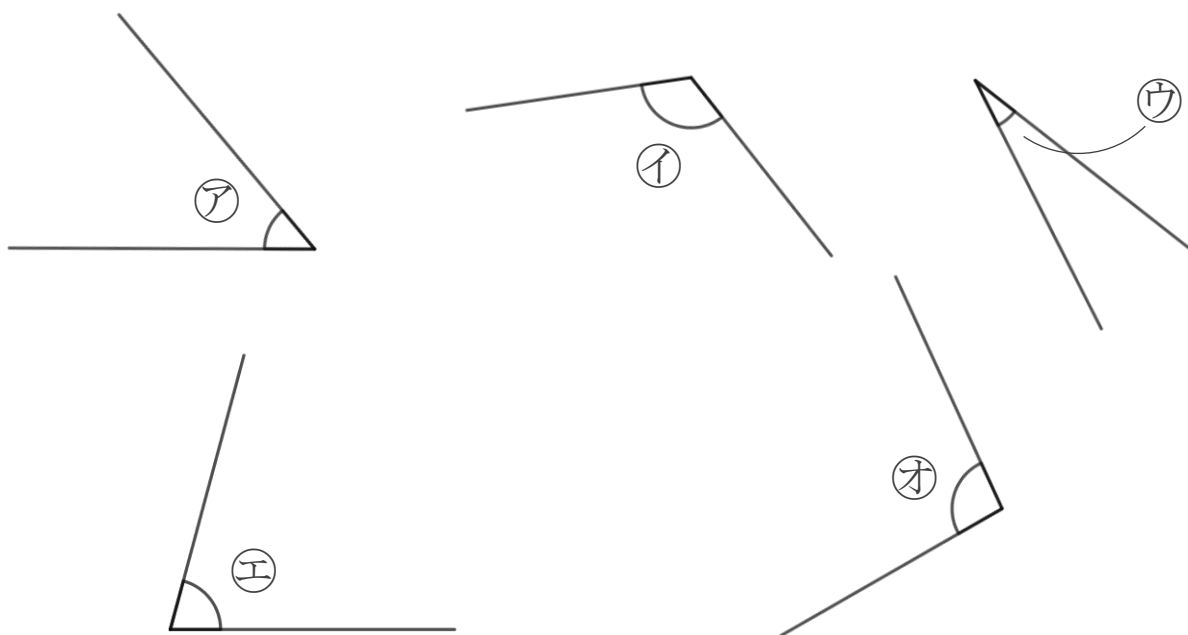
名まえ _____

1 次の角の大きさをくらべて、大きいじゅんに書きましょう。
(うすい字はなぞりましょう。)



答え： (イ) → → → →

2 次の角の大きさをくらべて、小さいじゅんに書きましょう。



答え： → → → →





三角形と角 10

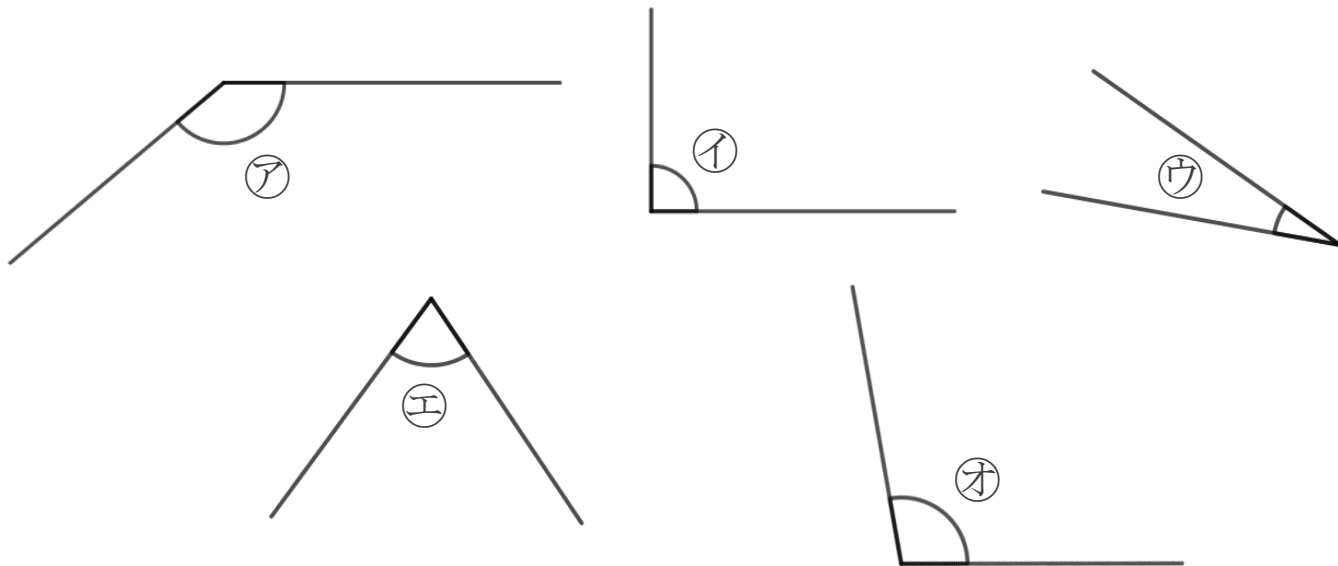
● 角を大きい
じゅんにならべる



日にち： 月 日

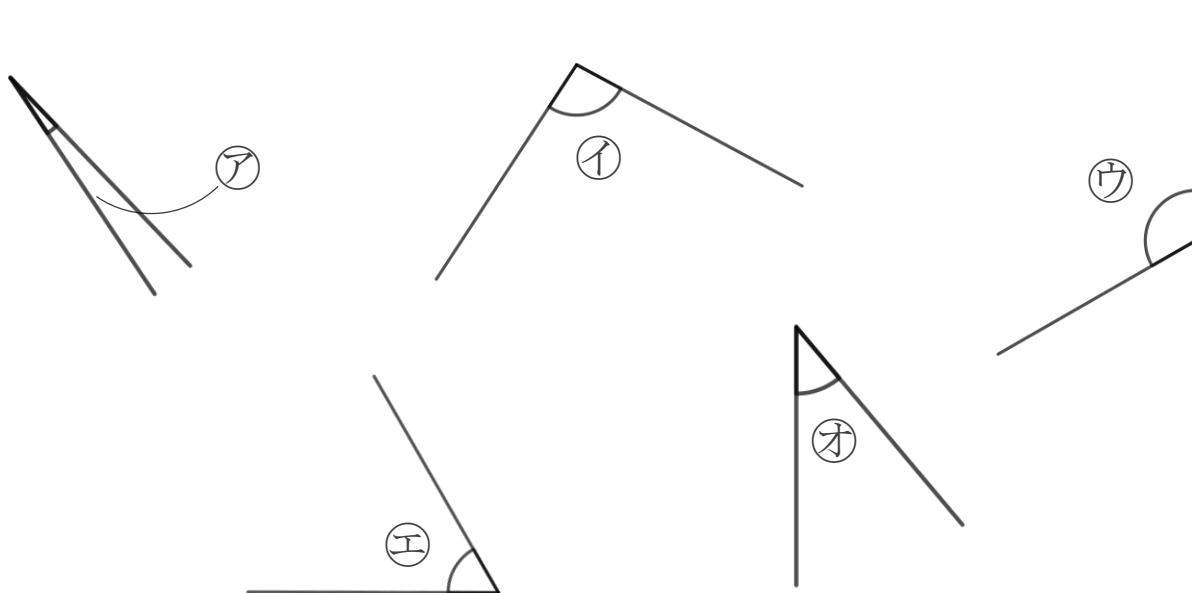
名まえ _____

1 次の角の大きさをくらべて、大きいじゅんに書きましょう。
(うすい字はなぞりましょう。)



答え： → →  → →

2 次の角の大きさをくらべて、小さいじゅんに書きましょう。



答え： → → → →



三角形と角 10

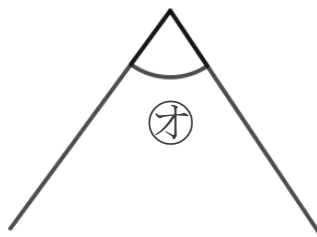
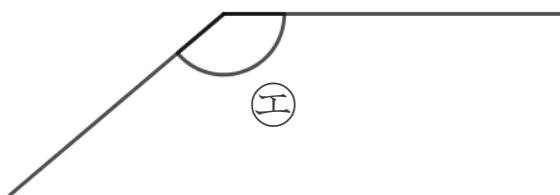
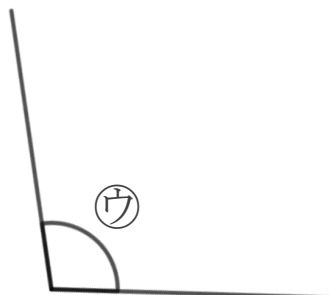
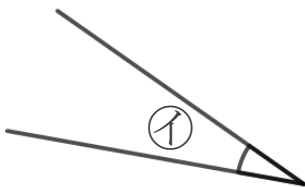
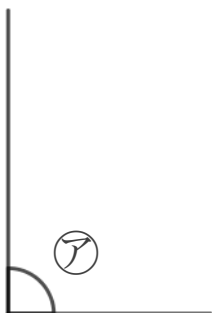
● 角を大きい
じゅんにならべる



日にち： 月 日

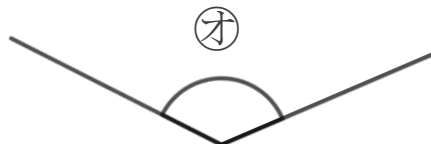
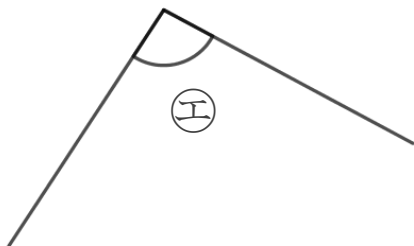
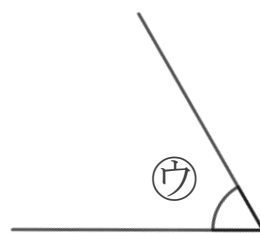
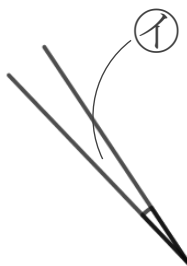
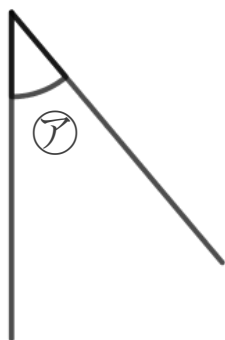
名まえ _____

1 次の角の大きさをくらべて、小さいじゅんに書きましょう。



答え： → → → →

2 次の角の大きさをくらべて、大きいじゅんに書きましょう。



答え： → → → →





三角形と角 10

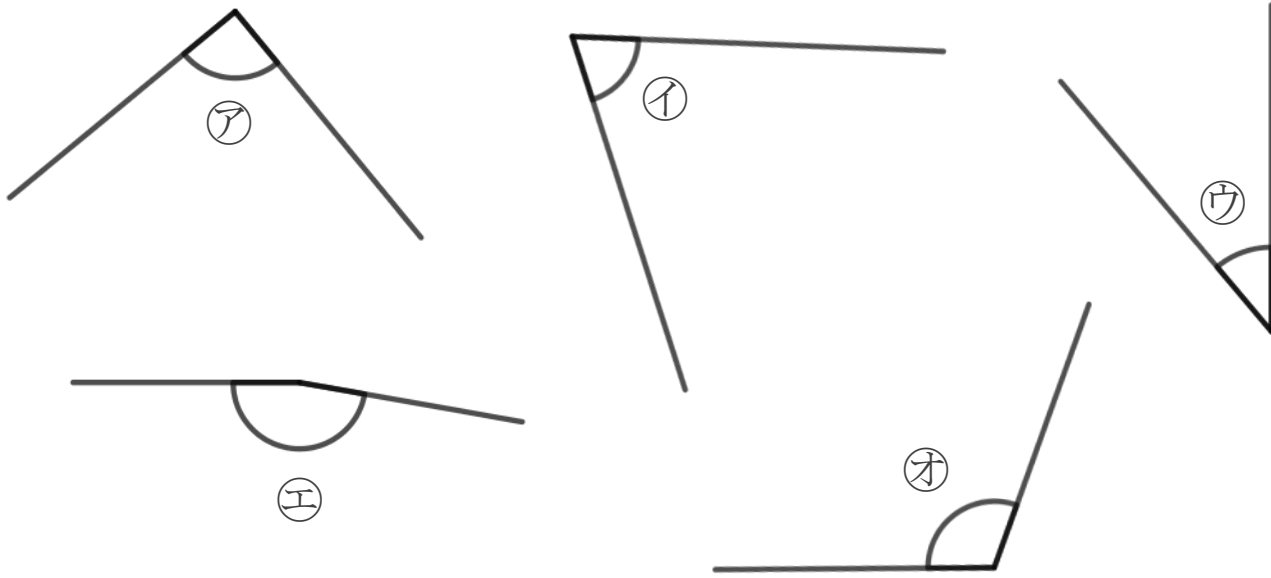
● 角を大きい
じゅんにならべる



日にち： 月 日

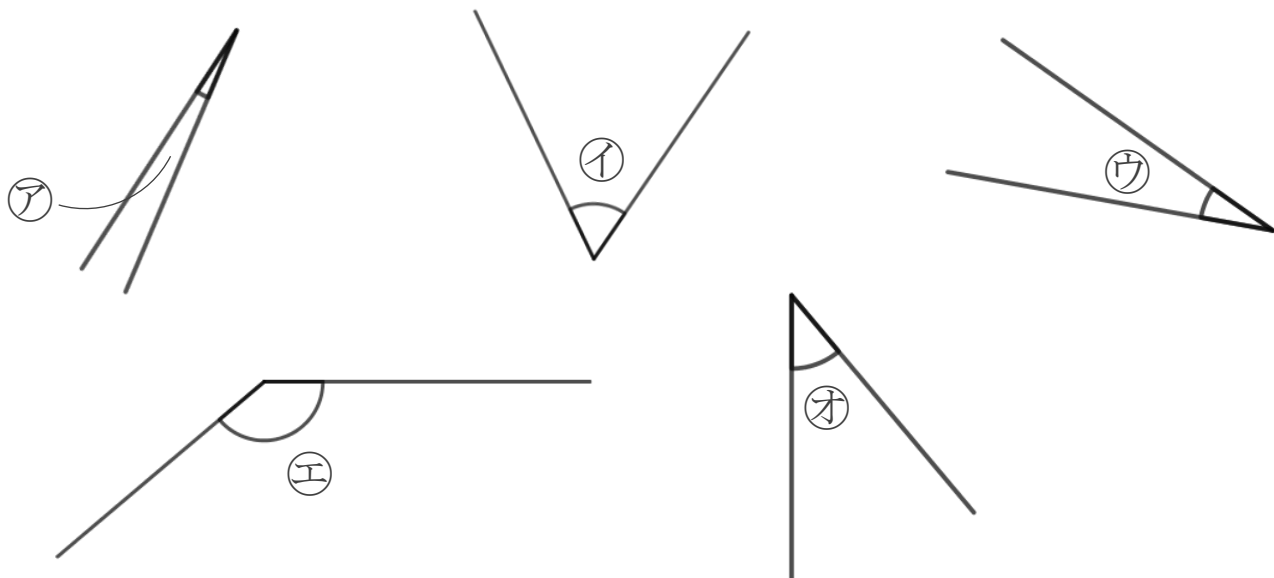
名まえ _____

1 次の角の大きさをくらべて、小さいじゅんに書きましょう。



答え： → → → →

2 次の角の大きさをくらべて、大きいじゅんに書きましょう。



答え： → → → →





三角形と角 10

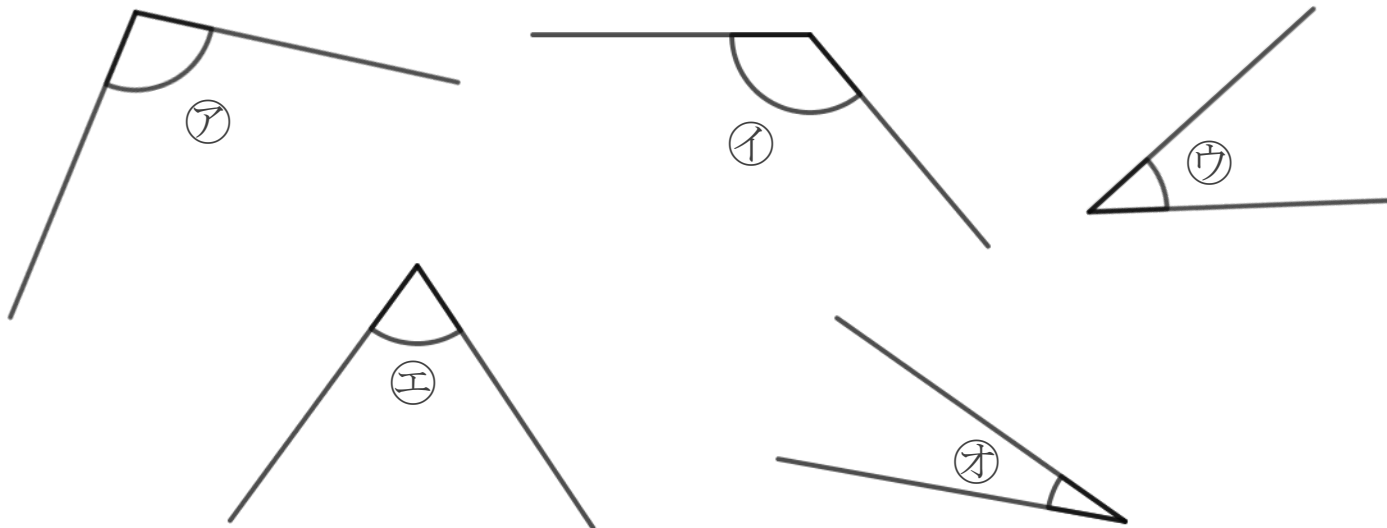
● 角を大きい
じゅんにならべる



日にち： 月 日

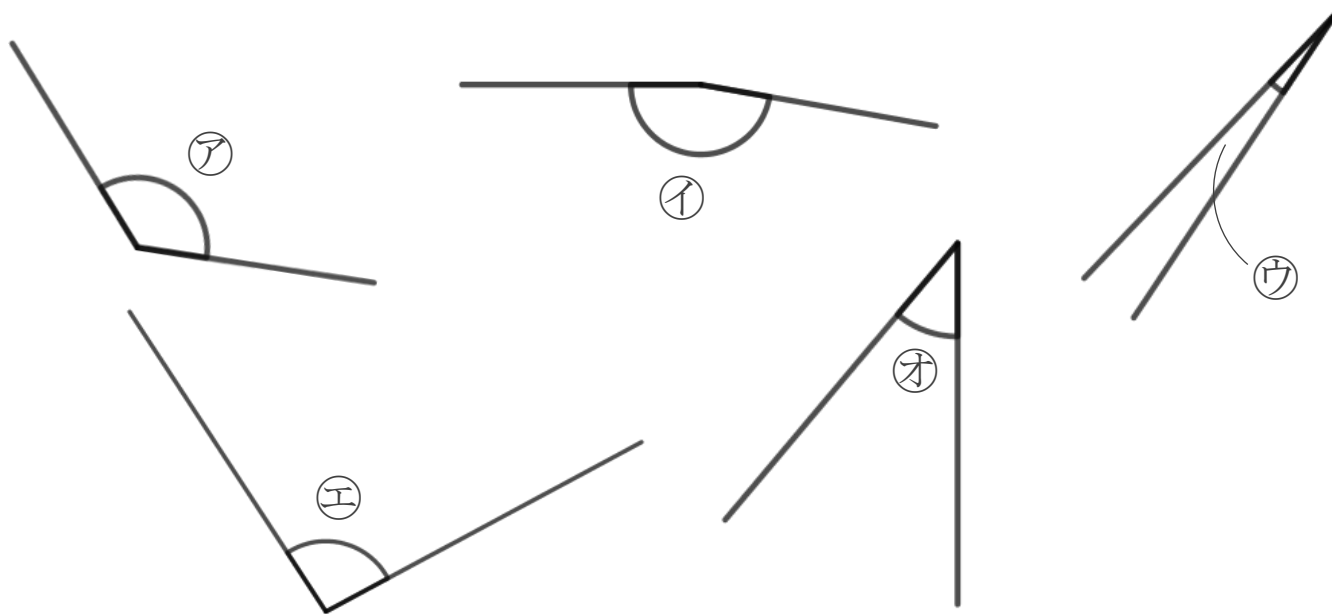
名まえ _____

1 次の角の大きさをくらべて、大きいじゅんに書きましょう。



答え： → → → →

2 次の角の大きさをくらべて、小さいじゅんに書きましょう。



答え： → → → →



三角形と角 10

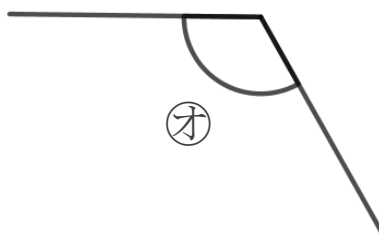
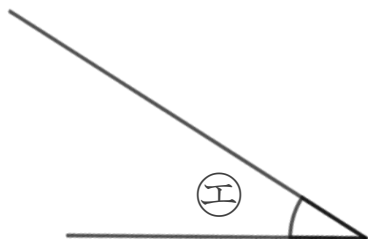
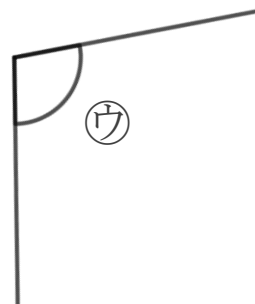

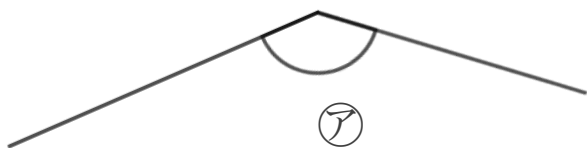
● 角を大きい
じゅんにならべる



日にち： 月 日

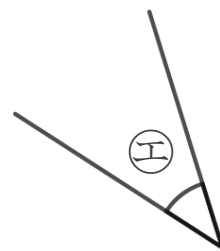
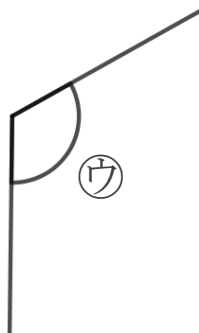
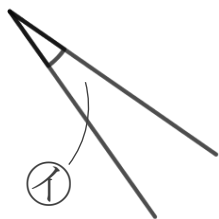
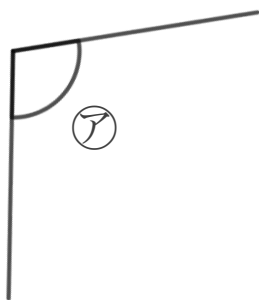
名まえ _____

1 次の角の大きさをくらべて、大きいじゅんに書きましょう。



答え： → → → →

2 次の角を見つけて、ア～エで答えましょう。



① いちばん大きい角

答え： _____

② いちばん小さい角

答え： _____





三角形と角 10

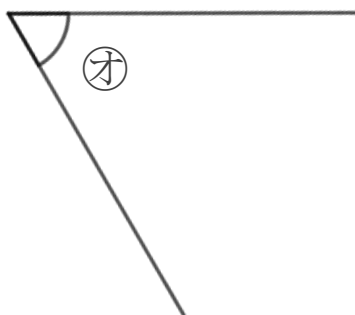
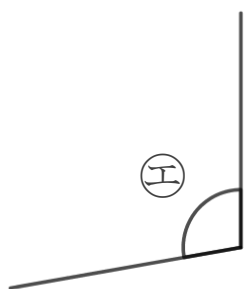
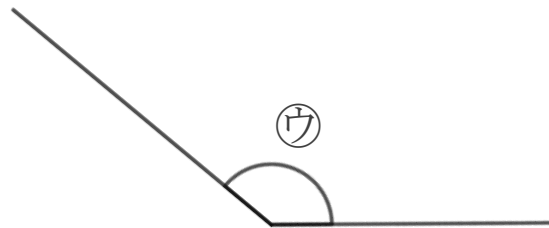
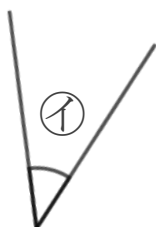
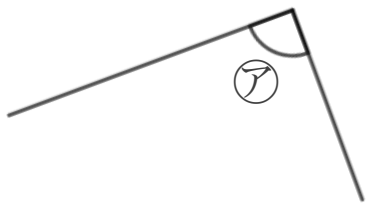
● 角を大きい
じゅんにならべる



日にち： 月 日

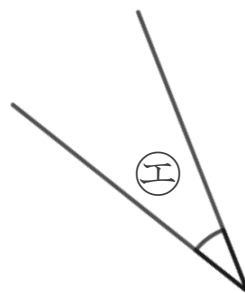
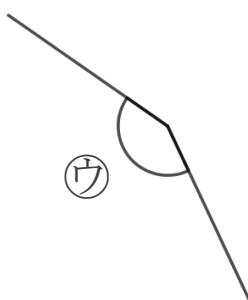
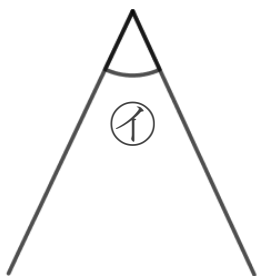
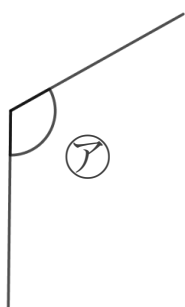
名まえ _____

1 次の角の大きさをくらべて、小さいじゅんに書きましょう。



答え： → → → →

2 次の角を見つけて、ア～エで答えましょう。



① いちばん大きい角

答え： _____

② いちばん小さい角

答え： _____





三角形と角 10

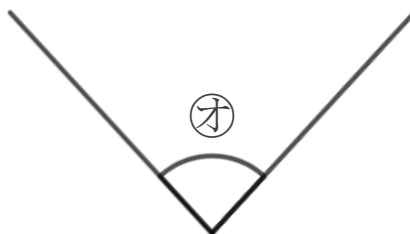
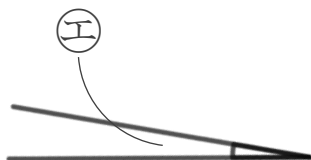
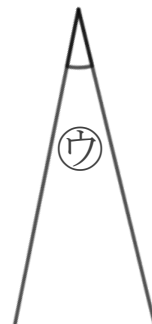
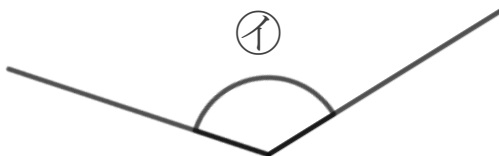
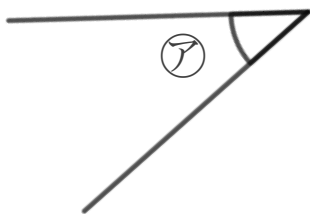
● 角を大きい
じゅんにならべる

12

日にち： 月 日

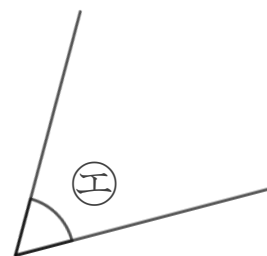
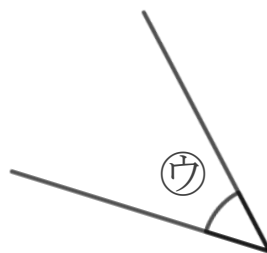
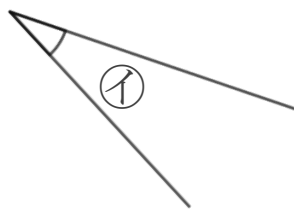
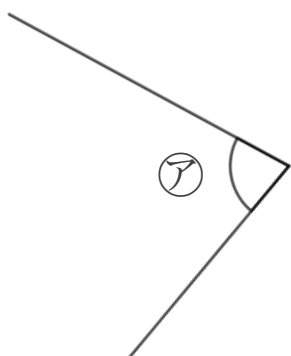
名まえ _____

1 次の角の大きさをくらべて、大きいじゅんに書きましょう。



答え： → → → →

2 次の角を見つけて、ア～エで答えましょう。



① いちばん大きい角 答え： _____

② いちばん小さい角 答え： _____





三角形と角 10

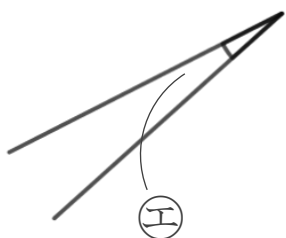
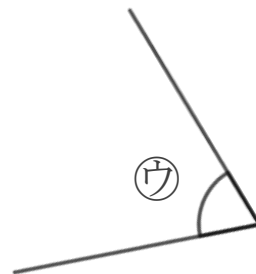
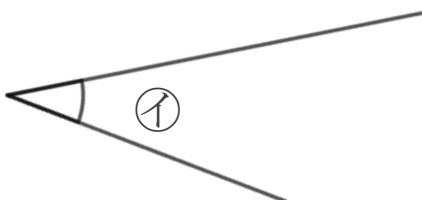
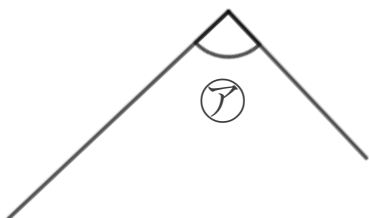
● 角を大きい
じゅんにならべる

13

日にち： 月 日

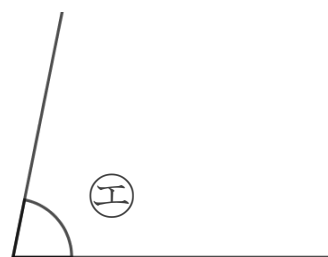
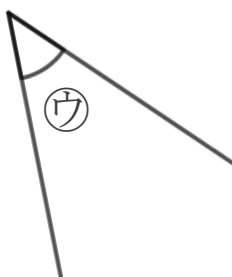
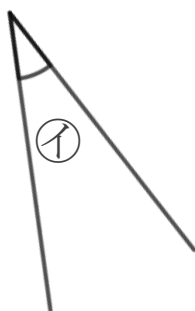
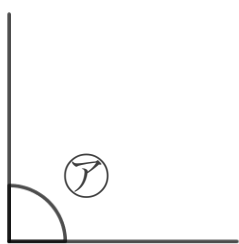
名まえ _____

1 次の角の大きさをくらべて、小さいじゅんに書きましょう。



答え： → → → →

2 次の角を見つけて、ア～エで答えましょう。



① いちばん大きい角

答え： _____

② いちばん小さい角

答え： _____





三角形と角 10

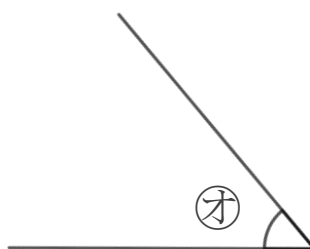
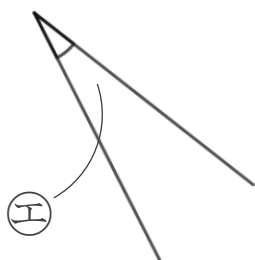
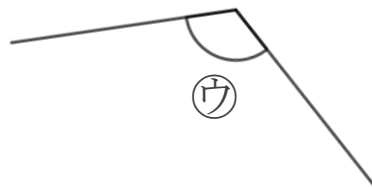
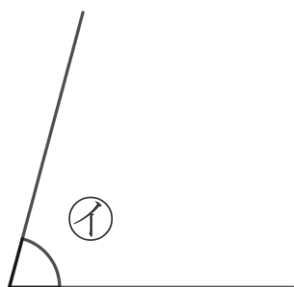
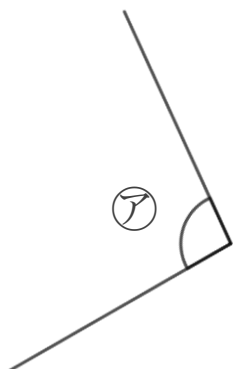
● 角を大きい
じゅんにならべる

14

日にち： 月 日

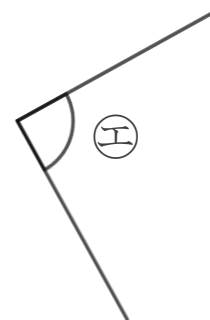
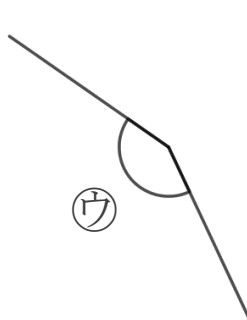
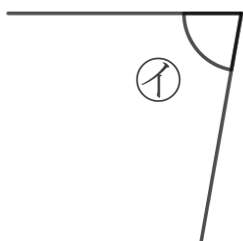
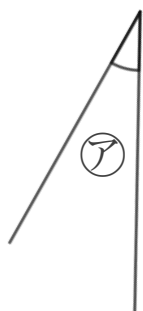
名まえ _____

1 次の角の大きさをくらべて、大きいじゅんに書きましょう。



答え： → → → →

2 次の角を見つけて、ア～エで答えましょう。



① いちばん大きい角

答え： _____

② いちばん小さい角

答え： _____





三角形と角 10

● 角を大きい
じゅんにならべる

15

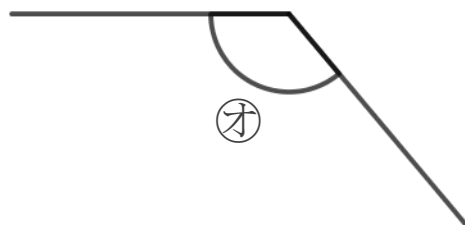
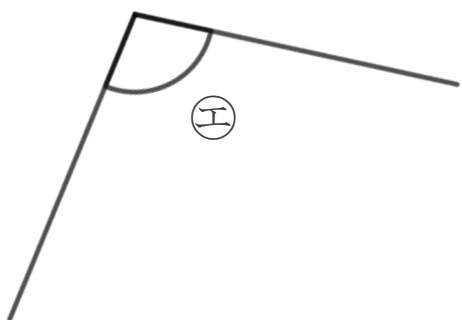
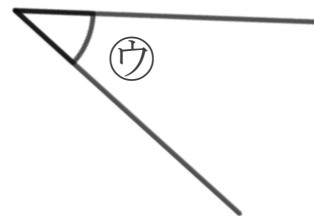
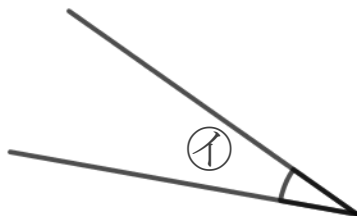
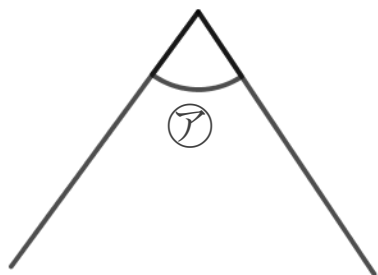
めざせ100点!



名まえ _____

1 次の角の大きさをくらべて、小さいじゅんに書きましょう。

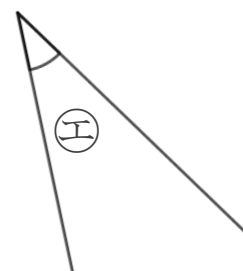
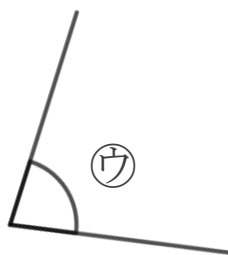
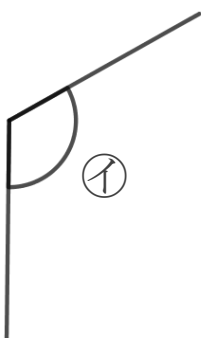
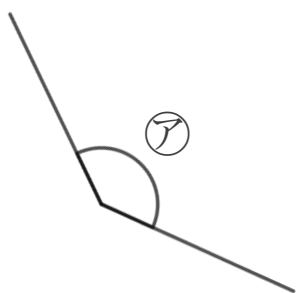
(50点)



答え： → → → →

2 次の角を見つけて、ア～エで答えましょう。

(各25点)



① いちばん大きい角

答え： _____

② いちばん小さい角

答え： _____





三角形と角 10

● 角を大きい
じゅんにならべる

16

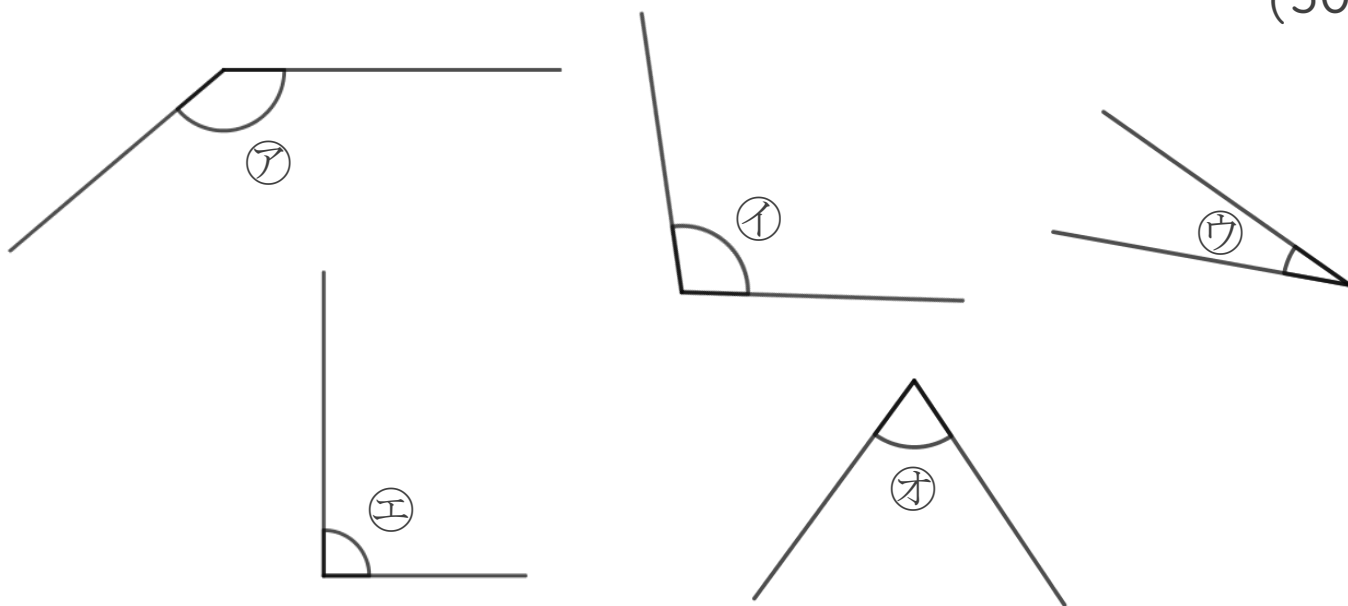
めざせ100点!



名まえ _____

1 次の角の大きさをくらべて、大きいじゅんに書きましょう。

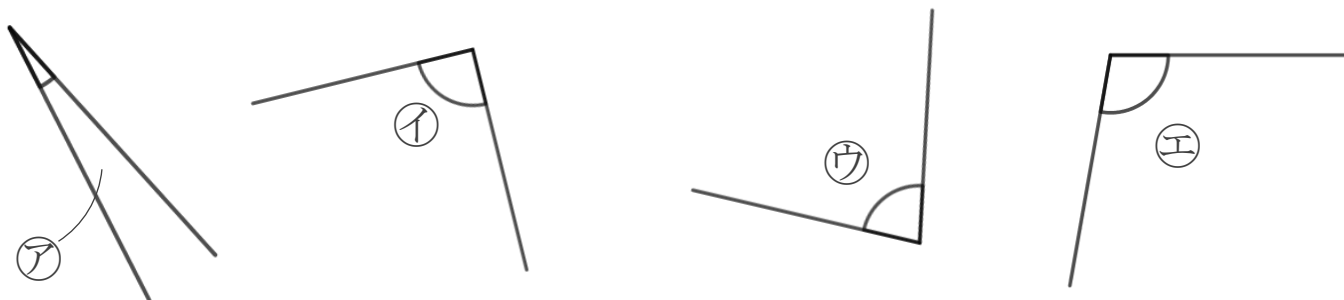
(50点)



答え： → → → →

2 次の角を見つけて、ア～エで答えましょう。

(各25点)



① いちばん大きい角

答え： _____

② いちばん小さい角

答え： _____





三角形と角 10

● 角を大きい
じゅんにならべる

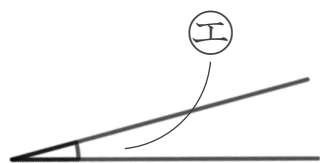
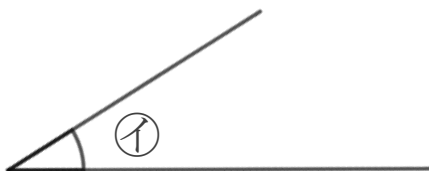
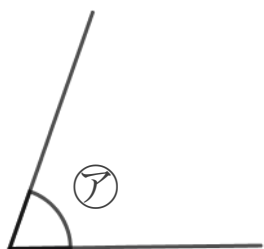


日にち： 月 日

名まえ _____

1 次の角の大きさをくらべて、大きいじゅんに書きましょう。

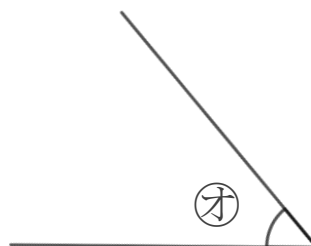
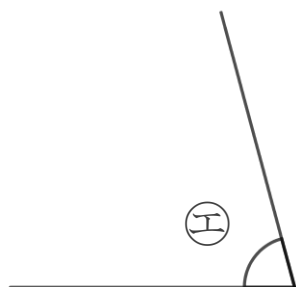
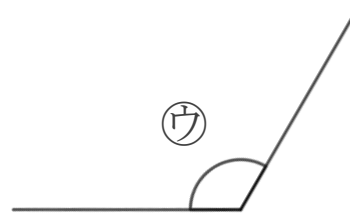
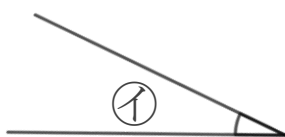
(うすい字はなぞりましょう。)



答え： **オ** → **ウ** → **ア** → **イ** → **エ**

2 次の角の大きさをくらべて、小さいじゅんに書きましょう。

(うすい字はなぞりましょう。)



答え： **イ** → **オ** → **エ** → **ア** → **ウ**





三角形と角 10

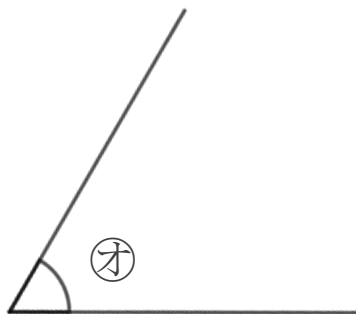
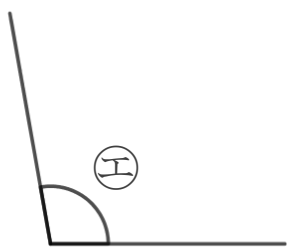
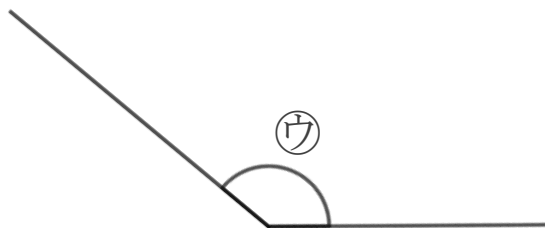
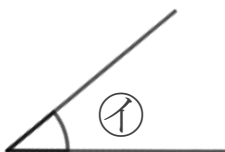
● 角を大きい
じゅんにならべる



日にち： 月 日

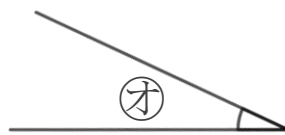
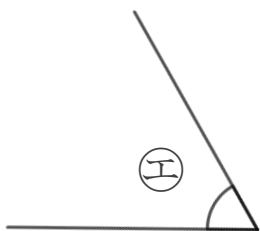
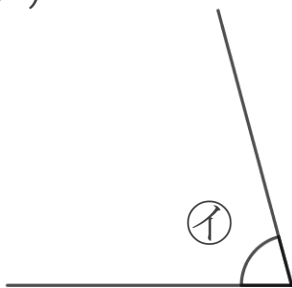
名まえ _____

1 次の角の大きさをくらべて、大きいじゅんに書きましょう。
(うすい字はなぞりましょう。)



答え： ⓐ → ⓑ → ⓒ → ⓓ → ⓔ

2 次の角の大きさをくらべて、小さいじゅんに書きましょう。
(うすい字はなぞりましょう。)



答え： ⓐ → ⓑ → ⓒ → ⓓ → ⓔ





三角形と角 10

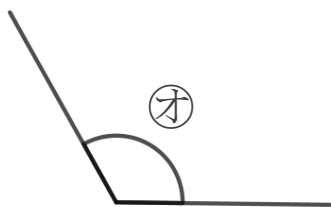
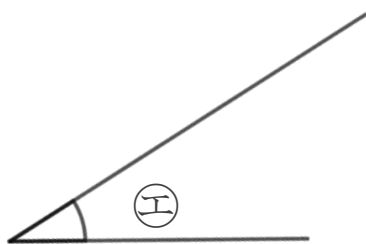
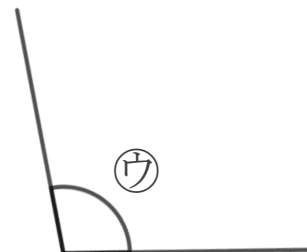
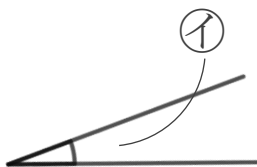
● 角を大きい
じゅんにならべる



日にち： 月 日

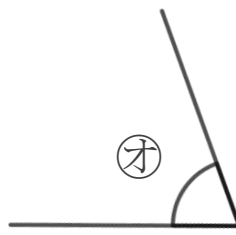
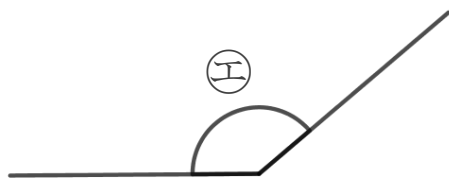
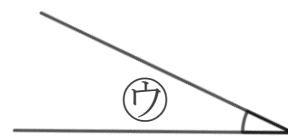
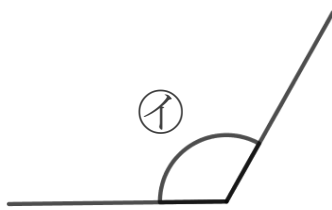

名まえ _____

1 次の角の大きさをくらべて、小さいじゅんに書きましょう。
(うすい字はなぞりましょう。)



答え：  →  →  →  → 

2 次の角の大きさをくらべて、大きいじゅんに書きましょう。
(うすい字はなぞりましょう。)



答え：  →  →  →  → 





三角形と角 10

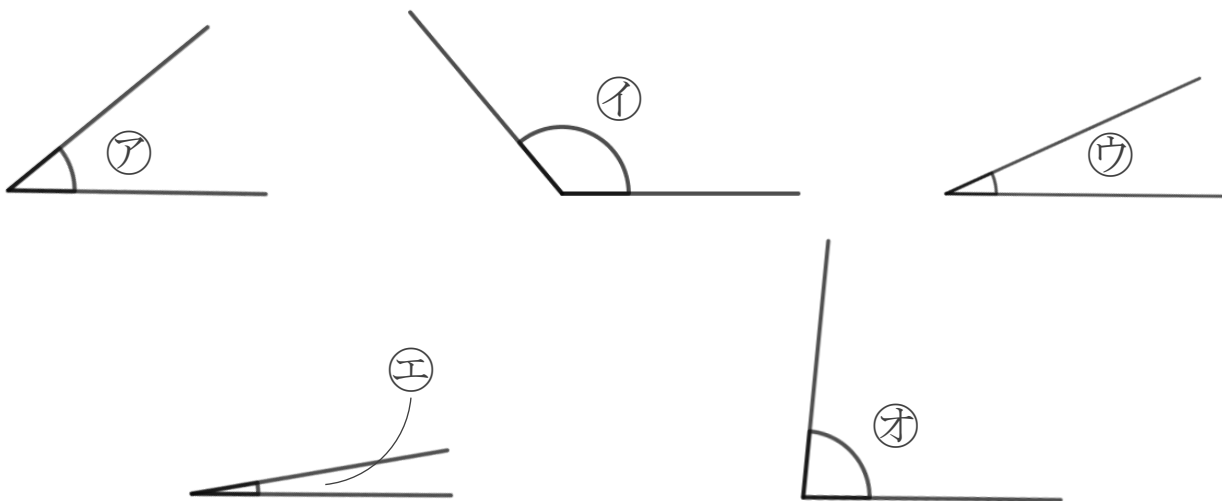
● 角を大きい
じゅんにならべる

4

日にち： 月 日

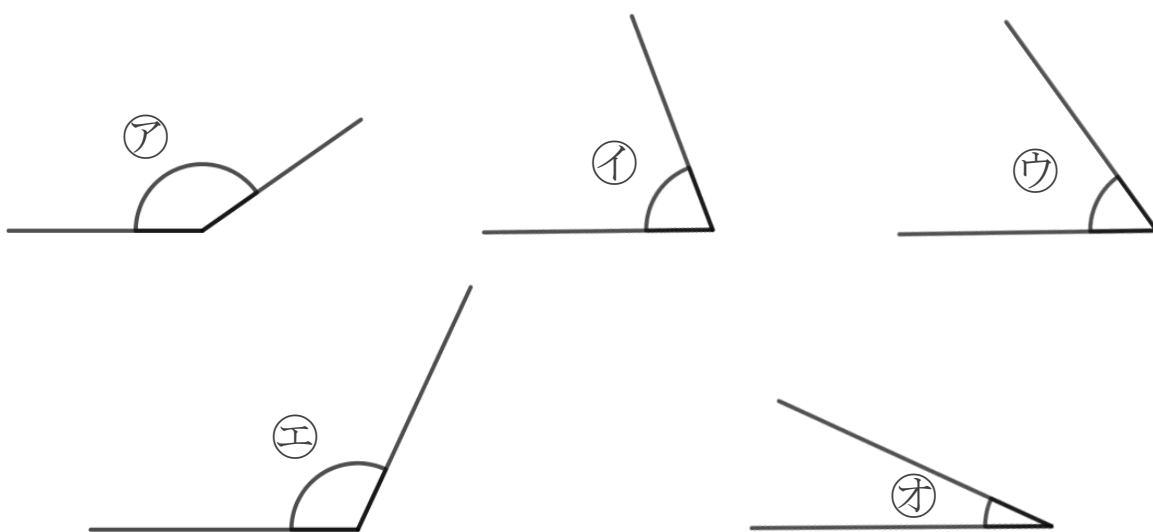
名まえ _____

1 次の角の大きさをくらべて、小さいじゅんに書きましょう。
(うすい字はなぞりましょう。)



答え： **エ** → **ウ** → **ア** → **オ** → **イ**

2 次の角の大きさをくらべて、大きいじゅんに書きましょう。



答え： **ア** → **エ** → **イ** → **ウ** → **オ**





三角形と角 10

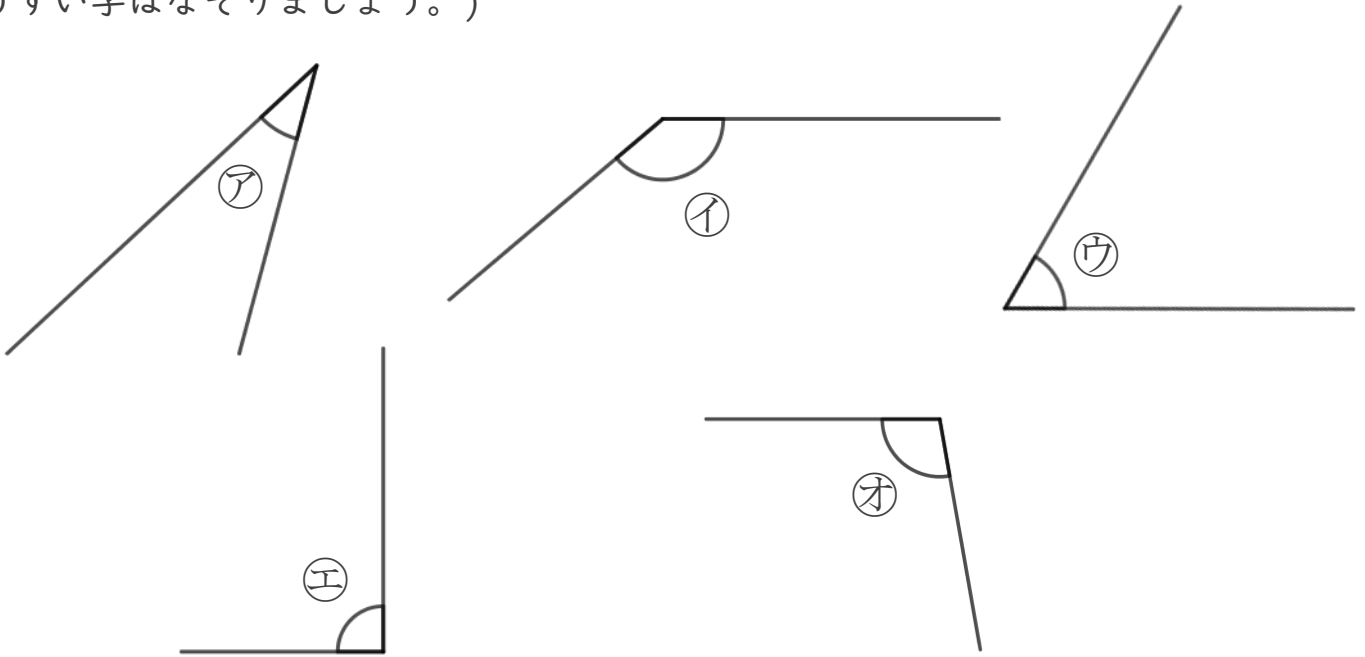
● 角を大きい
じゅんにならべる



日にち： 月 日

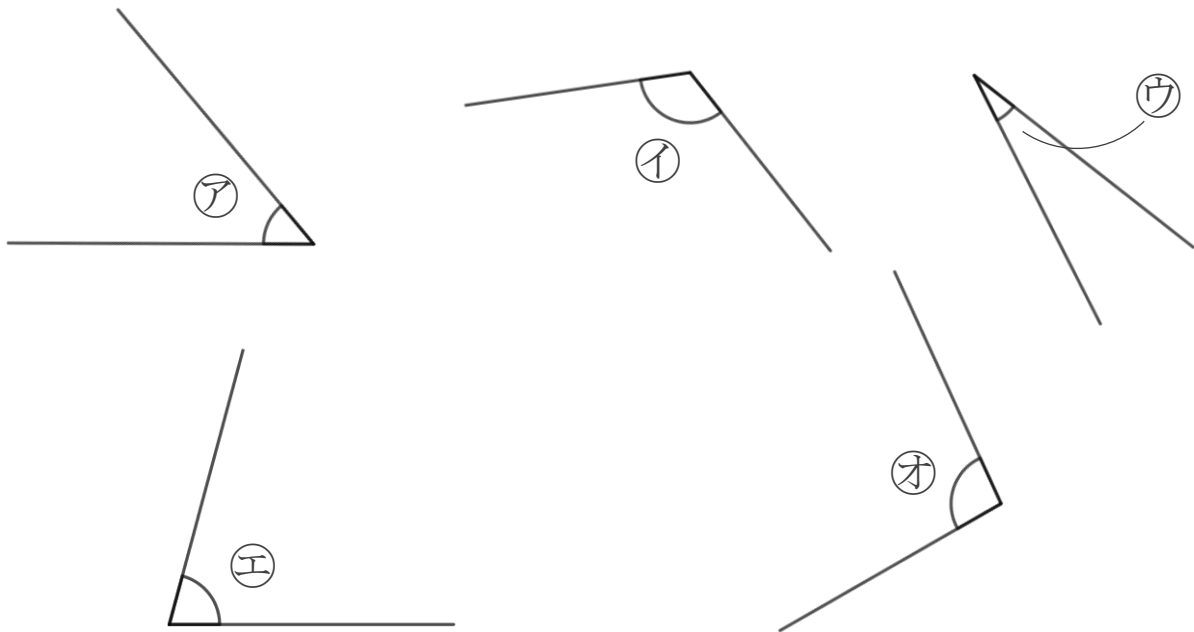
名まえ _____

1 次の角の大きさをくらべて、大きいじゅんに書きましょう。
(うすい字はなぞりましょう。)



答え： **イ** → **オ** → **エ** → **ウ** → **ア**

2 次の角の大きさをくらべて、小さいじゅんに書きましょう。



答え： **ウ** → **ア** → **エ** → **オ** → **イ**



三角形と角 10

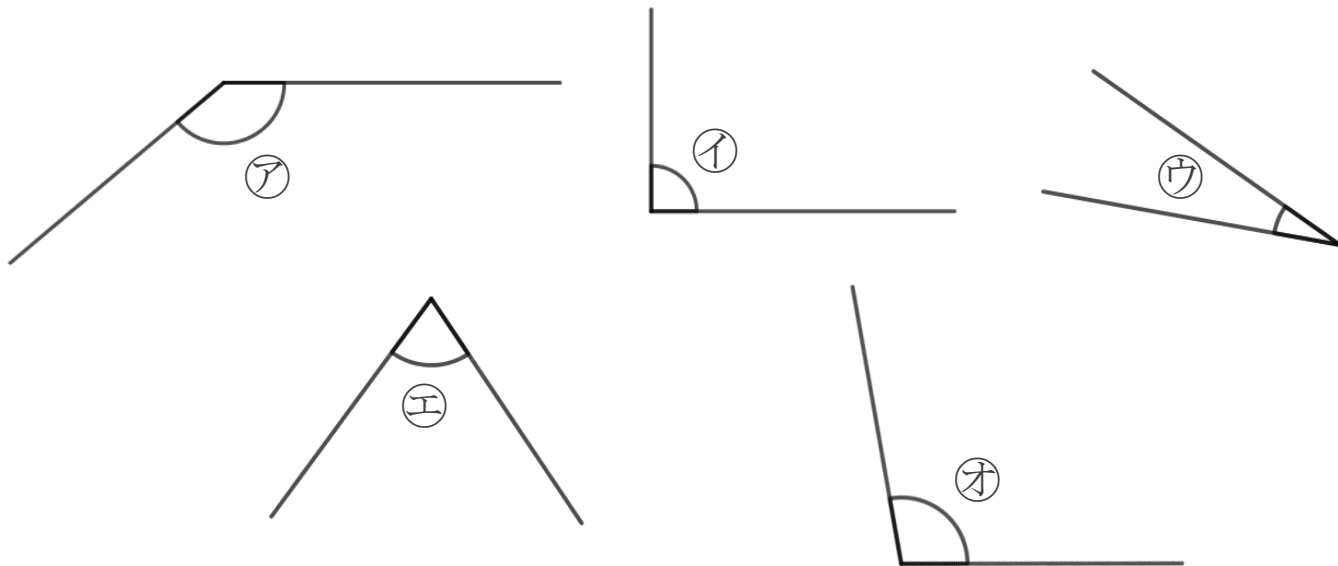
● 角を大きい
じゅんにならべる



日にち： 月 日

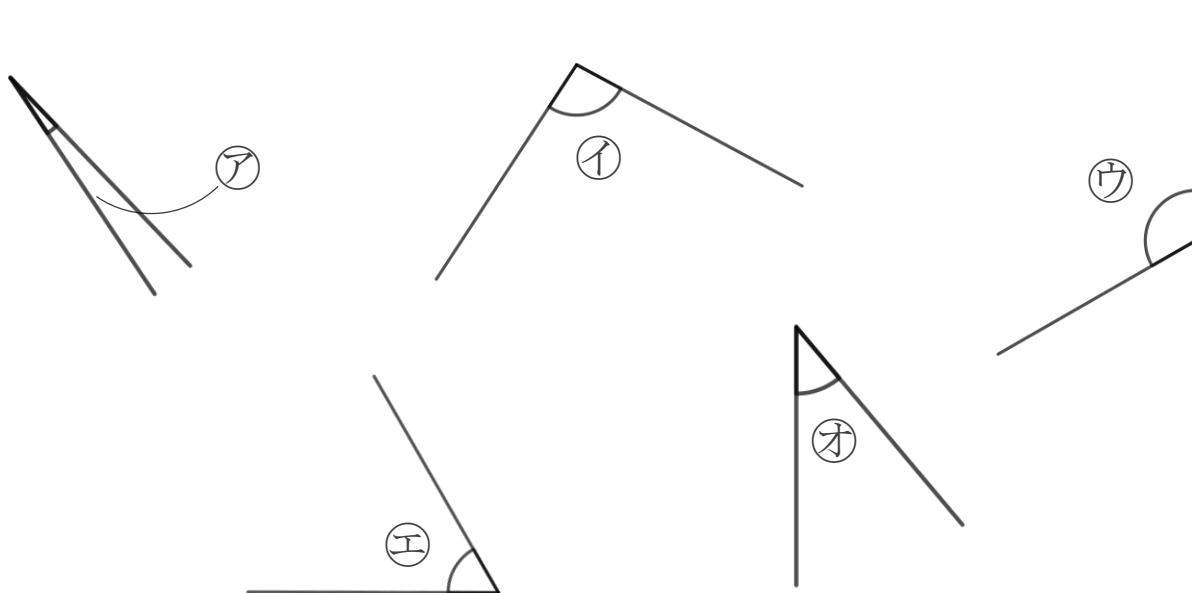
名まえ _____

1 次の角の大きさをくらべて、大きいじゅんに書きましょう。
(うすい字はなぞりましょう。)



答え： ア → オ → イ → エ → ウ

2 次の角の大きさをくらべて、小さいじゅんに書きましょう。



答え： ア → オ → エ → イ → ウ





三角形と角 10

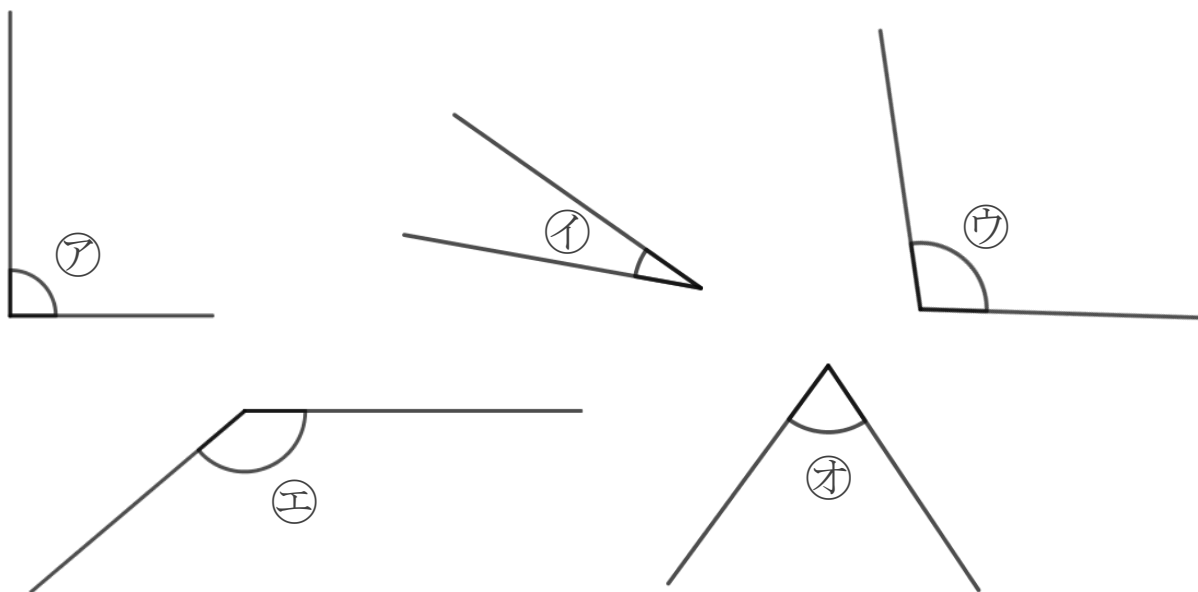
● 角を大きい
じゅんにならべる



日にち： 月 日

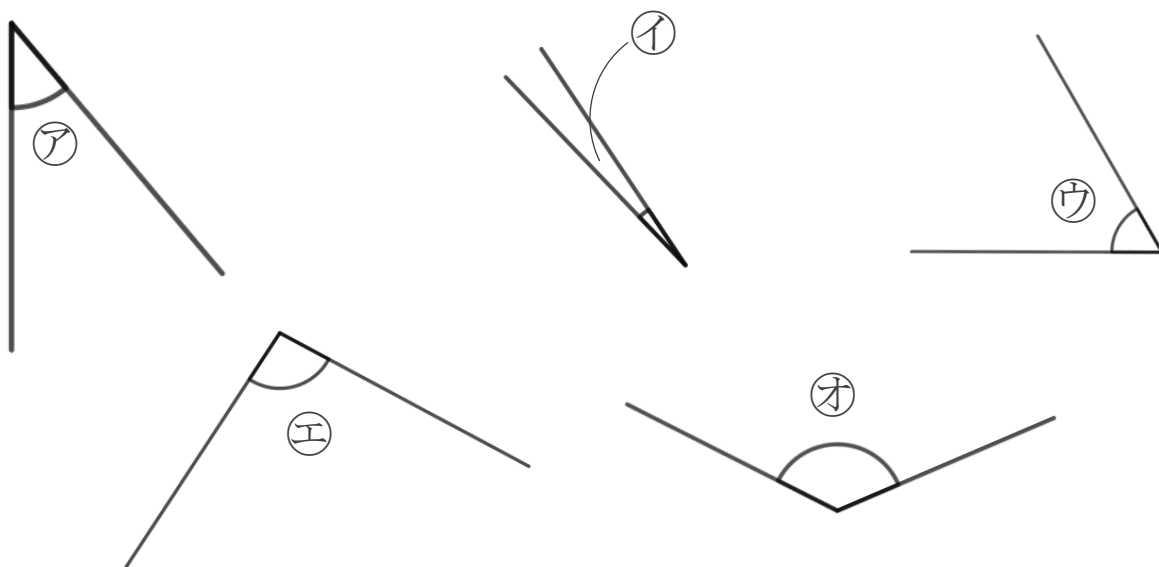
名まえ _____

1 次の角の大きさをくらべて、小さいじゅんに書きましょう。



答え： イ → オ → ア → ウ → エ

2 次の角の大きさをくらべて、大きいじゅんに書きましょう。



答え： オ → エ → ウ → ア → イ





三角形と角 10

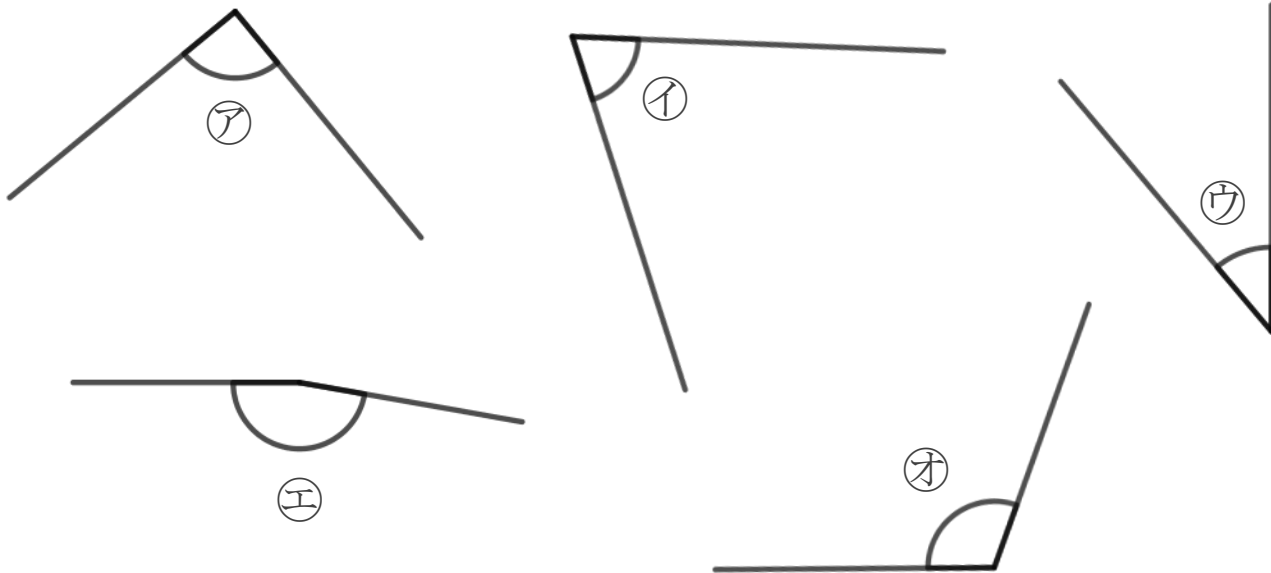
● 角を大きい
じゅんにならべる



日にち： 月 日

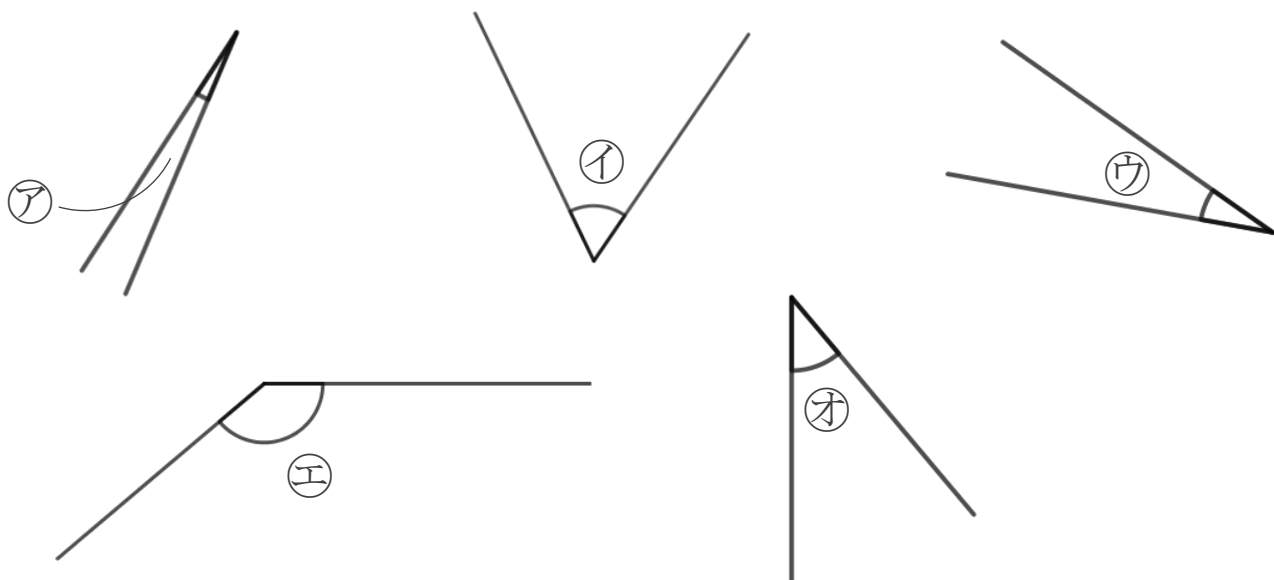
名まえ _____

1 次の角の大きさをくらべて、小さいじゅんに書きましょう。



答え： ⓐ → ⓑ → ⓒ → ⓓ → ⓔ

2 次の角の大きさをくらべて、大きいじゅんに書きましょう。



答え： ⓔ → ⓑ → ⓒ → ⓐ → ⓓ





三角形と角 10

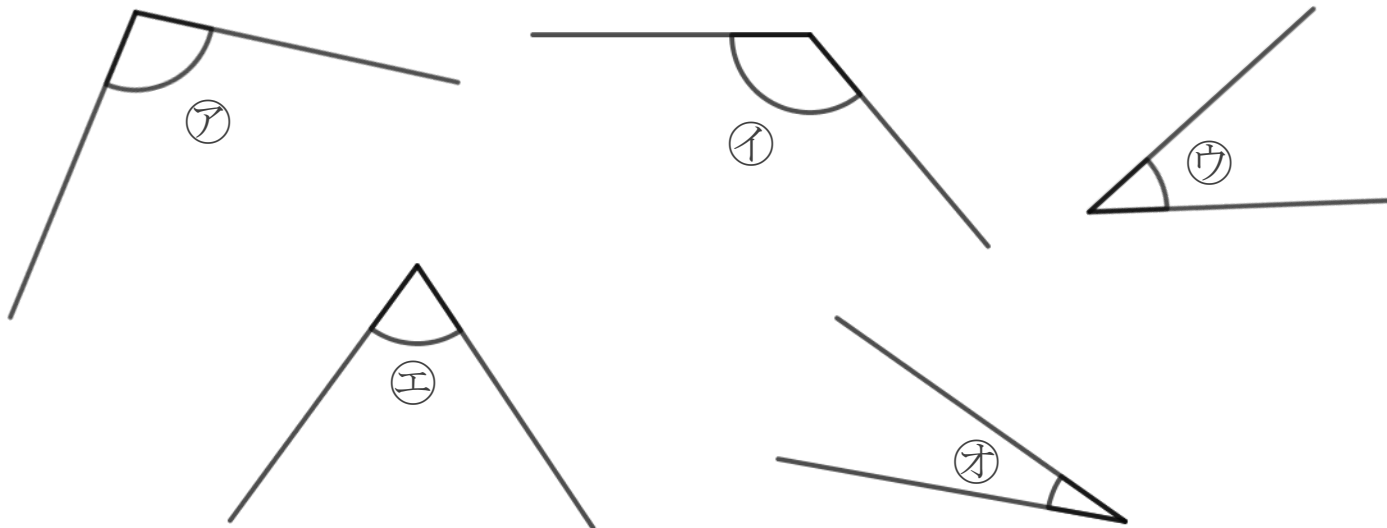
● 角を大きい
じゅんにならべる



日にち： 月 日

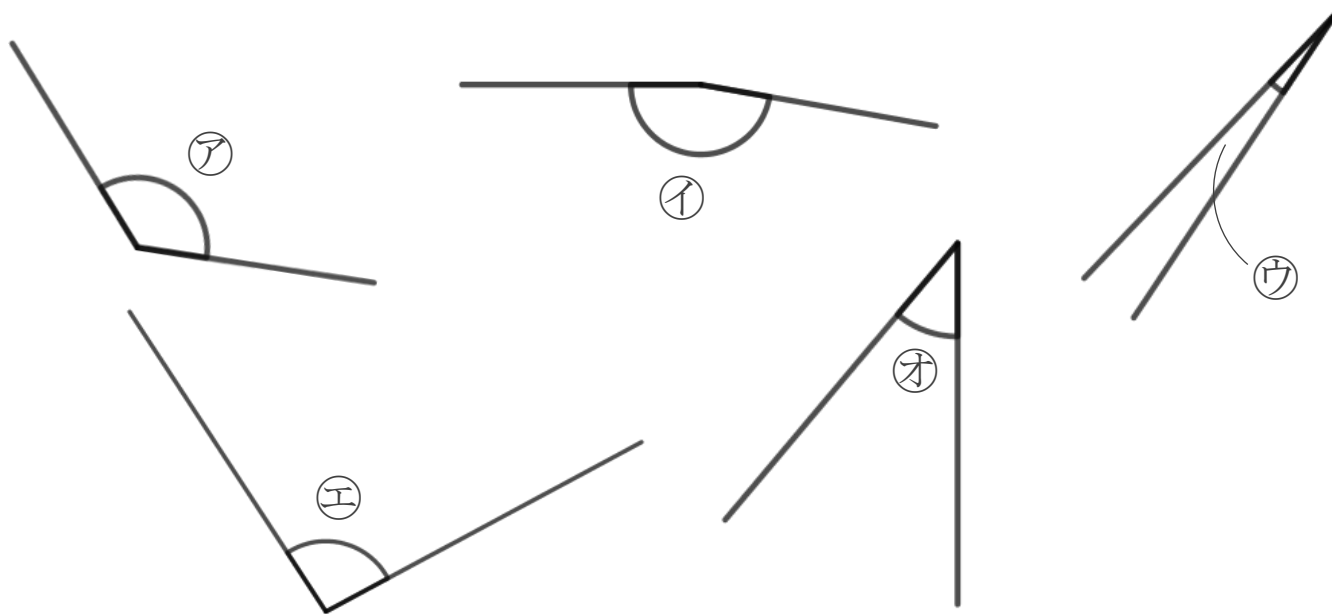
名まえ _____

1 次の角の大きさをくらべて、大きいじゅんに書きましょう。



答え： **イ** → **ア** → **エ** → **ウ** → **オ**

2 次の角の大きさをくらべて、小さいじゅんに書きましょう。



答え： **ウ** → **オ** → **エ** → **ア** → **イ**





三角形と角 10

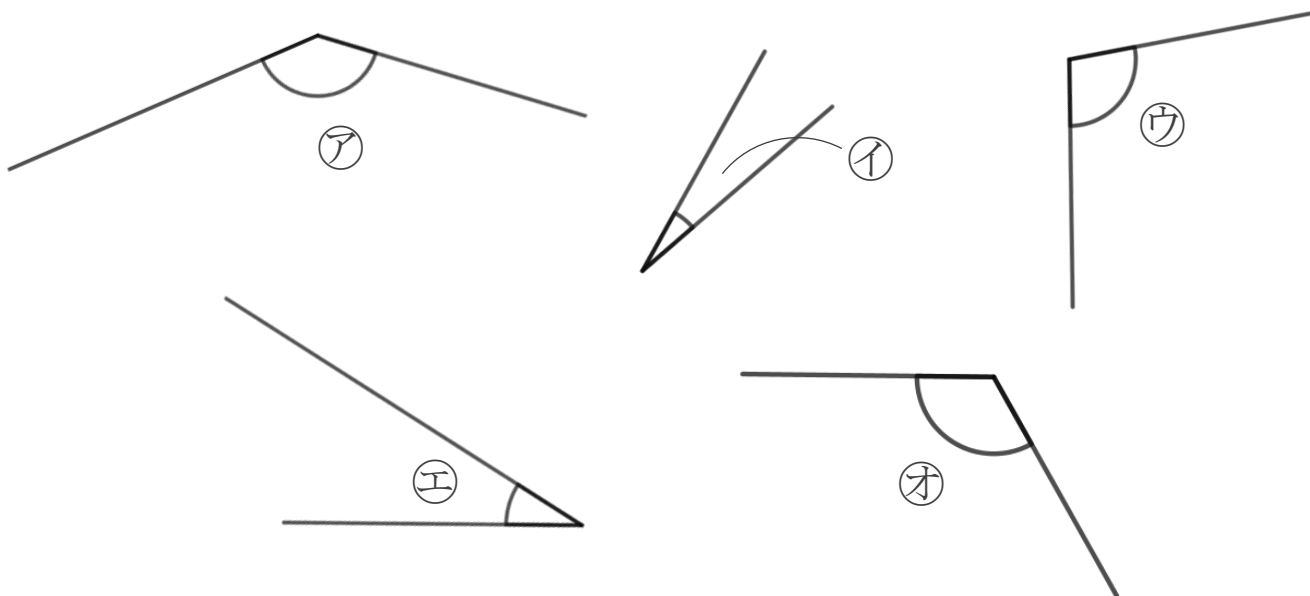
● 角を大きい
じゅんにならべる

10

日にち： 月 日

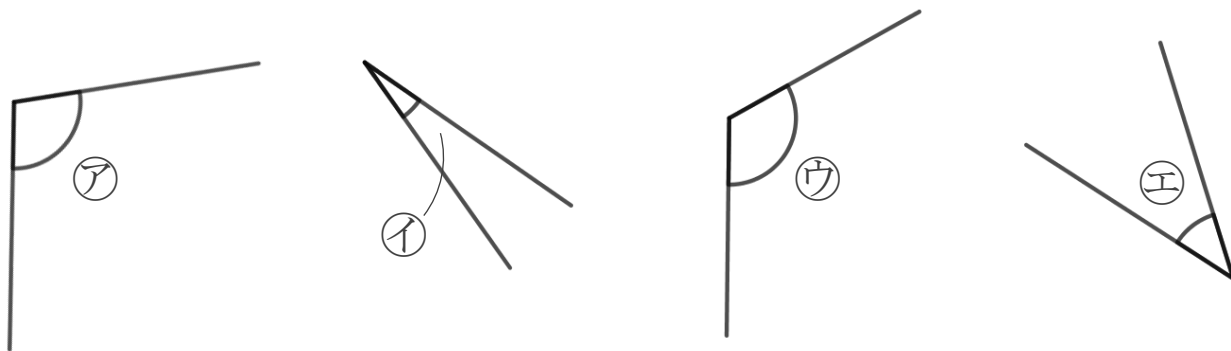
名まえ _____

1 次の角の大きさをくらべて、大きいじゅんに書きましょう。



答え： ア → オ → ウ → エ → イ

2 次の角を見つけて、ア～エで答えましょう。



① いちばん大きい角

答え：

ウ

② いちばん小さい角

答え：

イ





三角形と角 10

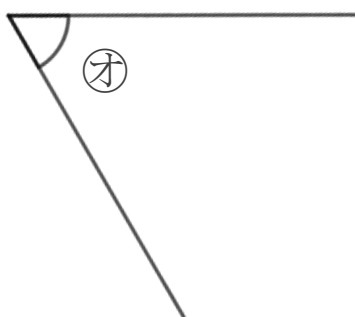
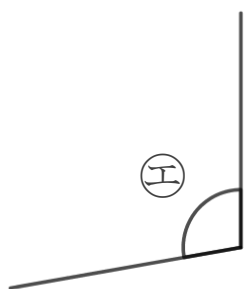
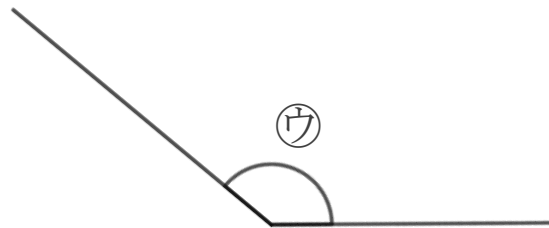
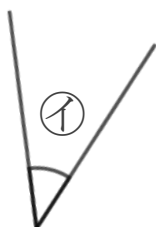
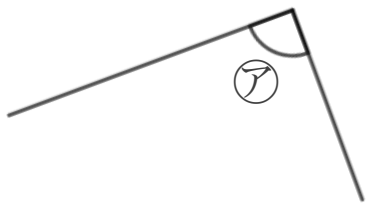
● 角を大きい
じゅんにならべる



日にち： 月 日

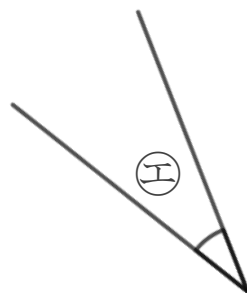
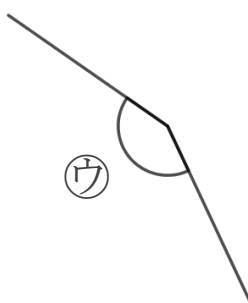
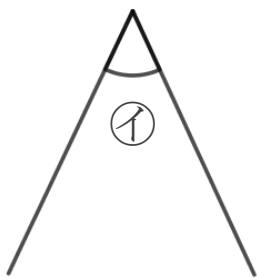
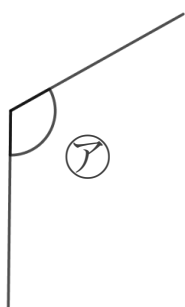
名まえ _____

1 次の角の大きさをくらべて、小さいじゅんに書きましょう。



答え： **イ** → **オ** → **ア** → **エ** → **ウ**

2 次の角を見つけて、ア～エで答えましょう。



① いちばん大きい角

答え： **ウ**

② いちばん小さい角

答え： **エ**





三角形と角 10

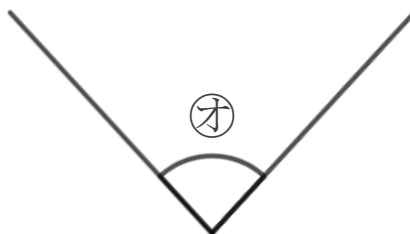
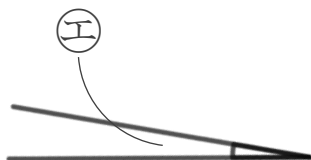
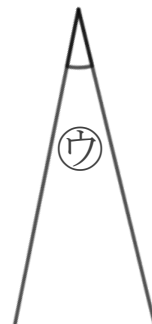
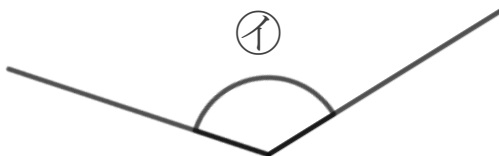
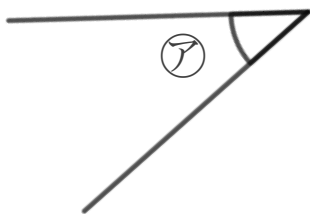
● 角を大きい
じゅんにならべる

12

日にち： 月 日

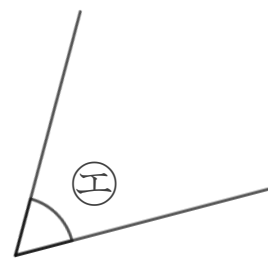
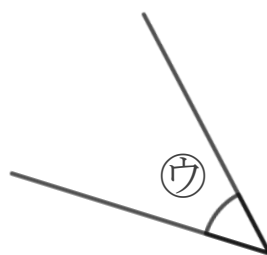
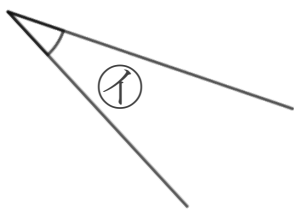
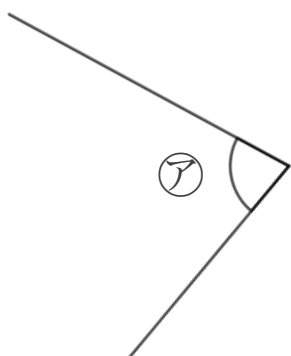
名まえ _____

1 次の角の大きさをくらべて、大きいじゅんに書きましょう。



答え： **イ** → **オ** → **ア** → **ウ** → **エ**

2 次の角を見つけて、ア～エで答えましょう。



① いちばん大きい角

答え：

ア

② いちばん小さい角

答え：

イ





三角形と角 10

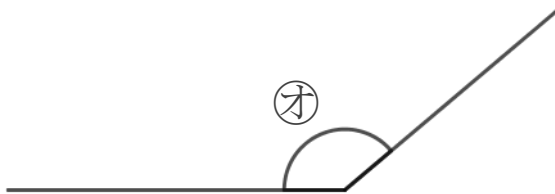
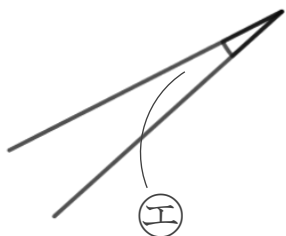
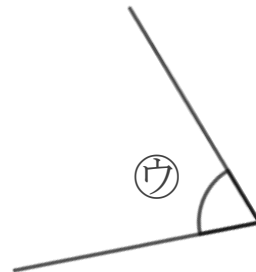
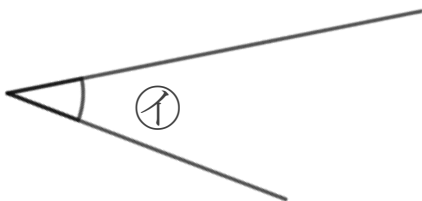
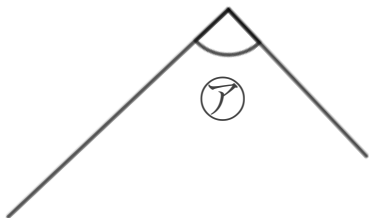
● 角を大きい
じゅんにならべる

13

日にち： 月 日

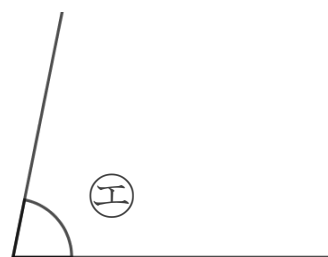
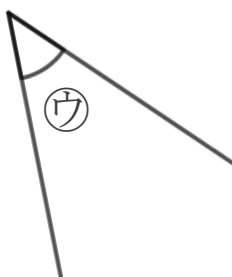
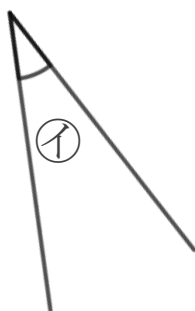
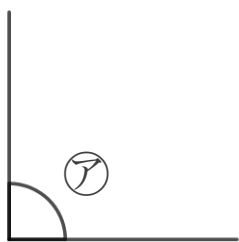
名まえ _____

1 次の角の大きさをくらべて、小さいじゅんに書きましょう。



答え： **エ** → **イ** → **ウ** → **ア** → **オ**

2 次の角を見つけて、ア～エで答えましょう。



① いちばん大きい角

答え： **ア**

② いちばん小さい角

答え： **イ**





三角形と角 10

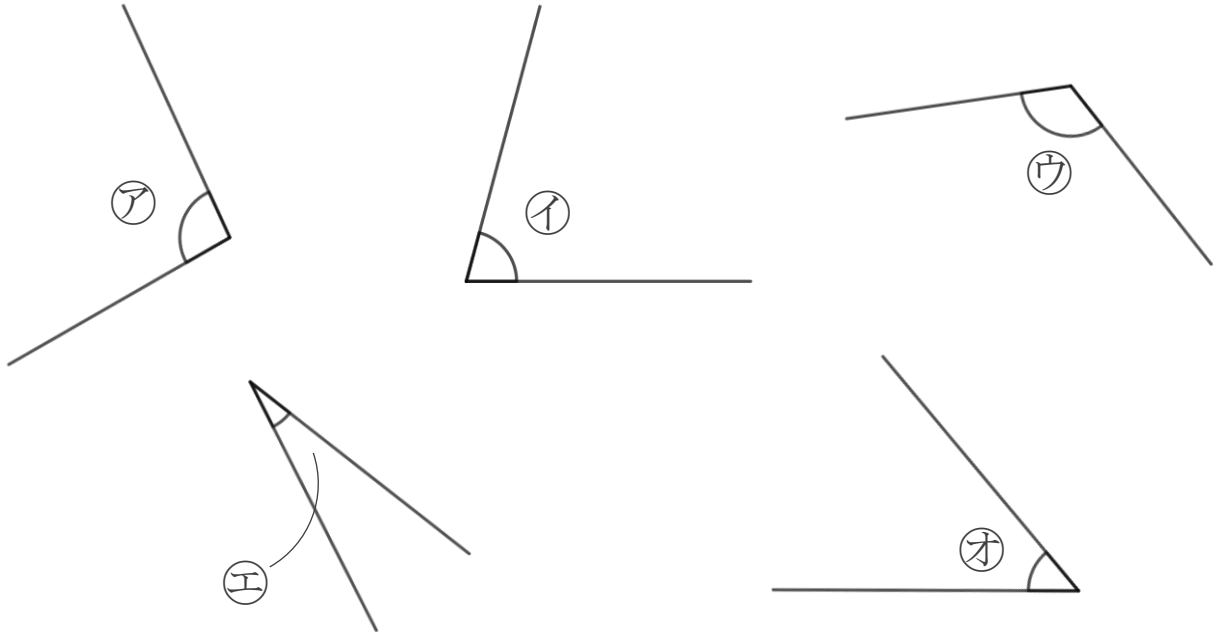
● 角を大きい
じゅんにならべる

14

日にち： 月 日

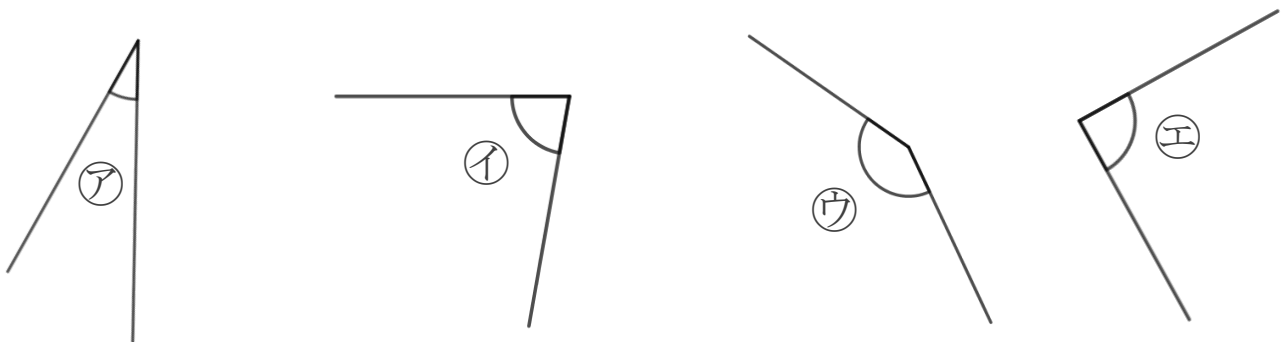
名まえ _____

1 次の角の大きさをくらべて、大きいじゅんに書きましょう。



答え： ウ → ア → イ → オ → エ

2 次の角を見つけて、ア～エで答えましょう。



① いちばん大きい角

答え：

ウ

② いちばん小さい角

答え：

ア



三角形と角 10

● 角を大きい
じゅんにならべる

15

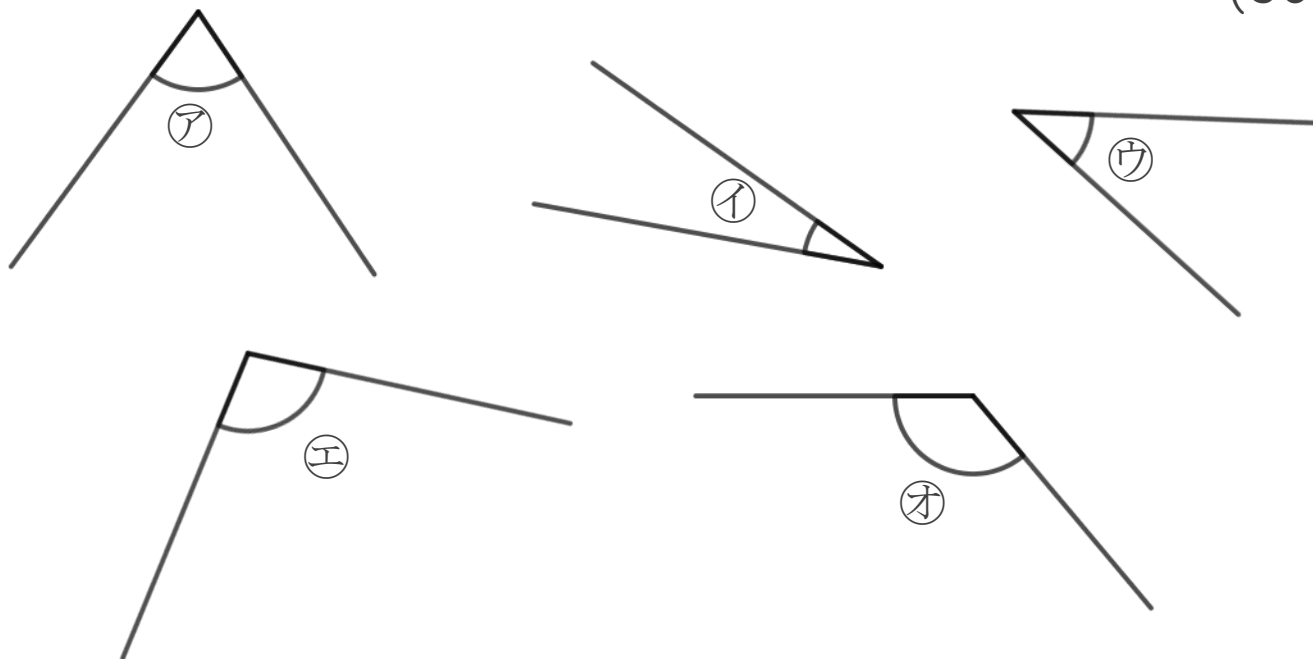
めざせ100点!



名まえ _____

1 次の角の大きさをくらべて、小さいじゅんに書きましょう。

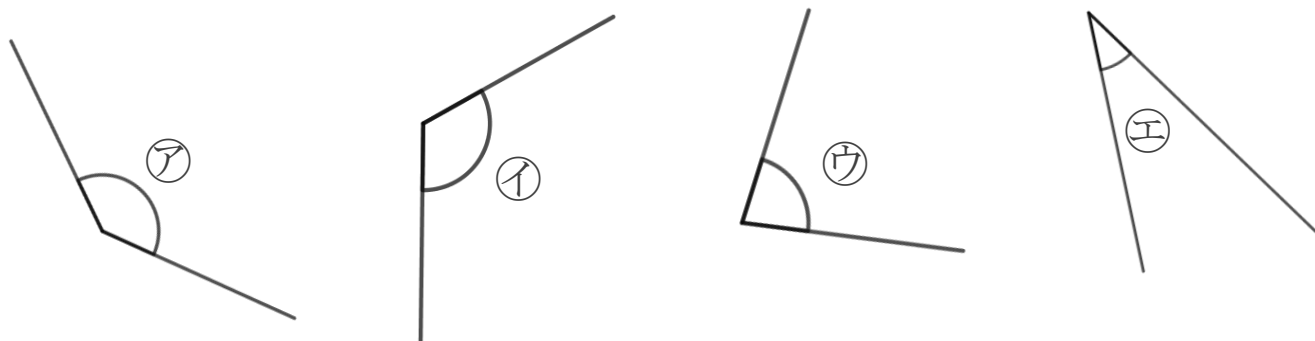
(50点)



答え： イ → ウ → ア → エ → オ

2 次の角を見つけて、ア～エで答えましょう。

(各25点)



① いちばん大きい角

答え：

ア

② いちばん小さい角

答え：

エ





三角形と角 10

● 角を大きい
じゅんにならべる

16

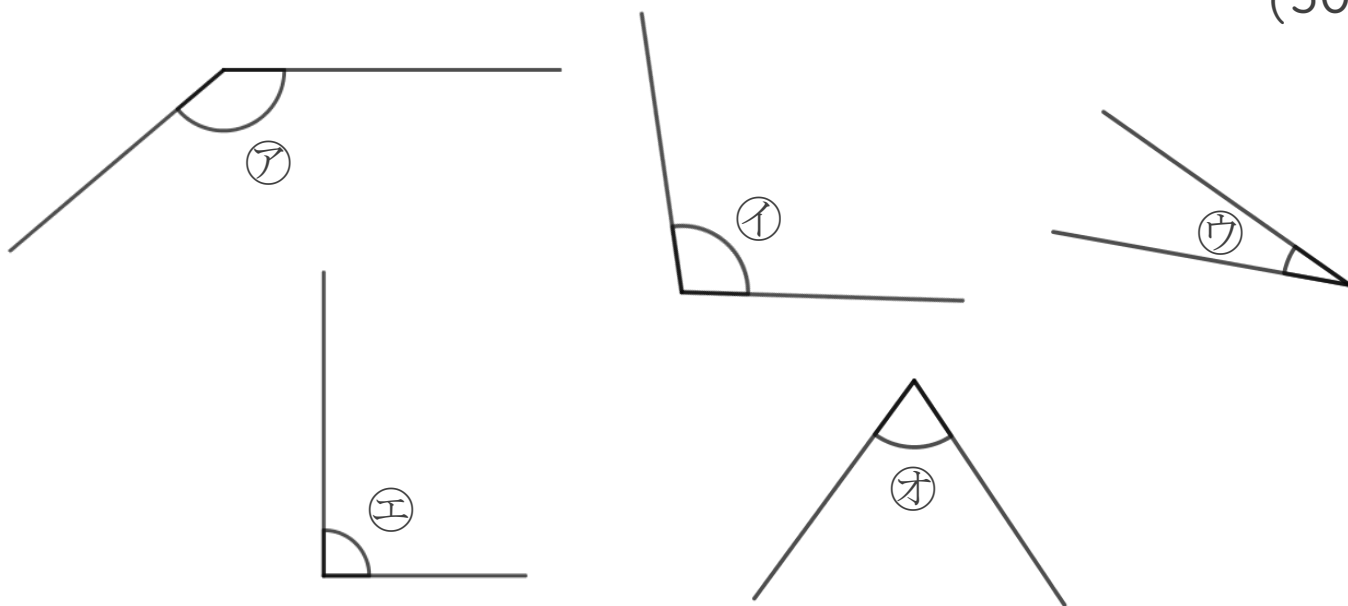
めざせ100点!



名まえ _____

1 次の角の大きさをくらべて、大きいじゅんに書きましょう。

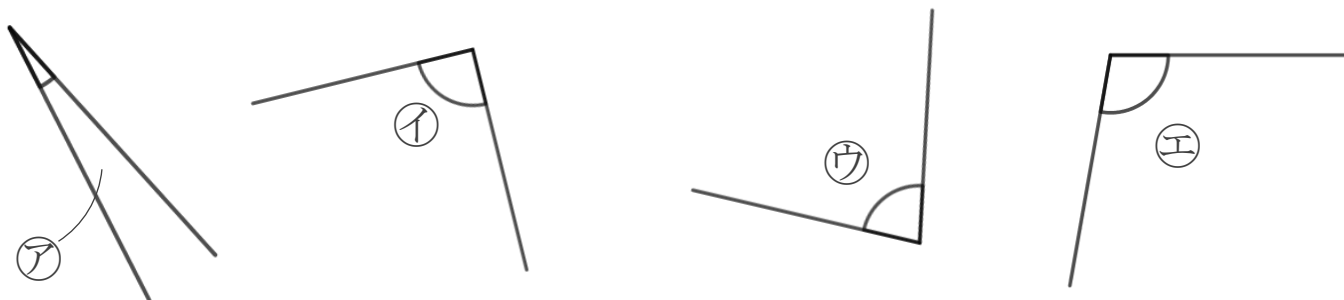
(50点)



答え： ア → イ → エ → オ → ウ

2 次の角を見つけて、ア～エで答えましょう。

(各25点)



① いちばん大きい角

答え：

エ

② いちばん小さい角

答え：

ア

