



三角形と角2

● 正三角形と
二等辺三角形はどれ？

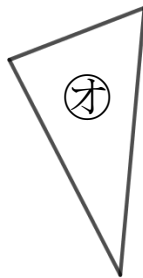
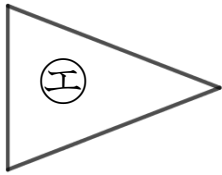
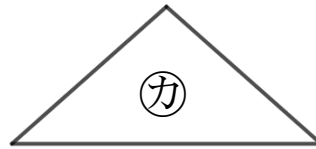
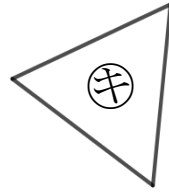
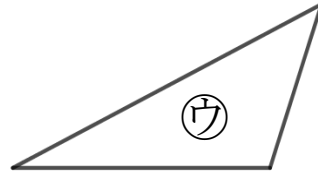
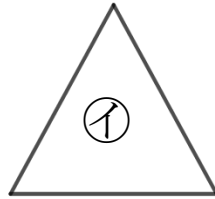
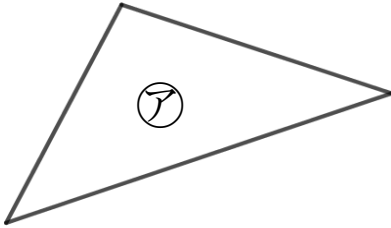


日にち： 月 日

名まえ _____

1 下の図で、正三角形と二等辺三角形をえらびましょう。

(うすい字はしっかりなぞりましょう。)

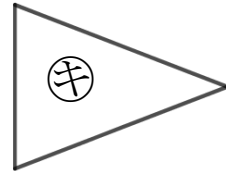
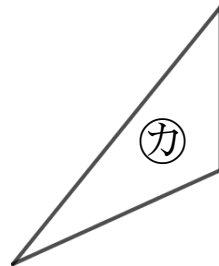
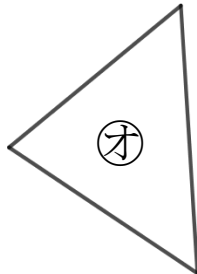
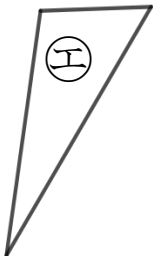
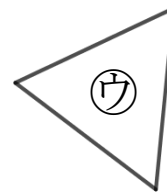
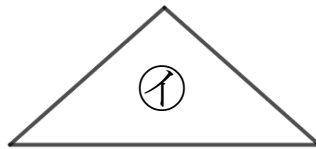
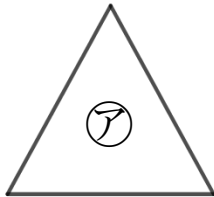


答え： 正三角形… (イ), (キ)

二等辺三角形… (エ), (カ)

2 下の図で、正三角形と二等辺三角形をえらびましょう。

(うすい字はしっかりなぞりましょう。)



答え： 正三角形… ,

二等辺三角形… ,



三角形と角2

◎ 正三角形と
二等辺三角形はどれ？

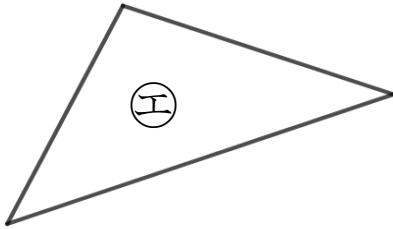
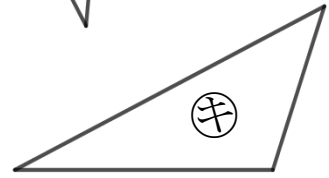
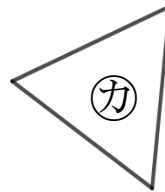
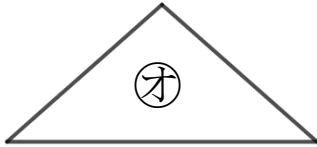
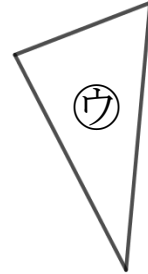
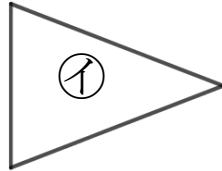
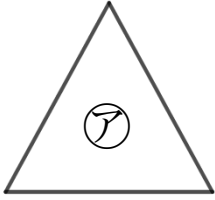


日にち： 月 日

名まえ _____

1 下の図で、正三角形と二等辺三角形をえらびましょう。

(うすい字はしっかりなぞりましょう。)

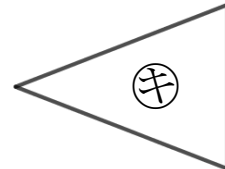
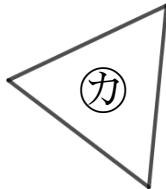
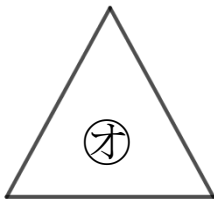
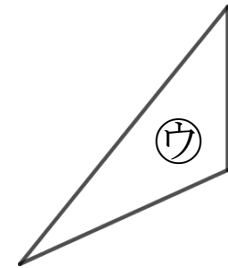
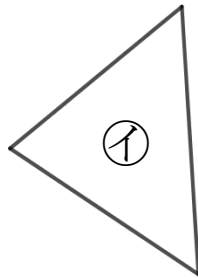
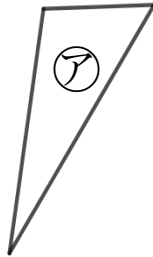
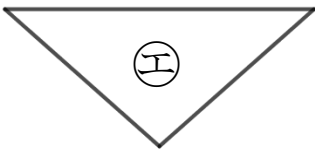


答え： 正三角形… ア , オ

二等辺三角形… _____

2 下の図で、正三角形と二等辺三角形をえらびましょう。

(うすい字はしっかりなぞりましょう。)



答え： 正三角形… _____

二等辺三角形… _____



三角形と角2

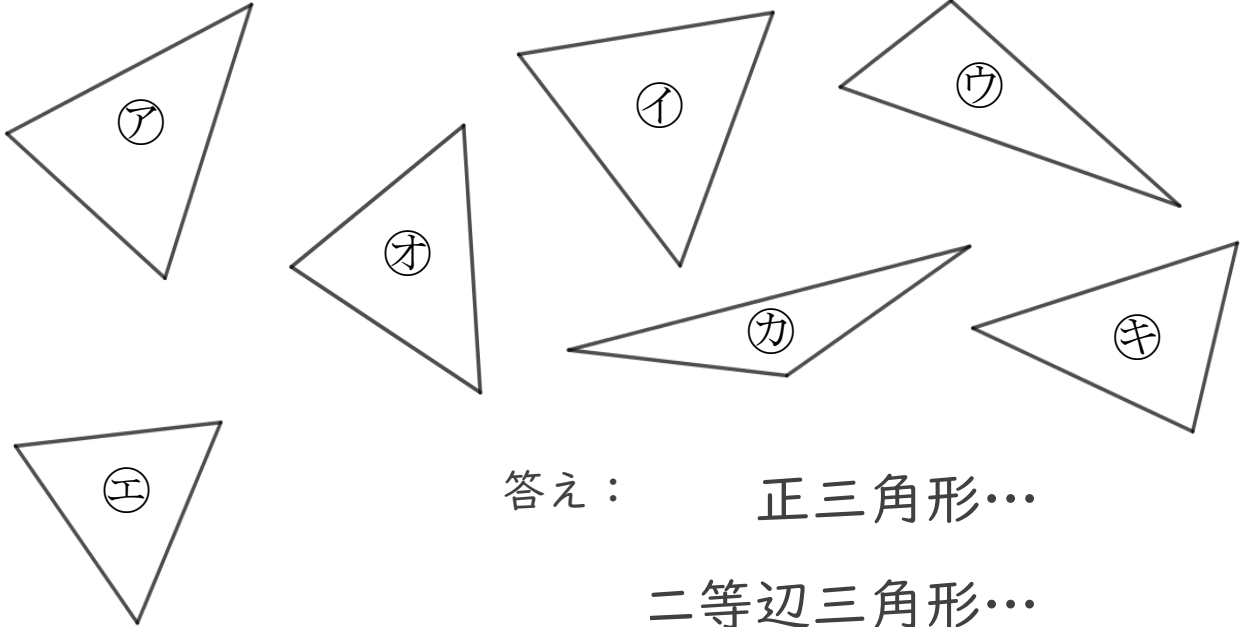
● 正三角形と
二等辺三角形はどれ？



日にち： 月 日

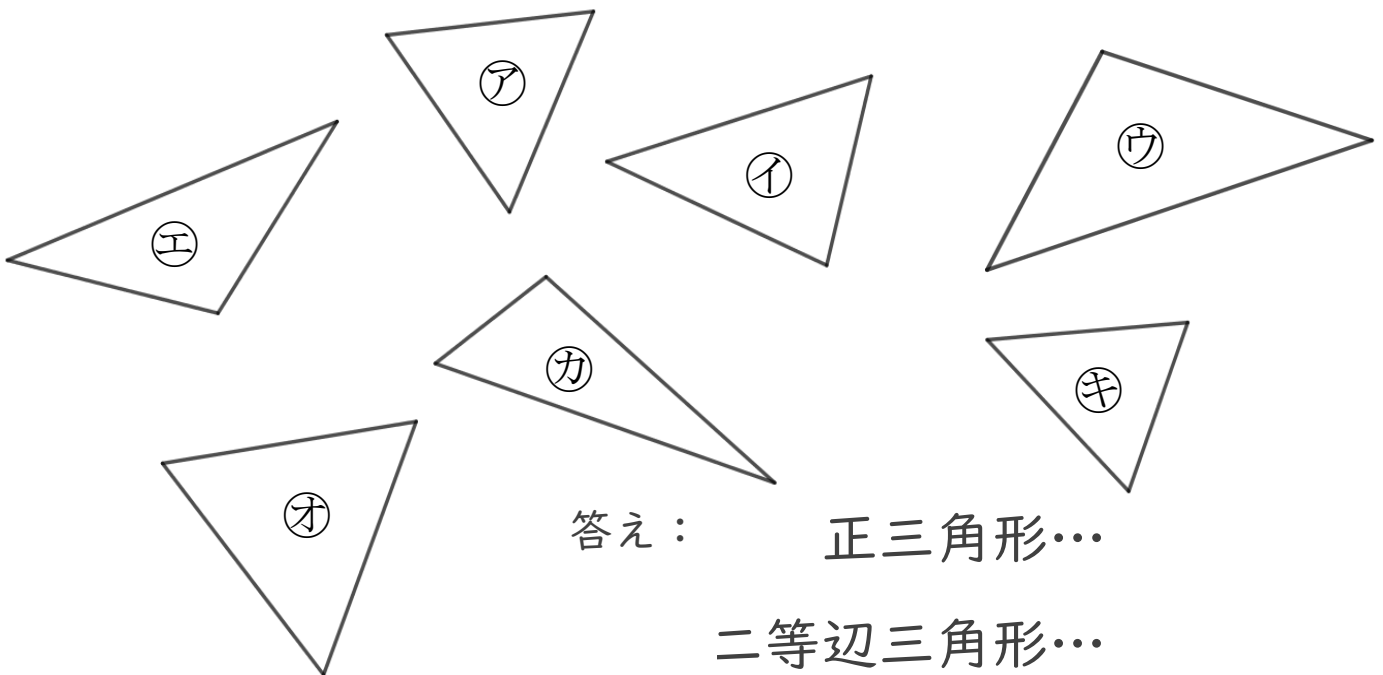
名まえ _____

1 下の図で、正三角形と二等辺三角形をえらびましょう。



答え： 正三角形…
二等辺三角形…

2 下の図で、正三角形と二等辺三角形をえらびましょう。



答え： 正三角形…
二等辺三角形…



三角形と角2

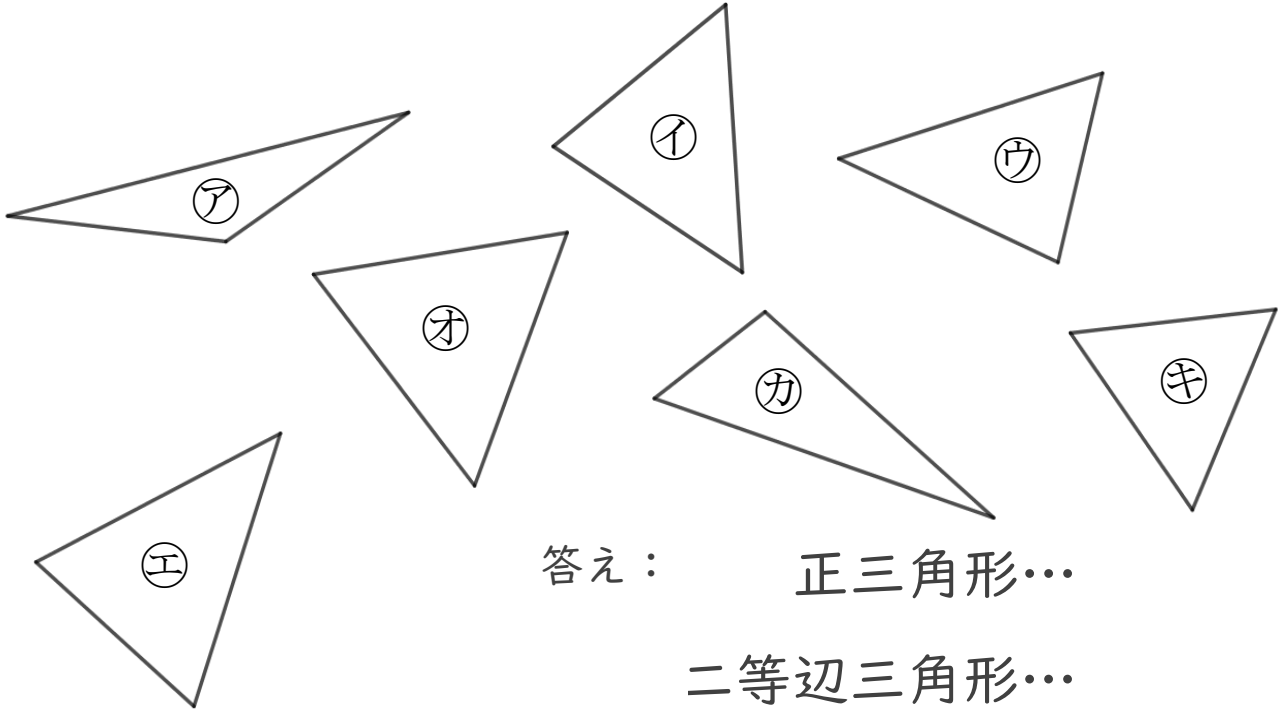
◎ 正三角形と
二等辺三角形はどれ？



日にち： 月 日

名まえ _____

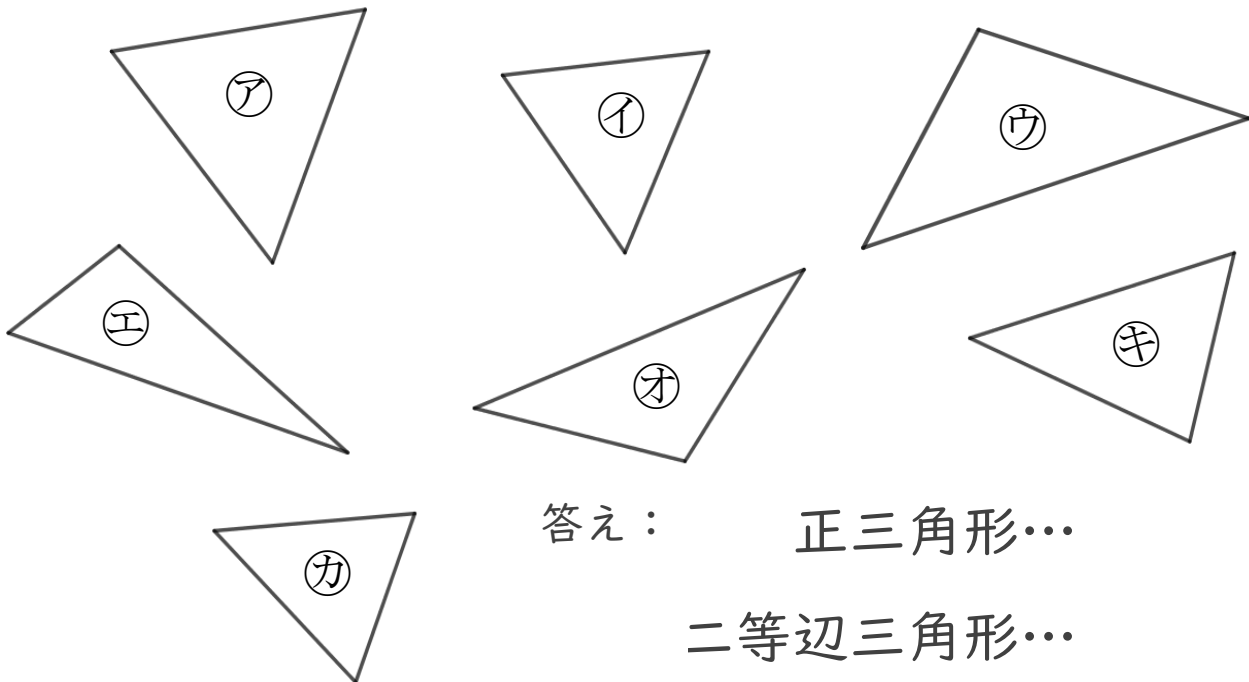
1 下の図で、正三角形と二等辺三角形をえらびましょう。



答え： 正三角形…
二等辺三角形…

2 下の図で、正三角形と二等辺三角形をえらびましょう。

(うすい字はしっかりなぞりましょう。)



答え： 正三角形…
二等辺三角形…



三角形と角2

● 正三角形と
二等辺三角形はどれ？

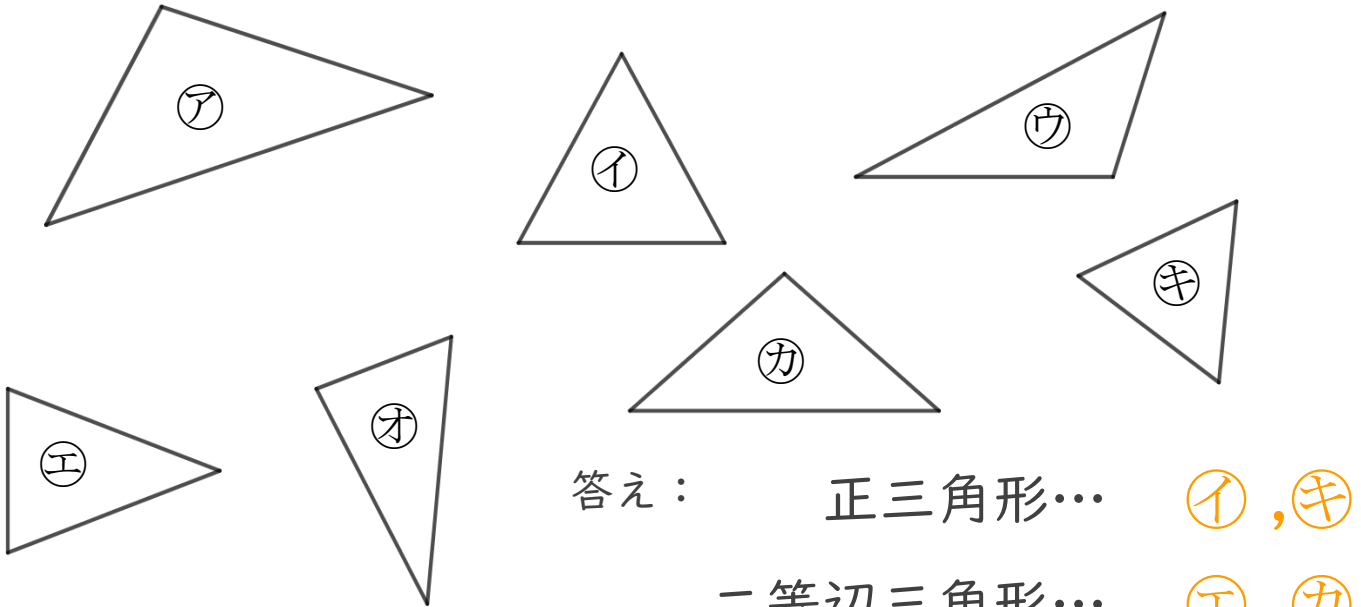


日にち： 月 日

名まえ _____

1 下の図で、正三角形と二等辺三角形をえらびましょう。

(うすい字はしっかりなぞりましょう。)

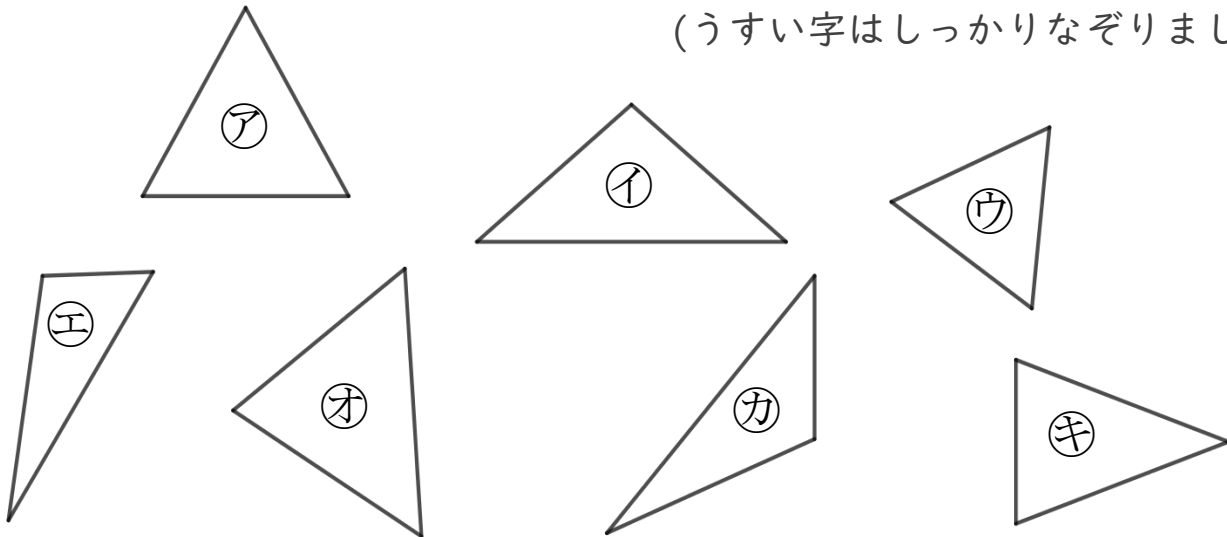


答え： 正三角形… イ, キ

二等辺三角形… エ, カ

2 下の図で、正三角形と二等辺三角形をえらびましょう。

(うすい字はしっかりなぞりましょう。)



答え： 正三角形… ア, キ

二等辺三角形… イ, オ



三角形と角2

● 正三角形と
二等辺三角形はどれ？

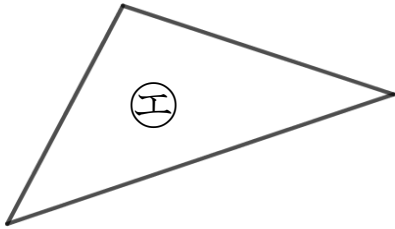
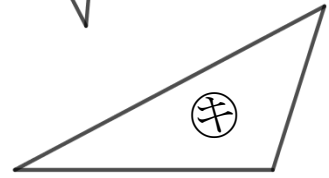
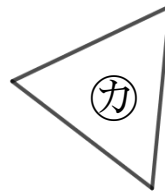
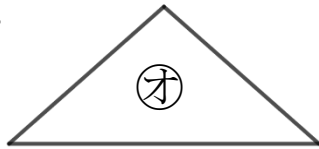
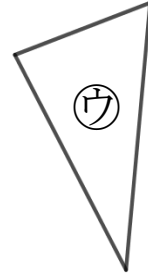
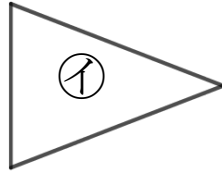
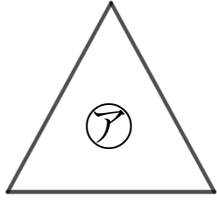


日にち： 月 日

名まえ _____

1 下の図で、正三角形と二等辺三角形をえらびましょう。

(うすい字はしっかりなぞりましょう。)

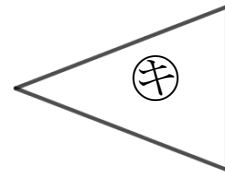
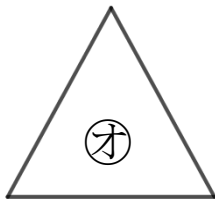
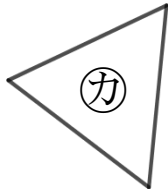
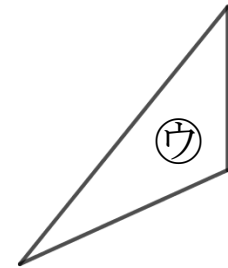
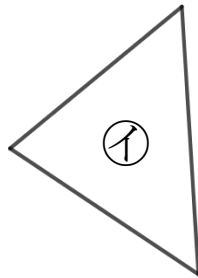
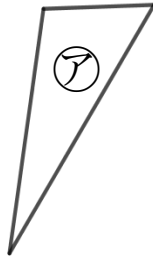
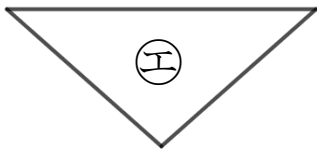


答え： 正三角形… **ア** , **オ**

二等辺三角形… **イ** , **オ**

2 下の図で、正三角形と二等辺三角形をえらびましょう。

(うすい字はしっかりなぞりましょう。)



答え： 正三角形… **オ** , **カ**

二等辺三角形… **エ** , **キ**





三角形と角2

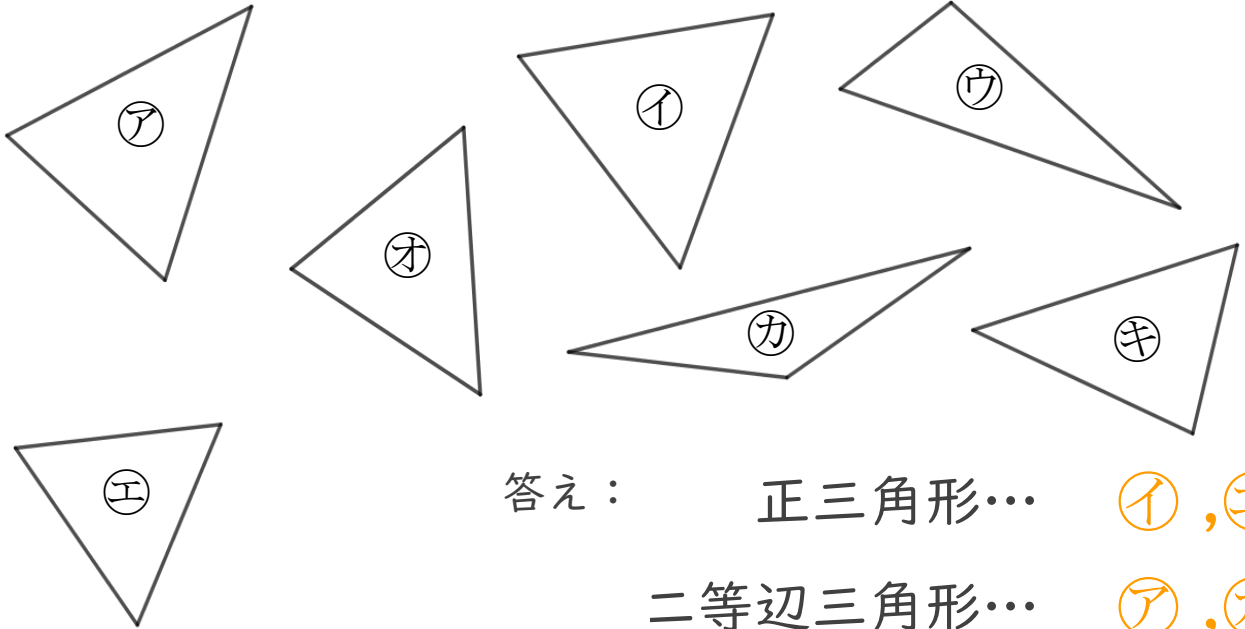
● 正三角形と
二等辺三角形はどれ？



日にち： 月 日

名まえ _____

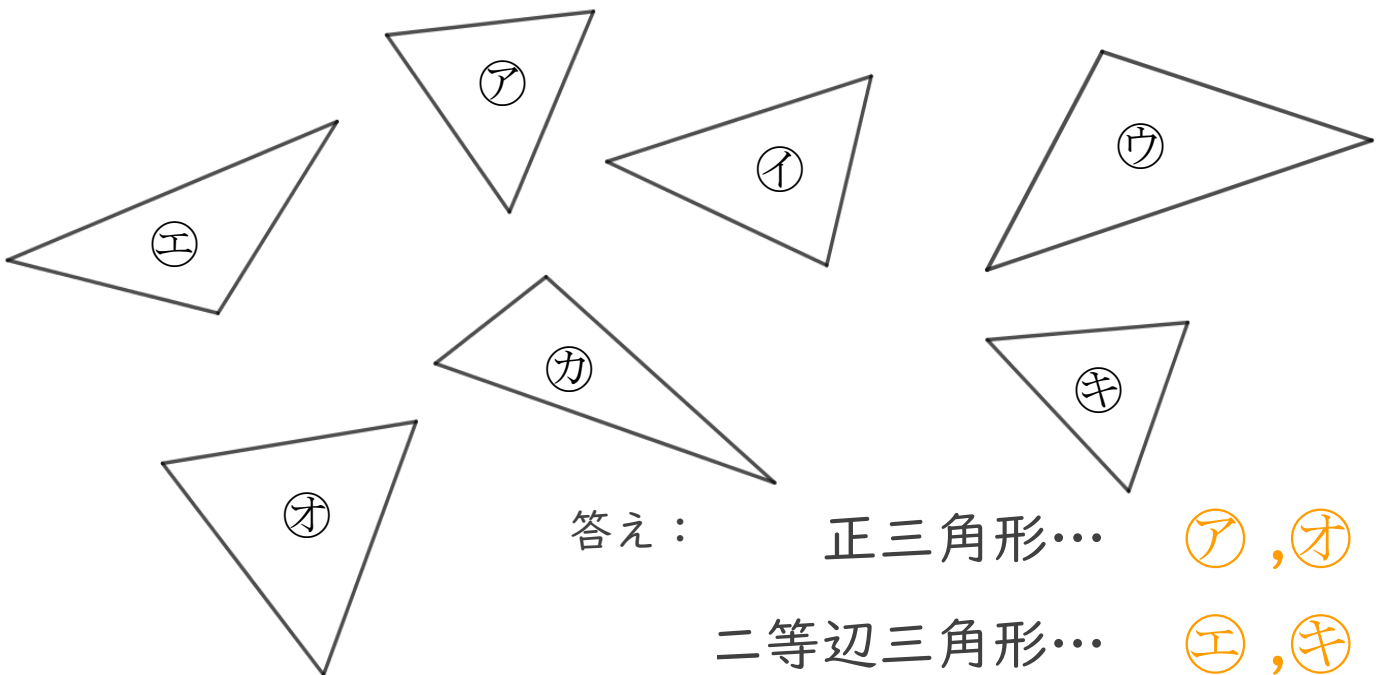
1 下の図で、正三角形と二等辺三角形をえらびましょう。



答え： 正三角形… **イ, コ**

二等辺三角形… **ア, カ**

2 下の図で、正三角形と二等辺三角形をえらびましょう。



答え： 正三角形… **ア, コ**

二等辺三角形… **オ, キ**





三角形と角2

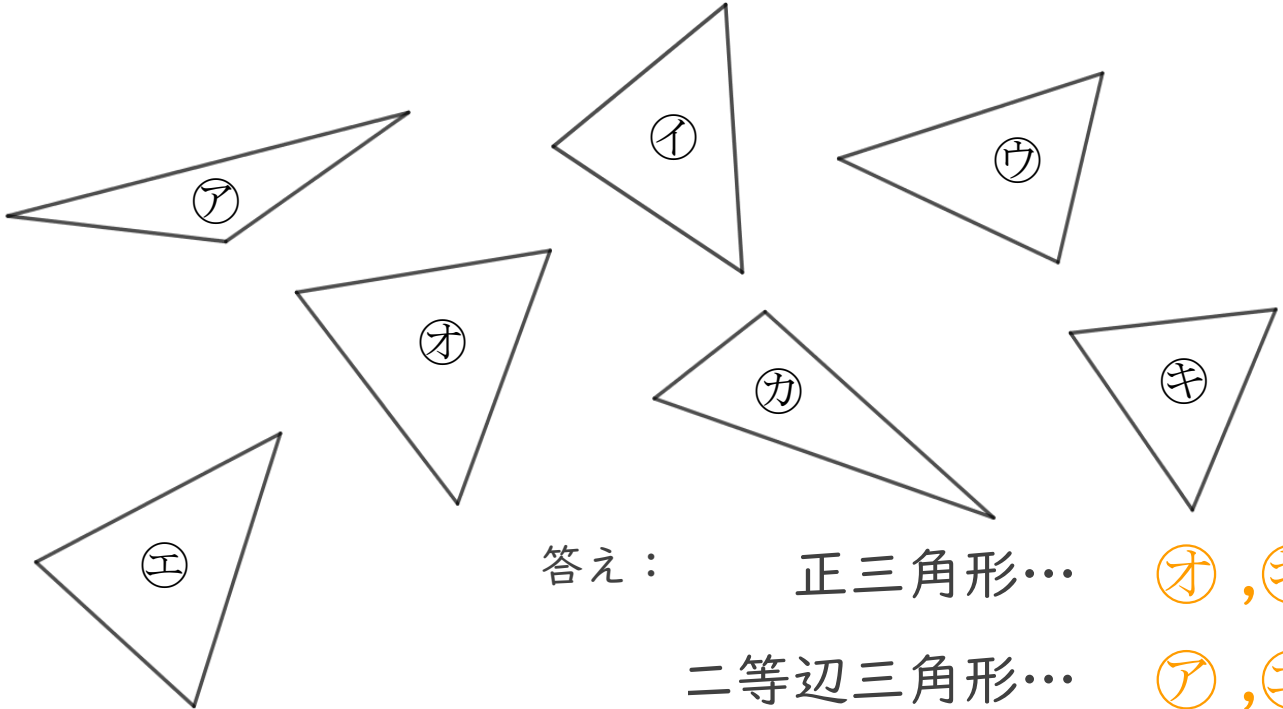
● 正三角形と
二等辺三角形はどれ？



日にち： 月 日

名まえ _____

1 下の図で、正三角形と二等辺三角形をえらびましょう。

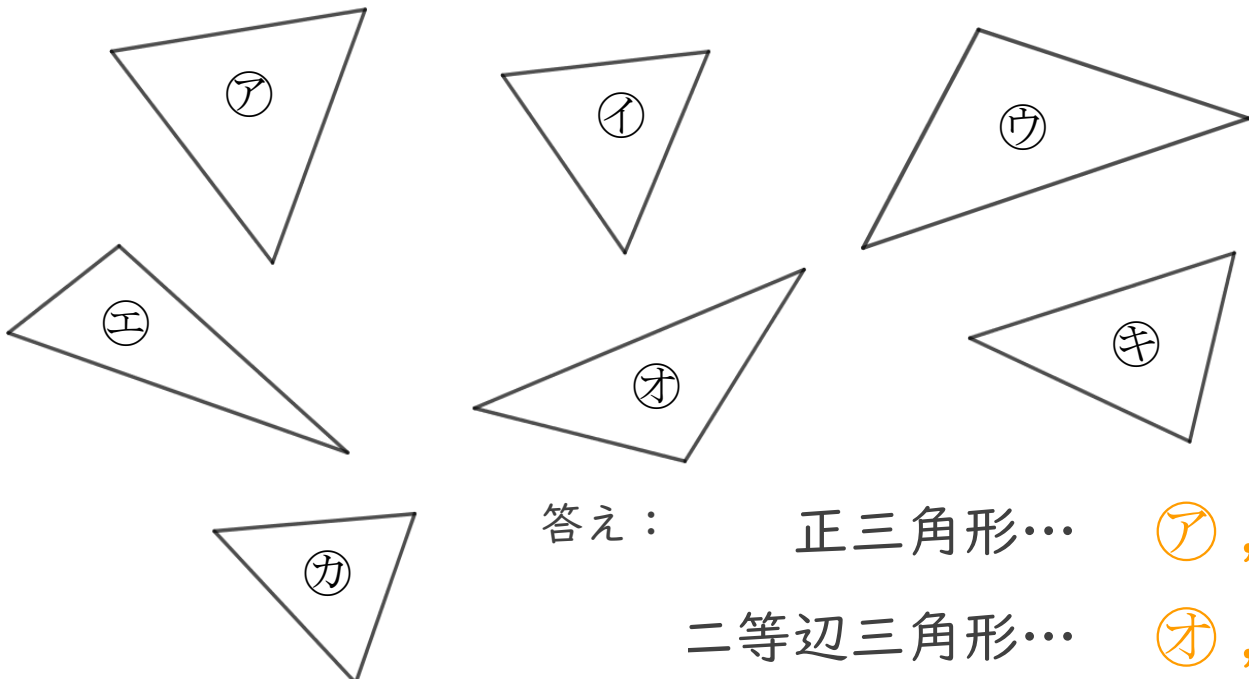


答え： 正三角形… オ, キ

二等辺三角形… ア, コ

2 下の図で、正三角形と二等辺三角形をえらびましょう。

(うすい字はしっかりなぞりましょう。)



答え： 正三角形… ア, カ

二等辺三角形… オ, コ