



三角形と角 3

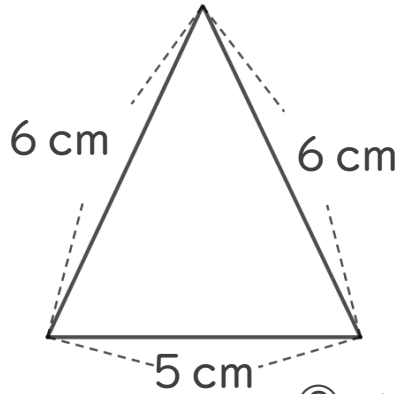
● コンパスを使った
二等辺三角形のかき方



日にち： 月 日

名まえ _____

・ 次の二等辺三角形をかきましょう。(うすい線はなぞりましょう。)



使うもの

- ・ 三角じょうぎまたは じょうぎ
- ・ コンパス

① 5 cmの辺をかく。

② コンパスで6 cmのところにしるしをつける。

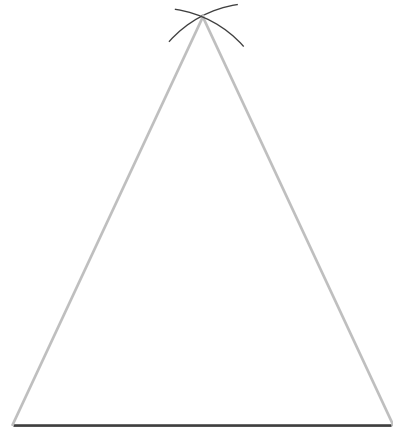


はりを
さす



③ 反対がわも6 cmのしるしと
交わるようにしるしをつける。

④ 交わったところと辺のはしを線で
むすぶ。





三角形と角 3

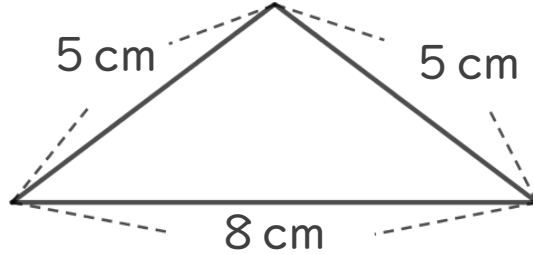
● コンパスを使った
二等辺三角形のかき方



日にち： 月 日

名まえ _____

・ 次の二等辺三角形をかきましょう。(うすい線はなぞりましょう。)



使うもの

- ・ 三角じょうぎまたは じょうぎ
- ・ コンパス

① 8 cmの辺をかく。

② コンパスで5 cmのところ
に するしをつける。



はりを
さす



③ 反対がわも 5 cmのするしと
交わるようにするしをつける。

④ 交わったところと辺のはしを線で
むすぶ。



はりを
さす





三角形と角 3

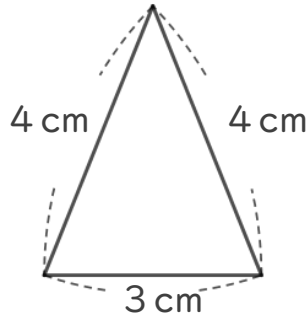
● コンパスを使った
二等辺三角形のかき方



日にち： 月 日

名まえ _____

・ 次の二等辺三角形をかきましょう。(うすい線はなぞりましょう。)



使うもの

- ・ 三角じょうぎ または じょうぎ
- ・ コンパス

① 3 cmの辺をかく。



② コンパスで4 cmのところにしるしをつける。



③ 反対がわも4 cmのしるしと交わるようにしるしをつける。



④ 交わったところと辺のはしを線でむすぶ。





三角形と角 3

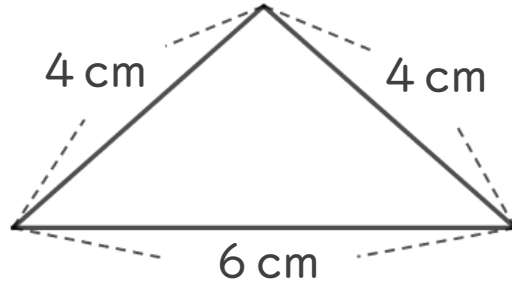
● コンパスを使った
二等辺三角形のかき方



日にち： 月 日

名まえ _____

・ 次の二等辺三角形をかきましょう。(うすい線はなぞりましょう。)



使うもの

- ・ 三角じょうぎまたは じょうぎ
- ・ コンパス

① 6 cmの辺をかく。



② コンパスで4 cmのところにしるしをつける。

はりを
さす



③ 反対がわも 4 cmのしるしと
交わるようにしるしをつける。



はりを
さす



④ 交わったところと辺のはしを線で
むすぶ。





三角形と角 3

● コンパスを使った
二等辺三角形のかき方


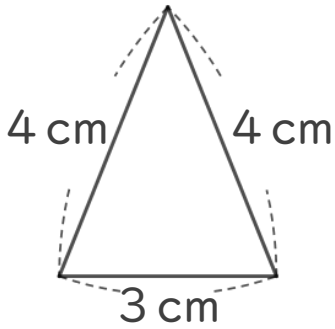


日にち： 月 日


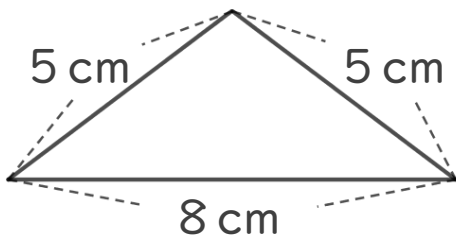
名まえ _____

・ 次の二等辺三角形をかきましょう。(うすい線はなぞりましょう。)


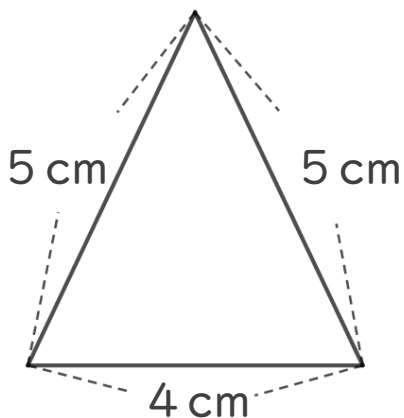
①



②



③





三角形と角 3

● コンパスを使った
二等辺三角形のかき方


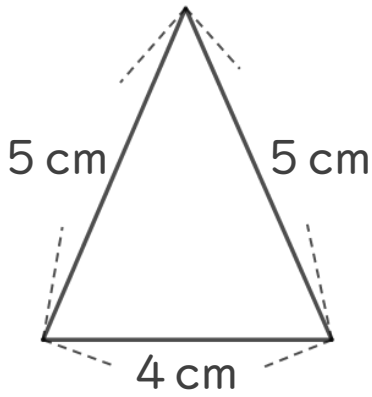


日にち： 月 日


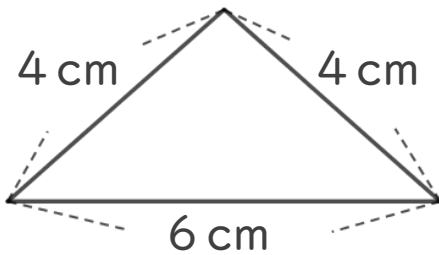
名まえ _____

・ 次の二等辺三角形をかきましょう。(うすい線はなぞりましょう。)


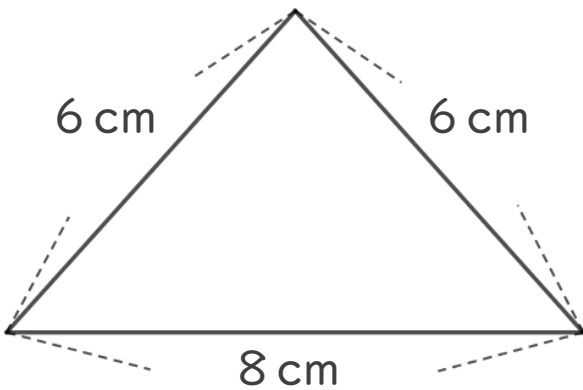
①



②



③





三角形と角 3

● コンパスを使った
二等辺三角形のかき方


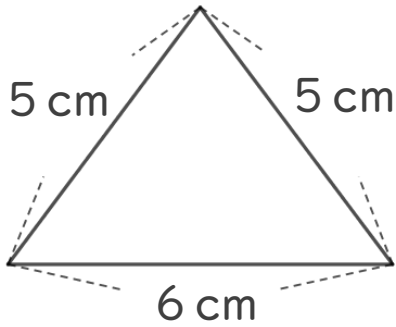


日にち： 月 日


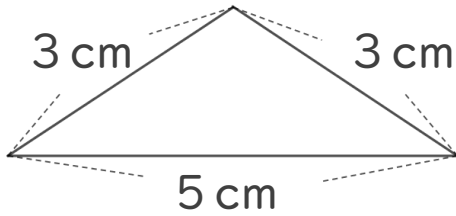
名まえ _____

・ 次の二等辺三角形をかきましょう。


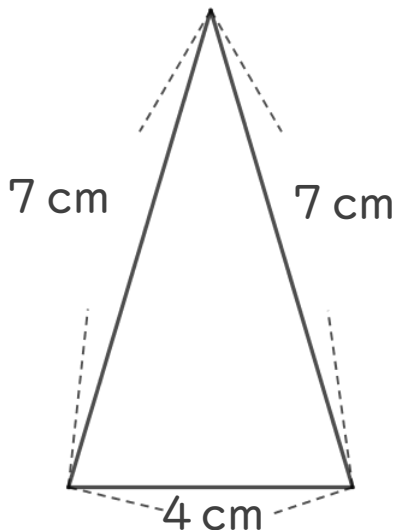
①



②



③





三角形と角 3

● コンパスを使った
二等辺三角形のかき方


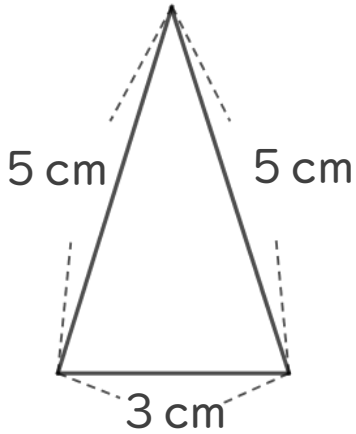


日にち： 月 日


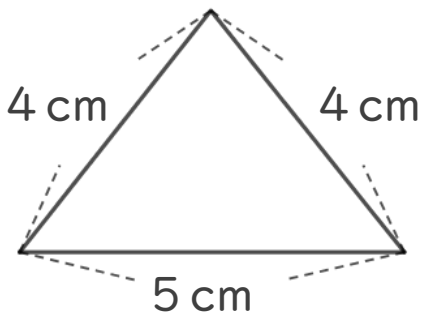
名まえ _____

・ 次の二等辺三角形をかきましょう。


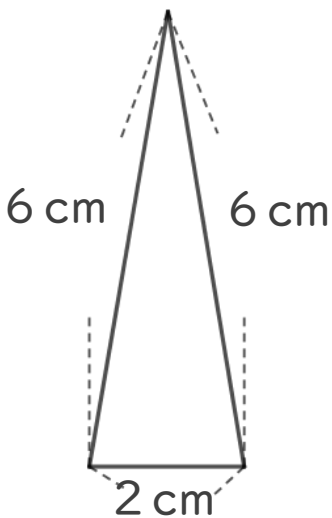
①



②



③





三角形と角 3

● コンパスを使った
二等辺三角形のかき方


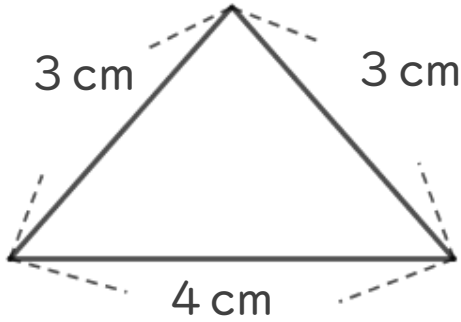


日にち： 月 日


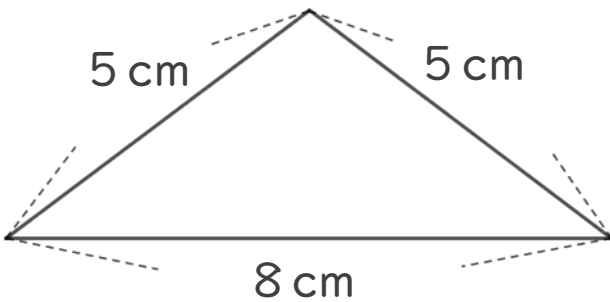
名まえ _____

・ 次の二等辺三角形をかきましょう。


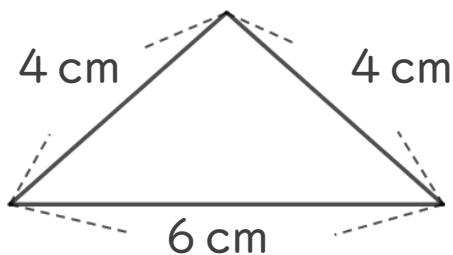
①



②



③





三角形と角 3


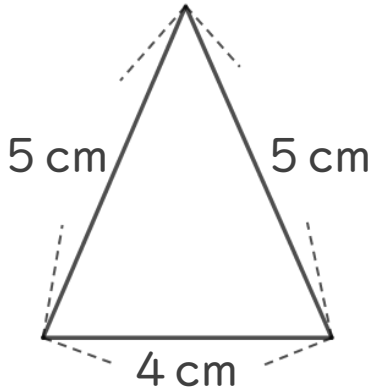
● コンパスを使った
二等辺三角形のかき方



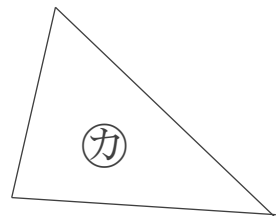
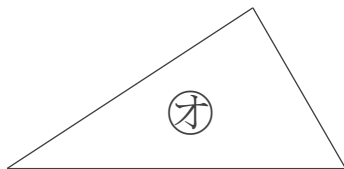
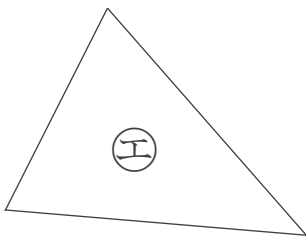
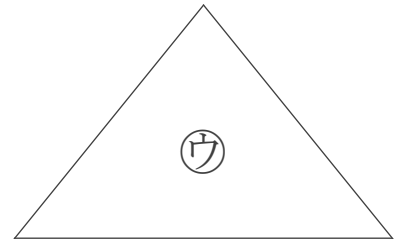
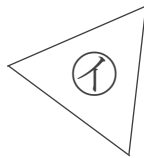
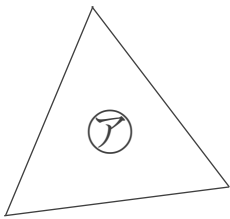
日にち： 月 日

名まえ _____

1 次の二等辺三角形をかきましょう。



2 下の図から、正三角形と二等辺三角形をえらびましょう。



答え： 正三角形…

二等辺三角形…



三角形と角 3


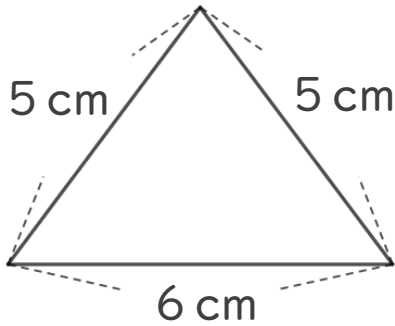
● コンパスを使った
二等辺三角形のかき方



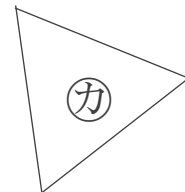
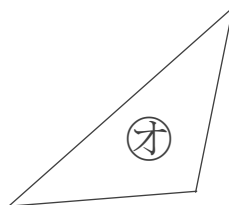
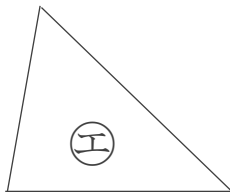
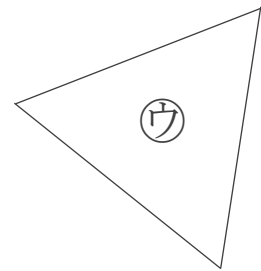
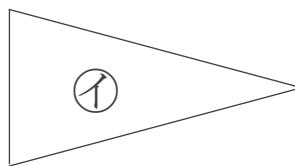
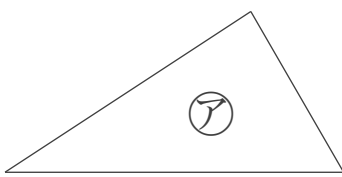
日にち： 月 日

名まえ _____

1 次の二等辺三角形をかきましょう。



2 下の図から、正三角形と二等辺三角形をえらびましょう。



答え： 正三角形…

二等辺三角形…



三角形と角 3


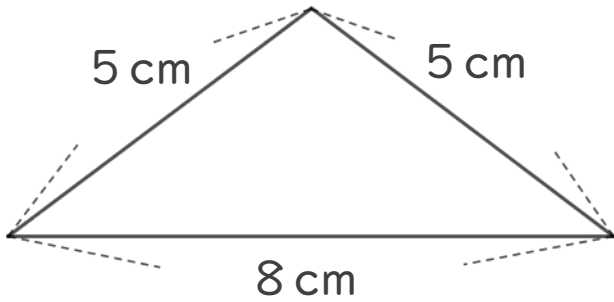
● コンパスを使った
二等辺三角形のかき方

12

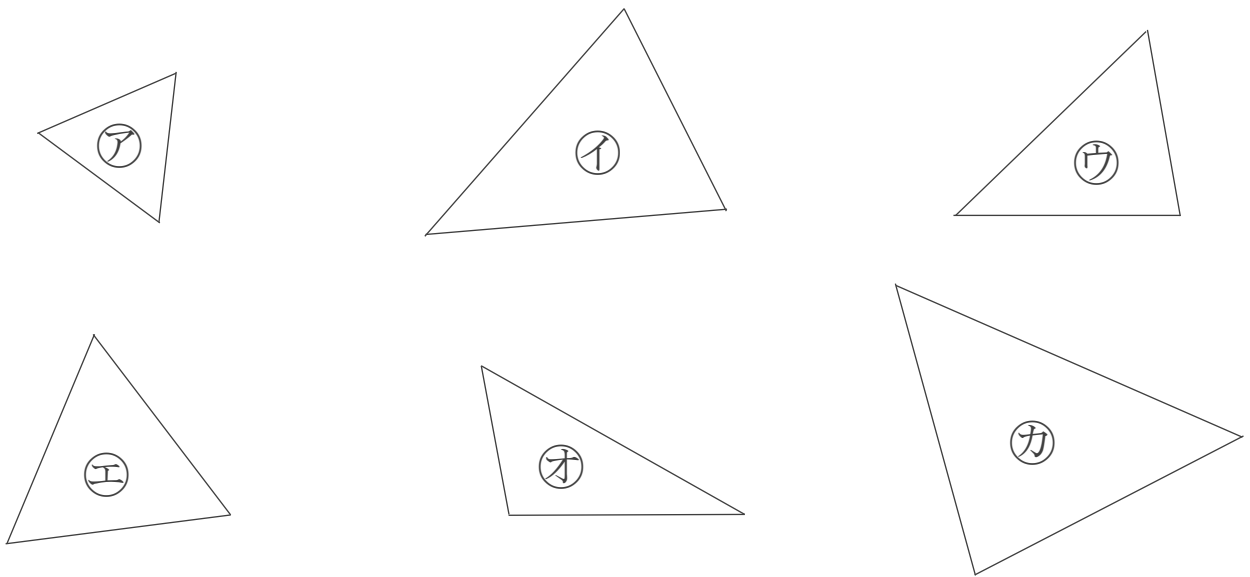
日にち： 月 日

名まえ _____

1 次の二等辺三角形をかきましょう。



2 下の図から、正三角形と二等辺三角形をえらびましょう。



答え： 正三角形…

二等辺三角形…



三角形と角 3


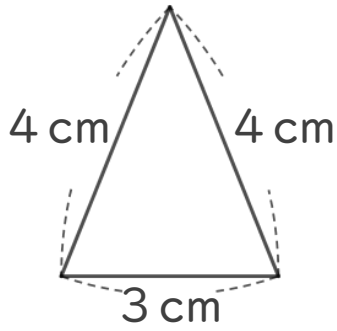
● コンパスを使った
二等辺三角形のかき方



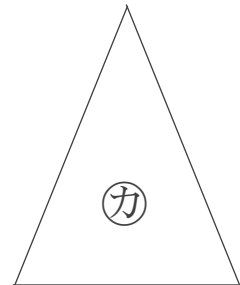
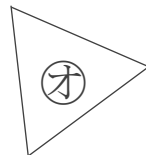
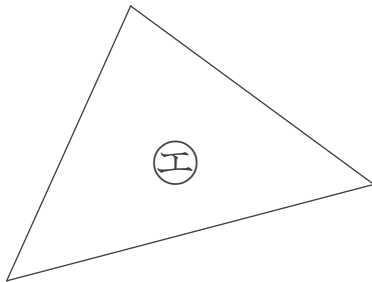
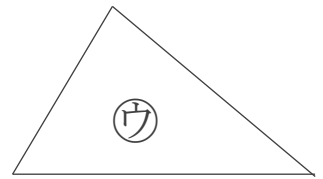
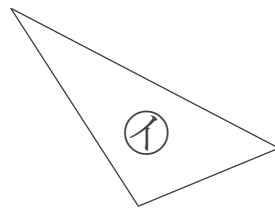
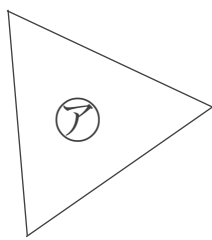
日にち： 月 日

名まえ _____

1 次の二等辺三角形をかきましょう。



2 下の図から、正三角形と二等辺三角形をえらびましょう。



答え： 正三角形…

二等辺三角形…



三角形と角 3


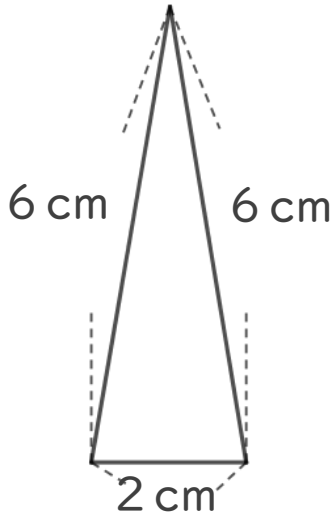
● コンパスを使った
二等辺三角形のかき方



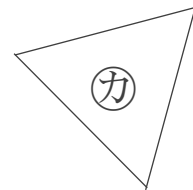
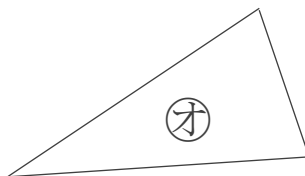
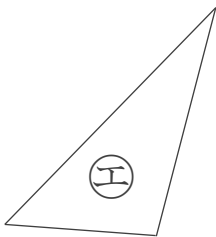
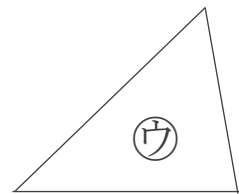
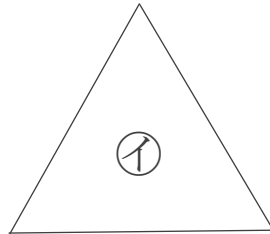
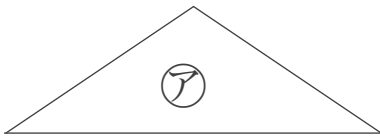
日にち： 月 日

名まえ _____

1 次の二等辺三角形をかきましょう。



2 下の図から、正三角形と二等辺三角形をえらびましょう。



答え： 正三角形…

二等辺三角形…



三角形と角 3

● コンパスを使った
二等辺三角形のかき方


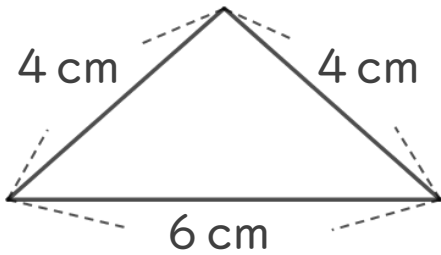


めざせ80点!



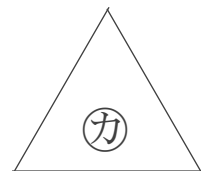
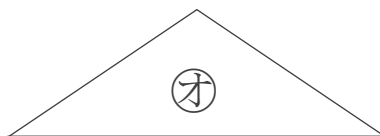
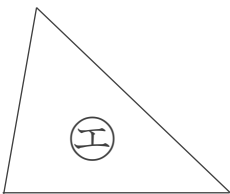
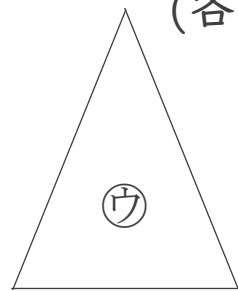
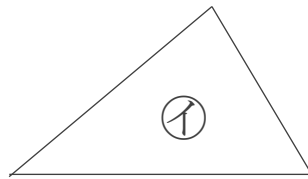
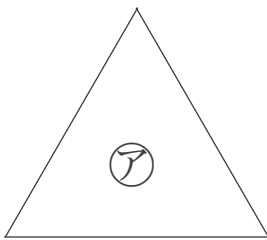
名まえ _____

1 次の二等辺三角形をかきましょう。(60点)



2 下の図から、正三角形と二等辺三角形をえらびましょう。

(各20点)



答え: 正三角形...

二等辺三角形...



三角形と角 3

● コンパスを使った
二等辺三角形のかき方


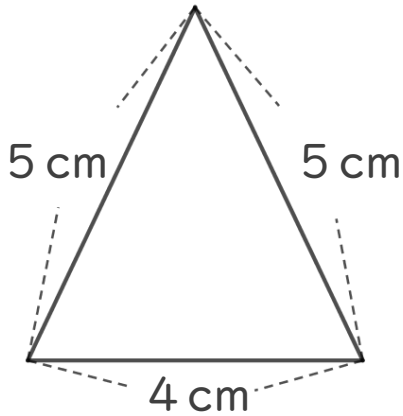


めざせ80点!



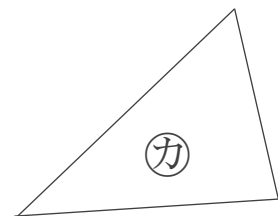
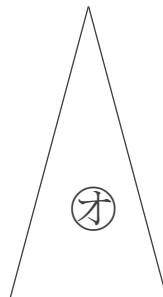
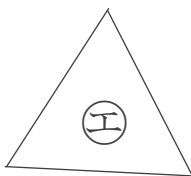
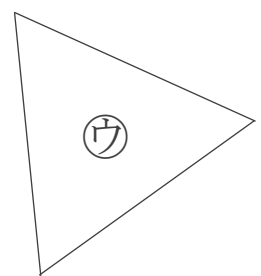
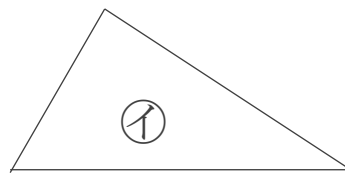
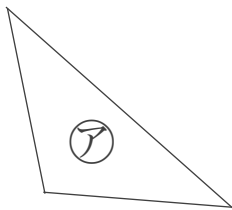
名まえ _____

1 次の二等辺三角形をかきましょう。(60点)



2 下の図から、正三角形と二等辺三角形をえらびましょう。

(各20点)



答え: 正三角形...

二等辺三角形...



三角形と角 3

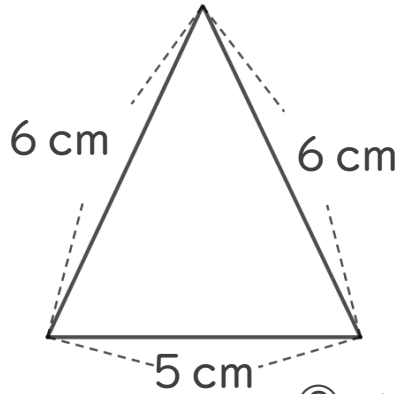
● コンパスを使った
二等辺三角形のかき方



日にち： 月 日

名まえ _____

・ 次の二等辺三角形をかきましょう。(うすい線はなぞりましょう。)



使うもの

- ・ 三角じょうぎまたは じょうぎ
- ・ コンパス

① 5 cmの辺をかく。

② コンパスで6 cmのところにしるしをつける。



はりを
さす

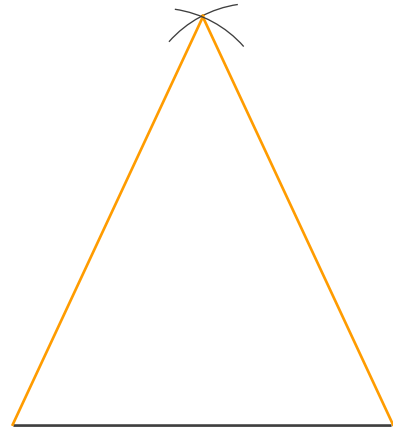


③ 反対がわも6 cmのしるしと
交わるようにしるしをつける。

④ 交わったところと辺のはしを線で
むすぶ。



はりを
さす





三角形と角 3

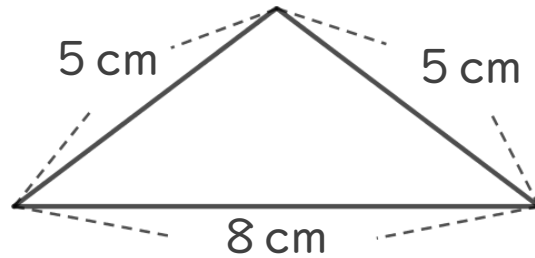
● コンパスを使った
二等辺三角形のかき方



日にち： 月 日

名まえ _____

・ 次の二等辺三角形をかきましょう。(うすい線はなぞりましょう。)



使うもの

- ・ 三角じょうぎまたは じょうぎ
- ・ コンパス

① 8 cmの辺をかく。

② コンパスで5 cmのところ
に するしをつける。



はりを
さす

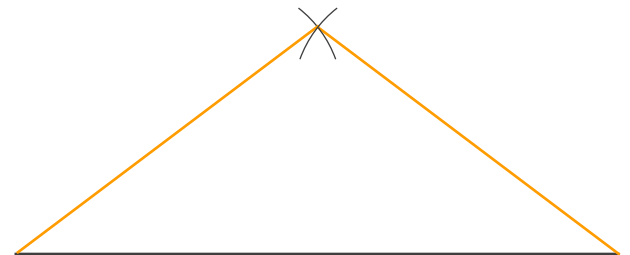


③ 反対がわも 5 cmのするしと
交わるようにするしをつける。

④ 交わったところと辺のはしを線で
むすぶ。



はりを
さす





三角形と角 3

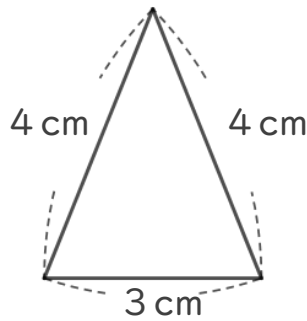
● コンパスを使った
二等辺三角形のかき方



日にち： 月 日

名まえ _____

・ 次の二等辺三角形をかきましょう。(うすい線はなぞりましょう。)



使うもの

- ・ 三角じょうぎまたは じょうぎ
- ・ コンパス

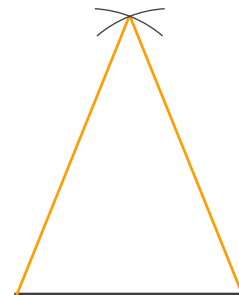

① 3 cmの辺をかく。

② コンパスで4 cmのところにしるしをつける。



③ 反対がわも4 cmのしるしと交わるようにしるしをつける。

④ 交わったところと辺のはしを線でむすぶ。





三角形と角 3

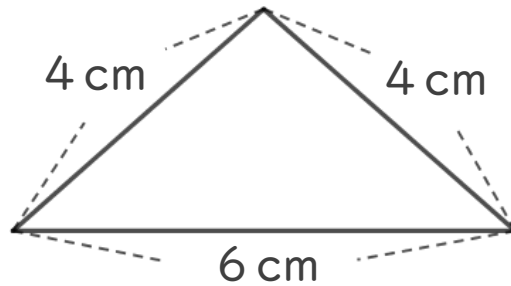
● コンパスを使った
二等辺三角形のかき方



日にち： 月 日

名まえ _____

・ 次の二等辺三角形をかきましょう。(うすい線はなぞりましょう。)



使うもの


- ・ 三角じょうぎまたは じょうぎ
- ・ コンパス

① 6 cmの辺をかく。



② コンパスで4 cmのところにしるしをつける。

はりを
さす



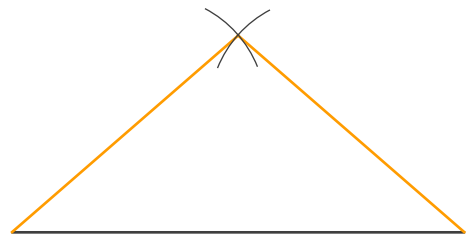
③ 反対がわも4 cmのしるしと
交わるようにしるしをつける。



はりを
さす



④ 交わったところと辺のはしを線で
むすぶ。





三角形と角 3

● コンパスを使った
二等辺三角形のかき方

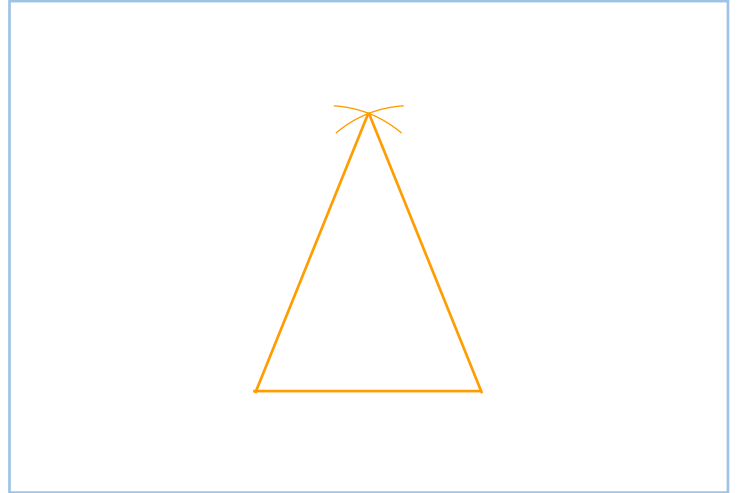
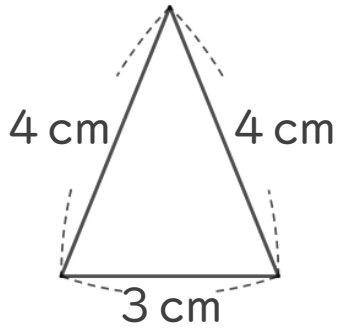


日にち： 月 日

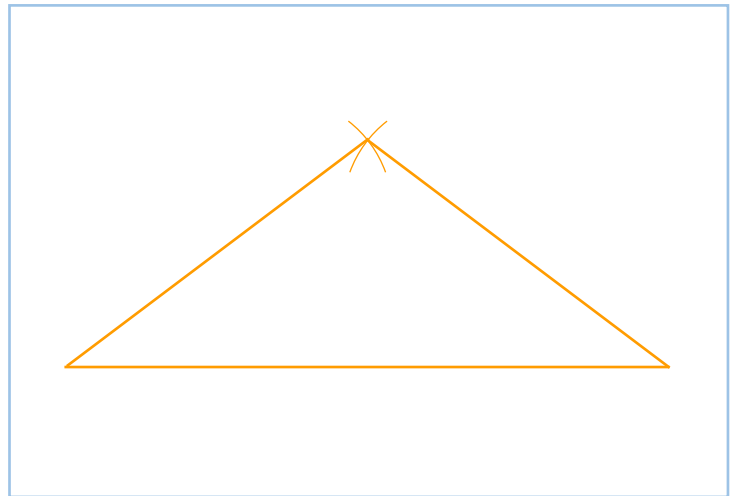
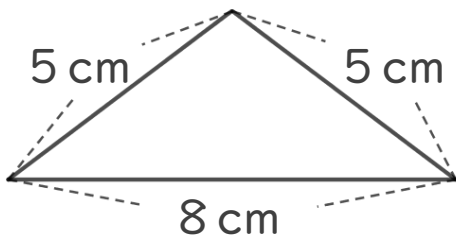
名まえ _____

・ 次の二等辺三角形をかきましょう。(うすい線はなぞりましょう。)

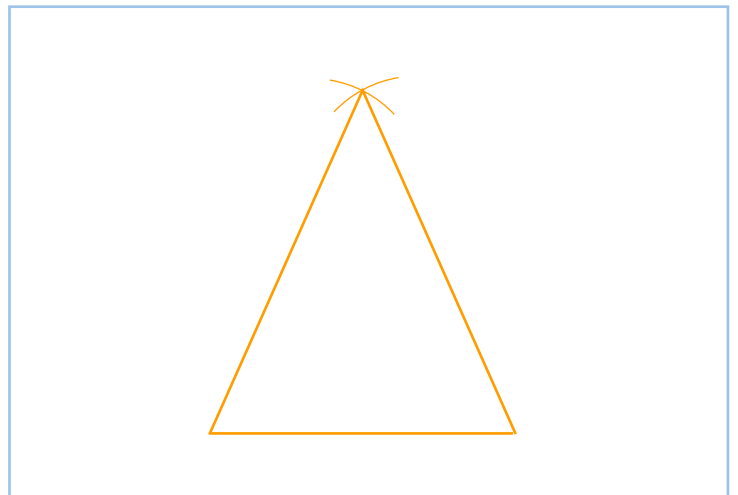
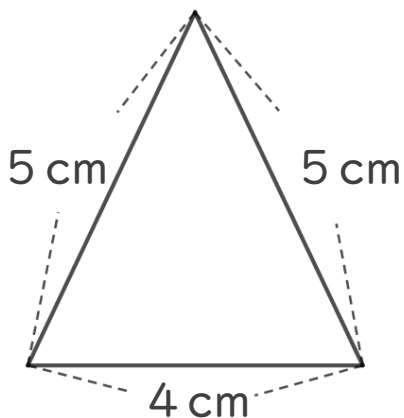
①



②



③





三角形と角 3

● コンパスを使った
二等辺三角形のかき方

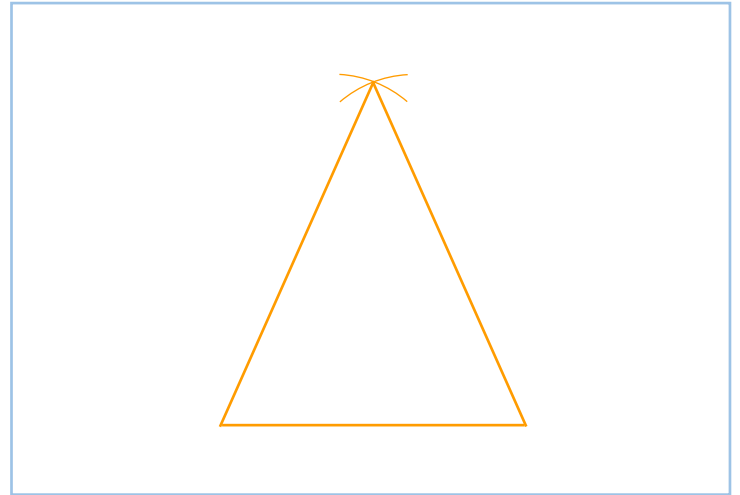
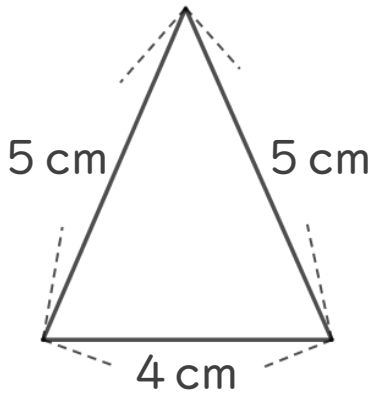


日にち： 月 日

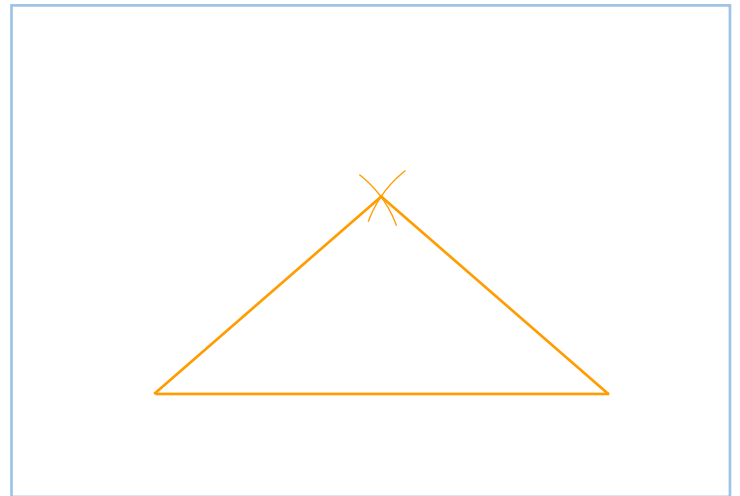
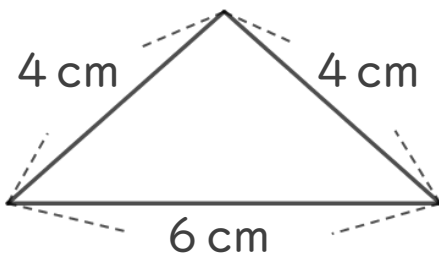
名まえ _____

・ 次の二等辺三角形をかきましょう。(うすい線はなぞりましょう。)

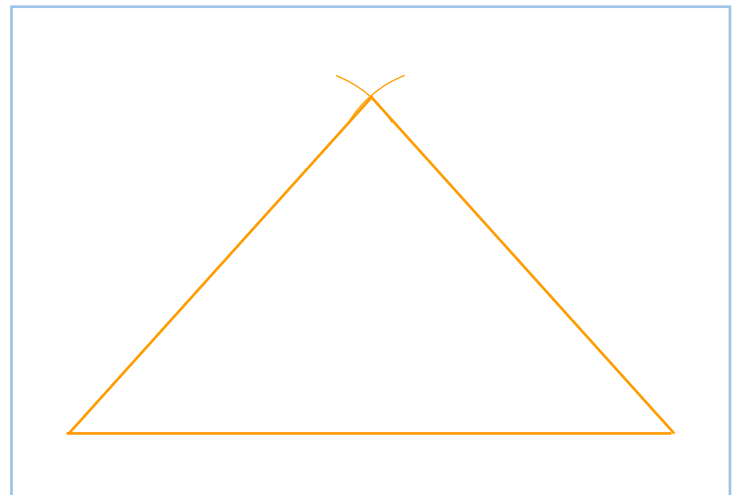
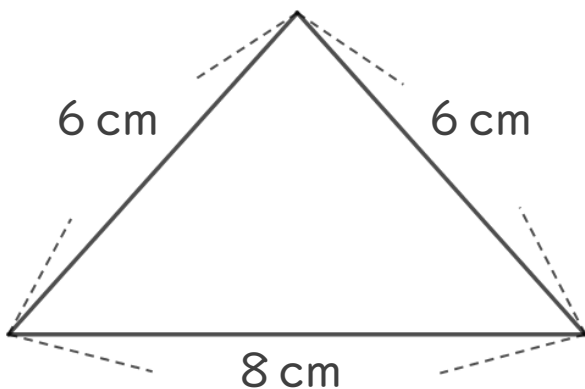
①



②



③





三角形と角 3

● コンパスを使った
二等辺三角形のかき方

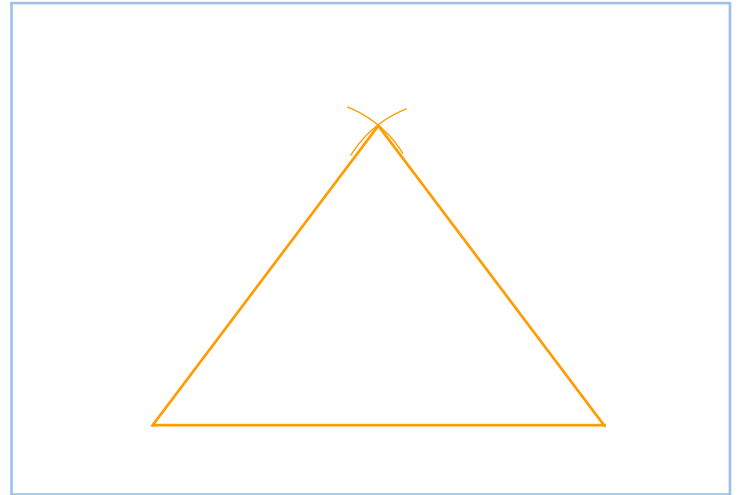
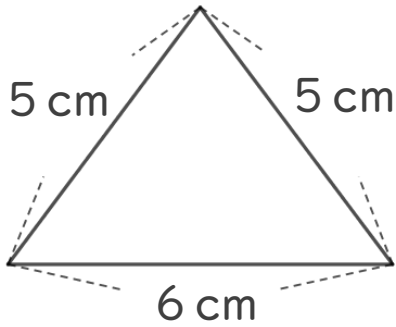


日にち： 月 日

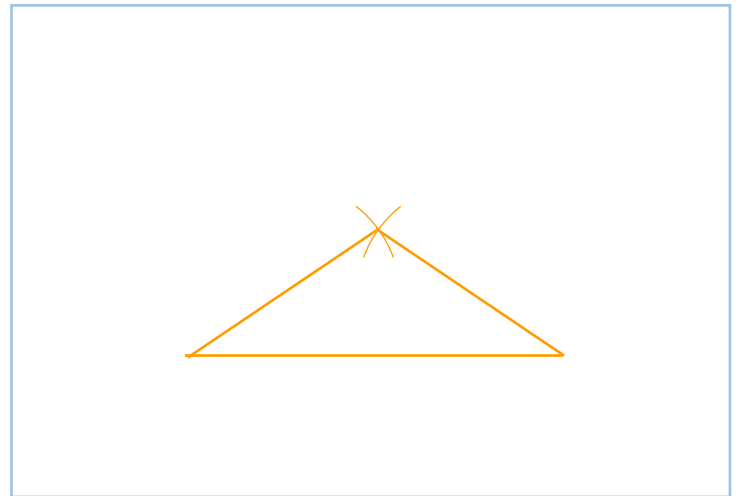
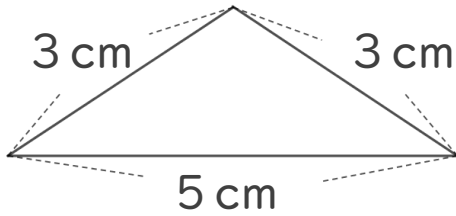
名まえ _____

・ 次の二等辺三角形をかきましょう。

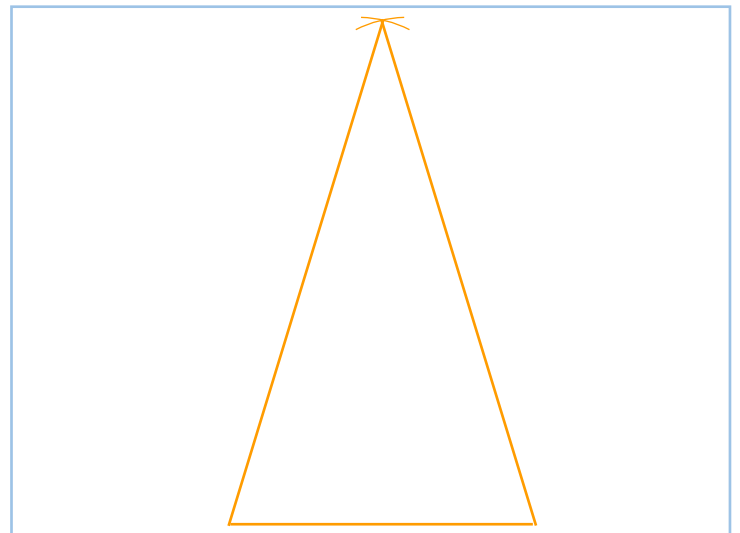
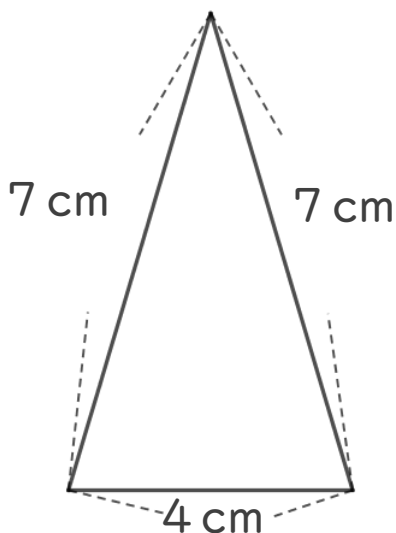
①



②



③



⑦ 定着 答え





三角形と角 3

● コンパスを使った
二等辺三角形のかき方

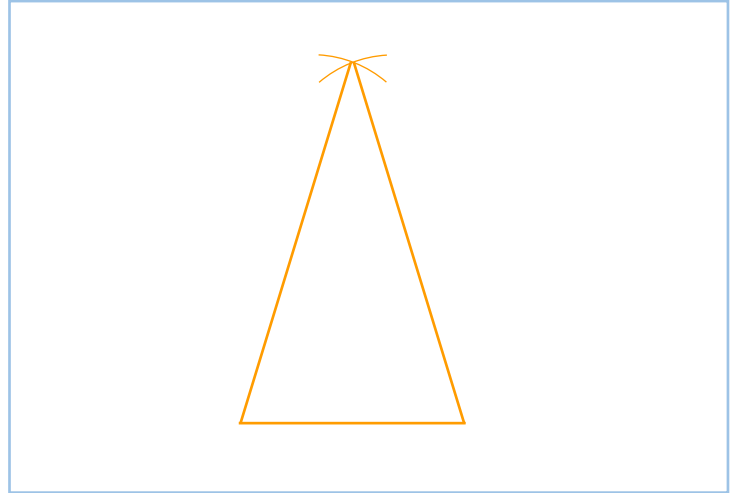
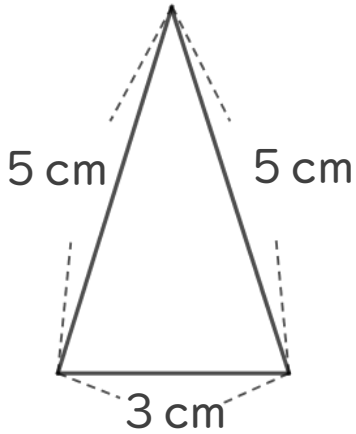


日にち： 月 日

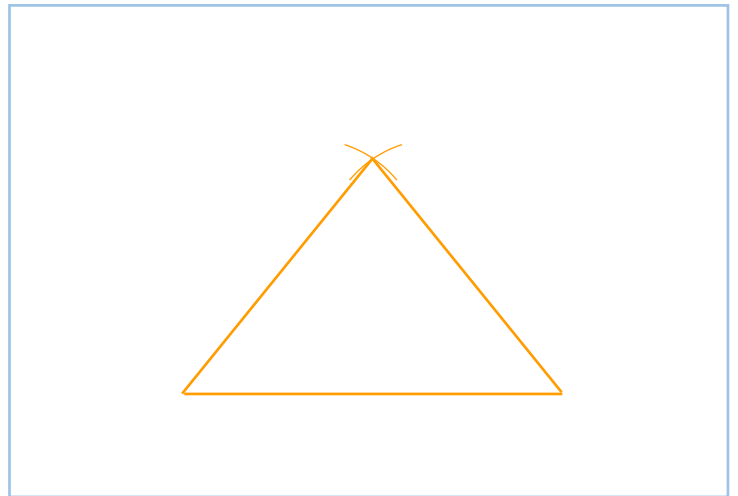
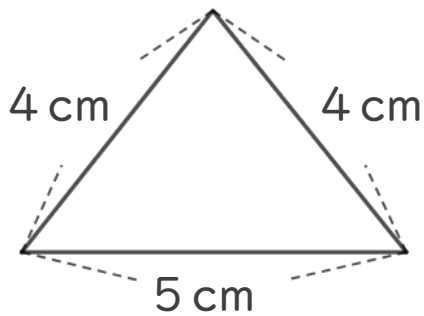
名まえ _____

・ 次の二等辺三角形をかきましょう。

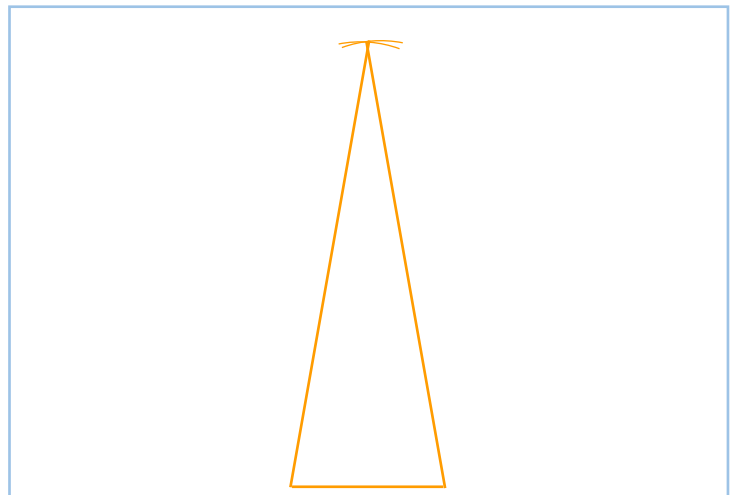
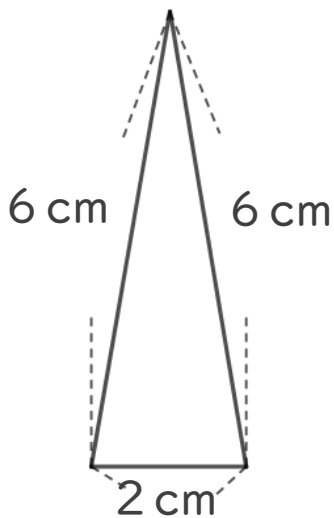
①



②



③





三角形と角 3

● コンパスを使った
二等辺三角形のかき方

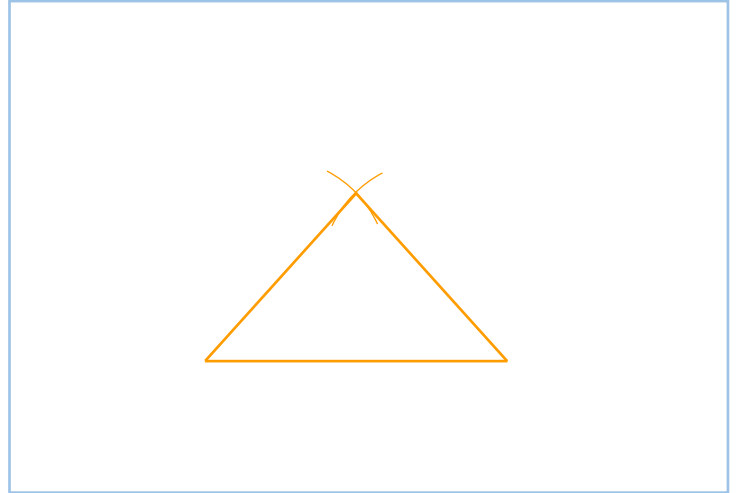
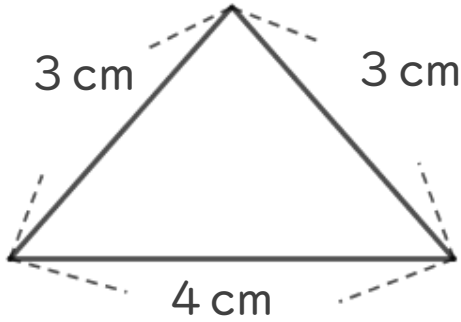


日にち： 月 日

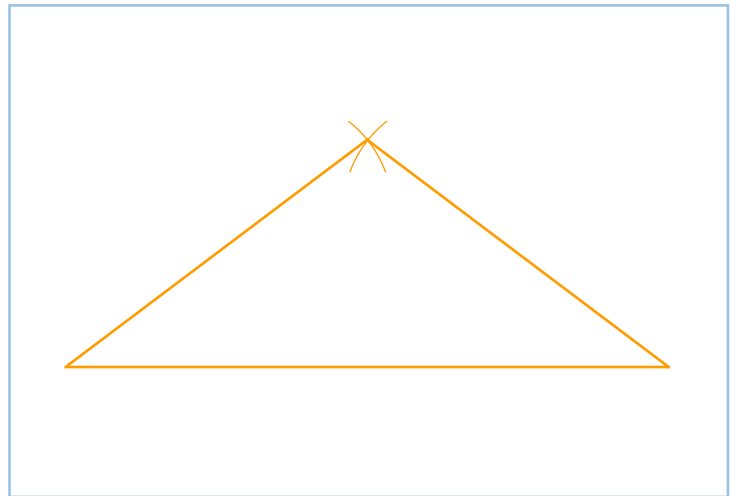
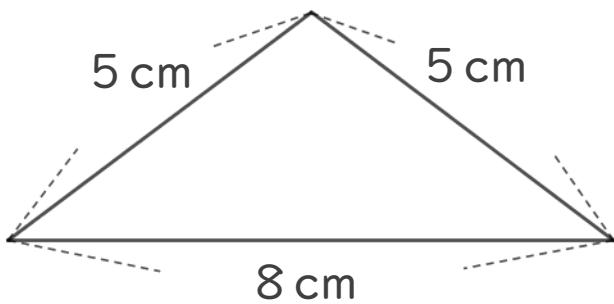
名まえ _____

・ 次の二等辺三角形をかきましょう。

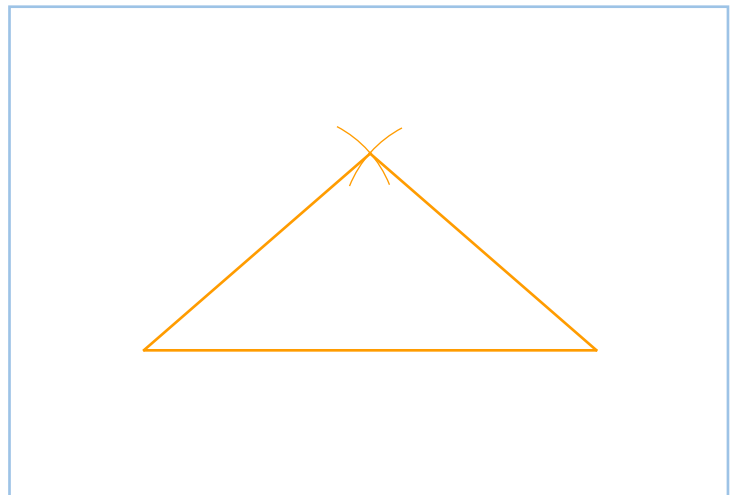
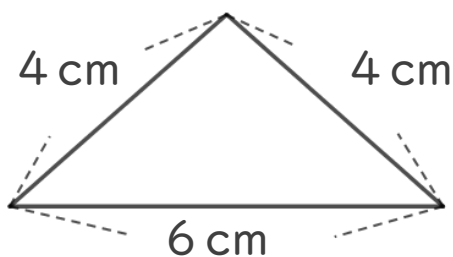
①



②



③





三角形と角 3

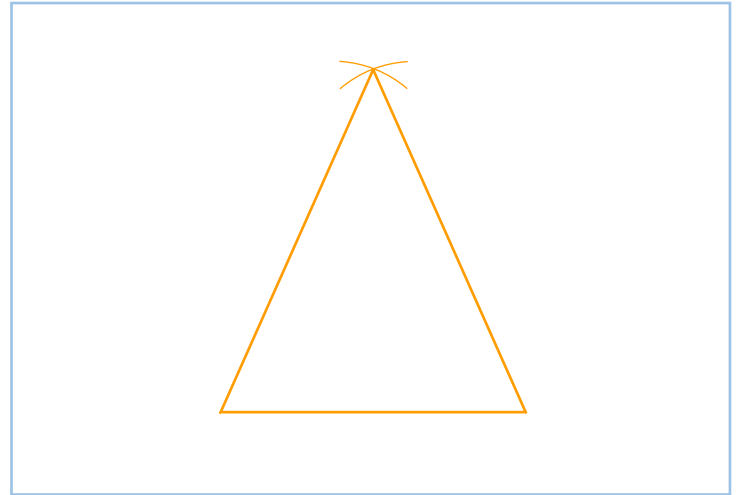
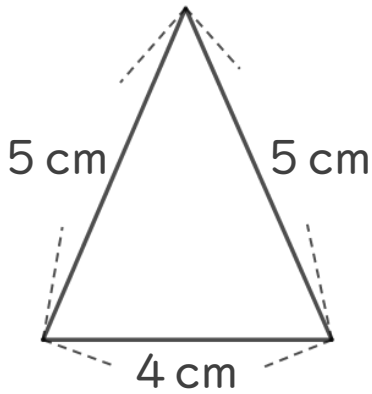
● コンパスを使った
二等辺三角形のかき方



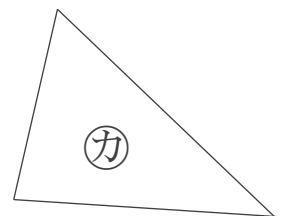
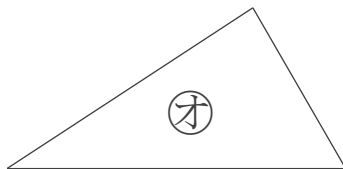
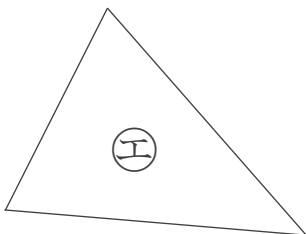
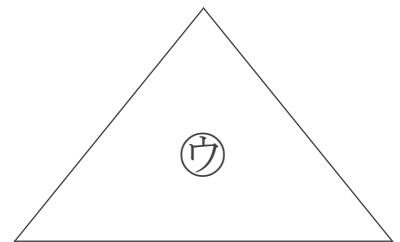
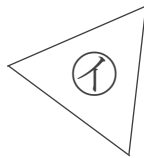
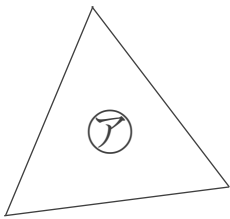
日にち： 月 日

名まえ _____

1 次の二等辺三角形をかきましょう。



2 下の図から、正三角形と二等辺三角形をえらびましょう。



答え： 正三角形… ア, イ

二等辺三角形… ウ, エ



三角形と角 3

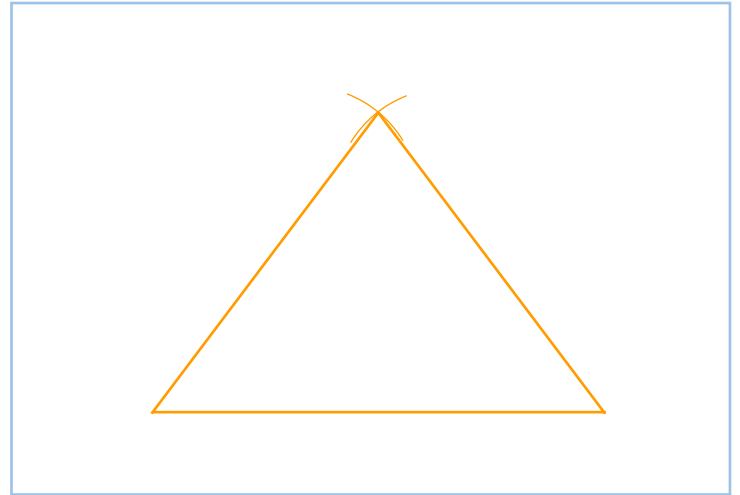
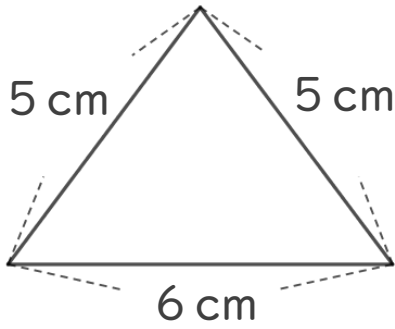
● コンパスを使った
二等辺三角形のかき方



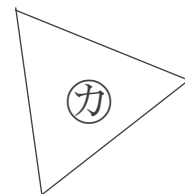
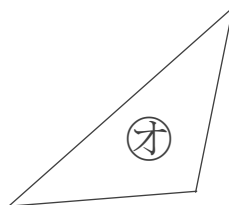
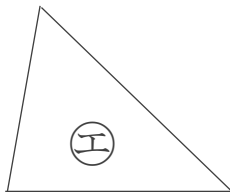
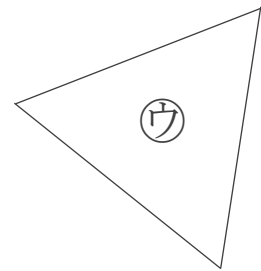
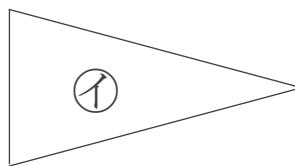
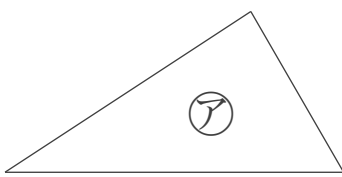
日にち： 月 日

名まえ _____

1 次の二等辺三角形をかきましょう。



2 下の図から、正三角形と二等辺三角形をえらびましょう。



答え： 正三角形… **ウ, カ**

二等辺三角形… **イ, オ**



三角形と角 3

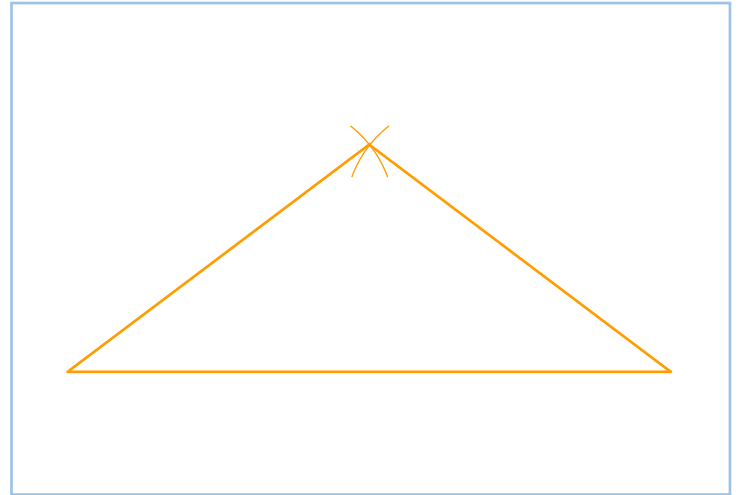
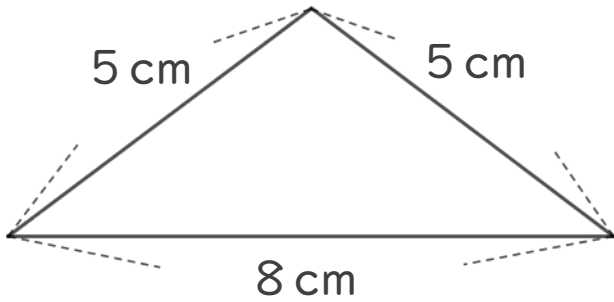
● コンパスを使った
二等辺三角形のかき方

12

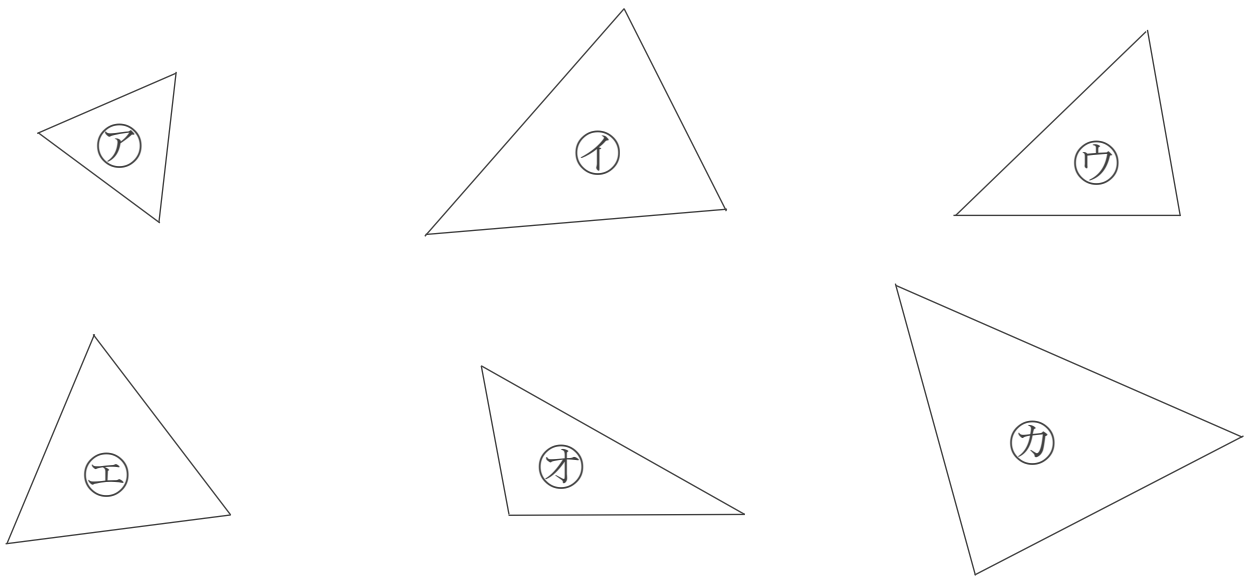
日にち： 月 日

名まえ _____

1 次の二等辺三角形をかきましょう。



2 下の図から、正三角形と二等辺三角形をえらびましょう。



答え： 正三角形… **ア, エ**

二等辺三角形… **イ, カ**



三角形と角 3


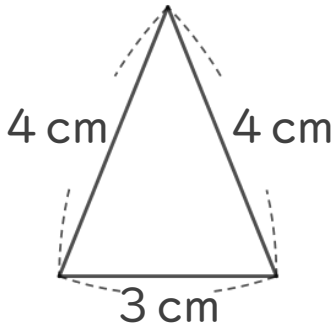
● コンパスを使った
二等辺三角形のかき方



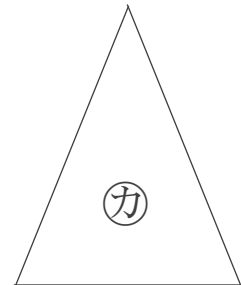
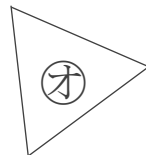
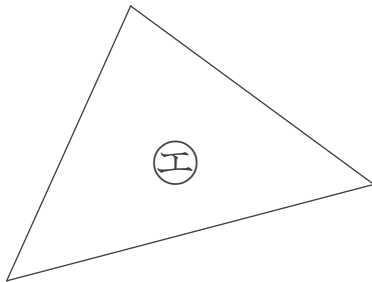
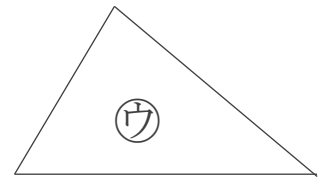
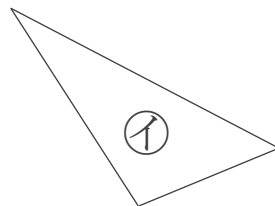
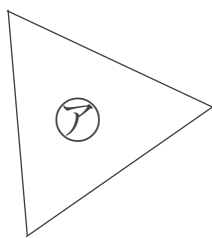
日にち： 月 日

名まえ _____

1 次の二等辺三角形をかきましょう。



2 下の図から、正三角形と二等辺三角形をえらびましょう。



答え： 正三角形… **ア, オ**

二等辺三角形… **エ, カ**



三角形と角 3

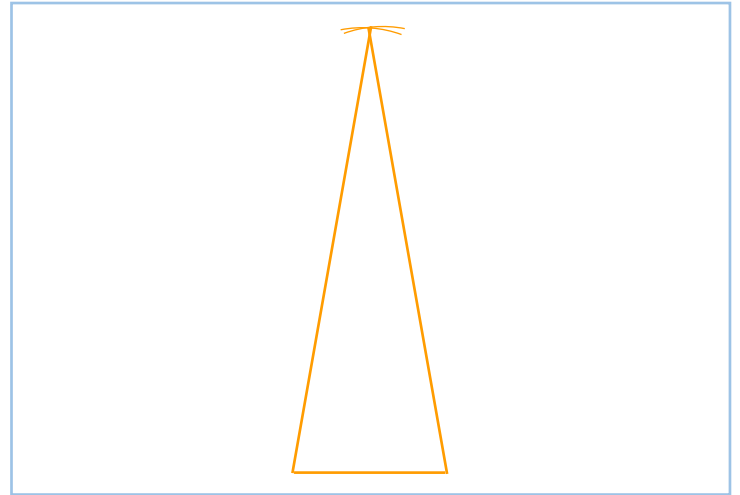
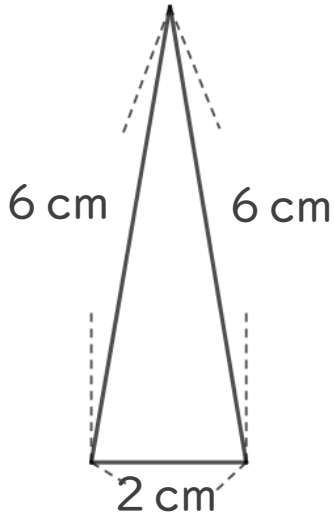
● コンパスを使った
二等辺三角形のかき方



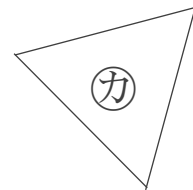
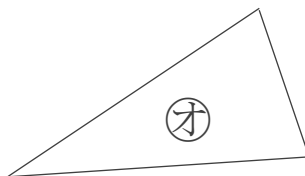
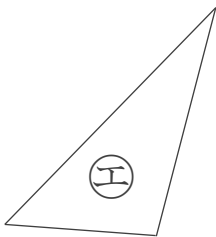
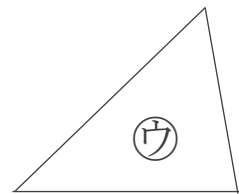
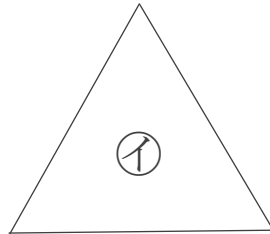
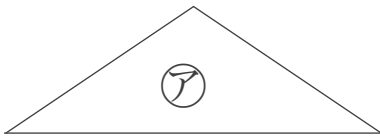
日にち： 月 日

名まえ _____

1 次の二等辺三角形をかきましょう。



2 下の図から、正三角形と二等辺三角形をえらびましょう。



答え： 正三角形… **イ, カ**

二等辺三角形… **ア, オ**



三角形と角 3

● コンパスを使った
二等辺三角形のかき方

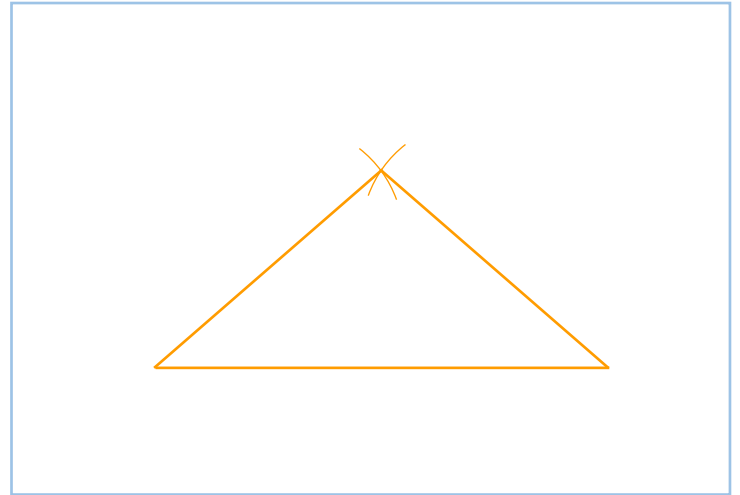
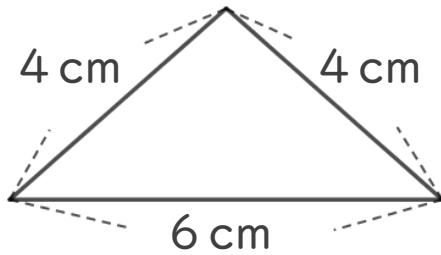
15

めざせ80点!



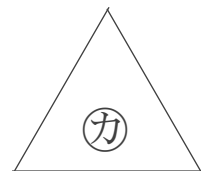
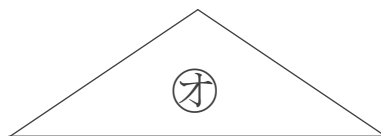
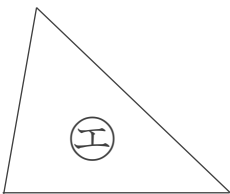
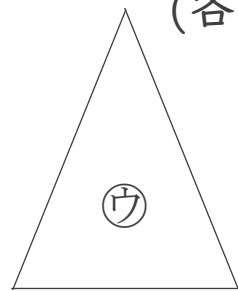
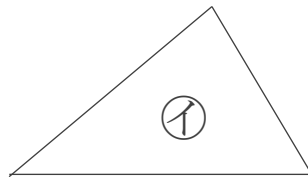
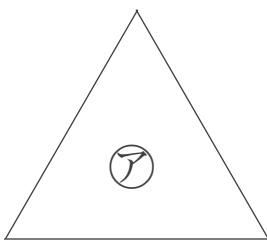
名まえ _____

1 次の二等辺三角形をかきましょう。(60点)



2 下の図から、正三角形と二等辺三角形をえらびましょう。

(各20点)



答え: 正三角形... **ア, カ**

二等辺三角形... **ウ, オ**



三角形と角 3

● コンパスを使った
二等辺三角形のかき方

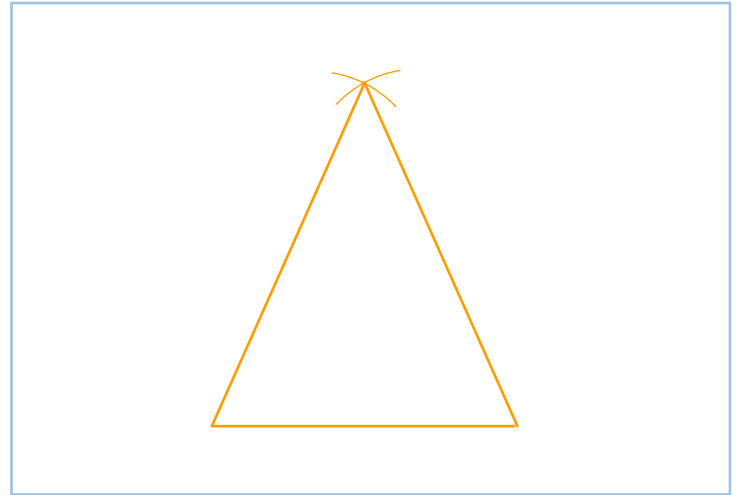
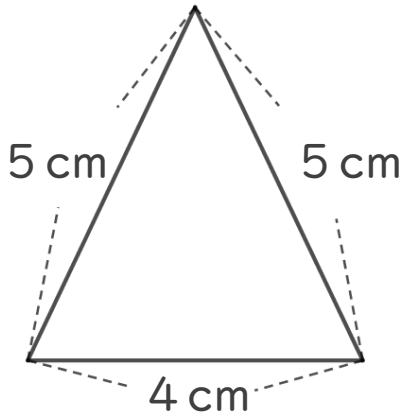


めざせ80点!



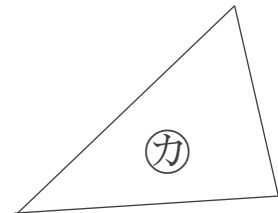
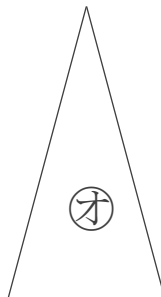
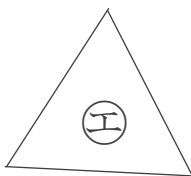
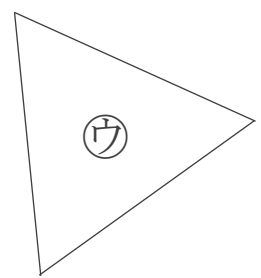
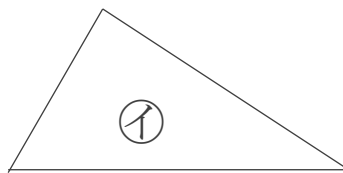
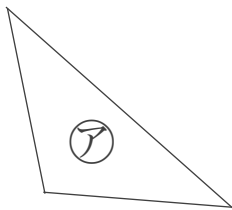
名まえ _____

1 次の二等辺三角形をかきましょう。(60点)



2 下の図から、正三角形と二等辺三角形をえらびましょう。

(各20点)



答え: 正三角形... **ウ, エ**

二等辺三角形... **ア, オ**