



三角形と角 6

● 円を使った
二等辺三角形のかき方

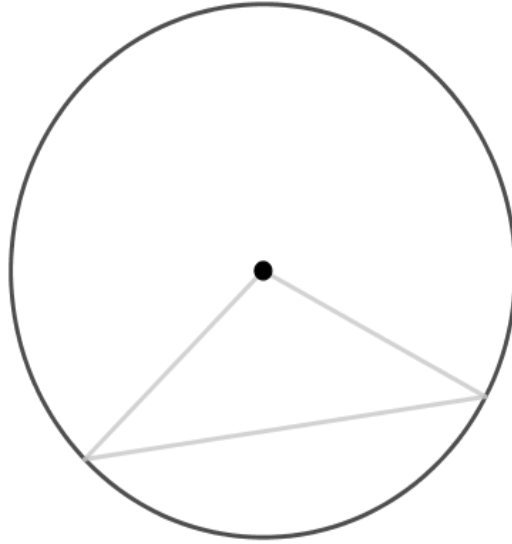


日にち： 月 日

名まえ _____

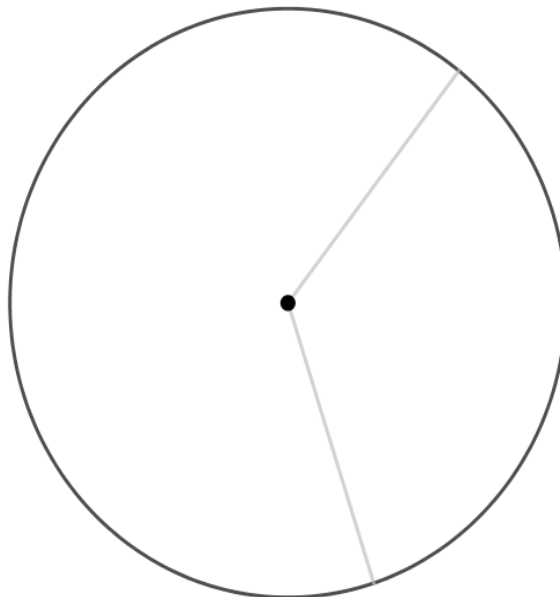
1 円の中に、二等辺三角形をかきましょう。

(うすい字はしっかりなぞりましょう。)



2 円の中に、二等辺三角形をかきましょう。

(うすい字はしっかりなぞりましょう。)





三角形と角 6

● 円を使った
二等辺三角形のかき方

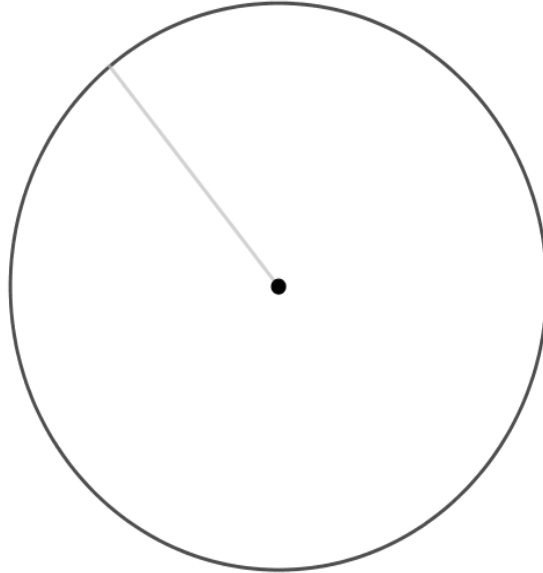


日にち： 月 日

名まえ _____

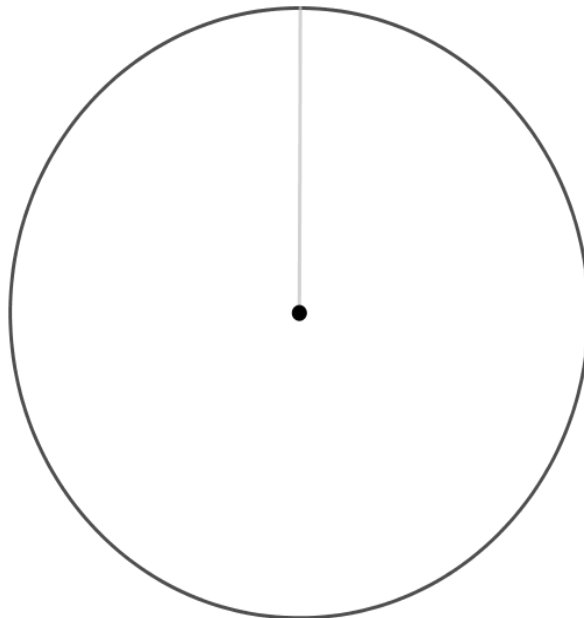
1 円の中に、二等辺三角形をかきましょう。

(うすい字はしっかりなぞりましょう。)



2 円の中に、二等辺三角形をかきましょう。

(うすい字はしっかりなぞりましょう。)





三角形と角 6

● 円を使った
二等辺三角形のかき方

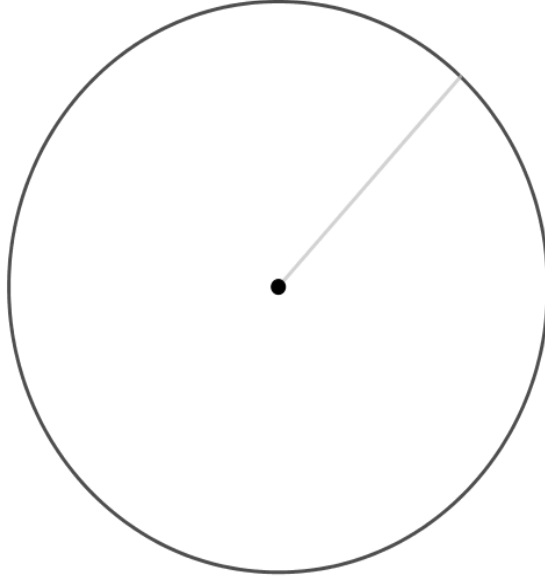


日にち： 月 日


名まえ _____

1 円の中に、二等辺三角形をかきましょう。

(うすい字はしっかりなぞりましょう。)



2 円の中に、二等辺三角形をかきましょう。





三角形と角 6


● 円を使った
二等辺三角形のかき方




日にち： 月 日

名まえ _____

1 円の中に、二等辺三角形をかきましょう。



2 円の中に、二等辺三角形をかきましょう。





三角形と角 6

● 円を使った
二等辺三角形のかき方

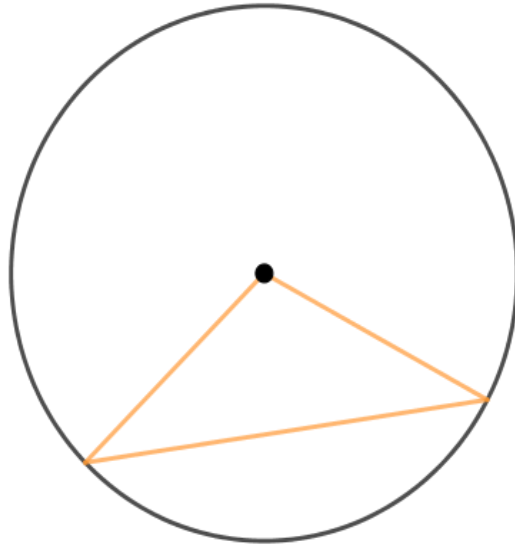


日にち： 月 日

名まえ _____

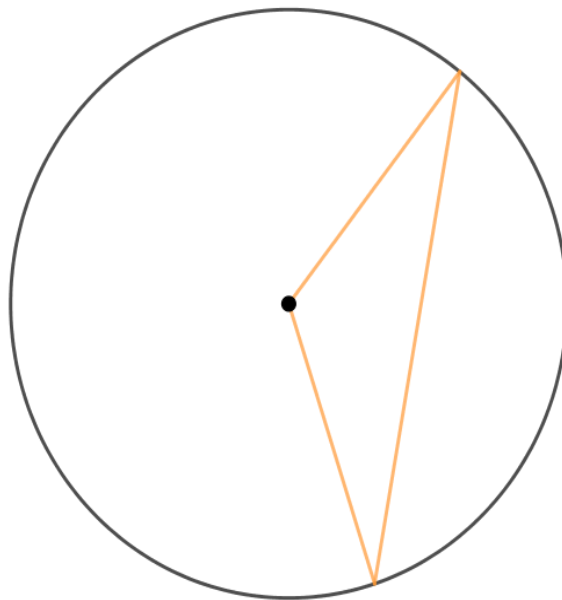
1 円の中に、二等辺三角形をかきましょう。

(うすい字はしっかりなぞりましょう。)



2 円の中に、二等辺三角形をかきましょう。

(うすい字はしっかりなぞりましょう。)





三角形と角 6

● 円を使った
二等辺三角形のかき方

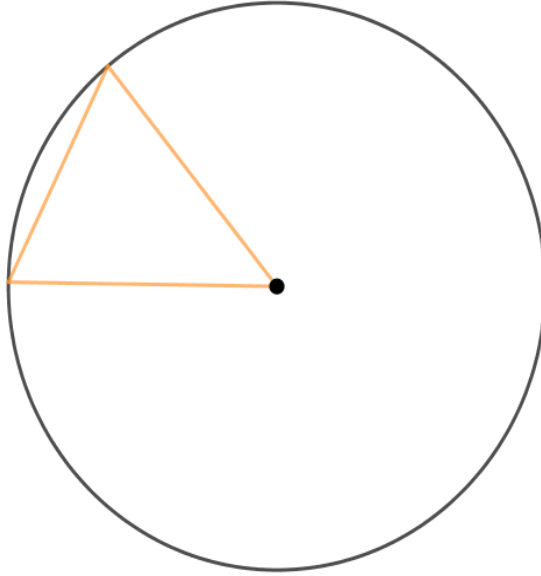


日にち： 月 日

名まえ _____

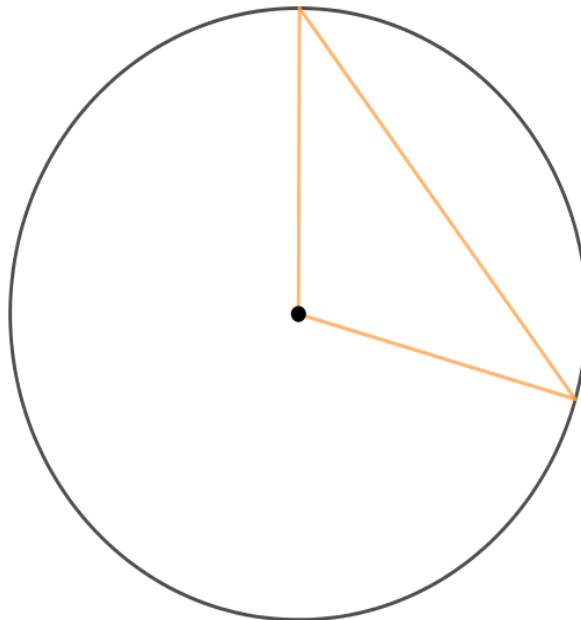
1 円の中に、二等辺三角形をかきましょう。

(うすい字はしっかりなぞりましょう。)



2 円の中に、二等辺三角形をかきましょう。

(うすい字はしっかりなぞりましょう。)





三角形と角 6

● 円を使った
二等辺三角形のかき方

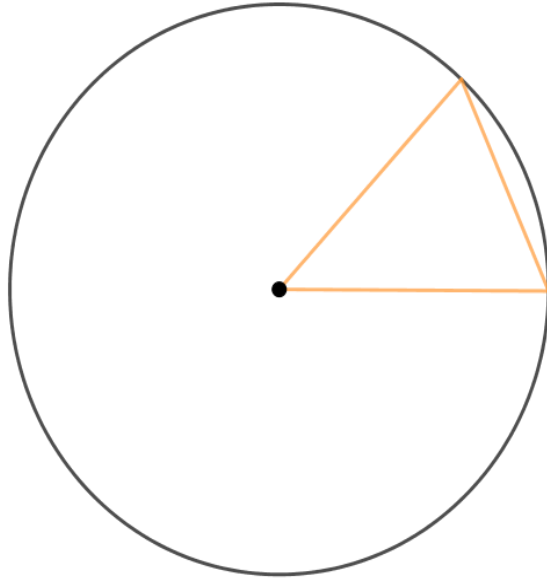


日にち： 月 日

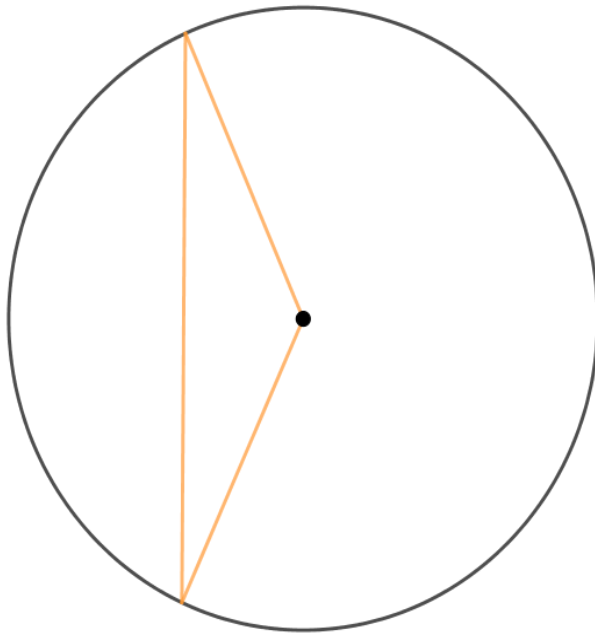
名まえ _____

1 円の中に、二等辺三角形をかきましょう。

(うすい字はしっかりなぞりましょう。)



2 円の中に、二等辺三角形をかきましょう。





三角形と角 6

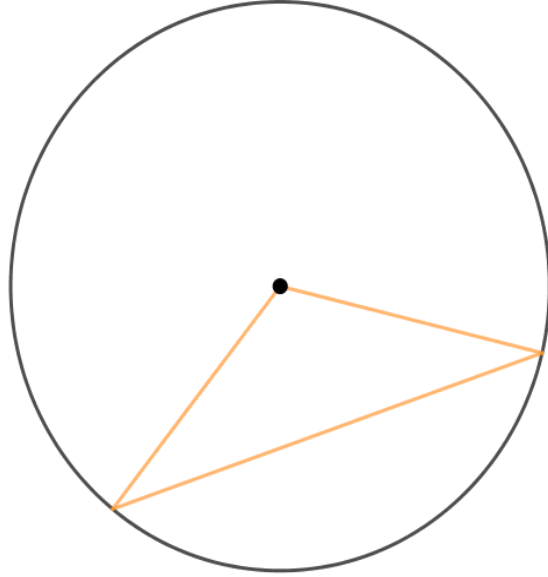
● 円を使った
二等辺三角形のかき方



日にち： 月 日

名まえ

1 円の中に、二等辺三角形をかきましょう。



2 円の中に、二等辺三角形をかきましょう。

