

三角形と角7

● 円を使った
正三角形のかき方




日にち： 月 日

名まえ _____

1 円の中に、正三角形をかきましょう。

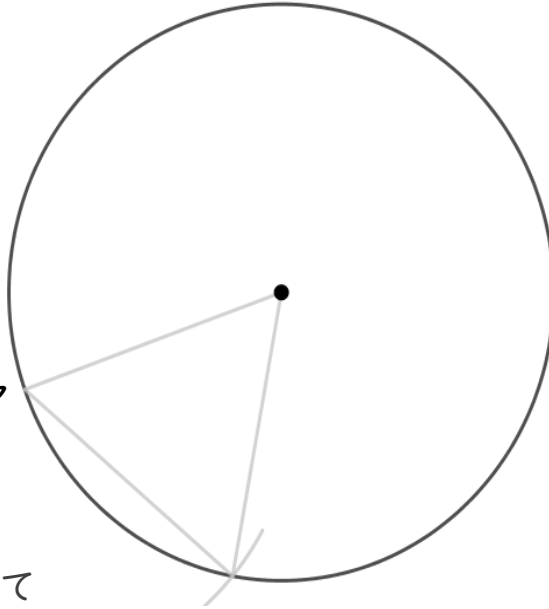
(うすい字はしっかりなぞりましょう。)



①半径の長さに
コンパスを合わせる。



ア



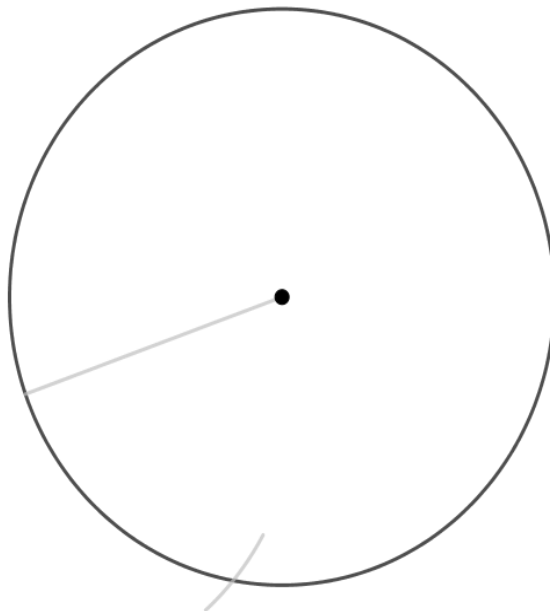
②アにはりをさして
しるしをつける。




③線でおすぶ。

2 円の中に、正三角形をかきましょう。

(うすい字はしっかりなぞりましょう。)





三角形と角7

● 円を使った
正三角形のかき方

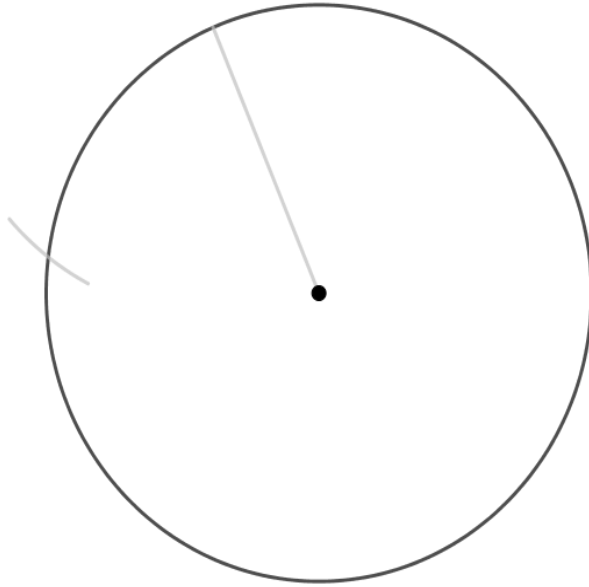


日にち： 月 日

名まえ _____

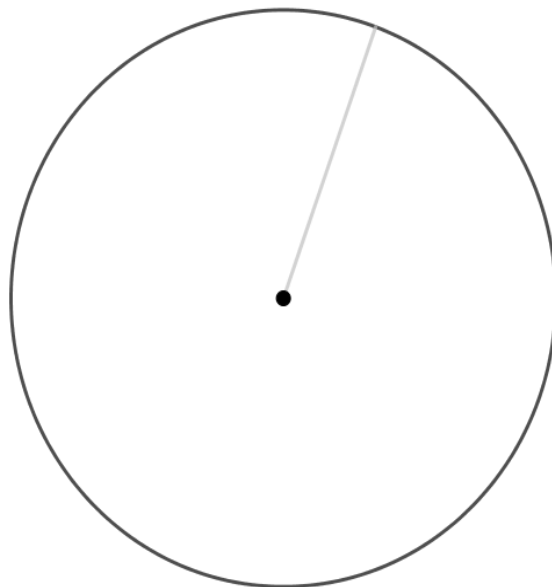
1 円の中に、正三角形をかきましょう。


(うすい字はしっかりなぞりましょう。)



2 円の中に、正三角形をかきましょう。

(うすい字はしっかりなぞりましょう。)





三角形と角7


● 円を使った
正三角形のかき方




日にち： 月 日


名まえ _____

1 円の中に、正三角形をかきましょう。



2 円の中に、正三角形をかきましょう。





三角形と角7


● 円を使った
正三角形のかき方




日にち： 月 日


名まえ

1 円の中に、正三角形をかきましょう。



2 円の中に、正三角形をかきましょう。





三角形と角7

● 円を使った
正三角形のかき方




日にち： 月 日

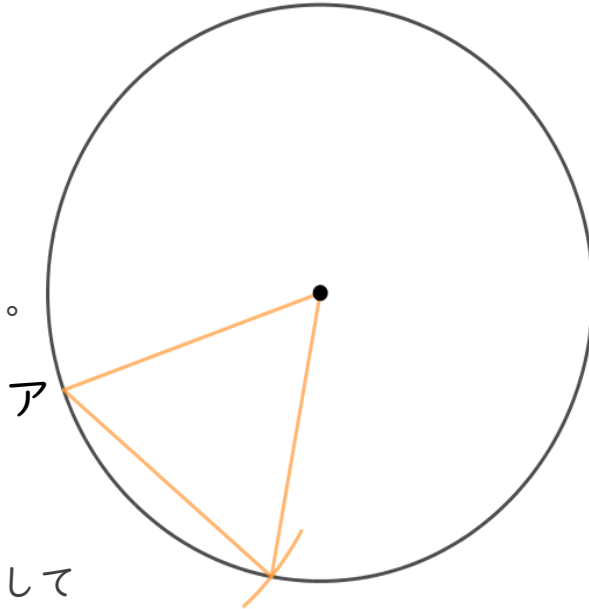
名まえ _____

1 円の中に、正三角形をかきましょう。

(うすい字はしっかりなぞりましょう。)



①半径の長さに
コンパスを合わせる。



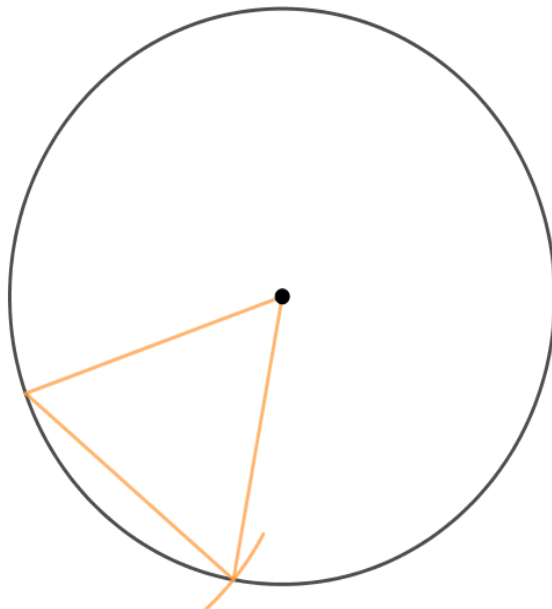
②アにはりをさして
しるしをつける。




③線でおすぶ。

2 円の中に、正三角形をかきましょう。

(うすい字はしっかりなぞりましょう。)





三角形と角7

● 円を使った
正三角形のかき方

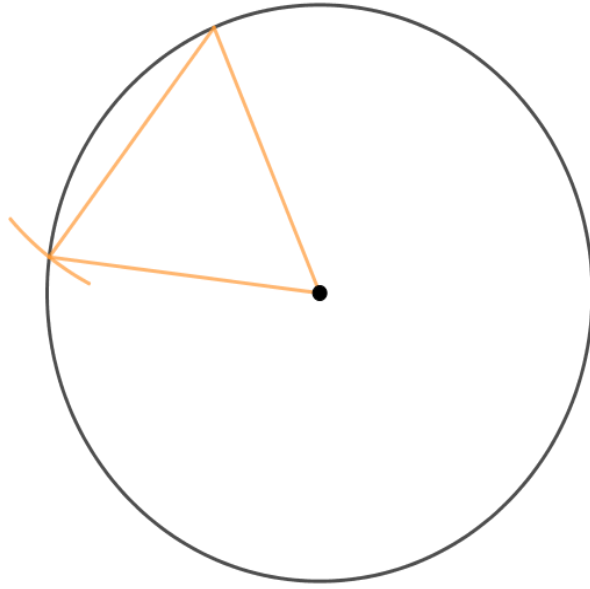


日にち： 月 日

名まえ _____

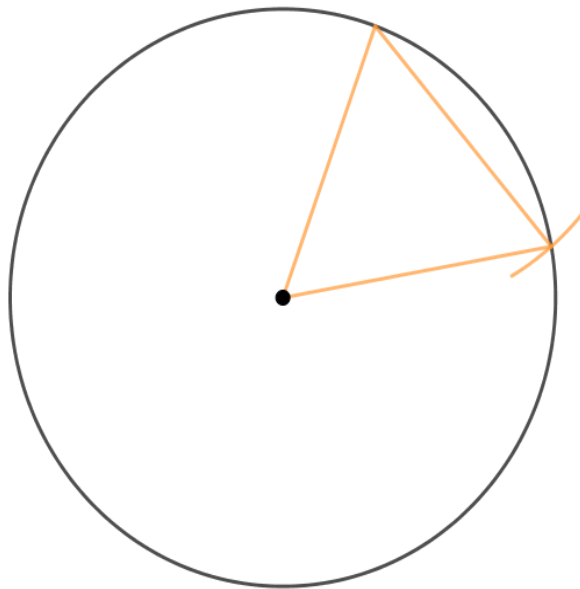
1 円の中に、正三角形をかきましょう。


(うすい字はしっかりなぞりましょう。)



2 円の中に、正三角形をかきましょう。

(うすい字はしっかりなぞりましょう。)





三角形と角7

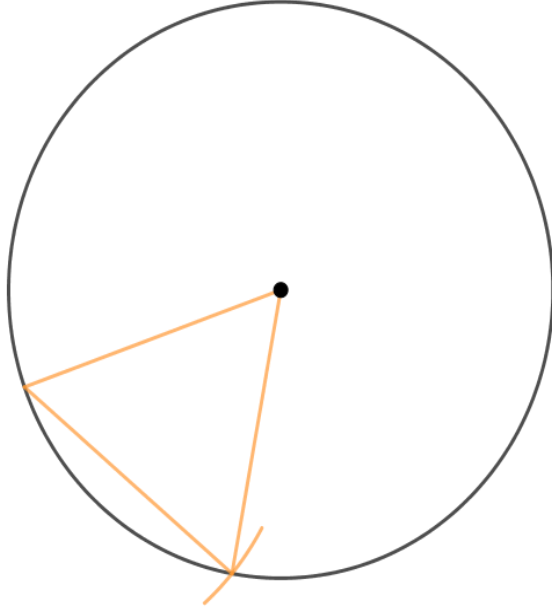
● 円を使った
正三角形のかき方



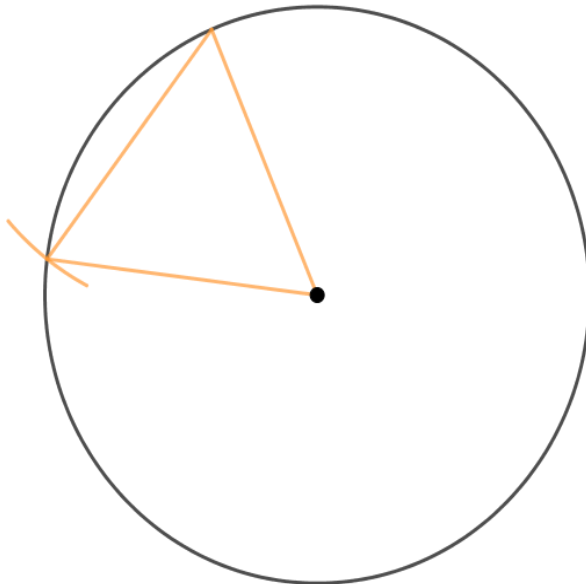
日にち： 月 日


名まえ _____

1 円の中に、正三角形をかきましょう。



2 円の中に、正三角形をかきましょう。





三角形と角7

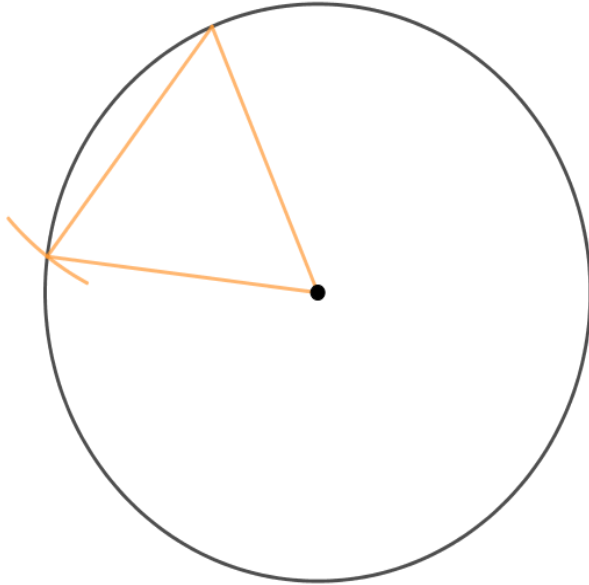
● 円を使った
正三角形のかき方



日にち： 月 日

名まえ _____

1 円の中に、正三角形をかきましょう。



2 円の中に、正三角形をかきましょう。

