



## 三角形と角7

● 円を使った  
正三角形のかき方



日にち：            月            日

名まえ \_\_\_\_\_

1 円の中に、正三角形をかきましょう。  
(うすい線はなぞりましょう。)

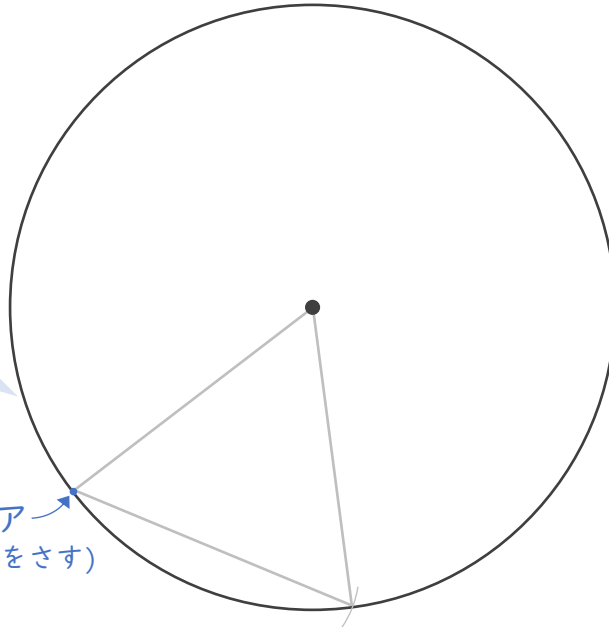
使うもの

- ・三角じょうぎまたはじょうぎ
- ・コンパス

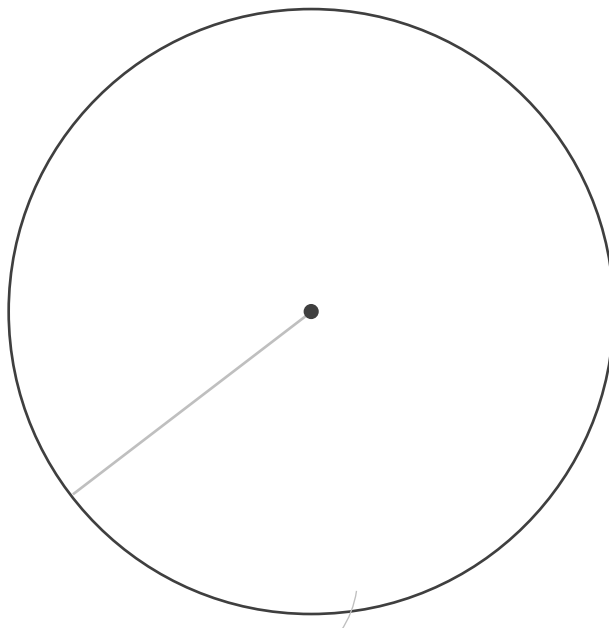
<かき方>


- ① 円の中心からアまで線をむすぶ。
- ② 半径の長さにコンパスを合わせる。
- ③ アにはりをさして、しるしをつける。
- ④ 線でむすぶ。

ア  
(はりをさす)



2 円の中に、正三角形をかきましょう。  
(うすい線はなぞりましょう。)





## 三角形と角7

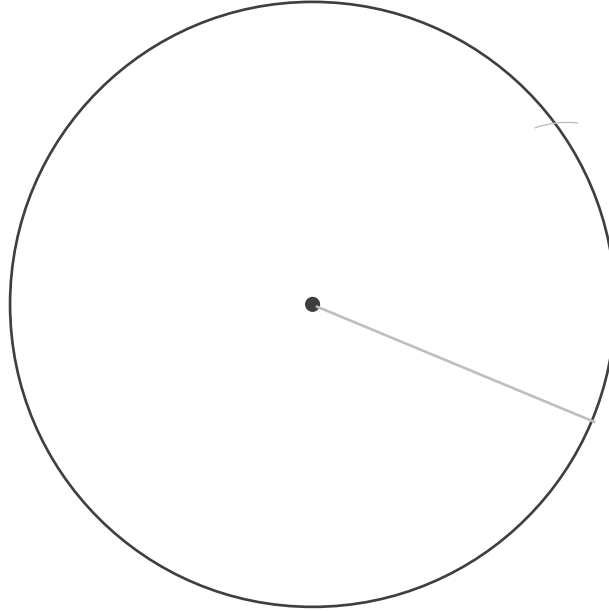
● 円を使った  
正三角形のかき方



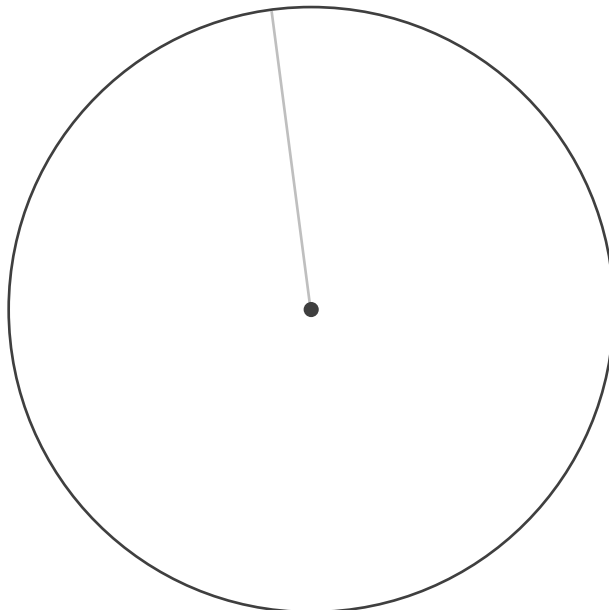
日にち：            月            日


名まえ \_\_\_\_\_

- 1 円の中に、正三角形をかきましょう。  
(うすい線はなぞりましょう。)



- 2 円の中に、正三角形をかきましょう。  
(うすい線はなぞりましょう。)





## 三角形と角7

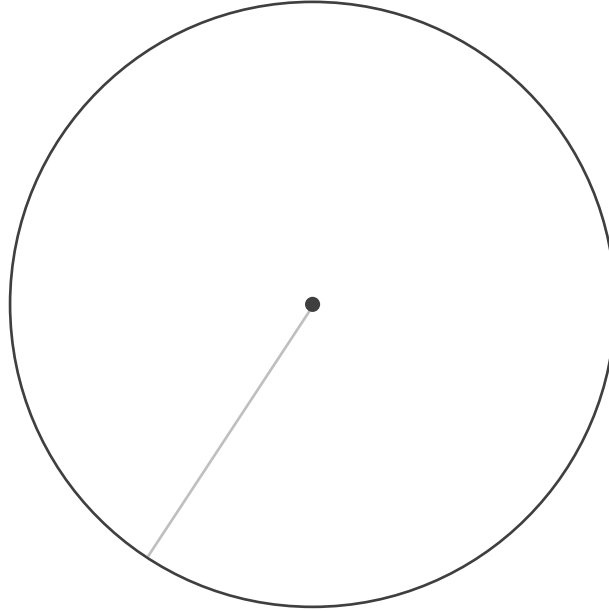
● 円を使った  
正三角形のかき方



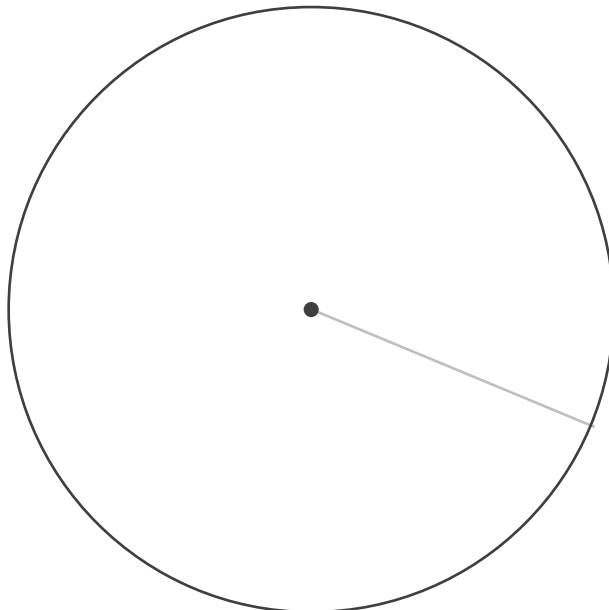
日にち：            月            日

名まえ \_\_\_\_\_

- 1 円の中に、正三角形をかきましょう。  
(うすい線はなぞりましょう。)



- 2 円の中に、正三角形をかきましょう。  
(うすい線はなぞりましょう。)





## 三角形と角7


● 円を使った  
正三角形のかき方




日にち：            月            日

名まえ \_\_\_\_\_

1 円の中に、正三角形をかきましょう。



2 円の中に、正三角形をかきましょう。





## 三角形と角7

● 円を使った  
正三角形のかき方



日にち：            月            日

名まえ \_\_\_\_\_

1 円の中に、正三角形をかきましょう。  
(うすい線はなぞりましょう。)

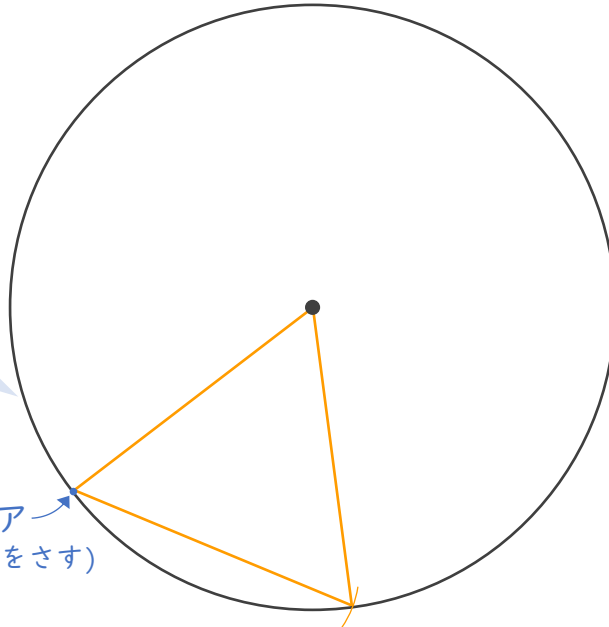
使うもの

- ・三角じょうぎまたはじょうぎ
- ・コンパス

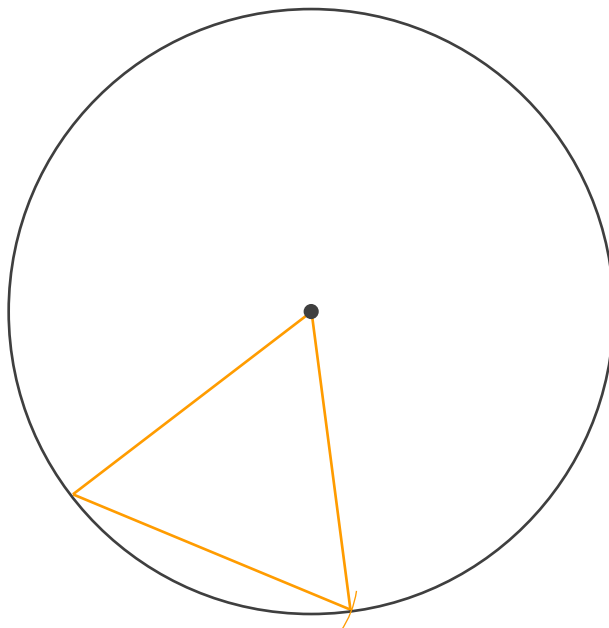
<かき方>

- ① 円の中心からアまで線をむすぶ。
- ② 半径の長さにコンパスを合わせる。
- ③ アにはりをさして、しるしをつける。
- ④ 線でむすぶ。

ア  
(はりをさす)



2 円の中に、正三角形をかきましょう。  
(うすい線はなぞりましょう。)





## 三角形と角7

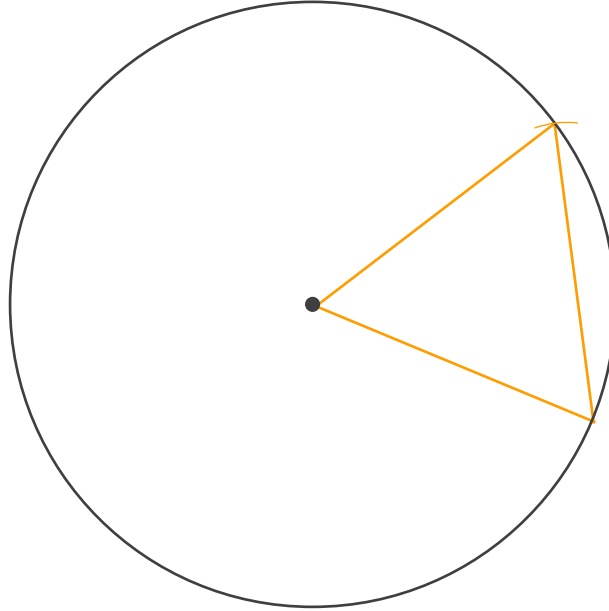
● 円を使った  
正三角形のかき方



日にち：            月            日

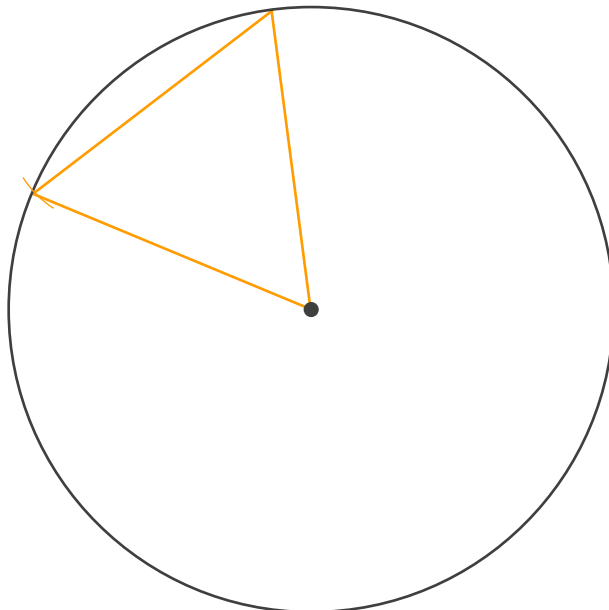
名まえ \_\_\_\_\_

- 1 円の中に、正三角形をかきましょう。  
(うすい線はなぞりましょう。)



- 2 円の中に、正三角形をかきましょう。  
(うすい線はなぞりましょう。)

(例)





## 三角形と角7

● 円を使った  
正三角形のかき方

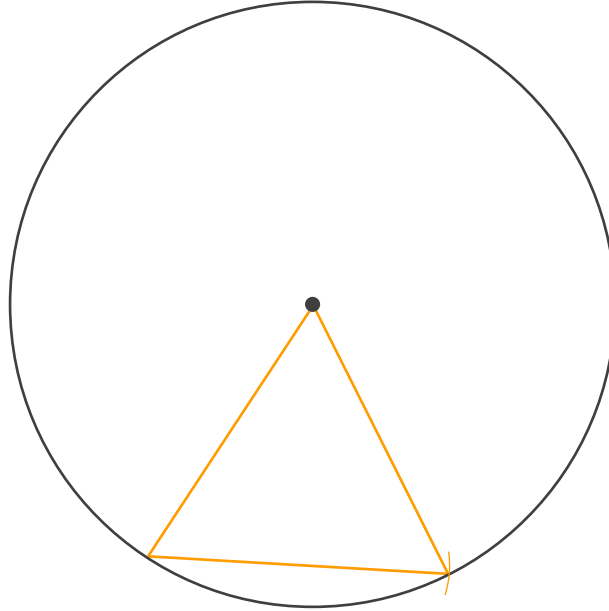


日にち：            月            日

名まえ \_\_\_\_\_

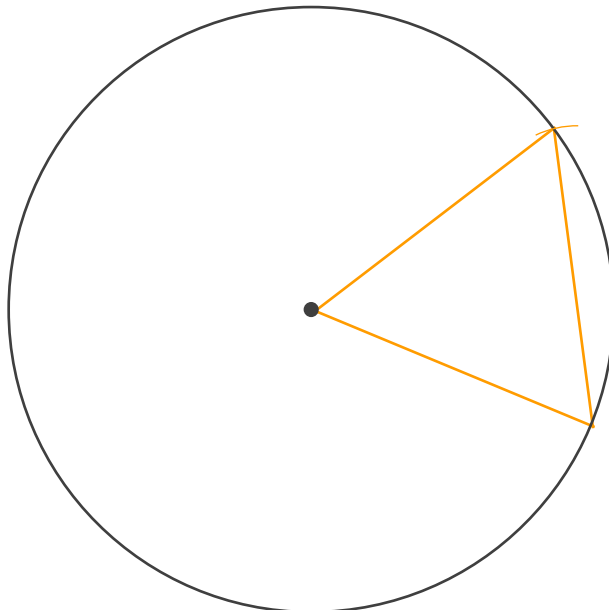
- 1 円の中に、正三角形をかきましょう。  
(うすい線はなぞりましょう。)

(例)



- 2 円の中に、正三角形をかきましょう。  
(うすい線はなぞりましょう。)

(例)





## 三角形と角7

● 円を使った  
正三角形のかき方

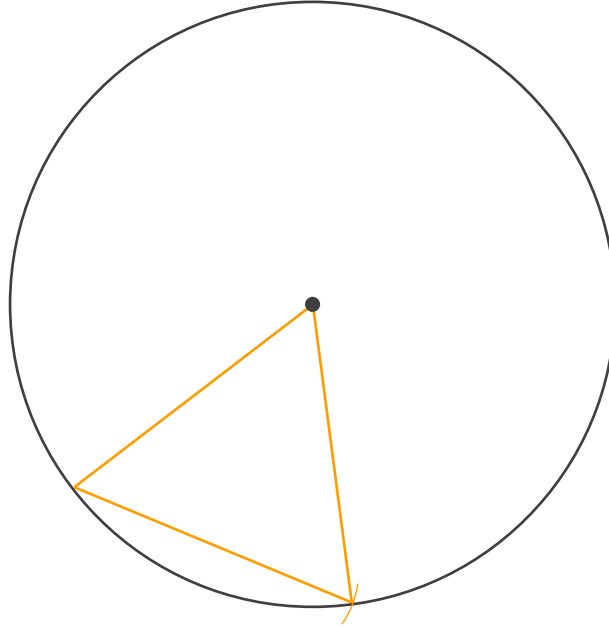


日にち：            月            日

名まえ \_\_\_\_\_

1 円の中に、正三角形をかきましょう。

(例)



2 円の中に、正三角形をかきましょう。

(例)

