



# 円と球 ①

● 円の中心・半径・直径とは

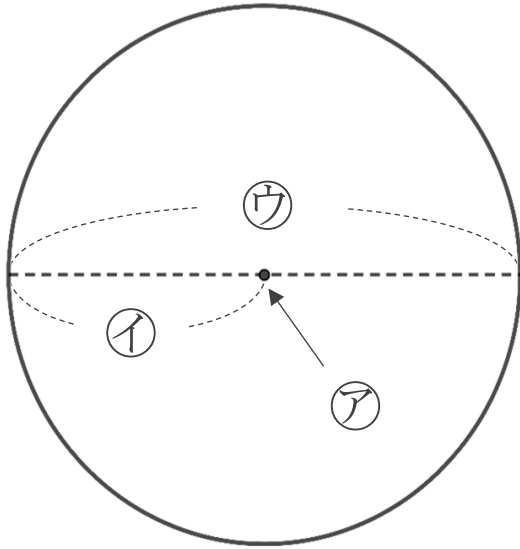


日にち：            月            日

名まえ \_\_\_\_\_

・ 次の㉠～㉣の名前を答えましょう。(うすい字はなぞりましょう。)

①

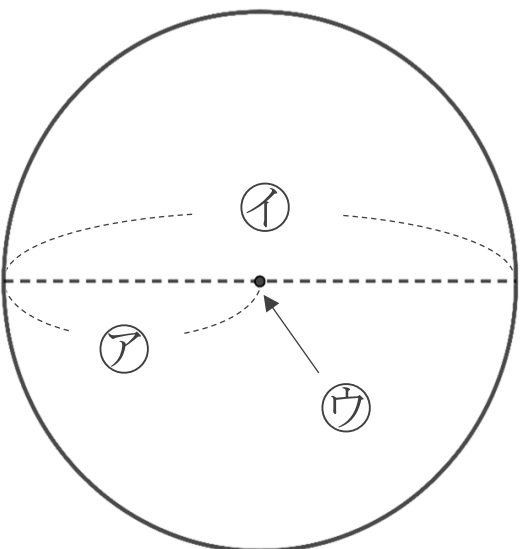


㉠ :      中心

㉡ :      半径

㉣ :      直径

②



㉠ :

㉡ :

㉣ :





# 円と球 1

● 円の中心・半径・直径とは

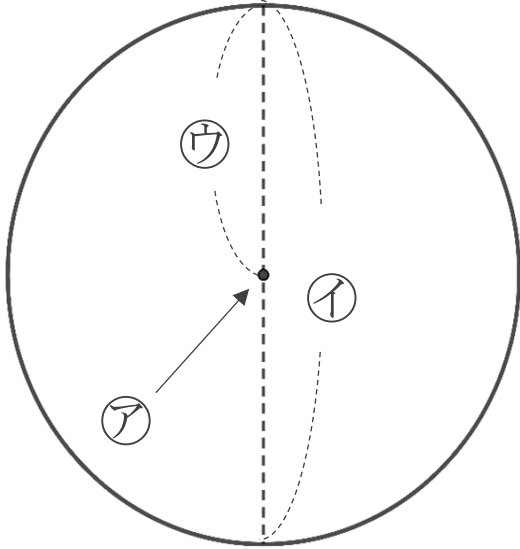


日にち：            月            日

名まえ \_\_\_\_\_

・ 次の㉠～㉣の名前を答えましょう。

①



㉠ :

\_\_\_\_\_

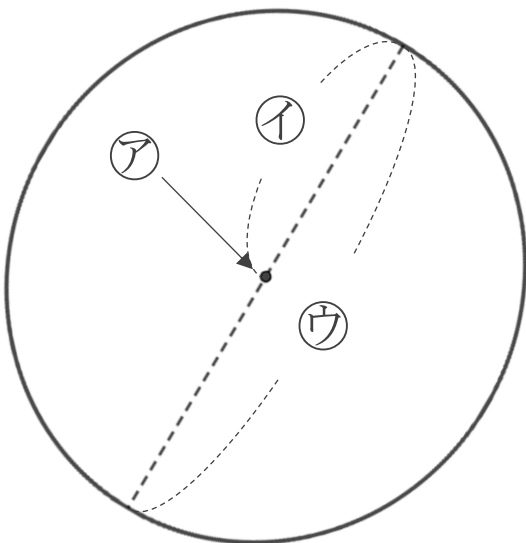
㉡ :

\_\_\_\_\_

㉢ :

\_\_\_\_\_

②



㉠ :

\_\_\_\_\_

㉡ :

\_\_\_\_\_

㉢ :

\_\_\_\_\_





# 円と球 ①

● 円の中心・半径・直径とは

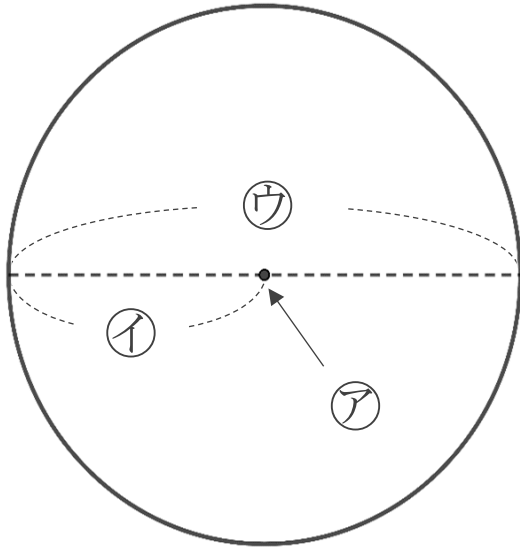


日にち：            月            日

名まえ \_\_\_\_\_

・ 次の㉠～㉣の名前を答えましょう。(うすい字はなぞりましょう。)

①



㉠ :            中心

---

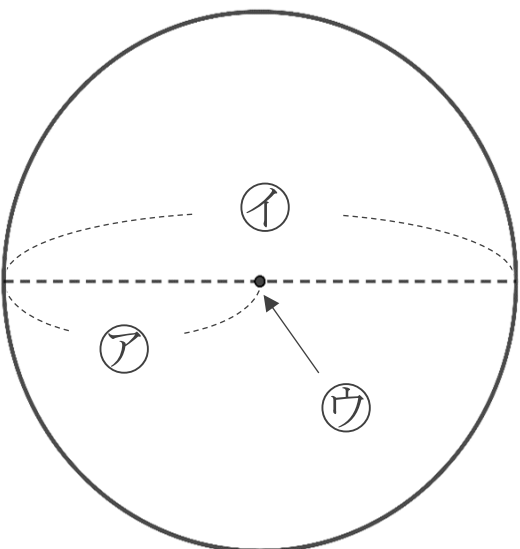
㉡ :            半径

---

㉢ :            直径

---

②



㉠ :            半径

---

㉡ :            直径

---

㉢ :            中心

---





# 円と球 1

● 円の中心・半径・直径とは

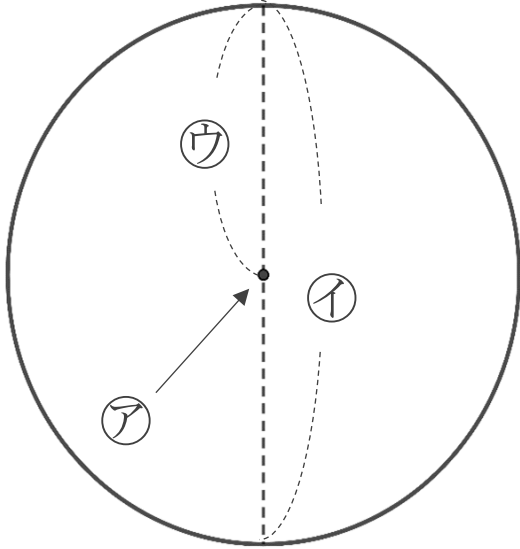
2

日にち：          月          日

名まえ \_\_\_\_\_

・ 次の㉠～㉣の名前を答えましょう。(うすい字はなぞりましょう。)

①

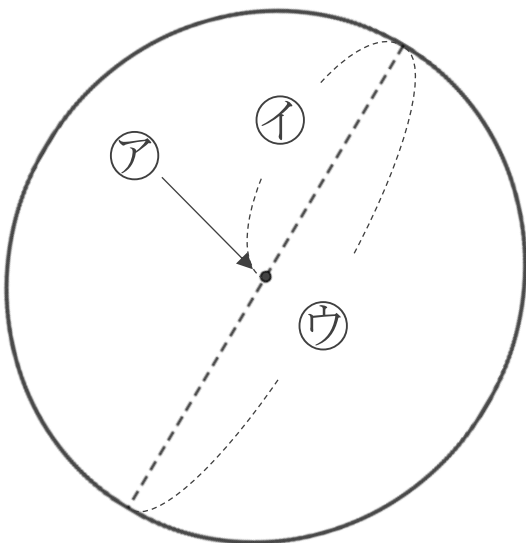


㉠ : 中心

㉡ : 直径

㉢ : 半径

②



㉠ : 中心

㉡ : 半径

㉢ : 直径

