



円と球 7

コンパスで長さ比べ

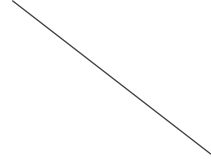


日にち： 月 日


名まえ _____

・ 次の直線の長さをくらべ、長いじゆんに答えましょう。
(うすい字は、なぞりましょう。)

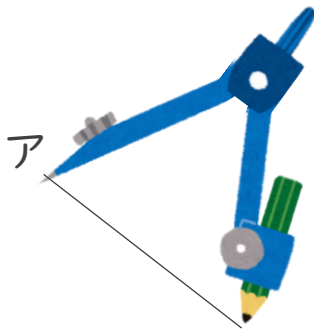
ア



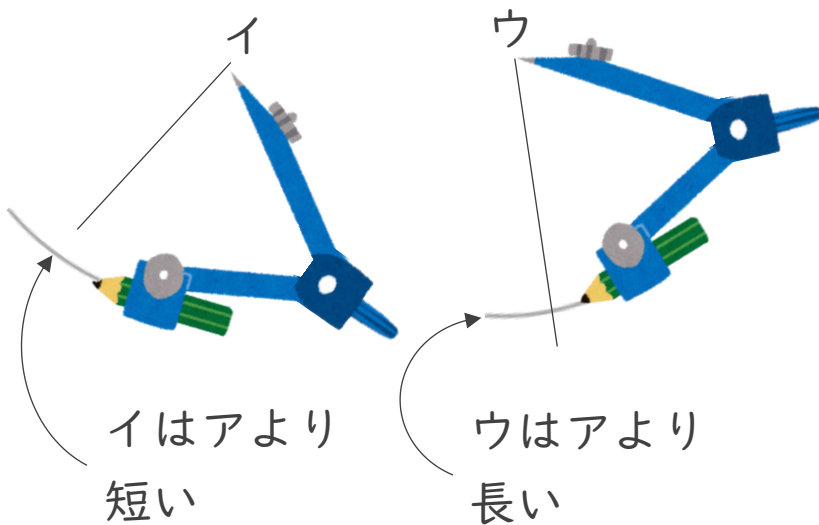
イ



ウ



① アにコンパスを
あてて長さをとる



② コンパスの長さを
かえないで、
イやウの長さ
くらべよう

答え： ウ → ア → イ



円と球 7

コンパスで長さ比べ



日にち： 月 日

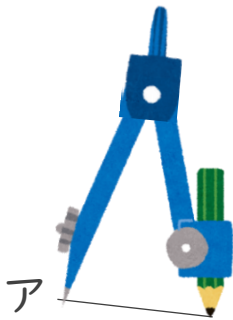
名まえ _____

・ 次の直線の長さをくらべ、長いじゆんに答えましょう。
(うすい字は、なぞりましょう。)

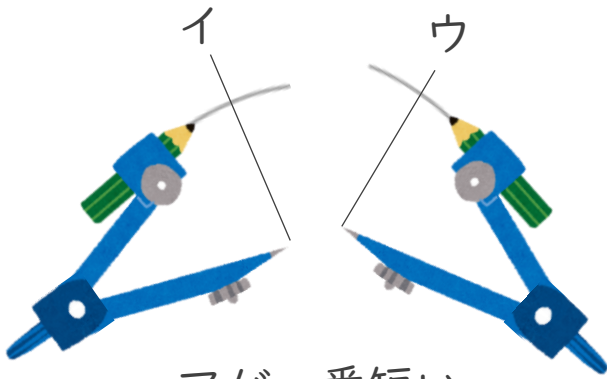
ア _____

イ _____

ウ _____

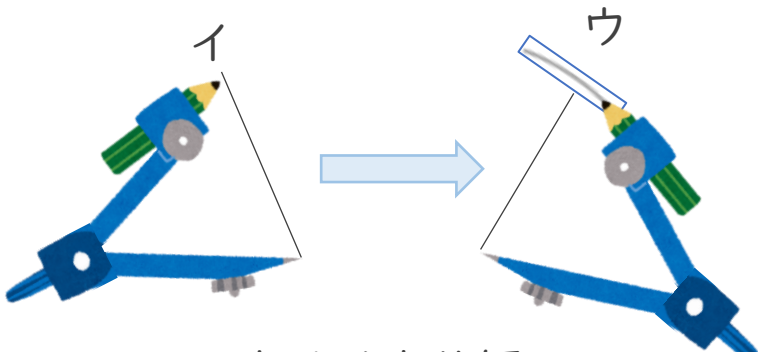


① アにコンパスを
あてて長さをとる



② コンパスの長さを
かえないで、
イやウの長さ
くらべよう

アが一番短い



③ イにコンパスを
あてて長さをかえずに
ウの長さくらべよう

ウはイより短い

答え： → →





円と球 7

コンパスで長さ比べ



日にち： 月 日

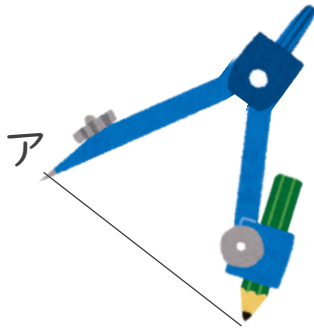
名まえ _____

・ 次の直線の長さをくらべ、長いじゆんに答えましょう。
(うすい字は、なぞりましょう。)

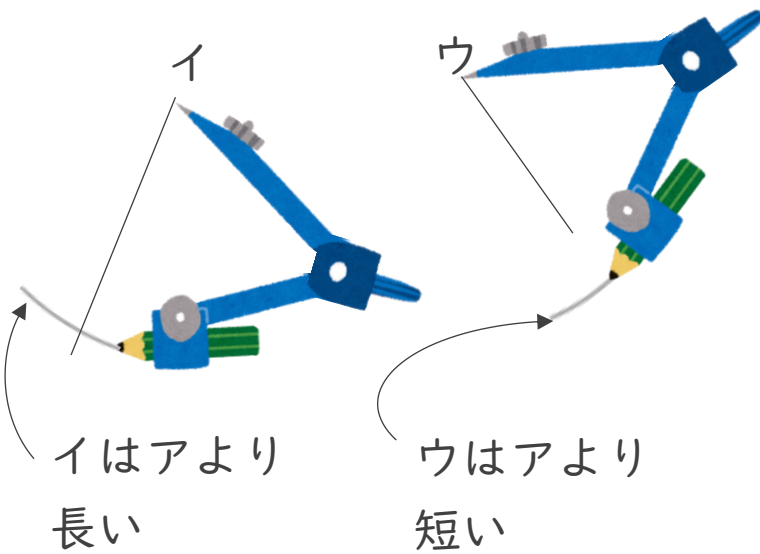
ア

イ

ウ



① アにコンパスを
あてて長さをとる



② コンパスの長さを
かえないで、
イやウの長さ
くらべよう

イはアより
長い

ウはアより
短い

答え： イ → →



円と球 7

コンパスで長さ比べ



日にち： 月 日

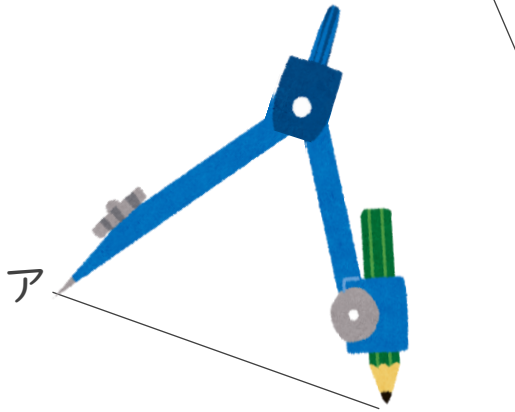
名まえ _____

・ 次の直線の長さをくらべ、長いじゆんに答えましょう。
(うすい字は、なぞりましょう。)

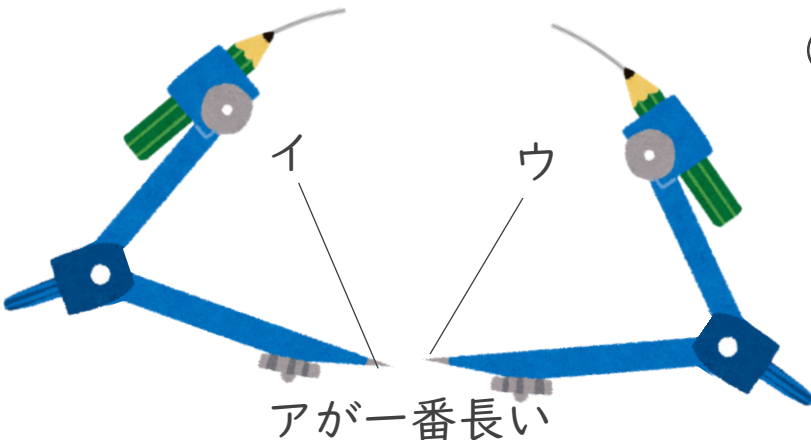
ア

イ

ウ

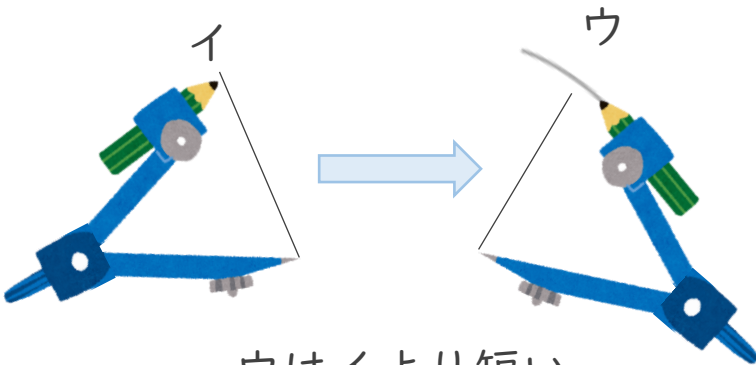


① アにコンパスを
あてて長さをとる



② コンパスの長さを
かえないで、
イやウの長さと
くらべよう

アが一番長い



③ イにコンパスを
あてて長さをかえずに
ウの長さとくらべよう

ウはイより短い

答え： → →





円と球 7

コンパスで長さ比べ




日にち： 月 日

名まえ _____


・ 次の直線の長さをくらべ、長いじゆんに答えましょう。
(うすい字は、なぞりましょう。)

①



答え： → →

②



答え： → →



円と球 7

● コンパスで長さ比べ

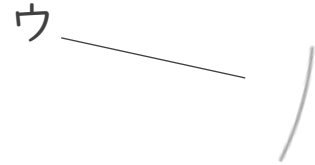
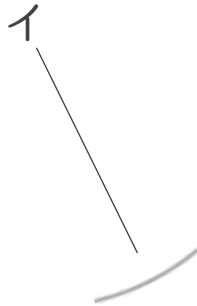



日にち： 月 日

名まえ _____

・ 次の直線の長さをくらべ、長いじゆんに答えましょう。
(うすい字は、なぞりましょう。)

①



答え： → →

②



答え： → →



円と球 7

● コンパスで長さ比べ

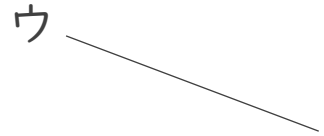



日にち： 月 日

名まえ _____

・ 次の直線の長さをくらべ、長いじゆんに答えましょう。

①



答え： → →

②



答え： → →





円と球 7

コンパスで長さ比べ



日にち： 月 日

名まえ _____

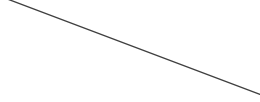
・ 次の直線の長さをくらべ、長いじゆんに答えましょう。

①

ア



イ



ウ



答え： → →

②

ア



イ



ウ



答え： → →





円と球 7

コンパスで長さ比べ

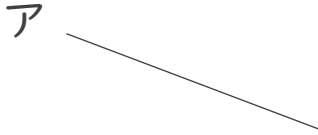


日にち： 月 日

名まえ _____

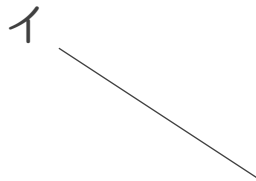
・ 次の直線の長さをくらべ、長いじゆんに答えましょう。

①



答え： → →

②



答え： → →



円と球 7

コンパスで長さ比べ



日にち： 月 日

名まえ _____

1 次の直線の長さをくらべ、長いじゆんに答えましょう。

①

ア

イ

ウ

答え：



②

ア

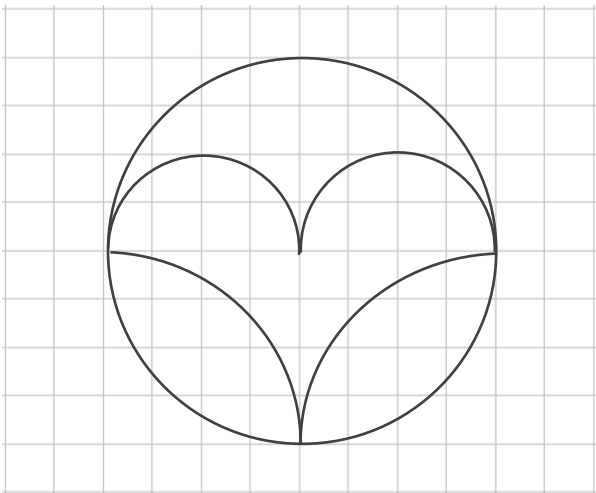
イ

ウ

答え：



2 コンパスを使って、次のもようをかきましょう。





円と球 7

コンパスで長さ比べ



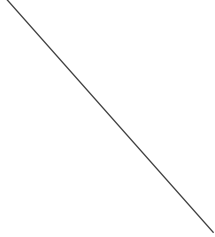
日にち： 月 日

名まえ _____

1 次の直線の長さをくらべ、長いじゆんに答えましょう。

①


ア



イ



ウ



答え： → →

②


ア



イ


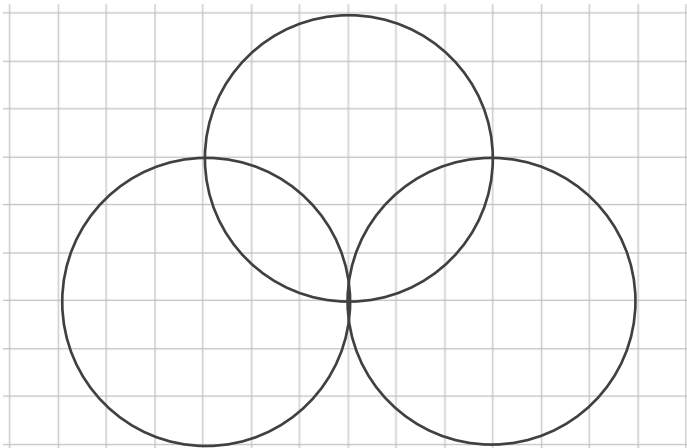


ウ



答え： → →

2 コンパスを使って、次のもようをかきましょう。





円と球 7

コンパスで長さ比べ

12

日にち： 月 日

名まえ _____

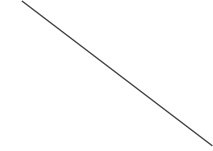
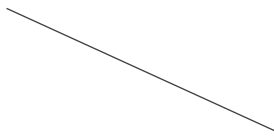
1 次の直線の長さをくらべ、長いじゆんに答えましょう。

①

ア

イ

ウ



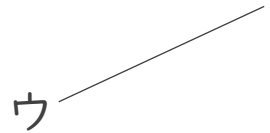

答え： → →

②

ア


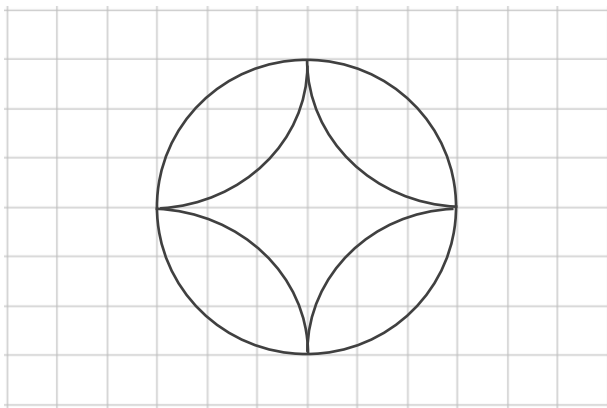
イ

ウ



答え： → →

2 コンパスを使って、次のもようをかきましょう。





円と球 7

コンパスで長さ比べ



日にち： 月 日

名まえ _____

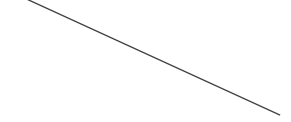
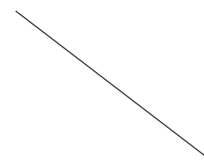
1 次の直線の長さをくらべ、長いじゆんに答えましょう。

①

ア

イ

ウ



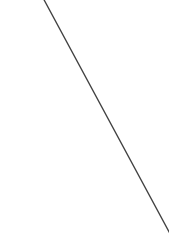
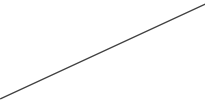
答え： → →

②

ア

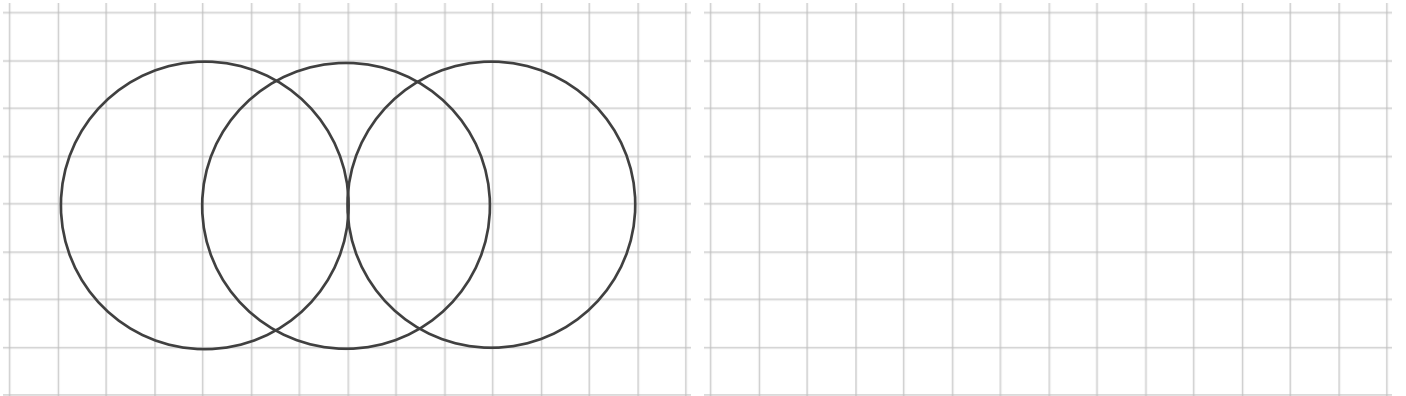
イ

ウ



答え： → →

2 コンパスを使って、次のもようをかきましょう。





円と球 7

コンパスで長さ比べ



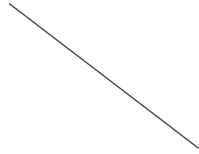
日にち： 月 日

名まえ _____

1 次の直線の長さをくらべ、長いじゆんに答えましょう。

①

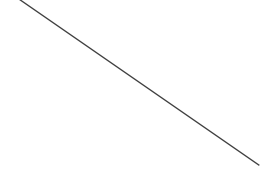
ア



イ



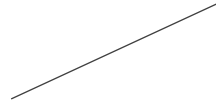
ウ



答え： → →

②

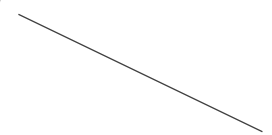
ア



イ

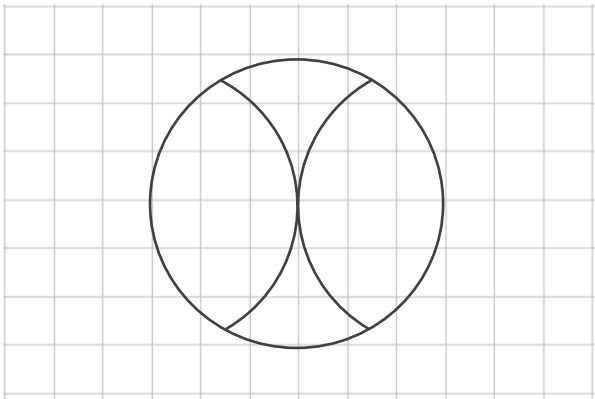


ウ



答え： → →

2 コンパスを使って、次のもようをかきましょう。






円と球 7

コンパスで長さ比べ

15

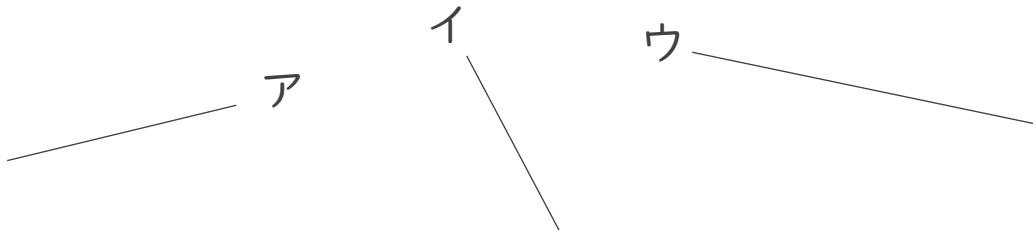
目指せ75点!



名まえ

1 次の直線の長さをくらべ、長いじゆんに答えましょう。(各25点)

①




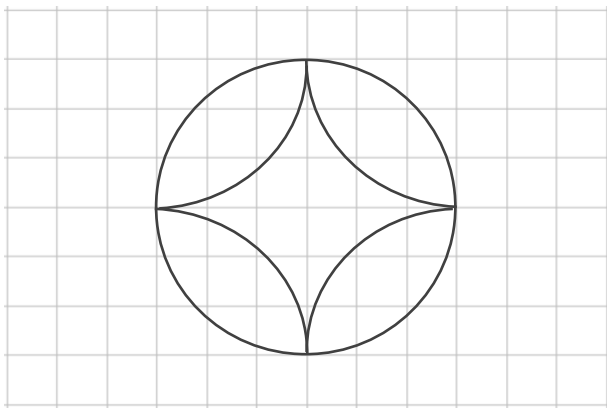
答え： → →

②



答え： → →

2 コンパスを使って、次のもようをかきましょう。(50点)






円と球 7

コンパスで長さ比べ

16

目指せ75点!



名まえ

1 次の直線の長さをくらべ、長いじゆんに答えましょう。(各25点)

①

ア



イ



ウ



答え：



②

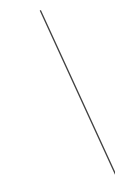
ア



イ




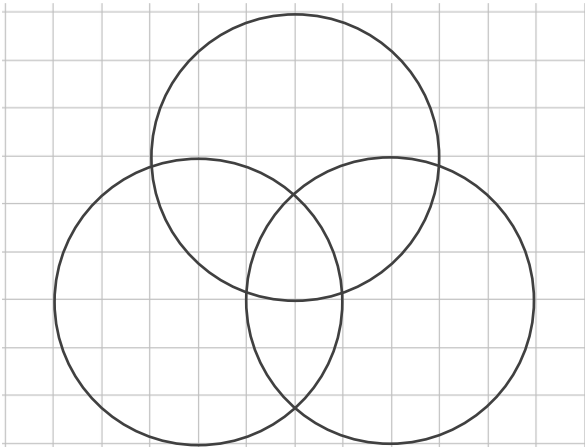
ウ



答え：



2 コンパスを使って、次のもようをかきましょう。(50点)





円と球 7

コンパスで長さ比べ

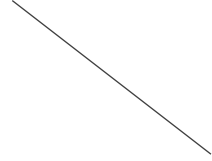


日にち： 月 日


名まえ _____

・ 次の直線の長さをくらべ、長いじゆんに答えましょう。
(うすい字は、なぞりましょう。)

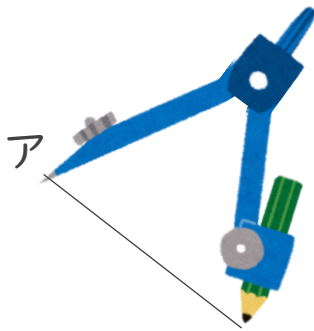
ア



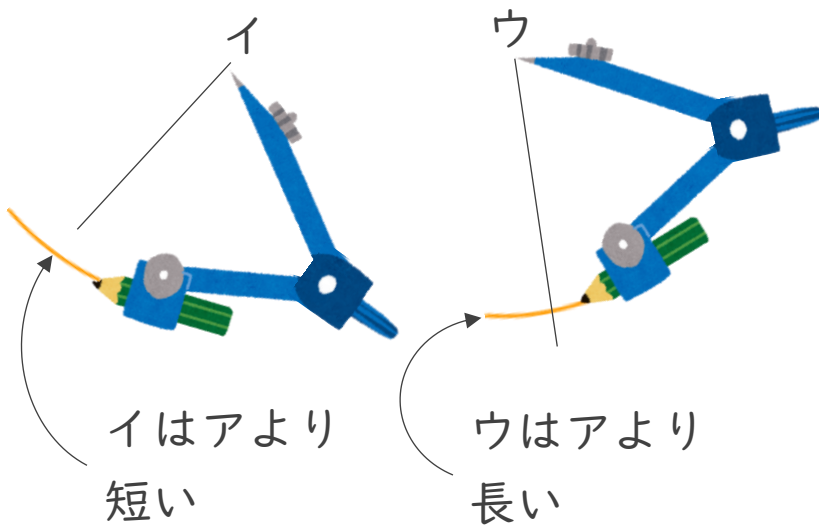
イ



ウ



① アにコンパスを
あてて長さをとる



② コンパスの長さを
かえないで、
イやウの長さ
くらべよう

イはアより
短い

ウはアより
長い

答え： **ウ** → **ア** → **イ**



円と球 7

コンパスで長さ比べ



日にち： 月 日

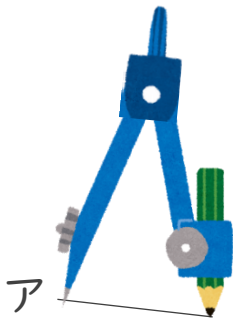
名まえ _____

・ 次の直線の長さをくらべ、長いじゆんに答えましょう。
(うすい字は、なぞりましょう。)

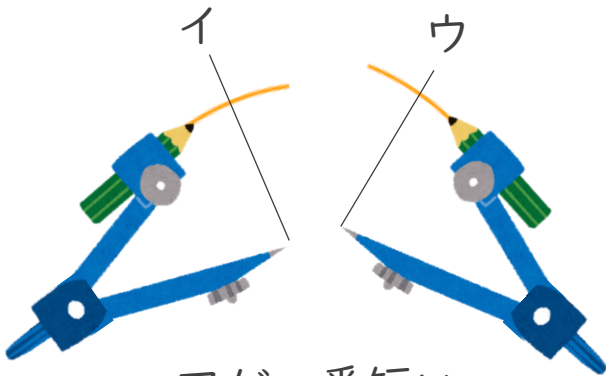
ア _____

イ _____

ウ _____

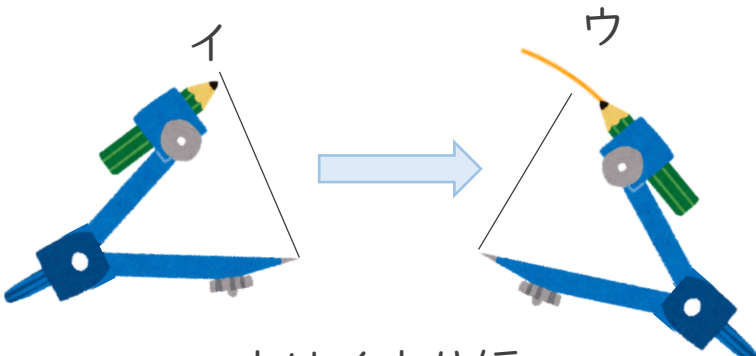


① アにコンパスを
あてて長さをとる



② コンパスの長さを
かえないで、
イやウの長さと
くらべよう

アが一番短い



③ イにコンパスを
あてて長さをかえずに
ウの長さとくらべよう

ウはイより短い

答え： **イ** → **ウ** → **ア**





円と球 7

コンパスで長さ比べ



日にち： 月 日

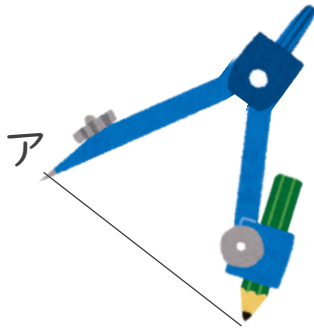
名まえ _____

- ・ 次の直線の長さをくらべ、長いじゆんに答えましょう。
(うすい字は、なぞりましょう。)

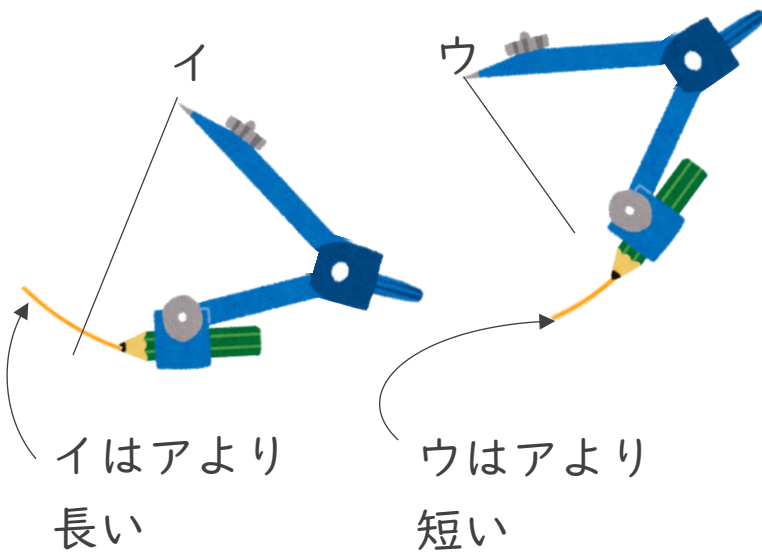
ア

イ

ウ



- ① アにコンパスをあてて長さをとる



- ② コンパスの長さを変えないで、イやウの長さとくらべよう

答え： **イ** → **ア** → **ウ**



円と球 7

コンパスで長さ比べ



日にち： 月 日

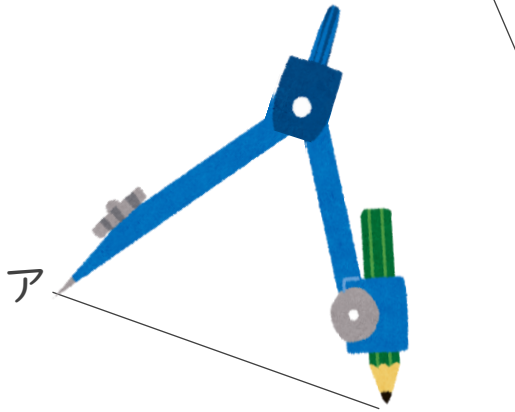
名まえ _____

・ 次の直線の長さをくらべ、長いじゆんに答えましょう。
(うすい字は、なぞりましょう。)

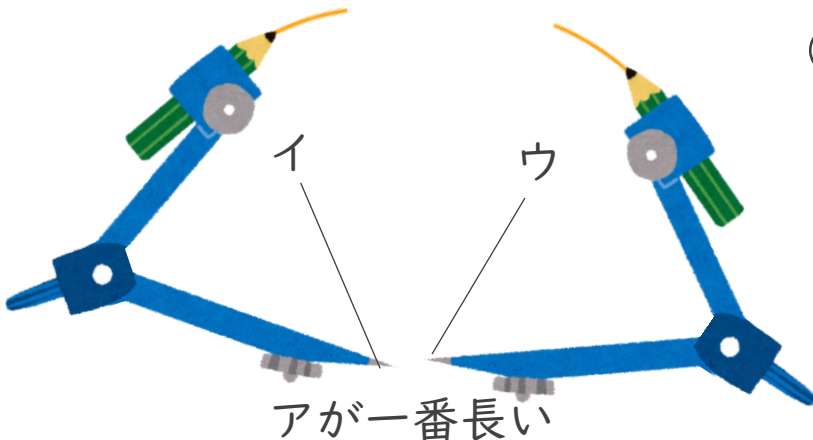
ア

イ

ウ

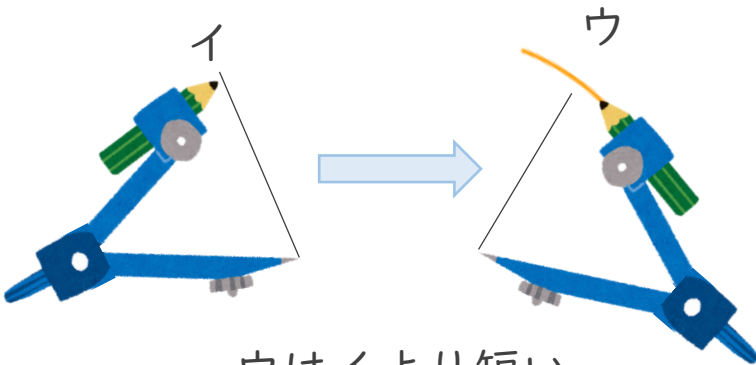


① アにコンパスを
あてて長さをとる



② コンパスの長さを
かえないで、
イやウの長さと
くらべよう

アが一番長い



③ イにコンパスを
あてて長さをかえずに
ウの長さとくらべよう

ウはイより短い

答え： **ア** → **イ** → **ウ**





円と球 7

コンパスで長さ比べ




日にち： 月 日

名まえ _____


・ 次の直線の長さをくらべ、長いじゆんに答えましょう。
(うすい字は、なぞりましょう。)

①



答え： ウ → ア → イ

②



答え： ア → イ → ウ



円と球 7

コンパスで長さ比べ




日にち： 月 日

名まえ _____

・ 次の直線の長さをくらべ、長いじゆんに答えましょう。
(うすい字は、なぞりましょう。)

①

ア



イ



ウ



答え： ア → イ → ウ

②

ア



イ



ウ



答え： イ → ウ → ア



円と球 7

コンパスで長さ比べ

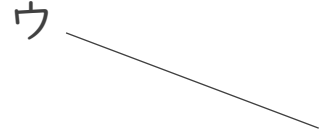



日にち： 月 日

名まえ _____

・ 次の直線の長さをくらべ、長いじゆんに答えましょう。

①



答え： ウ → イ → ア

②



答え： ア → ウ → イ



円と球 7

コンパスで長さ比べ



日にち： 月 日

名まえ _____

・ 次の直線の長さをくらべ、長いじゆんに答えましょう。

①

ア

イ

ウ

答え： イ → ア → ウ

②

ア

イ

ウ

答え： ウ → ア → イ



円と球 7

コンパスで長さ比べ

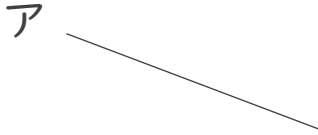


日にち： 月 日

名まえ _____

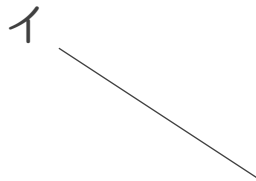
・ 次の直線の長さをくらべ、長いじゆんに答えましょう。

①



答え： ア → ウ → イ

②



答え： イ → ア → ウ





円と球 7

コンパスで長さ比べ



日にち： 月 日

名まえ _____

1 次の直線の長さをくらべ、長いじゆんに答えましょう。

①

ア

イ

ウ

答え： ウ → ア → イ

②

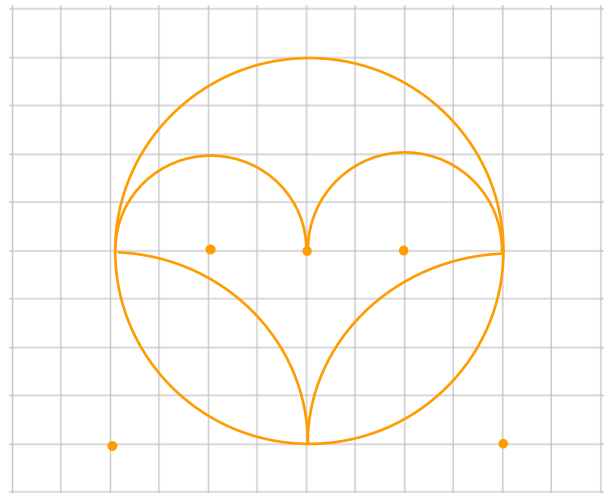
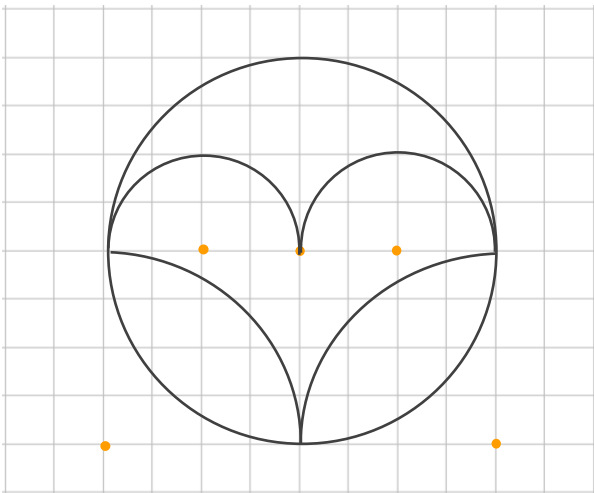
ア

イ

ウ

答え： イ → ウ → ア

2 コンパスを使って、次のもようをかきましょう。





円と球 7

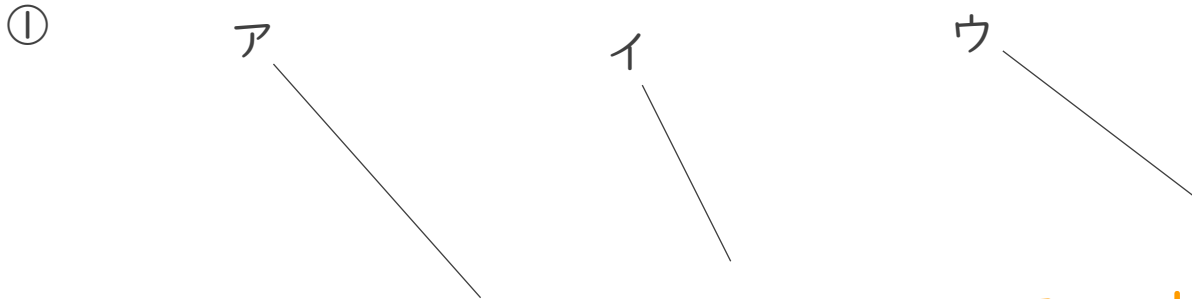
コンパスで長さ比べ



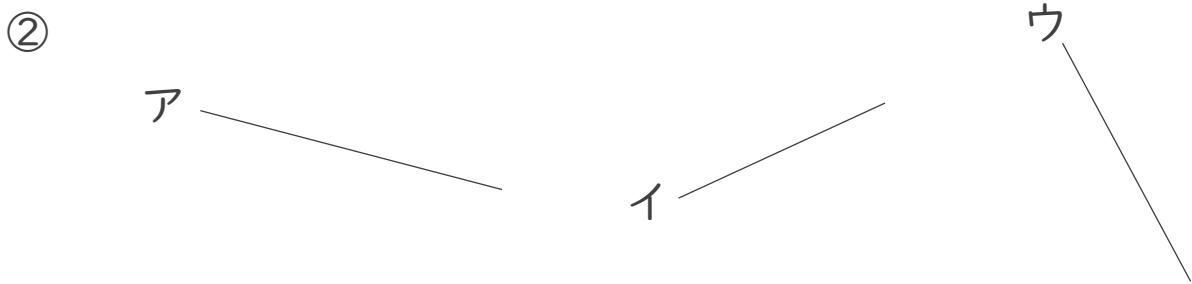
日にち： 月 日

名まえ _____

1 次の直線の長さをくらべ、長いじゆんに答えましょう。

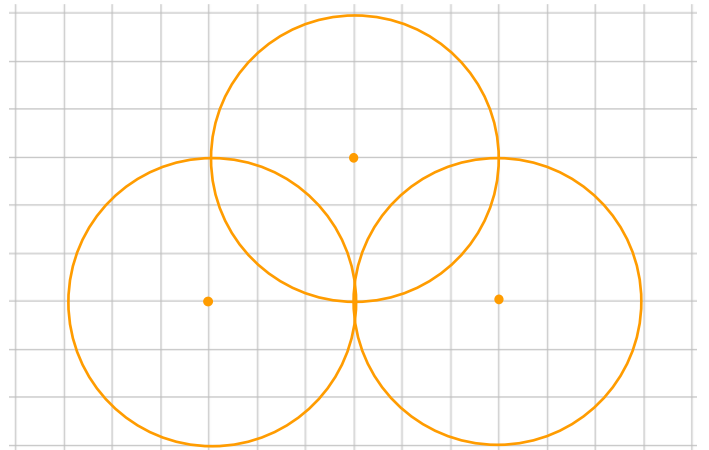
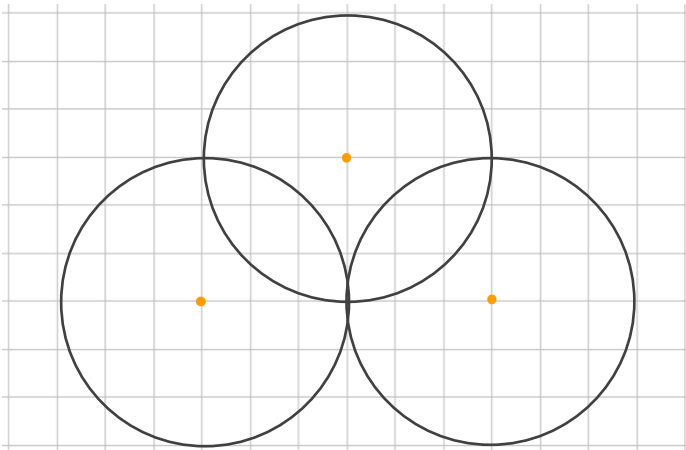


答え： ア → ウ → イ



答え： ア → ウ → イ

2 コンパスを使って、次のもようをかきましょう。





円と球 7

コンパスで長さ比べ

12

日にち： 月 日

名まえ _____


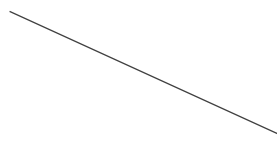
1 次の直線の長さをくらべ、長いじゆんに答えましょう。

①

ア

イ

ウ



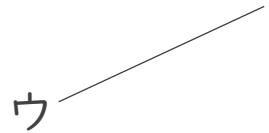

答え： イ → ウ → ア

②

ア

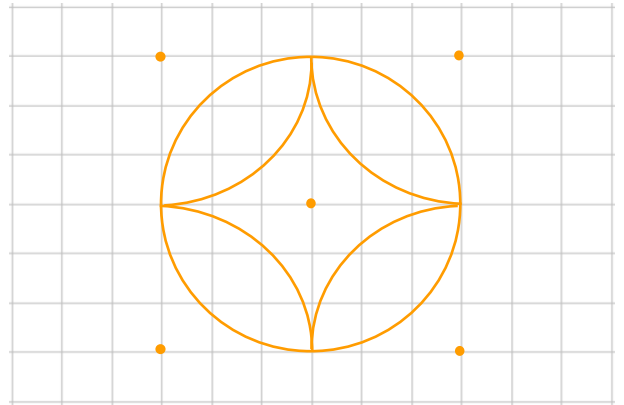
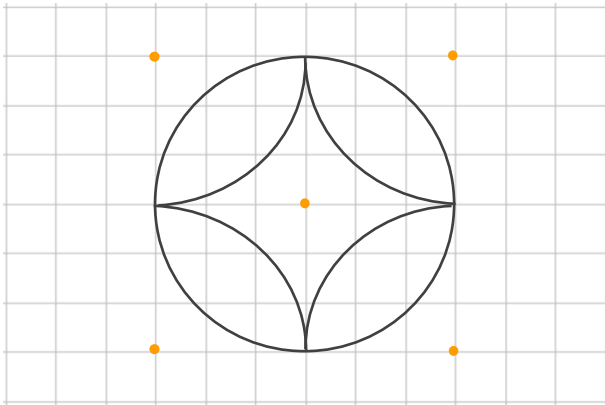
イ

ウ



答え： ア → イ → ウ

2 コンパスを使って、次のもようをかきましょう。





円と球 7

コンパスで長さ比べ

13

日にち： 月 日

名まえ _____

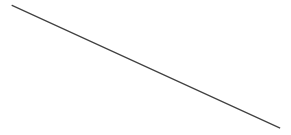
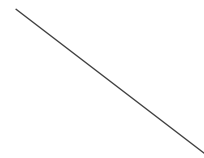
1 次の直線の長さをくらべ、長いじゆんに答えましょう。

①

ア

イ

ウ




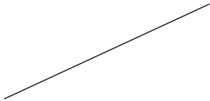
答え： **ウ** → **イ** → **ア**

②

ア

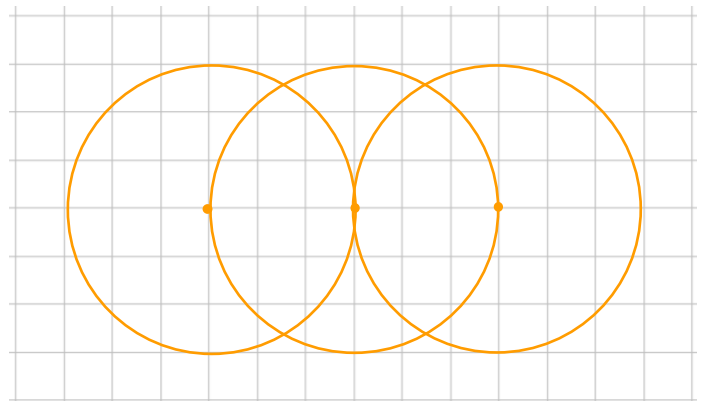
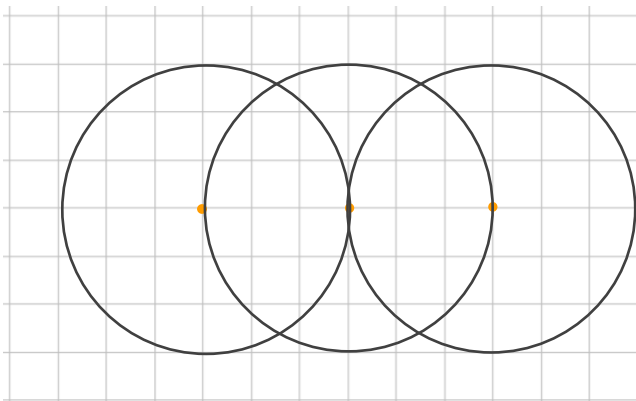
イ

ウ



答え： **ウ** → **イ** → **ア**

2 コンパスを使って、次のもようをかきましょう。





円と球 7

コンパスで長さ比べ

14

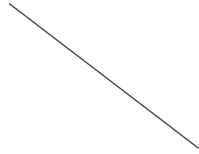
日にち： 月 日

名まえ _____

1 次の直線の長さをくらべ、長いじゆんに答えましょう。

①

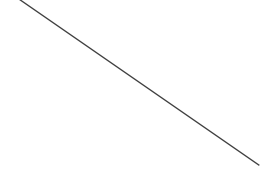
ア



イ



ウ



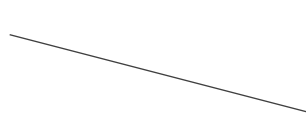
答え： **ウ** → **ア** → **イ**

②

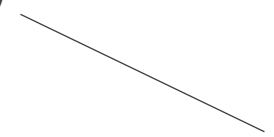
ア



イ

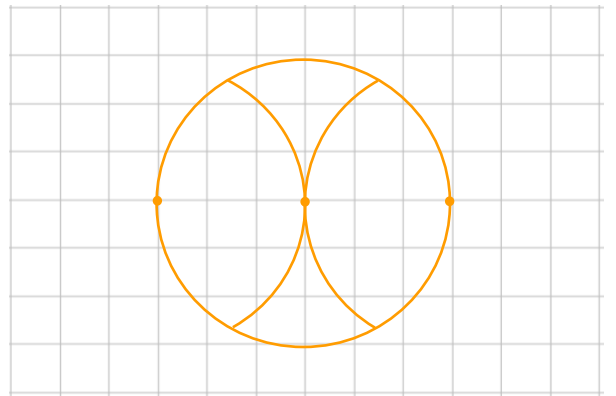
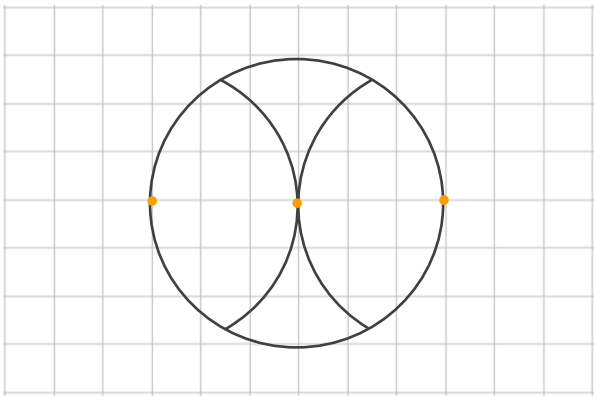


ウ



答え： **イ** → **ウ** → **ア**

2 コンパスを使って、次のもようをかきましょう。






円と球 7

コンパスで長さ比べ

15

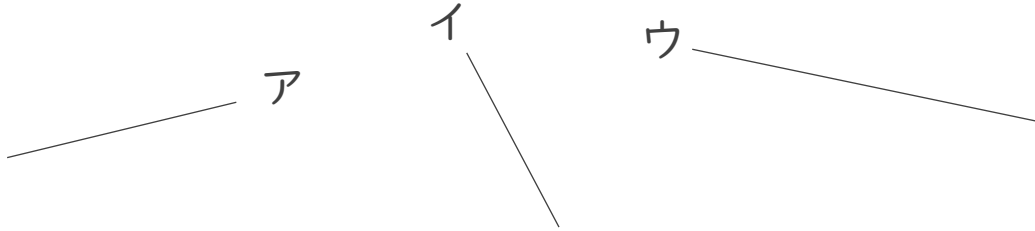
目指せ75点!



名まえ


1 次の直線の長さをくらべ、長いじゆんに答えましょう。(各25点)

①



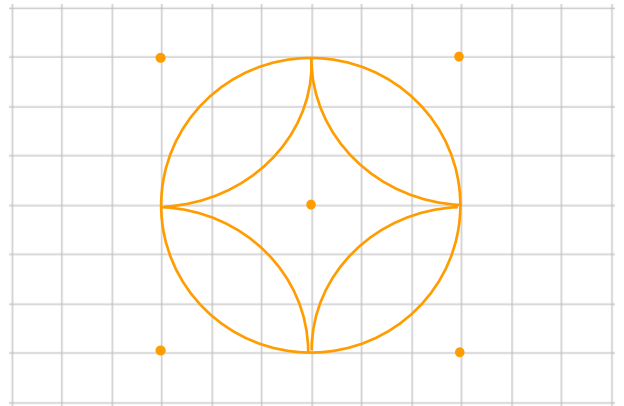
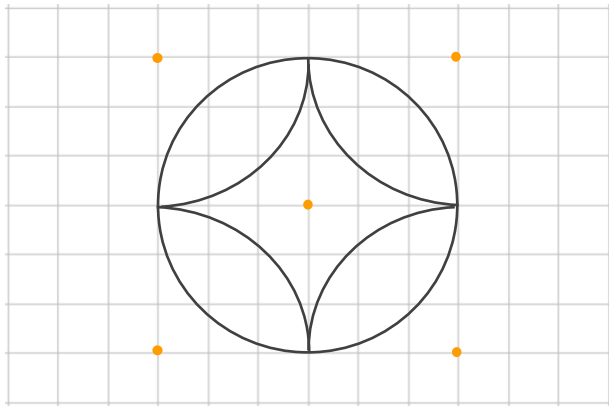
答え： **ウ** → **ア** → **イ**

②



答え： **ア** → **イ** → **ウ**

2 コンパスを使って、次のもようをかきましょう。(50点)



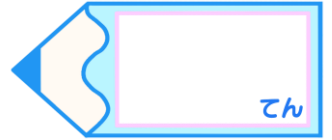


円と球 7

コンパスで長さ比べ

16

目指せ75点!



名まえ

1 次の直線の長さをくらべ、長いじゆんに答えましょう。(各25点)

①

ア

イ

ウ

答え： イ → ウ → ア

②

ア

イ

ウ

答え： ウ → イ → ア

2 コンパスを使って、次のもようをかきましょう。(50点)

