



分数 2

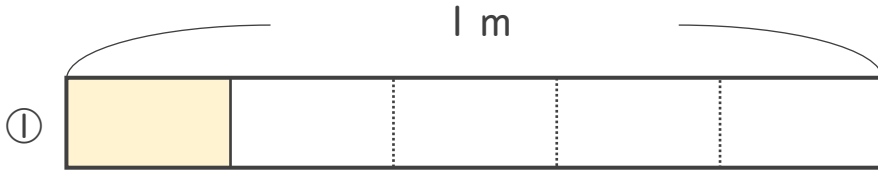
● 分数の長さの読み取り



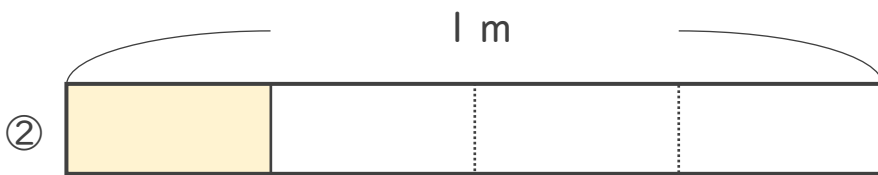
日にち： 月 日

名まえ _____

いろ なが なん
・ 色をぬったところの長さは、何mでしょう。



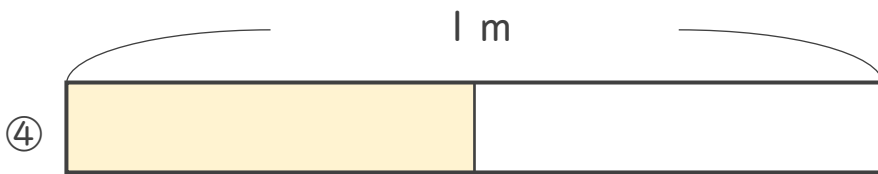
こたえ： $\frac{1}{5}$ m



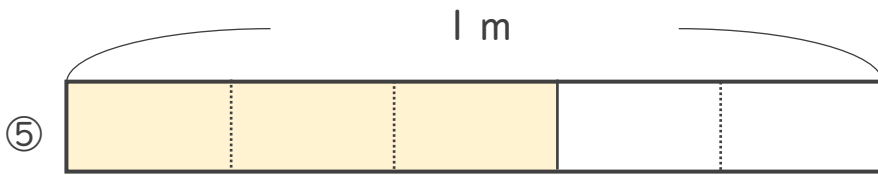
こたえ： $\frac{1}{4}$ m




こたえ： $\frac{2}{3}$ m



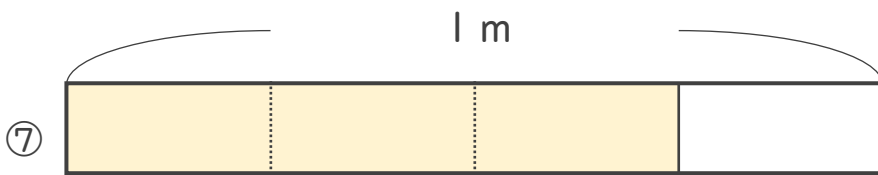
こたえ： m



こたえ： m



こたえ： m



こたえ： m





分数 2

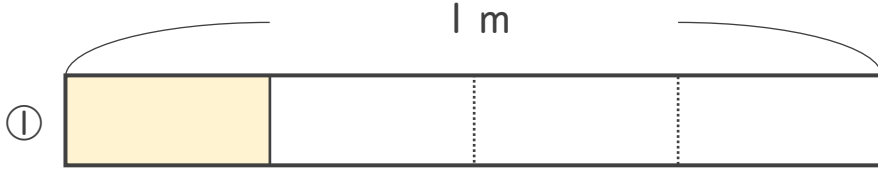
● 分数の長さの読み取り



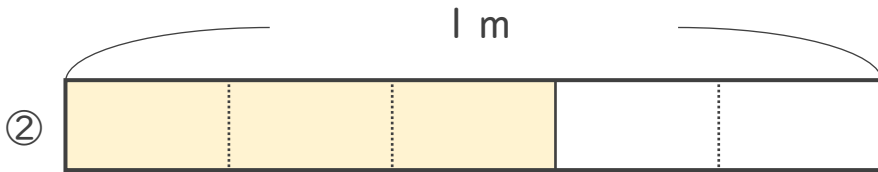
日にち： 月 日

名まえ _____

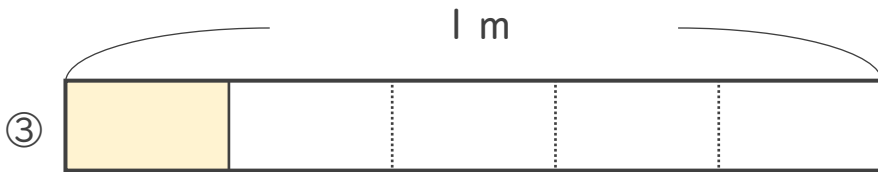
いろをぬったところのながは、なんmでしょう。



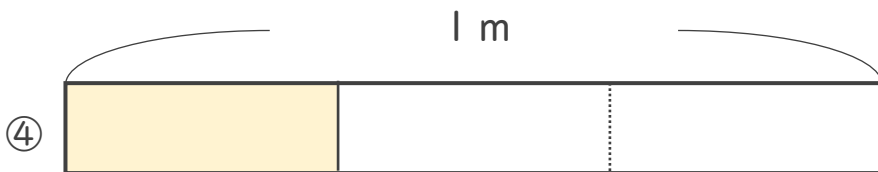
こたえ： $\frac{1}{4}$ m




こたえ： $\frac{3}{5}$ m



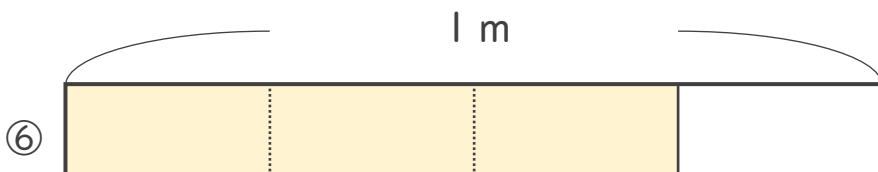
こたえ： _____ m



こたえ： _____ m



こたえ： _____ m



こたえ： _____ m



こたえ： _____ m





分数 2

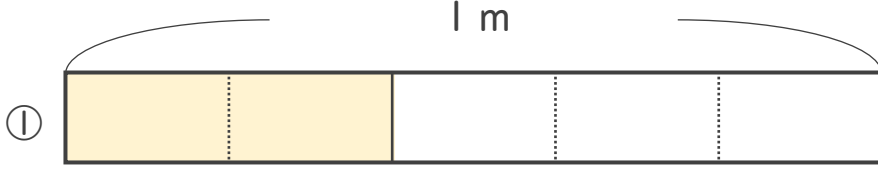
● 分数の長さの読み取り



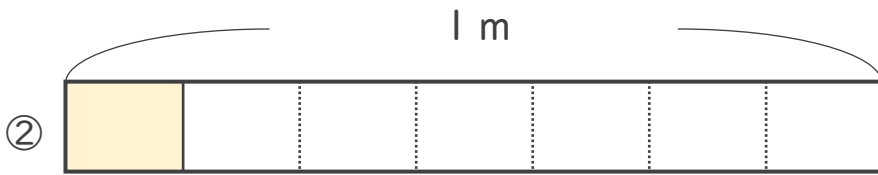
日にち： 月 日

名まえ _____


いろ なが なん
・ 色をぬったところの長さは、何mでしょう。



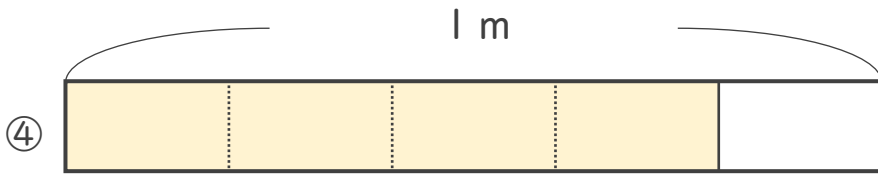
こたえ： $\frac{2}{5}$ m



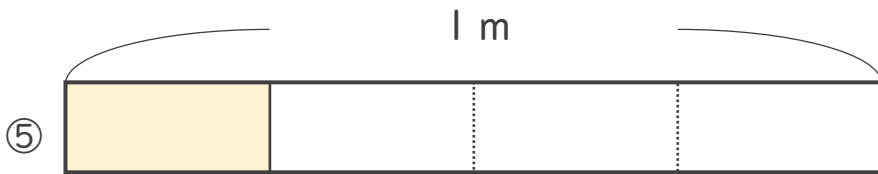
こたえ： _____ m



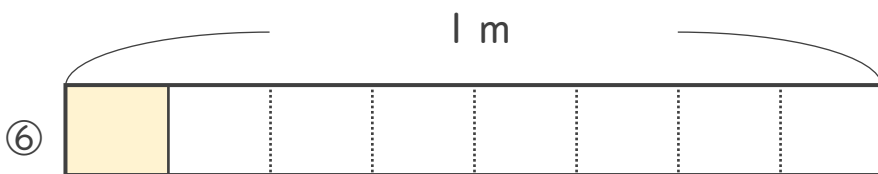
こたえ： _____ m



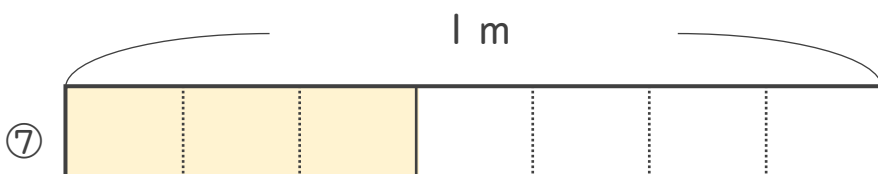
こたえ： _____ m



こたえ： _____ m



こたえ： _____ m



こたえ： _____ m





分数 2

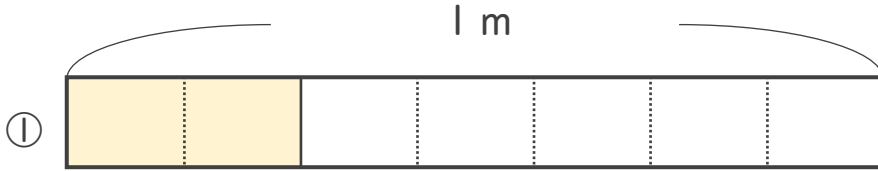
● 分数の長さの読み取り



日にち： 月 日

名まえ _____

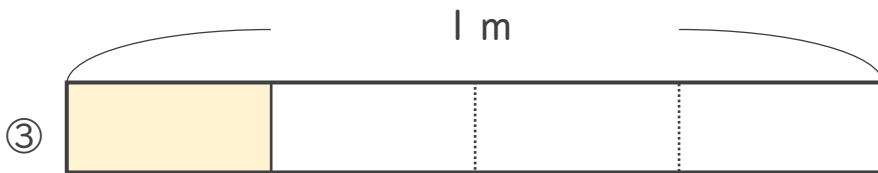
いろ
・色をぬったところのながさは、何mでしょう。
なが
なん



こたえ： _____ m




こたえ： _____ m



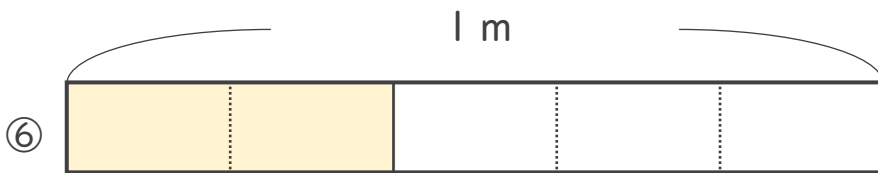
こたえ： _____ m



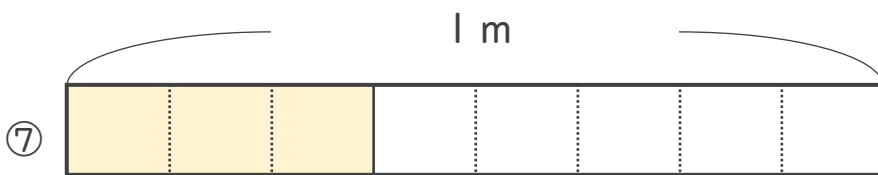
こたえ： _____ m



こたえ： _____ m



こたえ： _____ m



こたえ： _____ m





分数 2

● 分数の長さの読み取り



日にち： 月 日

名まえ _____

・ 色をぬったところの長さは、何mでしょう。

① 1 m 答え： _____ m

② 1 m 答え： _____ m

③ 1 m 答え： _____ m

④ 1 m 答え： _____ m

⑤ 1 m 答え： _____ m

⑥ 1 m 答え： _____ m

⑦ 1 m 答え： _____ m





分数 2

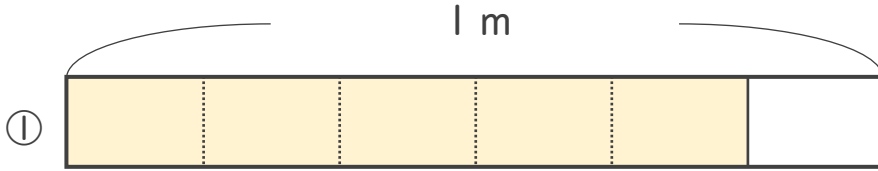
○ 分数の長さの読み取り



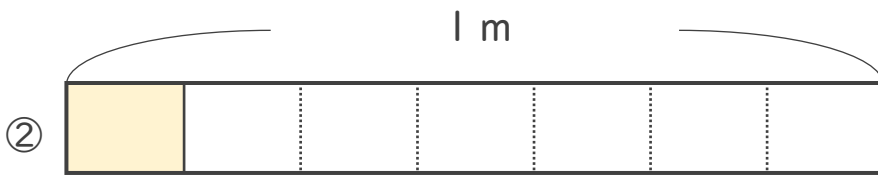
日にち： 月 日

名まえ _____

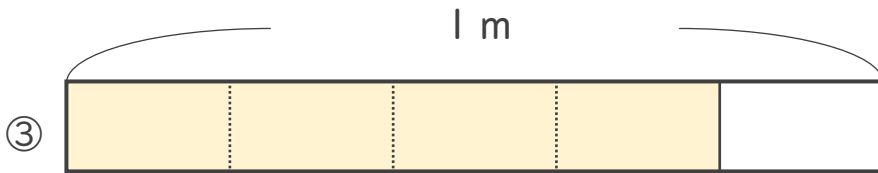
いろ
・色をぬったところのながさは、何mでしょう。
なが なん



こたえ： _____ m




こたえ： _____ m



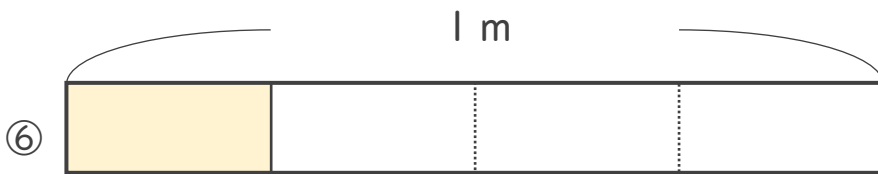
こたえ： _____ m



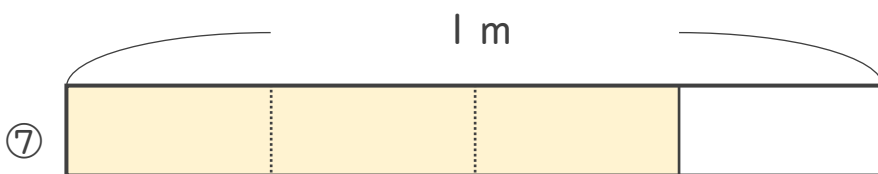
こたえ： _____ m



こたえ： _____ m



こたえ： _____ m



こたえ： _____ m





分数 2

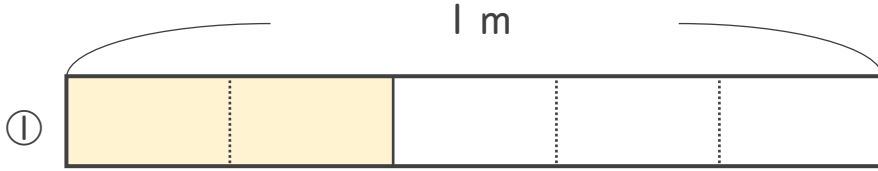
● 分数の長さの読み取り



日にち： 月 日

名まえ _____

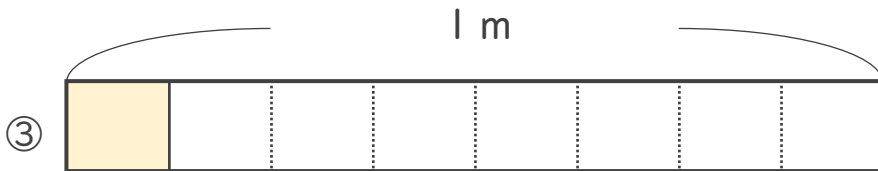
いろ
・色をぬったところのながさは、何mでしょう。



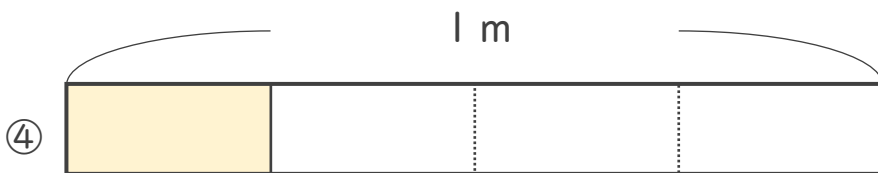
こたえ： _____ m



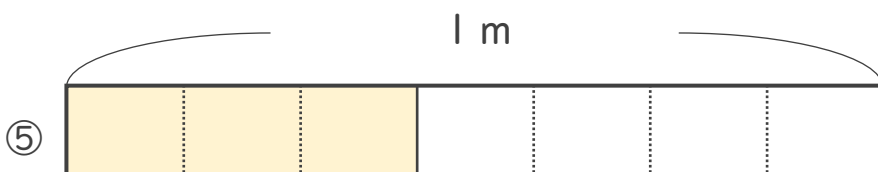
こたえ： _____ m



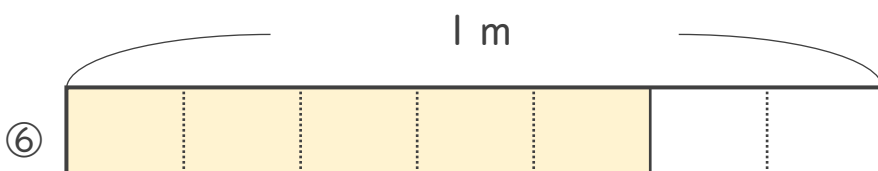
こたえ： _____ m



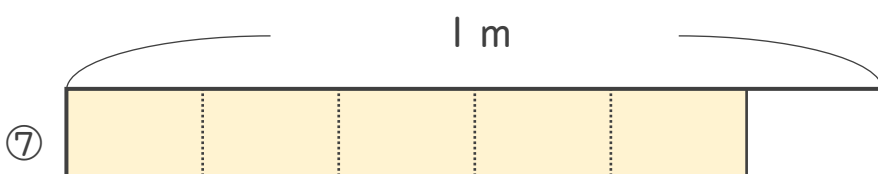
こたえ： _____ m



こたえ： _____ m



こたえ： _____ m



こたえ： _____ m





分数 2

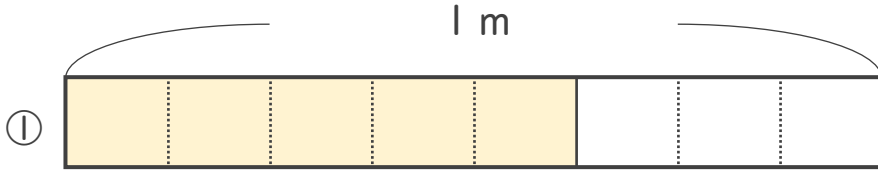
● 分数の長さの読み取り



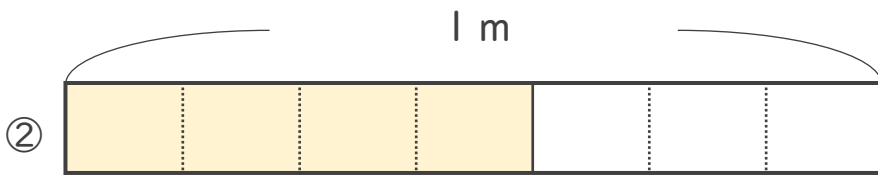
日にち： 月 日

名まえ _____

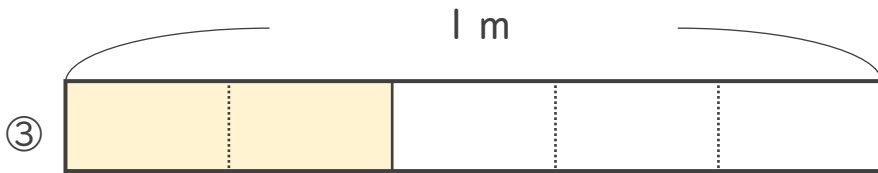
いろ
・色をぬったところのながさは、何mでしょう。
なが
なん



こたえ： _____ m



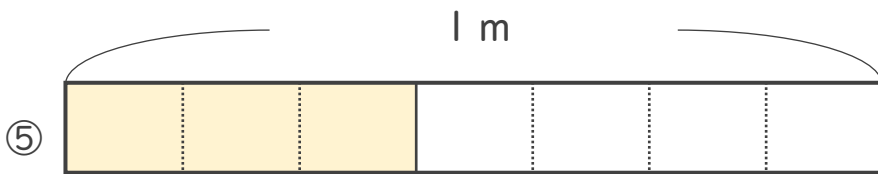
こたえ： _____ m



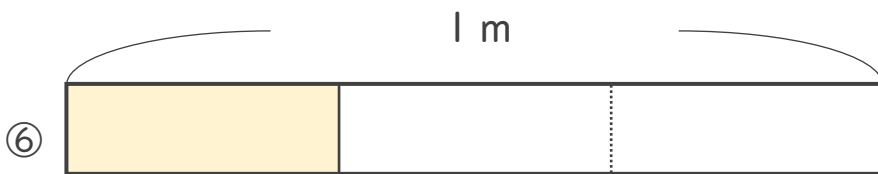
こたえ： _____ m



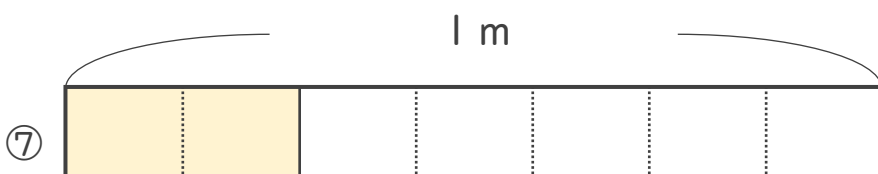
こたえ： _____ m



こたえ： _____ m



こたえ： _____ m



こたえ： _____ m





分数 2

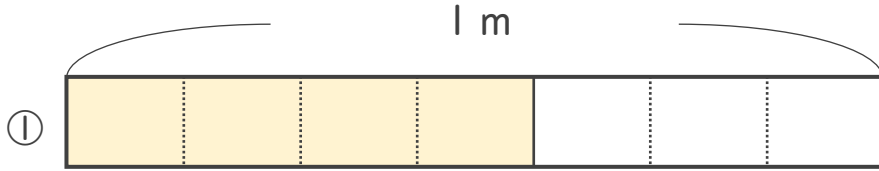
● 分数の長さの読み取り



日にち： 月 日

名まえ _____

いろ
・色をぬったところのながさは、何mでしょう。
なが
なん



こたえ： _____ m



こたえ： _____ m




こたえ： _____ m



こたえ： _____ m



こたえ： _____ m



こたえ： _____ m



こたえ： _____ m





分数 2

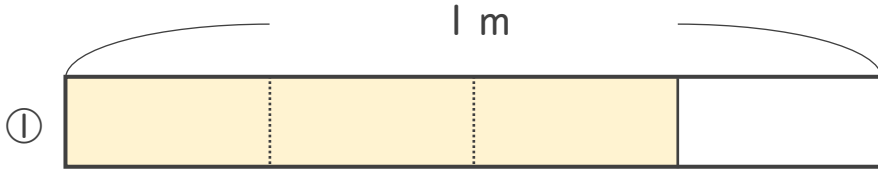
● 分数の長さの読み取り



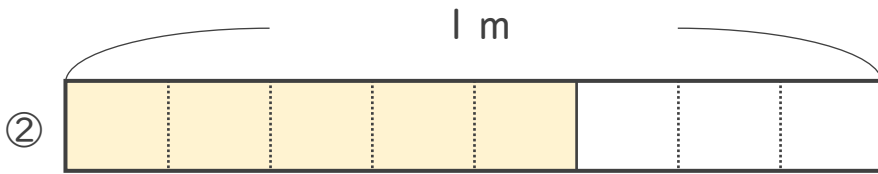
日にち： 月 日

名まえ _____

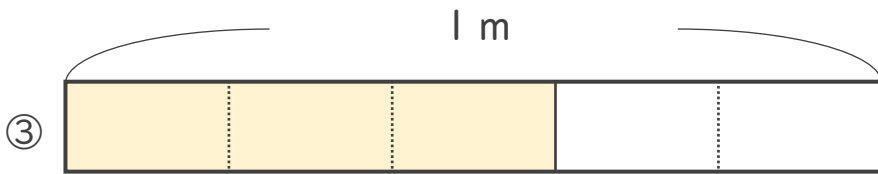
・ 色をぬったところの長さは、何mでしょう。



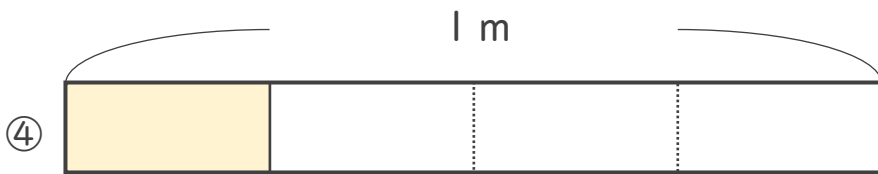
こたえ： _____ m



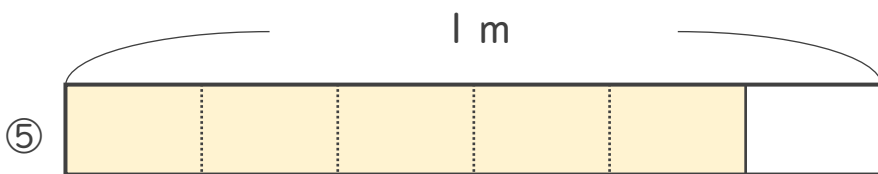
こたえ： _____ m



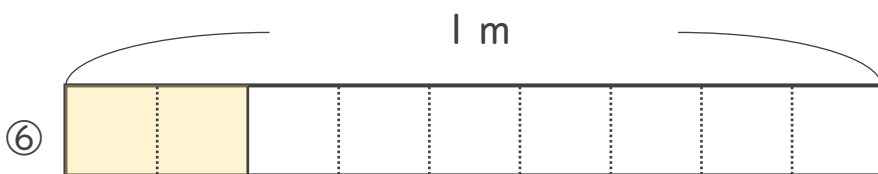
こたえ： _____ m



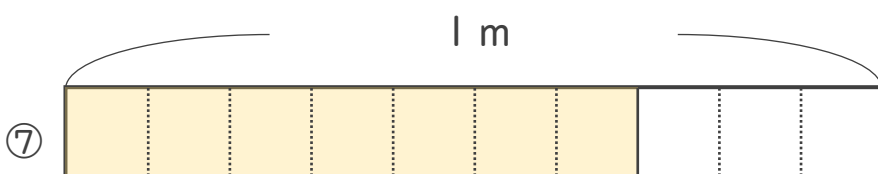
こたえ： _____ m



こたえ： _____ m



こたえ： _____ m



こたえ： _____ m





分数 2

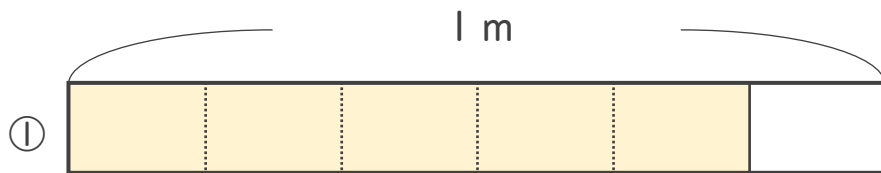
● 分数の長さの読み取り



日にち： 月 日

名まえ _____

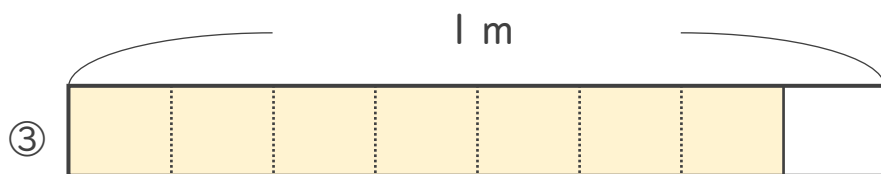
いろ なが なん
 ・ 色をぬったところの長さは、何mでしょう。



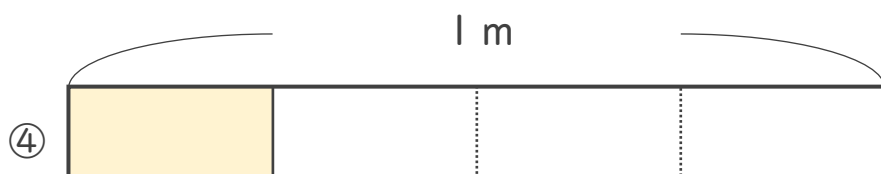
こたえ： _____ m



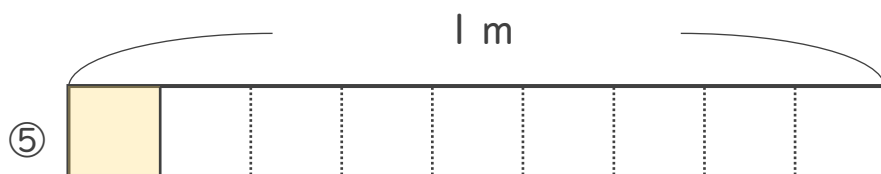
こたえ： _____ m




こたえ： _____ m



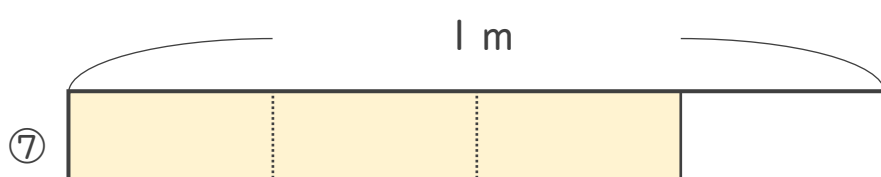
こたえ： _____ m



こたえ： _____ m



こたえ： _____ m



こたえ： _____ m





分数 2

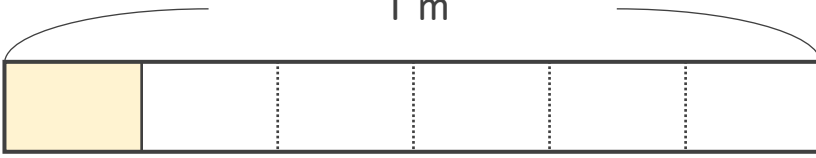
分数の長さの読み取り




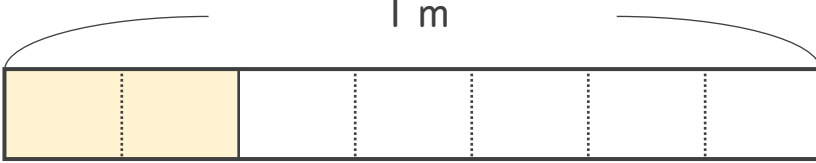
日にち： 月 日


名まえ _____

いろ
・色をぬったところのながさは、何mでしょう。なん

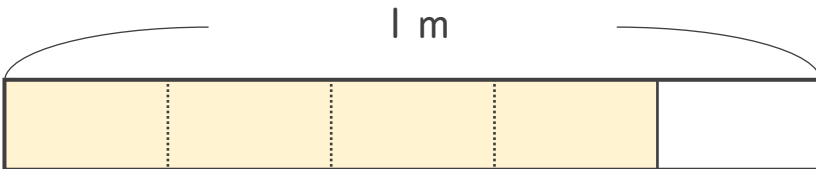
①  こたえ： _____ m


②  こたえ： _____ m

③  こたえ： _____ m

④  こたえ： _____ m

⑤  こたえ： _____ m

⑥  こたえ： _____ m

⑦  こたえ： _____ m





分数 2

● 分数の長さの読み取り



日にち： 月 日

名まえ _____

いろ なが なん
・ 色をぬったところの長さは、何mでしょう。

① | m
こたえ： _____ m

② | m
こたえ： _____ m

③ | m
こたえ： _____ m

④ | m
こたえ： _____ m

⑤ | m
こたえ： _____ m

⑥ | m
こたえ： _____ m

⑦ | m
こたえ： _____ m





分数 2

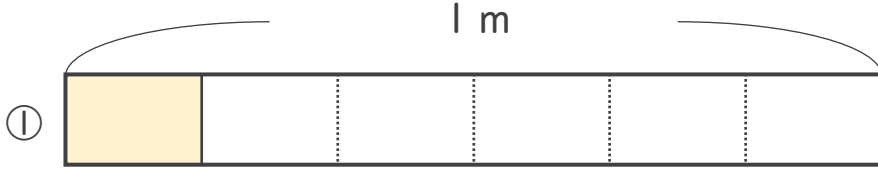
● 分数の長さの読み取り



日にち： 月 日

名まえ _____

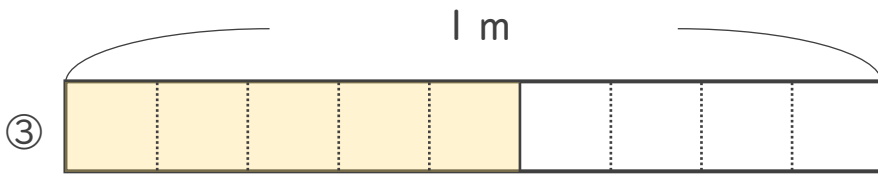
・ 色をぬったところの長さは、何mでしょう。




こたえ： _____ m



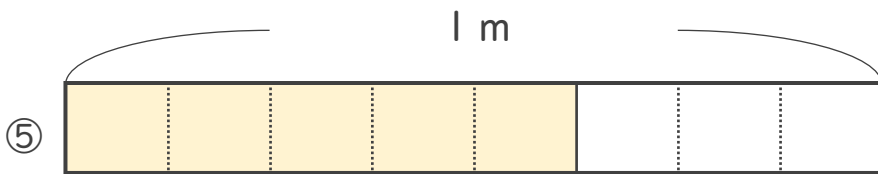
こたえ： _____ m



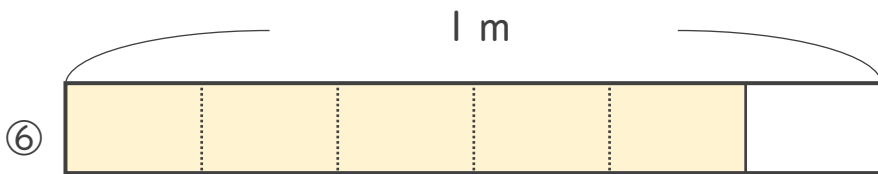
こたえ： _____ m



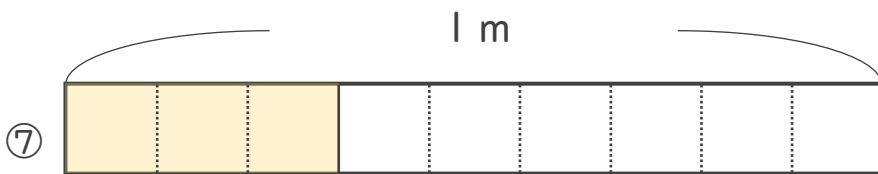
こたえ： _____ m



こたえ： _____ m



こたえ： _____ m



こたえ： _____ m





分数 2

● 分数の長さの読み取り

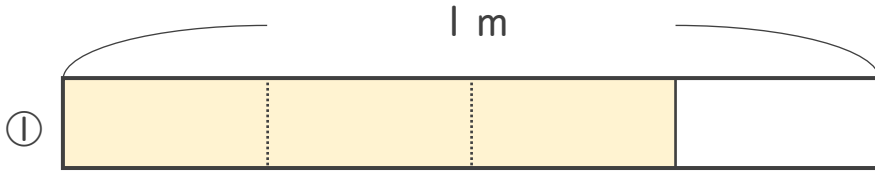
15

めざせ80点!

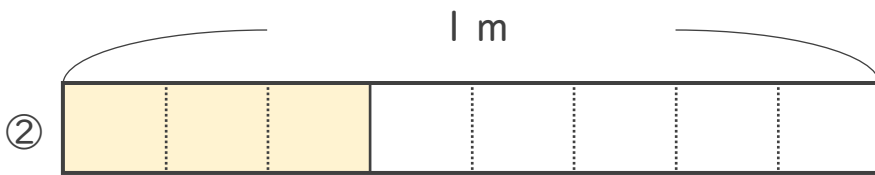


名まえ _____

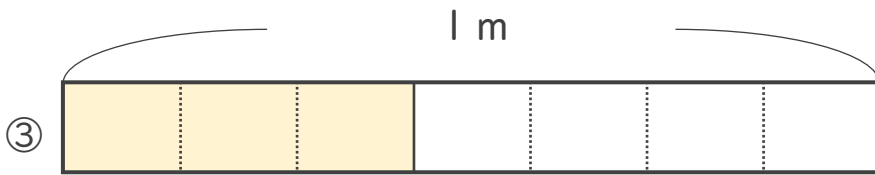
・ 色をぬったところの長さは、何^{いろ}mでしよう。^{なが} (各^{なん}20点)



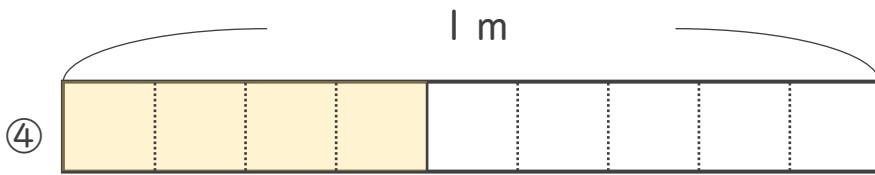
こたえ： _____ m



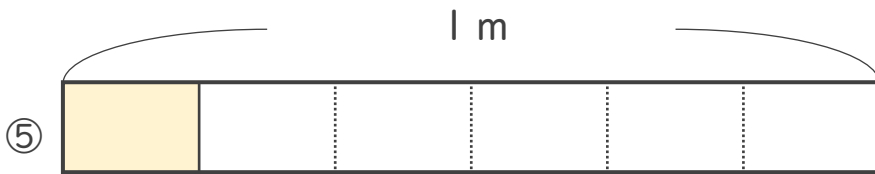
こたえ： _____ m



こたえ： _____ m



こたえ： _____ m



こたえ： _____ m



分数 2

● 分数の長さの読み取り

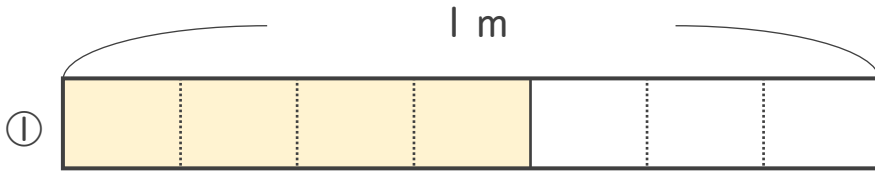
16

めざせ80点!



名まえ _____

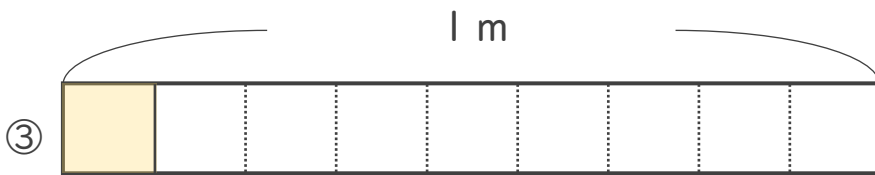
・ 色をぬったところの長さは、何^{いろ}mでしよう。^{なが} (各^{なん}20点)



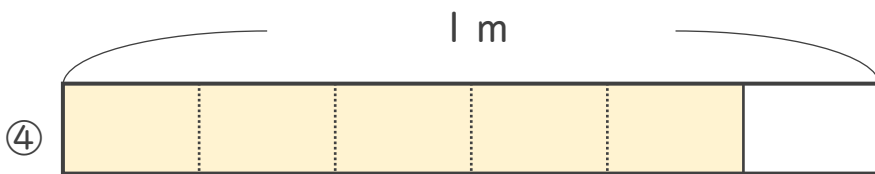
こたえ： _____ m



こたえ： _____ m



こたえ： _____ m



こたえ： _____ m



こたえ： _____ m





分数 2

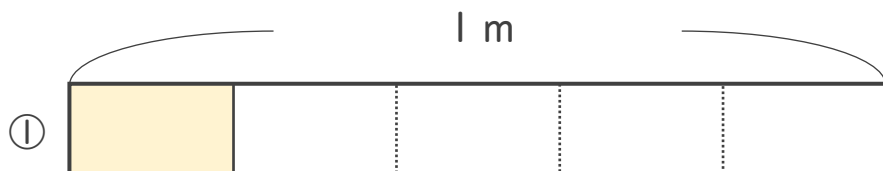
● 分数の長さの読み取り



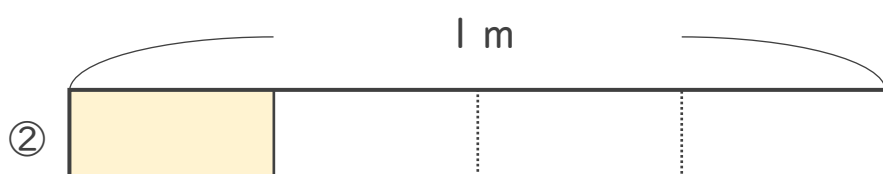
日にち： 月 日

名まえ _____


いろ
・色をぬったところのながさは、何mでしょう。
なが
なん



こたえ： $\frac{1}{5}$ m



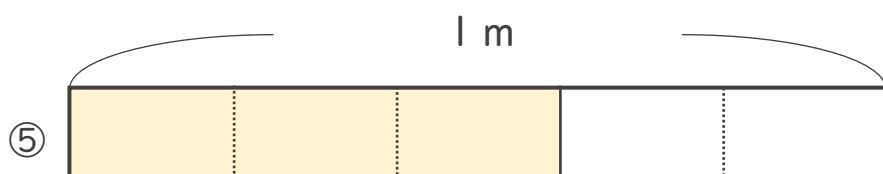
こたえ： $\frac{1}{4}$ m



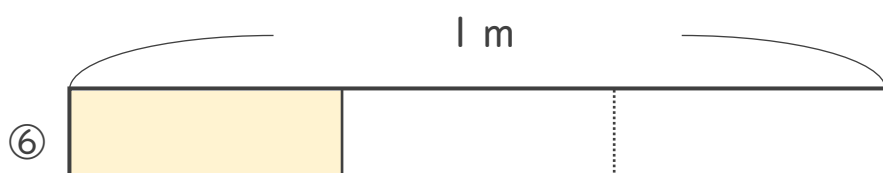
こたえ： $\frac{2}{3}$ m



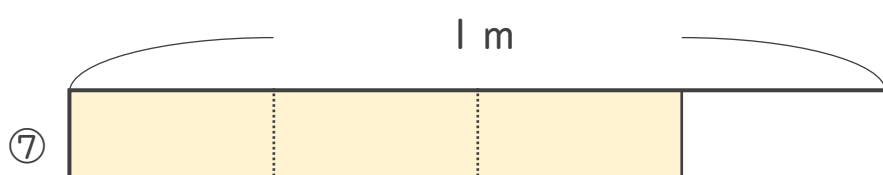
こたえ： $\frac{1}{2}$ m



こたえ： $\frac{3}{5}$ m



こたえ： $\frac{1}{3}$ m



こたえ： $\frac{3}{4}$ m





分数 2

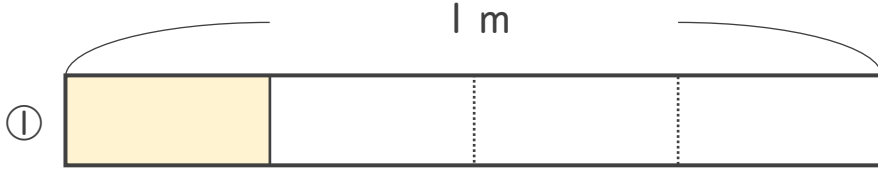
○ 分数の長さの読み取り



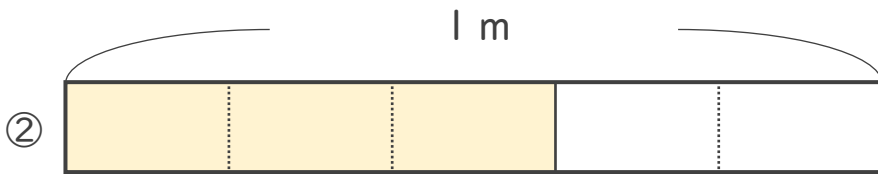
日にち： 月 日

名まえ _____

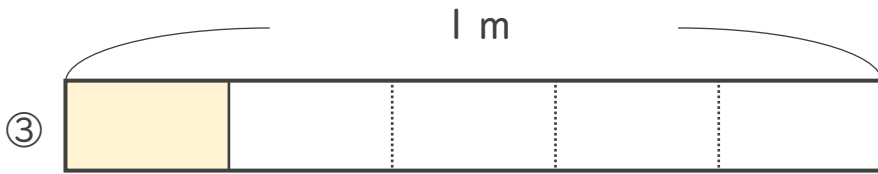
いろ ^なをぬったところの長さ ^は、何 ^{なん}m でしょう。




こたえ： $\frac{1}{4}$ m



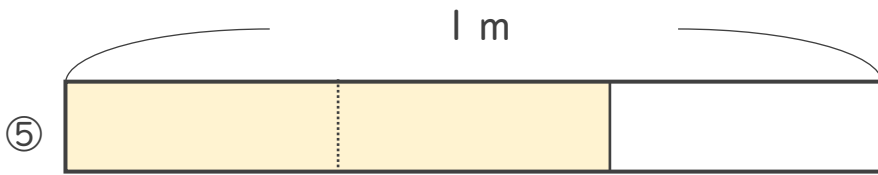
こたえ： $\frac{3}{5}$ m



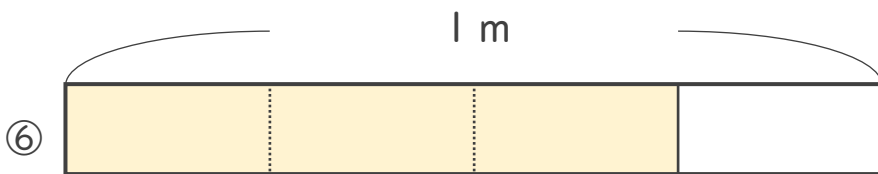
こたえ： $\frac{1}{5}$ m



こたえ： $\frac{1}{3}$ m



こたえ： $\frac{2}{3}$ m



こたえ： $\frac{3}{4}$ m



こたえ： $\frac{1}{2}$ m





分数 2

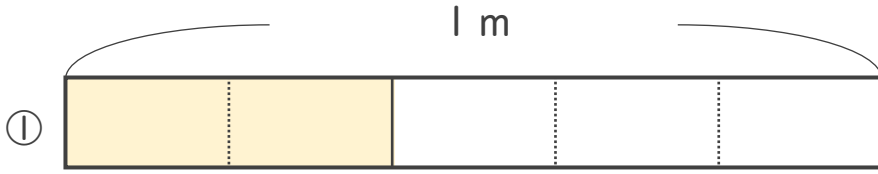
● 分数の長さの読み取り



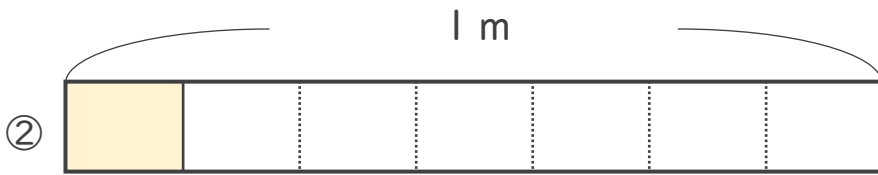
日にち： 月 日

名まえ _____


いろ
・色をぬったところのながさは、何mでしょう。



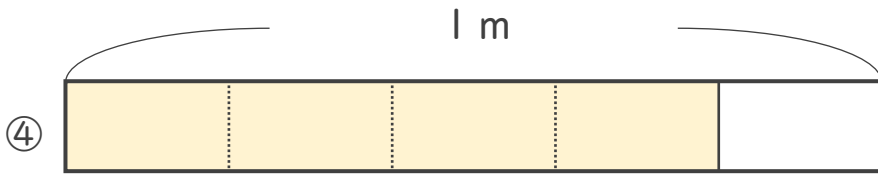
こたえ： $\frac{2}{5}$ m



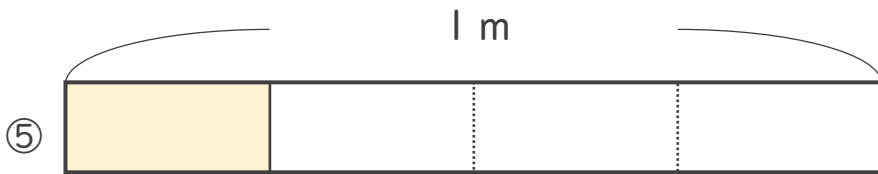
こたえ： $\frac{1}{7}$ m



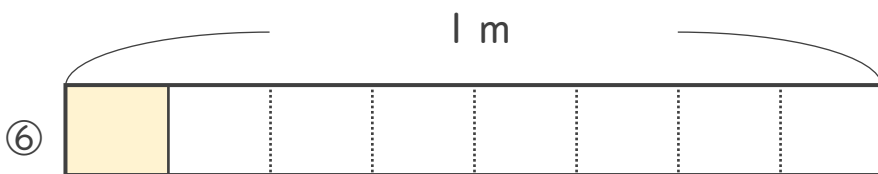
こたえ： $\frac{2}{3}$ m



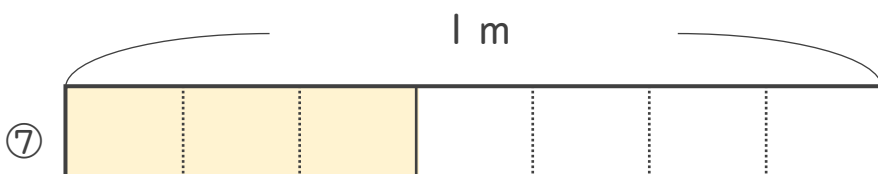
こたえ： $\frac{4}{5}$ m



こたえ： $\frac{1}{4}$ m



こたえ： $\frac{1}{8}$ m



こたえ： $\frac{3}{7}$ m





分数 2

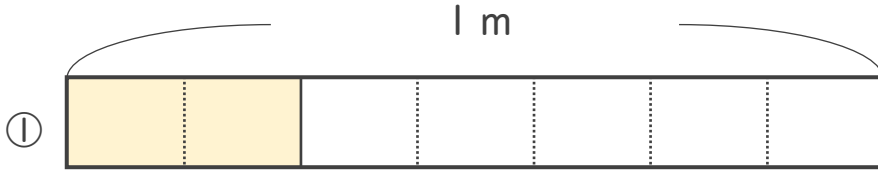
● 分数の長さの読み取り



日にち： 月 日

名まえ _____

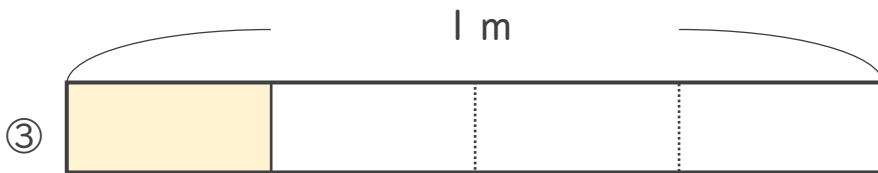
いろ
・色をぬったところのながさは、何mでしょう。



こたえ： $\frac{2}{7}$ m




こたえ： $\frac{7}{8}$ m



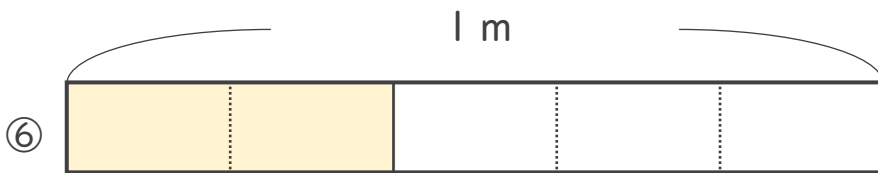
こたえ： $\frac{1}{4}$ m



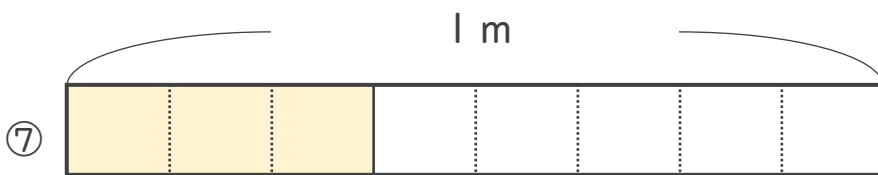
こたえ： $\frac{4}{7}$ m



こたえ： $\frac{1}{3}$ m



こたえ： $\frac{2}{5}$ m



こたえ： $\frac{3}{8}$ m





分数 2

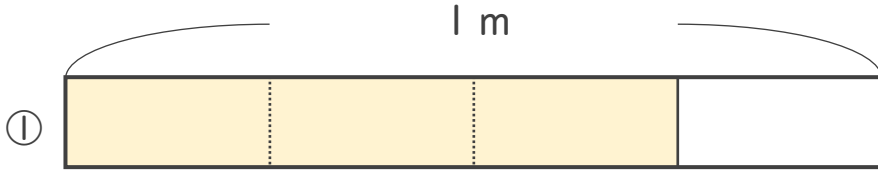
● 分数の長さの読み取り



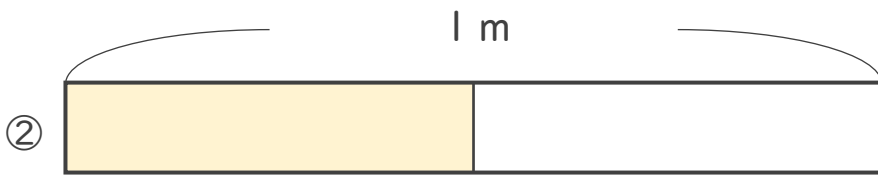
日にち： 月 日

名まえ _____

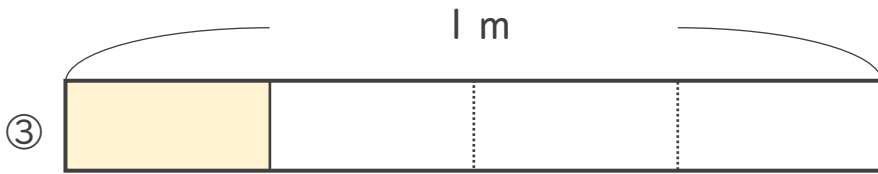
いろ なが なん
・色をぬったところの長さは、何mでしょう。



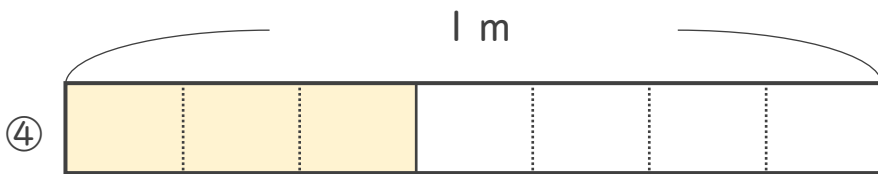
こたえ： $\frac{3}{4}$ m



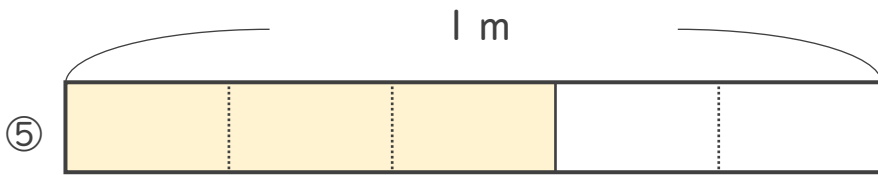
こたえ： $\frac{1}{2}$ m




こたえ： $\frac{1}{4}$ m



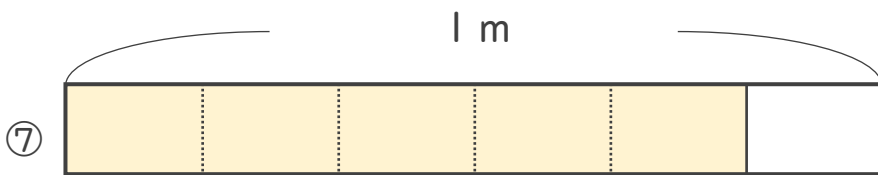
こたえ： $\frac{3}{7}$ m



こたえ： $\frac{3}{5}$ m



こたえ： $\frac{2}{3}$ m



こたえ： $\frac{5}{6}$ m





分数 2

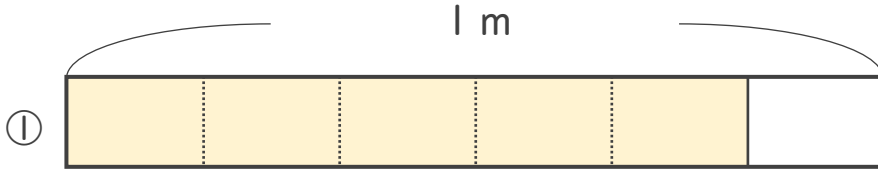
● 分数の長さの読み取り



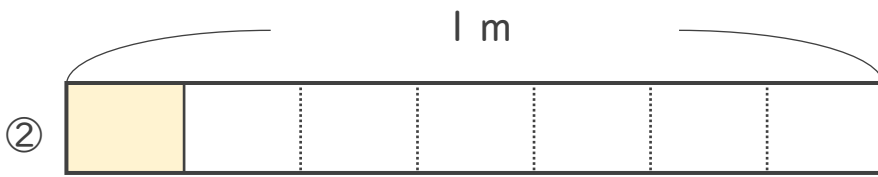
日にち： 月 日

名まえ _____

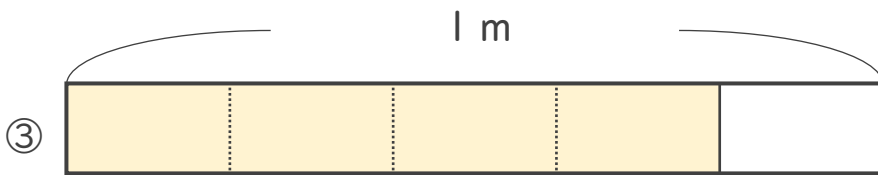
いろ
・色をぬったところのながさは、何mでしょう。



こたえ： $\frac{5}{6}$ m




こたえ： $\frac{1}{7}$ m



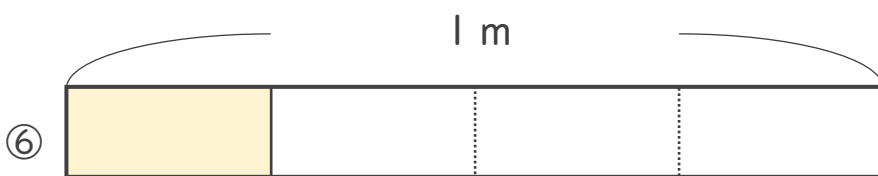
こたえ： $\frac{4}{5}$ m



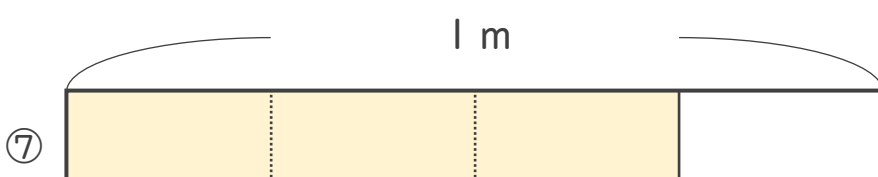
こたえ： $\frac{1}{2}$ m



こたえ： $\frac{2}{3}$ m



こたえ： $\frac{1}{4}$ m



こたえ： $\frac{3}{4}$ m





分数 2

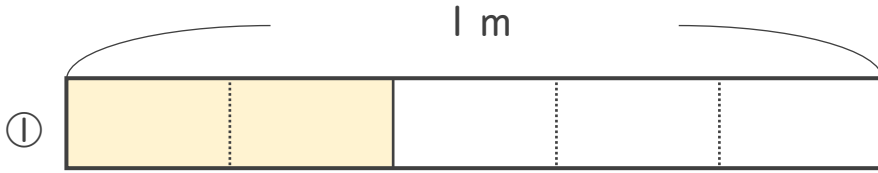
● 分数の長さの読み取り



日にち： 月 日

名まえ _____


いろ
・色をぬったところのなが
なが
なん
は、何mでしょう。



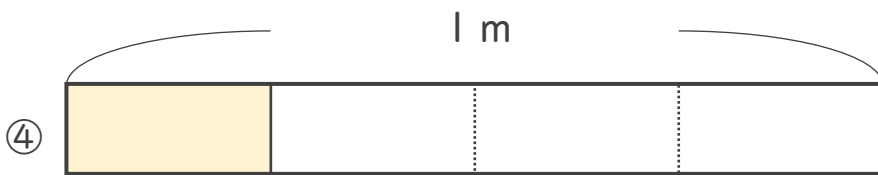
こたえ： $\frac{2}{5}$ m



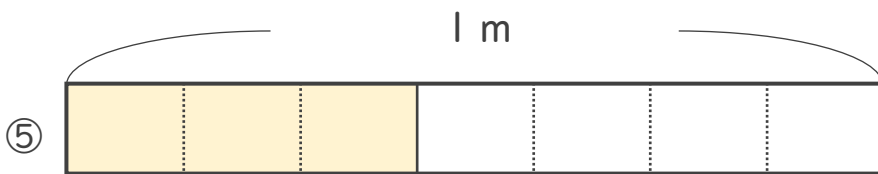
こたえ： $\frac{3}{5}$ m



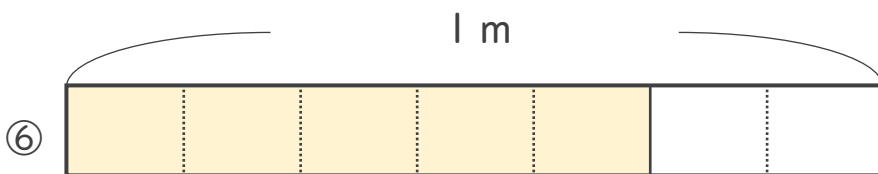
こたえ： $\frac{1}{8}$ m



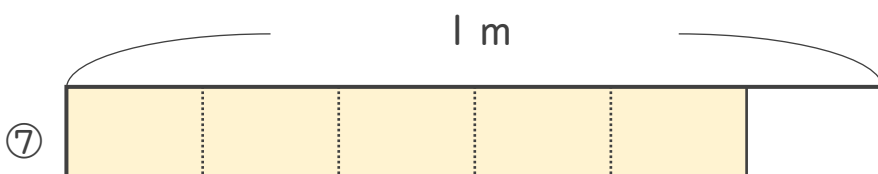
こたえ： $\frac{1}{4}$ m



こたえ： $\frac{3}{7}$ m



こたえ： $\frac{5}{7}$ m



こたえ： $\frac{5}{6}$ m





分数 2

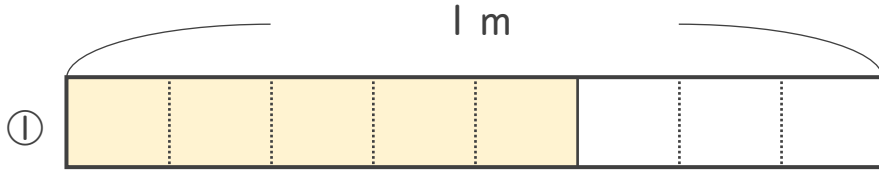
● 分数の長さの読み取り



日にち： 月 日

名まえ _____

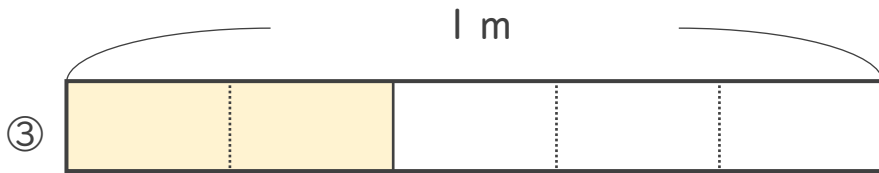
いろ
・色をぬったところのなが
なが
なん
は、何mでしょう。



こたえ： $\frac{5}{8}$ m



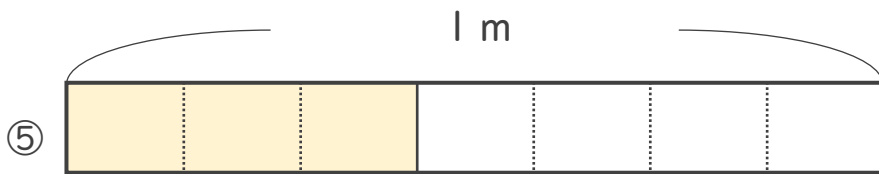
こたえ： $\frac{4}{7}$ m



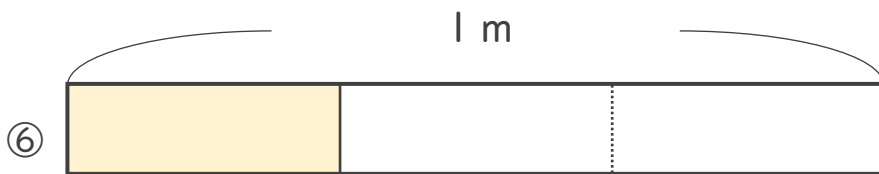
こたえ： $\frac{2}{5}$ m



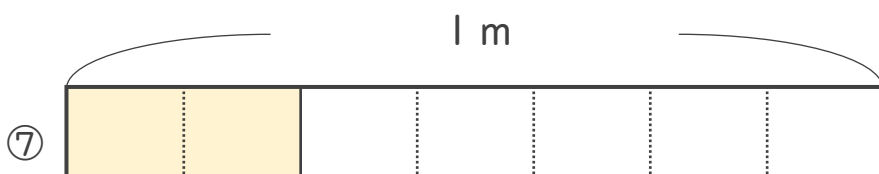
こたえ： $\frac{4}{5}$ m



こたえ： $\frac{3}{7}$ m



こたえ： $\frac{1}{3}$ m



こたえ： $\frac{2}{7}$ m





分数 2

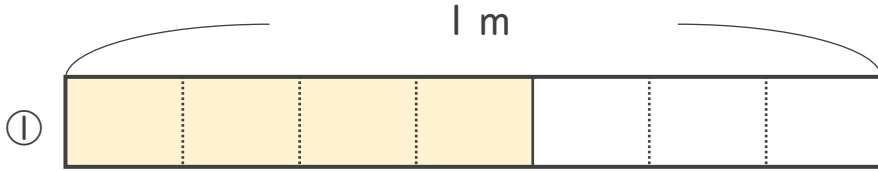
● 分数の長さの読み取り



日にち： 月 日

名まえ _____

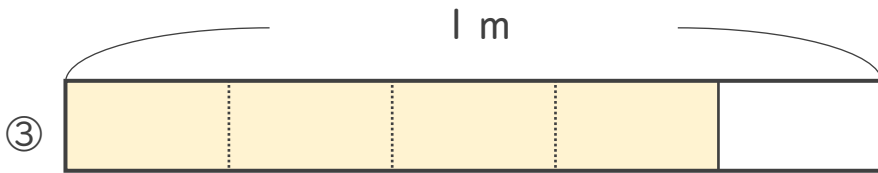
いろ なが なん
・ 色をぬったところの長さは、何mでしょう。



こたえ： $\frac{4}{7}$ m



こたえ： $\frac{1}{2}$ m




こたえ： $\frac{4}{5}$ m



こたえ： $\frac{3}{4}$ m



こたえ： $\frac{1}{9}$ m



こたえ： $\frac{2}{3}$ m



こたえ： $\frac{5}{9}$ m





分数 2

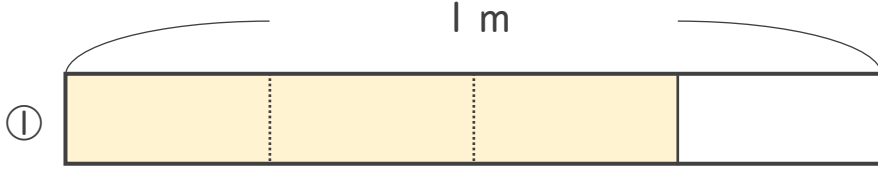
● 分数の長さの読み取り



日にち： 月 日

名まえ _____

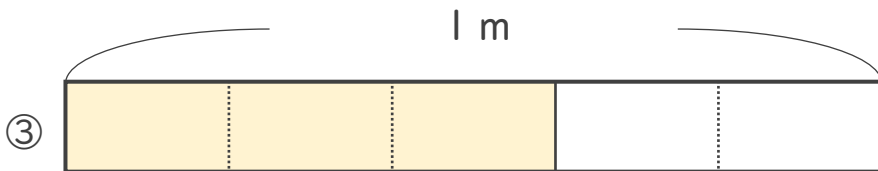
いろ
・色をぬったところのなが
なが なん
は、何mでしょう。



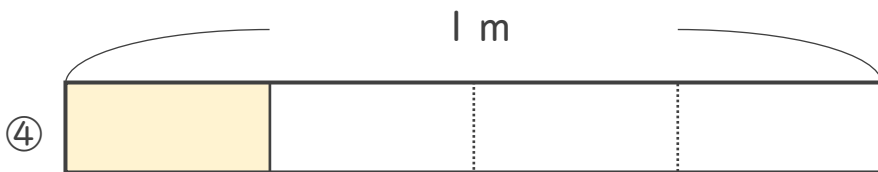
こたえ： $\frac{3}{4}$ m



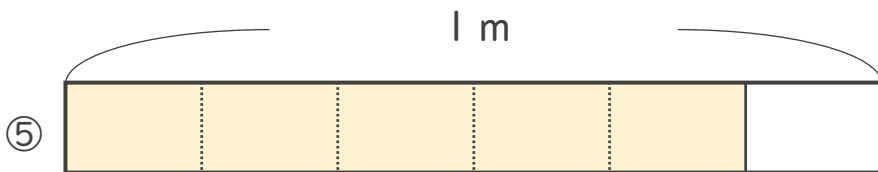
こたえ： $\frac{5}{8}$ m



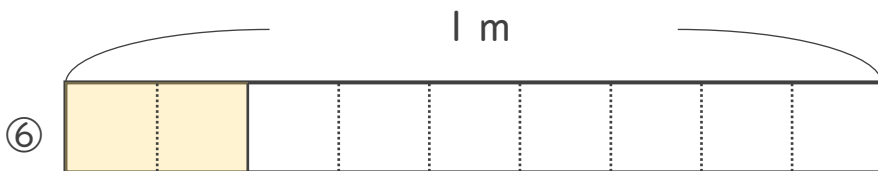
こたえ： $\frac{3}{5}$ m



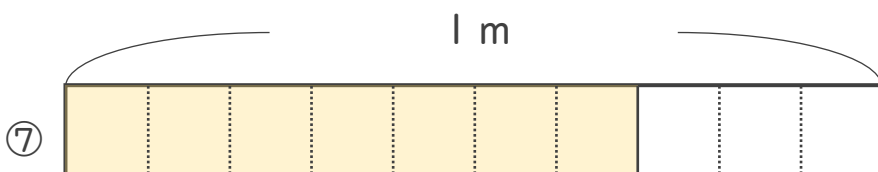
こたえ： $\frac{1}{4}$ m



こたえ： $\frac{5}{6}$ m



こたえ： $\frac{2}{9}$ m



こたえ： $\frac{7}{10}$ m





分数 2

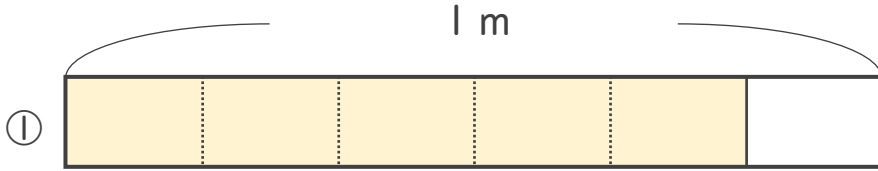
● 分数の長さの読み取り



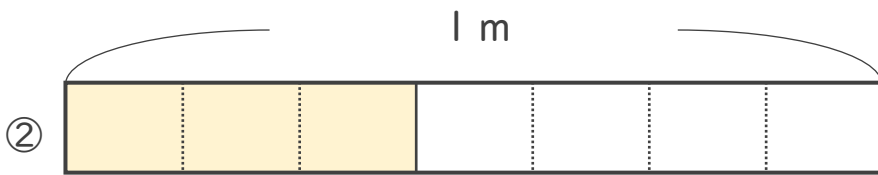
日にち： 月 日

名まえ _____

いろ
・色をぬったところのながさは、何mでしょう。
なが
なん



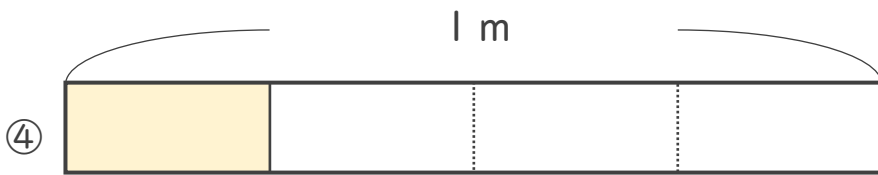
こたえ： $\frac{5}{6}$ m



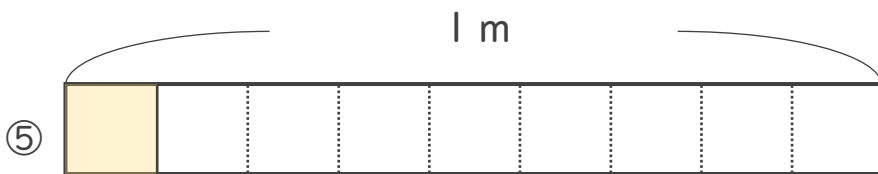
こたえ： $\frac{3}{7}$ m




こたえ： $\frac{7}{8}$ m



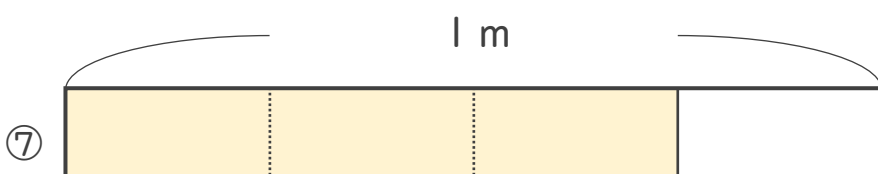
こたえ： $\frac{1}{4}$ m



こたえ： $\frac{1}{9}$ m



こたえ： $\frac{8}{9}$ m



こたえ： $\frac{3}{4}$ m





分数 2

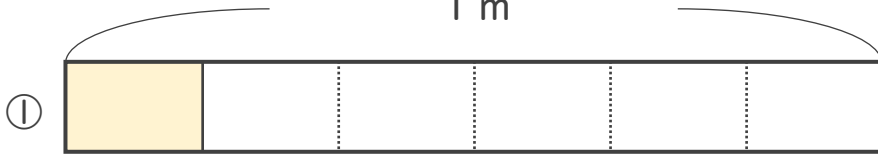
● 分数の長さの読み取り

12

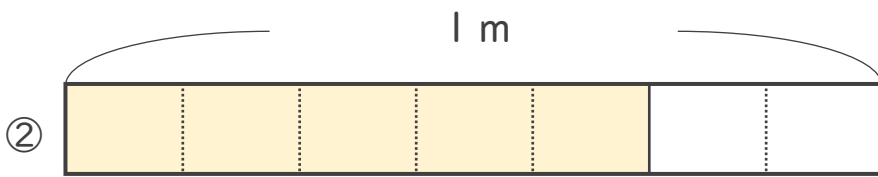
日にち： 月 日

名まえ _____

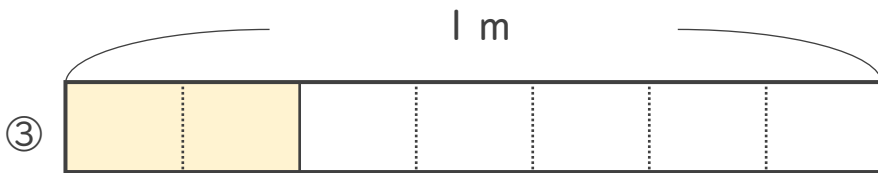
いろ
・色をぬったところのなが
なが
なん
は、何mでしょう。




こたえ： $\frac{1}{6}$ m



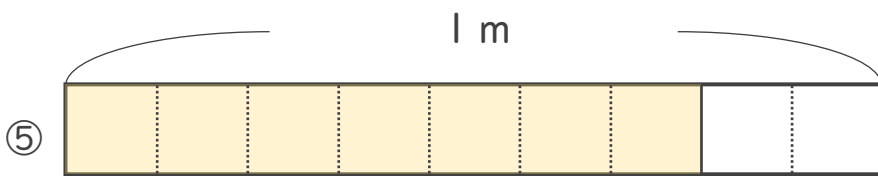
こたえ： $\frac{5}{7}$ m



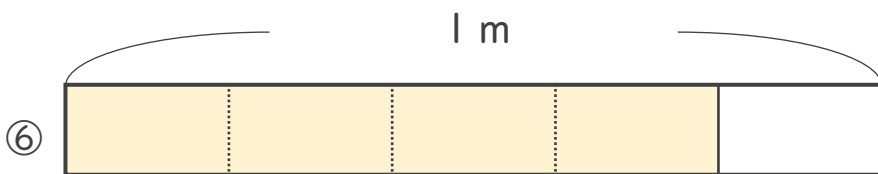
こたえ： $\frac{2}{7}$ m



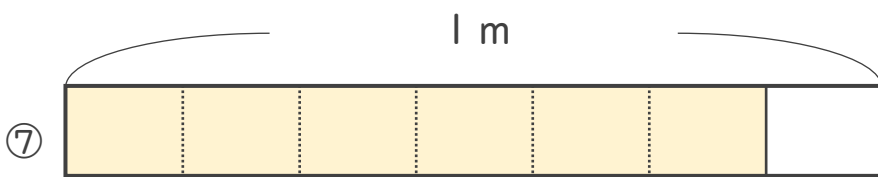
こたえ： $\frac{2}{3}$ m



こたえ： $\frac{7}{9}$ m



こたえ： $\frac{4}{5}$ m



こたえ： $\frac{6}{7}$ m





分数 2

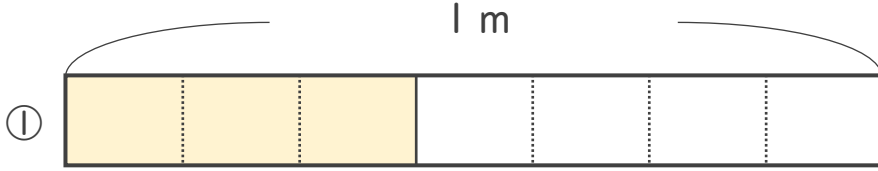
● 分数の長さの読み取り



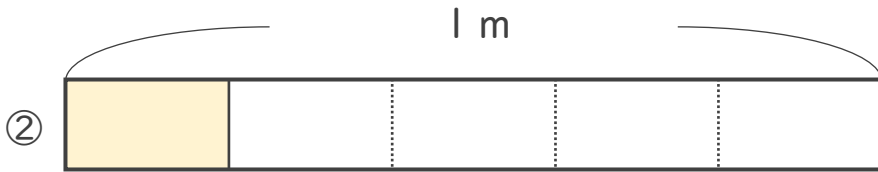
日にち： 月 日

名まえ _____

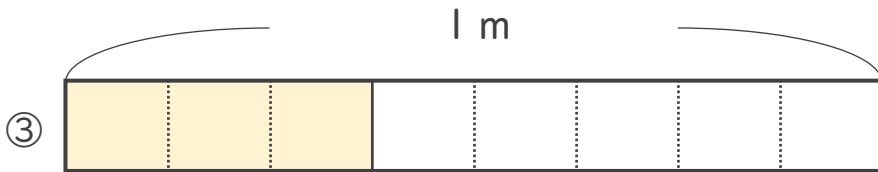
いろ
・色をぬったところのながは、何なんmでしょう。



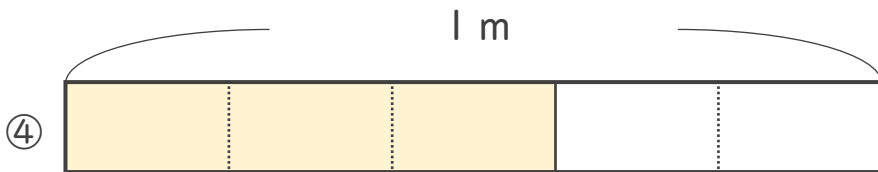
こたえ： $\frac{3}{7}$ m



こたえ： $\frac{1}{5}$ m




こたえ： $\frac{3}{8}$ m



こたえ： $\frac{3}{5}$ m



こたえ： $\frac{1}{2}$ m



こたえ： $\frac{6}{7}$ m



こたえ： $\frac{2}{5}$ m





分数 2

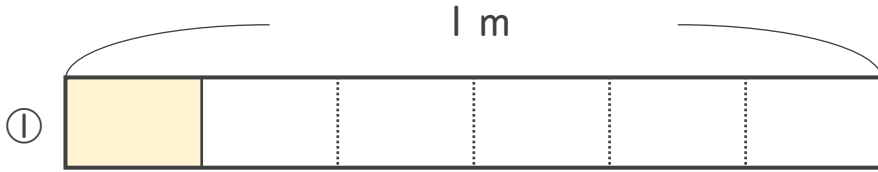
● 分数の長さの読み取り

14

日にち： 月 日

名まえ _____

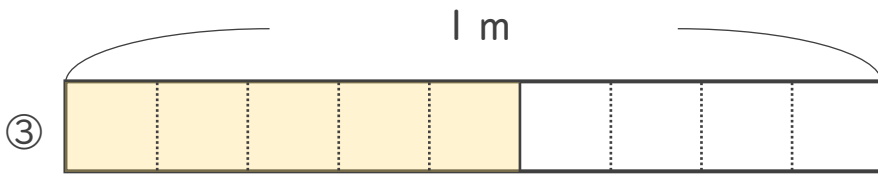
いろ
・色をぬったところのなが
なが
なん
は、何mでしょう。




こたえ： $\frac{1}{6}$ m



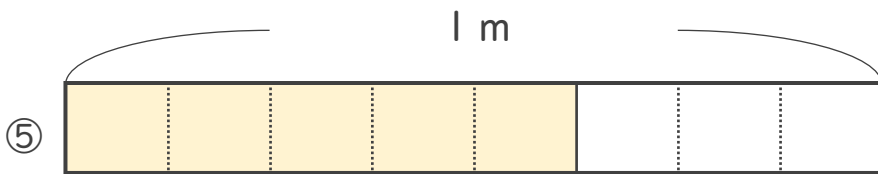
こたえ： $\frac{3}{4}$ m



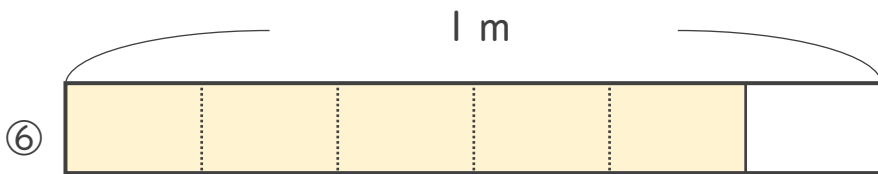
こたえ： $\frac{5}{9}$ m



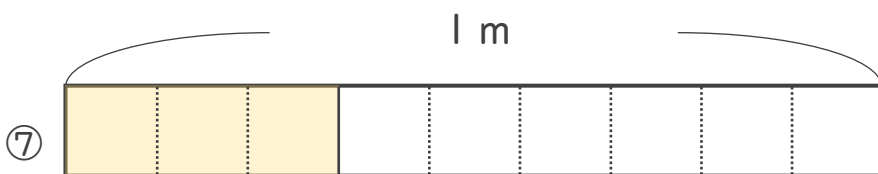
こたえ： $\frac{2}{3}$ m



こたえ： $\frac{5}{8}$ m



こたえ： $\frac{5}{6}$ m



こたえ： $\frac{3}{9}$ m





分数 2

● 分数の長さの読み取り

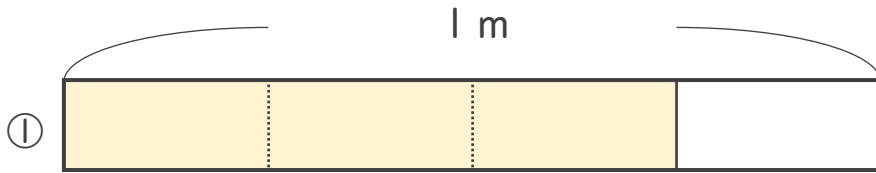
15

めざせ80点!

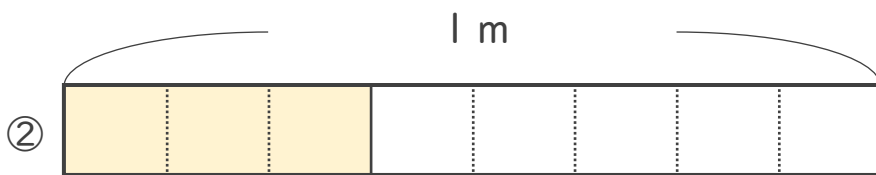


名まえ _____

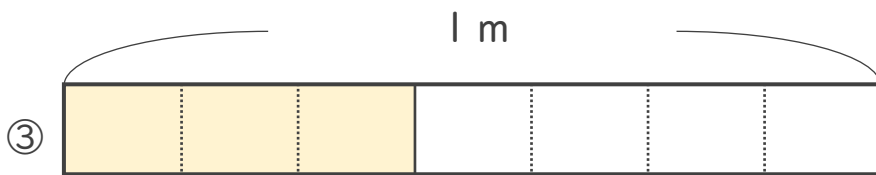
・ 色をぬったところの長さは、何^いmでし^{なが}ょう。 (各^{なん}20点)



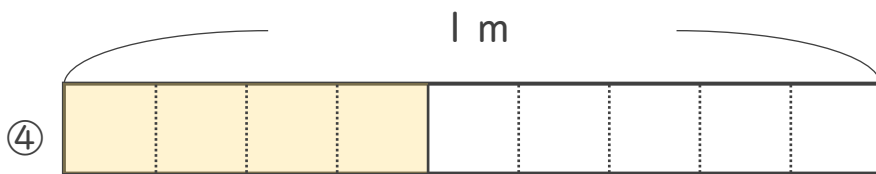
こたえ： $\frac{3}{4}$ m



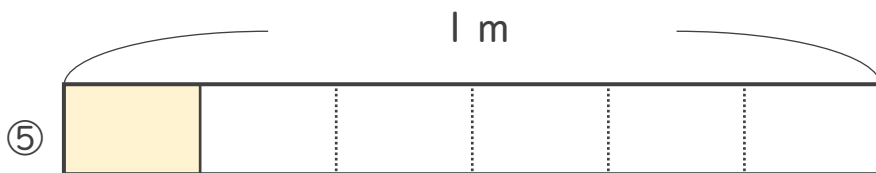
こたえ： $\frac{3}{8}$ m



こたえ： $\frac{3}{7}$ m



こたえ： $\frac{4}{9}$ m



こたえ： $\frac{1}{6}$ m





分数 2

● 分数の長さの読み取り

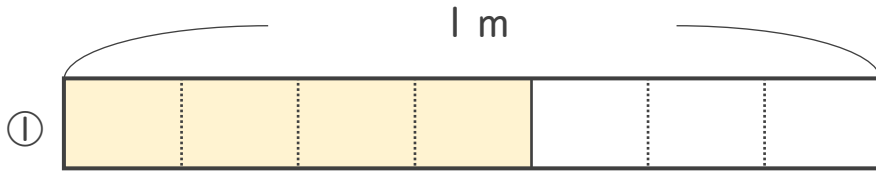
16

めざせ80点!

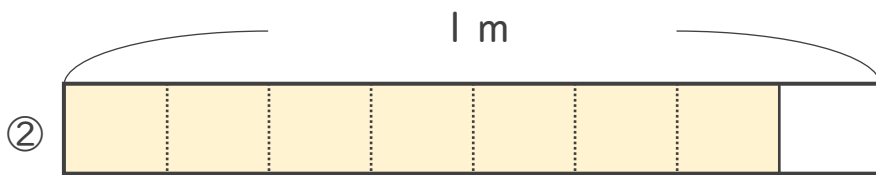


名まえ _____

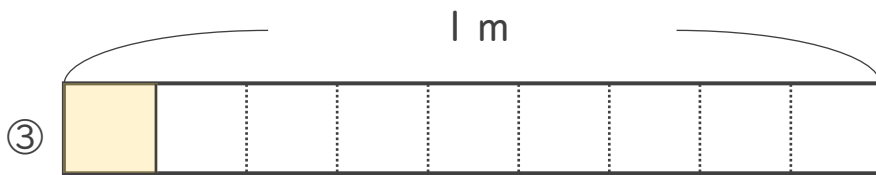
・ 色をぬったところの長さは、何^いmでし^{なが}ょう。^{なん} (各20点)



こたえ： $\frac{4}{7}$ m



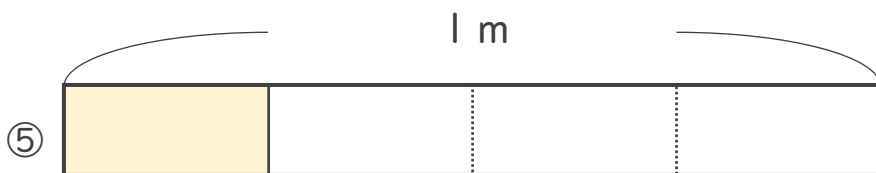
こたえ： $\frac{7}{8}$ m



こたえ： $\frac{1}{9}$ m



こたえ： $\frac{5}{6}$ m



こたえ： $\frac{1}{4}$ m

