



分数 2

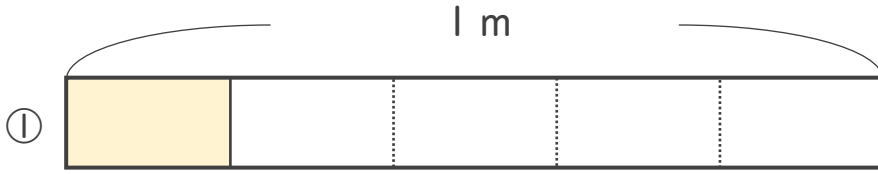
● 分数の長さの読み取り



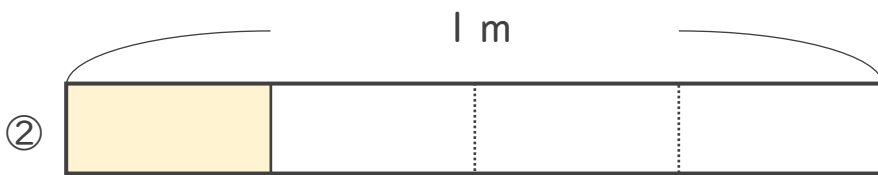
日にち： 月 日

名まえ _____


・ 色をぬったところの長さは、何mでしょう。(うすい字はなぞりましょう。)



こたえ： $\frac{1}{5}$ m



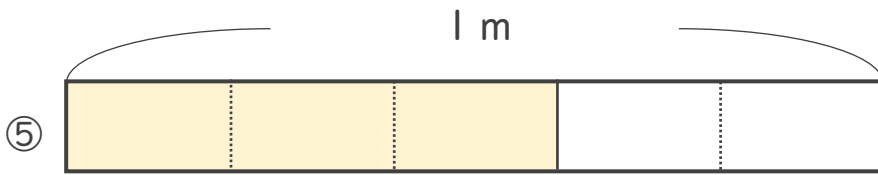
こたえ： $\frac{1}{4}$ m




こたえ： $\frac{2}{3}$ m



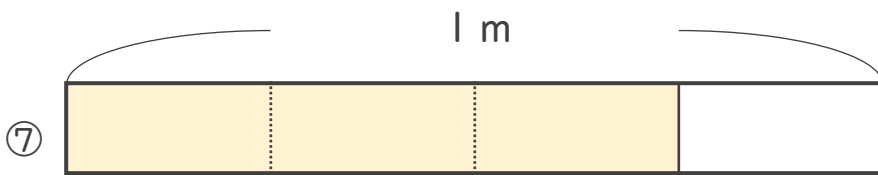
こたえ： _____ m



こたえ： _____ m



こたえ： _____ m



こたえ： _____ m





分数 2

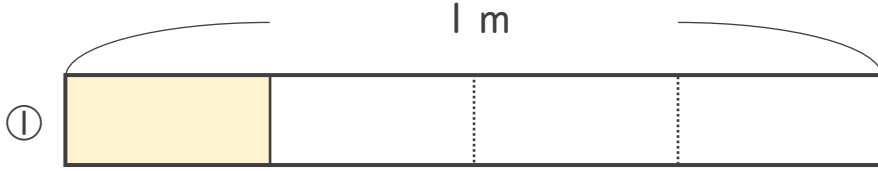
● 分数の長さの読み取り



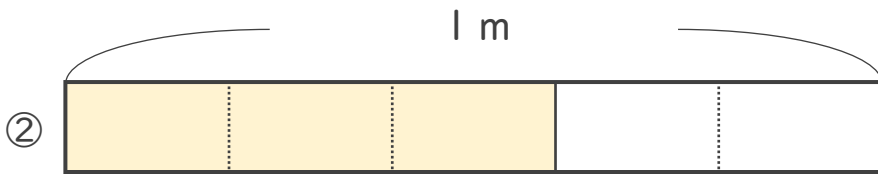
日にち： 月 日

名まえ _____

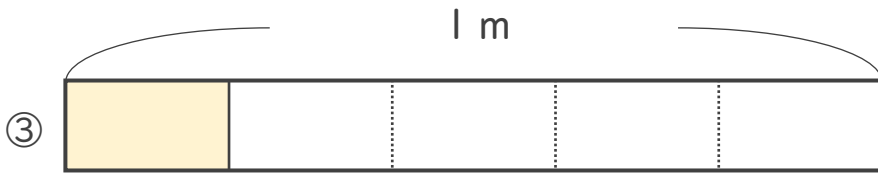
・色をぬったところの長さは、何^{いろ}mでしよう。^{なが} (うすい字はなぞりましよう。)^{なん}




こたえ： $\frac{1}{4}$ m




こたえ： $\frac{3}{5}$ m



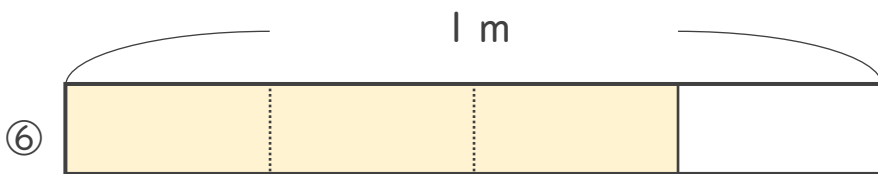
こたえ： m



こたえ： m



こたえ： m



こたえ： m



こたえ： m





分数 2

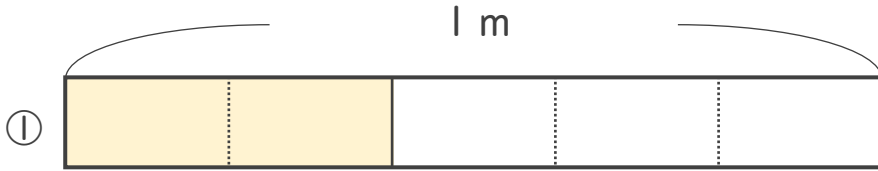
● 分数の長さの読み取り



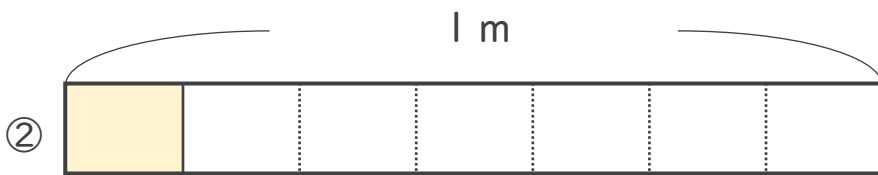
日にち： 月 日

名まえ _____


・ 色をぬったところの長さは、何mでしょう。(うすい字はなぞりましょう。)



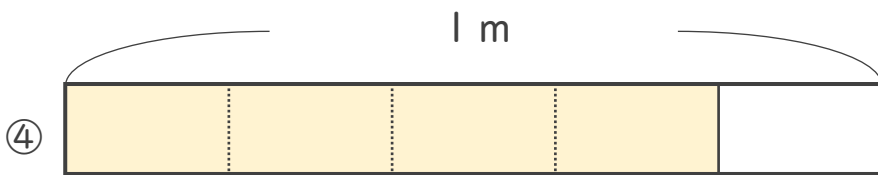
こたえ： $\frac{2}{5}$ m



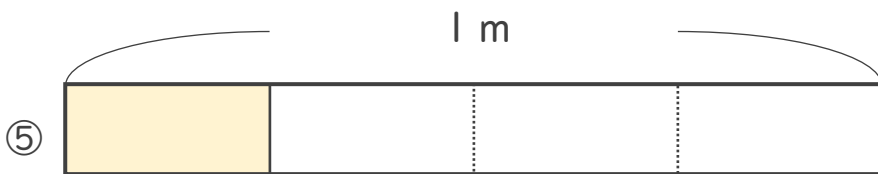
こたえ： _____ m



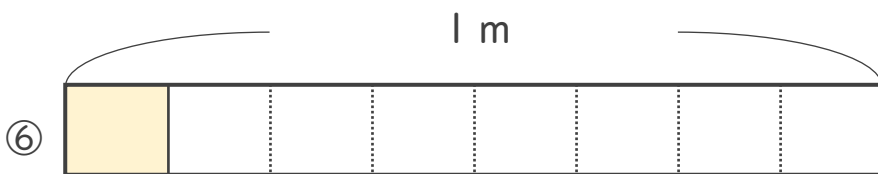
こたえ： _____ m



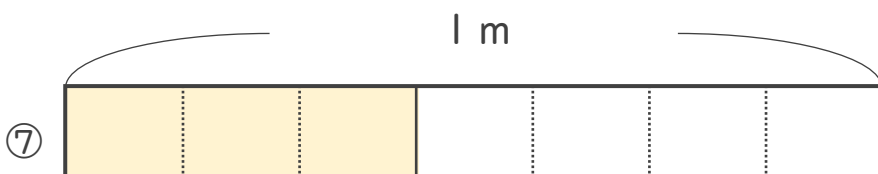
こたえ： _____ m



こたえ： _____ m



こたえ： _____ m



こたえ： _____ m





分数 2

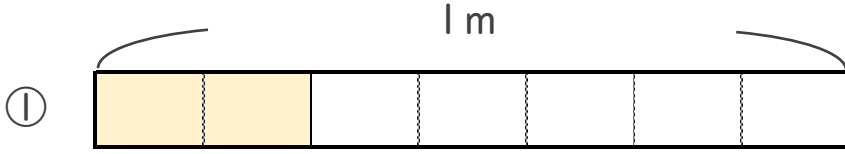
● 分数の長さの読み取り



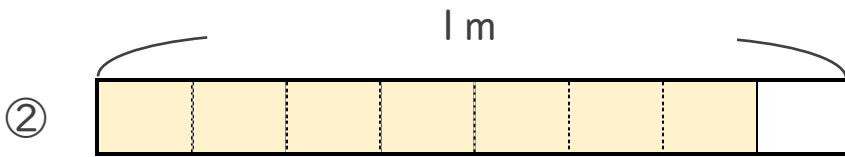
日にち： 月 日

名まえ _____

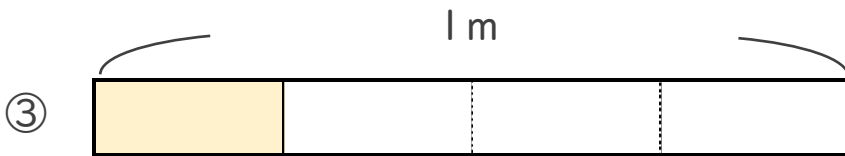
・ 色をぬったところの長さは、何mでしょう。



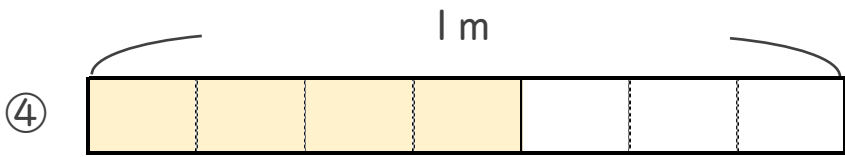
こたえ： _____ m



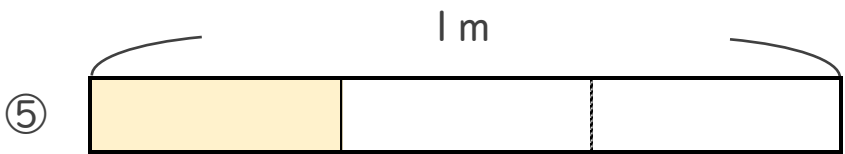
こたえ： _____ m



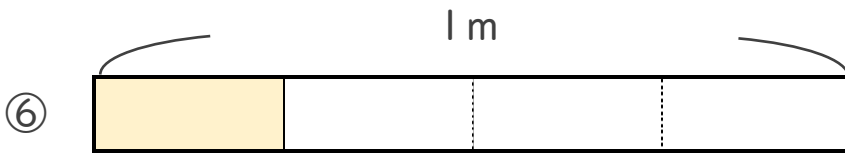
こたえ： _____ m



こたえ： _____ m



こたえ： _____ m



こたえ： _____ m



こたえ： _____ m





分数 2

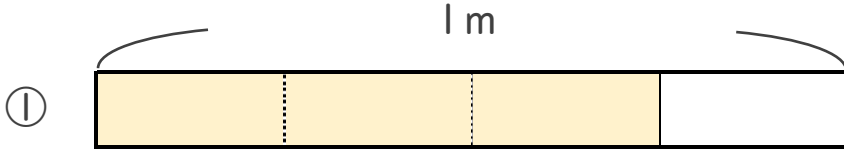
● 分数の長さの読み取り



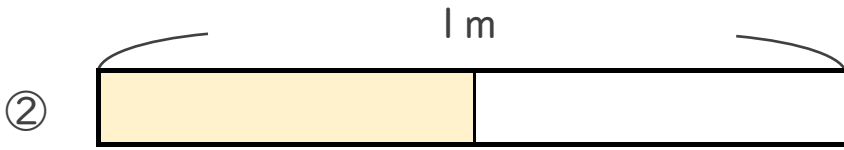
日にち： 月 日

名まえ

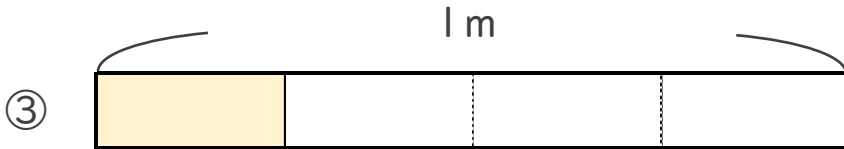
・ 色をぬったところの長さは、何mでしょう。



こたえ： _____ m



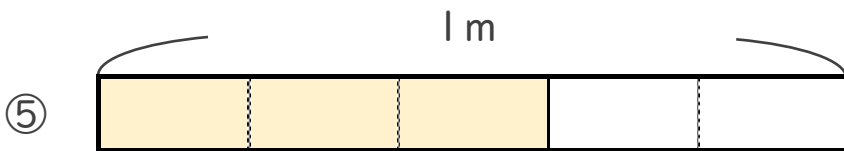
こたえ： _____ m



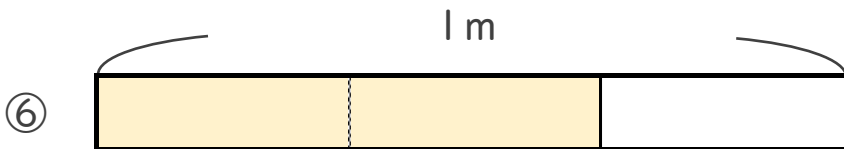
こたえ： _____ m



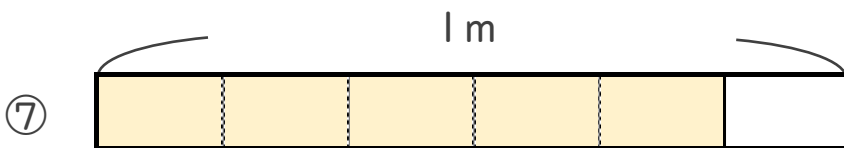
こたえ： _____ m



こたえ： _____ m



こたえ： _____ m



こたえ： _____ m





分数 2

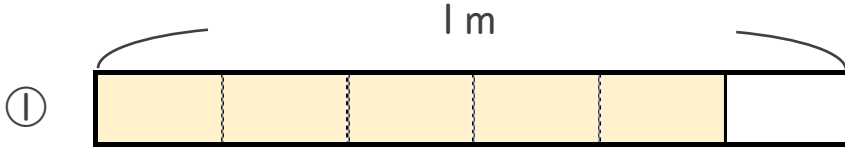
● 分数の長さの読み取り



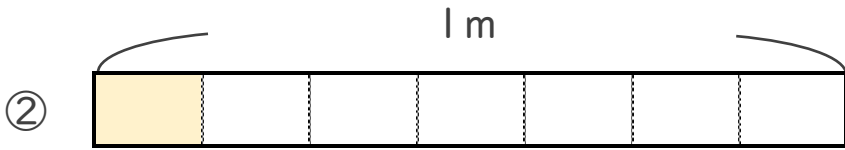
日にち： 月 日

名まえ _____

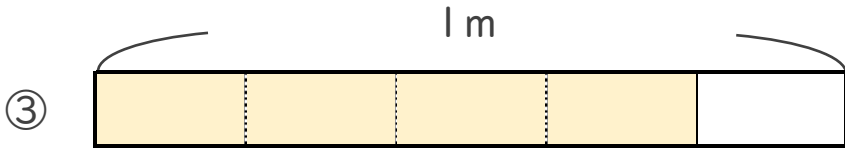
・ 色をぬったところの長さは、何mでしょう。




こたえ： _____ m



こたえ： _____ m



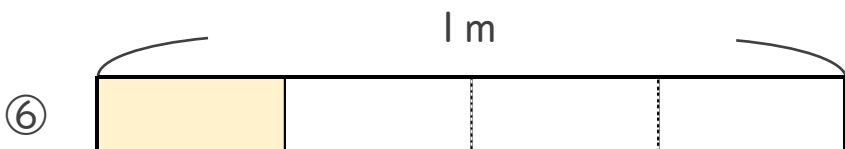
こたえ： _____ m



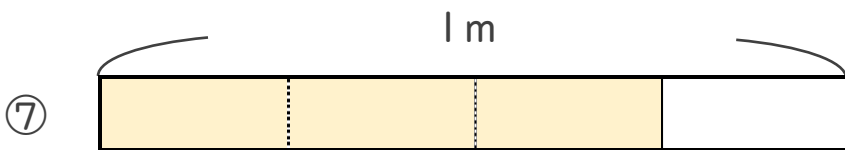
こたえ： _____ m



こたえ： _____ m



こたえ： _____ m



こたえ： _____ m





分数 2


◎ 分数の長さの読み取り




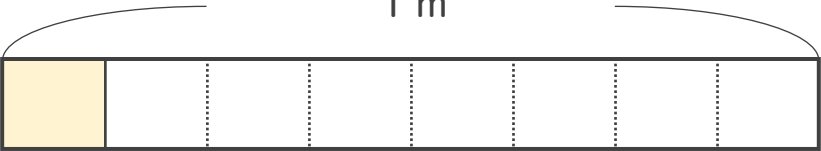
日にち： 月 日


名まえ _____


いろ
・色をぬったところのながさは、何mでしょう。
なが なん

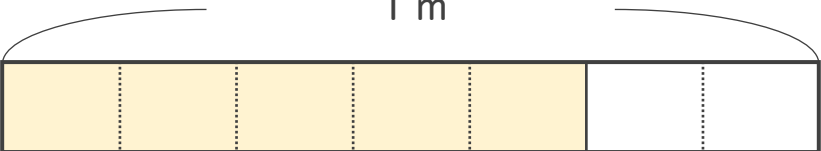
①  1 m 答え： _____ m

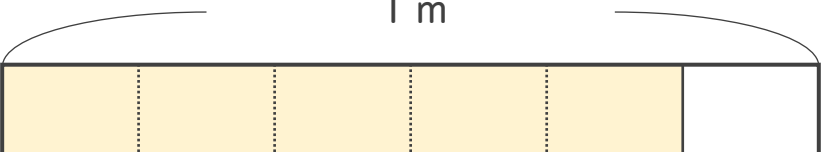
②  1 m 答え： _____ m

③  1 m 答え： _____ m

④  1 m 答え： _____ m

⑤  1 m 答え： _____ m

⑥  1 m 答え： _____ m

⑦  1 m 答え： _____ m





分数 2

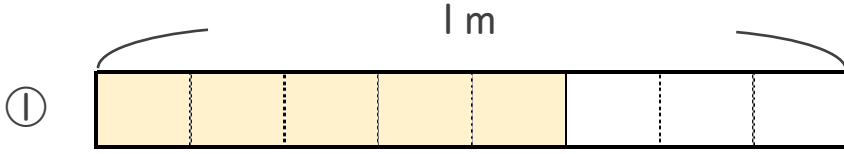
● 分数の長さの読み取り



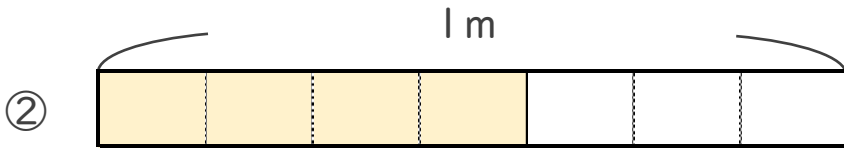
日にち： 月 日

名まえ

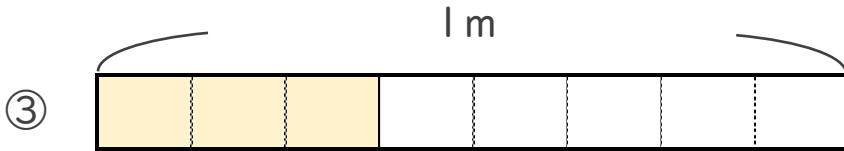
・ 色をぬったところの長さは、何mでしょう。



こたえ： _____ m



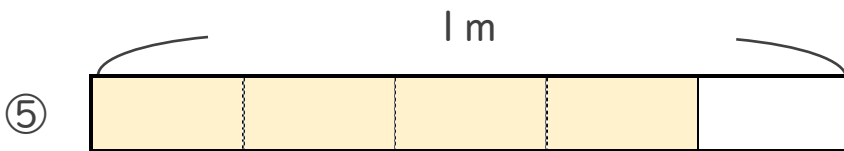
こたえ： _____ m



こたえ： _____ m



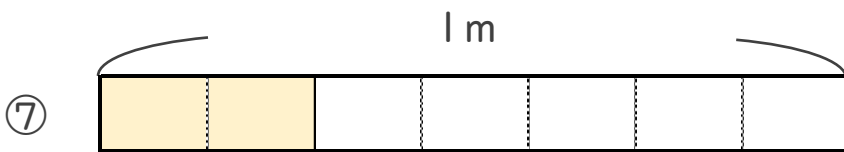
こたえ： _____ m



こたえ： _____ m



こたえ： _____ m



こたえ： _____ m





分数 2

● 分数の長さの読み取り



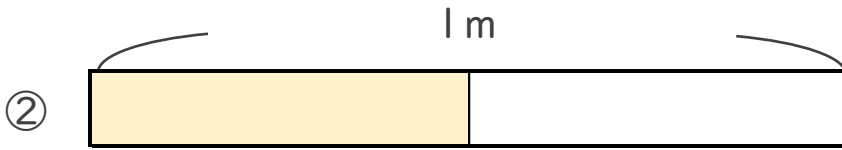
日にち： 月 日

名まえ _____


・ 色をぬったところの長さは、何mでしょう。



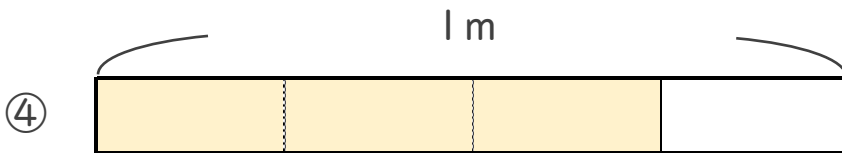
こたえ： _____ m



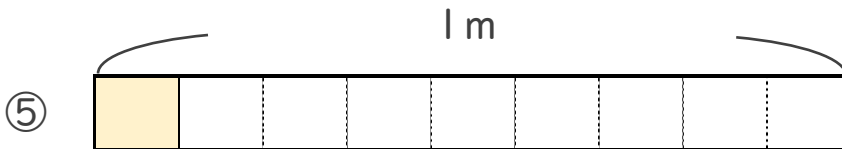
こたえ： _____ m



こたえ： _____ m



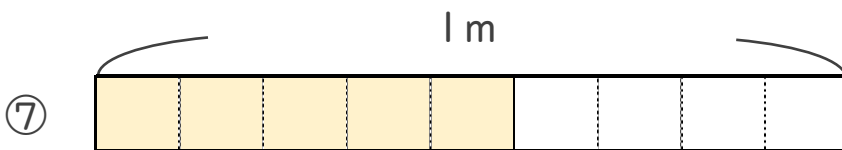
こたえ： _____ m



こたえ： _____ m



こたえ： _____ m



こたえ： _____ m





分数 2

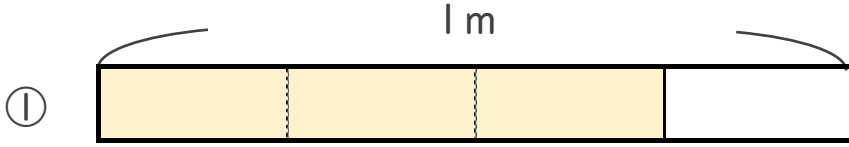
● 分数の長さの読み取り



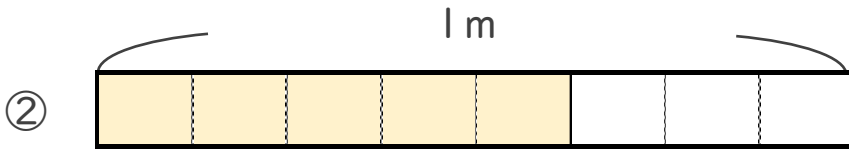
日にち： 月 日

名まえ _____


・ 色をぬったところの長さは、何mでしょう。



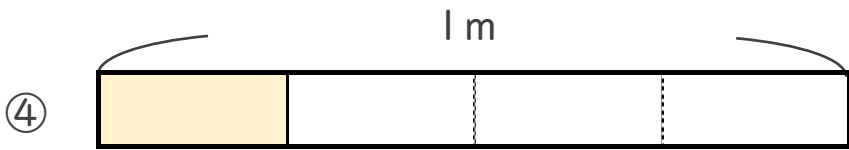
こたえ： _____ m



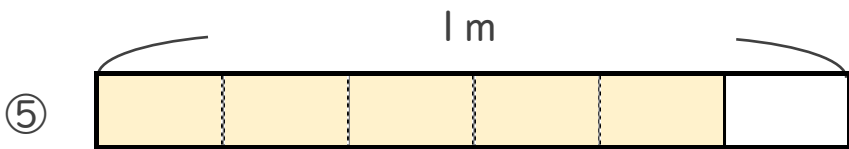
こたえ： _____ m



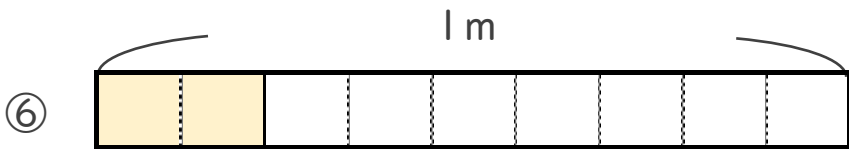
こたえ： _____ m



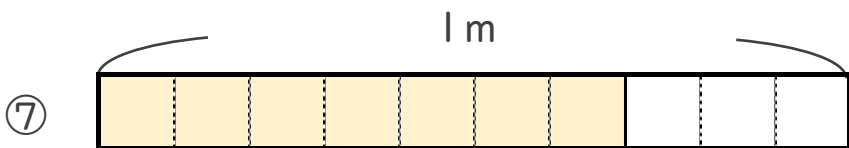
こたえ： _____ m



こたえ： _____ m



こたえ： _____ m



こたえ： _____ m





分数 2

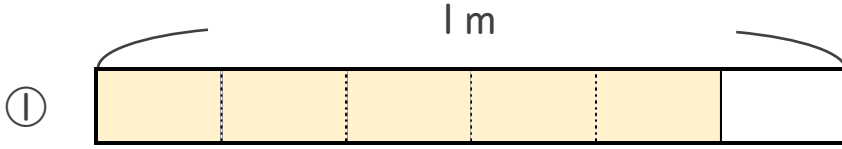
● 分数の長さの読み取り



日にち： 月 日

名まえ _____

・ 色をぬったところの長さは、何mでしょう。



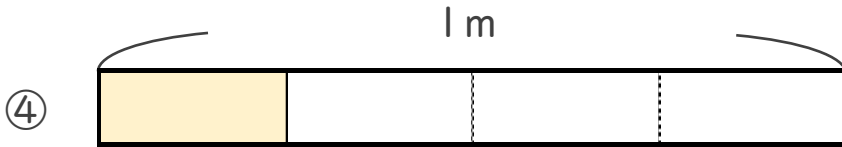
こたえ： _____ m



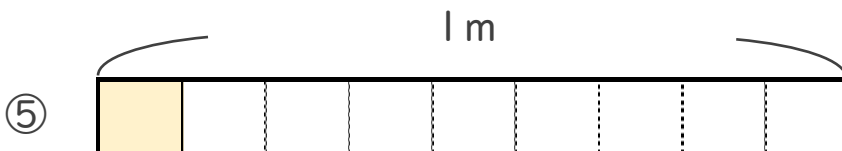
こたえ： _____ m



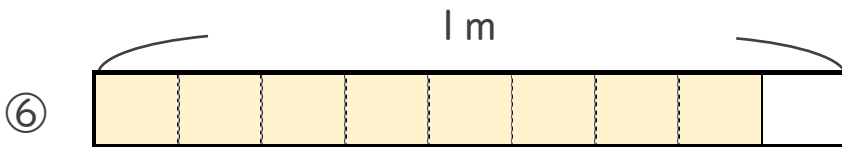
こたえ： _____ m




こたえ： _____ m



こたえ： _____ m



こたえ： _____ m



こたえ： _____ m





分数 2

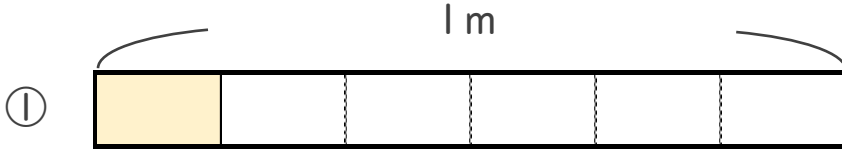
● 分数の長さの読み取り



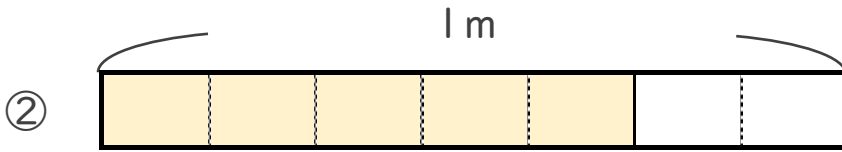
日にち： 月 日

名まえ _____

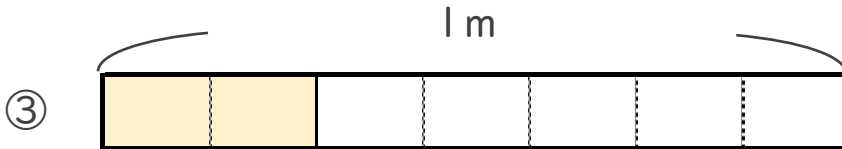
・ 色をぬったところの長さは、何mでしょう。



こたえ： _____ m



こたえ： _____ m



こたえ： _____ m



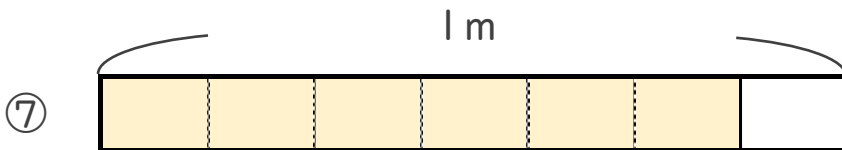
こたえ： _____ m



こたえ： _____ m



こたえ： _____ m



こたえ： _____ m





分数 2

● 分数の長さの読み取り



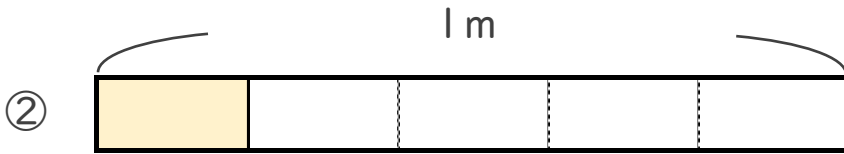
日にち： 月 日

名まえ _____

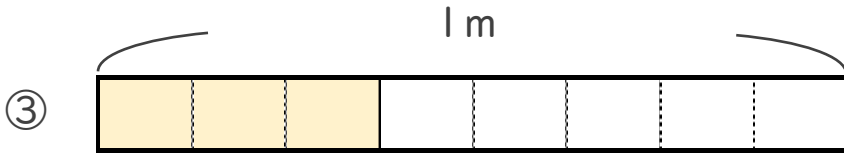
・ 色をぬったところの長さは、何mでしょう。



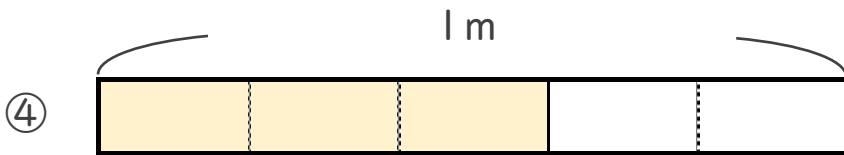
こたえ： _____ m



こたえ： _____ m



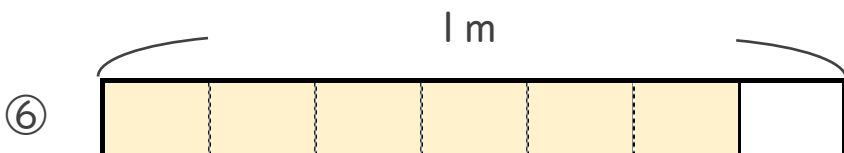
こたえ： _____ m



こたえ： _____ m



こたえ： _____ m



こたえ： _____ m



こたえ： _____ m





分数 2

● 分数の長さの読み取り



日にち： 月 日

名まえ _____

いろ なが なん
・色をぬったところの長さは、何mでしょう。

① こたえ： _____ m

② こたえ： _____ m

③ こたえ： _____ m

④ こたえ： _____ m

⑤ こたえ： _____ m

⑥ こたえ： _____ m

⑦ こたえ： _____ m



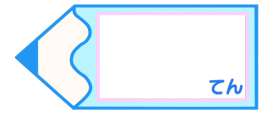


分数 2

● 分数の長さの読み取り

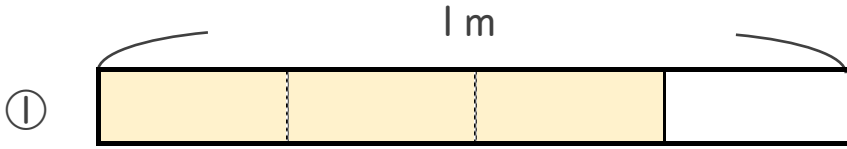


目指せ80点!

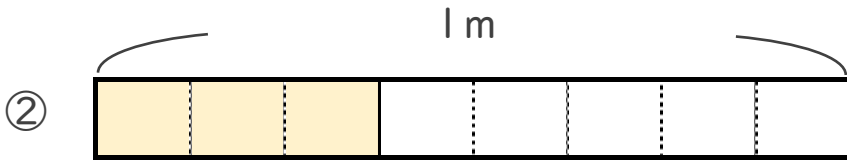


名まえ

・ 色をぬったところの長さは、何mでしょう。(各20点)



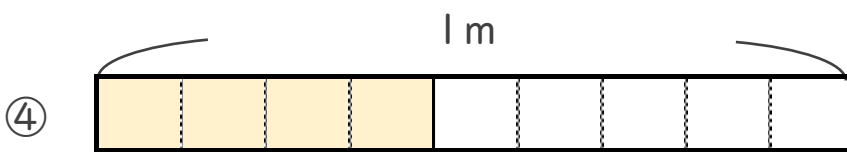
こたえ： _____ m



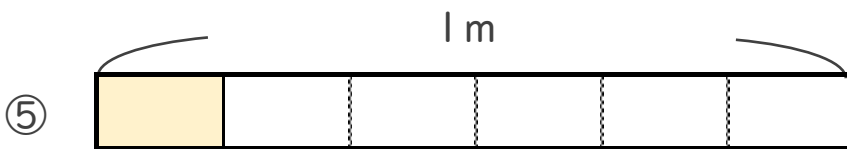
こたえ： _____ m



こたえ： _____ m



こたえ： _____ m



こたえ： _____ m

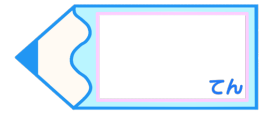


分数 2

● 分数の長さの読み取り

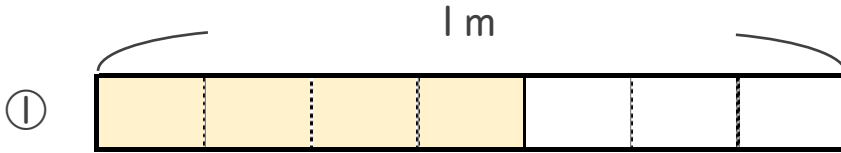


目指せ80点!

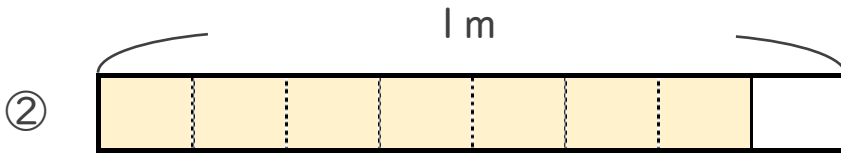


名まえ

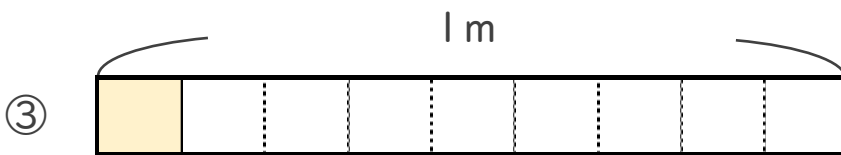
・ 色をぬったところの長さは、何mでしょう。(各20点)



こたえ： _____ m



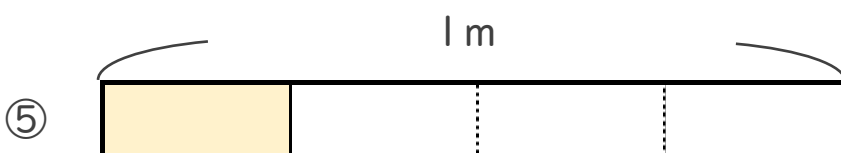
こたえ： _____ m



こたえ： _____ m



こたえ： _____ m



こたえ： _____ m



分数 2

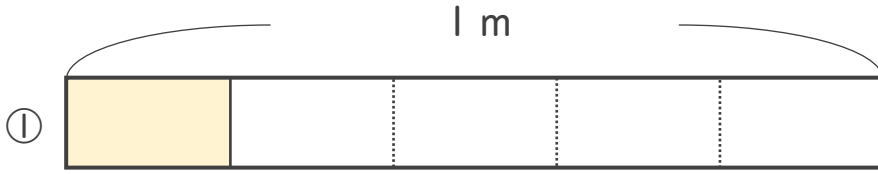
● 分数の長さの読み取り



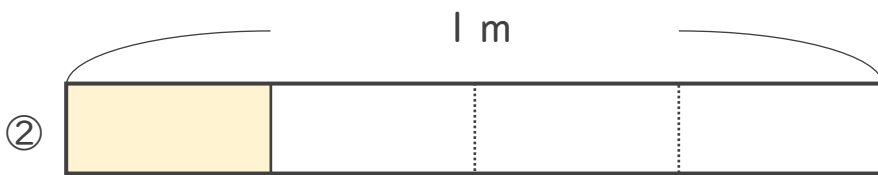
日にち： 月 日

名まえ _____


いろ
・色をぬったところのながさは、何^{なん}mでしょう。(うすい字はなぞりましょう。)



こたえ： $\frac{1}{5}$ m



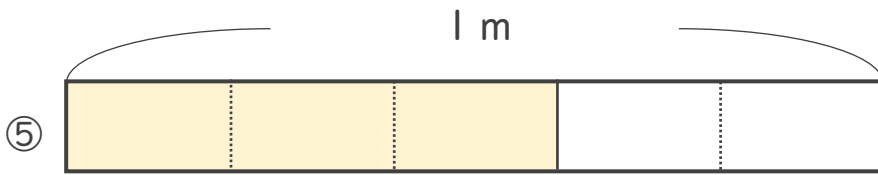
こたえ： $\frac{1}{4}$ m




こたえ： $\frac{2}{3}$ m



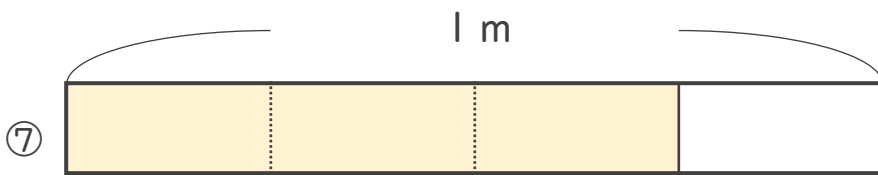
こたえ： $\frac{1}{2}$ m



こたえ： $\frac{3}{5}$ m



こたえ： $\frac{1}{3}$ m



こたえ： $\frac{3}{4}$ m





分数 2

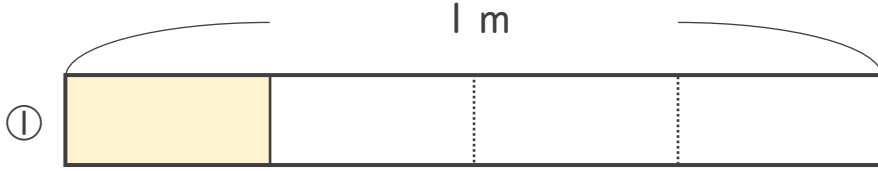
分数の長さの読み取り



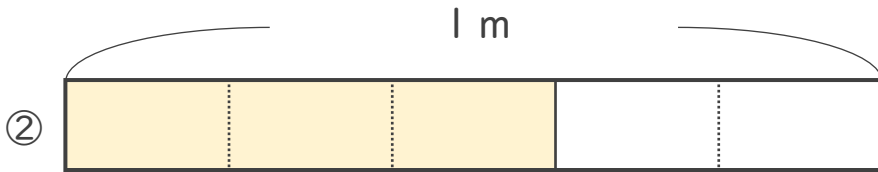
日にち： 月 日

名まえ _____

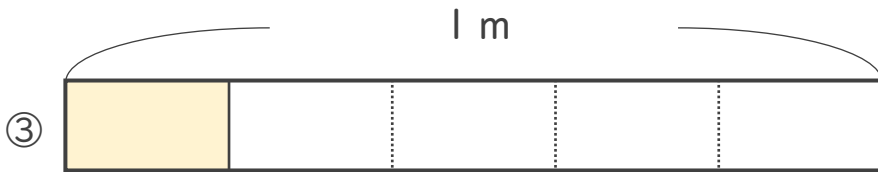
いろをぬったところのながは、何^{なん}mでしょう。(うすい字はなぞりましょう。)



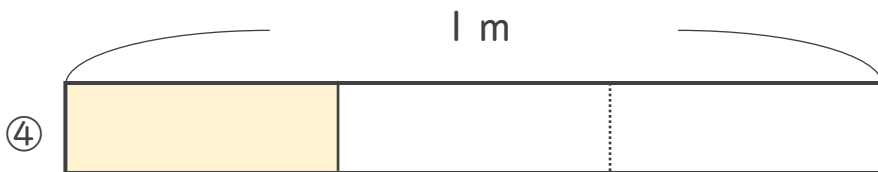
こたえ： $\frac{1}{4}$ m




こたえ： $\frac{3}{5}$ m



こたえ： $\frac{1}{5}$ m



こたえ： $\frac{1}{3}$ m



こたえ： $\frac{2}{3}$ m



こたえ： $\frac{3}{4}$ m



こたえ： $\frac{1}{2}$ m





分数 2

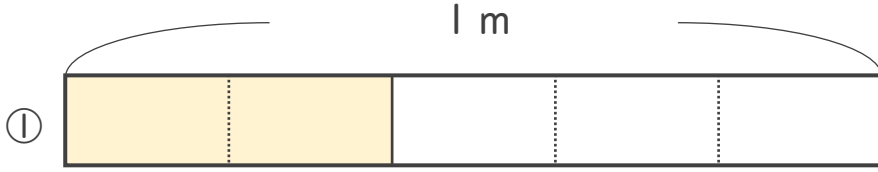
● 分数の長さの読み取り



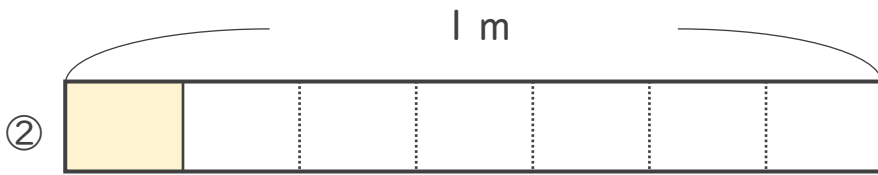
日にち： 月 日

名まえ _____


・色をぬったところの長さは、何mでしょう。(うすい字はなぞりましょう。)



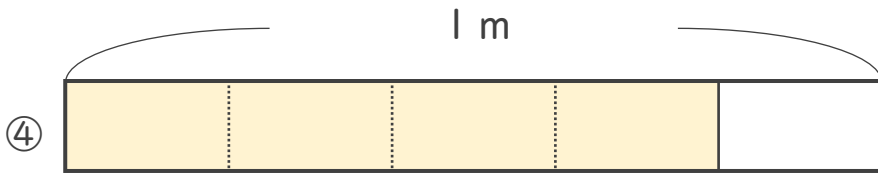
こたえ： $\frac{2}{5}$ m



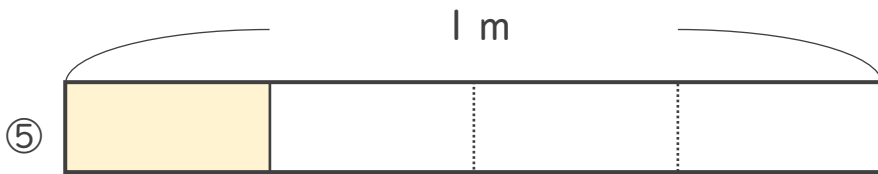
こたえ： $\frac{1}{7}$ m



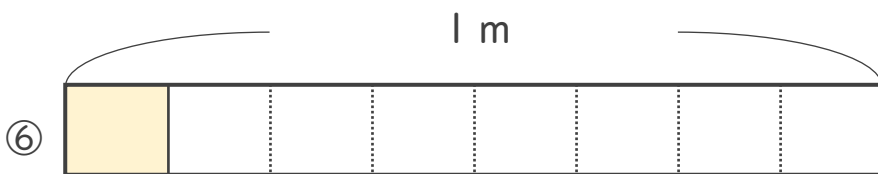
こたえ： $\frac{2}{3}$ m



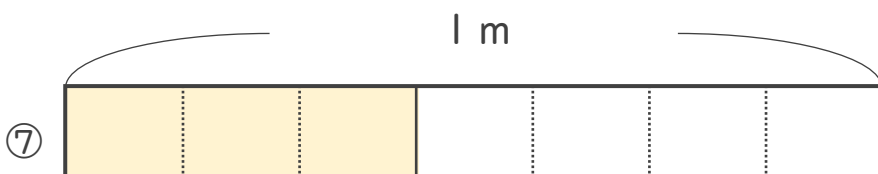
こたえ： $\frac{4}{5}$ m



こたえ： $\frac{1}{4}$ m



こたえ： $\frac{1}{8}$ m



こたえ： $\frac{3}{7}$ m





分数 2

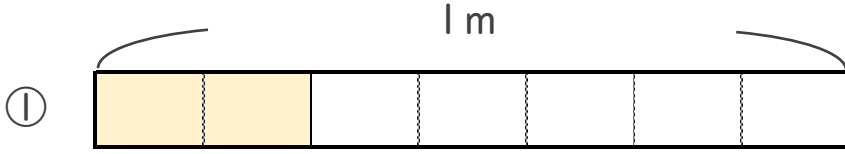
● 分数の長さの読み取り



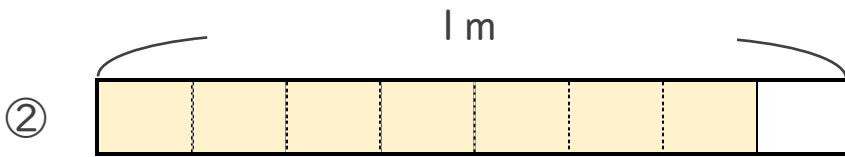
日にち： 月 日

名まえ _____

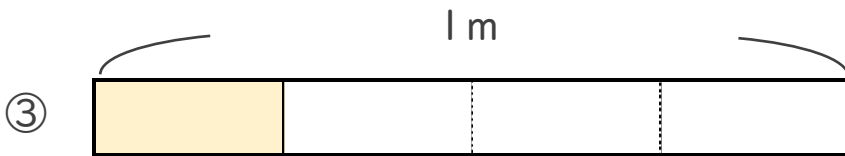
・ 色をぬったところの長さは、何mでしょう。



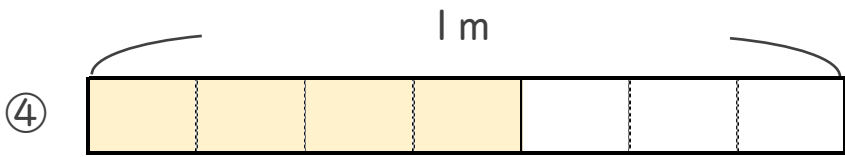
こたえ： $\frac{2}{7}$ m



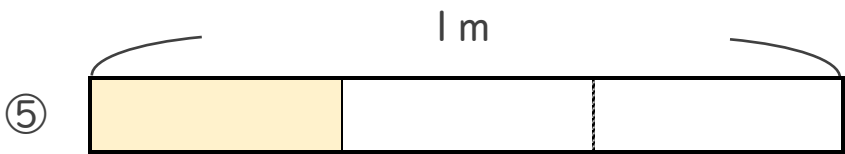
こたえ： $\frac{7}{8}$ m



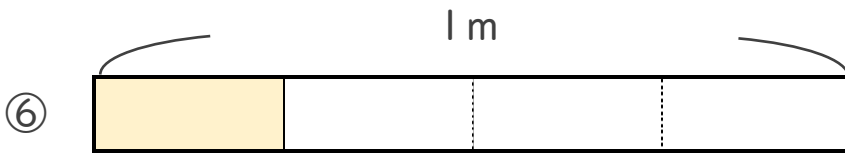
こたえ： $\frac{1}{4}$ m



こたえ： $\frac{4}{7}$ m



こたえ： $\frac{1}{3}$ m



こたえ： $\frac{1}{4}$ m



こたえ： $\frac{3}{8}$ m





分数 2

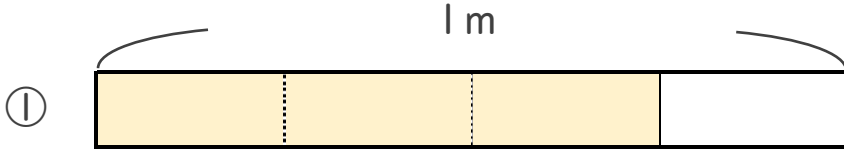
● 分数の長さの読み取り



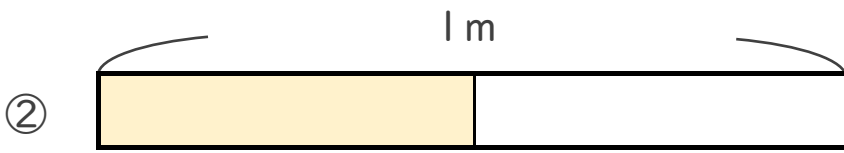
日にち： 月 日

名まえ

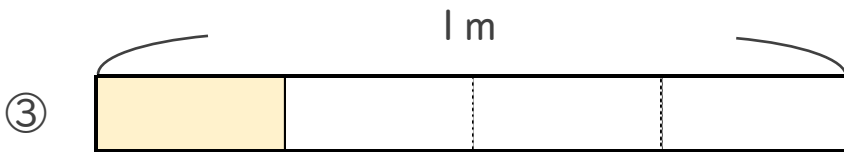
・ 色をぬったところの長さは、何mでしょう。



こたえ： $\frac{3}{4}$ m



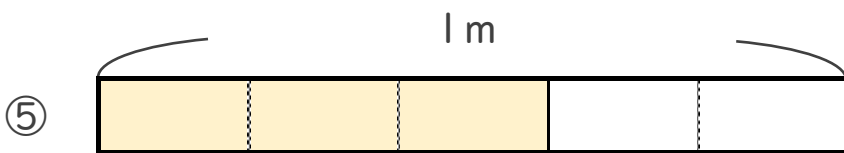
こたえ： $\frac{1}{2}$ m



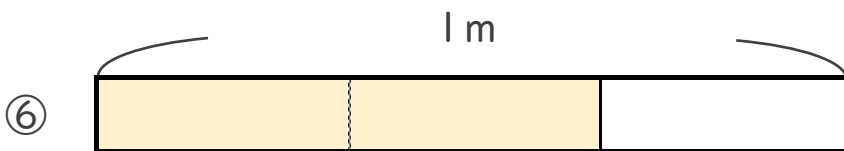
こたえ： $\frac{1}{4}$ m



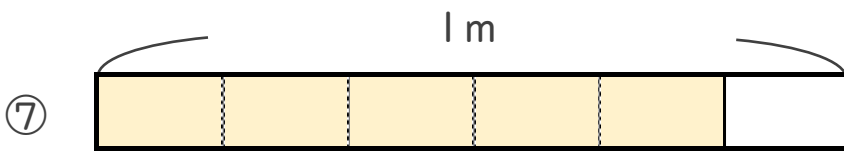
こたえ： $\frac{3}{7}$ m



こたえ： $\frac{3}{5}$ m



こたえ： $\frac{2}{3}$ m



こたえ： $\frac{5}{6}$ m





分数 2

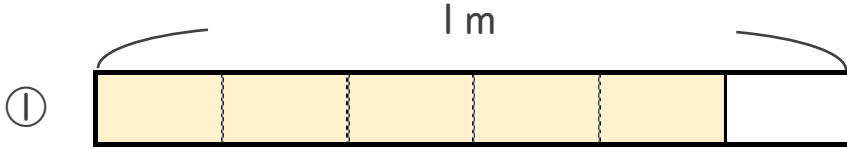
● 分数の長さの読み取り



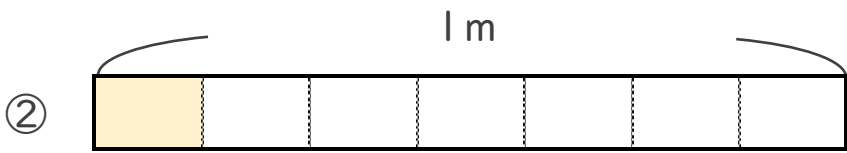
日にち： 月 日

名まえ _____

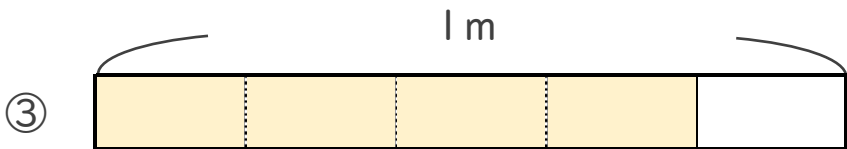
・ 色をぬったところの長さは、何mでしょう。




こたえ： $\frac{5}{6}$ m



こたえ： $\frac{1}{7}$ m



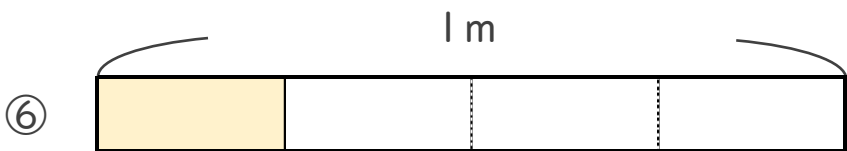
こたえ： $\frac{4}{5}$ m



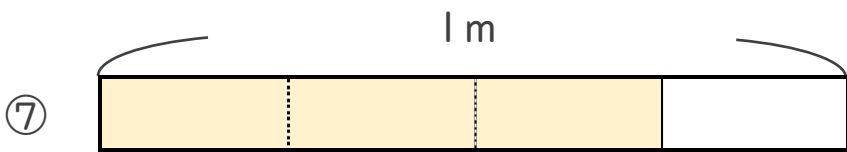
こたえ： $\frac{1}{2}$ m



こたえ： $\frac{2}{3}$ m



こたえ： $\frac{1}{4}$ m



こたえ： $\frac{3}{4}$ m





分数 2

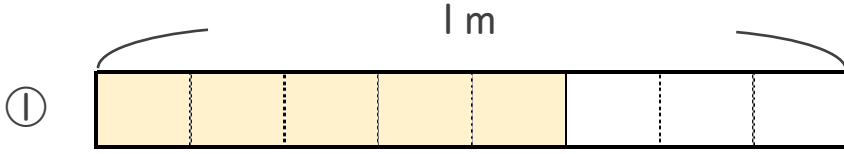
● 分数の長さの読み取り



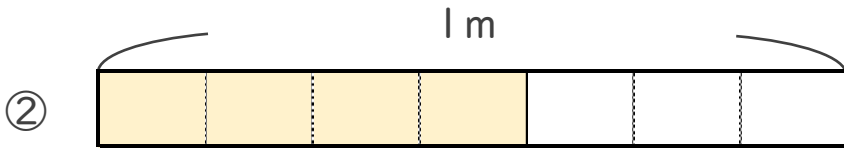
日にち： 月 日

名まえ _____

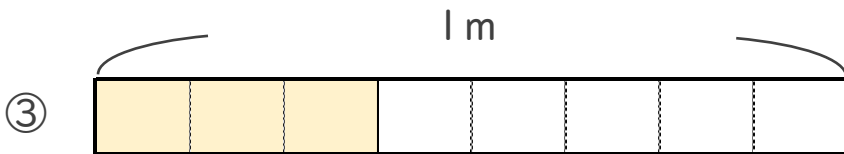
・ 色をぬったところの長さは、何mでしょう。



こたえ： $\frac{5}{8}$ m



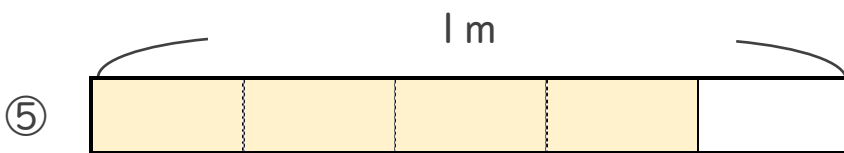
こたえ： $\frac{4}{7}$ m



こたえ： $\frac{3}{8}$ m



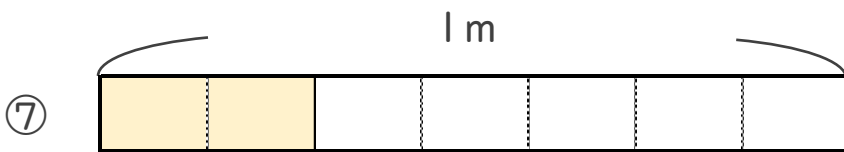
こたえ： $\frac{2}{5}$ m



こたえ： $\frac{4}{5}$ m



こたえ： $\frac{1}{3}$ m



こたえ： $\frac{2}{7}$ m





分数 2

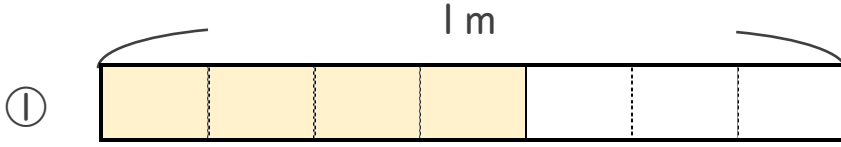
● 分数の長さの読み取り



日にち： 月 日

名まえ

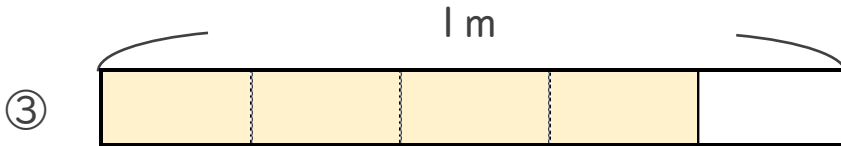
・ 色をぬったところの長さは、何mでしょう。



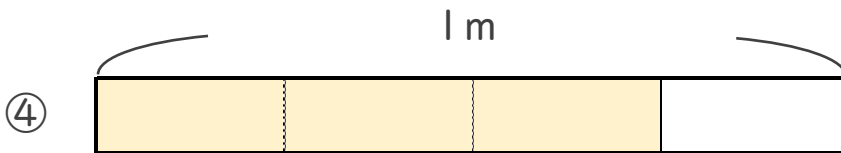
こたえ： $\frac{4}{7}$ m



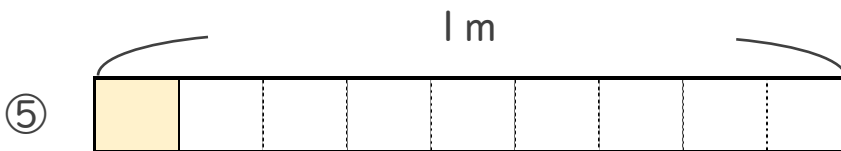
こたえ： $\frac{1}{2}$ m



こたえ： $\frac{4}{5}$ m



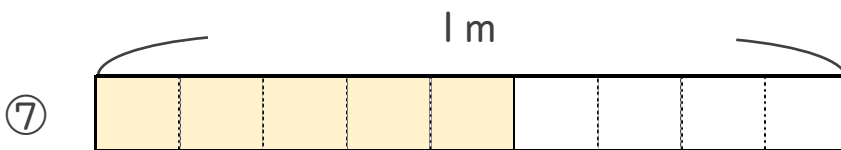
こたえ： $\frac{3}{4}$ m



こたえ： $\frac{1}{9}$ m



こたえ： $\frac{2}{3}$ m



こたえ： $\frac{5}{9}$ m





分数 2

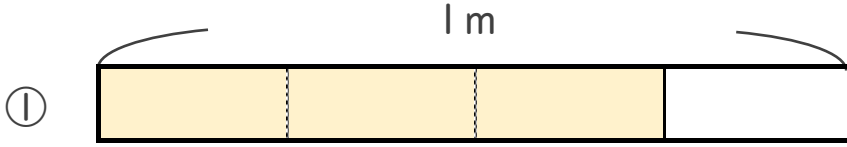
● 分数の長さの読み取り



日にち： 月 日

名まえ


・ 色をぬったところの長さは、何mでしょう。



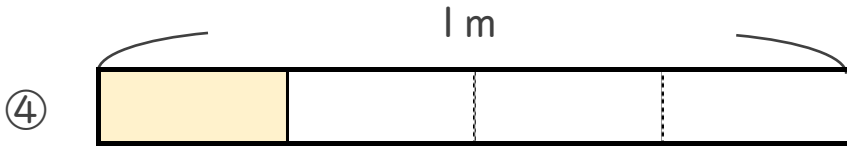
こたえ： $\frac{3}{4}$ m



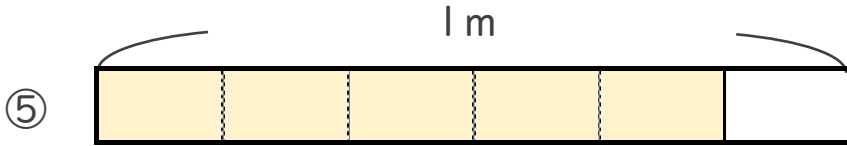
こたえ： $\frac{5}{8}$ m



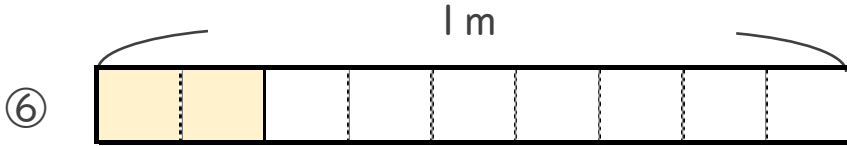
こたえ： $\frac{3}{5}$ m



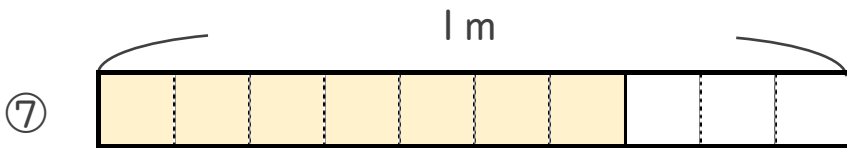
こたえ： $\frac{1}{4}$ m



こたえ： $\frac{5}{6}$ m




こたえ： $\frac{2}{9}$ m



こたえ： $\frac{7}{10}$ m





分数 2

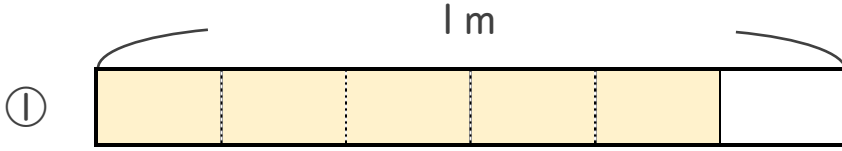
● 分数の長さの読み取り



日にち： 月 日

名まえ

・ 色をぬったところの長さは、何mでしょう。



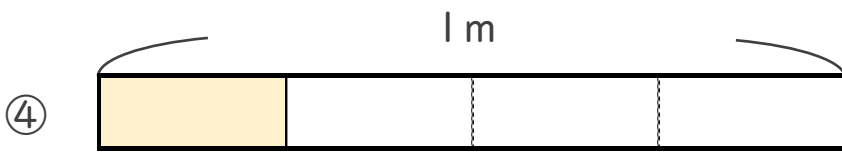
こたえ： $\frac{5}{6}$ m



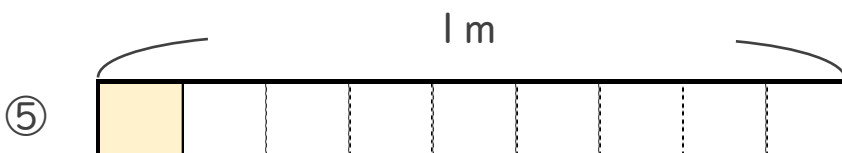
こたえ： $\frac{3}{7}$ m



こたえ： $\frac{7}{8}$ m



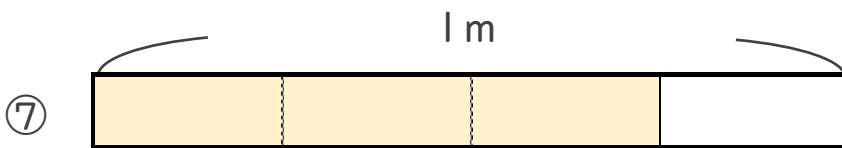
こたえ： $\frac{1}{4}$ m



こたえ： $\frac{1}{9}$ m



こたえ： $\frac{8}{9}$ m



こたえ： $\frac{3}{4}$ m





分数 2

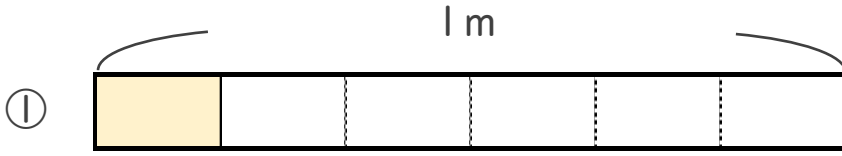
● 分数の長さの読み取り



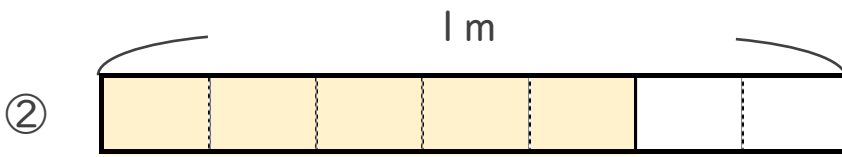
日にち： 月 日

名まえ

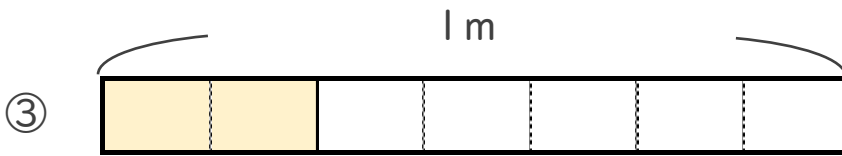
・ 色をぬったところの長さは、何mでしょう。



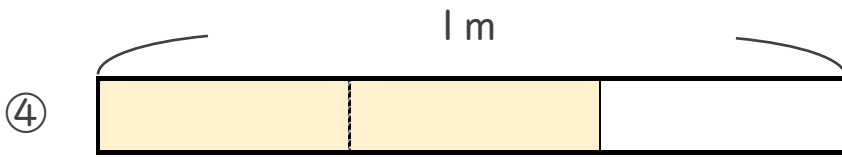
こたえ： $\frac{1}{6}$ m



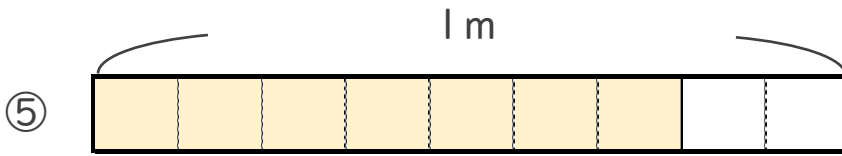
こたえ： $\frac{5}{7}$ m



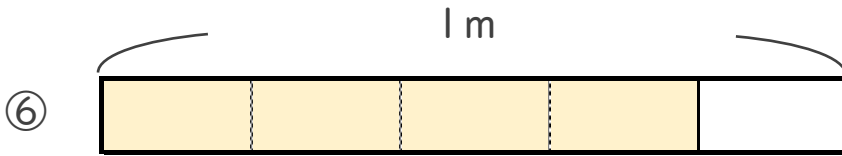
こたえ： $\frac{2}{7}$ m



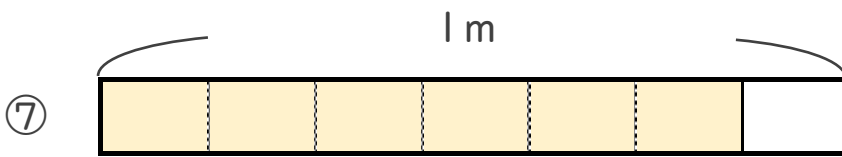
こたえ： $\frac{2}{3}$ m



こたえ： $\frac{7}{9}$ m



こたえ： $\frac{4}{5}$ m



こたえ： $\frac{6}{7}$ m





分数 2

● 分数の長さの読み取り



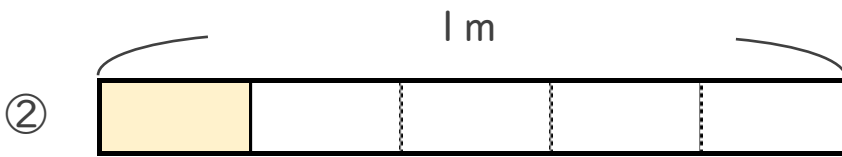
日にち： 月 日

名まえ _____

・ 色をぬったところの長さは、何mでしょう。



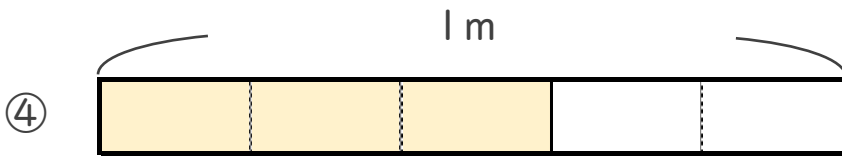
こたえ： $\frac{3}{7}$ m



こたえ： $\frac{1}{5}$ m



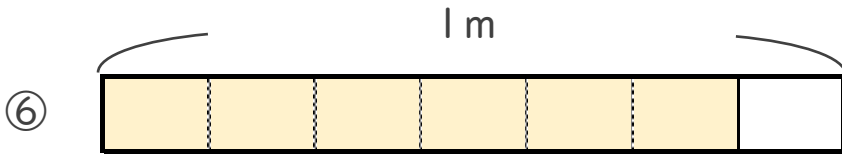
こたえ： $\frac{3}{8}$ m



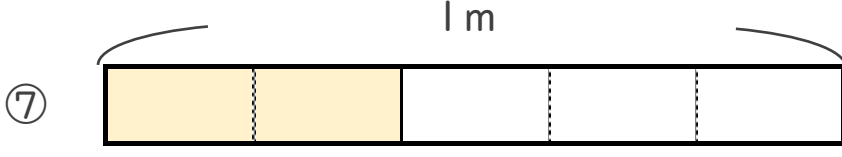
こたえ： $\frac{3}{5}$ m



こたえ： $\frac{1}{2}$ m



こたえ： $\frac{6}{7}$ m



こたえ： $\frac{2}{5}$ m





分数 2

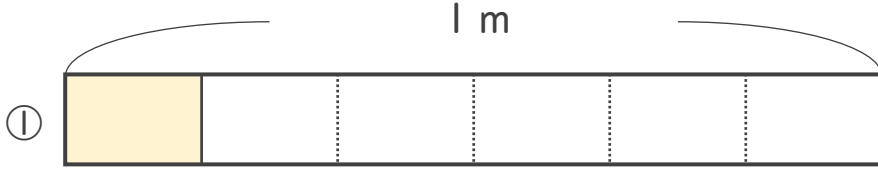
● 分数の長さの読み取り



日にち： 月 日

名まえ _____

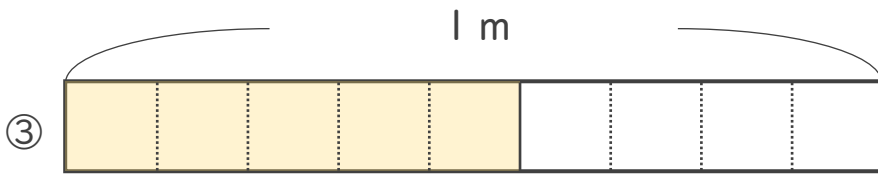
いろ
・色をぬったところのなが
なが
なん
は、何mでしょう。




こたえ： $\frac{1}{6}$ m



こたえ： $\frac{3}{4}$ m



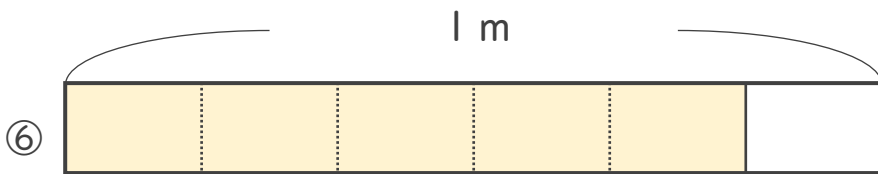
こたえ： $\frac{5}{9}$ m



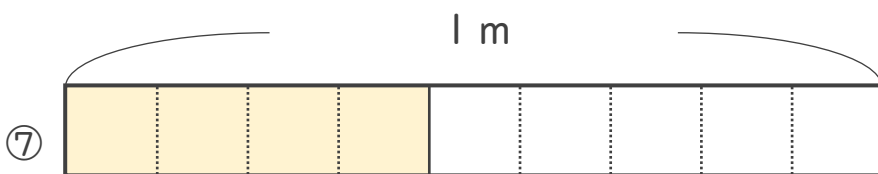
こたえ： $\frac{2}{3}$ m



こたえ： $\frac{5}{8}$ m



こたえ： $\frac{5}{6}$ m



こたえ： $\frac{4}{9}$ m



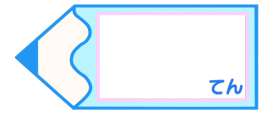


分数 2

● 分数の長さの読み取り

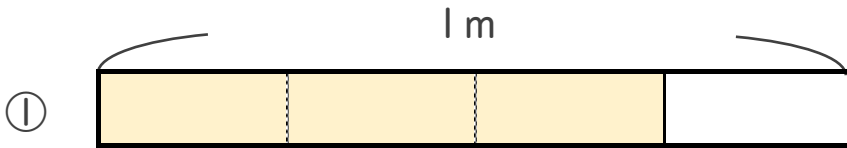
15

目指せ80点!

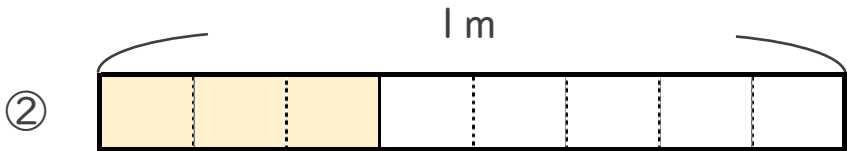


名まえ

・ 色をぬったところの長さは、何mでしょう。(各20点)



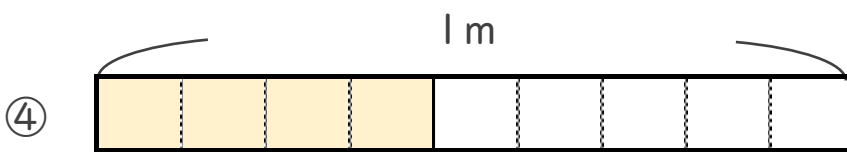
こたえ： $\frac{3}{4}$ m



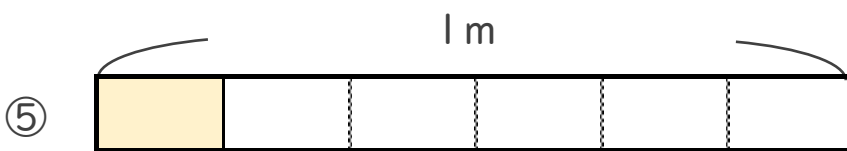
こたえ： $\frac{3}{8}$ m



こたえ： $\frac{3}{7}$ m



こたえ： $\frac{4}{9}$ m



こたえ： $\frac{1}{6}$ m



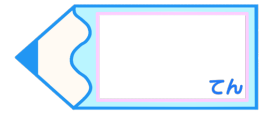


分数 2

● 分数の長さの読み取り

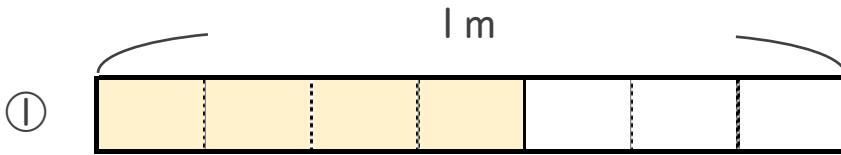
16

目指せ80点!

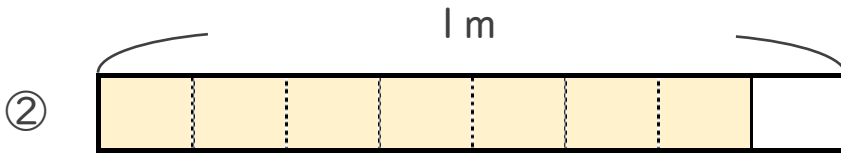


名まえ

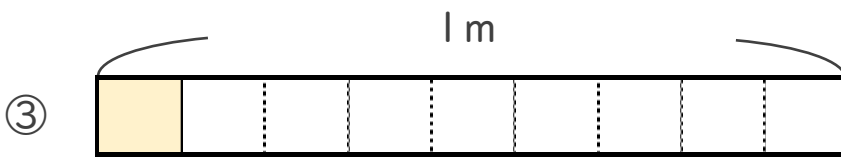
・ 色をぬったところの長さは、何mでしょう。(各20点)



こたえ： $\frac{4}{7}$ m



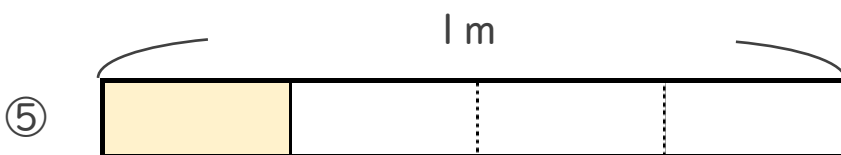
こたえ： $\frac{7}{8}$ m



こたえ： $\frac{1}{9}$ m



こたえ： $\frac{5}{6}$ m



こたえ： $\frac{1}{4}$ m