



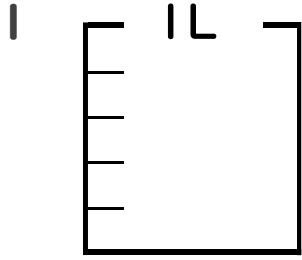
分数 5

● 分数の水のかさの色ぬり



日にち： 月 日

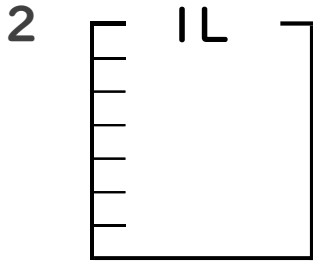
名まえ _____



① $\frac{1}{5}$ Lの 3 分だけ色をぬりましょう。

② 色をぬったところのかさは何Lですか。
(うすい字はなぞりましょう。)

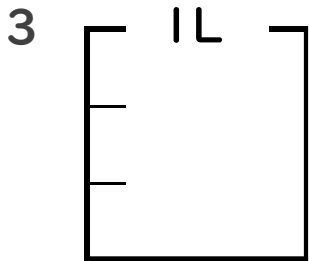
 $\frac{3}{5}$ L



① $\frac{1}{7}$ Lの 4 分だけ色をぬりましょう。

② 色をぬったところのかさは何Lですか。

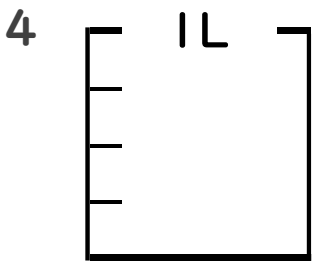
 L



① $\frac{1}{3}$ Lの 1 分だけ色をぬりましょう。

② 色をぬったところのかさは何Lですか。

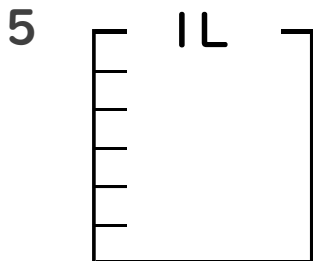
 L



① $\frac{1}{4}$ Lの 2 分だけ色をぬりましょう。

② 色をぬったところのかさは何Lですか。

 L



① $\frac{1}{6}$ Lの 5 分だけ色をぬりましょう。

② 色をぬったところのかさは何Lですか。

 L





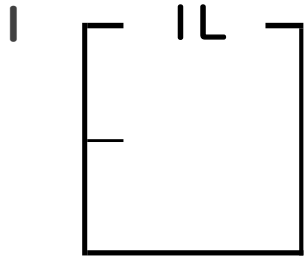
分数 5

● 分数の水のかさの色ぬり



日にち： 月 日

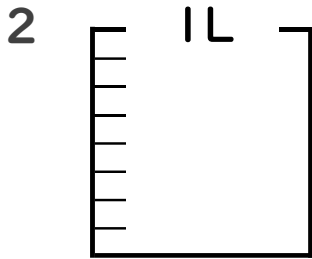
名まえ _____



① $\frac{1}{2}$ Lの 1 分だけ色をぬりましょう。

② 色をぬったところのかさは何Lですか。

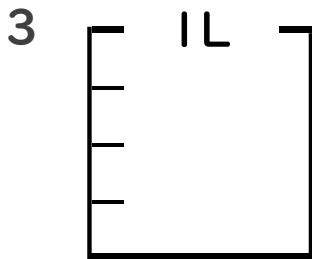
_____ L



① $\frac{1}{8}$ Lの 3 分だけ色をぬりましょう。

② 色をぬったところのかさは何Lですか。

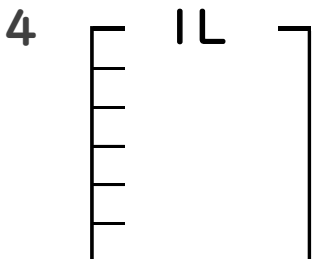
_____ L



① $\frac{1}{4}$ Lの 1 分だけ色をぬりましょう。

② 色をぬったところのかさは何Lですか。

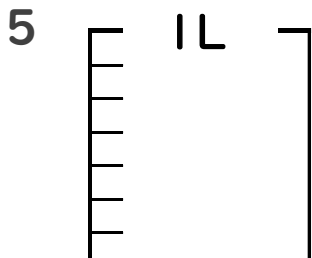
_____ L



① $\frac{1}{6}$ Lの 3 分だけ色をぬりましょう。

② 色をぬったところのかさは何Lですか。

_____ L



① $\frac{1}{7}$ Lの 2 分だけ色をぬりましょう。

② 色をぬったところのかさは何Lですか。

_____ L





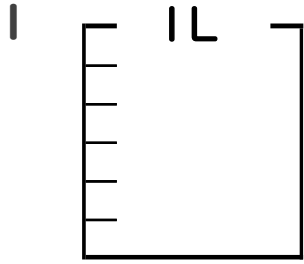
分数 5

● 分数の水のかさの色ぬり



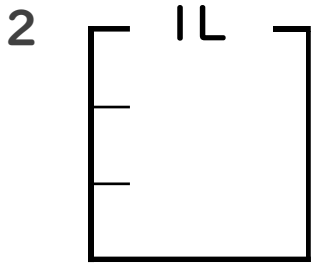
日にち： 月 日

名まえ _____



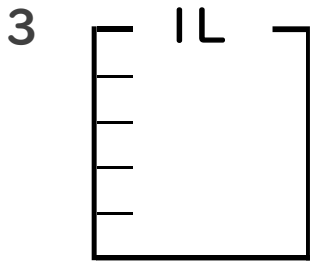
① $\frac{1}{6}$ Lの 4 分だけ色をぬりましょう。

② 色をぬったところのかさは何Lですか。 _____ L



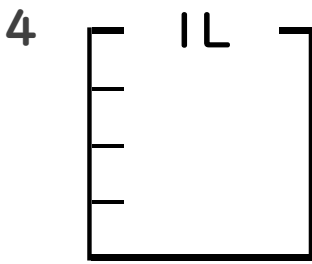
① $\frac{1}{3}$ Lの 2 分だけ色をぬりましょう。

② 色をぬったところのかさは何Lですか。 _____ L



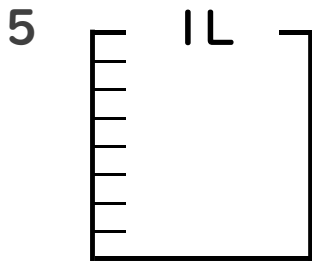
① $\frac{1}{5}$ Lの 4 分だけ色をぬりましょう。

② 色をぬったところのかさは何Lですか。 _____ L



① $\frac{1}{4}$ Lの 3 分だけ色をぬりましょう。

② 色をぬったところのかさは何Lですか。 _____ L



① $\frac{1}{8}$ Lの 1 分だけ色をぬりましょう。

② 色をぬったところのかさは何Lですか。 _____ L





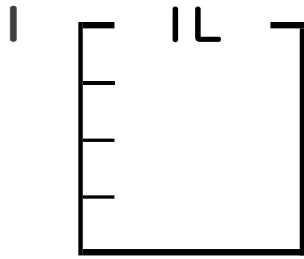
分数 5

● 分数の水のかさの色ぬり



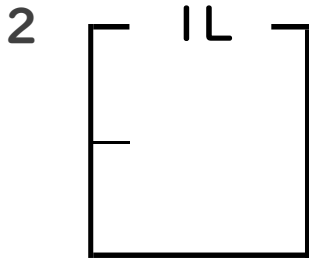
日にち： 月 日

名まえ _____



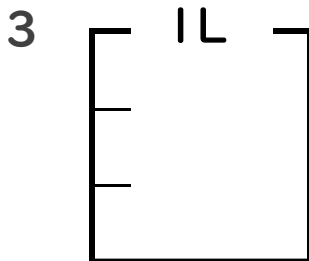
① $\frac{1}{4}$ Lの 1 分だけ色をぬりましょう。

② 色をぬったところのかさは何Lですか。 _____ L



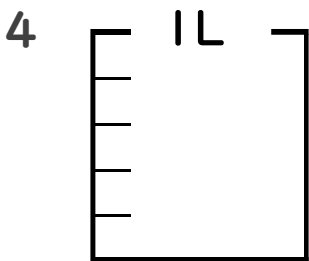
① $\frac{1}{2}$ Lの 1 分だけ色をぬりましょう。

② 色をぬったところのかさは何Lですか。 _____ L



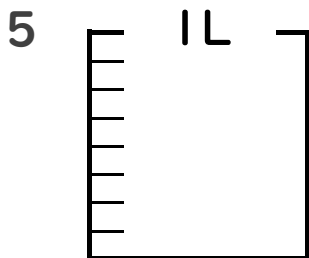
① $\frac{1}{3}$ Lの 1 分だけ色をぬりましょう。

② 色をぬったところのかさは何Lですか。 _____ L



① $\frac{1}{5}$ Lの 3 分だけ色をぬりましょう。

② 色をぬったところのかさは何Lですか。 _____ L



① $\frac{1}{8}$ Lの 7 分だけ色をぬりましょう。

② 色をぬったところのかさは何Lですか。 _____ L





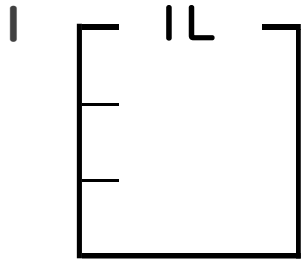
分数 5

分数の水のかさの色ぬり



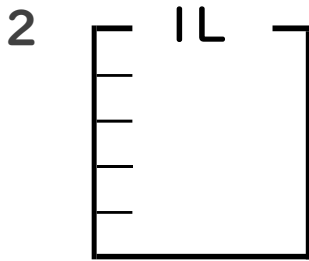
日にち： 月 日

名まえ _____



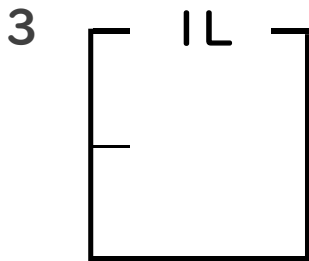
① $\frac{1}{3}$ Lの 2 分だけ色をぬりましょう。

② 色をぬったところのかさは何Lですか。 _____ L



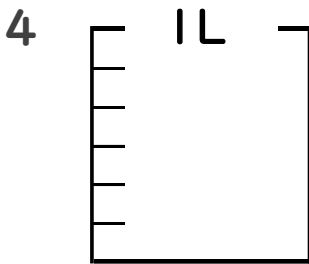
① $\frac{1}{5}$ Lの 3 分だけ色をぬりましょう。

② 色をぬったところのかさは何Lですか。 _____ L



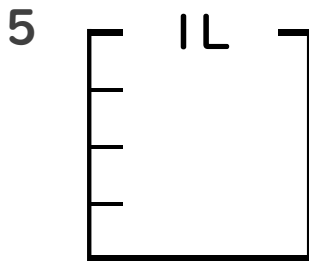
① $\frac{1}{2}$ Lの 1 分だけ色をぬりましょう。

② 色をぬったところのかさは何Lですか。 _____ L



① $\frac{5}{6}$ Lの 3 分だけ色をぬりましょう。

② 色をぬったところのかさは何Lですか。 _____ L



① $\frac{1}{4}$ Lの 1 分だけ色をぬりましょう。

② 色をぬったところのかさは何Lですか。 _____ L





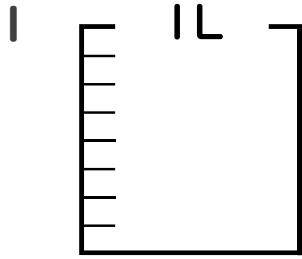
分数 5

● 分数の水のかさの色ぬり



日にち： 月 日

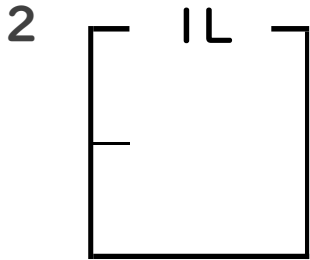
名まえ _____



① $\frac{1}{8}$ Lの 2 分だけ色をぬりましょう。

② 色をぬったところのかさは何Lですか。

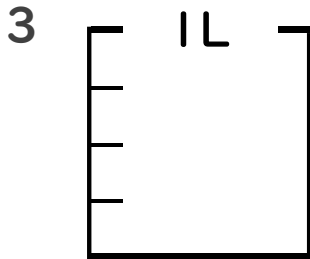
_____ L



① $\frac{1}{2}$ Lの 1 分だけ色をぬりましょう。

② 色をぬったところのかさは何Lですか。

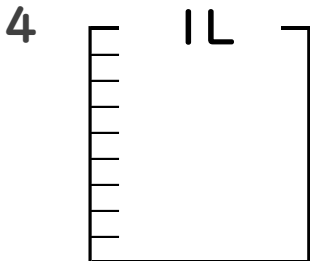
_____ L



① $\frac{1}{4}$ Lの 3 分だけ色をぬりましょう。

② 色をぬったところのかさは何Lですか。

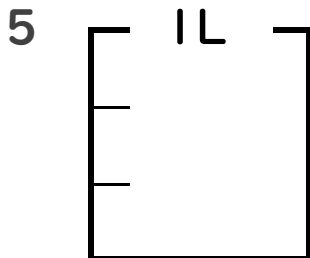
_____ L



① $\frac{1}{9}$ Lの 7 分だけ色をぬりましょう。

② 色をぬったところのかさは何Lですか。

_____ L



① $\frac{1}{3}$ Lの 1 分だけ色をぬりましょう。

② 色をぬったところのかさは何Lですか。

_____ L





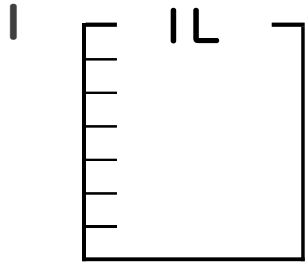
分数 5

● 分数の水のかさの色ぬり



日にち： 月 日

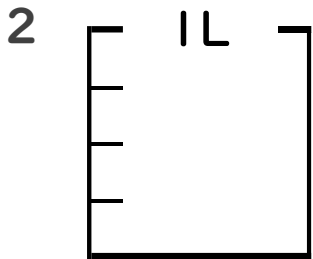
名まえ _____



① $\frac{1}{7}$ Lの 4 分だけ色をぬりましょう。

② 色をぬったところのかさは何Lですか。

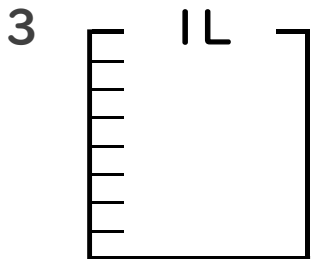
_____ L



① $\frac{1}{4}$ Lの 1 分だけ色をぬりましょう。

② 色をぬったところのかさは何Lですか。

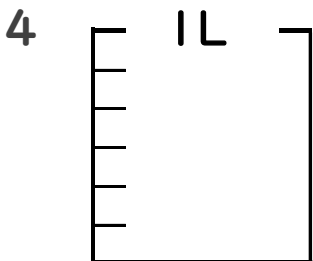
_____ L



① $\frac{1}{8}$ Lの 3 分だけ色をぬりましょう。

② 色をぬったところのかさは何Lですか。

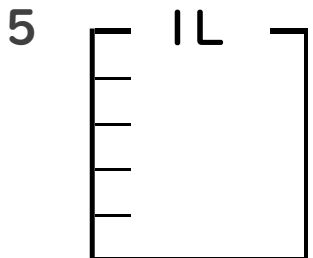
_____ L



① $\frac{1}{6}$ Lの 2 分だけ色をぬりましょう。

② 色をぬったところのかさは何Lですか。

_____ L



① $\frac{1}{5}$ Lの 2 分だけ色をぬりましょう。

② 色をぬったところのかさは何Lですか。

_____ L





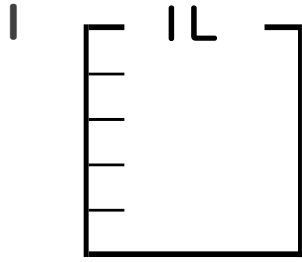
分数 5

● 分数の水のかさの色ぬり



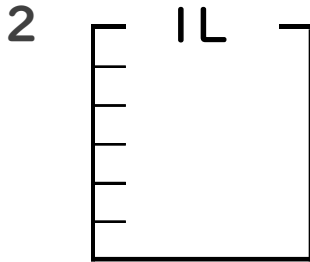
日にち： 月 日

名まえ _____



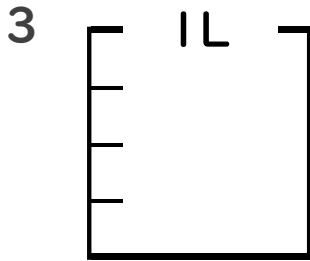
① $\frac{1}{5}$ Lの 3 こ分だけ色をぬりましょう。

② 色をぬったところのかさは何Lですか。 _____ L



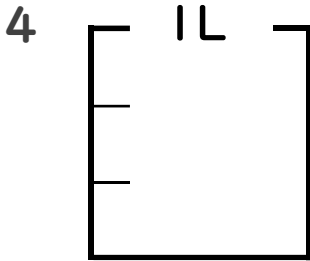
① $\frac{1}{6}$ Lの 1 こ分だけ色をぬりましょう。

② 色をぬったところのかさは何Lですか。 _____ L



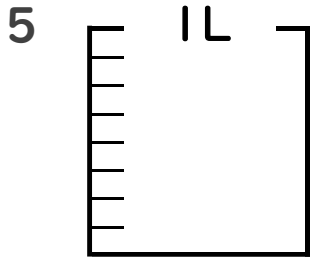
① $\frac{1}{4}$ Lの 2 こ分だけ色をぬりましょう。

② 色をぬったところのかさは何Lですか。 _____ L



① $\frac{1}{3}$ Lの 2 こ分だけ色をぬりましょう。

② 色をぬったところのかさは何Lですか。 _____ L



① $\frac{1}{8}$ Lの 6 こ分だけ色をぬりましょう。

② 色をぬったところのかさは何Lですか。 _____ L





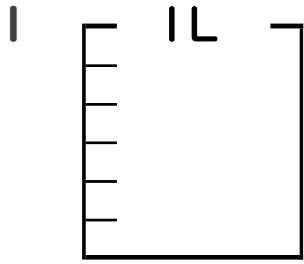
分数 5

● 分数の水のかさの色ぬり



日にち： 月 日

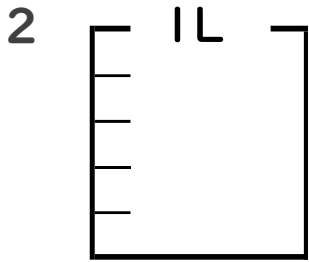
名まえ _____



① $\frac{1}{6}$ Lの 5 こ分だけ色をぬりましょう。

② 色をぬったところのかさは何Lですか。

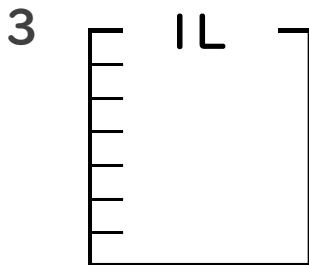
_____ L



① $\frac{1}{5}$ Lの 2 こ分だけ色をぬりましょう。

② 色をぬったところのかさは何Lですか。

_____ L

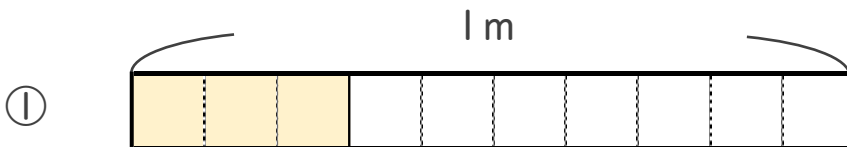


① $\frac{1}{7}$ Lの 4 こ分だけ色をぬりましょう。

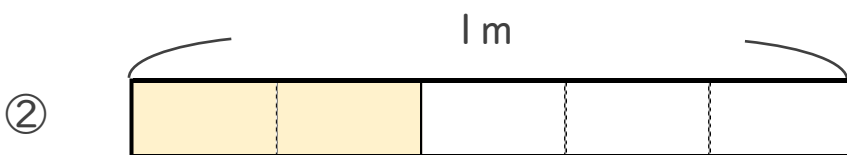
② 色をぬったところのかさは何Lですか。

_____ L

4 色をぬったところの長さは、何mでしょう。



こたえ： _____ m



こたえ： _____ m





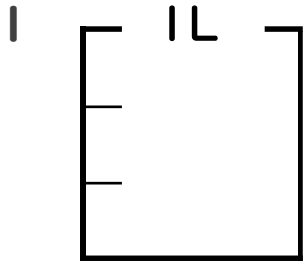
分数 5

● 分数の水のかさの色ぬり



日にち： 月 日

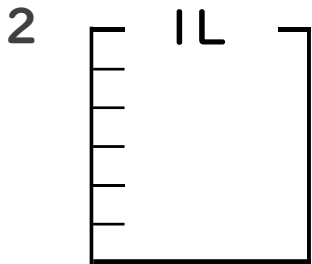
名まえ _____



① $\frac{1}{3}$ Lの 2 ぶんだけ色をぬりましょう。

② 色をぬったところのかさは何Lですか。

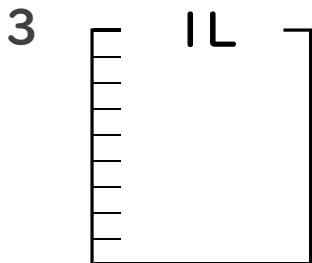
_____ L



① $\frac{1}{6}$ Lの 5 ぶんだけ色をぬりましょう。

② 色をぬったところのかさは何Lですか。

_____ L

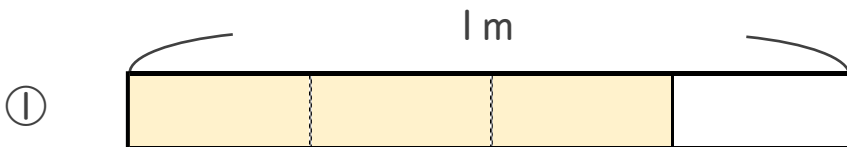


① $\frac{1}{9}$ Lの 4 ぶんだけ色をぬりましょう。

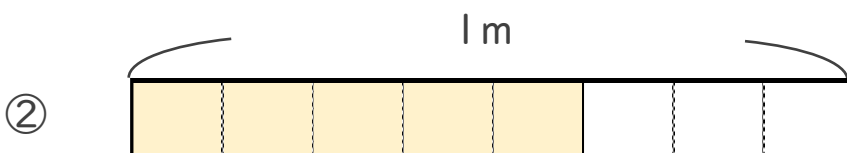
② 色をぬったところのかさは何Lですか。

_____ L

4 色をぬったところの長さは、何mでしょう。



こたえ： _____ m



こたえ： _____ m





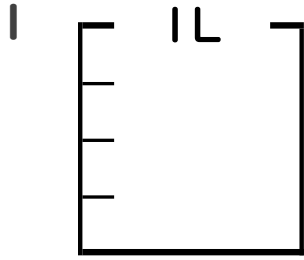
分数 5

● 分数の水のかさの色ぬり



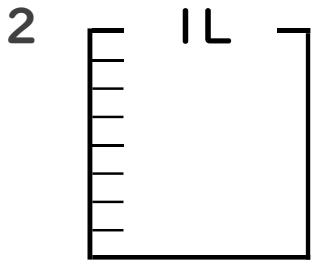
日にち： 月 日

名まえ _____



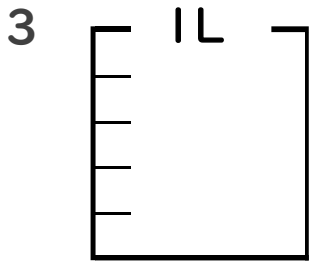
① $\frac{1}{4}$ Lの 3 こ分だけ色をぬりましょう。

② 色をぬったところのかさは何Lですか。 _____ L



① $\frac{1}{8}$ Lの 7 こ分だけ色をぬりましょう。

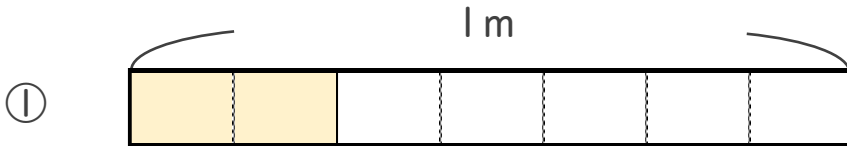
② 色をぬったところのかさは何Lですか。 _____ L



① $\frac{1}{5}$ Lの 2 こ分だけ色をぬりましょう。

② 色をぬったところのかさは何Lですか。 _____ L

4 色をぬったところの長さは、何mでしょう。



こたえ： _____ m



こたえ： _____ m



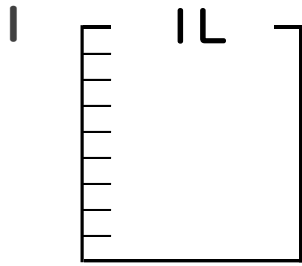
分数 5

● 分数の水のかさの色ぬり



日にち： 月 日

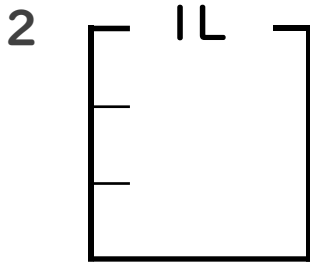
名まえ _____



① $\frac{1}{9}$ Lの 6 こ分だけ色をぬりましょう。

② 色をぬったところのかさは何Lですか。

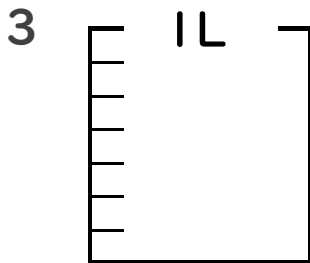
_____ L



① $\frac{1}{3}$ Lの 1 こ分だけ色をぬりましょう。

② 色をぬったところのかさは何Lですか。

_____ L



① $\frac{1}{7}$ Lの 3 こ分だけ色をぬりましょう。

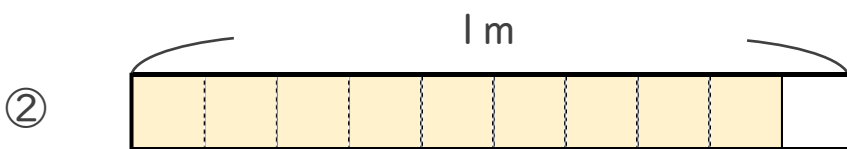
② 色をぬったところのかさは何Lですか。

_____ L

4 色をぬったところの長さは、何mでしょう。



こたえ： _____ m



こたえ： _____ m



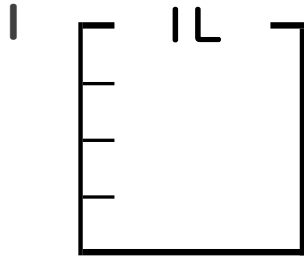
分数 5

● 分数の水のかさの色ぬり



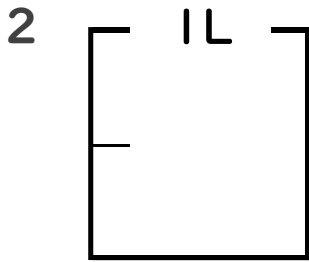
日にち： 月 日

名まえ _____



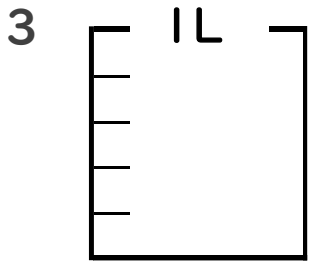
① $\frac{1}{4}$ Lの 1 分だけ色をぬりましょう。

② 色をぬったところのかさは何Lですか。 _____ L



① $\frac{1}{2}$ Lの 1 分だけ色をぬりましょう。

② 色をぬったところのかさは何Lですか。 _____ L



① $\frac{1}{5}$ Lの 4 分だけ色をぬりましょう。

② 色をぬったところのかさは何Lですか。 _____ L

4 色をぬったところの長さは、何mでしょう。



こたえ： _____ m



こたえ： _____ m




分数 5

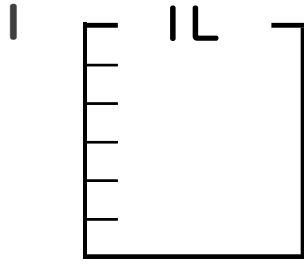
● 分数の水のかさの色ぬり

15

目指せ90点!

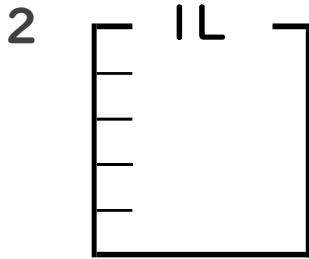


名まえ _____



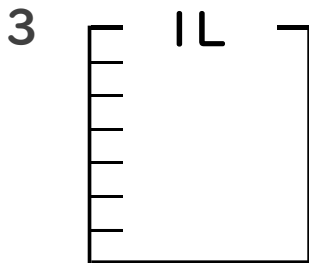
① $\frac{1}{6}$ Lの 5 こ分だけ色をぬりましょう。 (各10点)

② 色をぬったところのかさは何Lですか。 _____ L



① $\frac{1}{5}$ Lの 2 こ分だけ色をぬりましょう。 (各10点)

② 色をぬったところのかさは何Lですか。 _____ L



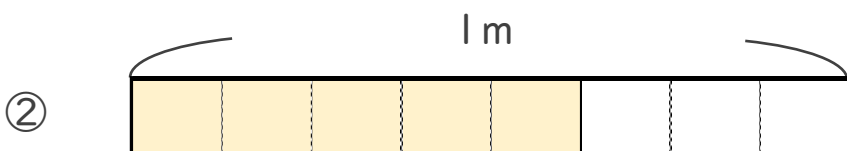
① $\frac{1}{7}$ Lの 4 こ分だけ色をぬりましょう。 (各10点)

② 色をぬったところのかさは何Lですか。 _____ L

4 色をぬったところの長さは、何mでしょう。(各20点)



こたえ： _____ m



こたえ： _____ m






分数 5

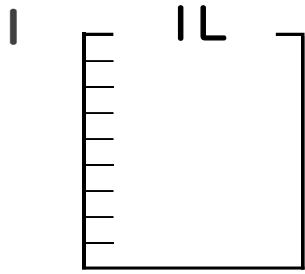
● 分数の水のかさの色ぬり

16

目指せ90点!

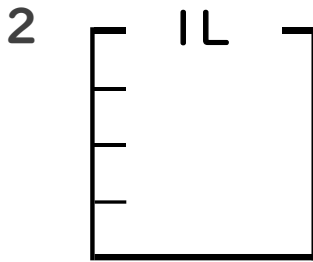


名まえ _____



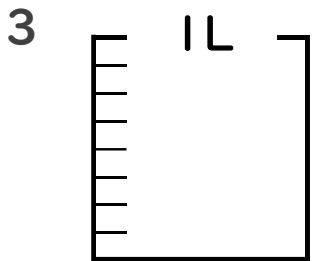
① $\frac{1}{9}$ Lの 5 こ分だけ色をぬりましょう。(各10点)

② 色をぬったところのかさは何Lですか。 _____ L



① $\frac{1}{4}$ Lの 2 こ分だけ色をぬりましょう。(各10点)

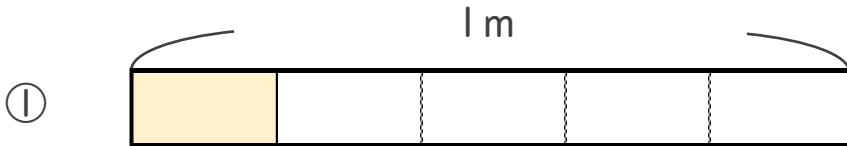
② 色をぬったところのかさは何Lですか。 _____ L



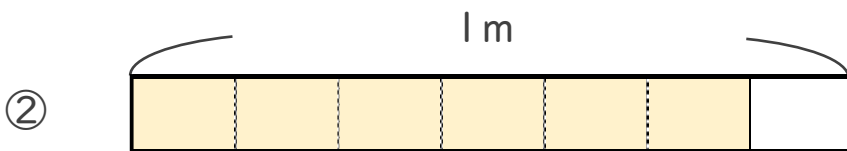
① $\frac{1}{8}$ Lの 4 こ分だけ色をぬりましょう。(各10点)

② 色をぬったところのかさは何Lですか。 _____ L

4 色をぬったところの長さは、何mでしょう。(各20点)



こたえ： _____ m



こたえ： _____ m





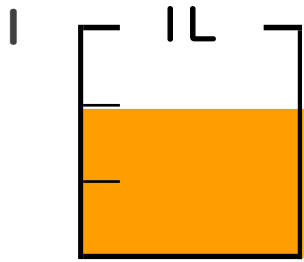
分数 5

◎ 分数の水のかさの色ぬり



日にち： 月 日

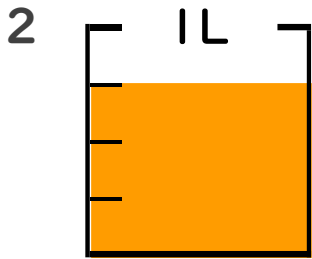
名まえ _____



- ① $\frac{1}{3}$ Lの 2 部分だけ色をぬりましょう。
(うすいところはなぞりましょう。)

- ② 色をぬったところのかさは何Lですか。
(うすい字はなぞりましょう。)

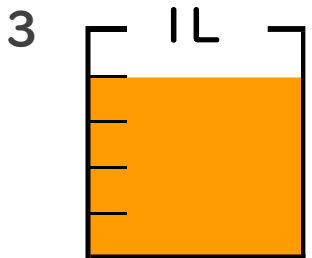
$$\frac{2}{3} \text{ L}$$



- ① $\frac{1}{4}$ Lの 3 部分だけ色をぬりましょう。

- ② 色をぬったところのかさは何Lですか。

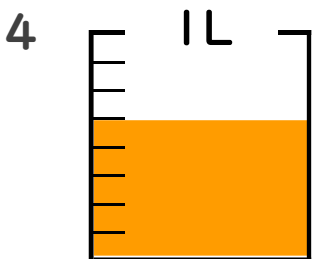
$$\frac{3}{4} \text{ L}$$



- ① $\frac{1}{5}$ Lの 4 部分だけ色をぬりましょう。

- ② 色をぬったところのかさは何Lですか。

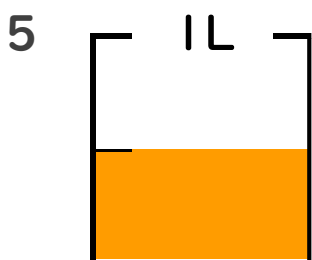
$$\frac{4}{5} \text{ L}$$



- ① $\frac{1}{8}$ Lの 5 部分だけ色をぬりましょう。

- ② 色をぬったところのかさは何Lですか。

$$\frac{5}{8} \text{ L}$$



- ① $\frac{1}{2}$ Lの 1 部分だけ色をぬりましょう。

- ② 色をぬったところのかさは何Lですか。

$$\frac{1}{2} \text{ L}$$





分数 5

● 分数の水のかさの色ぬり



日にち： 月 日

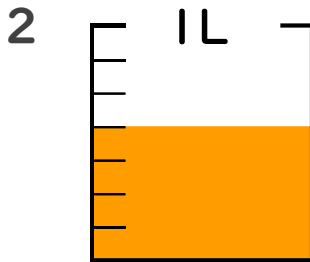
名まえ _____



① $\frac{1}{5}$ Lの 3 分だけ色をぬりましょう。

② 色をぬったところのかさは何Lですか。
(うすい字はなぞりましょう。)

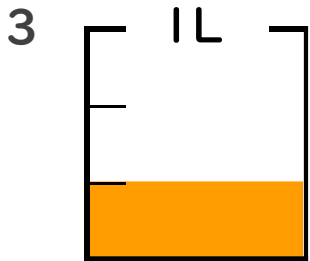
$\frac{3}{5}$ L



① $\frac{1}{7}$ Lの 4 分だけ色をぬりましょう。

② 色をぬったところのかさは何Lですか。

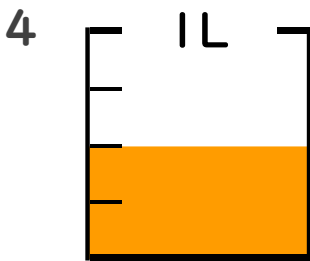
$\frac{4}{7}$ L



① $\frac{1}{3}$ Lの 1 分だけ色をぬりましょう。

② 色をぬったところのかさは何Lですか。

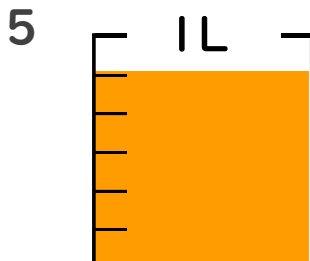
$\frac{1}{3}$ L



① $\frac{1}{4}$ Lの 2 分だけ色をぬりましょう。

② 色をぬったところのかさは何Lですか。

$\frac{2}{4}$ L



① $\frac{1}{6}$ Lの 5 分だけ色をぬりましょう。

② 色をぬったところのかさは何Lですか。

$\frac{5}{6}$ L





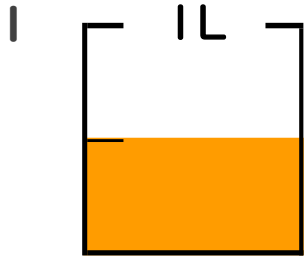
分数 5

分数の水のかさの色ぬり



日にち： 月 日

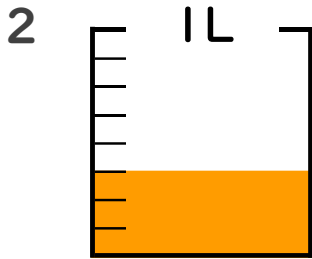
名まえ _____



① $\frac{1}{2}$ Lの 1 分だけ色をぬりましょう。

② 色をぬったところのかさは何Lですか。

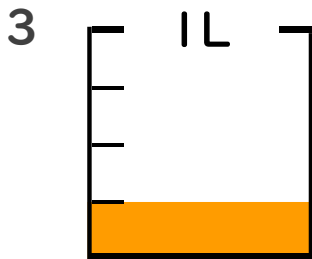
$\frac{1}{2}$ L



① $\frac{1}{8}$ Lの 3 分だけ色をぬりましょう。

② 色をぬったところのかさは何Lですか。

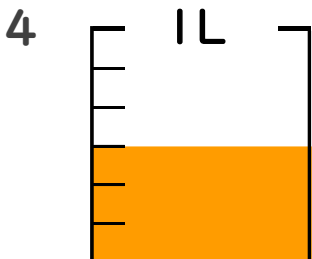
$\frac{3}{8}$ L



① $\frac{1}{4}$ Lの 1 分だけ色をぬりましょう。

② 色をぬったところのかさは何Lですか。

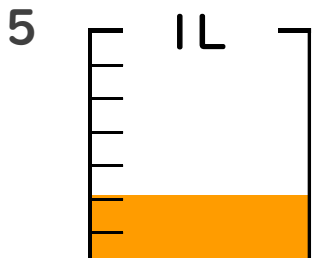
$\frac{1}{4}$ L



① $\frac{1}{6}$ Lの 3 分だけ色をぬりましょう。

② 色をぬったところのかさは何Lですか。

$\frac{3}{6}$ L



① $\frac{1}{7}$ Lの 2 分だけ色をぬりましょう。

② 色をぬったところのかさは何Lですか。

$\frac{2}{7}$ L





分数 5

◎ 分数の水のかさの色ぬり



日にち： 月 日

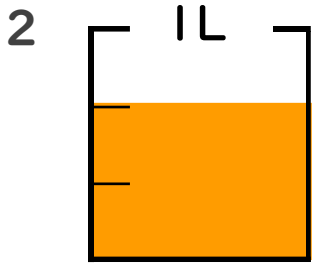
名まえ _____



① $\frac{1}{6}$ Lの 4 こ分だけ色をぬりましょう。

② 色をぬったところのかさは何Lですか。

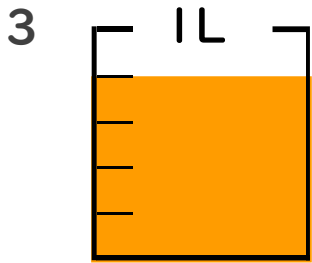
$\frac{4}{6}$ L



① $\frac{1}{3}$ Lの 2 こ分だけ色をぬりましょう。

② 色をぬったところのかさは何Lですか。

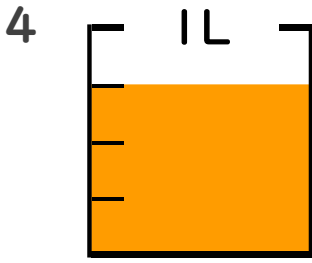
$\frac{2}{3}$ L



① $\frac{1}{5}$ Lの 4 こ分だけ色をぬりましょう。

② 色をぬったところのかさは何Lですか。

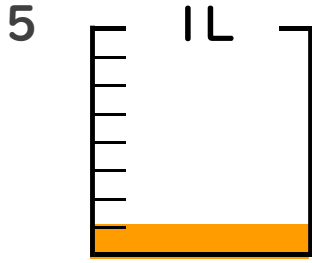
$\frac{4}{5}$ L



① $\frac{1}{4}$ Lの 3 こ分だけ色をぬりましょう。

② 色をぬったところのかさは何Lですか。

$\frac{3}{4}$ L



① $\frac{1}{8}$ Lの 1 こ分だけ色をぬりましょう。

② 色をぬったところのかさは何Lですか。

$\frac{1}{8}$ L





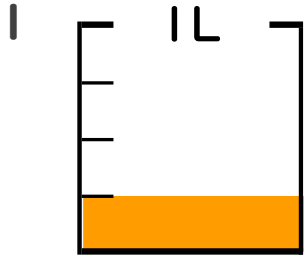
分数 5

● 分数の水のかさの色ぬり



日にち： 月 日

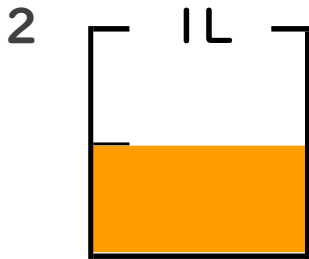
名まえ _____



① $\frac{1}{4}$ Lの 1 分だけ色をぬりましょう。

② 色をぬったところのかさは何Lですか。

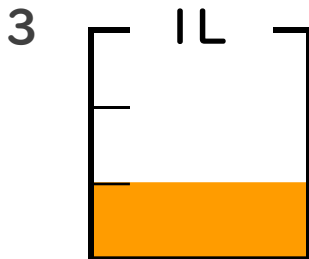
$\frac{1}{4}$ L



① $\frac{1}{2}$ Lの 1 分だけ色をぬりましょう。

② 色をぬったところのかさは何Lですか。

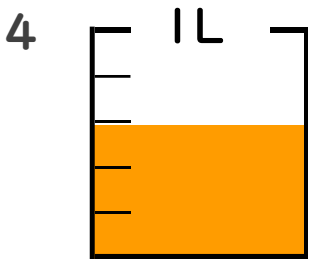
$\frac{1}{2}$ L



① $\frac{1}{3}$ Lの 1 分だけ色をぬりましょう。

② 色をぬったところのかさは何Lですか。

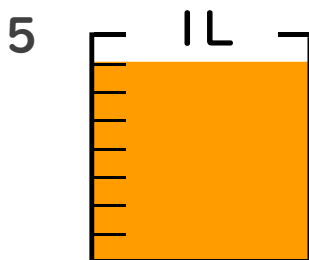
$\frac{1}{3}$ L



① $\frac{1}{5}$ Lの 3 分だけ色をぬりましょう。

② 色をぬったところのかさは何Lですか。

$\frac{3}{5}$ L



① $\frac{1}{8}$ Lの 7 分だけ色をぬりましょう。

② 色をぬったところのかさは何Lですか。

$\frac{7}{8}$ L





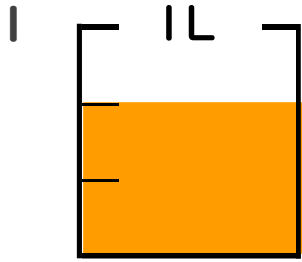
分数 5

● 分数の水のかさの色ぬり



日にち： 月 日

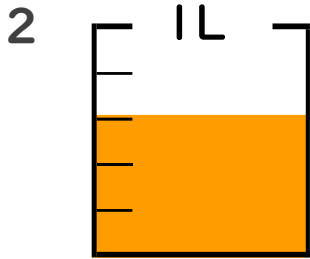
名まえ _____



① $\frac{1}{3}$ Lの 2 分だけ色をぬりましょう。

② 色をぬったところのかさは何Lですか。

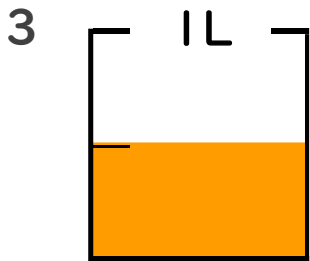
$\frac{2}{3}$ L



① $\frac{1}{5}$ Lの 3 分だけ色をぬりましょう。

② 色をぬったところのかさは何Lですか。

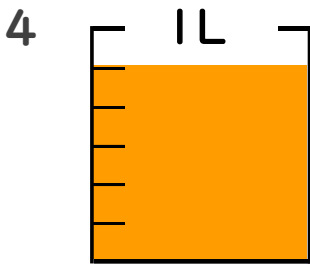
$\frac{3}{5}$ L



① $\frac{1}{2}$ Lの 1 分だけ色をぬりましょう。

② 色をぬったところのかさは何Lですか。

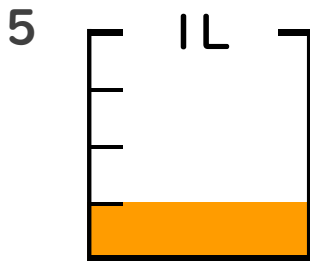
$\frac{1}{2}$ L



① $\frac{5}{6}$ Lの 3 分だけ色をぬりましょう。

② 色をぬったところのかさは何Lですか。

$\frac{5}{6}$ L



① $\frac{1}{4}$ Lの 1 分だけ色をぬりましょう。

② 色をぬったところのかさは何Lですか。

$\frac{1}{4}$ L





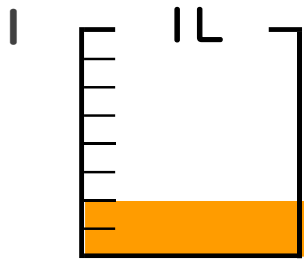
分数 5

● 分数の水のかさの色ぬり



日にち： 月 日

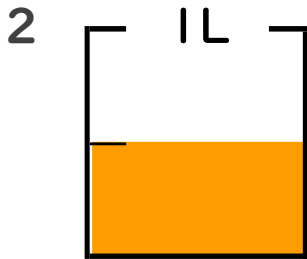
名まえ _____



① $\frac{1}{8}$ Lの 2 ぶんだけ色をぬりましょう。

② 色をぬったところのかさは何Lですか。

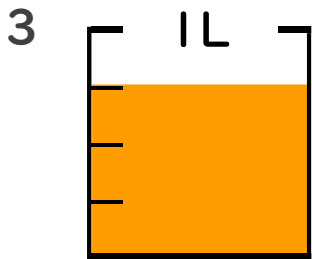
$\frac{2}{8}$ L



① $\frac{1}{2}$ Lの 1 ぶんだけ色をぬりましょう。

② 色をぬったところのかさは何Lですか。

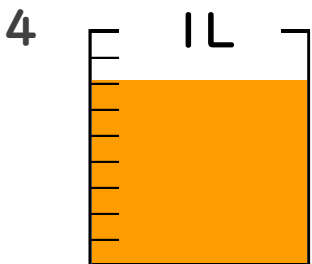
$\frac{1}{2}$ L



① $\frac{1}{4}$ Lの 3 ぶんだけ色をぬりましょう。

② 色をぬったところのかさは何Lですか。

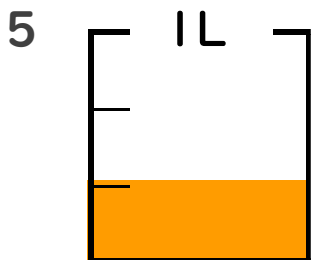
$\frac{3}{4}$ L



① $\frac{1}{9}$ Lの 7 ぶんだけ色をぬりましょう。

② 色をぬったところのかさは何Lですか。

$\frac{7}{9}$ L



① $\frac{1}{3}$ Lの 1 ぶんだけ色をぬりましょう。

② 色をぬったところのかさは何Lですか。

$\frac{1}{3}$ L





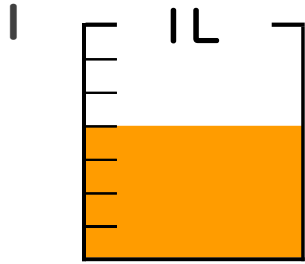
分数 5

◎ 分数の水のかさの色ぬり



日にち： 月 日

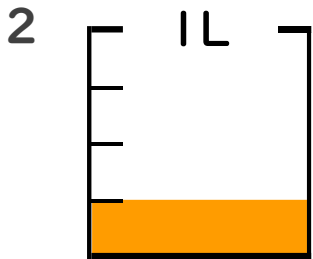
名まえ _____



① $\frac{1}{7}$ Lの 4 ぶんだけ色をぬりましょう。

② 色をぬったところのかさは何Lですか。

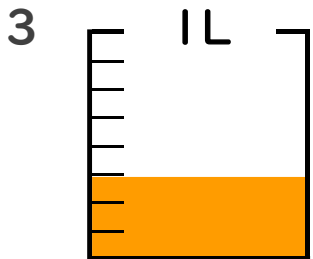
$\frac{4}{7}$ L



① $\frac{1}{4}$ Lの 1 ぶんだけ色をぬりましょう。

② 色をぬったところのかさは何Lですか。

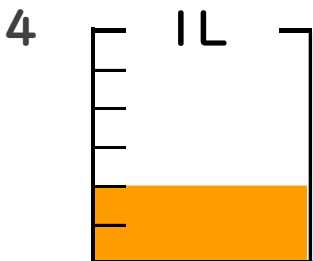
$\frac{1}{4}$ L



① $\frac{1}{8}$ Lの 3 ぶんだけ色をぬりましょう。

② 色をぬったところのかさは何Lですか。

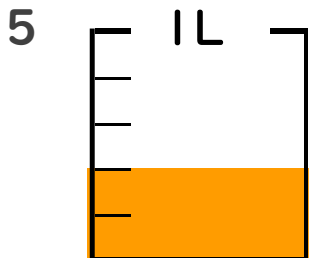
$\frac{3}{8}$ L



① $\frac{1}{6}$ Lの 2 ぶんだけ色をぬりましょう。

② 色をぬったところのかさは何Lですか。

$\frac{2}{6}$ L



① $\frac{1}{5}$ Lの 2 ぶんだけ色をぬりましょう。

② 色をぬったところのかさは何Lですか。

$\frac{2}{5}$ L





分数 5

◎ 分数の水のかさの色ぬり



日にち： 月 日

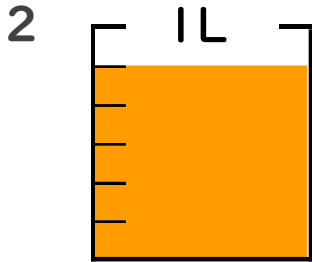
名まえ _____



① $\frac{1}{5}$ Lの 3 こ分だけ色をぬりましょう。

② 色をぬったところのかさは何Lですか。

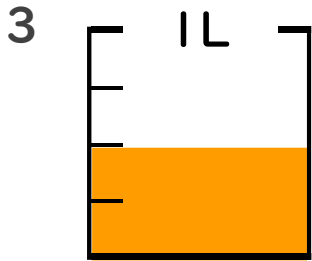
$\frac{3}{5}$ L



① $\frac{1}{6}$ Lの 1 こ分だけ色をぬりましょう。

② 色をぬったところのかさは何Lですか。

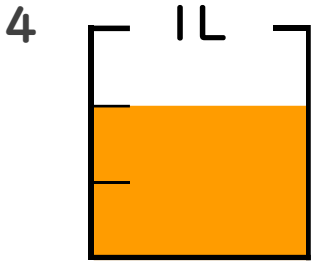
$\frac{5}{6}$ L



① $\frac{1}{4}$ Lの 2 こ分だけ色をぬりましょう。

② 色をぬったところのかさは何Lですか。

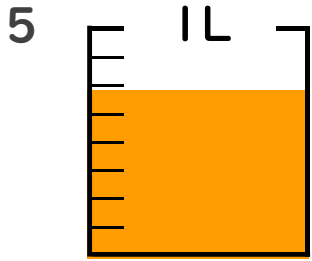
$\frac{2}{4}$ L



① $\frac{1}{3}$ Lの 2 こ分だけ色をぬりましょう。

② 色をぬったところのかさは何Lですか。

$\frac{2}{3}$ L



① $\frac{1}{8}$ Lの 6 こ分だけ色をぬりましょう。

② 色をぬったところのかさは何Lですか。

$\frac{6}{8}$ L





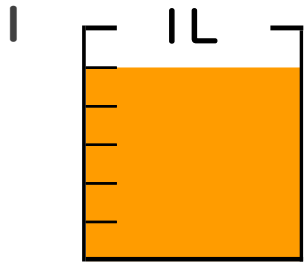
分数 5

● 分数の水のかさの色ぬり



日にち： 月 日

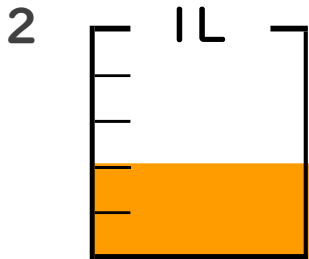
名まえ _____



① $\frac{1}{6}$ Lの 5 こ分だけ色をぬりましょう。

② 色をぬったところのかさは何Lですか。

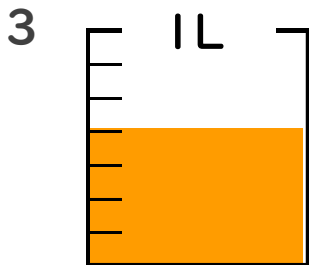
 $\frac{5}{6}$ L



① $\frac{1}{5}$ Lの 2 こ分だけ色をぬりましょう。

② 色をぬったところのかさは何Lですか。

 $\frac{2}{5}$ L

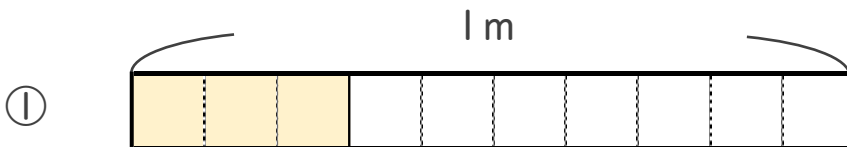


① $\frac{1}{7}$ Lの 4 こ分だけ色をぬりましょう。

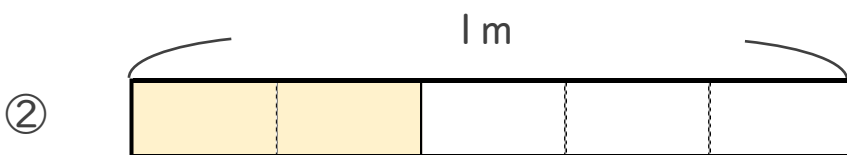
② 色をぬったところのかさは何Lですか。

 $\frac{4}{7}$ L

4 色をぬったところの長さは、何mでしょう。



こたえ：
 $\frac{3}{10}$ m



こたえ：
 $\frac{2}{5}$ m





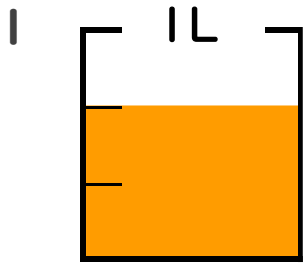
分数 5

● 分数の水のかさの色ぬり



日にち： 月 日

名まえ _____



① $\frac{1}{3}$ Lの 2 分だけ色をぬりましょう。

② 色をぬったところのかさは何Lですか。

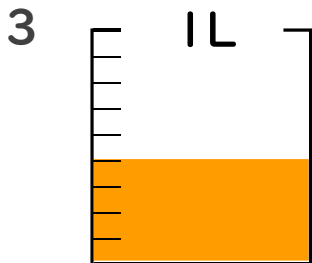
 $\frac{2}{3}$ L



① $\frac{1}{6}$ Lの 5 分だけ色をぬりましょう。

② 色をぬったところのかさは何Lですか。

 $\frac{5}{6}$ L

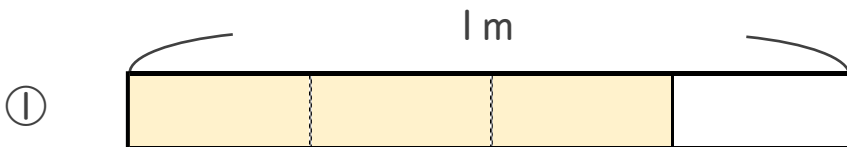


① $\frac{1}{9}$ Lの 4 分だけ色をぬりましょう。

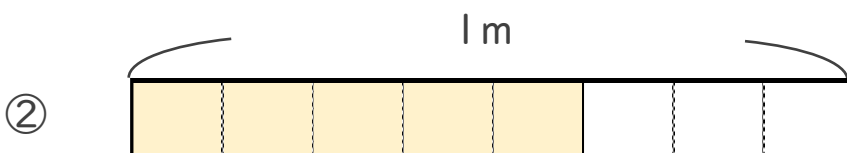
② 色をぬったところのかさは何Lですか。

 $\frac{4}{9}$ L

4 色をぬったところの長さは、何mでしょう。



こたえ：
 $\frac{3}{4}$ m



こたえ：
 $\frac{5}{8}$ m





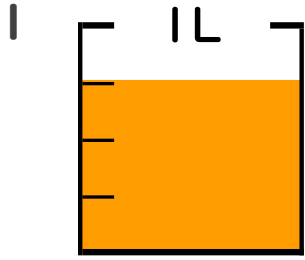
分数 5

● 分数の水のかさの色ぬり



日にち： 月 日

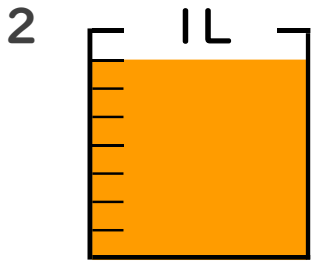
名まえ _____



① $\frac{1}{4}$ Lの 3 ぶんだけ色をぬりましょう。

② 色をぬったところのかさは何Lですか。

 $\frac{3}{4}$ L



① $\frac{1}{8}$ Lの 7 ぶんだけ色をぬりましょう。

② 色をぬったところのかさは何Lですか。

 $\frac{7}{8}$ L

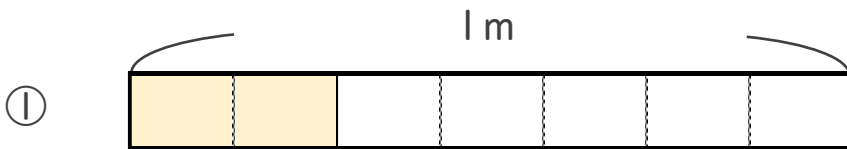


① $\frac{1}{5}$ Lの 2 ぶんだけ色をぬりましょう。

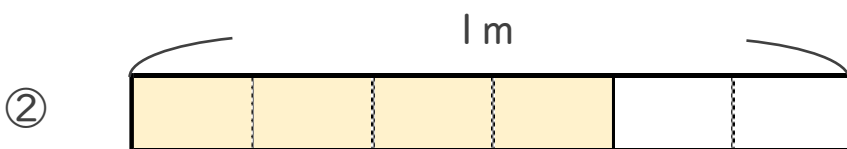
② 色をぬったところのかさは何Lですか。

 $\frac{2}{5}$ L

4 色をぬったところの長さは、何mでしょう。



こたえ：
 $\frac{2}{7}$ m



こたえ：
 $\frac{4}{6}$ m





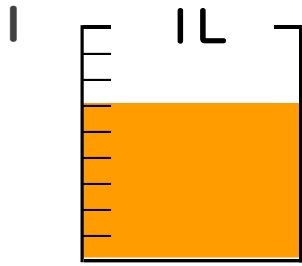
分数 5

● 分数の水のかさの色ぬり



日にち： 月 日

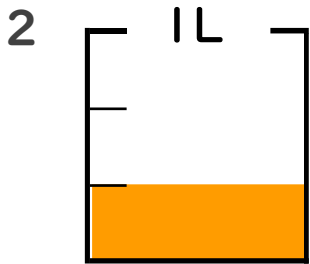
名まえ _____



① $\frac{1}{9}$ Lの 6 ぶんだけ色をぬりましょう。

② 色をぬったところのかさは何Lですか。

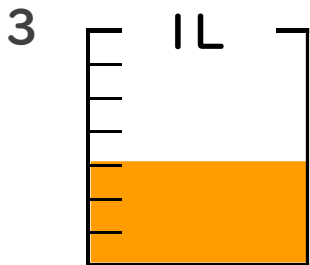
 $\frac{6}{9}$ L



① $\frac{1}{3}$ Lの 1 ぶんだけ色をぬりましょう。

② 色をぬったところのかさは何Lですか。

 $\frac{1}{3}$ L



① $\frac{1}{7}$ Lの 3 ぶんだけ色をぬりましょう。

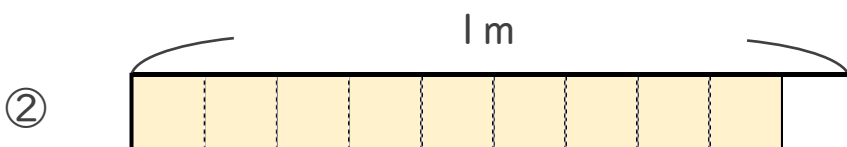
② 色をぬったところのかさは何Lですか。

 $\frac{3}{7}$ L

4 色をぬったところの長さは、何mでしょう。



こたえ：
 $\frac{2}{5}$ m



こたえ：
 $\frac{9}{10}$ m





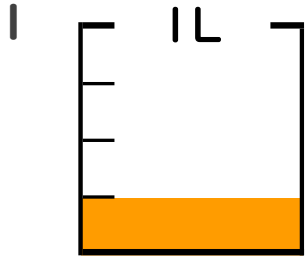
分数 5

● 分数の水のかさの色ぬり



日にち： 月 日

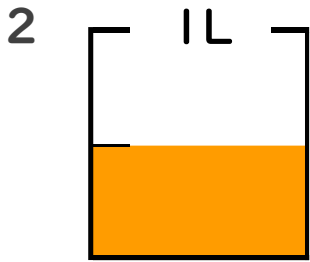
名まえ _____



① $\frac{1}{4}$ Lの 1 分だけ色をぬりましょう。

② 色をぬったところのかさは何Lですか。

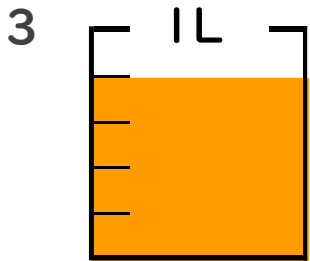
 $\frac{1}{4}$ L



① $\frac{1}{2}$ Lの 1 分だけ色をぬりましょう。

② 色をぬったところのかさは何Lですか。

 $\frac{1}{2}$ L



① $\frac{1}{5}$ Lの 4 分だけ色をぬりましょう。

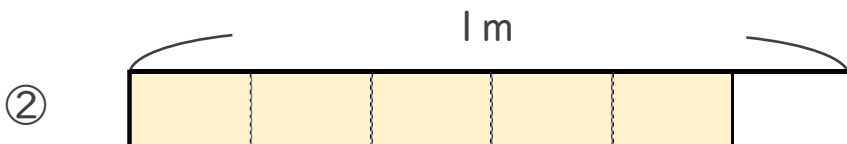
② 色をぬったところのかさは何Lですか。

 $\frac{4}{5}$ L

4 色をぬったところの長さは、何mでしょう。



こたえ：
 $\frac{7}{10}$ m



こたえ：
 $\frac{5}{6}$ m






分数 5

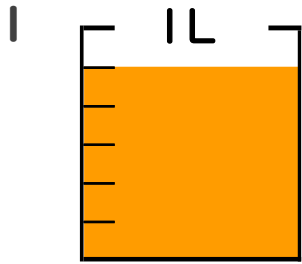
● 分数の水のかさの色ぬり

15

目指せ90点!

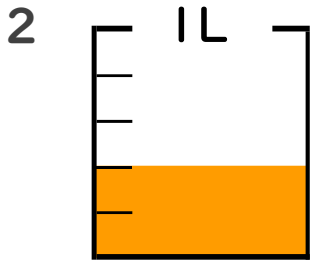


名まえ _____



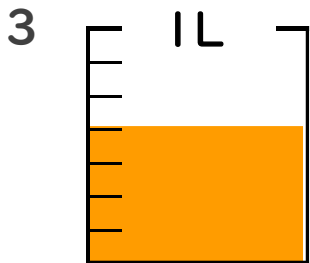
① $\frac{1}{6}$ Lの 5 こ分だけ色をぬりましょう。 (各10点)

② 色をぬったところのかさは何Lですか。 $\frac{5}{6}$ L



① $\frac{1}{5}$ Lの 2 こ分だけ色をぬりましょう。 (各10点)

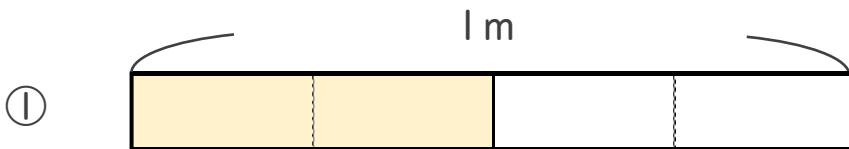
② 色をぬったところのかさは何Lですか。 $\frac{2}{5}$ L



① $\frac{1}{7}$ Lの 4 こ分だけ色をぬりましょう。 (各10点)

② 色をぬったところのかさは何Lですか。 $\frac{4}{7}$ L

4 色をぬったところの長さは、何mでしょう。(各20点)



こたえ： $\frac{2}{4}$ m



こたえ： $\frac{5}{8}$ m






分数 5

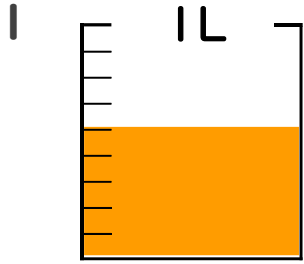
● 分数の水のかさの色ぬり

16

目指せ90点!



名まえ _____



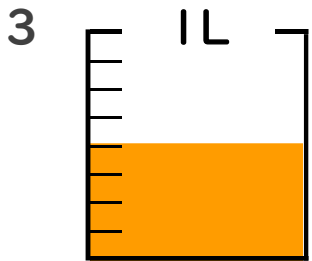
① $\frac{1}{9}$ Lの 5 ぶんだけ色をぬりましょう。(各10点)

② 色をぬったところのかさは何Lですか。 $\frac{5}{9}$ L



① $\frac{1}{4}$ Lの 2 ぶんだけ色をぬりましょう。(各10点)

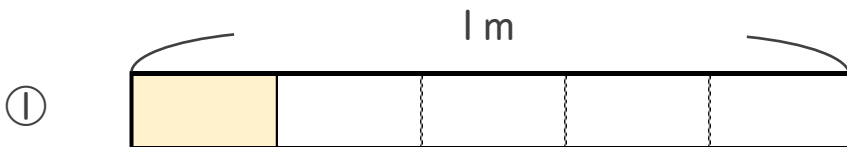
② 色をぬったところのかさは何Lですか。 $\frac{2}{4}$ L



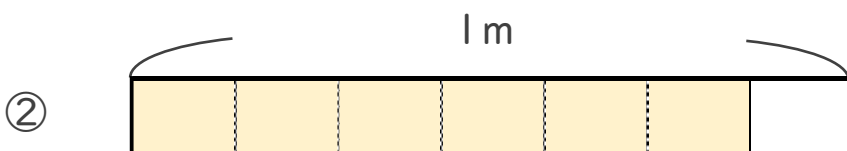
① $\frac{1}{8}$ Lの 4 ぶんだけ色をぬりましょう。(各10点)

② 色をぬったところのかさは何Lですか。 $\frac{4}{8}$ L

4 色をぬったところの長さは、何mでしょう。(各20点)



こたえ： $\frac{1}{5}$ m



こたえ： $\frac{6}{7}$ m

