



大きい数のわり算 3

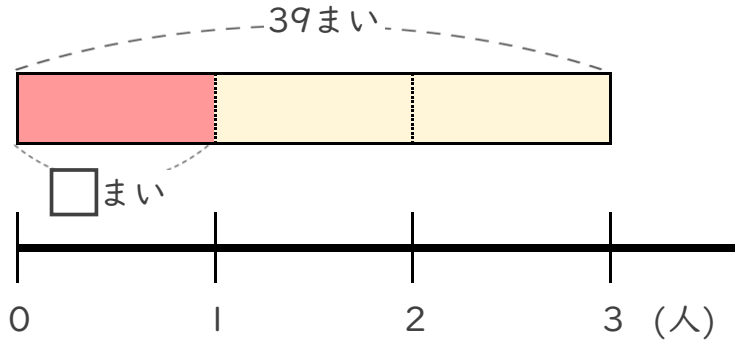
◎ 39まいのおり紙を
3人でわける



日にち： 月 日

名まえ _____

- ・ 39まいのおり紙を、3人で同じ数ずつ分けます。
1人分は何まいになりますか。
(うすい字はなぞりましょう。)

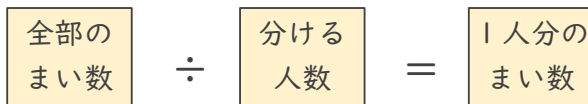
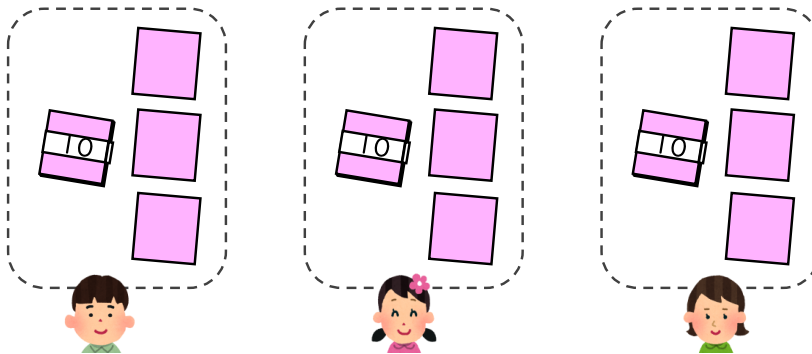


① 計算の式を書きましょう。



式 _____

② 下の図をもとに計算してみましょう。



式: $39 \div 3 =$

39
30 9
↓
$30 \div 3 = 10$
$9 \div 3 = 3$
あわせて 13

答え _____ まい



大きい数のわり算 3

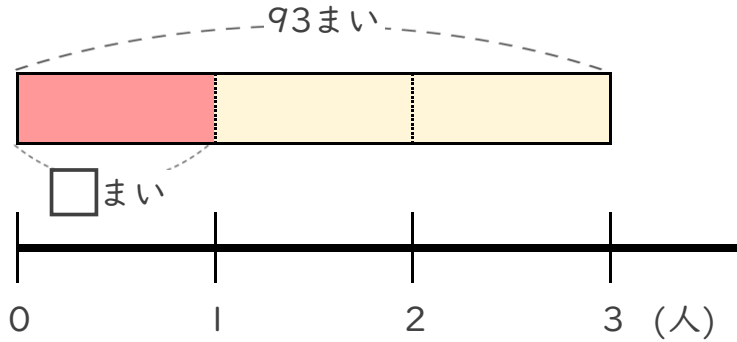
◎ 39まいのおり紙を
3人でわける



日にち： 月 日

名まえ _____

- ・ 93まいのおり紙を、3人で同じ数ずつ分けます。
1人分は何まいになりますか。
(うすい字はなぞりましょう。)

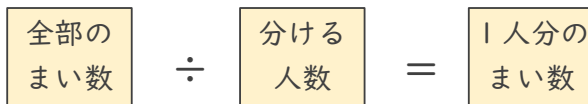
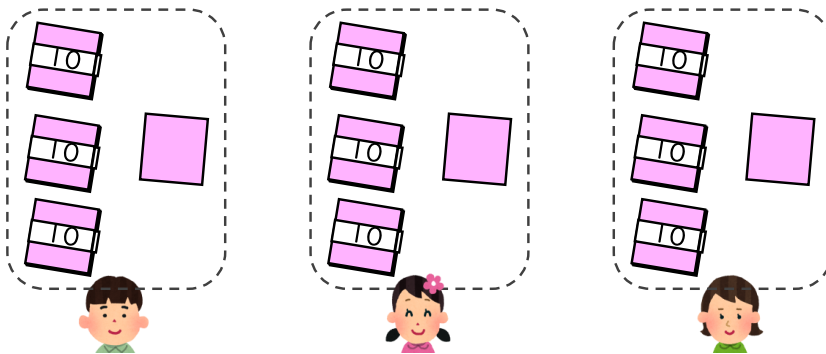


① 計算の式を書きましょう。



式 _____

② 下の図をもとに計算してみましょう。



式: ÷ =

93

93 3

↓

$90 \div 3 = 30$

$3 \div 3 = 1$

あわせて ?

答え _____



大きい数のわり算 3

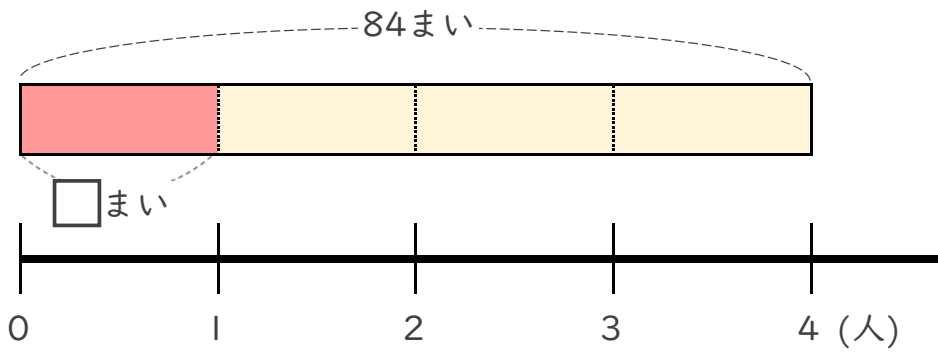
◎ 39まいのおり紙を
3人でわける



日にち： 月 日

名まえ _____

- ・ 84まいのおり紙を、4人で同じ数ずつ分けます。
1人分は何まいになりますか。



① 計算の式を書きましょう。


全部の
まい数

÷

分ける
人数

式

② 下の図をもとに計算してみましょう。



84

80 4

↓

80 ÷ 4 = ?

4 ÷ 4 = ?

あわせて ?

全部の
まい数 ÷ 分ける
人数 = 1人分の
まい数

式:

答え



大きい数のわり算 3

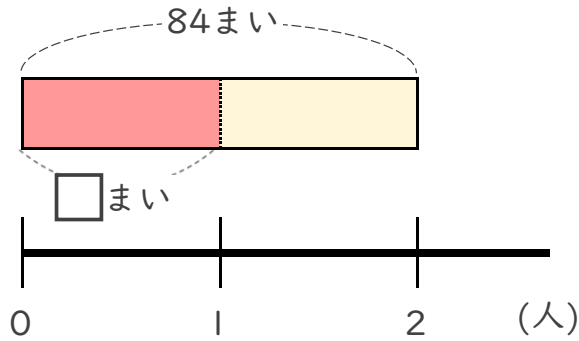
◎ 39まいのおり紙を
3人でわける



日にち： 月 日

名まえ _____

- ・ 84まいのおり紙を、2人で同じ数ずつ分けます。
1人分は何まいになりますか。

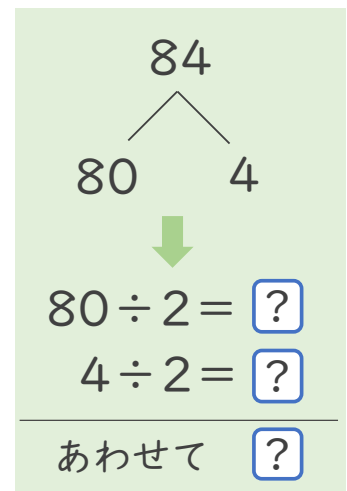
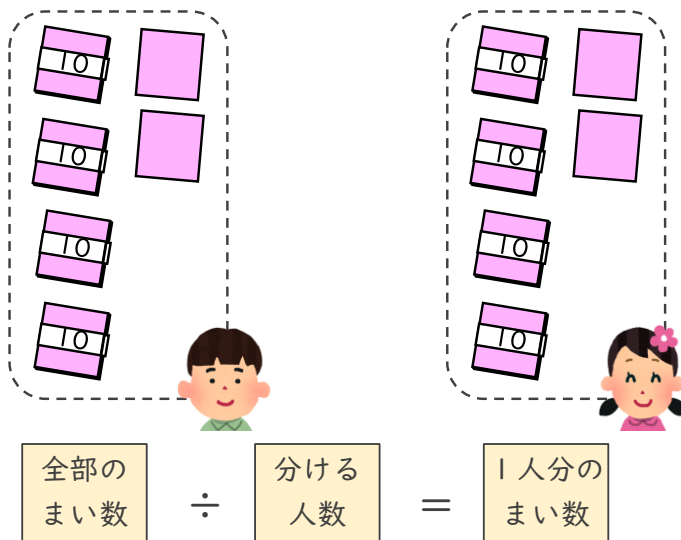


① 計算の式を書きましょう。

全部の まい数	÷	分ける 人数
------------	---	-----------

式 _____

② 下の図をもとに計算してみましょう。



式:

答え _____



大きい数のわり算 3

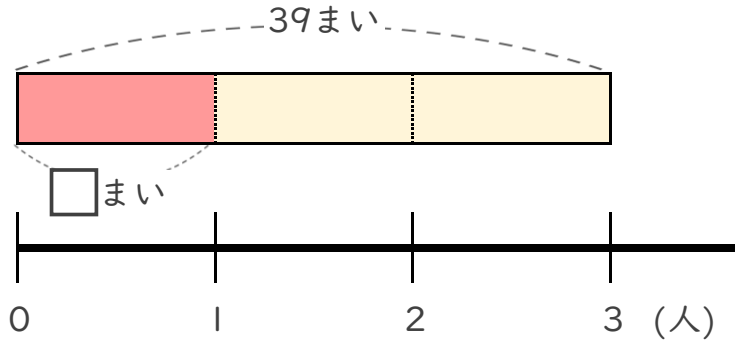
◎ 39まいのおり紙を
3人でわける



日にち： 月 日

名まえ _____

- ・ 39まいのおり紙を、3人で同じ数ずつ分けます。
1人分は何まいになりますか。
(うすい字はなぞりましょう。)

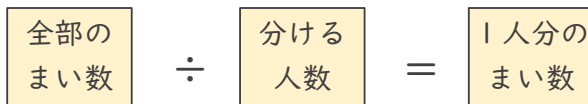
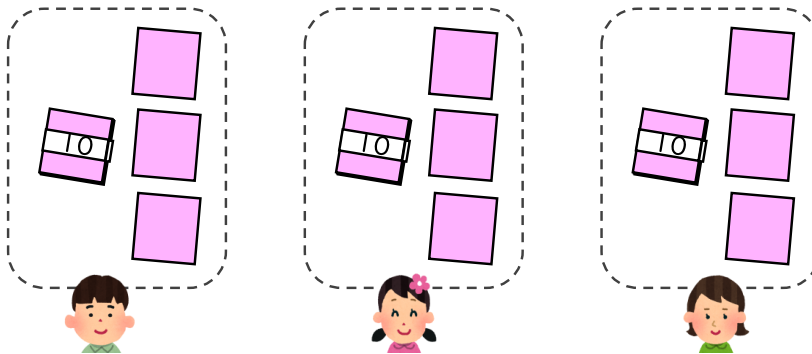


① 計算の式を書きましょう。

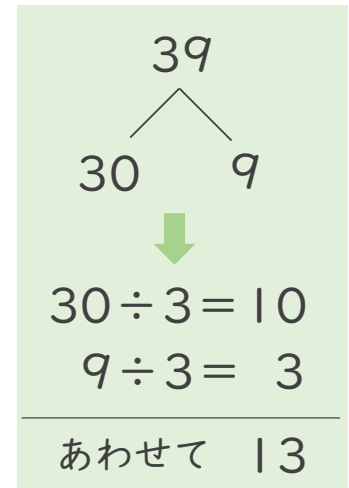


式 $39 \div 3$

② 下の図をもとに計算してみましょう。



式: $39 \div 3 = 13$



答え 13 まい



大きい数のわり算 3

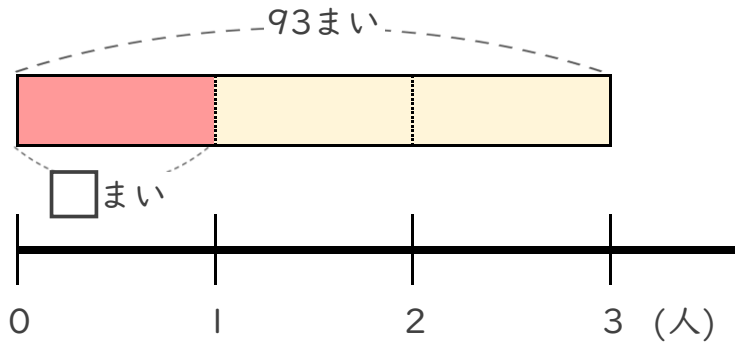
◎ 39まいのおり紙を
3人でわける



日にち： 月 日

名まえ _____

- ・ 93まいのおり紙を、3人で同じ数ずつ分けます。
1人分は何まいになりますか。
(うすい字はなぞりましょう。)

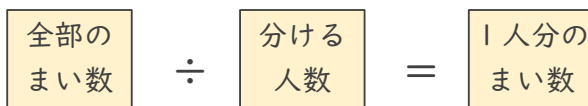
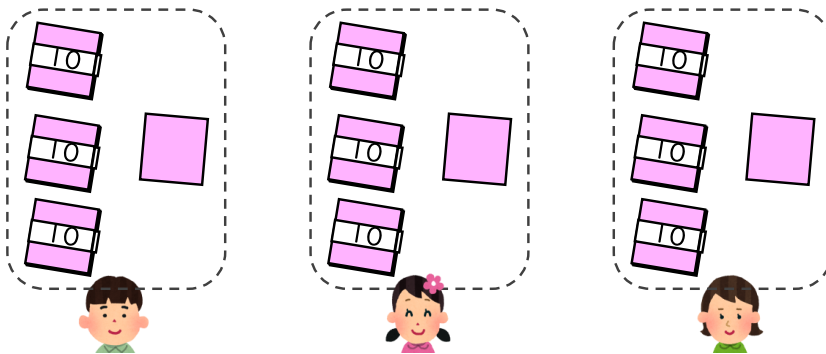


① 計算の式を書きましょう。



式 $93 \div 3$

② 下の図をもとに計算してみましょう。



式: $93 \div 3 = 31$

93

93 3

↓

$90 \div 3 = 30$

$3 \div 3 = 1$

あわせて ?

答え 31 まい



大きい数のわり算 3

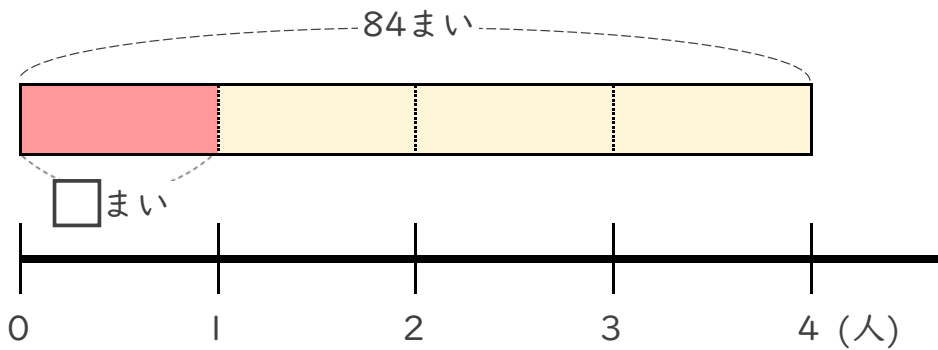
◎ 39まいのおり紙を
3人でわける



日にち： 月 日

名まえ _____

- ・ 84まいのおり紙を、4人で同じ数ずつ分けます。
1人分は何まいになりますか。



① 計算の式を書きましょう。


全部の
まい数

÷

分ける
人数

式 $84 \div 4$

② 下の図をもとに計算してみましょう。



84
 80 4
 ↓
 $80 \div 4 = ?$
 $4 \div 4 = ?$
 あわせて ?

全部の
まい数 ÷ 分ける
人数 = 1人分の
まい数

式: $84 \div 4 = 21$

答え 21 まい



大きい数のわり算 3

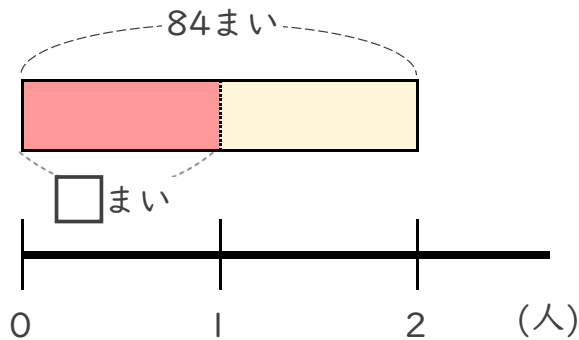
◎ 39まいのおり紙を
3人でわける



日にち： 月 日

名まえ _____

- ・ 84まいのおり紙を、2人で同じ数ずつ分けます。
1人分は何まいになりますか。

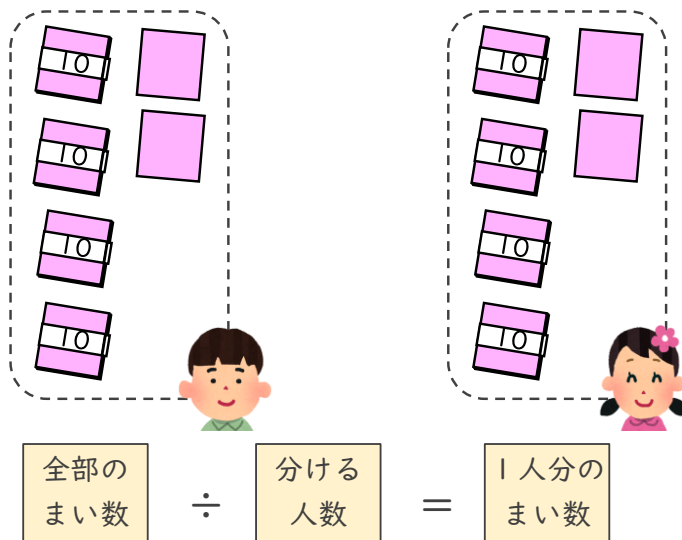


- ① 計算の式を書きましょう。

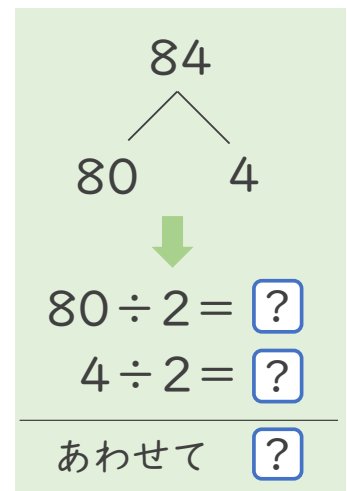


式 $84 \div 2$

- ② 下の図をもとに計算してみましょう。



式: $84 \div 2 = 42$



答え 42 まい