



# 小数のたし算とひき算 10

◎ 整数と小数のひき算の筆算



日にち： 月 日

名まえ \_\_\_\_\_

・ 次の計算をしましょう。（うすい字はなぞりましょう。）

①

	7	0
-	3	2
<hr/>		
	3	8

②

	9	5
-	4	0
<hr/>		
	5	5

③

	5	
-	3	7
<hr/>		

④

	9	5
-	8	
<hr/>		

⑤

	9	
-	1	5
<hr/>		

⑥

	7	
-	5	3
<hr/>		

⑦ 5 - 3.1

⑧ 6.7 - 4

⑨ 9.7 - 3

	5	0
-	3	1
<hr/>		



⑩ 8.3 - 4

⑪ 6 - 1.5

⑫ 7 - 5.4






# 小数のたし算とひき算 10

◎ 整数と小数のひき算の筆算



日にち： 月 日

名まえ \_\_\_\_\_

・ 次の計算をしましょう。（うすい字はなぞりましょう。）

①

	8	0
-	3	3
<hr/>		
	4	7

②

	8	4
-	3	0
<hr/>		

③

	6	
-	3	5
<hr/>		

④

	7	5
-	6	
<hr/>		

⑤

	6	
-	1	2
<hr/>		

⑥

	5	
-	2	6
<hr/>		

⑦  $6 - 3.4$

⑧  $8.5 - 3$

⑨  $7.2 - 3$

⑦

	6	0
-	3	4
<hr/>		

⑧


⑨


⑩  $9.3 - 2$

⑪  $5 - 2.7$

⑫  $8 - 1.1$

⑩


⑪


⑫






# 小数のたし算とひき算 10

◎ 整数と小数のひき算の筆算



日にち： 月 日

名まえ \_\_\_\_\_

・ 次の計算をしましょう。（うすい字はなぞりましょう。）

①

	9	0
-	4	4
<hr/>		
	4	6

②

	7	4
-	5	
<hr/>		

③

	5	
-	1	3
<hr/>		

④

	3	6
-	1	
<hr/>		

⑤

	7	
-	2	5
<hr/>		

⑥

	8	
-	5	7
<hr/>		

⑦ 7 - 2.3

-		
<hr/>		

⑧ 9.9 - 8


⑨ 4.7 - 2


⑩ 7.2 - 5


⑪ 6 - 1.4


⑫ 3 - 0.2




# 小数のたし算とひき算 10

◎ 整数と小数のひき算の筆算



日にち： 月 日

名まえ \_\_\_\_\_

・ 次の計算をしましょう。（うすい字はなぞりましょう。）

① 
$$\begin{array}{r} 5.0 \\ - 3.9 \\ \hline \end{array}$$

② 
$$\begin{array}{r} 6.4 \\ - 2 \\ \hline \end{array}$$

③ 
$$\begin{array}{r} 7 \\ - 5.8 \\ \hline \end{array}$$

④ 
$$\begin{array}{r} 8.6 \\ - 6 \\ \hline \end{array}$$

⑤ 
$$\begin{array}{r} 9 \\ - 7.7 \\ \hline \end{array}$$

⑥ 
$$\begin{array}{r} 4 \\ - 1.6 \\ \hline \end{array}$$

⑦  $6 - 1.4$

⑧  $5.8 - 2$

⑨  $7.5 - 3$




⑩  $4.3 - 1$

⑪  $9 - 6.5$

⑫  $8 - 3.7$






# 小数のたし算とひき算 10

◎ 整数と小数のひき算の筆算



日にち： 月 日

名まえ \_\_\_\_\_

・ 次の計算をしましょう。

①

	7	2
-	6	
-----		

②

	9	
-	2	7
-----		

③

	3	3
-	2	
-----		

④

	5	
-	2	8
-----		

⑤

	4	
-	2	3
-----		

⑥

	5	7
-	4	
-----		

⑦ 3.4 - 1


⑧ 6 - 4.8


⑨ 7 - 2.6


⑩ 5.4 - 3


⑪ 6 - 4.7


⑫ 6.5 - 2






# 小数のたし算とひき算 10

◎ 整数と小数のひき算の筆算



日にち： 月 日

名まえ \_\_\_\_\_

・ 次の計算をしましょう。

① 
$$\begin{array}{r} \phantom{0}8.2 \\ - 5 \phantom{0} \\ \hline \phantom{0} \phantom{0} \phantom{0} \end{array}$$

② 
$$\begin{array}{r} \phantom{0}7 \phantom{0} \\ - 3.4 \phantom{0} \\ \hline \phantom{0} \phantom{0} \phantom{0} \end{array}$$

③ 
$$\begin{array}{r} \phantom{0}5.2 \\ - 3 \phantom{0} \\ \hline \phantom{0} \phantom{0} \phantom{0} \end{array}$$

④ 
$$\begin{array}{r} \phantom{0}6 \phantom{0} \\ - 4.4 \phantom{0} \\ \hline \phantom{0} \phantom{0} \phantom{0} \end{array}$$

⑤ 
$$\begin{array}{r} \phantom{0}3 \phantom{0} \\ - 1.7 \phantom{0} \\ \hline \phantom{0} \phantom{0} \phantom{0} \end{array}$$

⑥ 
$$\begin{array}{r} \phantom{0}4.6 \\ - 2 \phantom{0} \\ \hline \phantom{0} \phantom{0} \phantom{0} \end{array}$$

⑦  $9.3 - 5$



⑧  $8 - 1.8$


⑨  $6 - 4.5$


⑩  $7.2 - 6$


⑪  $5 - 2.6$


⑫  $8.4 - 3$

# 小数のたし算とひき算 10

◎ 整数と小数のひき算の筆算



日にち： 月 日

名まえ \_\_\_\_\_

・ 次の計算をしましょう。

①

	6	3
-	4	
-----		

②

	5	
-	1	.4
-----		

③

	8	.4
-	3	
-----		

④

	7	
-	2	.6
-----		

⑤

	9	
-	6	.3
-----		

⑥

	7	.8
-	5	
-----		

⑦ 7.6 - 2


⑧ 9 - 3.8


⑨ 8 - 2.9


⑩ 4.1 - 2


⑪ 6 - 3.7


⑫ 8.5 - 6






# 小数のたし算とひき算 10

◎ 整数と小数のひき算の筆算



日にち： 月 日

名まえ \_\_\_\_\_

・ 次の計算をしましょう。

①

	9	2
-	3	
-----		

②

	4	
-	2	5
-----		

③

	6	3
-	3	
-----		

④

	8	
-	4	7
-----		

⑤

	5	
-	1	6
-----		

⑥

	3	1
-	1	
-----		

⑦ 5.6 - 3


⑧ 6 - 3.9


⑨ 7 - 2.2


⑩ 9.8 - 7


⑪ 5 - 1.7


⑫ 9.4 - 5








# 小数のたし算とひき算 10

◎ 整数と小数のひき算の筆算



日にち： 月 日

名まえ \_\_\_\_\_

・ 次の計算をしましょう。

①

	8	3
-	4	
-----		

②

	6	
-	4	.4
-----		

③

	9	.1
-	6	
-----		

④

	5	
-	1	.6
-----		

⑤

	7	
-	3	.2
-----		

⑥

	4	.5
-	3	
-----		

⑦ 6.2 - 4


⑧ 8 - 5.1


⑨ 9 - 7.5


⑩ 5.9 - 3


⑪ 7 - 4.2


⑫ 8.3 - 6






# 小数のたし算とひき算 10

◎ 整数と小数のひき算の筆算



日にち： 月 日

名まえ \_\_\_\_\_

・ 次の計算をしましょう。

①  $4 - 0.4 =$

②  $3.8 - 2 =$

③  $5.8 - 4 =$

④  $9 - 3.1 =$

4	
- 2.1	
<hr/>	

7.5	
- 5	
<hr/>	

9.1	
- 2.2	
<hr/>	

⑧  $5.2 - 2$

⑨  $3.8 - 1.9$

⑩  $6 - 3.4$




⑪  $8.3 - 5$


⑫  $4.1 - 1.6$

⑬  $6 - 4.9$



--





# 小数のたし算とひき算 10

◎ 整数と小数のひき算の筆算



日にち： 月 日

名まえ \_\_\_\_\_

・ 次の計算をしましょう。

①  $5 - 1.4 =$

②  $6.8 - 3 =$

③  $7.7 - 5 =$

④  $8 - 2.9 =$

6	
- 3.2	
-----	

8.6	
- 4	
-----	

7.3	
- 2.7	
-----	

⑧  $9.2 - 5$

⑨  $4.9 - 2.8$

⑩  $7 - 4.5$




⑪  $6.4 - 4$

⑫  $5.2 - 2.6$

⑬  $7 - 5.9$



--





# 小数のたし算とひき算 10

◎ 整数と小数のひき算の筆算



日にち： 月 日

名まえ \_\_\_\_\_

・ 次の計算をしましょう。

①  $6 - 3.3 =$

②  $7.2 - 4 =$

③  $6.9 - 5 =$

④  $9 - 0.9 =$

7	
- 4.3	
<hr/>	

9.5	
- 2	
<hr/>	

8.2	
- 3.7	
<hr/>	

⑧  $8.7 - 2$

⑨  $5.8 - 1.9$

⑩  $5 - 3.2$




⑪  $7.6 - 3$

⑫  $4.1 - 0.6$

⑬  $6 - 4.1$








# 小数のたし算とひき算 10

◎ 整数と小数のひき算の筆算

# 13

日にち： 月 日

名まえ \_\_\_\_\_

・ 次の計算をしましょう。

①  $7 - 3.4 =$

②  $8.1 - 5 =$

③  $7.8 - 2 =$

④  $6 - 0.2 =$

5	
- 1.7	
-----	

6.6	
- 3	
-----	

6.5	
- 1.7	
-----	

⑧  $6.2 - 5$

⑨  $7.5 - 0.6$

⑩  $9 - 4.5$




⑪  $8.3 - 5$

⑫  $4.9 - 1.2$

⑬  $8 - 3.2$



--





日にち： 月 日

名まえ \_\_\_\_\_

・ 次の計算をしましょう。

①  $8 - 5.6 =$

②  $7.3 - 6 =$

③  $9.3 - 4 =$

④  $8 - 2.2 =$

9	
- 7.5	
<hr/>	

8.4	
- 7	
<hr/>	

7.6	
- 5.7	
<hr/>	

⑧  $6.3 - 4$

⑨  $5.2 - 1.5$

⑩  $6 - 2.8$




⑪  $9.7 - 2$

⑫  $8.1 - 2.8$

⑬  $6 - 0.4$







# 小数のたし算とひき算 10

● 整数と小数のひき算の筆算



目指せ80点!



名まえ \_\_\_\_\_

1 次の計算をしましょう。(各5点)

①  $5 - 1.4 =$

②  $3 - 1.2 =$

③  $2.8 - 1 =$

④  $7 - 2.1 =$

2 次の計算をしましょう。(各10点)

①

	8	.	4
-	6		
-----			

②

	5	.	5
-	2	.	7
-----			

③

	8		
-	5	.	1
-----			

④  $4.5 - 3.1$

⑤  $7 - 1.2$

⑥  $8.3 - 7$




⑦  $2.6 - 0.8$

⑧  $5 - 2.4$







# 小数のたし算とひき算 10

● 整数と小数のひき算の筆算



目指せ80点!



名まえ \_\_\_\_\_

1 次の計算をしましょう。(各5点)

①  $8 - 1.6 =$

②  $5 - 0.3 =$

③  $6.7 - 4 =$

④  $7 - 0.2 =$

2 次の計算をしましょう。(各10点)

①

	6	.	3
-	3		
-----			

②

	7	.	1
-	3	.	9
-----			

③

	9		
-	4	.	5
-----			

④  $7.6 - 2.8$

⑤  $5 - 3.6$

⑥  $5.2 - 4$




⑦  $3.9 - 1.8$

⑧  $8 - 5.7$









# 小数のたし算とひき算 10

◎ 整数と小数のひき算の筆算



日にち： 月 日

名まえ \_\_\_\_\_

・ 次の計算をしましょう。（うすい字はなぞりましょう。）

①

	<del>7</del>	.	0
-	3	.	2
<hr/>			
	3	.	8

②

	9	.	5
-	4	.	0
<hr/>			
	5	.	5

③

	<del>5</del>	.	0
-	3	.	7
<hr/>			
	1	.	3

④

	9	.	5
-	8	.	0
<hr/>			
	1	.	5

⑤

	<del>9</del>	.	0
-	1	.	5
<hr/>			
	7	.	5

⑥

	<del>7</del>	.	0
-	5	.	3
<hr/>			
	1	.	7

⑦  $5 - 3.1$

⑧  $6.7 - 4$

⑨  $9.7 - 3$

	<del>5</del>	.	0
-	3	.	1
<hr/>			
	1	.	9

	6	.	7
-	4	.	0
<hr/>			
	2	.	7

	9	.	7
-	3	.	0
<hr/>			
	6	.	7

⑩  $8.3 - 4$

⑪  $6 - 1.5$

⑫  $7 - 5.4$

	8	.	3
-	4	.	0
<hr/>			
	4	.	3

	<del>6</del>	.	0
-	1	.	5
<hr/>			
	4	.	5

	<del>7</del>	.	0
-	5	.	4
<hr/>			
	1	.	6





# 小数のたし算とひき算 10

◎ 整数と小数のひき算の筆算



日にち： 月 日

名まえ \_\_\_\_\_

・ 次の計算をしましょう。（うすい字はなぞりましょう。）

①

	<del>8</del>	.	0
-	3	.	3
<hr/>			
	4	.	7

②

	8	.	4
-	3	.	0
<hr/>			
	5	.	4

③

	<del>6</del>	.	0
-	3	.	5
<hr/>			
	2	.	5

④

	7	.	5
-	6	.	0
<hr/>			
	1	.	5

⑤

	<del>6</del>	.	0
-	1	.	2
<hr/>			
	4	.	8

⑥

	<del>5</del>	.	0
-	2	.	6
<hr/>			
	2	.	4

⑦  $6 - 3.4$

⑧  $8.5 - 3$

⑨  $7.2 - 3$

	<del>6</del>	.	0
-	3	.	4
<hr/>			
	2	.	6

	8	.	5
-	3	.	0
<hr/>			
	5	.	5

	7	.	2
-	3	.	0
<hr/>			
	4	.	2

⑩  $9.3 - 2$

⑪  $5 - 2.7$

⑫  $8 - 1.1$

	9	.	3
-	2	.	0
<hr/>			
	7	.	3

	<del>5</del>	.	0
-	2	.	7
<hr/>			
	2	.	3

	<del>8</del>	.	0
-	1	.	1
<hr/>			
	6	.	9





# 小数のたし算とひき算 10

◎ 整数と小数のひき算の筆算



日にち： 月 日

名まえ \_\_\_\_\_

・ 次の計算をしましょう。（うすい字はなぞりましょう。）

① 
$$\begin{array}{r} 9.0 \\ - 4.4 \\ \hline 4.6 \end{array}$$

② 
$$\begin{array}{r} 7.4 \\ - 5.0 \\ \hline 2.4 \end{array}$$

③ 
$$\begin{array}{r} 5.0 \\ - 1.3 \\ \hline 3.7 \end{array}$$

④ 
$$\begin{array}{r} 3.6 \\ - 1.0 \\ \hline 2.6 \end{array}$$

⑤ 
$$\begin{array}{r} 7.0 \\ - 2.5 \\ \hline 4.5 \end{array}$$

⑥ 
$$\begin{array}{r} 8.0 \\ - 5.7 \\ \hline 2.3 \end{array}$$

⑦  $7 - 2.3$

⑧  $9.9 - 8$

⑨  $4.7 - 2$

$$\begin{array}{r} 7.0 \\ - 2.3 \\ \hline 4.7 \end{array}$$

$$\begin{array}{r} 9.9 \\ - 8.0 \\ \hline 1.9 \end{array}$$

$$\begin{array}{r} 4.7 \\ - 2.0 \\ \hline 2.7 \end{array}$$

⑩  $7.2 - 5$

⑪  $6 - 1.4$

⑫  $3 - 0.2$

$$\begin{array}{r} 7.2 \\ - 5.0 \\ \hline 2.2 \end{array}$$

$$\begin{array}{r} 6.0 \\ - 1.4 \\ \hline 4.6 \end{array}$$

$$\begin{array}{r} 3.0 \\ - 0.2 \\ \hline 2.8 \end{array}$$





# 小数のたし算とひき算 10

◎ 整数と小数のひき算の筆算



日にち： 月 日

名まえ \_\_\_\_\_

・ 次の計算をしましょう。（うすい字はなぞりましょう。）

① 
$$\begin{array}{r} 5.0 \\ - 3.9 \\ \hline 1.1 \end{array}$$

② 
$$\begin{array}{r} 6.4 \\ - 2.0 \\ \hline 4.4 \end{array}$$

③ 
$$\begin{array}{r} 7.0 \\ - 5.8 \\ \hline 1.2 \end{array}$$

④ 
$$\begin{array}{r} 8.6 \\ - 6.0 \\ \hline 2.6 \end{array}$$

⑤ 
$$\begin{array}{r} 9.0 \\ - 7.7 \\ \hline 1.3 \end{array}$$

⑥ 
$$\begin{array}{r} 4.0 \\ - 1.6 \\ \hline 2.4 \end{array}$$

⑦  $6 - 1.4$

⑧  $5.8 - 2$

⑨  $7.5 - 3$

$$\begin{array}{r} 6.0 \\ - 1.4 \\ \hline 4.6 \end{array}$$

$$\begin{array}{r} 5.8 \\ - 2.0 \\ \hline 3.8 \end{array}$$

$$\begin{array}{r} 7.5 \\ - 3.0 \\ \hline 4.5 \end{array}$$

⑩  $4.3 - 1$

⑪  $9 - 6.5$

⑫  $8 - 3.7$

$$\begin{array}{r} 4.3 \\ - 1.0 \\ \hline 3.3 \end{array}$$

$$\begin{array}{r} 9.0 \\ - 6.5 \\ \hline 2.5 \end{array}$$

$$\begin{array}{r} 8.0 \\ - 3.7 \\ \hline 4.3 \end{array}$$





# 小数のたし算とひき算 10

◎ 整数と小数のひき算の筆算



日にち： 月 日

名まえ \_\_\_\_\_

・ 次の計算をしましょう。

$$\begin{array}{r} 7.2 \\ - 6.0 \\ \hline 1.2 \end{array}$$

$$\begin{array}{r} 9.0 \\ - 2.7 \\ \hline 6.3 \end{array}$$

$$\begin{array}{r} 3.3 \\ - 2.0 \\ \hline 1.3 \end{array}$$

$$\begin{array}{r} 5.0 \\ - 2.8 \\ \hline 2.2 \end{array}$$

$$\begin{array}{r} 4.0 \\ - 2.3 \\ \hline 1.7 \end{array}$$

$$\begin{array}{r} 5.7 \\ - 4.0 \\ \hline 1.7 \end{array}$$

$$\textcircled{7} \quad 3.4 - 1$$

$$\begin{array}{r} 3.4 \\ - 1.0 \\ \hline 2.4 \end{array}$$

$$\textcircled{8} \quad 6 - 4.8$$

$$\begin{array}{r} 6.0 \\ - 4.8 \\ \hline 1.2 \end{array}$$

$$\textcircled{9} \quad 7 - 2.6$$

$$\begin{array}{r} 7.0 \\ - 2.6 \\ \hline 4.4 \end{array}$$

$$\textcircled{10} \quad 5.4 - 3$$

$$\begin{array}{r} 5.4 \\ - 3.0 \\ \hline 2.4 \end{array}$$

$$\textcircled{11} \quad 6 - 4.7$$

$$\begin{array}{r} 6.0 \\ - 4.7 \\ \hline 1.3 \end{array}$$

$$\textcircled{12} \quad 6.5 - 2$$

$$\begin{array}{r} 6.5 \\ - 2.0 \\ \hline 4.5 \end{array}$$





# 小数のたし算とひき算 10

◎ 整数と小数のひき算の筆算



日にち： 月 日

名まえ \_\_\_\_\_

・ 次の計算をしましょう。

$$\begin{array}{r} 8.2 \\ - 5.0 \\ \hline 3.2 \end{array}$$

$$\begin{array}{r} \overset{6}{\cancel{7}.0} \\ - 3.4 \\ \hline 3.6 \end{array}$$

$$\begin{array}{r} 5.2 \\ - 3.0 \\ \hline 2.2 \end{array}$$

$$\begin{array}{r} \overset{5}{\cancel{6}.0} \\ - 4.4 \\ \hline 1.6 \end{array}$$

$$\begin{array}{r} \overset{2}{\cancel{3}.0} \\ - 1.7 \\ \hline 1.3 \end{array}$$

$$\begin{array}{r} 4.6 \\ - 2.0 \\ \hline 2.6 \end{array}$$

⑦  $9.3 - 5$

$$\begin{array}{r} 9.3 \\ - 5.0 \\ \hline 4.3 \end{array}$$

⑧  $8 - 1.8$

$$\begin{array}{r} \overset{7}{\cancel{8}.0} \\ - 1.8 \\ \hline 6.2 \end{array}$$

⑨  $6 - 4.5$

$$\begin{array}{r} \overset{5}{\cancel{6}.0} \\ - 4.5 \\ \hline 1.5 \end{array}$$

⑩  $7.2 - 6$

$$\begin{array}{r} 7.2 \\ - 6.0 \\ \hline 1.2 \end{array}$$


⑪  $5 - 2.6$

$$\begin{array}{r} \overset{4}{\cancel{5}.0} \\ - 2.6 \\ \hline 2.4 \end{array}$$

⑫  $8.4 - 3$

$$\begin{array}{r} 8.4 \\ - 3.0 \\ \hline 5.4 \end{array}$$





# 小数のたし算とひき算 10

◎ 整数と小数のひき算の筆算



日にち： 月 日

名まえ \_\_\_\_\_

・ 次の計算をしましょう。

$$\begin{array}{r} \text{①} \quad \quad 6.3 \\ - 4.0 \\ \hline 2.3 \end{array}$$

$$\begin{array}{r} \text{②} \quad \quad \overset{4}{\cancel{5}}.0 \\ - 1.4 \\ \hline 3.6 \end{array}$$

$$\begin{array}{r} \text{③} \quad \quad 8.4 \\ - 3.0 \\ \hline 5.4 \end{array}$$

$$\begin{array}{r} \text{④} \quad \quad \overset{6}{\cancel{7}}.0 \\ - 2.6 \\ \hline 4.4 \end{array}$$

$$\begin{array}{r} \text{⑤} \quad \quad \overset{8}{\cancel{9}}.0 \\ - 6.3 \\ \hline 2.7 \end{array}$$

$$\begin{array}{r} \text{⑥} \quad \quad 7.8 \\ - 5.0 \\ \hline 2.8 \end{array}$$

$$\text{⑦} \quad 7.6 - 2$$

$$\text{⑧} \quad 9 - 3.8$$

$$\text{⑨} \quad 8 - 2.9$$

$$\begin{array}{r} \quad 7.6 \\ - 2.0 \\ \hline 5.6 \end{array}$$

$$\begin{array}{r} \quad \overset{8}{\cancel{9}}.0 \\ - 3.8 \\ \hline 5.2 \end{array}$$

$$\begin{array}{r} \quad \overset{7}{\cancel{8}}.0 \\ - 2.9 \\ \hline 5.1 \end{array}$$

$$\text{⑩} \quad 4.1 - 2$$

$$\text{⑪} \quad 6 - 3.7$$

$$\text{⑫} \quad 8.5 - 6$$

$$\begin{array}{r} \quad 4.1 \\ - 2.0 \\ \hline 2.1 \end{array}$$

$$\begin{array}{r} \quad \overset{5}{\cancel{6}}.0 \\ - 3.7 \\ \hline 2.3 \end{array}$$

$$\begin{array}{r} \quad 8.5 \\ - 6.0 \\ \hline 2.5 \end{array}$$





# 小数のたし算とひき算 10

◎ 整数と小数のひき算の筆算



日にち： 月 日

名まえ \_\_\_\_\_

・ 次の計算をしましょう。

①

	9	2
-	3	0
<hr/>		
	6	2

②

	<del>4</del> <sup>3</sup>	0
-	2	5
<hr/>		
	1	5

③

	6	3
-	3	0
<hr/>		
	3	3

④

	<del>8</del> <sup>7</sup>	0
-	4	7
<hr/>		
	3	3

⑤

	<del>5</del> <sup>4</sup>	0
-	1	6
<hr/>		
	3	4

⑥

	3	1
-	1	0
<hr/>		
	2	1

⑦ 5.6 - 3

	5	6
-	3	0
<hr/>		
	2	6

⑧ 6 - 3.9

	<del>6</del> <sup>5</sup>	0
-	3	9
<hr/>		
	2	1

⑨ 7 - 2.2

	<del>7</del> <sup>6</sup>	0
-	2	2
<hr/>		
	4	8

⑩ 9.8 - 7

	9	8
-	7	0
<hr/>		
	2	8

⑪ 5 - 1.7

	<del>5</del> <sup>4</sup>	0
-	1	7
<hr/>		
	3	3

⑫ 9.4 - 5

	9	4
-	5	0
<hr/>		
	4	4







# 小数のたし算とひき算 10

◎ 整数と小数のひき算の筆算



日にち： 月 日

名まえ \_\_\_\_\_

・ 次の計算をしましょう。

$$\begin{array}{r} 8.3 \\ - 4.0 \\ \hline 4.3 \end{array}$$

$$\begin{array}{r} 6.0 \\ - 4.4 \\ \hline 1.6 \end{array}$$

$$\begin{array}{r} 9.1 \\ - 6.0 \\ \hline 3.1 \end{array}$$

$$\begin{array}{r} 5.0 \\ - 1.6 \\ \hline 3.4 \end{array}$$

$$\begin{array}{r} 7.0 \\ - 3.2 \\ \hline 3.8 \end{array}$$

$$\begin{array}{r} 4.5 \\ - 3.0 \\ \hline 1.5 \end{array}$$

$$\textcircled{7} \quad 6.2 - 4$$

$$\begin{array}{r} 6.2 \\ - 4.0 \\ \hline 2.2 \end{array}$$

$$\textcircled{8} \quad 8 - 5.1$$

$$\begin{array}{r} 8.0 \\ - 5.1 \\ \hline 2.9 \end{array}$$

$$\textcircled{9} \quad 9 - 7.5$$

$$\begin{array}{r} 9.0 \\ - 7.5 \\ \hline 1.5 \end{array}$$

$$\textcircled{10} \quad 5.9 - 3$$

$$\begin{array}{r} 5.9 \\ - 3.0 \\ \hline 2.9 \end{array}$$

$$\textcircled{11} \quad 7 - 4.2$$

$$\begin{array}{r} 7.0 \\ - 4.2 \\ \hline 2.8 \end{array}$$

$$\textcircled{12} \quad 8.3 - 6$$

$$\begin{array}{r} 8.3 \\ - 6.0 \\ \hline 2.3 \end{array}$$





# 小数のたし算とひき算 10

◎ 整数と小数のひき算の筆算



日にち： 月 日

名まえ \_\_\_\_\_

・ 次の計算をしましょう。

①  $4 - 0.4 = 3.6$

②  $3.8 - 2 = 1.8$

③  $5.8 - 4 = 1.8$

④  $9 - 3.1 = 5.9$

⑤

	<del>4</del> <sup>3</sup>	0
-	2	.1
<hr/>		
	1	.9

⑥

	7	.5
-	5	.0
<hr/>		
	2	.5

⑦

	<del>9</del> <sup>8</sup>	.1
-	2	.2
<hr/>		
	6	.9

⑧  $5.2 - 2$

⑨  $3.8 - 1.9$

⑩  $6 - 3.4$

	5	.2
-	2	.0
<hr/>		
	3	.2

	<del>3</del> <sup>2</sup>	.8
-	1	.9
<hr/>		
	1	.9

	<del>6</del> <sup>5</sup>	.0
-	3	.4
<hr/>		
	2	.6

⑪  $8.3 - 5$

⑫  $4.1 - 1.6$


⑬  $6 - 4.9$

	8	.3
-	5	.0
<hr/>		
	3	.3

	<del>4</del> <sup>3</sup>	.1
-	1	.6
<hr/>		
	2	.5

	<del>6</del> <sup>5</sup>	.0
-	4	.9
<hr/>		
	1	.1





# 小数のたし算とひき算 10

◎ 整数と小数のひき算の筆算



日にち： 月 日

名まえ \_\_\_\_\_

・ 次の計算をしましょう。

①  $5 - 1.4 = 3.6$

②  $6.8 - 3 = 3.8$

③  $7.7 - 5 = 2.7$

④  $8 - 2.9 = 5.1$

	<del>5</del>	0
-	3	.2
<hr/>		
	2	.8

	8	.6
-	4	.0
<hr/>		
	4	.6

	<del>7</del>	.3
-	2	.7
<hr/>		
	4	.6

⑧  $9.2 - 5$

⑨  $4.9 - 2.8$

⑩  $7 - 4.5$

	9	.2
-	5	.0
<hr/>		
	4	.2

	4	.9
-	2	.8
<hr/>		
	2	.1

	<del>7</del>	.0
-	4	.5
<hr/>		
	2	.5

⑪  $6.4 - 4$

⑫  $5.2 - 2.6$

⑬  $7 - 5.9$

	6	.4
-	4	.0
<hr/>		
	2	.4

	<del>5</del>	.2
-	2	.6
<hr/>		
	2	.6

	<del>7</del>	.0
-	5	.9
<hr/>		
	1	.1





# 小数のたし算とひき算 10

◎ 整数と小数のひき算の筆算

# 12

日にち： 月 日

名まえ \_\_\_\_\_

・ 次の計算をしましょう。

①  $6 - 3.3 = 2.7$       ②  $7.2 - 4 = 3.2$

③  $6.9 - 5 = 1.9$       ④  $9 - 0.9 = 8.1$

⑤

	<del>7</del>	0
-	4	3
<hr/>		
	2	7

⑥

	9	5
-	2	0
<hr/>		
	7	5

⑦

	<del>8</del>	2
-	3	7
<hr/>		
	4	5

⑧  $8.7 - 2$

	8	7
-	2	0
<hr/>		
	6	7

⑨  $5.8 - 1.9$

	<del>5</del>	8
-	1	9
<hr/>		
	3	9

⑩  $5 - 3.2$

	<del>5</del>	0
-	3	2
<hr/>		
	1	8

⑪  $7.6 - 3$

	7	6
-	3	0
<hr/>		
	4	6

⑫  $4.1 - 0.6$

	<del>4</del>	1
-	0	6
<hr/>		
	3	5

⑬  $6 - 4.1$

	<del>6</del>	0
-	4	1
<hr/>		
	1	9





# 小数のたし算とひき算 10

◎ 整数と小数のひき算の筆算

# 13

日にち： 月 日

名まえ \_\_\_\_\_

・ 次の計算をしましょう。

①  $7 - 3.4 = 3.6$

②  $8.1 - 5 = 3.1$

③  $7.8 - 2 = 5.8$

④  $6 - 0.2 = 5.8$

	<del>5</del>	0
-	1	7
<hr/>		
	3	3

	6	6
-	3	0
<hr/>		
	3	6

	<del>6</del>	5
-	1	7
<hr/>		
	4	8

⑧  $6.2 - 5$

⑨  $7.5 - 0.6$

⑩  $9 - 4.5$

	6	2
-	5	0
<hr/>		
	1	2

	<del>7</del>	5
-	0	6
<hr/>		
	6	9

	<del>9</del>	0
-	4	5
<hr/>		
	4	5

⑪  $8.3 - 5$

⑫  $4.9 - 1.2$

⑬  $8 - 3.2$

	8	3
-	5	0
<hr/>		
	3	3

	4	9
-	1	2
<hr/>		
	3	7

	<del>8</del>	0
-	3	2
<hr/>		
	4	8





# 小数のたし算とひき算 10

◎ 整数と小数のひき算の筆算

# 14

日にち： 月 日

名まえ \_\_\_\_\_

・ 次の計算をしましょう。

①  $8 - 5.6 = 2.4$

②  $7.3 - 6 = 1.3$

③  $9.3 - 4 = 5.3$

④  $8 - 2.2 = 5.8$

	<del>9</del> <sup>8</sup>	0
-	7	5
<hr/>		
	1	5

	8	4
-	7	0
<hr/>		
	1	4

	<del>7</del> <sup>6</sup>	6
-	5	7
<hr/>		
	1	9

⑧  $6.3 - 4$

⑨  $5.2 - 1.5$

⑩  $6 - 2.8$

	6	3
-	4	0
<hr/>		
	2	3

	<del>5</del> <sup>4</sup>	2
-	1	5
<hr/>		
	3	7

	<del>6</del> <sup>5</sup>	0
-	2	8
<hr/>		
	3	2

⑪  $9.7 - 2$

⑫  $8.1 - 2.8$

⑬  $6 - 0.4$

	9	7
-	2	0
<hr/>		
	7	7

	<del>8</del> <sup>7</sup>	1
-	2	8
<hr/>		
	5	3

	<del>6</del> <sup>5</sup>	0
-	0	4
<hr/>		
	5	6





# 小数のたし算とひき算 10

● 整数と小数のひき算の筆算



目指せ80点!



名まえ \_\_\_\_\_

1 次の計算をしましょう。(各5点)

①  $5 - 1.4 = 3.6$       ②  $3 - 1.2 = 1.8$

③  $2.8 - 1 = 1.8$       ④  $7 - 2.1 = 4.9$

2 次の計算をしましょう。(各10点)

① 

	8.4
-	6.0
<hr/>	
	2.4

② 

	<del>5</del> .5
-	2.7
<hr/>	
	2.8

③ 

	<del>8</del> .0
-	5.1
<hr/>	
	2.9

④  $4.5 - 3.1$

	4.5
-	3.1
<hr/>	
	1.4

⑤  $7 - 1.2$

	<del>7</del> .0
-	1.2
<hr/>	
	5.8

⑥  $8.3 - 7$

	8.3
-	7.0
<hr/>	
	1.3

⑦  $2.6 - 0.8$

	<del>2</del> .6
-	0.8
<hr/>	
	1.8

⑧  $5 - 2.4$

	<del>5</del> .0
-	2.4
<hr/>	
	2.6





# 小数のたし算とひき算 10

● 整数と小数のひき算の筆算



目指せ80点!



名まえ \_\_\_\_\_

1 次の計算をしましょう。(各5点)

①  $8 - 1.6 = 6.4$       ②  $5 - 0.3 = 4.7$

③  $6.7 - 4 = 2.7$       ④  $7 - 0.2 = 6.8$

2 次の計算をしましょう。(各10点)

① 

	6.3
-	3.0
<hr/>	
	3.3

② 

	<del>7</del> .1
-	3.9
<hr/>	
	3.2

③ 

	<del>9</del> .0
-	4.5
<hr/>	
	4.5

④  $7.6 - 2.8$

⑤  $5 - 3.6$

⑥  $5.2 - 4$

	<del>7</del> .6
-	2.8
<hr/>	
	4.8

	<del>5</del> .0
-	3.6
<hr/>	
	1.4

	5.2
-	4.0
<hr/>	
	1.2

⑦  $3.9 - 1.8$

⑧  $8 - 5.7$

	3.9
-	1.8
<hr/>	
	2.1

	<del>8</del> .0
-	5.7
<hr/>	
	2.3

