



小数のたし算とひき算 II

● 差が整数か真小数になる筆算



日にち： 月 日

名まえ _____

・ 次の計算をしなさい。（うすい字はなぞりましょう。）

①

	3.8
-	1.8
<hr/>	
	2.0

②

	2.5
-	1.8
<hr/>	
	0.7

③

	6.1
-	5.5
<hr/>	

④

	6.6
-	4.6
<hr/>	

⑤

	7.5
-	1.5
<hr/>	

⑥

	6.2
-	5.9
<hr/>	

⑦ 4.3 - 1.3

⑧ 3.2 - 2.4

⑨ 6.1 - 5.2

	4.3
-	1.3
<hr/>	

⑩ 7.5 - 3.5

⑪ 4.4 - 3.4

⑫ 2.3 - 1.5



小数のたし算とひき算 II

● 差が整数か真小数になる筆算



日にち： 月 日

名まえ _____

・ 次の計算をしなさい。（うすい字はなぞりましょう。）

①

	4	.	9
-	2	.	9
<hr/>			
	2	.	0

②

	3 ²	.	7
-	2	.	9
<hr/>			
		.	8

③

	8	.	2
-	7	.	6
<hr/>			
		.	

④

	4	.	1
-	3	.	1
<hr/>			
		.	

⑤

	7	.	2
-	6	.	5
<hr/>			
		.	

⑥

	7	.	3
-	6	.	3
<hr/>			
		.	

⑦ 5.6 - 3.6

⑧ 2.2 - 1.4

⑨ 5.8 - 3.8

	5	.	6
-	3	.	6
<hr/>			
		.	

		.	
		.	
<hr/>			
		.	

		.	
		.	
<hr/>			
		.	

⑩ 8.3 - 7.5

⑪ 8.9 - 4.9

⑫ 7.1 - 6.5

		.	
		.	
<hr/>			
		.	

		.	
		.	
<hr/>			
		.	

		.	
		.	
<hr/>			
		.	



小数のたし算とひき算 II

● 差が整数か真小数になる筆算



日にち： 月 日

名まえ _____

・ 次の計算をしなさい。（うすい字はなぞりましょう。）

①

	5	.	7
-	4	.	7
	1	.	0

②

	4	.	6
-	3	.	8
		.	8

③

	5	.	6
-	4	.	7
		.	

④

	6	.	2
-	1	.	2
		.	

⑤

	8	.	3
-	7	.	6
		.	

⑥

	3	.	1
-	0	.	1
		.	

⑦ 8.7 - 4.7

-		

⑧ 3.2 - 2.4

⑨ 7.4 - 6.9

⑩ 9.5 - 8.8

⑪ 6.3 - 5.5

⑫ 8.6 - 2.6



小数のたし算とひき算II

● 差が整数か真小数になる筆算



日にち： 月 日

名まえ _____

・ 次の計算をしなさい。（うすい字はなぞりましょう。）

①

	6.8	
-	3.8	
<hr/>		
		0

②

	5.5	
-	4.9	
<hr/>		

③

	4.3	
-	3.7	
<hr/>		

④

	7.8	
-	6.9	
<hr/>		

⑤

	9.2	
-	8.5	
<hr/>		

⑥

	2.2	
-	1.2	
<hr/>		

⑦ 5.6 - 4.7

-		
<hr/>		

⑧ 4.1 - 1.1

⑨ 3.7 - 2.8

⑩ 8.2 - 7.5

⑪ 9.4 - 2.4

⑫ 7.5 - 6.9





小数のたし算とひき算 II

● 差が整数か真小数になる筆算



日にち： 月 日

名まえ _____

・ 次の計算をしなさい。

①

	6	4
-	1	4
<hr/>		

②

	9	7
-	8	9
<hr/>		

③

	7	3
-	6	3
<hr/>		

④

	3	1
-	2	3
<hr/>		

⑤

	4	2
-	3	3
<hr/>		

⑥

	6	1
-	5	1
<hr/>		

⑦ $6.4 - 5.7$

⑧ $9.4 - 6.4$

⑨ $8.7 - 7.8$

⑩ $3.8 - 1.8$

⑪ $9.3 - 8.8$

⑫ $7.2 - 2.2$



小数のたし算とひき算 II

● 差が整数か真小数になる筆算



日にち： 月 日

名まえ _____

・ 次の計算をしなさい。

①

	5	3
-	2	3

②

	8	8
-	7	9

③

	6	4
-	5	4

④

	4	2
-	3	4

⑤

	5	3
	4	5

⑥

	7	2
-	3	2

⑦ 7.5 - 6.8

⑧ 8.3 - 7.9

⑨ 6.1 - 5.8

⑩ 4.9 - 1.9

⑪ 5.4 - 4.8

⑫ 9.3 - 2.3



小数のたし算とひき算 II

● 差が整数か真小数になる筆算



日にち： 月 日

名まえ _____

・ 次の計算をしなさい。

①

	4	7
-	2	7
<hr/>		

②

	6	1
-	5	9
<hr/>		

③

	7	6
-	3	6
<hr/>		

④

	5	3
-	4	5
<hr/>		

⑤

	8	4
	7	9
<hr/>		

⑥

	9	3
-	6	3
<hr/>		

⑦ 8.2 - 7.8

⑧ 9.6 - 8.7

⑨ 7.3 - 6.8

⑩ 3.2 - 2.2

⑪ 6.5 - 5.6

⑫ 5.7 - 1.7





小数のたし算とひき算 II

● 差が整数か真小数になる筆算



日にち： 月 日

名まえ _____

・ 次の計算をしなさい。

①

	3	8
-	1	8

②

	7	2
-	6	8

③

	2	6
-	1	6

④

	6	1
-	5	9

⑤

	9	3
-	8	7

⑥

	6	4
-	1	4

⑦ $9.1 - 8.8$

⑧ $6.7 - 5.8$

⑨ $8.2 - 7.5$

⑩ $5.3 - 1.3$

⑪ $7.4 - 6.6$

⑫ $9.8 - 2.8$



小数のたし算とひき算 II

● 差が整数か真小数になる筆算



日にち： 月 日

名まえ _____

・ 次の計算をしなさい。

①

	4	5
-	3	5
<hr/>		

②

	8	6
-	7	8
<hr/>		

③

	3	7
-	1	7
<hr/>		

④

	7	2
-	6	7
<hr/>		

⑤

	6	4
	5	7
<hr/>		

⑥

	5	2
-	2	2
<hr/>		

⑦ $8.1 - 7.6$

⑧ $7.3 - 6.7$

⑨ $9.4 - 8.5$

⑩ $6.8 - 4.8$

⑪ $5.7 - 4.9$

⑫ $3.9 - 1.9$





小数のたし算とひき算 II

● 差が整数か真小数になる筆算



日にち： 月 日

名まえ _____

・ 次の計算をしなさい。

① $4.5 - 0.5 =$

② $2.8 - 1.9 =$

③ $7.1 - 6.9 =$

④ $2.1 - 1.1 =$

	3.1	
-	2.7	
<hr/>		

	6.5	
-	5.3	
<hr/>		

	6	
-	3.1	
<hr/>		

⑧ $8.7 - 3.7$

⑨ $5.6 - 4.9$

⑩ $3.9 - 2$

⑪ $7.2 - 6.7$

⑫ $8 - 6.8$

⑬ $4.1 - 1.1$





小数のたし算とひき算 II

● 差が整数か真小数になる筆算



日にち： 月 日

名まえ _____

・ 次の計算をしなさい。

① $6.2 - 0.2 =$

② $3.4 - 2.5 =$

③ $5.4 - 4.9 =$

④ $4.5 - 2.5 =$

	4	.	2
-	3	.	8
<hr/>			

	7	.	4
-	5	.	3
<hr/>			

	8		
-	4	.	3
<hr/>			

⑧ $6.2 - 3.2$

⑨ $9.3 - 8.4$

⑩ $2.6 - 1$

⑪ $5.9 - 3.7$

⑫ $7 - 3.4$

⑬ $8.2 - 6.2$





小数のたし算とひき算 II

● 差が整数か真小数になる筆算



日にち： 月 日

名まえ _____

・ 次の計算をしなさい。

① $5.7 - 2.7 =$

② $4.2 - 3.5 =$

③ $6.8 - 5.2 =$

④ $3.6 - 2.6 =$

	5.6	
-	4.7	
<hr/>		



	8.2	
-	7.1	
<hr/>		

	9	
-	6.4	
<hr/>		

⑧ $7.3 - 3.3$

⑨ $6.8 - 5.9$


⑩ $4.2 - 2$



⑪ $8.1 - 7.7$

⑫ $5 - 3.5$

⑬ $6.4 - 5.7$





小数のたし算とひき算 II

● 差が整数か真小数になる筆算



日にち： 月 日

名まえ _____

・ 次の計算をしなさい。

① $3.7 - 1.5 =$

② $8.6 - 0.6 =$

③ $5.6 - 4.3 =$

④ $7.8 - 2.6 =$

	6.2
-	5.5

	3.7
-	2.6

	7
-	3.9

⑧ $4.1 - 2.1$

⑨ $8.3 - 7.5$

⑩ $5.9 - 4$

⑪ $4.9 - 3.7$

⑫ $8 - 6.3$

⑬ $9.4 - 8.9$





小数のたし算とひき算 II

● 差が整数か真小数になる筆算



日にち： 月 日

名まえ _____

・ 次の計算をしなさい。

① $4.3 - 2.3 =$

② $7.2 - 0.2 =$

③ $2.5 - 1.6 =$

④ $5.3 - 1.2 =$

⑤	7.3
-	6.9
<hr/>	



⑥	4.8
-	3.2
<hr/>	

⑦	9
-	1.7
<hr/>	

⑧ $6.2 - 2.2$

⑨ $5.4 - 4.6$


⑩ $8.4 - 6$



⑪ $3.5 - 2.4$

⑫ $6 - 2.5$

⑬ $7.2 - 6.8$





小数のたし算とひき算 11

● 差が整数か真小数になる筆算



目指せ90点!



名まえ _____

1 次の計算をしなさい。(各5点)

① $4.4 - 3.5 =$

② $9.5 - 4.5 =$

③ $8.4 - 3.4 =$

④ $2.1 - 1.2 =$

2 次の計算をしなさい。(各10点)

①

	4	.	2
-	3	.	6
<hr/>			

②

	6	.	7
-	4	.	8
<hr/>			



③

	9	.	
-	2	.	2
<hr/>			

④ $9.7 - 6.7$

⑤ $8.6 - 4$

⑥ $2.2 - 1.4$



⑦ $7.6 - 3.4$

⑧ $7.9 - 3.9$





小数のたし算とひき算 11

● 差が整数か真小数になる筆算



目指せ90点!



名まえ _____

1 次の計算をしなさい。(各5点)

① $5.5 - 4.6 =$

② $8.2 - 4.2 =$

③ $7.5 - 2.5 =$

④ $3.3 - 2.2 =$

2 次の計算をしなさい。(各10点)

①

	5	.	3
-	4	.	8
<hr/>			

②

	7	.	6
-	3	.	9
<hr/>			


③

	7	.	
-	3	.	6
<hr/>			

④ $6.4 - 4.4$

⑤ $9.3 - 5$

⑥ $4.1 - 3.4$



⑦ $8.5 - 3.2$

⑧ $5.4 - 4.9$





小数のたし算とひき算 II

● 差が整数か真小数になる筆算



日にち： 月 日

名まえ _____

・ 次の計算をしなさい。（うすい字はなぞりましょう。）

①

	3.8
-	1.8
	2.0

②

	2.5
-	1.8
	0.7

③

	6.1
-	5.5
	0.6

④

	6.6
-	4.6
	2.0

⑤

	7.5
-	1.5
	6.0

⑥

	6.2
-	5.9
	0.3

⑦ 4.3 - 1.3

	4.3
-	1.3
	3.0

⑧ 3.2 - 2.4

	3.2
-	2.4
	0.8

⑨ 6.1 - 5.2

	6.1
-	5.2
	0.9

⑩ 7.5 - 3.5

	7.5
-	3.5
	4.0

⑪ 4.4 - 3.4

	4.4
-	3.4
	1.0

⑫ 2.3 - 1.5

	2.3
-	1.5
	0.8



小数のたし算とひき算 II

● 差が整数か真小数になる筆算



日にち： 月 日

名まえ _____

・ 次の計算をしなさい。（うすい字はなぞりましょう。）

①

	4.	9
-	2.	9
	2.	0

②

	3.	7
-	2.	9
	0.	8

③

	8.	2
-	7.	6
	0.	6

④

	4.	1
-	3.	1
	1.	0

⑤

	7.	2
-	6.	5
	0.	7

⑥

	7.	3
-	6.	3
	1.	0

⑦ 5.6 - 3.6

⑧ 2.2 - 1.4

⑨ 5.8 - 3.8

	5.	6
-	3.	6
	2.	0

	2.	2
-	1.	4
	0.	8

	5.	8
-	3.	8
	2.	0

⑩ 8.3 - 7.5

⑪ 8.9 - 4.9

⑫ 7.1 - 6.5

	8.	3
-	7.	5
	0.	8

	8.	9
-	4.	9
	4.	0

	7.	1
-	6.	5
	0.	6





小数のたし算とひき算 II

● 差が整数か真小数になる筆算



日にち： 月 日

名まえ _____

・ 次の計算をしなさい。（うすい字はなぞりましょう。）

①

	5.7
-	4.7
	1.0

②

	4 ³ .6
-	3.8
	0.8

③

	5 ⁴ .6
-	4.7
	0.9

④

	6.2
-	1.2
	5.0

⑤

	8 ⁷ .3
-	7.6
	0.7

⑥

	3.1
-	0.1
	3.0

⑦ 8.7 - 4.7

⑧ 3.2 - 2.4

⑨ 7.4 - 6.9

	8.7
-	4.7
	4.0

	3 ² .2
-	2.4
	0.8

	7 ⁶ .4
-	6.9
	0.5

⑩ 9.5 - 8.8

⑪ 6.3 - 5.5

⑫ 8.6 - 2.6

	9 ⁸ .5
-	8.8
	0.7

	6 ⁵ .3
-	5.5
	0.8

	8.6
-	2.6
	6.0





小数のたし算とひき算 II

● 差が整数か真小数になる筆算



日にち： 月 日

名まえ _____

・ 次の計算をしなさい。（うすい字はなぞりましょう。）

①

	6.8
-	3.8
	3.0

②

	5.5 ⁴
-	4.9
	0.6

③

	4.3 ³
-	3.7
	0.6

④

	7.8 ⁶
-	6.9
	0.9

⑤

	9.2 ⁸
-	8.5
	0.7

⑥

	2.2
-	1.2
	1.0

⑦ 5.6 - 4.7

	5.2 ⁴
-	4.3
	0.9

⑧ 4.1 - 1.1

	4.1
-	1.1
	3.0

⑨ 3.7 - 2.8

	3.7 ²
-	2.8
	0.9

⑩ 8.2 - 7.5

	8.2 ⁷
-	7.5
	0.7

⑪ 9.4 - 2.4

	9.4
-	2.4
	7.0

⑫ 7.5 - 6.9

	7.5 ⁶
-	6.9
	0.6





小数のたし算とひき算 II

● 差が整数か真小数になる筆算



日にち： 月 日

名まえ _____

・ 次の計算をしなさい。

$$\begin{array}{r} 6.4 \\ - 1.4 \\ \hline 5.0 \end{array}$$

$$\begin{array}{r} 9.7 \\ - 8.9 \\ \hline 0.8 \end{array}$$

$$\begin{array}{r} 7.3 \\ - 6.3 \\ \hline 1.0 \end{array}$$

$$\begin{array}{r} 3.1 \\ - 2.3 \\ \hline 0.8 \end{array}$$

$$\begin{array}{r} 4.2 \\ - 3.3 \\ \hline 0.9 \end{array}$$

$$\begin{array}{r} 6.1 \\ - 5.1 \\ \hline 1.0 \end{array}$$

⑦ $6.4 - 5.7$

⑧ $9.4 - 6.4$

⑨ $8.7 - 7.8$

$$\begin{array}{r} 6.4 \\ - 5.7 \\ \hline 0.7 \end{array}$$

$$\begin{array}{r} 9.4 \\ - 6.4 \\ \hline 3.0 \end{array}$$

$$\begin{array}{r} 8.7 \\ - 7.8 \\ \hline 0.9 \end{array}$$

⑩ $3.8 - 1.8$

⑪ $9.3 - 8.8$

⑫ $7.2 - 2.2$

$$\begin{array}{r} 3.8 \\ - 1.8 \\ \hline 2.0 \end{array}$$

$$\begin{array}{r} 9.3 \\ - 8.8 \\ \hline 0.5 \end{array}$$

$$\begin{array}{r} 7.2 \\ - 2.2 \\ \hline 5.0 \end{array}$$





小数のたし算とひき算 II

● 差が整数か真小数になる筆算



日にち： 月 日

名まえ _____

・ 次の計算をしなさい。

$$\begin{array}{r} 5.3 \\ - 2.3 \\ \hline 3.0 \end{array}$$

$$\begin{array}{r} 8.8 \\ - 7.9 \\ \hline 0.9 \end{array}$$

$$\begin{array}{r} 6.4 \\ - 5.4 \\ \hline 1.0 \end{array}$$

$$\begin{array}{r} 4.2 \\ - 3.4 \\ \hline 0.8 \end{array}$$

$$\begin{array}{r} 5.3 \\ - 4.5 \\ \hline 0.8 \end{array}$$

$$\begin{array}{r} 7.2 \\ - 3.2 \\ \hline 4.0 \end{array}$$

⑦ 7.5 - 6.8

$$\begin{array}{r} 7.5 \\ - 6.8 \\ \hline 0.7 \end{array}$$

⑧ 8.3 - 7.9

$$\begin{array}{r} 8.3 \\ - 7.9 \\ \hline 0.4 \end{array}$$

⑨ 6.1 - 5.8

$$\begin{array}{r} 6.1 \\ - 5.8 \\ \hline 0.3 \end{array}$$

⑩ 4.9 - 1.9

$$\begin{array}{r} 4.9 \\ - 1.9 \\ \hline 3.0 \end{array}$$

⑪ 5.4 - 4.8

$$\begin{array}{r} 5.4 \\ - 4.8 \\ \hline 0.6 \end{array}$$

⑫ 9.3 - 2.3

$$\begin{array}{r} 9.3 \\ - 2.3 \\ \hline 7.0 \end{array}$$





小数のたし算とひき算 II

● 差が整数か真小数になる筆算



日にち： 月 日

名まえ _____

・ 次の計算をしなさい。

$$\begin{array}{r} 4.7 \\ - 2.7 \\ \hline 2.0 \end{array}$$

$$\begin{array}{r} 6.1 \\ - 5.9 \\ \hline 0.2 \end{array}$$

$$\begin{array}{r} 7.6 \\ - 3.6 \\ \hline 4.0 \end{array}$$

$$\begin{array}{r} 5.3 \\ - 4.5 \\ \hline 0.8 \end{array}$$

$$\begin{array}{r} 8.4 \\ - 7.9 \\ \hline 0.5 \end{array}$$

$$\begin{array}{r} 9.3 \\ - 6.3 \\ \hline 3.0 \end{array}$$

⑦ 8.2 - 7.8

$$\begin{array}{r} 8.2 \\ - 7.8 \\ \hline 0.4 \end{array}$$

⑧ 9.6 - 8.7

$$\begin{array}{r} 9.6 \\ - 8.7 \\ \hline 0.9 \end{array}$$

⑨ 7.3 - 6.8

$$\begin{array}{r} 7.3 \\ - 6.8 \\ \hline 0.5 \end{array}$$

⑩ 3.2 - 2.2

$$\begin{array}{r} 3.2 \\ - 2.2 \\ \hline 1.0 \end{array}$$

⑪ 6.5 - 5.6

$$\begin{array}{r} 6.5 \\ - 5.6 \\ \hline 0.9 \end{array}$$

⑫ 5.7 - 1.7

$$\begin{array}{r} 5.7 \\ - 1.7 \\ \hline 4.0 \end{array}$$



小数のたし算とひき算 II

● 差が整数か真小数になる筆算



日にち： 月 日

名まえ _____

・ 次の計算をしなさい。

$$\begin{array}{r} 3.8 \\ - 1.8 \\ \hline 2.0 \end{array}$$

$$\begin{array}{r} 6 \\ \cancel{7}.2 \\ - 6.8 \\ \hline 0.4 \end{array}$$

$$\begin{array}{r} 2.6 \\ - 1.6 \\ \hline 1.0 \end{array}$$

$$\begin{array}{r} 5 \\ \cancel{6}.1 \\ - 5.9 \\ \hline 0.2 \end{array}$$

$$\begin{array}{r} 8 \\ \cancel{9}.3 \\ - 8.7 \\ \hline 0.6 \end{array}$$

$$\begin{array}{r} 6.4 \\ - 1.4 \\ \hline 5.0 \end{array}$$

⑦ $9.1 - 8.8$

⑧ $6.7 - 5.8$

⑨ $8.2 - 7.5$

$$\begin{array}{r} 8 \\ \cancel{9}.1 \\ - 8.8 \\ \hline 0.3 \end{array}$$

$$\begin{array}{r} 5 \\ \cancel{6}.7 \\ - 5.8 \\ \hline 0.9 \end{array}$$

$$\begin{array}{r} 7 \\ \cancel{8}.2 \\ - 7.5 \\ \hline 0.7 \end{array}$$

⑩ $5.3 - 1.3$

⑪ $7.4 - 6.6$

⑫ $9.8 - 2.8$

$$\begin{array}{r} 5.3 \\ - 1.3 \\ \hline 4.0 \end{array}$$

$$\begin{array}{r} 6 \\ \cancel{7}.4 \\ - 6.6 \\ \hline 0.8 \end{array}$$

$$\begin{array}{r} 9.8 \\ - 2.8 \\ \hline 7.0 \end{array}$$





小数のたし算とひき算 II

● 差が整数か真小数になる筆算



日にち： 月 日

名まえ _____

・ 次の計算をしなさい。

$$\begin{array}{r} 4.5 \\ - 3.5 \\ \hline 1.0 \end{array}$$

$$\begin{array}{r} 8.6 \\ - 7.8 \\ \hline 0.8 \end{array}$$

$$\begin{array}{r} 3.7 \\ - 1.7 \\ \hline 2.0 \end{array}$$

$$\begin{array}{r} 7.2 \\ - 6.7 \\ \hline 0.5 \end{array}$$

$$\begin{array}{r} 6.4 \\ - 5.7 \\ \hline 0.7 \end{array}$$

$$\begin{array}{r} 5.2 \\ - 2.2 \\ \hline 3.0 \end{array}$$

⑦ $8.1 - 7.6$

⑧ $7.3 - 6.7$

⑨ $9.4 - 8.5$

$$\begin{array}{r} 8.1 \\ - 7.6 \\ \hline 0.5 \end{array}$$

$$\begin{array}{r} 7.3 \\ - 6.7 \\ \hline 0.6 \end{array}$$

$$\begin{array}{r} 9.4 \\ - 8.5 \\ \hline 0.9 \end{array}$$

⑩ $6.8 - 4.8$

⑪ $5.7 - 4.9$

⑫ $3.9 - 1.9$

$$\begin{array}{r} 6.8 \\ - 4.8 \\ \hline 2.0 \end{array}$$

$$\begin{array}{r} 5.7 \\ - 4.9 \\ \hline 0.8 \end{array}$$

$$\begin{array}{r} 3.9 \\ - 1.9 \\ \hline 2.0 \end{array}$$



小数のたし算とひき算 II

● 差が整数か真小数になる筆算



日にち： 月 日

名まえ _____

・ 次の計算をしなさい。

① $4.5 - 0.5 = 4$

② $2.8 - 1.9 = 0.9$

③ $7.1 - 6.9 = 0.2$

④ $2.1 - 1.1 = 1$

⑤

	3 .1
-	2.7
<hr/>	
	0.4

⑥

	6.5
-	5.3
<hr/>	
	1.2

⑦

	6 .0
-	3.1
<hr/>	
	2.9

⑧ $8.7 - 3.7$

⑨ $5.6 - 4.9$

⑩ $3.9 - 2$

	8.7
-	3.7
<hr/>	
	5.0

	5 .6
-	4.9
<hr/>	
	0.7

	3.9
-	2.0
<hr/>	
	1.9

⑪ $7.2 - 6.7$

⑫ $8 - 6.8$

⑬ $4.1 - 1.1$

	7 .2
-	6.7
<hr/>	
	0.5

	8 .0
-	6.8
<hr/>	
	1.2

	4.1
-	1.1
<hr/>	
	3.0





小数のたし算とひき算 II

● 差が整数か真小数になる筆算



日にち： 月 日

名まえ _____

・ 次の計算をなさい。

① $6.2 - 0.2 = 6$

② $3.4 - 2.5 = 0.9$

③ $5.4 - 4.9 = 0.5$

④ $4.5 - 2.5 = 2$

⑤

	4	.	2
-	3	.	8
<hr/>			
	0	.	4

⑥

	7	.	4
-	5	.	3
<hr/>			
	2	.	1

⑦

	8	.	0
-	4	.	3
<hr/>			
	3	.	7

⑧ $6.2 - 3.2$

⑨ $9.3 - 8.4$

⑩ $2.6 - 1$

⑧

	6	.	2
-	3	.	2
<hr/>			
	3	.	0

⑨

	9	.	3
-	8	.	4
<hr/>			
	0	.	9

⑩

	2	.	6
-	1	.	0
<hr/>			
	1	.	6

⑪ $5.9 - 3.7$

⑫ $7 - 3.4$

⑬ $8.2 - 6.2$

⑪

	5	.	9
-	3	.	7
<hr/>			
	2	.	2

⑫

	7	.	0
-	3	.	4
<hr/>			
	3	.	6

⑬

	8	.	2
-	6	.	2
<hr/>			
	2	.	0





小数のたし算とひき算 II

● 差が整数か真小数になる筆算



日にち： 月 日

名まえ _____

・ 次の計算をしなさい。

① $5.7 - 2.7 = 3$

② $4.2 - 3.5 = 0.7$

③ $6.8 - 5.2 = 1.6$

④ $3.6 - 2.6 = 1$

⑤

	5 .6
-	4.7
<hr/>	
	0.9

⑥

	8.2
-	7.1
<hr/>	
	1.1

⑦

	9 .0
-	6.4
<hr/>	
	2.6

⑧ $7.3 - 3.3$

⑨ $6.8 - 5.9$

⑩ $4.2 - 2$

⑧

	7.3
-	3.3
<hr/>	
	4.0

⑨

	6 .8
-	5.9
<hr/>	
	0.9

⑩

	4.2
-	2.0
<hr/>	
	2.2

⑪ $8.1 - 7.7$

⑫ $5 - 3.5$

⑬ $6.4 - 5.7$

⑪

	8 .1
-	7.7
<hr/>	
	0.4

⑫

	5 .0
-	3.5
<hr/>	
	1.5

⑬

	6 .4
-	5.7
<hr/>	
	0.7





小数のたし算とひき算 II

● 差が整数か真小数になる筆算



日にち： 月 日

名まえ _____

・ 次の計算をしなさい。

① $3.7 - 1.5 = 2.2$

② $8.6 - 0.6 = 8$

③ $5.6 - 4.3 = 1.3$

④ $7.8 - 2.6 = 5.2$

⑤

	6	.	2
-	5	.	5
<hr/>			
	0	.	7

⑥

	3	.	7
-	2	.	6
<hr/>			
	1	.	1

⑦

	7	.	0
-	3	.	9
<hr/>			
	3	.	1

⑧ $4.1 - 2.1$

⑨ $8.3 - 7.5$

⑩ $5.9 - 4$

⑧

	4	.	1
-	2	.	1
<hr/>			
	2	.	0

⑨

	8	.	3
-	7	.	5
<hr/>			
	0	.	8

⑩

	5	.	9
-	4	.	0
<hr/>			
	1	.	9

⑪ $4.9 - 3.7$

⑫ $8 - 6.3$

⑬ $9.4 - 8.9$

⑪

	4	.	9
-	3	.	7
<hr/>			
	1	.	2

⑫

	8	.	0
-	6	.	3
<hr/>			
	1	.	7

⑬

	9	.	4
-	8	.	9
<hr/>			
	0	.	5





小数のたし算とひき算 II

● 差が整数か真小数になる筆算



日にち： 月 日

名まえ _____

・ 次の計算をしなさい。

① $4.3 - 2.3 = 2$

② $7.2 - 0.2 = 7$

③ $2.5 - 1.6 = 0.9$

④ $5.3 - 1.2 = 4.1$

⑤

	7 .3
-	6.9
<hr/>	
	0.4

⑥

	4.8
-	3.2
<hr/>	
	1.6

⑦

	9 .0
-	1.7
<hr/>	
	7.3

⑧ $6.2 - 2.2$

⑨ $5.4 - 4.6$

⑩ $8.4 - 6$

⑧

	6.2
-	2.2
<hr/>	
	4.0

⑨

	5 .4
-	4.6
<hr/>	
	0.8

⑩

	8.4
-	6.0
<hr/>	
	2.4

⑪ $3.5 - 2.4$

⑫ $6 - 2.5$

⑬ $7.2 - 6.8$

⑪

	3.5
-	2.4
<hr/>	
	1.1

⑫

	6 .0
-	2.5
<hr/>	
	3.5

⑬

	7 .2
-	6.8
<hr/>	
	0.4





小数のたし算とひき算 11

● 差が整数か真小数になる筆算

15

目指せ90点!



名まえ _____

1 次の計算をしなさい。(各5点)

① $4.4 - 3.5 = 0.9$

② $9.5 - 4.5 = 5$

③ $8.4 - 3.4 = 5$

④ $2.1 - 1.2 = 0.9$

2 次の計算をしなさい。(各10点)

①

	4 .2
-	3.6
<hr/>	
	0.6

②

	6 .7
-	4.8
<hr/>	
	1.9

③

	9 .0
-	2.2
<hr/>	
	6.8

④ $9.7 - 6.7$

⑤ $8.6 - 4$

⑥ $2.2 - 1.4$

	9.7
-	6.7
<hr/>	
	3.0

	8.6
-	4.0
<hr/>	
	4.6

	2 .2
-	1.4
<hr/>	
	0.8

⑦ $7.6 - 3.4$

⑧ $7.9 - 3.9$

	7.6
-	3.4
<hr/>	
	4.2

	7.9
-	3.9
<hr/>	
	4.0



小数のたし算とひき算 11

● 差が整数か真小数になる筆算

16

目指せ90点!



名まえ _____

1 次の計算をしなさい。(各5点)

$① 5.5 - 4.6 = 0.9$

$② 8.2 - 4.2 = 4$

$③ 7.5 - 2.5 = 5$

$④ 3.3 - 2.2 = 1.1$

2 次の計算をしなさい。(各10点)

$$\begin{array}{r} 4 \\ \cancel{5}.3 \\ - 4.8 \\ \hline 0.5 \end{array}$$

$$\begin{array}{r} 6 \\ \cancel{7}.6 \\ - 3.9 \\ \hline 3.7 \end{array}$$

$$\begin{array}{r} 6 \\ \cancel{7}.0 \\ - 3.6 \\ \hline 3.4 \end{array}$$

$④ 6.4 - 4.4$

$⑤ 9.3 - 5$

$⑥ 4.1 - 3.4$

$$\begin{array}{r} 6.4 \\ - 4.4 \\ \hline 2.0 \end{array}$$

$$\begin{array}{r} 9.3 \\ - 5.0 \\ \hline 4.3 \end{array}$$

$$\begin{array}{r} 3 \\ \cancel{4}.1 \\ - 3.4 \\ \hline 0.7 \end{array}$$

$⑦ 8.5 - 3.2$

$⑧ 5.4 - 4.9$

$$\begin{array}{r} 8.5 \\ - 3.2 \\ \hline 5.3 \end{array}$$

$$\begin{array}{r} 4 \\ \cancel{5}.4 \\ - 4.9 \\ \hline 0.5 \end{array}$$

