



## 小数のたし算とひき算4

● 帯小数と真小数のひき算 (暗算)



日にち：            月            日

名まえ \_\_\_\_\_

・ 次の計算をしましょう。(うすい字はなぞりましょう。)

①  $1.6 - 0.5 = 1.1$

⑥  $1.7 - 0.9 =$

②  $1.4 - 0.7 =$

⑦  $1.8 - 0.5 =$

③  $1.7 - 0.3 =$

⑧  $1 - 0.1 =$

④  $1.9 - 0.4 =$

⑨  $1.7 - 0.7 = 1$

⑤  $1 - 0.8 = 0.2$

⑩  $1.9 - 0.8 =$





# 小数のたし算とひき算4

● 帯小数と真小数のひき算 (暗算)

2

日にち：            月            日

名まえ \_\_\_\_\_

・ 次の計算をしましょう。(うすい字はなぞりましょう。)

①  $1.8 - 0.4 = 1.4$

⑥  $1 - 0.9 = 0.1$

②  $1.2 - 0.8 =$

⑦  $1.5 - 0.5 = 1$

③  $1.9 - 0.3 =$

⑧  $1.2 - 0.3 =$

④  $1.3 - 0.6 =$

⑨  $1.8 - 0.7 =$

⑤  $1.4 - 0.8 =$

⑩  $1 - 0.8 =$



## 小数のたし算とひき算4

● 帯小数と真小数のひき算 (暗算)

3

日にち：            月            日

名まえ \_\_\_\_\_

・ 次の計算をしましょう。(うすい字はなぞりましょう。)

①  $1.4 - 0.3 = 1.1$

⑥  $1.8 - 0.3 =$

②  $1 - 0.4 = 0.6$

⑦  $1.6 - 0.2 =$

③  $1.5 - 0.3 =$

⑧  $1.3 - 0.3 =$

④  $1.3 - 0.3 = 1$

⑨  $1.2 - 0.7 =$

⑤  $1.7 - 0.8 =$

⑩  $1.9 - 0.6 =$



## 小数のたし算とひき算4

● 帯小数と真小数のひき算 (暗算)

4

日にち：            月            日

名まえ \_\_\_\_\_

・ 次の計算をしましょう。(うすい字はなぞりましょう。)

①  $1.2 - 0.4 = 0.8$

⑥  $1 - 0.6 =$

②  $1.3 - 0.3 = 1$

⑦  $1.5 - 0.6 =$

③  $1.7 - 0.2 =$

⑧  $1.4 - 0.2 =$

④  $1 - 0.5 = 0.5$

⑨  $1.5 - 0.5 =$

⑤  $1.8 - 0.4 =$

⑩  $1.6 - 0.8 =$



## 小数のたし算とひき算4

● 帯小数と真小数のひき算 (暗算)

5

日にち：            月            日

名まえ \_\_\_\_\_

・ 次の計算をしましょう。(うすい字はなぞりましょう。)

①  $1.8 - 0.9 = 0.9$

⑥  $1.5 - 0.8 =$

②  $1 - 0.5 =$

⑦  $1.8 - 0.4 =$

③  $1.7 - 0.3 =$

⑧  $1 - 0.6 =$

④  $1.9 - 0.3 =$

⑨  $1.7 - 0.6 =$

⑤  $1.8 - 0.6 =$

⑩  $1 - 0.3 =$



## 小数のたし算とひき算4

● 帯小数と真小数のひき算 (暗算)

6

日にち：            月            日

名まえ \_\_\_\_\_

・ 次の計算をしましょう。(うすい字はなぞりましょう。)

①  $1.6 - 0.4 = 1.2$

⑥  $1.1 - 0.5 =$

②  $1.4 - 0.6 =$

⑦  $1.3 - 0.3 =$

③  $1 - 0.4 =$

⑧  $1.5 - 0.6 =$

④  $1.4 - 0.5 =$

⑨  $1.2 - 0.8 =$

⑤  $1.3 - 0.5 =$

⑩  $1.8 - 0.7 =$





## 小数のたし算とひき算4

● 帯小数と真小数のひき算 (暗算)

7

日にち：            月            日

名まえ \_\_\_\_\_

・ 次の計算をしましょう。(うすい字はなぞりましょう。)

①  $1.2 - 0.4 = 0.8$

⑥  $1 - 0.4 =$

②  $1.4 - 0.3 =$

⑦  $1.8 - 0.5 =$

③  $1.6 - 0.8 =$

⑧  $1.3 - 0.5 =$

④  $1.6 - 0.6 =$

⑨  $1 - 0.3 =$

⑤  $1.1 - 0.4 =$

⑩  $1.6 - 0.4 =$



## 小数のたし算とひき算4

● 帯小数と真小数のひき算 (暗算)



日にち：            月            日

名まえ \_\_\_\_\_

・ 次の計算をしましょう。

①  $1.1 - 0.3 =$

⑥  $1.4 - 0.6 =$

②  $1 - 0.2 =$

⑦  $1.4 - 0.5 =$

③  $1.3 - 0.8 =$

⑧  $1.8 - 0.4 =$

④  $1.2 - 0.6 =$

⑨  $1.9 - 0.6 =$

⑤  $1.9 - 0.9 =$

⑩  $1 - 0.2 =$





## 小数のたし算とひき算4

● 帯小数と真小数のひき算 (暗算)



日にち：            月            日

名まえ \_\_\_\_\_

・ 次の計算をしましょう。

①  $1.5 - 0.2 =$

⑥  $1 - 0.3 =$

②  $1.4 - 0.8 =$

⑦  $1.4 - 0.4 =$

③  $1 - 0.5 =$

⑧  $1.5 - 0.7 =$

④  $1.1 - 0.5 =$

⑨  $1.7 - 0.6 =$

⑤  $1.3 - 0.8 =$

⑩  $1.8 - 0.2 =$



# 小数のたし算とひき算4

● 帯小数と真小数のひき算 (暗算)



日にち：            月            日

名まえ \_\_\_\_\_

・ 次の計算をしましょう。

①  $1.8 - 0.6 =$

②  $0.7 + 0.5 =$

③  $0.8 - 0.3 =$

④  $1 - 0.4 =$

⑤  $0.9 - 0.2 =$

⑥  $1.5 - 0.1 =$

⑦  $0.2 + 0.5 =$

⑧  $1 - 0.7 =$

⑨  $0.2 + 0.8 =$

⑩  $0.7 - 0.6 =$

⑪  $0.1 + 0.3 =$

⑫  $1.9 - 0.4 =$





## 小数のたし算とひき算4

◎ 帯小数と真小数のひき算 (暗算)



日にち：            月            日

名まえ

---

・ 次の計算をしましょう。

①  $1.5 - 0.6 =$

②  $1.7 - 0.9 =$

③  $0.8 - 0.3 =$

④  $0.7 + 0.4 =$

⑤  $1.9 - 1.2 =$

⑥  $1.2 - 0.2 =$

⑦  $1 - 0.2 =$

⑧  $0.5 + 0.2 =$

⑨  $1.7 - 0.8 =$

⑩  $0.8 + 0.5 =$

⑪  $1.4 - 0.2 =$

⑫  $0.8 + 0.2 =$





# 小数のたし算とひき算4

◎ 帯小数と真小数のひき算 (暗算)



日にち：            月            日

名まえ \_\_\_\_\_

・ 次の計算をしましょう。

①  $1.3 - 0.7 =$

②  $1 - 0.9 =$

③  $1.4 - 0.8 =$

④  $0.3 + 0.4 =$

⑤  $1.9 - 0.8 =$

⑥  $1.3 - 0.2 =$

⑦  $1.7 - 0.9 =$

⑧  $1.5 - 0.7 =$

⑨  $1.5 + 0.2 =$

⑩  $1.7 - 0.5 =$

⑪  $0.1 + 0.5 =$

⑫  $1 - 0.2 =$





# 小数のたし算とひき算4

◎ 帯小数と真小数のひき算 (暗算)

13

日にち：            月            日

名まえ \_\_\_\_\_

・ 次の計算をしましょう。

①  $0.9 - 0.7 =$

②  $1.3 - 0.5 =$

③  $1.8 - 0.9 =$

④  $1.5 - 0.7 =$

⑤  $1.4 - 0.2 =$

⑥  $1.3 + 0.2 =$

⑦  $1.8 - 0.5 =$

⑧  $1.2 + 0.5 =$

⑨  $0.5 - 0.3 =$

⑩  $1.2 - 0.8 =$

⑪  $0.8 + 0.4 =$

⑫  $1.3 - 0.2 =$





## 小数のたし算とひき算 4

◎ 帯小数と真小数のひき算 (暗算)

14

日にち：            月            日

名まえ \_\_\_\_\_

・ 次の計算をしましょう。

①  $1.9 - 0.4 =$

②  $1.7 - 0.8 =$

③  $0.8 - 0.5 =$

④  $1.6 - 0.4 =$

⑤  $1.8 - 0.7 =$

⑥  $1.4 + 0.5 =$

⑦  $0.9 - 0.7 =$

⑧  $0.2 + 0.9 =$

⑨  $1 - 0.6 =$

⑩  $1.2 - 0.6 =$

⑪  $0.1 + 0.4 =$

⑫  $1.3 - 0.3 =$






# 小数のたし算とひき算4

● 帯小数と真小数のひき算 (暗算)

# 15

目指せ80点!



名まえ \_\_\_\_\_

・ 次の計算をしましょう。(各10点)

①  $1.5 - 0.7 =$

⑥  $0.4 + 0.5 =$

②  $1 - 0.8 =$

⑦  $0.7 - 0.7 =$

③  $1.4 - 0.5 =$

⑧  $1.4 + 0.5 =$

④  $1.6 - 0.6 =$

⑨  $1.7 - 0.6 =$

⑤  $0.6 + 0.7 =$

⑩  $0.8 - 0.5 =$

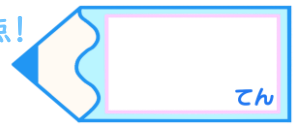


# 小数のたし算とひき算4

◎ 帯小数と真小数のひき算 (暗算)

16

目指せ80点!



名まえ \_\_\_\_\_

・ 次の計算をしましょう。(各10点)

①  $1.5 - 0.9 =$

⑥  $1.7 - 0.5 =$

②  $0.3 + 0.8 =$

⑦  $1 - 0.7 =$

③  $0.7 - 0.3 =$

⑧  $1.2 + 0.6 =$

④  $1.8 - 0.4 =$

⑨  $0.9 - 0.3 =$

⑤  $0.2 + 0.6 =$

⑩  $1.2 - 0.4 =$





## 小数のたし算とひき算4

● 帯小数と真小数のひき算 (暗算)



日にち：            月            日

名まえ \_\_\_\_\_

・ 次の計算をしましょう。(うすい字はなぞりましょう。)

①  $1.6 - 0.5 = 1.1$

⑥  $1.7 - 0.9 = 0.8$

②  $1.4 - 0.7 = 0.7$

⑦  $1.8 - 0.5 = 1.3$

③  $1.7 - 0.3 = 1.4$

⑧  $1 - 0.1 = 0.9$

④  $1.9 - 0.4 = 1.5$

⑨  $1.7 - 0.7 = 1$

⑤  $1 - 0.8 = 0.2$

⑩  $1.9 - 0.8 = 1.1$





## 小数のたし算とひき算4

● 帯小数と真小数のひき算 (暗算)

2

日にち：            月            日

名まえ \_\_\_\_\_

・ 次の計算をしましょう。(うすい字はなぞりましょう。)

①  $1.8 - 0.4 = 1.4$

⑥  $1 - 0.9 = 0.1$

②  $1.2 - 0.8 = 0.4$

⑦  $1.5 - 0.5 = 1$

③  $1.9 - 0.3 = 1.6$

⑧  $1.2 - 0.3 = 0.9$

④  $1.3 - 0.6 = 0.7$

⑨  $1.8 - 0.7 = 1.1$

⑤  $1.4 - 0.8 = 0.6$

⑩  $1 - 0.8 = 0.2$



## 小数のたし算とひき算4

● 帯小数と真小数のひき算 (暗算)

3

日にち：            月            日

名まえ \_\_\_\_\_

・ 次の計算をしましょう。(うすい字はなぞりましょう。)

①  $1.4 - 0.3 = 1.1$

⑥  $1.8 - 0.3 = 1.5$

②  $1 - 0.4 = 0.6$

⑦  $1.6 - 0.2 = 1.4$

③  $1.5 - 0.3 = 1.2$

⑧  $1.3 - 0.3 = 1$

④  $1.3 - 0.3 = 1$

⑨  $1.2 - 0.7 = 0.5$

⑤  $1.7 - 0.8 = 0.9$

⑩  $1.9 - 0.6 = 1.3$



## 小数のたし算とひき算4

● 帯小数と真小数のひき算 (暗算)

4

日にち：            月            日

名まえ \_\_\_\_\_

・ 次の計算をしましょう。(うすい字はなぞりましょう。)

①  $1.2 - 0.4 = 0.8$

⑥  $1 - 0.6 = 0.4$

②  $1.3 - 0.3 = 1$

⑦  $1.5 - 0.6 = 0.9$

③  $1.7 - 0.2 = 1.5$

⑧  $1.4 - 0.2 = 1.2$

④  $1 - 0.5 = 0.5$

⑨  $1.5 - 0.5 = 1$

⑤  $1.8 - 0.4 = 1.4$

⑩  $1.6 - 0.8 = 0.8$



## 小数のたし算とひき算4

● 帯小数と真小数のひき算 (暗算)

5

日にち：            月            日

名まえ \_\_\_\_\_

・ 次の計算をしましょう。(うすい字はなぞりましょう。)

①  $1.8 - 0.9 = 0.9$

⑥  $1.5 - 0.8 = 0.7$

②  $1 - 0.5 = 0.5$

⑦  $1.8 - 0.4 = 1.4$

③  $1.7 - 0.3 = 1.4$

⑧  $1 - 0.6 = 0.4$

④  $1.9 - 0.3 = 1.6$

⑨  $1.7 - 0.6 = 1.1$

⑤  $1.8 - 0.6 = 1.2$

⑩  $1 - 0.3 = 0.7$



## 小数のたし算とひき算4

● 帯小数と真小数のひき算 (暗算)

6

日にち：            月            日

名まえ \_\_\_\_\_

・ 次の計算をしましょう。(うすい字はなぞりましょう。)

①  $1.6 - 0.4 = 1.2$

⑥  $1.1 - 0.5 = 0.6$

②  $1.4 - 0.6 = 0.8$

⑦  $1.3 - 0.3 = 1$

③  $1 - 0.4 = 0.6$

⑧  $1.5 - 0.6 = 0.9$

④  $1.4 - 0.5 = 0.9$

⑨  $1.2 - 0.8 = 0.4$

⑤  $1.3 - 0.5 = 0.8$

⑩  $1.8 - 0.7 = 1.1$





## 小数のたし算とひき算4

● 帯小数と真小数のひき算 (暗算)

7

日にち：            月            日

名まえ \_\_\_\_\_

・ 次の計算をしましょう。(うすい字はなぞりましょう。)

①  $1.2 - 0.4 = 0.8$

⑥  $1 - 0.4 = 0.6$

②  $1.4 - 0.3 = 1.1$

⑦  $1.8 - 0.5 = 1.3$

③  $1.6 - 0.8 = 0.8$

⑧  $1.3 - 0.5 = 0.8$

④  $1.6 - 0.6 = 1$

⑨  $1 - 0.3 = 0.7$

⑤  $1.1 - 0.4 = 0.7$

⑩  $1.6 - 0.4 = 1.2$



## 小数のたし算とひき算4

● 帯小数と真小数のひき算 (暗算)



日にち：            月            日

名まえ \_\_\_\_\_

・ 次の計算をしましょう。

①  $1.1 - 0.3 = 0.8$

⑥  $1.4 - 0.6 = 0.8$

②  $1 - 0.2 = 0.8$

⑦  $1.4 - 0.5 = 0.9$

③  $1.3 - 0.8 = 0.5$

⑧  $1.8 - 0.4 = 1.4$

④  $1.2 - 0.6 = 0.6$

⑨  $1.9 - 0.6 = 1.3$

⑤  $1.9 - 0.9 = 1$

⑩  $1 - 0.2 = 0.8$





## 小数のたし算とひき算4

● 帯小数と真小数のひき算 (暗算)

9

日にち：            月            日

名まえ \_\_\_\_\_

・ 次の計算をしましょう。

①  $1.5 - 0.2 = 1.3$

⑥  $1 - 0.3 = 0.7$

②  $1.4 - 0.8 = 0.6$

⑦  $1.4 - 0.4 = 1$

③  $1 - 0.5 = 0.5$

⑧  $1.5 - 0.7 = 0.8$

④  $1.1 - 0.5 = 0.6$

⑨  $1.7 - 0.6 = 1.1$

⑤  $1.3 - 0.8 = 0.5$

⑩  $1.8 - 0.2 = 1.6$



# 小数のたし算とひき算4

◎ 帯小数と真小数のひき算 (暗算)



日にち：            月            日

名まえ \_\_\_\_\_

・ 次の計算をしましょう。

①  $1.8 - 0.6 = 1.2$

⑦  $0.2 + 0.5 = 0.7$

②  $0.7 + 0.5 = 1.2$

⑧  $1 - 0.7 = 0.3$

③  $0.8 - 0.3 = 0.5$

⑨  $0.2 + 0.8 = 1$

④  $1 - 0.4 = 0.6$

⑩  $0.7 - 0.6 = 0.1$

⑤  $0.9 - 0.2 = 0.7$

⑪  $0.1 + 0.3 = 0.4$

⑥  $1.5 - 0.1 = 1.4$

⑫  $1.9 - 0.4 = 1.5$





## 小数のたし算とひき算4

● 帯小数と真小数のひき算（暗算）



日にち：            月            日

名まえ

---

・ 次の計算をしましょう。

①  $1.5 - 0.6 = 0.9$

⑦  $1 - 0.2 = 0.8$

②  $1.7 - 0.9 = 0.8$

⑧  $0.5 + 0.2 = 0.7$

③  $0.8 - 0.3 = 0.5$

⑨  $1.7 - 0.8 = 0.9$

④  $0.7 + 0.4 = 1.1$

⑩  $0.8 + 0.5 = 1.3$

⑤  $1.9 - 1.2 = 0.7$

⑪  $1.4 - 0.2 = 1.2$

⑥  $1.2 - 0.2 = 1$

⑫  $0.8 + 0.2 = 1$





# 小数のたし算とひき算4

◎ 帯小数と真小数のひき算 (暗算)

12

日にち：          月          日

名まえ \_\_\_\_\_

・ 次の計算をしましょう。

①  $1.3 - 0.7 = 0.6$

⑦  $1.7 - 0.9 = 0.8$

②  $1 - 0.9 = 0.1$

⑧  $1.5 - 0.7 = 0.8$

③  $1.4 - 0.8 = 0.6$

⑨  $1.5 + 0.2 = 1.7$

④  $0.3 + 0.4 = 0.7$

⑩  $1.7 - 0.5 = 1.2$

⑤  $1.9 - 0.8 = 1.1$

⑪  $0.1 + 0.5 = 0.6$

⑥  $1.3 - 0.2 = 1.1$

⑫  $1 - 0.2 = 0.8$





# 小数のたし算とひき算4

◎ 帯小数と真小数のひき算 (暗算)

13

日にち：            月            日

名まえ \_\_\_\_\_

・ 次の計算をしましょう。

①  $0.9 - 0.7 = 0.2$

⑦  $1.8 - 0.5 = 1.3$

②  $1.3 - 0.5 = 0.8$

⑧  $1.2 + 0.5 = 1.7$

③  $1.8 - 0.9 = 0.9$

⑨  $0.5 - 0.3 = 0.2$

④  $1.5 - 0.7 = 0.8$

⑩  $1.2 - 0.8 = 0.4$

⑤  $1.4 - 0.2 = 1.2$

⑪  $0.8 + 0.4 = 1.2$

⑥  $1.3 + 0.2 = 1.5$

⑫  $1.3 - 0.2 = 1.1$





## 小数のたし算とひき算4

◎ 帯小数と真小数のひき算 (暗算)

14

日にち：            月            日

名まえ \_\_\_\_\_

・ 次の計算をしましょう。

①  $1.9 - 0.4 = 1.5$

⑦  $0.9 - 0.7 = 0.2$

②  $1.7 - 0.8 = 0.9$

⑧  $0.2 + 0.9 = 1.1$

③  $0.8 - 0.5 = 0.3$

⑨  $1 - 0.6 = 0.4$

④  $1.6 - 0.4 = 1.2$

⑩  $1.2 - 0.6 = 0.6$

⑤  $1.8 - 0.7 = 1.1$

⑪  $0.1 + 0.4 = 0.5$

⑥  $1.4 + 0.5 = 1.9$

⑫  $1.3 - 0.3 = 1$



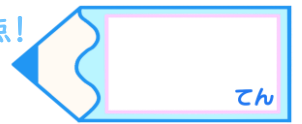


# 小数のたし算とひき算4

● 帯小数と真小数のひき算 (暗算)

15

目指せ80点!



名まえ \_\_\_\_\_

・ 次の計算をしましょう。(各10点)

①  $1.5 - 0.7 = 0.8$

⑥  $0.4 + 0.5 = 0.9$

②  $1 - 0.8 = 0.2$

⑦  $0.7 - 0.7 = 0$

③  $1.4 - 0.5 = 0.9$

⑧  $1.4 + 0.5 = 1.9$

④  $1.6 - 0.6 = 1$

⑨  $1.7 - 0.6 = 1.1$

⑤  $0.6 + 0.7 = 1.3$

⑩  $0.8 - 0.5 = 0.3$




# 小数のたし算とひき算4

◎ 帯小数と真小数のひき算 (暗算)

16

目指せ80点!



名まえ \_\_\_\_\_

・ 次の計算をしましょう。(各10点)

①  $1.5 - 0.9 = 0.6$

⑥  $1.7 - 0.5 = 1.2$

②  $0.3 + 0.8 = 1.1$

⑦  $1 - 0.7 = 0.3$

③  $0.7 - 0.3 = 0.4$

⑧  $1.2 + 0.6 = 1.8$

④  $1.8 - 0.4 = 1.4$

⑨  $0.9 - 0.3 = 0.6$

⑤  $0.2 + 0.6 = 0.8$

⑩  $1.2 - 0.4 = 0.8$

