



小数のたし算とひき算7

● 整数と小数のたし算の筆算



日にち： 月 日

名まえ _____

・ 次の計算をしましょう。（うすい字はなぞりましょう。）

①

	8	0
+	7	6
<hr/>		
1	5	6

②

	7	3
+	3	0
<hr/>		
1	0	3

③

	6	4
+	8	
<hr/>		

④

	6	7
+	2	
<hr/>		

⑤

	6	
+	8	2
<hr/>		

⑥

	6	
+	9	1
<hr/>		

⑦ $3.7 + 5$

⑧ $9 + 3.6$

⑨ $8 + 3.8$

	3	7
+	5	0
<hr/>		
	8	7

	9	0
+	3	6
<hr/>		

⑩ $6 + 4.9$

⑪ $5.9 + 7$

⑫ $4 + 7.8$



小数のたし算とひき算7

● 整数と小数のたし算の筆算



日にち： 月 日

名まえ _____

・ 次の計算をしましょう。（うすい字はなぞりましょう。）

①

	7	9
+	4	0
<hr/>		
1	1	9

②

	7	0
+	3	3
<hr/>		
1	0	3

③

	3	7
+	6	
<hr/>		

④

	6	
+	8	3
<hr/>		

⑤

	5	6
+	7	
<hr/>		

⑥

	6	
+	5	8
<hr/>		

⑦ $2.8 + 9$

⑧ $5 + 8.6$

⑨ $5.7 + 2$

	2	8
+	9	0
<hr/>		
1	1	8

	5	0
+	8	6
<hr/>		

⑩ $4.7 + 3$

⑪ $2 + 6.8$

⑫ $8 + 9.5$



小数のたし算とひき算7

● 整数と小数のたし算の筆算



日にち： 月 日

名まえ _____

・ 次の計算をしましょう。（うすい字はなぞりましょう。）

①

	4	7
+	8	0
<hr/>		
1	2	7

②

	2	0
+	9	1
<hr/>		
1	1	1

③

	5	
+	7	6
<hr/>		

④

	5	6
+	8	
<hr/>		

⑤

	6	7
+	5	
<hr/>		

⑥

	9	
+	5	8
<hr/>		

⑦ 5.4 + 6

⑧ 6 + 7.2

⑨ 8 + 3.8

	5	4
+	6	0
<hr/>		
1	1	4

	6	0
+	7	2
<hr/>		

⑩ 5 + 9.3

⑪ 4.8 + 7

⑫ 6 + 8.5



小数のたし算とひき算7

● 整数と小数のたし算の筆算

4

日にち： 月 日

名まえ _____

・ 次の計算をしましょう。（うすい字はなぞりましょう。）

①

	6	0
+	4	5
<hr/>		
1	0	5

②

	2	7
+	9	0
<hr/>		
1	1	7

③

	7	8
+	4	
<hr/>		

④

	7	5
+	4	
<hr/>		

⑤

	6	
+	5	7
<hr/>		

⑥

	8	
+	9	4
<hr/>		

⑦ $7 + 5.8$

⑧ $9.8 + 5$

⑨ $6.5 + 9$

	7	0
+	5	8
<hr/>		
1	2	8

	9	8
+	5	0
<hr/>		

⑩ $4.8 + 6$

⑪ $7 + 6.9$

⑫ $5.3 + 4$



小数のたし算とひき算7

● 整数と小数のたし算の筆算



日にち： 月 日

名まえ _____

・ 次の計算をしましょう。（うすい字はなぞりましょう。）

①

	4	6
+	7	0
<hr/>		
1	1	6

②

	4	
+	9	5
<hr/>		

③

	6	7
+	5	
<hr/>		

④

	7	
+	5	8
<hr/>		

⑤

	6	
+	8	9
<hr/>		

⑥

	9	6
+	8	
<hr/>		

⑦ $3.9 + 6$

⑧ $4.8 + 8$

⑨ $9 + 3.8$

	3	9
+	6	0
<hr/>		
	9	9

	4	8
+	8	0
<hr/>		

⑩ $7.9 + 4$

⑪ $5.8 + 3$

⑫ $6 + 4.8$



小数のたし算とひき算7

● 整数と小数のたし算の筆算



日にち： 月 日

名まえ _____

・ 次の計算をしましょう。（うすい字はなぞりましょう。）

①

	5	8
+	6	0
<hr/>		
1	1	8

②

	5	
+	7	4
<hr/>		

③

	7	5
+	4	
<hr/>		

④

	2	
+	6	4
<hr/>		

⑤

	7	
+	4	9
<hr/>		

⑥

	8	9
+	5	
<hr/>		

⑦ 4.7 + 3

⑧ 9 + 6.3

⑨ 6.5 + 4

	4	7
+	3	0
<hr/>		
	7	7

⑩ 6 + 6.8

⑪ 7.6 + 9

⑫ 5 + 9.2



小数のたし算とひき算 7

● 整数と小数のたし算の筆算



日にち： 月 日

名まえ _____

・ 次の計算をしましょう。（うすい字はなぞりましょう。）

①

	7	0
+	3	6

②

	6	3
+	5	

③

	6	
+	8	9

④

	4	
+	8	3

⑤

	9	4
+	5	

⑥

	7	6
+	9	

⑦ 5 + 6.9

⑧ 5.3 + 7

⑨ 4.1 + 6

	5	0
+	6	9

		9

⑩ 8 + 5.9

⑪ 4.5 + 3

⑫ 2 次 の 計 算 を し ま し



小数のたし算とひき算 7

● 整数と小数のたし算の筆算



日にち： 月 日

名まえ _____

・ 次の計算をしましょう。

①

	3	5
+	6	

②

	5	9
+	7	

③

	3	
+	6	8

④

	5	
+	4	2

⑤

	2	
+	4	7

⑥

	5	3
+	9	

⑦ 6.4 + 8

⑧ 5 + 7.3

⑨ 3.8 + 4

⑩ 3 + 4.1

⑪ 8.2 + 5

⑫ 6 + 7.3



小数のたし算とひき算7

● 整数と小数のたし算の筆算



日にち： 月 日

名まえ _____

・ 次の計算をしましょう。

①

	8	
+	4	3
<hr/>		

②

	2	5
+	5	
<hr/>		

③

	2	
+	5	7
<hr/>		

④

	7	
+	5	3
<hr/>		

⑤

	6	
+	8	5
<hr/>		

⑥

	3	8
+	4	
<hr/>		

⑦ $3 + 7.4$

⑧ $6.5 + 4$

⑨ $7 + 6.1$

⑩ $8 + 3.8$

⑪ $2.7 + 5$

⑫ $9.4 + 7$



小数のたし算とひき算7

● 整数と小数のたし算の筆算



日にち： 月 日

名まえ _____

・ 次の計算をしましょう。

①

	8	9
+	5	

②

	9	
+	4	7

③

	6	5
+	5	8

④

	1	6
+	5	8

⑤

	0	7
+	8	9

⑥

	4	8
+	8	

⑦ 3.8 + 5.3

⑧ 4 + 5.8

⑨ 9.3 + 5

⑩ 1.6 + 0.7

⑪ 3.6 + 9.8

⑫ 2.7 + 6



小数のたし算とひき算 7

● 整数と小数のたし算の筆算



日にち： 月 日

名まえ _____

・ 次の計算をしましょう。

①

	4	5
+	7	8

②

	5	7
+	4	

③

	7	
+	3	8

④

	6	5
+	2	3

⑤

	3	6
+	8	1

⑥

	4	3
+	8	

⑦ $4.7 + 3.6$

⑧ $4 + 6.9$

⑨ $2.7 + 6$

⑩ $8 + 7.5$

⑪ $4.1 + 7.8$

⑫ $6.7 + 9.4$





小数のたし算とひき算7

● 整数と小数のたし算の筆算

12

日にち： 月 日

名まえ _____

・ 次の計算をしましょう。

①

	6	7
+	2	8

②

	5	
+	7	3

③

	9	
+	2	5

④

	8	7
+	4	

⑤

	4	7
+	3	2

⑥

	9	4
+	5	

⑦ $5 + 6.8$

⑧ $2.7 + 8$

⑨ $5.1 + 9.8$

⑩ $3 + 6.7$

⑪ $5.5 + 9.4$

⑫ $3.7 + 5.2$



小数のたし算とひき算7

● 整数と小数のたし算の筆算

13

日にち： 月 日

名まえ _____

・ 次の計算をしましょう。

①

	4	1
+	7	

②

	6	5
+	9	4

③

	3	6
+	7	2

④

	3	7
+	6	

⑤

	7	
+	5	8

⑥

	1	8
+	9	7

⑦ 6.5 + 4

⑧ 3 + 4.8

⑨ 6.4 + 8.5

⑩ 4.3 + 7.2

⑪ 5.9 + 6

⑫ 5.3 + 8.9



小数のたし算とひき算7

● 整数と小数のたし算の筆算

14

日にち： 月 日

名まえ _____

・ 次の計算をしましょう。

①

	5	7
+	4	6

②

	2	5
+	9	6

③

	6	1
+	8	

④

	4	
+	9	5

⑤

	7	6
+	3	

⑥

	4	3
+	8	2

⑦ $3 + 7.4$

⑧ $6.7 + 5$

⑨ $9.3 + 7$

⑩ $5.5 + 3.4$

⑪ $8.2 + 2$

⑫ $5.3 + 8.6$



小数のたし算とひき算7

● 整数と小数のたし算の筆算

15

目指せ80点!



名まえ _____

・ 次の計算をしましょう。(①～⑤まで各8点, ⑥～⑫は各10点)

①

	0	6
+	5	9

②

	5	4
+	7	

③

	4	6
+	5	8

④

	8	
+	3	2

⑤

	4	4
+	7	3

⑥

	9	
+	5	4

⑦ $4.3 + 2$

⑧ $3.8 + 9.5$

⑨ $5 + 3.9$

⑩ $6.4 + 3.7$

⑪ $7.3 + 5.4$

⑫ $8.2 + 9$




小数のたし算とひき算 7

● 整数と小数のたし算の筆算

16

目指せ80点!



名まえ _____

・ 次の計算をしましょう。(①～⑤まで各8点, ⑥～⑫は各10点)

①

	3	6
+	4	5

②

	4	
+	7	8

③

	7	5
+	2	9

④

	6	
+	5	4

⑤

	6	7
+	8	2

⑥

	5	4
+	8	

⑦ $5 + 1.9$

⑧ $5.2 + 6$

⑨ $7.9 + 8$

⑩ $3.6 + 5.2$

⑪ $4.8 + 9.7$

⑫ $6 + 3.1$



小数のたし算とひき算7

● 整数と小数のたし算の筆算



日にち： 月 日

名まえ _____

・ 次の計算をしましょう。（うすい字はなぞりましょう。）

$$\begin{array}{r} 8.0 \\ + 7.6 \\ \hline 15.6 \end{array}$$

$$\begin{array}{r} 7.3 \\ + 3.0 \\ \hline 10.3 \end{array}$$

$$\begin{array}{r} 6.4 \\ + 8.0 \\ \hline 14.4 \end{array}$$

$$\begin{array}{r} 6.7 \\ + 2.0 \\ \hline 8.7 \end{array}$$

$$\begin{array}{r} 6.0 \\ + 8.2 \\ \hline 14.2 \end{array}$$

$$\begin{array}{r} 6.0 \\ + 9.1 \\ \hline 15.1 \end{array}$$

⑦ $3.7 + 5$

⑧ $9 + 3.6$

⑨ $8 + 3.8$

$$\begin{array}{r} 3.7 \\ + 5.0 \\ \hline 8.7 \end{array}$$

$$\begin{array}{r} 9.0 \\ + 3.6 \\ \hline 12.6 \end{array}$$

$$\begin{array}{r} 8.0 \\ + 3.8 \\ \hline 11.8 \end{array}$$

⑩ $6 + 4.9$

⑪ $5.9 + 7$

⑫ $4 + 7.8$

$$\begin{array}{r} 6.0 \\ + 4.9 \\ \hline 10.9 \end{array}$$

$$\begin{array}{r} 5.9 \\ + 7.0 \\ \hline 12.9 \end{array}$$

$$\begin{array}{r} 4.0 \\ + 7.8 \\ \hline 11.8 \end{array}$$



小数のたし算とひき算 7

● 整数と小数のたし算の筆算



日にち： 月 日

名まえ _____

・ 次の計算をしましょう。（うすい字はなぞりましょう。）

①

	7	9
+	4	0
<hr/>		
1	1	9

②

	7	0
+	3	3
<hr/>		
1	0	3

③

	3	7
+	6	0
<hr/>		
	9	7

④

	6	0
+	8	3
<hr/>		
1	4	3

⑤

	5	6
+	7	0
<hr/>		
1	2	6

⑥

	6	0
+	5	8
<hr/>		
1	1	8

⑦ 2.8 + 9

	2	8
+	9	0
<hr/>		
1	1	8

⑧ 5 + 8.6

	5	0
+	8	6
<hr/>		
1	3	6

⑨ 5.7 + 2

	5	7
+	2	0
<hr/>		
	7	7

⑩ 4.7 + 3

	4	7
+	3	0
<hr/>		
	7	7

⑪ 2 + 6.8

	2	0
+	6	8
<hr/>		
	8	8

⑫ 8 + 9.5

	8	0
+	9	5
<hr/>		
1	7	5



小数のたし算とひき算7

● 整数と小数のたし算の筆算



日にち： 月 日

名まえ _____

・ 次の計算をしましょう。（うすい字はなぞりましょう。）

$$\begin{array}{r} 4.7 \\ + 8.0 \\ \hline 12.7 \end{array}$$

$$\begin{array}{r} 2.0 \\ + 9.1 \\ \hline 11.1 \end{array}$$

$$\begin{array}{r} 5.0 \\ + 7.6 \\ \hline 12.6 \end{array}$$

$$\begin{array}{r} 5.6 \\ + 8.0 \\ \hline 13.6 \end{array}$$

$$\begin{array}{r} 6.7 \\ + 5.0 \\ \hline 11.7 \end{array}$$

$$\begin{array}{r} 9.0 \\ + 5.8 \\ \hline 14.8 \end{array}$$

⑦ 5.4 + 6

⑧ 6 + 7.2

⑨ 8 + 3.8

$$\begin{array}{r} 5.4 \\ + 6.0 \\ \hline 11.4 \end{array}$$

$$\begin{array}{r} 6.0 \\ + 7.2 \\ \hline 13.2 \end{array}$$

$$\begin{array}{r} 8.0 \\ + 3.8 \\ \hline 11.8 \end{array}$$

⑩ 5 + 9.3

⑪ 4.8 + 7

⑫ 6 + 8.5

$$\begin{array}{r} 5.0 \\ + 9.3 \\ \hline 14.3 \end{array}$$

$$\begin{array}{r} 4.8 \\ + 7.0 \\ \hline 11.8 \end{array}$$

$$\begin{array}{r} 6.0 \\ + 8.5 \\ \hline 14.5 \end{array}$$



小数のたし算とひき算7

● 整数と小数のたし算の筆算

4

日にち： 月 日

名まえ _____

・ 次の計算をしましょう。（うすい字はなぞりましょう。）

$$\begin{array}{r} 6.0 \\ + 4.5 \\ \hline 10.5 \end{array}$$

$$\begin{array}{r} 2.7 \\ + 9.0 \\ \hline 11.7 \end{array}$$

$$\begin{array}{r} 7.8 \\ + 4.0 \\ \hline 11.8 \end{array}$$

$$\begin{array}{r} 7.5 \\ + 4.0 \\ \hline 11.5 \end{array}$$

$$\begin{array}{r} 6.0 \\ + 5.7 \\ \hline 11.7 \end{array}$$

$$\begin{array}{r} 8.0 \\ + 9.4 \\ \hline 17.4 \end{array}$$

⑦ $7 + 5.8$

⑧ $9.8 + 5$

⑨ $6.5 + 9$

$$\begin{array}{r} 7.0 \\ + 5.8 \\ \hline 12.8 \end{array}$$

$$\begin{array}{r} 9.8 \\ + 5.0 \\ \hline 14.8 \end{array}$$

$$\begin{array}{r} 6.5 \\ + 9.0 \\ \hline 15.5 \end{array}$$

⑩ $4.8 + 6$

⑪ $7 + 6.9$

⑫ $5.3 + 4$

$$\begin{array}{r} 4.8 \\ + 6.0 \\ \hline 10.8 \end{array}$$

$$\begin{array}{r} 7.0 \\ + 6.9 \\ \hline 13.9 \end{array}$$

$$\begin{array}{r} 5.3 \\ + 4.0 \\ \hline 9.3 \end{array}$$



小数のたし算とひき算 7

● 整数と小数のたし算の筆算



日にち： 月 日

名まえ _____

・ 次の計算をしましょう。（うすい字はなぞりましょう。）

$$\begin{array}{r} 4.6 \\ + 7.0 \\ \hline 11.6 \end{array}$$

$$\begin{array}{r} 4.0 \\ + 9.5 \\ \hline 13.5 \end{array}$$

$$\begin{array}{r} 6.7 \\ + 5.0 \\ \hline 11.7 \end{array}$$

$$\begin{array}{r} 7.0 \\ + 5.8 \\ \hline 12.8 \end{array}$$

$$\begin{array}{r} 6.0 \\ + 8.9 \\ \hline 14.9 \end{array}$$

$$\begin{array}{r} 9.6 \\ + 8.0 \\ \hline 17.6 \end{array}$$

⑦ $3.9 + 6$

$$\begin{array}{r} 3.9 \\ + 6.0 \\ \hline 9.9 \end{array}$$

⑧ $4.8 + 8$

$$\begin{array}{r} 4.8 \\ + 8.0 \\ \hline 12.8 \end{array}$$

⑨ $9 + 3.8$

$$\begin{array}{r} 9.0 \\ + 3.8 \\ \hline 12.8 \end{array}$$

⑩ $7.9 + 4$

$$\begin{array}{r} 7.9 \\ + 4.0 \\ \hline 11.9 \end{array}$$

⑪ $5.8 + 3$

$$\begin{array}{r} 5.8 \\ + 3.0 \\ \hline 8.8 \end{array}$$

⑫ $6 + 4.8$

$$\begin{array}{r} 6.0 \\ + 4.8 \\ \hline 10.8 \end{array}$$



小数のたし算とひき算 7

● 整数と小数のたし算の筆算



日にち： 月 日

名まえ _____

・ 次の計算をしましょう。（うすい字はなぞりましょう。）

①

	5	8
+	6	0
<hr/>		
1	1	8

②

	5	0
+	7	4
<hr/>		
1	2	4

③

	7	5
+	4	0
<hr/>		
1	1	5

④

	2	0
+	6	4
<hr/>		
	8	4

⑤

	7	0
+	4	9
<hr/>		
1	1	9

⑥

	8	9
+	5	0
<hr/>		
1	3	9

⑦ 4.7 + 3

	4	7
+	3	0
<hr/>		
	7	7

⑧ 9 + 6.3

	9	0
+	6	3
<hr/>		
1	5	3

⑨ 6.5 + 4

	6	5
+	4	0
<hr/>		
1	0	5

⑩ 6 + 6.8

	6	0
+	6	8
<hr/>		
1	2	8

⑪ 7.6 + 9

	7	6
+	9	0
<hr/>		
1	6	6

⑫ 5 + 9.2

	5	0
+	9	2
<hr/>		
1	4	2



小数のたし算とひき算 7

● 整数と小数のたし算の筆算



日にち： 月 日

名まえ _____

・ 次の計算をしましょう。（うすい字はなぞりましょう。）

①

	7	0
+	3	6
<hr/>		
1	0	6

②

	6	3
+	5	0
<hr/>		
1	1	3

③

	6	0
+	8	9
<hr/>		
1	4	9

④

	4	0
+	8	3
<hr/>		
1	2	3

⑤

	9	4
+	5	0
<hr/>		
1	4	4

⑥

	7	6
+	9	0
<hr/>		
1	6	6

⑦ $5 + 6.9$

⑧ $5.3 + 7$

⑨ $4.1 + 6$

	5	0
+	6	9
<hr/>		
1	1	9

	5	3
+	7	0
<hr/>		
1	2	3

	4	1
+	6	0
<hr/>		
1	0	1

⑩ $8 + 5.9$

⑪ $4.5 + 3$

⑫ $2 + 6.5$

	8	0
+	5	9
<hr/>		
1	3	9

	4	5
+	3	0
<hr/>		
	7	5

	2	0
+	6	5
<hr/>		
	8	5



小数のたし算とひき算 7

● 整数と小数のたし算の筆算



日にち： 月 日

名まえ _____

・ 次の計算をしましょう。

$$\begin{array}{r} 3.5 \\ + 6.0 \\ \hline 9.5 \end{array}$$

$$\begin{array}{r} 5.9 \\ + 7.0 \\ \hline 12.9 \end{array}$$

$$\begin{array}{r} 3.0 \\ + 6.8 \\ \hline 9.8 \end{array}$$

$$\begin{array}{r} 5.0 \\ + 4.2 \\ \hline 9.2 \end{array}$$

$$\begin{array}{r} 2.0 \\ + 4.7 \\ \hline 6.7 \end{array}$$

$$\begin{array}{r} 5.3 \\ + 9.0 \\ \hline 14.3 \end{array}$$

⑦ $6.4 + 8$

⑧ $5 + 7.3$

⑨ $3.8 + 4$

$$\begin{array}{r} 6.4 \\ + 8.0 \\ \hline 14.4 \end{array}$$

$$\begin{array}{r} 5.0 \\ + 7.3 \\ \hline 12.3 \end{array}$$

$$\begin{array}{r} 3.8 \\ + 4.0 \\ \hline 7.8 \end{array}$$

⑩ $3 + 4.1$

⑪ $8.2 + 5$

⑫ $6 + 7.3$

$$\begin{array}{r} 3.0 \\ + 4.1 \\ \hline 7.1 \end{array}$$

$$\begin{array}{r} 8.2 \\ + 5.0 \\ \hline 13.2 \end{array}$$

$$\begin{array}{r} 6.0 \\ + 7.3 \\ \hline 13.3 \end{array}$$



小数のたし算とひき算 7

● 整数と小数のたし算の筆算



日にち： 月 日

名まえ _____

・ 次の計算をしましょう。

$$\begin{array}{r} 8.0 \\ + 4.3 \\ \hline 12.3 \end{array}$$

$$\begin{array}{r} 2.5 \\ + 5.0 \\ \hline 7.5 \end{array}$$

$$\begin{array}{r} 2.0 \\ + 5.7 \\ \hline 7.7 \end{array}$$

$$\begin{array}{r} 7.0 \\ + 5.3 \\ \hline 12.3 \end{array}$$

$$\begin{array}{r} 6.0 \\ + 8.5 \\ \hline 14.5 \end{array}$$

$$\begin{array}{r} 3.8 \\ + 4.0 \\ \hline 7.8 \end{array}$$

$$\textcircled{7} \quad 3 + 7.4$$

$$\textcircled{8} \quad 6.5 + 4$$

$$\textcircled{9} \quad 7 + 6.1$$

$$\begin{array}{r} 3.0 \\ + 7.4 \\ \hline 10.4 \end{array}$$

$$\begin{array}{r} 6.5 \\ + 4.0 \\ \hline 10.5 \end{array}$$

$$\begin{array}{r} 7.0 \\ + 6.1 \\ \hline 13.1 \end{array}$$

$$\textcircled{10} \quad 8 + 3.8$$

$$\textcircled{11} \quad 2.7 + 5$$

$$\textcircled{12} \quad 9.4 + 7$$

$$\begin{array}{r} 8.0 \\ + 3.8 \\ \hline 11.8 \end{array}$$

$$\begin{array}{r} 2.7 \\ + 5.0 \\ \hline 7.7 \end{array}$$

$$\begin{array}{r} 9.4 \\ + 7.0 \\ \hline 16.4 \end{array}$$



小数のたし算とひき算7

● 整数と小数のたし算の筆算



日にち： 月 日

名まえ _____

・ 次の計算をしましょう。

$$\begin{array}{r} 8.9 \\ + 5.0 \\ \hline 13.9 \end{array}$$

$$\begin{array}{r} 9.0 \\ + 4.7 \\ \hline 13.7 \end{array}$$

$$\begin{array}{r} 6.5 \\ + 5.8 \\ \hline 12.3 \end{array}$$

$$\begin{array}{r} 1.6 \\ + 5.8 \\ \hline 7.4 \end{array}$$

$$\begin{array}{r} 0.7 \\ + 8.9 \\ \hline 9.6 \end{array}$$

$$\begin{array}{r} 4.8 \\ + 8.0 \\ \hline 12.8 \end{array}$$

⑦ 3.8 + 5.3

$$\begin{array}{r} 3.8 \\ + 5.3 \\ \hline 9.1 \end{array}$$

⑧ 4 + 5.8

$$\begin{array}{r} 4.0 \\ + 5.8 \\ \hline 9.8 \end{array}$$

⑨ 9.3 + 5

$$\begin{array}{r} 9.3 \\ + 5.0 \\ \hline 14.3 \end{array}$$

⑩ 1.6 + 0.7

$$\begin{array}{r} 1.6 \\ + 0.7 \\ \hline 2.3 \end{array}$$

⑪ 3.6 + 9.8

$$\begin{array}{r} 3.6 \\ + 9.8 \\ \hline 13.4 \end{array}$$

⑫ 2.7 + 6

$$\begin{array}{r} 2.7 \\ + 6.0 \\ \hline 8.7 \end{array}$$



小数のたし算とひき算7

● 整数と小数のたし算の筆算



日にち： 月 日

名まえ _____

・ 次の計算をしましょう。

$$\begin{array}{r} 45 \\ + 78 \\ \hline 123 \end{array}$$

$$\begin{array}{r} 57 \\ + 40 \\ \hline 97 \end{array}$$

$$\begin{array}{r} 70 \\ + 38 \\ \hline 108 \end{array}$$

$$\begin{array}{r} 65 \\ + 23 \\ \hline 88 \end{array}$$

$$\begin{array}{r} 36 \\ + 81 \\ \hline 117 \end{array}$$

$$\begin{array}{r} 43 \\ + 80 \\ \hline 123 \end{array}$$

⑦ $4.7 + 3.6$

$$\begin{array}{r} 4.7 \\ + 3.6 \\ \hline 8.3 \end{array}$$

⑧ $4 + 6.9$

$$\begin{array}{r} 4.0 \\ + 6.9 \\ \hline 10.9 \end{array}$$

⑨ $2.7 + 6$

$$\begin{array}{r} 2.7 \\ + 6.0 \\ \hline 8.7 \end{array}$$

⑩ $8 + 7.5$

$$\begin{array}{r} 8.0 \\ + 7.5 \\ \hline 15.5 \end{array}$$

⑪ $4.1 + 7.8$

$$\begin{array}{r} 4.1 \\ + 7.8 \\ \hline 11.9 \end{array}$$

⑫ $6.7 + 9.4$

$$\begin{array}{r} 6.7 \\ + 9.4 \\ \hline 16.1 \end{array}$$





小数のたし算とひき算 7

● 整数と小数のたし算の筆算

12

日にち： 月 日

名まえ _____

・ 次の計算をしましょう。

$$\begin{array}{r} 6.7 \\ + 2.8 \\ \hline 9.5 \end{array}$$

$$\begin{array}{r} 5.0 \\ + 7.3 \\ \hline 12.3 \end{array}$$

$$\begin{array}{r} 9.0 \\ + 2.5 \\ \hline 11.5 \end{array}$$

$$\begin{array}{r} 8.7 \\ + 4.0 \\ \hline 12.7 \end{array}$$

$$\begin{array}{r} 4.7 \\ + 3.2 \\ \hline 7.9 \end{array}$$

$$\begin{array}{r} 9.4 \\ + 5.0 \\ \hline 14.4 \end{array}$$

⑦ $5 + 6.8$

⑧ $2.7 + 8$

⑨ $5.1 + 9.8$

$$\begin{array}{r} 5.0 \\ + 6.8 \\ \hline 11.8 \end{array}$$

$$\begin{array}{r} 2.7 \\ + 8.0 \\ \hline 10.7 \end{array}$$

$$\begin{array}{r} 5.1 \\ + 9.8 \\ \hline 14.9 \end{array}$$

⑩ $3 + 6.7$

⑪ $5.5 + 9.4$

⑫ $3.7 + 5.2$

$$\begin{array}{r} 3.0 \\ + 6.7 \\ \hline 9.7 \end{array}$$

$$\begin{array}{r} 5.5 \\ + 9.4 \\ \hline 14.9 \end{array}$$

$$\begin{array}{r} 3.7 \\ + 5.2 \\ \hline 8.9 \end{array}$$



小数のたし算とひき算7

● 整数と小数のたし算の筆算

13

日にち： 月 日

名まえ _____

・ 次の計算をしましょう。

①

	4	1
+	7	0
<hr/>		
1	1	1

②

	6	5
+	9	4
<hr/>		
1	5	9

③

	3	6
+	7	2
<hr/>		
1	0	8

④

	3	7
+	6	0
<hr/>		
	9	7

⑤

	7	0
+	5	8
<hr/>		
1	2	8

⑥

	1	8
+	9	7
<hr/>		
1	1	5

⑦ $6.5 + 4$

⑧ $3 + 4.8$

⑨ $6.4 + 8.5$

	6	5
+	4	0
<hr/>		
1	0	5

	3	0
+	4	8
<hr/>		
	7	8

	6	4
+	8	5
<hr/>		
1	4	9

⑩ $4.3 + 7.2$

⑪ $5.9 + 6$

⑫ $5.3 + 8.9$

	4	3
+	7	2
<hr/>		
1	1	5

	5	9
+	6	0
<hr/>		
1	1	9

	5	3
+	8	9
<hr/>		
1	4	2



小数のたし算とひき算 7

● 整数と小数のたし算の筆算

14

日にち： 月 日

名まえ _____

・ 次の計算をしましょう。

$$\begin{array}{r} 5.7 \\ + 4.6 \\ \hline 10.3 \end{array}$$

$$\begin{array}{r} 2.5 \\ + 9.6 \\ \hline 12.1 \end{array}$$

$$\begin{array}{r} 6.1 \\ + 8.0 \\ \hline 14.1 \end{array}$$

$$\begin{array}{r} 4.0 \\ + 9.5 \\ \hline 13.5 \end{array}$$

$$\begin{array}{r} 7.6 \\ + 3.0 \\ \hline 10.6 \end{array}$$

$$\begin{array}{r} 4.3 \\ + 8.2 \\ \hline 12.5 \end{array}$$

⑦ $3 + 7.4$

⑧ $6.7 + 5$

⑨ $9.3 + 7$

$$\begin{array}{r} 3.0 \\ + 7.4 \\ \hline 10.4 \end{array}$$

$$\begin{array}{r} 6.7 \\ + 5.0 \\ \hline 11.7 \end{array}$$

$$\begin{array}{r} 9.3 \\ + 7.0 \\ \hline 16.3 \end{array}$$

⑩ $5.5 + 3.4$

⑪ $8.2 + 2$

⑫ $5.3 + 8.6$

$$\begin{array}{r} 5.5 \\ + 3.4 \\ \hline 8.9 \end{array}$$

$$\begin{array}{r} 8.2 \\ + 2.0 \\ \hline 10.2 \end{array}$$

$$\begin{array}{r} 5.3 \\ + 8.6 \\ \hline 13.9 \end{array}$$






小数のたし算とひき算7

◎ 整数と小数のたし算の筆算

15

目指せ80点!



名まえ _____

・ 次の計算をしましょう。(①～⑤まで各8点, ⑥～⑫は各10点)

①

	0	6
+	5	9
<hr/>		
	6	5

②

	5	4
+	7	0
<hr/>		
1	2	4

③

	4	6
+	5	8
<hr/>		
1	0	4

④

	8	0
+	3	2
<hr/>		
1	1	2

⑤

	4	4
+	7	3
<hr/>		
1	1	7

⑥

	9	0
+	5	4
<hr/>		
1	4	4

⑦ 4.3 + 2

	4	3
+	2	0
<hr/>		
	6	3

⑧ 3.8 + 9.5

	3	8
+	9	5
<hr/>		
1	3	3

⑨ 5 + 3.9

	5	0
+	3	9
<hr/>		
	8	9

⑩ 6.4 + 3.7

	6	4
+	3	7
<hr/>		
1	0	1

⑪ 7.3 + 5.4

	7	3
+	5	4
<hr/>		
1	2	7

⑫ 8.2 + 9

	8	2
+	9	0
<hr/>		
1	7	2




小数のたし算とひき算 7

● 整数と小数のたし算の筆算

16

目指せ80点!



名まえ _____

・ 次の計算をしましょう。(①～⑤まで各8点, ⑥～⑫は各10点)

①

	3	6
+	4	5
<hr/>		
	8	1

②

	4	0
+	7	8
<hr/>		
1	1	8

③

	7	5
+	2	9
<hr/>		
1	0	4

④

	6	0
+	5	4
<hr/>		
1	1	4

⑤

	6	7
+	8	2
<hr/>		
1	4	9

⑥

	5	4
+	8	0
<hr/>		
1	3	4

⑦ $5 + 1.9$

⑧ $5.2 + 6$

⑨ $7.9 + 8$

	5	0
+	1	9
<hr/>		
	6	9

	5	2
+	6	0
<hr/>		
1	1	2

	7	9
+	8	0
<hr/>		
1	5	9

⑩ $3.6 + 5.2$

⑪ $4.8 + 9.7$

⑫ $6 + 3.1$

	3	6
+	5	2
<hr/>		
	8	8

	4	8
+	9	7
<hr/>		
1	4	5

	6	0
+	3	1
<hr/>		
	9	1