



小数のたし算とひき算⑧

● 和が整数になるたし算の筆算



日にち： 月 日

名まえ _____

・ 次の計算をしましょう。（うすい字はなぞりましょう。）

①

	8	4
+	4	6
<hr/>		
1	3	0

②

	7	3
+	9	7
<hr/>		
1	7	0

③

	2	5
+	8	5
<hr/>		

④

	5	8
+	4	2
<hr/>		

⑤

	6	6
+	8	4
<hr/>		

⑥

	4	9
+	4	1
<hr/>		

⑦ 2.5 + 3.5

⑧ 9.6 + 2.4

⑨ 8.3 + 4.7

	2	5
+	3	5
<hr/>		
	6	0

	9	6
+	2	4
<hr/>		

⑩ 6.1 + 6.9

⑪ 2.7 + 4.3

⑫ 3.2 + 6.8



小数のたし算とひき算8

和が整数になるたし算の筆算



日にち： 月 日

名まえ _____

・ 次の計算をしましょう。（うすい字はなぞりましょう。）

①

	4	.	5
+	3	.	5
<hr/>			
	8	.	0

②

	8	.	8
+	6	.	2
<hr/>			
		.	0

③

	8	.	4
+	9	.	6
<hr/>			
		.	

④

	5	.	1
+	6	.	9
<hr/>			
		.	

⑤

	3	.	6
+	7	.	4
<hr/>			
		.	

⑥

	8	.	7
+	1	.	3
<hr/>			
		.	

⑦ 2.7 + 3.3

⑧ 4.8 + 5.2

⑨ 6.9 + 5.1

		.	
+		.	
<hr/>			
		.	

		.	
+		.	
<hr/>			
		.	

		.	
		.	
<hr/>			
		.	

⑩ 7.6 + 3.4

⑪ 2.5 + 7.5

⑫ 4.2 + 8.8

		.	
		.	
<hr/>			
		.	

		.	
		.	
<hr/>			
		.	

		.	
		.	
<hr/>			
		.	



小数のたし算とひき算 8

和が整数になるたし算の筆算



日にち： 月 日

名まえ _____

・ 次の計算をしましょう。（うすい字はなぞりましょう。）

①

	3	7
+	8	3
<hr/>		
1	2	0

②

	1	4
+	8	6
<hr/>		
1	0	0

③

	3	2
+	5	8
<hr/>		

④

	2	6
+	9	4
<hr/>		

⑤

	3	9
+	4	1
<hr/>		

⑥

	7	5
+	4	5
<hr/>		

⑦ $3.6 + 6.4$

⑧ $4.8 + 9.2$

⑨ $1.1 + 6.9$

+		
<hr/>		

+		
<hr/>		

⑩ $4.5 + 8.5$

⑪ $8.3 + 5.7$

⑫ $6.7 + 9.3$



小数のたし算とひき算 8

和が整数になるたし算の筆算

4

日にち： 月 日

名まえ _____

・ 次の計算をしましょう。（うすい字はなぞりましょう。）

①

	6	3
+	8	7
<hr/>		
1	5	0

②

	7	5
+	3	5
<hr/>		
		0

③

	4	6
+	5	4
<hr/>		

④

	2	7
+	1	3
<hr/>		

⑤

	2	8
+	9	2
<hr/>		

⑥

	8	1
+	3	9
<hr/>		

⑦ 2.2 + 7.8

⑧ 2.7 + 6.3

⑨ 4.5 + 6.5

⑦

	2	2
+	7	8
<hr/>		
1	0	0

⑧

	2	7
+	6	3
<hr/>		

⑨

⑩ 2.9 + 6.1

⑪ 3.4 + 6.6

⑫ 2.3 + 1.7

⑩

⑪

⑫



小数のたし算とひき算8

和が整数になるたし算の筆算



日にち： 月 日

名まえ _____

・ 次の計算をしましょう。（うすい字はなぞりましょう。）

①

	4	7
+	7	3
<hr/>		
1	2	0

②

	4	5
+	9	5
<hr/>		

③

	2	7
+	5	3
<hr/>		

④

	7	2
+	5	8
<hr/>		

⑤

	5	1
+	4	9
<hr/>		

⑥

	9	6
+	8	4
<hr/>		

⑦ $3.9 + 2.1$

⑧ $4.8 + 8.2$

⑨ $9.2 + 3.8$

	3	9
+	2	1
<hr/>		
	6	0

	4	8
+	8	2
<hr/>		

⑩ $4.1 + 7.9$

⑪ $5.8 + 3.2$

⑫ $6.2 + 4.8$



小数のたし算とひき算 8

和が整数になるたし算の筆算



日にち： 月 日

名まえ _____

・ 次の計算をしましょう。（うすい字はなぞりましょう。）

①

	5	2
+	4	8
<hr/>		
1	0	0

②

	4	3
+	8	7
<hr/>		

③

	5	2
+	9	8
<hr/>		

④

	9	7
+	8	3
<hr/>		

⑤

	3	6
+	8	4
<hr/>		

⑥

	7	9
+	6	1
<hr/>		

⑦ 3.5 + 8.5

⑧ 5.4 + 8.6

⑨ 2.9 + 6.1

	3	5
+	8	5
<hr/>		
1	2	0

	5	4
+	8	6
<hr/>		

⑩ 2.2 + 5.8

⑪ 6.7 + 4.3

⑫ 3.8 + 4.2



小数のたし算とひき算 8

和が整数になるたし算の筆算



日にち： 月 日

名まえ _____

・ 次の計算をしましょう。（うすい字はなぞりましょう。）

①

	4	.	9
+	7	.	1
<hr/>			
1	2	.	0

②

	5	.	6
+	3	.	4
<hr/>			

③

	7	.	2
+	5	.	8
<hr/>			

④

	8	.	4
+	7	.	6
<hr/>			

⑤

	6	.	5
+	3	.	5
<hr/>			

⑥

	4	.	7
+	5	.	3
<hr/>			

⑦ 8.6 + 1.4

		.	
+		.	
<hr/>			
		.	

⑧ 4.7 + 9.3

		.	
+		.	
<hr/>			
		.	

⑨ 2.6 + 7.4

		.	
		.	
<hr/>			
		.	

⑩ 5.8 + 6.2

		.	
		.	
<hr/>			
		.	

⑪ 5.9 + 4.1

		.	
		.	
<hr/>			
		.	

⑫ 1.5 + 7.5

		.	
		.	
<hr/>			
		.	



小数のたし算とひき算 8

● 和が整数になるたし算の筆算



日にち： 月 日

名まえ _____

・ 次の計算をしましょう。（うすい字はなぞりましょう。）

①

	5	.	9
+	7	.	1
<hr/>			
1	3	.	0

②

	8	.	5
+	6	.	5
<hr/>			

③

	5	.	2
+	9	.	8
<hr/>			

④

	9	.	6
+	8	.	4
<hr/>			

⑤

	7	.	4
+	7	.	6
<hr/>			

⑥

	7	.	5
+	8	.	5
<hr/>			

⑦ 8.4 + 3.6

⑧ 3.1 + 5.9

⑨ 4.2 + 3.8

		.	
+		.	
<hr/>			
		.	

⑩ 4.7 + 3.3

⑪ 5.8 + 3.2

⑫ 9.5 + 4.5



小数のたし算とひき算 8

和が整数になるたし算の筆算



日にち： 月 日

名まえ _____

・ 次の計算をしましょう。

①

	2.	7
+	3.	3

②

	4.	5
+	2.	5

③

	5.	8
+	9.	2

④

	3.	4
+	7.	6

⑤

	4.	1
+	7.	9

⑥

	5.	3
+	6.	7

⑦ $8.9 + 3.1$

⑧ $4.2 + 3.8$

⑨ $5.5 + 8.5$

⑩ $8.4 + 6.6$

⑪ $3.8 + 5.2$

⑫ $6.7 + 7.3$



小数のたし算とひき算 8

● 和が整数になるたし算の筆算

10

日にち： 月 日

名まえ _____

・ 次の計算をしましょう。

①

	8	9
	+	5.1

②

	9	
	+	4.7

③

	6	5
	+	5.8

④

	2	6
	+	5.4

⑤

	0	7
	+	8.9

⑥

	4	8
	+	8.2

⑦ $3.8 + 5.2$

⑧ $4 + 5.8$

⑨ $9.3 + 5.7$

⑩ $1.6 + 0.7$

⑪ $3.6 + 9.8$

⑫ $6.7 + 6.3$



小数のたし算とひき算 8

● 和が整数になるたし算の筆算



日にち： 月 日

名まえ _____

・ 次の計算をしましょう。

①

	4	6
+	5	4

②

	4	5
+	2	6

③

	4	8
+	7	2

④

	3	9
+	7	1

⑤

	2	7
+	9	6

⑥

	4	
+	4	3

⑦ $3.7 + 5.3$

⑧ $8.4 + 6$

⑨ $5.7 + 2.9$

⑩ $3.2 + 4.3$

⑪ $5.3 + 4.7$

⑫ $5.2 + 6.8$



小数のたし算とひき算 8

● 和が整数になるたし算の筆算

12

日にち： 月 日

名まえ _____

・ 次の計算をしましょう。

①

	3.5	
+	8.5	

②

	5.7	
+	4.6	

③

	7.2	
+	5.3	

④

	1.5	
+	2	

⑤

	4.2	
+	6.5	

⑥

	5.2	
+	6.8	

⑦ $3.1 + 5.9$

⑧ $4.4 + 7$

⑨ $8.4 + 3.6$

⑩ $3.5 + 6.3$

⑪ $4 + 9.9$

⑫ $6.7 + 5.3$





小数のたし算とひき算 8

● 和が整数になるたし算の筆算

13

日にち： 月 日

名まえ _____

・ 次の計算をしましょう。

①

	6	
+	4.6	
<hr/>		

②

	4.8	
+	9.2	
<hr/>		

③

	6.7	
+	3.8	
<hr/>		

④

	6.3	
+	3.7	
<hr/>		

⑤

	6.7	
+	4	
<hr/>		

⑥

	4.4	
+	3.6	
<hr/>		

⑦ $3.6 + 5$

⑧ $4.5 + 3.5$

⑨ $5.3 + 8$

⑩ $2.1 + 3.9$

⑪ $9.2 + 4.3$

⑫ $9.6 + 4.4$



小数のたし算とひき算 8

和が整数になるたし算の筆算

14

日にち： 月 日

名まえ _____

・ 次の計算をしましょう。

①

	3	.	8
+	6	.	2

②

	9		
+	5	.	6

③

	4	.	8
+	5	.	6

④

	3	.	2
+	3	.	6

⑤

	5	.	4
+	7		

⑥

	8	.	4
+	9	.	6

⑦ $4.4 + 2.6$

⑧ $3.6 + 5$

⑨ $4.8 + 3.1$

⑩ $2.7 + 9.3$

⑪ $8 + 4.7$

⑫ $2.5 + 7.5$





小数のたし算とひき算 8

● 和が整数になるたし算の筆算

15

目指せ80点!



名まえ

・ 次の計算をしましょう。

①

	3	7
+	5	3

②

	4	8
+	6	7

③

	3	
+	2	4

④

	3	8
+	9	2

⑤

	7	2
+	6	

⑥

	9	4
+	3	6

⑦

2.9 + 7.1

⑧

3.5 + 6.5

⑨

3.7 + 4

⑩

7.8 + 4.3

⑪

6 + 3.8

⑫

8.2 + 4.8




小数のたし算とひき算 8

和が整数になるたし算の筆算

16

目指せ80点!



名まえ

・ 次の計算をしましょう。

①

	4.	6
+	8.	4

②

	5.	7
+	3.	4

③

	7.	8
+	5.	6

④

	6.	3
+	1.	7

⑤

	4.	9
+	2.	1

⑥

	6	
+	5.	4

⑦ 3.7 + 5.3

⑧ 4.9 + 6

⑨ 7.1 + 1.9

⑩ 5 + 6.3

⑪ 3.7 + 9.8

⑫ 5.2 + 6.8



小数のたし算とひき算8

● 和が整数になるたし算の筆算



日にち： 月 日

名まえ _____

・ 次の計算をしましょう。（うすい字はなぞりましょう。）

$$\begin{array}{r} 8.4 \\ + 4.6 \\ \hline 13.0 \end{array}$$

$$\begin{array}{r} 7.3 \\ + 9.7 \\ \hline 17.0 \end{array}$$

$$\begin{array}{r} 2.5 \\ + 8.5 \\ \hline 11.0 \end{array}$$

$$\begin{array}{r} 5.8 \\ + 4.2 \\ \hline 10.0 \end{array}$$

$$\begin{array}{r} 6.6 \\ + 8.4 \\ \hline 15.0 \end{array}$$

$$\begin{array}{r} 4.9 \\ + 4.1 \\ \hline 9.0 \end{array}$$

⑦ 2.5 + 3.5

⑧ 9.6 + 2.4

⑨ 8.3 + 4.7

$$\begin{array}{r} 2.5 \\ + 3.5 \\ \hline 6.0 \end{array}$$

$$\begin{array}{r} 9.6 \\ + 2.4 \\ \hline 12.0 \end{array}$$

$$\begin{array}{r} 8.3 \\ + 4.7 \\ \hline 13.0 \end{array}$$

⑩ 6.1 + 6.9

⑪ 2.7 + 4.3

⑫ 3.2 + 6.8

$$\begin{array}{r} 6.1 \\ + 6.9 \\ \hline 13.0 \end{array}$$

$$\begin{array}{r} 2.7 \\ + 4.3 \\ \hline 7.0 \end{array}$$

$$\begin{array}{r} 3.2 \\ + 6.8 \\ \hline 10.0 \end{array}$$



小数のたし算とひき算 8

● 和が整数になるたし算の筆算



日にち： 月 日

名まえ _____

・ 次の計算をしましょう。（うすい字はなぞりましょう。）

$$\begin{array}{r} 4.5 \\ + 3.5 \\ \hline 8.0 \end{array}$$

$$\begin{array}{r} 8.8 \\ + 6.2 \\ \hline 15.0 \end{array}$$

$$\begin{array}{r} 8.4 \\ + 9.6 \\ \hline 18.0 \end{array}$$

$$\begin{array}{r} 5.1 \\ + 6.9 \\ \hline 12.0 \end{array}$$

$$\begin{array}{r} 3.6 \\ + 7.4 \\ \hline 11.0 \end{array}$$

$$\begin{array}{r} 8.7 \\ + 1.3 \\ \hline 10.0 \end{array}$$

⑦ 2.7 + 3.3

⑧ 4.8 + 5.2

⑨ 6.9 + 5.1

$$\begin{array}{r} 2.7 \\ + 3.3 \\ \hline 6.0 \end{array}$$

$$\begin{array}{r} 4.8 \\ + 5.2 \\ \hline 10.0 \end{array}$$

$$\begin{array}{r} 6.9 \\ + 5.1 \\ \hline 12.0 \end{array}$$

⑩ 7.6 + 3.4

⑪ 2.5 + 7.5

⑫ 4.2 + 8.8

$$\begin{array}{r} 7.6 \\ + 3.4 \\ \hline 11.0 \end{array}$$

$$\begin{array}{r} 2.5 \\ + 7.5 \\ \hline 10.0 \end{array}$$

$$\begin{array}{r} 4.2 \\ + 8.8 \\ \hline 13.0 \end{array}$$



小数のたし算とひき算 8

● 和が整数になるたし算の筆算

3

日にち： 月 日

名まえ _____

・ 次の計算をしましょう。（うすい字はなぞりましょう。）

①

	3	7
+	8	3
<hr/>		
1	2	0

②

	1	4
+	8	6
<hr/>		
1	0	0

③

	3	2
+	5	8
<hr/>		
	9	0

④

	2	6
+	9	4
<hr/>		
1	2	0

⑤

	3	9
+	4	1
<hr/>		
	8	0

⑥

	7	5
+	4	5
<hr/>		
1	2	0

⑦ $3.6 + 6.4$

⑧ $4.8 + 9.2$

⑨ $1.1 + 6.9$

	3	6
+	6	4
<hr/>		
1	0	0

	4	8
+	9	2
<hr/>		
1	4	0

	1	1
+	6	9
<hr/>		
	8	0

⑩ $4.5 + 8.5$

⑪ $8.3 + 5.7$

⑫ $6.7 + 9.3$

	4	5
+	8	5
<hr/>		
1	3	0

	8	3
+	5	7
<hr/>		
1	4	0

	6	7
+	9	3
<hr/>		
1	6	0



小数のたし算とひき算 8

和が整数になるたし算の筆算

4

日にち： 月 日

名まえ _____

・ 次の計算をしましょう。（うすい字はなぞりましょう。）

$$\begin{array}{r} 6.3 \\ + 8.7 \\ \hline 15.0 \end{array}$$

$$\begin{array}{r} 7.5 \\ + 3.5 \\ \hline 11.0 \end{array}$$

$$\begin{array}{r} 4.6 \\ + 5.4 \\ \hline 10.0 \end{array}$$

$$\begin{array}{r} 2.7 \\ + 1.3 \\ \hline 4.0 \end{array}$$

$$\begin{array}{r} 2.8 \\ + 9.2 \\ \hline 12.0 \end{array}$$

$$\begin{array}{r} 8.1 \\ + 3.9 \\ \hline 12.0 \end{array}$$

⑦ 2.2 + 7.8

⑧ 2.7 + 6.3

⑨ 4.5 + 6.5

$$\begin{array}{r} 2.2 \\ + 7.8 \\ \hline 10.0 \end{array}$$

$$\begin{array}{r} 2.7 \\ + 6.3 \\ \hline 9.0 \end{array}$$

$$\begin{array}{r} 4.5 \\ + 6.5 \\ \hline 11.0 \end{array}$$

⑩ 2.9 + 6.1

⑪ 3.4 + 6.6

⑫ 2.3 + 1.7

$$\begin{array}{r} 2.9 \\ + 6.1 \\ \hline 9.0 \end{array}$$

$$\begin{array}{r} 3.4 \\ + 6.6 \\ \hline 10.0 \end{array}$$

$$\begin{array}{r} 2.3 \\ + 1.7 \\ \hline 4.0 \end{array}$$



小数のたし算とひき算 8

● 和が整数になるたし算の筆算

5

日にち： 月 日

名まえ _____

・ 次の計算をしましょう。（うすい字はなぞりましょう。）

①

	4	7
+	7	3
<hr/>		
1	2	0

②

	4	5
+	9	5
<hr/>		
1	4	0

③

	2	7
+	5	3
<hr/>		
	8	0

④

	7	2
+	5	8
<hr/>		
1	3	0

⑤

	5	1
+	4	9
<hr/>		
1	0	0

⑥

	9	6
+	8	4
<hr/>		
1	8	0

⑦ $3.9 + 2.1$

	3	9
+	2	1
<hr/>		
	6	0

⑧ $4.8 + 8.2$

	4	8
+	8	2
<hr/>		
1	3	0

⑨ $9.2 + 3.8$

	9	2
+	3	8
<hr/>		
1	3	0

⑩ $4.1 + 7.9$

	7	9
+	4	1
<hr/>		
1	2	0

⑪ $5.8 + 3.2$

	5	8
+	3	2
<hr/>		
	9	0

⑫ $6.2 + 4.8$

	6	2
+	4	8
<hr/>		
1	1	0





小数のたし算とひき算 8

和が整数になるたし算の筆算



日にち： 月 日

名まえ _____

・ 次の計算をしましょう。（うすい字はなぞりましょう。）

$$\begin{array}{r} 5.2 \\ + 4.8 \\ \hline 10.0 \end{array}$$

$$\begin{array}{r} 4.3 \\ + 8.7 \\ \hline 13.0 \end{array}$$

$$\begin{array}{r} 5.2 \\ + 9.8 \\ \hline 15.0 \end{array}$$

$$\begin{array}{r} 9.7 \\ + 8.3 \\ \hline 18.0 \end{array}$$

$$\begin{array}{r} 3.6 \\ + 8.4 \\ \hline 12.0 \end{array}$$

$$\begin{array}{r} 7.9 \\ + 6.1 \\ \hline 14.0 \end{array}$$

⑦ 3.5 + 8.5

⑧ 5.4 + 8.6

⑨ 2.9 + 6.1

$$\begin{array}{r} 3.5 \\ + 8.5 \\ \hline 12.0 \end{array}$$

$$\begin{array}{r} 5.4 \\ + 8.6 \\ \hline 14.0 \end{array}$$

$$\begin{array}{r} 2.9 \\ + 6.1 \\ \hline 9.0 \end{array}$$

⑩ 2.2 + 5.8

⑪ 6.7 + 4.3

⑫ 3.8 + 4.2

$$\begin{array}{r} 2.2 \\ + 5.8 \\ \hline 8.0 \end{array}$$

$$\begin{array}{r} 6.7 \\ + 4.3 \\ \hline 11.0 \end{array}$$

$$\begin{array}{r} 3.8 \\ + 4.2 \\ \hline 8.0 \end{array}$$



小数のたし算とひき算 8

和が整数になるたし算の筆算



日にち： 月 日

名まえ _____

・ 次の計算をしましょう。（うすい字はなぞりましょう。）

$$\begin{array}{r} 4.9 \\ + 7.1 \\ \hline 12.0 \end{array}$$

$$\begin{array}{r} 5.6 \\ + 3.4 \\ \hline 9.0 \end{array}$$

$$\begin{array}{r} 7.2 \\ + 5.8 \\ \hline 13.0 \end{array}$$

$$\begin{array}{r} 8.4 \\ + 7.6 \\ \hline 16.0 \end{array}$$

$$\begin{array}{r} 6.5 \\ + 3.5 \\ \hline 10.0 \end{array}$$

$$\begin{array}{r} 4.7 \\ + 5.3 \\ \hline 10.0 \end{array}$$

⑦ 8.6 + 1.4

$$\begin{array}{r} 8.6 \\ + 1.4 \\ \hline 10.0 \end{array}$$

⑧ 4.7 + 9.3

$$\begin{array}{r} 4.7 \\ + 9.3 \\ \hline 14.0 \end{array}$$

⑨ 2.6 + 7.4

$$\begin{array}{r} 2.6 \\ + 7.4 \\ \hline 10.0 \end{array}$$

⑩ 5.8 + 6.2

$$\begin{array}{r} 5.8 \\ + 6.2 \\ \hline 12.0 \end{array}$$

⑪ 5.9 + 4.1

$$\begin{array}{r} 5.9 \\ + 4.1 \\ \hline 10.0 \end{array}$$

⑫ 1.5 + 7.5

$$\begin{array}{r} 1.5 \\ + 7.5 \\ \hline 9.0 \end{array}$$



小数のたし算とひき算 8

和が整数になるたし算の筆算



日にち： 月 日

名まえ _____

・ 次の計算をしましょう。（うすい字はなぞりましょう。）

①

	5	.	9
+	7	.	1
<hr/>			
1	3	.	0

②

	8	.	5
+	6	.	5
<hr/>			
1	5	.	0

③

	5	.	2
+	9	.	8
<hr/>			
1	5	.	0

④

	9	.	6
+	8	.	4
<hr/>			
1	8	.	0

⑤

	7	.	4
+	7	.	6
<hr/>			
1	5	.	0

⑥

	7	.	5
+	8	.	5
<hr/>			
1	6	.	0

⑦ 8.4 + 3.6

	8	.	4
+	3	.	6
<hr/>			
1	2	.	0

⑧ 3.1 + 5.9

	3	.	1
+	5	.	9
<hr/>			
	9	.	0

⑨ 4.2 + 3.8

	4	.	2
+	3	.	8
<hr/>			
	8	.	0

⑩ 4.7 + 3.3

	4	.	7
+	3	.	3
<hr/>			
	8	.	0

⑪ 5.8 + 3.2

	5	.	8
+	3	.	2
<hr/>			
	9	.	0

⑫ 9.5 + 4.5

	9	.	5
+	4	.	5
<hr/>			
1	4	.	0



小数のたし算とひき算 8

和が整数になるたし算の筆算



日にち： 月 日

名まえ _____

・ 次の計算をしましょう。

①

	2	.	7
+	3	.	3
<hr/>			
	6	.	0

②

	4	.	5
+	2	.	5
<hr/>			
	7	.	0

③

	5	.	8
+	9	.	2
<hr/>			
1	5	.	0

④

	3	.	4
+	7	.	6
<hr/>			
1	1	.	0

⑤

	4	.	1
+	7	.	9
<hr/>			
1	2	.	0

⑥

	5	.	3
+	6	.	7
<hr/>			
1	2	.	0

⑦ $8.9 + 3.1$

⑧ $4.2 + 3.8$

⑨ $5.5 + 8.5$

	8	.	9
+	3	.	1
<hr/>			
1	2	.	0

	4	.	2
+	3	.	8
<hr/>			
	8	.	0

	5	.	5
+	8	.	5
<hr/>			
1	4	.	0

⑩ $8.4 + 6.6$

⑪ $3.8 + 5.2$

⑫ $6.7 + 7.3$

	8	.	4
+	6	.	6
<hr/>			
1	5	.	0

	3	.	8
+	5	.	2
<hr/>			
	9	.	0

	6	.	7
+	7	.	3
<hr/>			
1	4	.	0



小数のたし算とひき算 8

和が整数になるたし算の筆算

10

日にち： 月 日

名まえ _____

・ 次の計算をしましょう。

①

	8.9
+	5.1
<hr/>	
1	4.0

②

	9.0
+	4.7
<hr/>	
1	3.7

③

	6.5
+	5.8
<hr/>	
1	2.3

④

	2.6
+	5.4
<hr/>	
	8.0

⑤

	0.7
+	8.9
<hr/>	
	9.6

⑥

	4.8
+	8.2
<hr/>	
1	3.0

⑦ $3.8 + 5.2$

	3.8
+	5.2
<hr/>	
	9.0

⑧ $4 + 5.8$

	4.0
+	5.8
<hr/>	
	9.8

⑨ $9.3 + 5.7$

	9.3
+	5.7
<hr/>	
1	5.0

⑩ $1.6 + 0.7$

	1.6
+	0.7
<hr/>	
	2.3

⑪ $3.6 + 9.8$

	3.6
+	9.8
<hr/>	
1	3.4

⑫ $6.7 + 6.3$

	6.7
+	6.3
<hr/>	
1	3.0



小数のたし算とひき算 8

和が整数になるたし算の筆算



日にち： 月 日

名まえ _____

・ 次の計算をしましょう。

$$\begin{array}{r} 4.6 \\ + 5.4 \\ \hline 10.0 \end{array}$$

$$\begin{array}{r} 4.5 \\ + 2.6 \\ \hline 7.1 \end{array}$$

$$\begin{array}{r} 4.8 \\ + 7.2 \\ \hline 12.0 \end{array}$$

$$\begin{array}{r} 3.9 \\ + 7.1 \\ \hline 11.0 \end{array}$$

$$\begin{array}{r} 2.7 \\ + 9.6 \\ \hline 12.3 \end{array}$$

$$\begin{array}{r} 4.0 \\ + 4.3 \\ \hline 8.3 \end{array}$$

⑦ $3.7 + 5.3$

$$\begin{array}{r} 3.7 \\ + 5.3 \\ \hline 9.0 \end{array}$$

⑧ $8.4 + 6$

$$\begin{array}{r} 8.4 \\ + 6.0 \\ \hline 14.4 \end{array}$$

⑨ $5.7 + 2.9$

$$\begin{array}{r} 5.7 \\ + 2.9 \\ \hline 8.6 \end{array}$$

⑩ $3.2 + 4.3$

$$\begin{array}{r} 3.2 \\ + 4.3 \\ \hline 7.5 \end{array}$$

⑪ $5.3 + 4.7$

$$\begin{array}{r} 5.3 \\ + 4.7 \\ \hline 10.0 \end{array}$$

⑫ $5.2 + 6.8$

$$\begin{array}{r} 5.2 \\ + 6.8 \\ \hline 12.0 \end{array}$$



小数のたし算とひき算 8

和が整数になるたし算の筆算

12

日にち： 月 日

名まえ _____

・ 次の計算をしましょう。

$$\begin{array}{r} 3.5 \\ + 8.5 \\ \hline 12.0 \end{array}$$

$$\begin{array}{r} 5.7 \\ + 4.6 \\ \hline 10.3 \end{array}$$

$$\begin{array}{r} 7.2 \\ + 5.3 \\ \hline 12.5 \end{array}$$

$$\begin{array}{r} 1.5 \\ + 2.0 \\ \hline 3.5 \end{array}$$

$$\begin{array}{r} 4.2 \\ + 6.5 \\ \hline 10.7 \end{array}$$

$$\begin{array}{r} 5.2 \\ + 6.8 \\ \hline 12.0 \end{array}$$

⑦ $3.1 + 5.9$

⑧ $4.4 + 7$

⑨ $8.4 + 3.6$

$$\begin{array}{r} 3.1 \\ + 5.9 \\ \hline 9.0 \end{array}$$

$$\begin{array}{r} 4.4 \\ + 7.0 \\ \hline 11.4 \end{array}$$

$$\begin{array}{r} 8.4 \\ + 3.6 \\ \hline 12.0 \end{array}$$

⑩ $3.5 + 6.3$

⑪ $4 + 9.9$

⑫ $6.7 + 5.3$

$$\begin{array}{r} 3.5 \\ + 6.3 \\ \hline 9.8 \end{array}$$

$$\begin{array}{r} 4.0 \\ + 9.9 \\ \hline 13.9 \end{array}$$

$$\begin{array}{r} 6.7 \\ + 5.3 \\ \hline 12.0 \end{array}$$



小数のたし算とひき算 8

和が整数になるたし算の筆算

13

日にち： 月 日

名まえ _____

・ 次の計算をしましょう。

$$\begin{array}{r} 6.0 \\ + 4.6 \\ \hline 10.6 \end{array}$$

$$\begin{array}{r} 4.8 \\ + 9.2 \\ \hline 14.0 \end{array}$$

$$\begin{array}{r} 6.7 \\ + 3.8 \\ \hline 10.5 \end{array}$$

$$\begin{array}{r} 6.3 \\ + 3.7 \\ \hline 10.0 \end{array}$$

$$\begin{array}{r} 6.7 \\ + 4.0 \\ \hline 10.7 \end{array}$$

$$\begin{array}{r} 4.4 \\ + 3.6 \\ \hline 8.0 \end{array}$$

⑦ $3.6 + 5$

⑧ $4.5 + 3.5$

⑨ $5.3 + 8$

$$\begin{array}{r} 3.6 \\ + 5.0 \\ \hline 8.6 \end{array}$$

$$\begin{array}{r} 4.5 \\ + 3.5 \\ \hline 8.0 \end{array}$$

$$\begin{array}{r} 5.3 \\ + 8.0 \\ \hline 13.3 \end{array}$$

⑩ $2.1 + 3.9$

⑪ $9.2 + 4.3$

⑫ $9.6 + 4.4$

$$\begin{array}{r} 2.1 \\ + 3.9 \\ \hline 6.0 \end{array}$$

$$\begin{array}{r} 9.2 \\ + 4.3 \\ \hline 13.5 \end{array}$$

$$\begin{array}{r} 9.6 \\ + 4.4 \\ \hline 14.0 \end{array}$$



小数のたし算とひき算 8

● 和が整数になるたし算の筆算

14

日にち： 月 日

名まえ _____

・ 次の計算をしましょう。

①

	3	8
+	6	2
<hr/>		
1	0	0

②

	9	0
+	5	6
<hr/>		
1	4	6

③

	4	8
+	5	6
<hr/>		
1	0	4

④

	3	2
+	3	6
<hr/>		
	6	8

⑤

	5	4
+	7	0
<hr/>		
1	2	4

⑥

	8	4
+	9	6
<hr/>		
1	8	0

⑦ $4.4 + 2.6$

	4	4
+	2	6
<hr/>		
	7	0

⑧ $3.6 + 5$

	3	6
+	5	0
<hr/>		
	8	6

⑨ $4.8 + 3.1$

	4	8
+	3	1
<hr/>		
	7	9

⑩ $2.7 + 9.3$

	2	7
+	9	3
<hr/>		
1	2	0

⑪ $8 + 4.7$

	8	0
+	4	7
<hr/>		
1	2	7

⑫ $2.5 + 7.5$

	2	5
+	7	5
<hr/>		
1	0	0






小数のたし算とひき算8

● 和が整数になるたし算の筆算

15

目指せ80点!



名まえ

・ 次の計算をしましょう。

$$\begin{array}{r} 3.7 \\ + 5.3 \\ \hline 9.0 \end{array}$$

$$\begin{array}{r} 4.8 \\ + 6.7 \\ \hline 11.5 \end{array}$$

$$\begin{array}{r} 3.0 \\ + 2.4 \\ \hline 5.4 \end{array}$$

$$\begin{array}{r} 3.8 \\ + 9.2 \\ \hline 13.0 \end{array}$$

$$\begin{array}{r} 7.2 \\ + 6.0 \\ \hline 13.2 \end{array}$$

$$\begin{array}{r} 9.4 \\ + 3.6 \\ \hline 13.0 \end{array}$$

⑦ $2.9 + 7.1$

⑧ $3.5 + 6.5$

⑨ $3.7 + 4$

$$\begin{array}{r} 2.9 \\ + 7.1 \\ \hline 10.0 \end{array}$$

$$\begin{array}{r} 3.5 \\ + 6.5 \\ \hline 10.0 \end{array}$$

$$\begin{array}{r} 3.7 \\ + 4.0 \\ \hline 7.7 \end{array}$$

⑩ $7.8 + 4.3$

⑪ $6 + 3.8$

⑫ $8.2 + 4.8$

$$\begin{array}{r} 7.8 \\ + 4.3 \\ \hline 12.1 \end{array}$$

$$\begin{array}{r} 6.0 \\ + 3.8 \\ \hline 9.8 \end{array}$$

$$\begin{array}{r} 8.2 \\ + 4.8 \\ \hline 13.0 \end{array}$$






小数のたし算とひき算 8

和が整数になるたし算の筆算

16

目指せ80点!



名まえ

次の計算をしましょう。

$$\begin{array}{r} 4.6 \\ + 8.4 \\ \hline 13.0 \end{array}$$

$$\begin{array}{r} 5.7 \\ + 3.4 \\ \hline 9.1 \end{array}$$

$$\begin{array}{r} 7.8 \\ + 5.6 \\ \hline 13.4 \end{array}$$

$$\begin{array}{r} 6.3 \\ + 1.7 \\ \hline 8.0 \end{array}$$

$$\begin{array}{r} 4.9 \\ + 2.1 \\ \hline 7.0 \end{array}$$

$$\begin{array}{r} 6.0 \\ + 5.4 \\ \hline 11.4 \end{array}$$

⑦ $3.7 + 5.3$

$$\begin{array}{r} 3.7 \\ + 5.3 \\ \hline 9.0 \end{array}$$

⑧ $4.9 + 6$

$$\begin{array}{r} 4.9 \\ + 6.0 \\ \hline 10.9 \end{array}$$

⑨ $7.1 + 1.9$

$$\begin{array}{r} 7.1 \\ + 1.9 \\ \hline 9.0 \end{array}$$

⑩ $5 + 6.3$

$$\begin{array}{r} 5.0 \\ + 6.3 \\ \hline 11.3 \end{array}$$

⑪ $3.7 + 9.8$

$$\begin{array}{r} 3.7 \\ + 9.8 \\ \hline 13.5 \end{array}$$

⑫ $5.2 + 6.8$

$$\begin{array}{r} 5.2 \\ + 6.8 \\ \hline 12.0 \end{array}$$