



小数のたし算とひき算⑨
 ひき算の筆算：繰り下がりあり



日にち： 月 日

名まえ _____

・ 次の計算をしましょう。（うすい字はなぞりましょう。）

①
$$\begin{array}{r} 7.8 \\ - 4.1 \\ \hline 3.7 \end{array}$$

②
$$\begin{array}{r} 3.5 \\ - 1.8 \\ \hline 1.7 \end{array}$$

③
$$\begin{array}{r} 1.4 \\ - 0.2 \\ \hline \end{array}$$

④
$$\begin{array}{r} 6.4 \\ - 2.5 \\ \hline \end{array}$$

⑤
$$\begin{array}{r} 6.8 \\ - 5.5 \\ \hline \end{array}$$

⑥
$$\begin{array}{r} 5.1 \\ - 0.7 \\ \hline \end{array}$$

⑦ $6.7 - 2.9$

⑧ $6.7 - 1.3$

⑨ $8.7 - 7.4$

$$\begin{array}{r} 6.7 \\ - 2.9 \\ \hline \end{array}$$

⑩ $5.8 - 2.1$

⑪ $6.5 - 4.1$

⑫ $7.6 - 2.7$



小数のたし算とひき算⑨
ひき算の筆算：繰り下がりあり



日にち： 月 日

名まえ _____

・ 次の計算をしましょう。(うすい字はなぞりましょう。)

①
$$\begin{array}{r} 6.7 \\ - 4.2 \\ \hline 2.5 \end{array}$$

②
$$\begin{array}{r} 5.4 \\ - 1.9 \\ \hline 3.5 \end{array}$$

③
$$\begin{array}{r} 2.3 \\ - 0.4 \\ \hline \end{array}$$

④
$$\begin{array}{r} 5.4 \\ - 2.3 \\ \hline \end{array}$$

⑤
$$\begin{array}{r} 8.7 \\ - 5.2 \\ \hline \end{array}$$

⑥
$$\begin{array}{r} 5.4 \\ - 0.8 \\ \hline \end{array}$$

⑦ $6.4 - 2.5$

⑧ $8.7 - 1.2$

⑨ $7.9 - 3.4$

$$\begin{array}{r} 6.4 \\ - 2.5 \\ \hline \end{array}$$

⑩ $4.2 - 2.3$

⑪ $6.8 - 5.1$

⑫ $4.7 - 1.6$





小数のたし算とひき算 9
ひき算の筆算：繰り下がりあり



日にち： 月 日

名まえ _____

・ 次の計算をしましょう。(うすい字はなぞりましょう。)

①
$$\begin{array}{r} 9.2 \\ - 4.5 \\ \hline 4.7 \end{array}$$

②
$$\begin{array}{r} 7.3 \\ - 1.6 \\ \hline 7 \end{array}$$

③
$$\begin{array}{r} 3.9 \\ - 0.5 \\ \hline \end{array}$$

④
$$\begin{array}{r} 8.7 \\ - 2.8 \\ \hline \end{array}$$

⑤
$$\begin{array}{r} 6.2 \\ - 1.9 \\ \hline \end{array}$$

⑥
$$\begin{array}{r} 5.8 \\ - 0.3 \\ \hline \end{array}$$

⑦ $8.8 - 2.7$

$$\begin{array}{r} 8.8 \\ - 2.7 \\ \hline \end{array}$$

⑧ $6.1 - 2.3$

$$\begin{array}{r} \\ \\ \hline \end{array}$$

⑨ $5.5 - 2.9$

$$\begin{array}{r} \\ \\ \hline \end{array}$$

⑩ $3.6 - 0.3$

$$\begin{array}{r} \\ \\ \hline \end{array}$$

⑪ $4.2 - 2.7$

$$\begin{array}{r} \\ \\ \hline \end{array}$$

⑫ $2.5 - 0.6$

$$\begin{array}{r} \\ \\ \hline \end{array}$$





小数のたし算とひき算⑨
ひき算の筆算：繰り下がりあり



日にち： 月 日

名まえ _____

・ 次の計算をしましょう。（うすい字はなぞりましょう。）

①
$$\begin{array}{r} 6.8 \\ - 3.9 \\ \hline \end{array}$$

②
$$\begin{array}{r} 8.4 \\ - 2.6 \\ \hline \end{array}$$

③
$$\begin{array}{r} 4.2 \\ - 1.5 \\ \hline \end{array}$$

④
$$\begin{array}{r} 9.6 \\ - 5.8 \\ \hline \end{array}$$

⑤
$$\begin{array}{r} 5.3 \\ - 0.9 \\ \hline \end{array}$$

⑥
$$\begin{array}{r} 6.1 \\ - 3.3 \\ \hline \end{array}$$

⑦ $4.3 - 0.7$

⑧ $9.5 - 7.2$

⑨ $8.6 - 1.7$

$$\begin{array}{r} 4.3 \\ - \\ \hline \end{array}$$

⑩ $5.4 - 0.2$

⑪ $7.3 - 3.7$

⑫ $6.9 - 2.6$



小数のたし算とひき算 9

ひき算の筆算：繰り下がりあり



日にち： 月 日

名まえ

・ 次の計算をしましょう。

①

	6	5
-	5	3
<hr/>		

②

	5	2
-	0	5
<hr/>		

③

	9	1
-	6	3
<hr/>		

④

	4	7
-	1	4
<hr/>		

⑤

	9	7
-	4	8
<hr/>		

⑥

	4	4
-	2	3
<hr/>		

⑦ $4.9 - 2.2$

⑧ $9.4 - 6.3$

⑨ $5.5 - 0.8$

<hr/>		

<hr/>		

<hr/>		

⑩ $8.5 - 2.9$

⑪ $7.5 - 3.7$

⑫ $8.3 - 3.8$

<hr/>		

<hr/>		

<hr/>		





小数のたし算とひき算 9

ひき算の筆算：繰り下がりあり



日にち： 月 日

名まえ _____

・ 次の計算をしましょう。

①

	7	4
-	5	.2
<hr/>		

②

	8	3
-	0	.4
<hr/>		

③

	9	2
-	6	.5
<hr/>		

④

	5	8
-	1	.3
<hr/>		

⑤

	6	6
-	4	.1
<hr/>		

⑥

	4	5
-	2	.6
<hr/>		

⑦ 3.8 - 1.3

<hr/>		

⑧ 8.5 - 4.3

<hr/>		

⑨ 5.2 - 0.4

<hr/>		

⑩ 6.7 - 2.9

<hr/>		

⑪ 4.5 - 0.7

<hr/>		

⑫ 9.1 - 3.6

<hr/>		





小数のたし算とひき算 9

ひき算の筆算：繰り下がりあり



日にち： 月 日

名まえ _____

・ 次の計算をしましょう。

①
$$\begin{array}{r} 8.1 \\ - 4.2 \\ \hline \end{array}$$

②
$$\begin{array}{r} 9.2 \\ - 5.4 \\ \hline \end{array}$$

③
$$\begin{array}{r} 3.3 \\ - 0.5 \\ \hline \end{array}$$

④
$$\begin{array}{r} 4.6 \\ - 2.3 \\ \hline \end{array}$$

⑤
$$\begin{array}{r} 7.5 \\ - 5.1 \\ \hline \end{array}$$

⑥
$$\begin{array}{r} 5.4 \\ - 3.6 \\ \hline \end{array}$$

⑦ $5.9 - 2.2$

⑧ $6.8 - 0.1$

⑨ $7.4 - 1.8$

⑩ $8.8 - 6.9$

⑪ $9.2 - 0.3$

⑫ $4.3 - 2.6$





小数のたし算とひき算 9

ひき算の筆算：繰り下がりあり



日にち： 月 日

名まえ _____

・ 次の計算をしましょう。

①

	9	2
-	2	1

②

	2	3
-	0	5

③

	4	4
-	2	3

④

	6	5
-	3	7

⑤

	8	6
-	5	2

⑥

	3	7
-	0	9

⑦ $8.9 - 2.5$

⑧ $3.8 - 0.2$

⑨ $4.4 - 1.9$

⑩ $9.8 - 6.3$

⑪ $5.2 - 0.8$

⑫ $6.3 - 2.6$



小数のたし算とひき算 9

ひき算の筆算：繰り下がりあり



日にち： 月 日

名まえ

・ 次の計算をしましょう。

①

	8	3
-	4	1

②

	3	4
-	1	5

③

	5	5
-	0	2

④

	7	4
-	0	6

⑤

	9	5
-	4	8

⑥

	4	6
-	2	7

⑦ 3.1 - 0.5

⑧ 4.9 - 1.2

⑨ 5.5 - 2.9

⑩ 8.6 - 5.3

⑪ 6.3 - 0.9

⑫ 7.2 - 4.6





小数のたし算とひき算⑨

ひき算の筆算：繰り下がりがりあり



日にち： 月 日

名まえ _____

1 次の計算をしましょう。

①

	7	8
-	6	2
<hr/>		

②

	8	5
-	5	9
<hr/>		

③

	1	7
-	0	6
<hr/>		

④ $6.1 - 4.6$

⑤ $5.8 - 2.2$

⑥ $3.6 - 0.8$

2 次の計算をしましょう。

①

	5	
+	7	8
<hr/>		

②

	3	4
+	7	1
<hr/>		

③

	4	1
+	4	9
<hr/>		

④ $4.6 + 1.4$

⑤ $5.1 + 7.4$

⑥ $3.5 + 4.8$



小数のたし算とひき算⑨

ひき算の筆算：繰り下がりあり



日にち： 月 日

名まえ _____

1 次の計算をしましょう。

①

	7	4
-	5	2
<hr/>		

②

	8	3
-	0	4
<hr/>		

③

	9	2
-	6	5
<hr/>		

④ 6.7 - 2.9

⑤ 4.5 - 0.7

⑥ 8.5 - 4.3

2 次の計算をしましょう。

①

	6	
+	3	2
<hr/>		

②

	3	5
+	6	1
<hr/>		

③

	4	2
+	4	8
<hr/>		

④ 3.2 + 4.3

⑤ 5.3 + 4.7

⑥ 5.2 + 6.8



小数のたし算とひき算⑨

ひき算の筆算：繰り下がりあり



日にち： 月 日

名まえ _____

1 次の計算をしましょう。

①

	8	.	1
-	4	.	2
<hr/>			

②

	9	.	2
-	5	.	4
<hr/>			

③

	3	.	3
-	0	.	5
<hr/>			

④ 5.9 - 2.2

⑤ 6.8 - 0.1

⑥ 7.4 - 1.8

2 次の計算をしましょう。

①

	5		
+	7	.	8
<hr/>			

②

	3	.	4
+	7	.	1
<hr/>			

③

	4	.	1
+	4	.	9
<hr/>			

④ 3.1 + 5.9

⑤ 4.4 + 7

⑥ 8.4 + 3.6



小数のたし算とひき算⑨

ひき算の筆算：繰り下がりあり



日にち： 月 日

名まえ _____

1 次の計算をしましょう。

①

	6	5
-	3	7

②

	8	6
-	5	2

③

	3	7
-	0	9

④ 8.9 - 2.5

⑤ 3.8 - 0.2

⑥ 4.4 - 1.9

2 次の計算をしましょう。

①

	6	3
+	3	7

②

	6	7
+	4	

③

	4	4
+	3	6

④ 3.6 + 5

⑤ 4.5 + 3.5

⑥ 5.3 + 8



小数のたし算とひき算⑨

ひき算の筆算：繰り下がりあり

14

日にち： 月 日

名まえ _____

1 次の計算をしましょう。

①

	7	4
-	0	6
<hr/>		

②

	9	5
-	4	8
<hr/>		

③

	4	6
-	2	7
<hr/>		

④ 3.1 - 0.5

⑤ 4.9 - 1.2

⑥ 5.5 - 2.9

2 次の計算をしましょう。

①

	3	8
+	6	2
<hr/>		

②

	9	
+	5	6
<hr/>		

③

	4	8
+	5	6
<hr/>		

④ 2.7 + 9.3

⑤ 8 + 4.7

⑥ 2.5 + 7.5



小数のたし算とひき算 9

◎ ひき算の筆算：繰り下がりがりあり

15

目指せ80点!



名まえ _____

1 次の計算をしましょう。(各10点)

①

	3	.	9
-	1	.	5

②


	4	.	2
-	0	.	6

③

	9	.	5
-	7	.	6

④ $9.1 - 2.4$

⑤ $2.1 - 0.8$



2 次の計算をしましょう。(各10点)

①

	1	.	6
+	8	.	3

②


	4	.	9
+	2	.	3

③

	5	.	8
+	2	.	2

④ $6 + 1.7$

⑤ $2.8 + 8.6$





小数のたし算とひき算 9

ひき算の筆算：繰り下がりあり

16

目指せ80点!



名まえ _____

1 次の計算をしましょう。(各10点)

①

	4	.	8
-	1	.	3


②

	6	.	2
-	0	.	7

③

	8	.	1
-	5	.	6

④ $7.3 - 3.4$



⑤ $5.6 - 0.9$



2 次の計算をしましょう。(各10点)

①

	2	.	7
+	8	.	3


②

	4	.	9
+	7	.	6


③

	4	.	6
+	3	.	4

④ $9 + 1.6$



⑤ $3.3 + 8.1$





小数のたし算とひき算⑨
ひき算の筆算：繰り下がりあり



日にち： 月 日

名まえ _____

・ 次の計算をしましょう。（うすい字はなぞりましょう。）

①
$$\begin{array}{r} 7.8 \\ - 4.1 \\ \hline 3.7 \end{array}$$

②
$$\begin{array}{r} \cancel{3}^2.5 \\ - 1.8 \\ \hline 1.7 \end{array}$$

③
$$\begin{array}{r} 1.4 \\ - 0.2 \\ \hline 1.2 \end{array}$$

④
$$\begin{array}{r} \cancel{6}^5.4 \\ - 2.5 \\ \hline 3.9 \end{array}$$

⑤
$$\begin{array}{r} 6.8 \\ - 5.5 \\ \hline 1.3 \end{array}$$

⑥
$$\begin{array}{r} 5.1 \\ - 0.7 \\ \hline 4.4 \end{array}$$

⑦ $6.7 - 2.9$

⑧ $6.7 - 1.3$

⑨ $8.7 - 7.4$

$$\begin{array}{r} \cancel{6}^5.7 \\ - 2.9 \\ \hline 3.8 \end{array}$$

$$\begin{array}{r} 6.7 \\ - 1.3 \\ \hline 5.4 \end{array}$$

$$\begin{array}{r} 8.7 \\ - 7.4 \\ \hline 1.3 \end{array}$$

⑩ $5.8 - 2.1$

⑪ $6.5 - 4.1$

⑫ $7.6 - 2.7$

$$\begin{array}{r} 5.8 \\ - 2.1 \\ \hline 3.7 \end{array}$$

$$\begin{array}{r} 6.5 \\ - 4.1 \\ \hline 2.4 \end{array}$$

$$\begin{array}{r} \cancel{7}^6.6 \\ - 2.7 \\ \hline 4.9 \end{array}$$





小数のたし算とひき算⑨
ひき算の筆算：繰り下がりあり



日にち： 月 日

名まえ _____

・ 次の計算をしましょう。（うすい字はなぞりましょう。）

①
$$\begin{array}{r} 6.7 \\ - 4.2 \\ \hline 2.5 \end{array}$$

②
$$\begin{array}{r} 5.4 \\ - 1.9 \\ \hline 3.5 \end{array}$$

③
$$\begin{array}{r} 2.3 \\ - 0.4 \\ \hline 1.9 \end{array}$$

④
$$\begin{array}{r} 5.4 \\ - 2.3 \\ \hline 3.1 \end{array}$$

⑤
$$\begin{array}{r} 8.7 \\ - 5.2 \\ \hline 3.5 \end{array}$$

⑥
$$\begin{array}{r} 5.4 \\ - 0.8 \\ \hline 4.6 \end{array}$$

⑦ $6.4 - 2.5$

⑧ $8.7 - 1.2$

⑨ $7.9 - 3.4$

$$\begin{array}{r} 6.4 \\ - 2.5 \\ \hline 3.9 \end{array}$$

$$\begin{array}{r} 8.7 \\ - 1.2 \\ \hline 7.5 \end{array}$$

$$\begin{array}{r} 7.9 \\ - 3.4 \\ \hline 4.5 \end{array}$$

⑩ $4.2 - 2.3$

⑪ $6.8 - 5.1$

⑫ $4.7 - 1.6$

$$\begin{array}{r} 4.2 \\ - 2.3 \\ \hline 1.9 \end{array}$$

$$\begin{array}{r} 6.8 \\ - 5.1 \\ \hline 1.7 \end{array}$$

$$\begin{array}{r} 4.7 \\ - 1.6 \\ \hline 3.1 \end{array}$$





小数のたし算とひき算⑨
ひき算の筆算：繰り下がりあり



日にち： 月 日

名まえ _____

・ 次の計算をしましょう。（うすい字はなぞりましょう。）

①
$$\begin{array}{r} 9.2 \\ - 4.5 \\ \hline 4.7 \end{array}$$

②
$$\begin{array}{r} 7.3 \\ - 1.6 \\ \hline 5.7 \end{array}$$

③
$$\begin{array}{r} 3.9 \\ - 0.5 \\ \hline 3.4 \end{array}$$

④
$$\begin{array}{r} 8.7 \\ - 2.8 \\ \hline 5.9 \end{array}$$

⑤
$$\begin{array}{r} 6.2 \\ - 1.9 \\ \hline 4.3 \end{array}$$

⑥
$$\begin{array}{r} 5.8 \\ - 0.3 \\ \hline 5.5 \end{array}$$

⑦ $8.8 - 2.7$

⑧ $6.1 - 2.3$

⑨ $5.5 - 2.9$

$$\begin{array}{r} 8.8 \\ - 2.7 \\ \hline 6.1 \end{array}$$

$$\begin{array}{r} 6.1 \\ - 2.3 \\ \hline 3.8 \end{array}$$

$$\begin{array}{r} 5.5 \\ - 2.9 \\ \hline 2.6 \end{array}$$

⑩ $3.6 - 0.3$

⑪ $4.2 - 2.7$

⑫ $2.5 - 0.6$

$$\begin{array}{r} 3.6 \\ - 0.3 \\ \hline 3.3 \end{array}$$

$$\begin{array}{r} 4.2 \\ - 2.7 \\ \hline 1.5 \end{array}$$

$$\begin{array}{r} 2.5 \\ - 0.6 \\ \hline 1.9 \end{array}$$





小数のたし算とひき算⑨
ひき算の筆算：繰り下がりあり



日にち： 月 日

名まえ _____

・ 次の計算をしましょう。（うすい字はなぞりましょう。）

①
$$\begin{array}{r} \cancel{6}^5.8 \\ - 3.9 \\ \hline 2.9 \end{array}$$

②
$$\begin{array}{r} \cancel{8}^7.4 \\ - 2.6 \\ \hline 5.8 \end{array}$$

③
$$\begin{array}{r} \cancel{4}^3.2 \\ - 1.5 \\ \hline 2.7 \end{array}$$

④
$$\begin{array}{r} \cancel{9}^8.6 \\ - 5.8 \\ \hline 3.8 \end{array}$$

⑤
$$\begin{array}{r} \cancel{5}^4.3 \\ - 0.9 \\ \hline 4.4 \end{array}$$

⑥
$$\begin{array}{r} \cancel{6}^5.1 \\ - 3.3 \\ \hline 2.8 \end{array}$$

⑦ $4.3 - 0.7$

⑧ $9.5 - 7.2$

⑨ $8.6 - 1.7$

$$\begin{array}{r} \cancel{4}^3.3 \\ - 0.7 \\ \hline 3.6 \end{array}$$

$$\begin{array}{r} 9.5 \\ - 7.2 \\ \hline 2.3 \end{array}$$

$$\begin{array}{r} \cancel{8}^7.6 \\ - 1.7 \\ \hline 6.9 \end{array}$$

⑩ $5.4 - 0.2$

⑪ $7.3 - 3.7$

⑫ $6.9 - 2.6$

$$\begin{array}{r} 5.4 \\ - 0.2 \\ \hline 5.2 \end{array}$$

$$\begin{array}{r} \cancel{7}^6.3 \\ - 3.7 \\ \hline 3.6 \end{array}$$

$$\begin{array}{r} 6.9 \\ - 2.6 \\ \hline 4.3 \end{array}$$





小数のたし算とひき算 9

ひき算の筆算：繰り下がりあり



日にち： 月 日

名まえ

・ 次の計算をしましょう。

$$\begin{array}{r} 6.5 \\ - 5.3 \\ \hline 1.2 \end{array}$$

$$\begin{array}{r} 5.2 \\ - 0.5 \\ \hline 4.7 \end{array}$$

$$\begin{array}{r} 9.1 \\ - 6.3 \\ \hline 2.8 \end{array}$$

$$\begin{array}{r} 4.7 \\ - 1.4 \\ \hline 3.3 \end{array}$$

$$\begin{array}{r} 9.7 \\ - 4.8 \\ \hline 4.9 \end{array}$$

$$\begin{array}{r} 4.4 \\ - 2.3 \\ \hline 2.1 \end{array}$$

⑦ $4.9 - 2.2$

⑧ $9.4 - 6.3$

⑨ $5.5 - 0.8$

$$\begin{array}{r} 4.9 \\ - 2.2 \\ \hline 2.7 \end{array}$$

$$\begin{array}{r} 9.4 \\ - 6.3 \\ \hline 3.1 \end{array}$$

$$\begin{array}{r} 5.5 \\ - 0.8 \\ \hline 4.7 \end{array}$$

⑩ $8.5 - 2.9$

⑪ $7.5 - 3.7$

⑫ $8.3 - 3.8$

$$\begin{array}{r} 8.5 \\ - 2.9 \\ \hline 5.6 \end{array}$$

$$\begin{array}{r} 7.5 \\ - 3.7 \\ \hline 3.8 \end{array}$$

$$\begin{array}{r} 8.3 \\ - 3.8 \\ \hline 4.5 \end{array}$$





小数のたし算とひき算 9

ひき算の筆算：繰り下がりあり



日にち： 月 日

名まえ _____

・ 次の計算をしましょう。

$$\begin{array}{r} 7.4 \\ - 5.2 \\ \hline 2.2 \end{array}$$

$$\begin{array}{r} 8.3 \\ - 0.4 \\ \hline 7.9 \end{array}$$

$$\begin{array}{r} 9.2 \\ - 6.5 \\ \hline 2.7 \end{array}$$

$$\begin{array}{r} 5.8 \\ - 1.3 \\ \hline 4.5 \end{array}$$

$$\begin{array}{r} 6.6 \\ - 4.1 \\ \hline 2.5 \end{array}$$

$$\begin{array}{r} 4.5 \\ - 2.6 \\ \hline 1.9 \end{array}$$

⑦ 3.8 - 1.3

⑧ 8.5 - 4.3

⑨ 5.2 - 0.4

$$\begin{array}{r} 3.8 \\ - 1.3 \\ \hline 2.5 \end{array}$$

$$\begin{array}{r} 8.5 \\ - 4.3 \\ \hline 4.2 \end{array}$$

$$\begin{array}{r} 5.2 \\ - 0.4 \\ \hline 4.8 \end{array}$$

⑩ 6.7 - 2.9

⑪ 4.5 - 0.7

⑫ 9.1 - 3.6

$$\begin{array}{r} 6.7 \\ - 2.9 \\ \hline 3.8 \end{array}$$

$$\begin{array}{r} 4.5 \\ - 0.7 \\ \hline 3.8 \end{array}$$

$$\begin{array}{r} 9.1 \\ - 3.6 \\ \hline 5.5 \end{array}$$





小数のたし算とひき算 9

ひき算の筆算：繰り下がりあり



日にち： 月 日

名まえ _____

・ 次の計算をしましょう。

$$\begin{array}{r} \overset{7}{\cancel{8}}.1 \\ - 4.2 \\ \hline 3.9 \end{array}$$

$$\begin{array}{r} \overset{8}{\cancel{9}}.2 \\ - 5.4 \\ \hline 3.8 \end{array}$$

$$\begin{array}{r} \overset{2}{\cancel{3}}.3 \\ - 0.5 \\ \hline 2.8 \end{array}$$

$$\begin{array}{r} 4.6 \\ - 2.3 \\ \hline 2.3 \end{array}$$

$$\begin{array}{r} 7.5 \\ - 5.1 \\ \hline 2.4 \end{array}$$

$$\begin{array}{r} \overset{4}{\cancel{5}}.4 \\ - 3.6 \\ \hline 1.8 \end{array}$$

⑦ 5.9 - 2.2

⑧ 6.8 - 0.1

⑨ 7.4 - 1.8

$$\begin{array}{r} 5.9 \\ - 2.2 \\ \hline 3.7 \end{array}$$

$$\begin{array}{r} 6.8 \\ - 0.1 \\ \hline 6.7 \end{array}$$

$$\begin{array}{r} \overset{6}{\cancel{7}}.4 \\ - 1.8 \\ \hline 5.6 \end{array}$$

⑩ 8.8 - 6.9

⑪ 9.2 - 0.3

⑫ 4.3 - 2.6

$$\begin{array}{r} \overset{7}{\cancel{8}}.8 \\ - 6.9 \\ \hline 1.9 \end{array}$$

$$\begin{array}{r} \overset{8}{\cancel{9}}.2 \\ - 0.3 \\ \hline 8.9 \end{array}$$

$$\begin{array}{r} \overset{3}{\cancel{4}}.3 \\ - 2.6 \\ \hline 1.7 \end{array}$$





小数のたし算とひき算 9

ひき算の筆算：繰り下がりあり



日にち： 月 日

名まえ

・ 次の計算をしましょう。

$$\begin{array}{r} 9.2 \\ - 2.1 \\ \hline 7.1 \end{array}$$

$$\begin{array}{r} 2.3 \\ - 0.5 \\ \hline 1.8 \end{array}$$

$$\begin{array}{r} 4.4 \\ - 2.3 \\ \hline 2.1 \end{array}$$

$$\begin{array}{r} 6.5 \\ - 3.7 \\ \hline 2.8 \end{array}$$

$$\begin{array}{r} 8.6 \\ - 5.2 \\ \hline 3.4 \end{array}$$

$$\begin{array}{r} 3.7 \\ - 0.9 \\ \hline 2.8 \end{array}$$

⑦ $8.9 - 2.5$

⑧ $3.8 - 0.2$

⑨ $4.4 - 1.9$

$$\begin{array}{r} 8.9 \\ - 2.5 \\ \hline 6.4 \end{array}$$

$$\begin{array}{r} 3.8 \\ - 0.2 \\ \hline 3.6 \end{array}$$

$$\begin{array}{r} 4.4 \\ - 1.9 \\ \hline 2.5 \end{array}$$

⑩ $9.8 - 6.3$

⑪ $5.2 - 0.8$

⑫ $6.3 - 2.6$

$$\begin{array}{r} 9.8 \\ - 6.3 \\ \hline 3.5 \end{array}$$

$$\begin{array}{r} 5.2 \\ - 0.8 \\ \hline 4.4 \end{array}$$

$$\begin{array}{r} 6.3 \\ - 2.6 \\ \hline 3.7 \end{array}$$





小数のたし算とひき算 9

ひき算の筆算：繰り下がりあり



日にち： 月 日

名まえ

・ 次の計算をしましょう。

$$\begin{array}{r} 8.3 \\ - 4.1 \\ \hline 4.2 \end{array}$$

$$\begin{array}{r} 3.4 \\ - 1.5 \\ \hline 1.9 \end{array}$$

$$\begin{array}{r} 5.5 \\ - 0.2 \\ \hline 5.3 \end{array}$$

$$\begin{array}{r} 7.4 \\ - 0.6 \\ \hline 6.8 \end{array}$$

$$\begin{array}{r} 9.5 \\ - 4.8 \\ \hline 4.7 \end{array}$$

$$\begin{array}{r} 4.6 \\ - 2.7 \\ \hline 1.9 \end{array}$$

⑦ 3.1 - 0.5

⑧ 4.9 - 1.2

⑨ 5.5 - 2.9

$$\begin{array}{r} 3.1 \\ - 0.5 \\ \hline 2.6 \end{array}$$

$$\begin{array}{r} 4.9 \\ - 1.2 \\ \hline 3.7 \end{array}$$

$$\begin{array}{r} 5.5 \\ - 2.9 \\ \hline 2.6 \end{array}$$

⑩ 8.6 - 5.3

⑪ 6.3 - 0.9

⑫ 7.2 - 4.6

$$\begin{array}{r} 8.6 \\ - 5.3 \\ \hline 3.3 \end{array}$$

$$\begin{array}{r} 6.3 \\ - 0.9 \\ \hline 5.4 \end{array}$$

$$\begin{array}{r} 7.2 \\ - 4.6 \\ \hline 2.6 \end{array}$$





小数のたし算とひき算⑨

ひき算の筆算：繰り下がりあり

10

日にち： 月 日

名まえ _____

1 次の計算をしましょう。

$$\begin{array}{r} 7.8 \\ - 6.2 \\ \hline 1.6 \end{array}$$

$$\begin{array}{r} 8.5 \\ - 5.9 \\ \hline 2.6 \end{array}$$

$$\begin{array}{r} 1.7 \\ - 0.6 \\ \hline 1.1 \end{array}$$

④ $6.1 - 4.6$

$$\begin{array}{r} 6.1 \\ - 4.6 \\ \hline 1.5 \end{array}$$

⑤ $5.8 - 2.2$

$$\begin{array}{r} 5.8 \\ - 2.2 \\ \hline 3.6 \end{array}$$

⑥ $3.6 - 0.8$

$$\begin{array}{r} 3.6 \\ - 0.8 \\ \hline 2.8 \end{array}$$

2 次の計算をしましょう。

$$\begin{array}{r} 5.0 \\ + 7.8 \\ \hline 12.8 \end{array}$$

$$\begin{array}{r} 3.4 \\ + 7.1 \\ \hline 10.5 \end{array}$$

$$\begin{array}{r} 4.1 \\ + 4.9 \\ \hline 9.0 \end{array}$$

④ $4.6 + 1.4$

$$\begin{array}{r} 4.6 \\ + 1.4 \\ \hline 6.0 \end{array}$$

⑤ $5.1 + 7.4$

$$\begin{array}{r} 5.1 \\ + 7.4 \\ \hline 12.5 \end{array}$$

⑥ $3.5 + 4.8$

$$\begin{array}{r} 3.5 \\ + 4.8 \\ \hline 8.3 \end{array}$$



小数のたし算とひき算⑨

ひき算の筆算：繰り下がりがりあり



日にち： 月 日

名まえ _____

1 次の計算をしましょう。

$$\begin{array}{r} 7.4 \\ - 5.2 \\ \hline 2.2 \end{array}$$

$$\begin{array}{r} 8.3 \\ - 0.4 \\ \hline 7.9 \end{array}$$

$$\begin{array}{r} 9.2 \\ - 6.5 \\ \hline 2.7 \end{array}$$

④ 6.7 - 2.9

⑤ 4.5 - 0.7

⑥ 8.5 - 4.3

$$\begin{array}{r} 6.7 \\ - 2.9 \\ \hline 3.8 \end{array}$$

$$\begin{array}{r} 4.5 \\ - 0.7 \\ \hline 3.8 \end{array}$$

$$\begin{array}{r} 8.5 \\ - 4.3 \\ \hline 4.2 \end{array}$$

2 次の計算をしましょう。

$$\begin{array}{r} 6.0 \\ + 3.2 \\ \hline 9.2 \end{array}$$

$$\begin{array}{r} 3.5 \\ + 6.1 \\ \hline 9.6 \end{array}$$

$$\begin{array}{r} 4.2 \\ + 4.8 \\ \hline 9.0 \end{array}$$

④ 3.2 + 4.3

⑤ 5.3 + 4.7

⑥ 5.2 + 6.8

$$\begin{array}{r} 3.2 \\ + 4.3 \\ \hline 7.5 \end{array}$$

$$\begin{array}{r} 5.3 \\ + 4.7 \\ \hline 10.0 \end{array}$$

$$\begin{array}{r} 5.2 \\ + 6.8 \\ \hline 12.0 \end{array}$$



小数のたし算とひき算⑨

ひき算の筆算：繰り下がりがりあり

12

日にち： 月 日

名まえ _____

1 次の計算をしましょう。

$$\begin{array}{r} 8.1 \\ - 4.2 \\ \hline 3.9 \end{array}$$

$$\begin{array}{r} 9.2 \\ - 5.4 \\ \hline 3.8 \end{array}$$

$$\begin{array}{r} 3.3 \\ - 0.5 \\ \hline 2.8 \end{array}$$

④ $5.9 - 2.2$

⑤ $6.8 - 0.1$

⑥ $7.4 - 1.8$

$$\begin{array}{r} 5.9 \\ - 2.2 \\ \hline 3.7 \end{array}$$

$$\begin{array}{r} 6.8 \\ - 0.1 \\ \hline 6.7 \end{array}$$

$$\begin{array}{r} 7.4 \\ - 1.8 \\ \hline 5.6 \end{array}$$

2 次の計算をしましょう。

$$\begin{array}{r} 5.0 \\ + 7.8 \\ \hline 12.8 \end{array}$$

$$\begin{array}{r} 3.4 \\ + 7.1 \\ \hline 10.5 \end{array}$$

$$\begin{array}{r} 4.1 \\ + 4.9 \\ \hline 9.0 \end{array}$$

④ $3.1 + 5.9$

⑤ $4.4 + 7$

⑥ $8.4 + 3.6$

$$\begin{array}{r} 3.1 \\ + 5.9 \\ \hline 9.0 \end{array}$$

$$\begin{array}{r} 4.4 \\ + 7.0 \\ \hline 11.4 \end{array}$$

$$\begin{array}{r} 8.4 \\ + 3.6 \\ \hline 12.0 \end{array}$$





小数のたし算とひき算⑨

ひき算の筆算：繰り下がりあり



日にち： 月 日

名まえ _____

1 次の計算をしましょう。

$$\begin{array}{r} \overset{5}{\cancel{6}}.5 \\ - 3.7 \\ \hline 2.8 \end{array}$$

$$\begin{array}{r} 8.6 \\ - 5.2 \\ \hline 3.4 \end{array}$$

$$\begin{array}{r} \overset{2}{\cancel{3}}.7 \\ - 0.9 \\ \hline 2.8 \end{array}$$

④ $8.9 - 2.5$

⑤ $3.8 - 0.2$

⑥ $4.4 - 1.9$

$$\begin{array}{r} 8.9 \\ - 2.5 \\ \hline 6.4 \end{array}$$

$$\begin{array}{r} 3.8 \\ - 0.2 \\ \hline 3.6 \end{array}$$

$$\begin{array}{r} \overset{3}{\cancel{4}}.4 \\ - 1.9 \\ \hline 2.5 \end{array}$$

2 次の計算をしましょう。

$$\begin{array}{r} 6.3 \\ + 3.7 \\ \hline 10.0 \end{array}$$

$$\begin{array}{r} 6.7 \\ + 4.0 \\ \hline 10.7 \end{array}$$

$$\begin{array}{r} 4.4 \\ + 3.6 \\ \hline 8.0 \end{array}$$

④ $3.6 + 5$

⑤ $4.5 + 3.5$

⑥ $5.3 + 8$

$$\begin{array}{r} 3.6 \\ + 5.0 \\ \hline 8.6 \end{array}$$

$$\begin{array}{r} 4.5 \\ + 3.5 \\ \hline 8.0 \end{array}$$

$$\begin{array}{r} 5.3 \\ + 8.0 \\ \hline 13.3 \end{array}$$





小数のたし算とひき算⑨

ひき算の筆算：繰り下がりがりあり

14

日にち： 月 日

名まえ _____

1 次の計算をしましょう。

$$\begin{array}{r} 7.4 \\ - 0.6 \\ \hline 6.8 \end{array}$$

$$\begin{array}{r} 9.5 \\ - 4.8 \\ \hline 4.7 \end{array}$$

$$\begin{array}{r} 4.6 \\ - 2.7 \\ \hline 1.9 \end{array}$$

④ 3.1 - 0.5

⑤ 4.9 - 1.2

⑥ 5.5 - 2.9

$$\begin{array}{r} 3.1 \\ - 0.5 \\ \hline 2.6 \end{array}$$

$$\begin{array}{r} 4.9 \\ - 1.2 \\ \hline 3.7 \end{array}$$

$$\begin{array}{r} 5.5 \\ - 2.9 \\ \hline 2.6 \end{array}$$

2 次の計算をしましょう。

$$\begin{array}{r} 3.8 \\ + 6.2 \\ \hline 10.0 \end{array}$$

$$\begin{array}{r} 9.0 \\ + 5.6 \\ \hline 14.6 \end{array}$$

$$\begin{array}{r} 4.8 \\ + 5.6 \\ \hline 10.4 \end{array}$$

④ 2.7 + 9.3

⑤ 8 + 4.7

⑥ 2.5 + 7.5

$$\begin{array}{r} 2.7 \\ + 9.3 \\ \hline 12.0 \end{array}$$

$$\begin{array}{r} 8.0 \\ + 4.7 \\ \hline 12.7 \end{array}$$

$$\begin{array}{r} 2.5 \\ + 7.5 \\ \hline 10.0 \end{array}$$



小数のたし算とひき算 9

ひき算の筆算：繰り下がりがりあり

15

目指せ80点!



名まえ

1 次の計算をしましょう。(各10点)

$$\begin{array}{r} 3.9 \\ - 1.5 \\ \hline 2.4 \end{array}$$

$$\begin{array}{r} 4.2 \\ - 0.6 \\ \hline 3.6 \end{array}$$

$$\begin{array}{r} 9.5 \\ - 7.6 \\ \hline 1.9 \end{array}$$

④ $9.1 - 2.4$

⑤ $2.1 - 0.8$

$$\begin{array}{r} 9.1 \\ - 2.4 \\ \hline 6.7 \end{array}$$

$$\begin{array}{r} 2.1 \\ - 0.8 \\ \hline 1.3 \end{array}$$

2 次の計算をしましょう。(各10点)

$$\begin{array}{r} 1.6 \\ + 8.3 \\ \hline 9.9 \end{array}$$

$$\begin{array}{r} 4.9 \\ + 2.3 \\ \hline 7.2 \end{array}$$

$$\begin{array}{r} 5.8 \\ + 2.2 \\ \hline 8.0 \end{array}$$

④ $6 + 1.7$

⑤ $2.8 + 8.6$

$$\begin{array}{r} 6.0 \\ + 1.7 \\ \hline 7.7 \end{array}$$

$$\begin{array}{r} 2.8 \\ + 8.6 \\ \hline 11.4 \end{array}$$





小数のたし算とひき算 9

ひき算の筆算：繰り下がりがりあり

16

目指せ80点!



名まえ

1 次の計算をしましょう。(各10点)

$$\begin{array}{r} 4.8 \\ - 1.3 \\ \hline 3.5 \end{array}$$

$$\begin{array}{r} 6.2 \\ - 0.7 \\ \hline 5.5 \end{array}$$

$$\begin{array}{r} 8.1 \\ - 5.6 \\ \hline 2.5 \end{array}$$

④ 7.3 - 3.4

⑤ 5.6 - 0.9

$$\begin{array}{r} 7.3 \\ - 3.4 \\ \hline 3.9 \end{array}$$

$$\begin{array}{r} 5.6 \\ - 0.9 \\ \hline 4.7 \end{array}$$

2 次の計算をしましょう。(各10点)

$$\begin{array}{r} 2.7 \\ + 8.3 \\ \hline 11.0 \end{array}$$

$$\begin{array}{r} 4.9 \\ + 7.6 \\ \hline 12.5 \end{array}$$

$$\begin{array}{r} 4.6 \\ + 3.4 \\ \hline 8.0 \end{array}$$

④ 9 + 1.6

⑤ 3.3 + 8.1

$$\begin{array}{r} 9.0 \\ + 1.6 \\ \hline 10.6 \end{array}$$

$$\begin{array}{r} 3.3 \\ + 8.1 \\ \hline 11.4 \end{array}$$

