

小数のたし算とひき算①

◎和が1以下のたし算



日にち： 月 日

名まえ _____

・ 次の計算をしましょう。

① $0.5 + 0.3 = 0.8$

⑥ $0.8 + 0.1 =$

② $0.4 + 0.2 =$

⑦ $0.3 + 0.4 =$

③ $0.1 + 0.6 =$

⑧ $0.6 + 0.2 =$

④ $0.9 + 0.1 = 1$

⑨ $0.7 + 0.3 =$

⑤ $0.2 + 0.3 =$

⑩ $0.4 + 0.5 =$





小数のたし算とひき算 1

◎和が1以下のたし算



日にち： 月 日

名まえ _____

・ 次の計算をしましょう。

① $0.2 + 0.6 = 0.8$

⑥ $0.2 + 0.8 =$

② $0.5 + 0.1 =$

⑦ $0.3 + 0.4 =$

③ $0.9 + 0.1 = 1$

⑧ $0.7 + 0.2 =$

④ $0.3 + 0.3 =$

⑨ $0.6 + 0.1 =$

⑤ $0.4 + 0.5 =$

⑩ $0.2 + 0.7 =$





小数のたし算とひき算 I

◎和が1以下のたし算

3

日にち： 月 日

名まえ _____

・ 次の計算をしましょう。

① $0.2 + 0.1 = 0.3$

⑥ $0.3 + 0.2 =$

② $0.1 + 0.5 =$

⑦ $0.3 + 0.7 =$

③ $0.1 + 0.1 =$

⑧ $0.5 + 0.4 =$

④ $0.4 + 0.3 =$

⑨ $0.1 + 0.3 =$

⑤ $0.6 + 0.4 = 1$

⑩ $0.2 + 0.5 =$





小数のたし算とひき算！

◎和が1以下のたし算

4

日にち： 月 日

名まえ _____

・ 次の計算をしましょう。

① $0.2 + 0.2 = 0.4$

⑥ $0.1 + 0.7 =$

② $0.3 + 0.5 =$

⑦ $0.3 + 0.4 =$

③ $0.2 + 0.8 = 1$

⑧ $0.4 + 0.5 =$

④ $0.1 + 0.2 =$

⑨ $0.3 + 0.2 =$

⑤ $0.5 + 0.1 =$

⑩ $0.9 + 0.1 =$





小数のたし算とひき算 I

◎和が1以下のたし算



日にち： 月 日

名まえ _____

・ 次の計算をしましょう。

① $0.2 + 0.5 =$

⑥ $0.1 + 0.4 =$

② $0.1 + 0.6 =$

⑦ $0.8 + 0.2 =$

③ $0.3 + 0.1 =$

⑧ $0.5 + 0.5 =$

④ $0.7 + 0.2 =$

⑨ $0.4 + 0.2 =$

⑤ $0.3 + 0.5 =$

⑩ $0.3 + 0.4 =$





小数のたし算とひき算 I

◎和が1以下のたし算



日にち： 月 日

名まえ _____

・ 次の計算をしましょう。

① $0.1 + 0.3 =$

② $0.7 + 0.2 =$

③ $0.2 + 0.3 =$

④ $0.5 + 0.1 =$

⑤ $0.2 + 0.1 =$

⑥ $0.2 + 0.5 =$

⑦ $0.3 + 0.6 =$

⑧ $0.5 + 0.5 =$

⑨ $0.5 + 0.3 =$

⑩ $0.4 + 0.1 =$





小数のたし算とひき算 I

◎和が1以下のたし算



日にち： 月 日

名まえ _____

・ 次の計算をしましょう。

① $0.4 + 0.1 =$

② $0.2 + 0.4 =$

③ $0.6 + 0.2 =$

④ $0.3 + 0.7 =$

⑤ $0.5 + 0.2 =$

⑥ $0.1 + 0.2 =$


⑦ $0.6 + 0.3 =$

⑧ $0.2 + 0.5 =$

⑨ $0.3 + 0.1 =$

⑩ $0.1 + 0.9 =$





小数のたし算とひき算 I

◎和が1以下のたし算



日にち： 月 日

名まえ _____

・ 次の計算をしましょう。

① $0.1 + 0.3 =$

② $0.8 + 0.2 =$

③ $0.4 + 0.4 =$

④ $0.5 + 0.1 =$

⑤ $0.3 + 0.6 =$

⑥ $0.2 + 0.4 =$


⑦ $0.4 + 0.1 =$

⑧ $0.7 + 0.3 =$

⑨ $0.5 + 0.4 =$

⑩ $0.2 + 0.5 =$





小数のたし算とひき算 I

◎和が1以下のたし算



日にち： 月 日

名まえ _____

・ 次の計算をしましょう。

① $0.2 + 0.5 =$

② $0.2 + 0.1 =$

③ $0.5 + 0.1 =$

④ $0.3 + 0.2 =$

⑤ $0.4 + 0.5 =$

⑥ $0.1 + 0.4 =$

⑦ $0.3 + 0.7 =$

⑧ $0.6 + 0.2 =$

⑨ $0.2 + 0.8 =$

⑩ $0.2 + 0.2 =$





小数のたし算とひき算！

◎和が1以下のたし算



日にち： 月 日

名まえ _____

・ 次の計算をしましょう。

① $0.1 + 0.6 =$

② $0.7 + 0.2 =$

③ $0.8 + 0.2 =$

④ $0.4 + 0.4 =$

⑤ $0.1 + 0.8 =$

⑥ $0.5 + 0.1 =$

⑦ $0.2 + 0.5 =$

⑧ $0.1 + 0.7 =$

⑨ $0.2 + 0.4 =$

⑩ $0.3 + 0.6 =$

⑪ $0.1 + 0.3 =$

⑫ $0.9 + 0.1 =$





小数のたし算とひき算！

◎和が1以下のたし算



日にち： 月 日

名まえ _____

・ 次の計算をしましょう。

① $0.4 + 0.5 =$

② $0.6 + 0.2 =$

③ $0.3 + 0.2 =$

④ $0.2 + 0.4 =$

⑤ $0.1 + 0.8 =$

⑥ $0.3 + 0.7 =$

⑦ $0.2 + 0.3 =$

⑧ $0.3 + 0.4 =$

⑨ $0.5 + 0.4 =$

⑩ $0.3 + 0.1 =$

⑪ $0.1 + 0.7 =$

⑫ $0.1 + 0.6 =$





小数のたし算とひき算 I

◎和が1以下のたし算



日にち： 月 日

名まえ _____

・ 次の計算をしましょう。

① $0.3 + 0.1 =$

② $0.4 + 0.6 =$

③ $0.7 + 0.2 =$

④ $0.1 + 0.4 =$

⑤ $0.6 + 0.2 =$

⑥ $0.3 + 0.3 =$

⑦ $0.2 + 0.6 =$

⑧ $0.3 + 0.4 =$

⑨ $0.2 + 0.4 =$

⑩ $0.5 + 0.3 =$

⑪ $0.1 + 0.9 =$

⑫ $0.3 + 0.6 =$





小数のたし算とひき算 I

◎和が1以下のたし算



日にち： 月 日

名まえ _____

・ 次の計算をしましょう。

① $0.2 + 0.1 =$

② $0.4 + 0.5 =$

③ $0.3 + 0.2 =$

④ $0.1 + 0.7 =$

⑤ $0.6 + 0.4 =$

⑥ $0.4 + 0.3 =$

⑦ $0.3 + 0.5 =$

⑧ $0.6 + 0.3 =$

⑨ $0.2 + 0.8 =$

⑩ $0.5 + 0.2 =$

⑪ $0.1 + 0.3 =$

⑫ $0.4 + 0.2 =$





小数のたし算とひき算 I

◎和が1以下のたし算



日にち： 月 日

名まえ _____

・ 次の計算をしましょう。

① $0.6 + 0.2 =$

② $0.1 + 0.2 =$

③ $0.3 + 0.4 =$

④ $0.5 + 0.3 =$

⑤ $0.2 + 0.2 =$

⑥ $0.4 + 0.6 =$

⑦ $0.3 + 0.2 =$

⑧ $0.4 + 0.2 =$

⑨ $0.2 + 0.5 =$

⑩ $0.5 + 0.5 =$

⑪ $0.6 + 0.3 =$

⑫ $0.5 + 0.2 =$



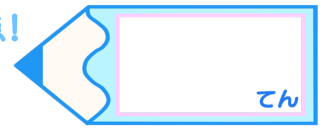


小数のたし算とひき算 I

◎和が1以下のたし算

15

目指せ80点!



名まえ _____

・次の計算をしましょう。

① $0.3 + 0.6 =$

② $0.5 + 0.2 =$

③ $0.1 + 0.4 =$

④ $0.7 + 0.3 =$

⑤ $0.2 + 0.2 =$

⑥ $0.2 + 0.6 =$

⑦ $0.3 + 0.1 =$

⑧ $0.7 + 0.2 =$

⑨ $0.3 + 0.5 =$

⑩ $0.4 + 0.3 =$

⑪ $0.6 + 0.4 =$

⑫ $0.4 + 0.2 =$






小数のたし算とひき算 I

◎和が1以下のたし算



目指せ80点!



名まえ _____

・次の計算をしましょう。

① $0.3 + 0.1 =$

② $0.1 + 0.5 =$

③ $0.6 + 0.3 =$

④ $0.4 + 0.3 =$

⑤ $0.7 + 0.3 =$

⑥ $0.2 + 0.4 =$

⑦ $0.2 + 0.3 =$

⑧ $0.4 + 0.5 =$


⑨ $0.3 + 0.1 =$

⑩ $0.4 + 0.2 =$

⑪ $0.4 + 0.4 =$

⑫ $0.8 + 0.2 =$





小数のたし算とひき算①

◎和が1以下のたし算



日にち： 月 日

名まえ _____

・次の計算をしましょう。

① $0.5 + 0.3 = 0.8$

⑥ $0.8 + 0.1 = 0.9$

② $0.4 + 0.2 = 0.6$

⑦ $0.3 + 0.4 = 0.7$

③ $0.1 + 0.6 = 0.7$

⑧ $0.6 + 0.2 = 0.8$

④ $0.9 + 0.1 = 1$

⑨ $0.7 + 0.3 = 1$

⑤ $0.2 + 0.3 = 0.5$

⑩ $0.4 + 0.5 = 0.9$





小数のたし算とひき算 I

◎和が1以下のたし算



日にち： 月 日

名まえ _____

・ 次の計算をしましょう。

① $0.2 + 0.6 = 0.8$

⑥ $0.2 + 0.8 = 1$

② $0.5 + 0.1 = 0.6$

⑦ $0.3 + 0.4 = 0.7$

③ $0.9 + 0.1 = 1$

⑧ $0.7 + 0.2 = 0.9$

④ $0.3 + 0.3 = 0.6$

⑨ $0.6 + 0.1 = 0.7$

⑤ $0.4 + 0.5 = 0.9$

⑩ $0.2 + 0.7 = 0.9$





小数のたし算とひき算 I

◎和が1以下のたし算

3

日にち： 月 日

名まえ _____

・ 次の計算をしましょう。

① $0.2 + 0.1 = 0.3$

⑥ $0.3 + 0.2 = 0.5$

② $0.1 + 0.5 = 0.6$

⑦ $0.3 + 0.7 = 1$

③ $0.1 + 0.1 = 0.2$

⑧ $0.5 + 0.4 = 0.9$

④ $0.4 + 0.3 = 0.7$

⑨ $0.1 + 0.3 = 0.4$

⑤ $0.6 + 0.4 = 1$

⑩ $0.2 + 0.5 = 0.7$





小数のたし算とひき算 I

◎和が1以下のたし算

4

日にち： 月 日

名まえ _____

・ 次の計算をしましょう。

① $0.2 + 0.2 = 0.4$

⑥ $0.1 + 0.7 = 0.8$

② $0.3 + 0.5 = 0.8$

⑦ $0.3 + 0.4 = 0.7$

③ $0.2 + 0.8 = 1$

⑧ $0.4 + 0.5 = 0.9$

④ $0.1 + 0.2 = 0.3$

⑨ $0.3 + 0.2 = 0.5$

⑤ $0.5 + 0.1 = 0.6$

⑩ $0.9 + 0.1 = 1$





小数のたし算とひき算 I

◎和が1以下のたし算

5

日にち： 月 日

名まえ _____

・ 次の計算をしましょう。

① $0.2 + 0.5 = 0.7$

⑥ $0.1 + 0.4 = 0.5$

② $0.1 + 0.6 = 0.7$

⑦ $0.8 + 0.2 = 1$

③ $0.3 + 0.1 = 0.4$

⑧ $0.5 + 0.5 = 1$

④ $0.7 + 0.2 = 0.9$

⑨ $0.4 + 0.2 = 0.6$

⑤ $0.3 + 0.5 = 0.8$

⑩ $0.3 + 0.4 = 0.7$





小数のたし算とひき算 I

◎和が1以下のたし算



日にち： 月 日

名まえ _____

・ 次の計算をしましょう。

① $0.1 + 0.3 = 0.4$

⑥ $0.2 + 0.5 = 0.7$

② $0.7 + 0.2 = 0.9$

⑦ $0.3 + 0.6 = 0.9$

③ $0.2 + 0.3 = 0.5$

⑧ $0.5 + 0.5 = 1$

④ $0.5 + 0.1 = 0.6$

⑨ $0.5 + 0.3 = 0.8$

⑤ $0.2 + 0.1 = 0.3$

⑩ $0.4 + 0.1 = 0.5$





小数のたし算とひき算 I

◎和が1以下のたし算



日にち： 月 日

名まえ _____

・ 次の計算をしましょう。

① $0.4 + 0.1 = 0.5$

⑥ $0.1 + 0.2 = 0.3$

② $0.2 + 0.4 = 0.6$

⑦ $0.6 + 0.3 = 0.9$

③ $0.6 + 0.2 = 0.8$

⑧ $0.2 + 0.5 = 0.7$

④ $0.3 + 0.7 = 1$

⑨ $0.3 + 0.1 = 0.4$

⑤ $0.5 + 0.2 = 0.7$

⑩ $0.1 + 0.9 = 1$





小数のたし算とひき算 I

◎和が1以下のたし算



日にち： 月 日

名まえ _____

・ 次の計算をしましょう。

① $0.1 + 0.3 = 0.4$

⑥ $0.2 + 0.4 = 0.6$

② $0.8 + 0.2 = 1$

⑦ $0.4 + 0.1 = 0.5$

③ $0.4 + 0.4 = 0.8$

⑧ $0.7 + 0.3 = 1$


④ $0.5 + 0.1 = 0.6$

⑨ $0.5 + 0.4 = 0.9$

⑤ $0.3 + 0.6 = 0.9$

⑩ $0.2 + 0.5 = 0.7$





小数のたし算とひき算 I

◎和が1以下のたし算



日にち： 月 日

名まえ _____

・次の計算をしましょう。

① $0.2 + 0.5 = 0.7$

⑥ $0.1 + 0.4 = 0.5$

② $0.2 + 0.1 = 0.3$

⑦ $0.3 + 0.7 = 1$

③ $0.5 + 0.1 = 0.6$

⑧ $0.6 + 0.2 = 0.8$

④ $0.3 + 0.2 = 0.5$

⑨ $0.2 + 0.8 = 1$

⑤ $0.4 + 0.5 = 0.9$

⑩ $0.2 + 0.2 = 0.4$





小数のたし算とひき算 I

◎和が1以下のたし算



日にち： 月 日

名まえ _____

・ 次の計算をしましょう。

① $0.1 + 0.6 = 0.7$

⑦ $0.2 + 0.5 = 0.7$

② $0.7 + 0.2 = 0.9$

⑧ $0.1 + 0.7 = 0.8$

③ $0.8 + 0.2 = 1$

⑨ $0.2 + 0.4 = 0.6$

④ $0.4 + 0.4 = 0.8$

⑩ $0.3 + 0.6 = 0.9$

⑤ $0.1 + 0.8 = 0.9$

⑪ $0.1 + 0.3 = 0.4$

⑥ $0.5 + 0.1 = 0.6$

⑫ $0.9 + 0.1 = 1$





小数のたし算とひき算 I

◎和が1以下のたし算



日にち： 月 日

名まえ _____

・ 次の計算をしましょう。

① $0.4 + 0.5 = 0.9$

⑦ $0.2 + 0.3 = 0.5$

② $0.6 + 0.2 = 0.8$

⑧ $0.3 + 0.4 = 0.7$

③ $0.3 + 0.2 = 0.5$

⑨ $0.5 + 0.4 = 0.9$

④ $0.2 + 0.4 = 0.6$

⑩ $0.3 + 0.1 = 0.4$

⑤ $0.1 + 0.8 = 0.9$

⑪ $0.1 + 0.7 = 0.8$

⑥ $0.3 + 0.7 = 1$

⑫ $0.1 + 0.6 = 0.7$





小数のたし算とひき算 I

◎和が1以下のたし算



日にち： 月 日

名まえ _____

・ 次の計算をしましょう。

① $0.3 + 0.1 = 0.4$

⑦ $0.2 + 0.6 = 0.8$

② $0.4 + 0.6 = 1$

⑧ $0.3 + 0.4 = 0.7$

③ $0.7 + 0.2 = 0.9$

⑨ $0.2 + 0.4 = 0.6$

④ $0.1 + 0.4 = 0.5$

⑩ $0.5 + 0.3 = 0.8$

⑤ $0.6 + 0.2 = 0.8$

⑪ $0.1 + 0.9 = 1$

⑥ $0.3 + 0.3 = 0.6$

⑫ $0.3 + 0.6 = 0.9$





小数のたし算とひき算 I

◎和が1以下のたし算



日にち： 月 日

名まえ _____

・ 次の計算をしましょう。

① $0.2 + 0.1 = 0.3$

⑦ $0.3 + 0.5 = 0.8$

② $0.4 + 0.5 = 0.9$

⑧ $0.6 + 0.3 = 0.9$

③ $0.3 + 0.2 = 0.5$

⑨ $0.2 + 0.8 = 1$

④ $0.1 + 0.7 = 0.8$

⑩ $0.5 + 0.2 = 0.7$

⑤ $0.6 + 0.4 = 1$

⑪ $0.1 + 0.3 = 0.4$

⑥ $0.4 + 0.3 = 0.7$

⑫ $0.4 + 0.2 = 0.6$





小数のたし算とひき算 I

◎和が1以下のたし算



日にち： 月 日

名まえ _____

・ 次の計算をしましょう。

① $0.6 + 0.2 = 0.8$

⑦ $0.3 + 0.2 = 0.5$

② $0.1 + 0.2 = 0.3$

⑧ $0.4 + 0.2 = 0.6$

③ $0.3 + 0.4 = 0.7$

⑨ $0.2 + 0.5 = 0.7$

④ $0.5 + 0.3 = 0.8$

⑩ $0.5 + 0.5 = 1$

⑤ $0.2 + 0.2 = 0.4$

⑪ $0.6 + 0.3 = 0.9$

⑥ $0.4 + 0.6 = 1$

⑫ $0.5 + 0.2 = 0.7$






小数のたし算とひき算 I

◎和が1以下のたし算

15

目指せ80点!



名まえ _____

・次の計算をしましょう。

① $0.3 + 0.6 = 0.9$

⑦ $0.3 + 0.1 = 0.4$

② $0.5 + 0.2 = 0.7$

⑧ $0.7 + 0.2 = 0.9$

③ $0.1 + 0.4 = 0.5$

⑨ $0.3 + 0.5 = 0.8$

④ $0.7 + 0.3 = 1$

⑩ $0.4 + 0.3 = 0.7$

⑤ $0.2 + 0.2 = 0.4$

⑪ $0.6 + 0.4 = 1$

⑥ $0.2 + 0.6 = 0.8$

⑫ $0.4 + 0.2 = 0.6$



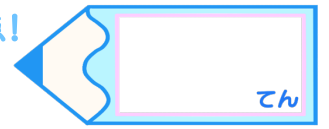


小数のたし算とひき算 I

◎和が1以下のたし算



目指せ80点!



名まえ _____

・次の計算をしましょう。

① $0.3 + 0.1 = 0.4$

⑦ $0.2 + 0.3 = 0.5$

② $0.1 + 0.5 = 0.6$

⑧ $0.4 + 0.5 = 0.9$

③ $0.6 + 0.3 = 0.9$

⑨ $0.3 + 0.1 = 0.4$

④ $0.4 + 0.3 = 0.7$

⑩ $0.4 + 0.2 = 0.6$

⑤ $0.7 + 0.3 = 1$

⑪ $0.4 + 0.4 = 0.8$

⑥ $0.2 + 0.4 = 0.6$

⑫ $0.8 + 0.2 = 1$

