

小数の意味と表し方 I

◎ 小数の書き方



日にち： 月 日

名まえ _____

・ 次の数を、右の表の中に書きこみましょう。

(うすい字はなぞりましょう。)

① 3.6

② 0.3

③ 4.8

④ 10.2

⑤ 59.4


⑥ 11.1

⑦ 3

⑧ 12

	十の位	一の位	小数第一位
①		3	6
②			
③			
④	1	0	2
⑤			
⑥			
⑦		3	
⑧			





小数の意味と表し方 I

◎ 小数の書き方



日にち： 月 日

名まえ

・ 次の数を、右の表の中に書きこみましょう。

(うすい字はなぞりましょう。)

① 2.8

② 0.6

③ 5.2

④ 20.4

⑤ 47.5


⑥ 23.1

⑦ 6

⑧ 28

	十の位	一の位	小数第一位
①	2	8	.
②			.
③			.
④	2	0	4
⑤			.
⑥			.
⑦		6	.
⑧			.





小数の意味と表し方 I

◎ 小数の書き方



日にち： 月 日

名まえ _____

・ 次の数を、右の表の中に書きこみましょう。

(うすい字はなぞりましょう。)

① 4.2

② 7.3

③ 0.1

④ 7

⑤ 56.1


⑥ 41

⑦ 30.5

⑧ 18.6

	十の位	一の位	小数第一位
①		4	2
②			
③			
④			
⑤			
⑥			
⑦			
⑧			





小数の意味と表し方 I

◎ 小数の書き方



日にち： 月 日

名まえ _____

・ 次の数を、右の表の中に書きこみましょう。

(うすい字はなぞりましょう。)

① 2.7

② 8

③ 5.6

④ 0.9

⑤ 17


⑥ 39.5

⑦ 20.9

⑧ 36.5

	十の位	一の位	小数第一位
①		2	7
②			
③			
④			
⑤			
⑥			
⑦			
⑧			





小数の意味と表し方 I

◎ 小数の書き方



日にち： 月 日

名まえ _____

・ 次の数を、右の表の中に書きこみましょう。

(うすい字はなぞりましょう。)

① 3.6

② 0.3

③ 4.8

④ 10.2

⑤ 59.4


⑥ 11.1

⑦ 3

⑧ 12

	十の位	一の位	小数第一位
①		3	6
②		0	3
③		4	8
④	1	0	2
⑤	5	9	4
⑥	1	1	1
⑦		3	
⑧	1	2	





小数の意味と表し方 I

◎ 小数の書き方



日にち： 月 日

名まえ _____

・ 次の数を、右の表の中に書きこみましょう。

(うすい字はなぞりましょう。)

① 2.8

② 0.6

③ 5.2

④ 20.4

⑤ 47.5


⑥ 23.1

⑦ 6

⑧ 28

	十の位	一の位	小数第一位
①		2	8
②		0	6
③		5	2
④	2	0	4
⑤	4	7	5
⑥	2	3	1
⑦		6	
⑧	2	8	





小数の意味と表し方 I

◎ 小数の書き方



日にち： 月 日

名まえ

・ 次の数を、右の表の中に書きこみましょう。

(うすい字はなぞりましょう。)

① 4.2

② 7.3

③ 0.1

④ 7

⑤ 56.1


⑥ 41

⑦ 30.5

⑧ 18.6

	十の位	一の位	小数第一位
①		4	2
②		7	3
③		0	1
④		7	
⑤	5	6	1
⑥	4	1	
⑦	3	0	5
⑧	1	8	6





小数の意味と表し方 I

◎ 小数の書き方



日にち： 月 日

名まえ

・ 次の数を、右の表の中に書きこみましょう。

(うすい字はなぞりましょう。)

① 2.7

② 8

③ 5.6

④ 0.9

⑤ 17

⑥ 39.5

⑦ 20.9

⑧ 36.5

	十の位	一の位	小数第一位
①		2	.7
②		8	
③		5	.6
④		0	.9
⑤	1	7	
⑥	3	9	.5
⑦	2	0	.9
⑧	3	6	.5

