



小数の意味と表し方 II

● 小数の位置を数直線へ書きこむ



日にち： 月 日

名まえ _____

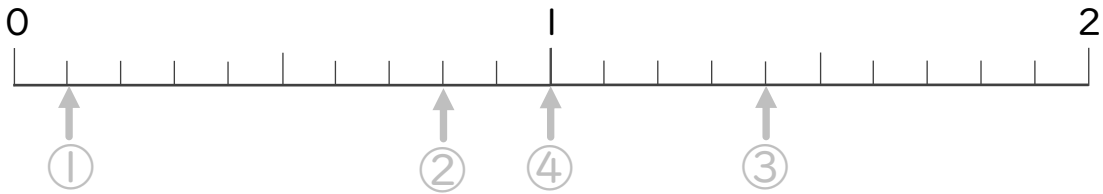
・ 次の数を表すメモリに ↑ を書きましょう。
(うすい字はなぞりましょう。)

① 0.1

② 0.8

③ 1.4

④ 1.0

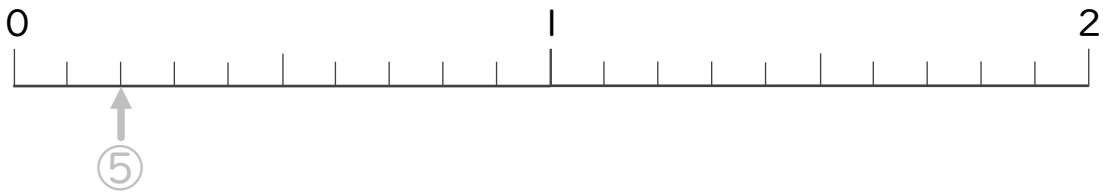


⑤ 0.2

⑥ 0.4

⑦ 1.4

⑧ 0.7



⑨ 0.8

⑩ 0.6

⑪ 1.3

⑫ 1.7





小数の意味と表し方II

● 小数の位置を数直線へ書きこむ



日にち： 月 日

名まえ _____

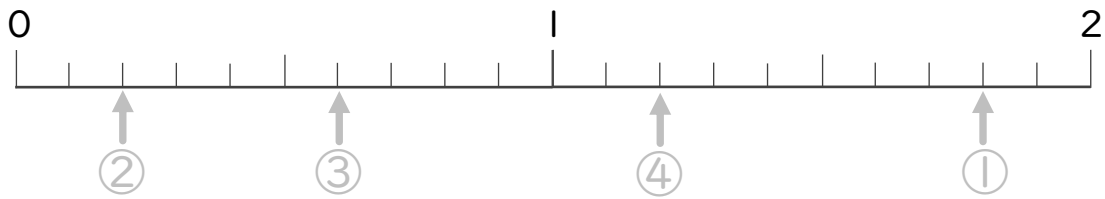
・ 次の数を表すめもりに ↑ を書きましょう。
(うすい字はなぞりましょう。)

① 1.8

② 0.2

③ 0.6

④ 1.2



⑤ 1.9

⑥ 0.5

⑦ 1.7

⑧ 0.7



⑨ 0.4

⑩ 0.8

⑪ 2

⑫ 0.7





小数の意味と表し方II

● 小数の位置を数直線へ書きこむ



日にち： 月 日

名まえ _____

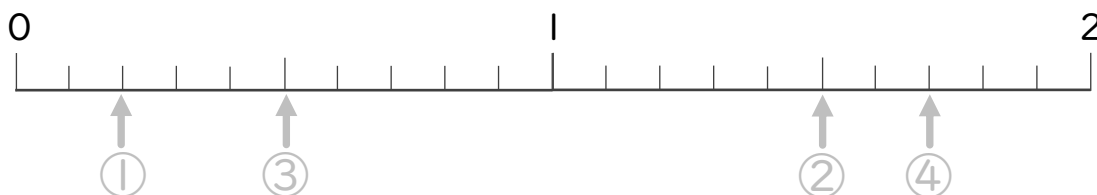
・ 次の数を表すメモリに ↑ を書きましょう。
(うすい字はなぞりましょう。)

① 0.2

② 1.5

③ 0.5

④ 1.7



⑤ 0.3

⑥ 0.7

⑦ 1.4

⑧ 0.8



⑨ 1.6

⑩ 1.3

⑪ 0.3

⑫ 0.1





小数の意味と表し方II

● 小数の位置を数直線へ書きこむ



日にち： 月 日

名まえ _____

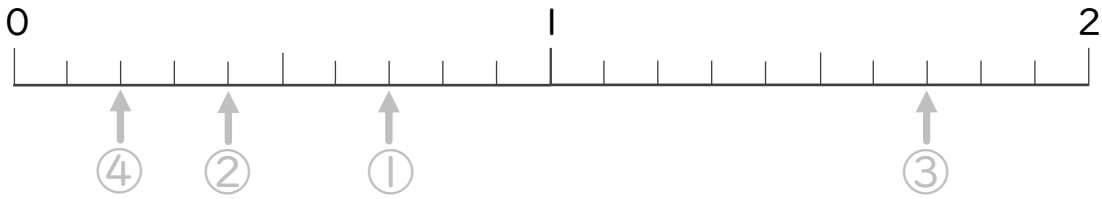
・ 次の数を表すメモリに ↑ を書きましょう。
(うすい字はなぞりましょう。)

① 0.7

② 0.4

③ 1.7

④ 0.2



⑤ 1.1

⑥ 1.9

⑦ 0.6

⑧ 2



⑨ 0.6

⑩ 1.6

⑪ 0.9

⑫ 1.5





小数の意味と表し方II

● 小数の位置を数直線へ書きこむ



日にち： 月 日

名まえ _____

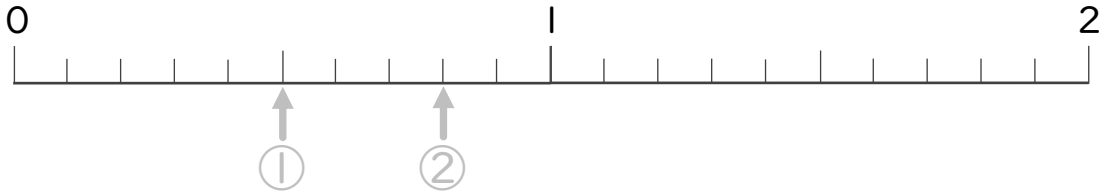
・ 次の数を表すめもりに ↑ を書きましょう。
(うすい字はなぞりましょう。)

① 0.5

② 0.8

③ 1.5

④ 1.8



⑤ 1.6

⑥ 0.7

⑦ 0.4

⑧ 0.1



⑨ 1.5

⑩ 0.6

⑪ 1.8

⑫ 0.2





小数の意味と表し方II

● 小数の位置を数直線へ書きこむ



日にち： 月 日

名まえ _____

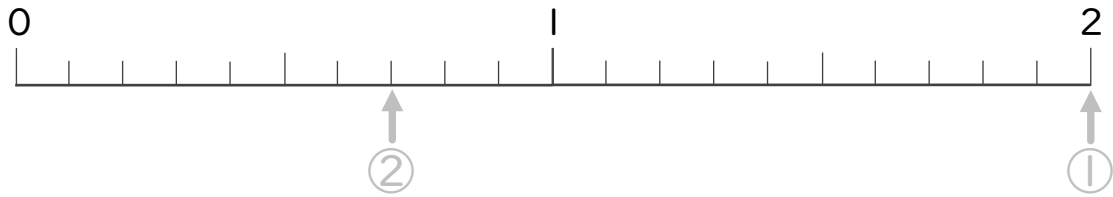
・ 次の数を表すめもりに ↑ を書きましょう。
(うすい字はなぞりましょう。)

① 2

② 0.7

③ 1.3

④ 1.1



⑤ 1.4

⑥ 1.2

⑦ 1.8

⑧ 0.5



⑨ 1.5

⑩ 0.4

⑪ 1.1

⑫ 0.9





小数の意味と表し方II

● 小数の位置を数直線へ書きこむ



日にち： 月 日

名まえ _____

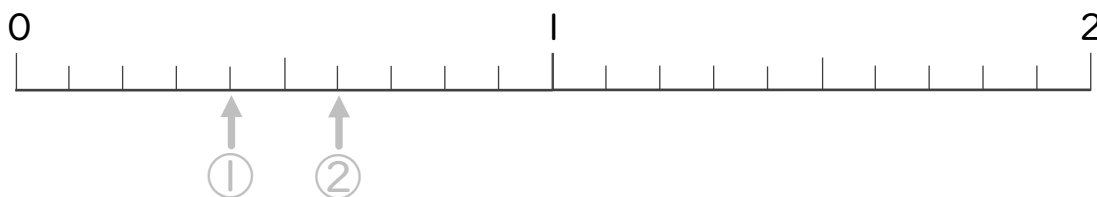
・ 次の数を表すめもりに ↑ を書きましょう。
(うすい字はなぞりましょう。)

① 0.4

② 0.6

③ 1.4

④ 1.9



⑤ 1.8

⑥ 0.3

⑦ 1.6

⑧ 0.9



⑨ 1.7

⑩ 0.8

⑪ 0.2

⑫ 0.5





小数の意味と表し方II

● 小数の位置を数直線へ書きこむ



日にち： 月 日

名まえ _____

・ 次の数を表すめもりに ↑ を書きましょう。

① 1.9

② 1.2

③ 0.2

④ 1.1



⑤ 1.5

⑥ 0.3

⑦ 0.9

⑧ 0.1



⑨ 1

⑩ 0.4

⑪ 1.3

⑫ 0.3





小数の意味と表し方II

● 小数の位置を数直線へ書きこむ



日にち： 月 日

名まえ _____

・ 次の数を表すめもりに ↑ を書きましょう。

① 1.3

② 0.2

③ 0.7

④ 1.5



⑤ 1.2

⑥ 1.8

⑦ 0.4

⑧ 0.6



⑨ 0.5

⑩ 0.9

⑪ 1

⑫ 1.5





小数の意味と表し方II

● 小数の位置を数直線へ書きこむ



日にち： 月 日

名まえ _____

1 次の数を表すメモリに↑を書きましょう。

① 1.3

② 0.1

③ 1

④ 0.8



⑤ 0.9

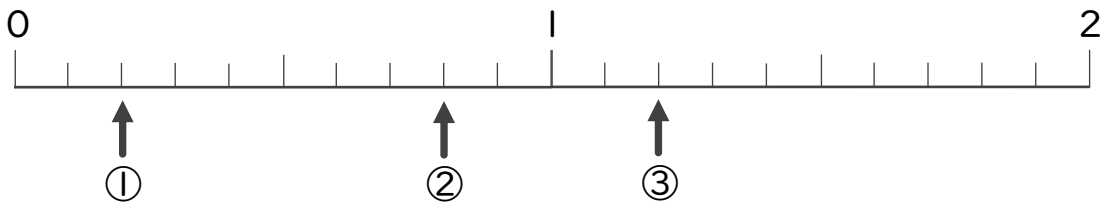
⑥ 1.7

⑦ 0.6

⑧ 2



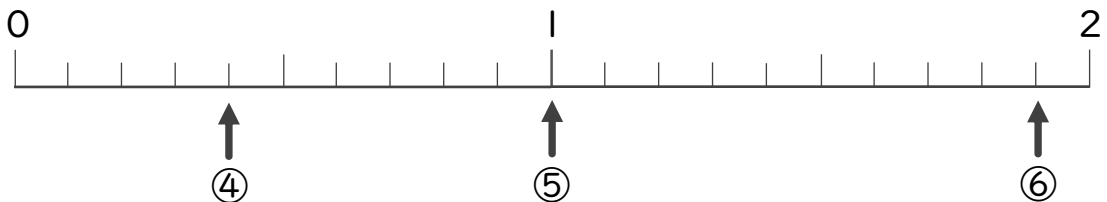
2 下の数直線を見て↑のメモリが表す数を書きましょう。



① _____

② _____

③ _____



④ _____

⑤ _____

⑥ _____



小数の意味と表し方

● 小数の位置を数直線へ書きこむ



日にち： 月 日

名まえ _____

1 次の数を表すメモリに↑を書きましょう。

① 1.7

② 1.3

③ 0.8

④ 0.5



⑤ 1.6

⑥ 0.9

⑦ 0.7

⑧ 0.2



2 下の数直線を見て↑のメモリが表す数を書きましょう。



↑
①

↑
②

↑
③

① _____

② _____

③ _____



↑
④

↑
⑤

↑
⑥

④ _____

⑤ _____

⑥ _____



小数の意味と表し方 II

● 小数の位置を数直線へ書きこむ



日にち： 月 日

名まえ _____

1 次の数を表すメモリに ↑ を書きましょう。

① 1.8

② 2

③ 1.6

④ 0.2



⑤ 1.3

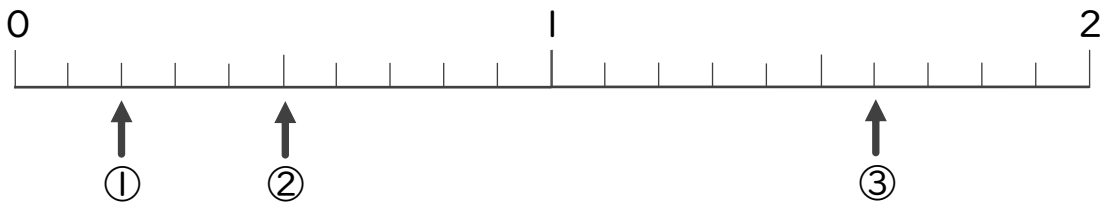
⑥ 1.7

⑦ 0.8

⑧ 0.3



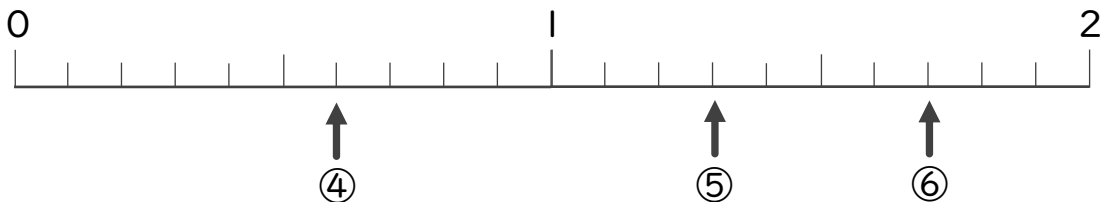
2 下の数直線を見て ↑ のメモリが表す数を書きましょう。



① _____

② _____

③ _____



④ _____

⑤ _____

⑥ _____



小数の意味と表し方II

● 小数の位置を数直線へ書きこむ



日にち： 月 日

名まえ _____

1 次の数を表すメモリに↑を書きましょう。

① 0.5

② 0.7

③ 1.8

④ 1.2



⑤ 0.6

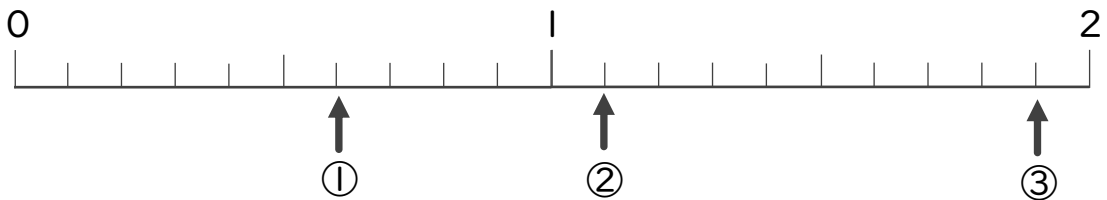
⑥ 1.1

⑦ 1

⑧ 1.7



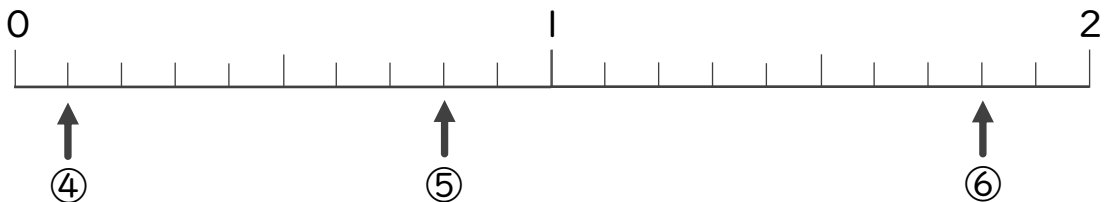
2 下の数直線を見て↑のメモリが表す数を書きましょう。



① _____

② _____

③ _____



④ _____

⑤ _____

⑥ _____



小数の意味と表し方 11

● 小数の位置を数直線へ書きこむ



日にち： 月 日

名まえ _____

1 次の数を表すめもりに ↑ を書きましょう。

① 0.7

② 0.9

③ 0.3

④ 2



⑤ 1.5

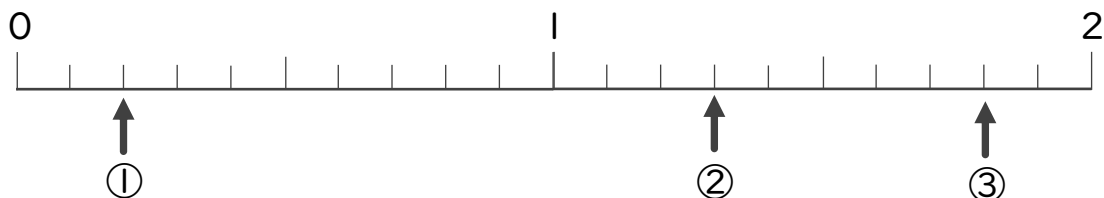
⑥ 0.1

⑦ 1.8

⑧ 0.5



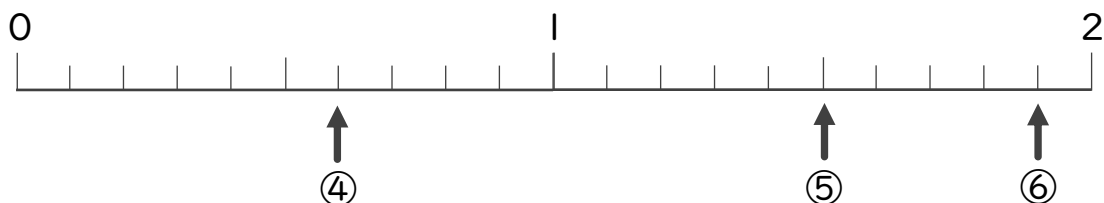
2 下の数直線を見て ↑ のめもりが表す数を書きましょう。



① _____

② _____

③ _____



④ _____

⑤ _____

⑥ _____



小数の意味と表し方 11

● 小数の位置を数直線へ書きこむ

15

目指せ80点!



名まえ _____

1 次の数を表すメモリに↑を書きましょう。(各10点)

① 0.1

② 1.6

③ 0.9



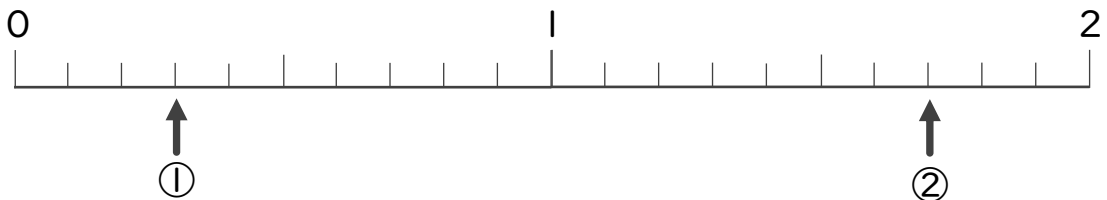
④ 0.5

⑤ 1.8

⑥ 1.2

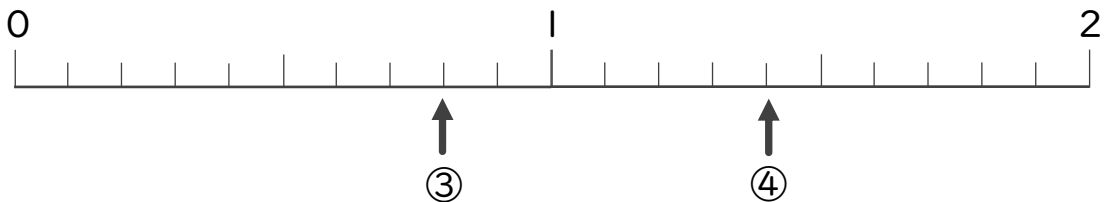


2 下の数直線を見て↑のメモリが表す数を書きましょう。(各10点)



① _____

② _____



③ _____

④ _____



小数の意味と表し方II

● 小数の位置を数直線へ書きこむ



目指せ80点!



名まえ _____

1 次の数を表すメモリに↑を書きましょう。(各10点)

① 1.7

② 0.6

③ 0.4



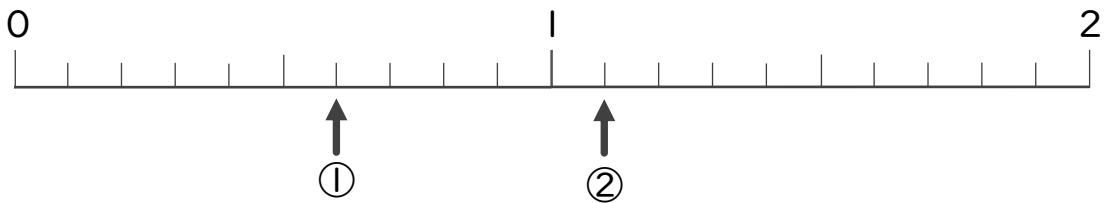
④ 1.1

⑤ 0.7

⑥ 0.3

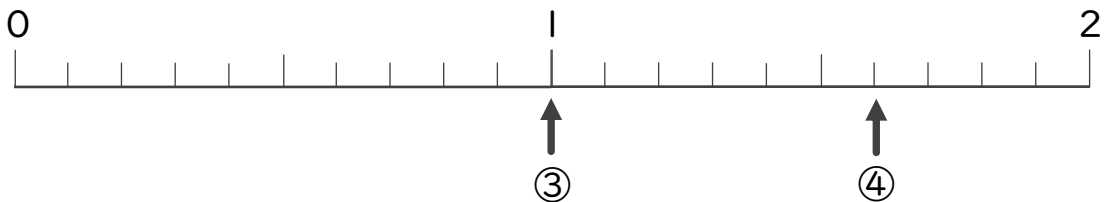


2 下の数直線を見て↑のメモリが表す数を書きましょう。(各10点)



① _____

② _____



③ _____

④ _____



小数の意味と表し方II

● 小数の位置を数直線へ書きこむ



日にち： 月 日

名まえ _____

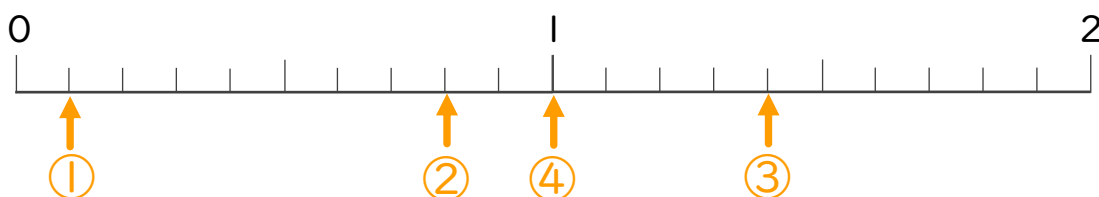
・ 次の数を表すめもりに ↑ を書きましょう。
(うすい字はなぞりましょう。)

① 0.1

② 0.8

③ 1.4

④ 1.0

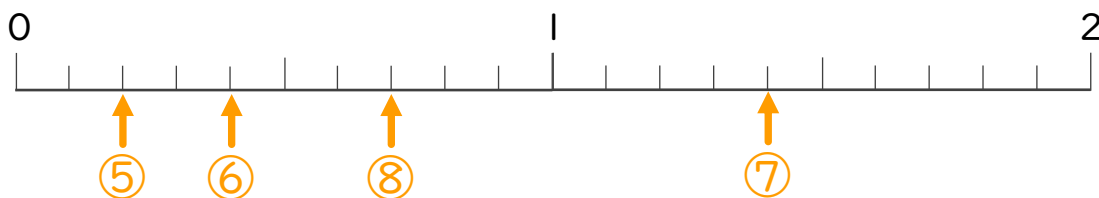


⑤ 0.2

⑥ 0.4

⑦ 1.4

⑧ 0.7

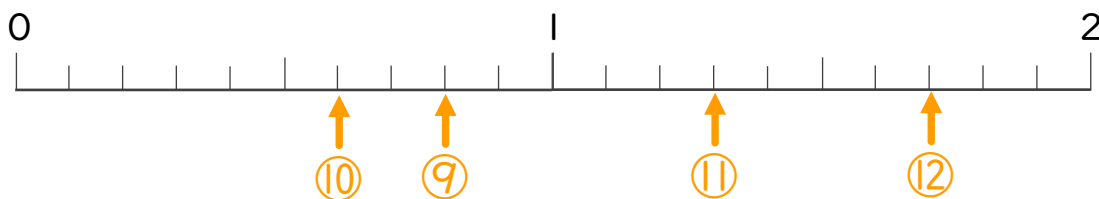


⑨ 0.8

⑩ 0.6

⑪ 1.3

⑫ 1.7





小数の意味と表し方 Ⅱ

● 小数の位置を数直線へ書きこむ



日にち： 月 日

名まえ _____

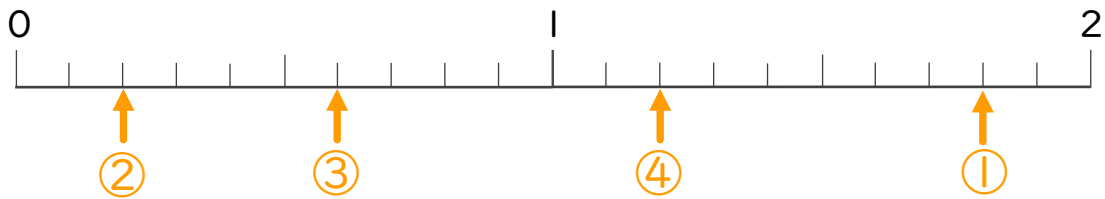
・ 次の数を表すメモリに ↑ を書きましょう。
(うすい字はなぞりましょう。)

① 1.8

② 0.2

③ 0.6

④ 1.2

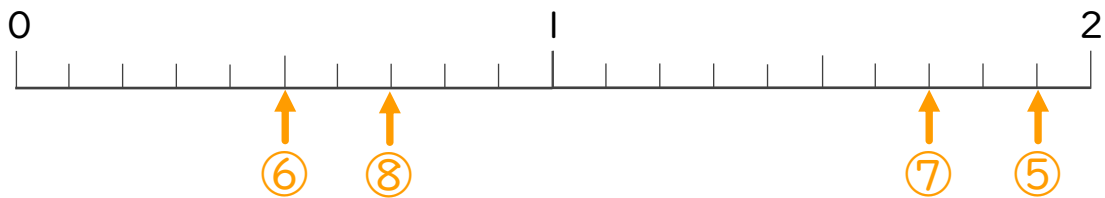


⑤ 1.9

⑥ 0.5

⑦ 1.7

⑧ 0.7

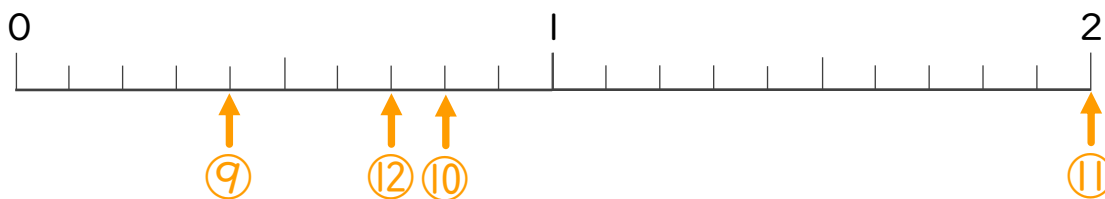


⑨ 0.4

⑩ 0.8

⑪ 2

⑫ 0.7





小数の意味と表し方 Ⅱ

● 小数の位置を数直線へ書きこむ



日にち： 月 日

名まえ _____

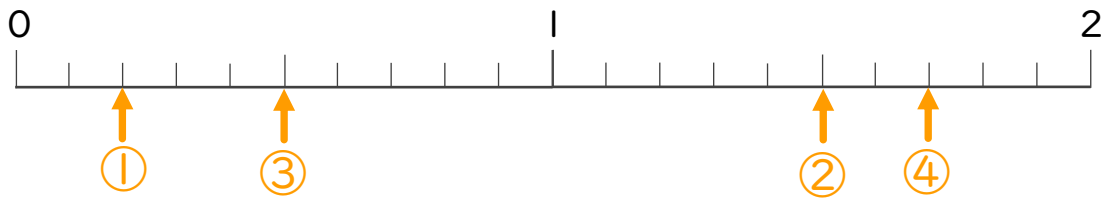
・ 次の数を表すメモリに ↑ を書きましょう。
(うすい字はなぞりましょう。)

① 0.2

② 1.5

③ 0.5

④ 1.7

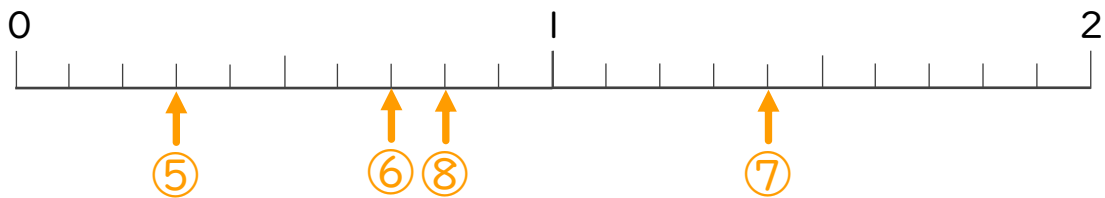


⑤ 0.3

⑥ 0.7

⑦ 1.4

⑧ 0.8

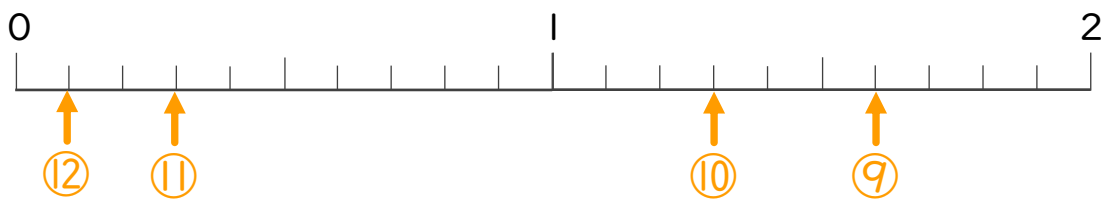


⑨ 1.6

⑩ 1.3

⑪ 0.3

⑫ 0.1





小数の意味と表し方 ①①

● 小数の位置を数直線へ書きこむ

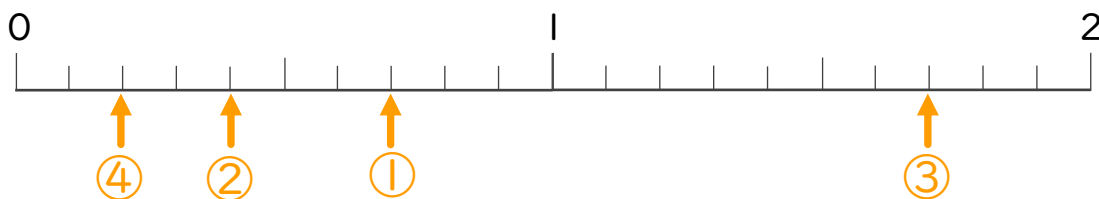


日にち： 月 日

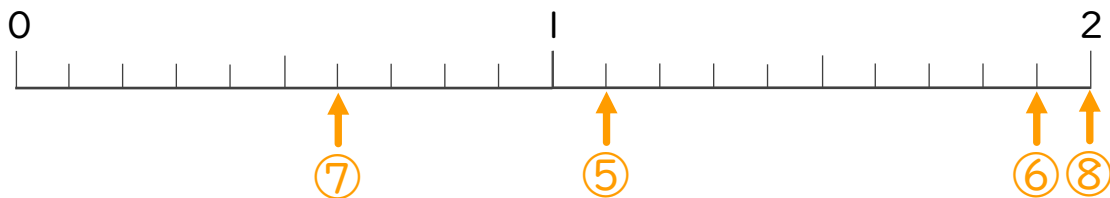
名まえ _____

・ 次の数を表すメモリに ↑ を書きましょう。
(うすい字はなぞりましょう。)

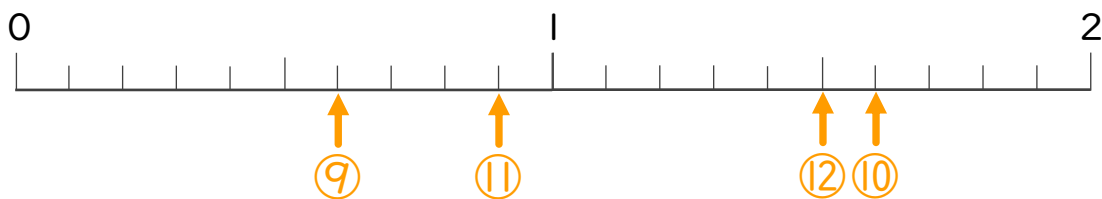
- ① 0.7
- ② 0.4
- ③ 1.7
- ④ 0.2



- ⑤ 1.1
- ⑥ 1.9
- ⑦ 0.6
- ⑧ 2



- ⑨ 0.6
- ⑩ 1.6
- ⑪ 0.9
- ⑫ 1.5





小数の意味と表し方II

● 小数の位置を数直線へ書きこむ



日にち： 月 日

名まえ _____

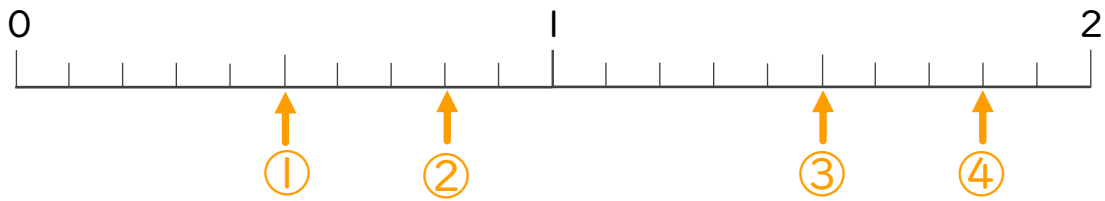
・ 次の数を表すメモリに ↑ を書きましょう。
(うすい字はなぞりましょう。)

① 0.5

② 0.8

③ 1.5

④ 1.8

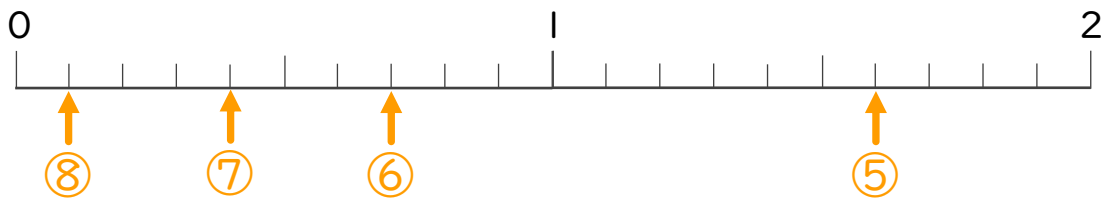


⑤ 1.6

⑥ 0.7

⑦ 0.4

⑧ 0.1

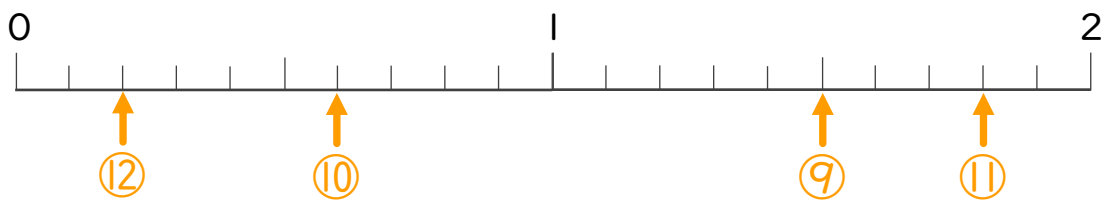


⑨ 1.5

⑩ 0.6

⑪ 1.8

⑫ 0.2





小数の意味と表し方II

● 小数の位置を数直線へ書きこむ



日にち： 月 日

名まえ _____

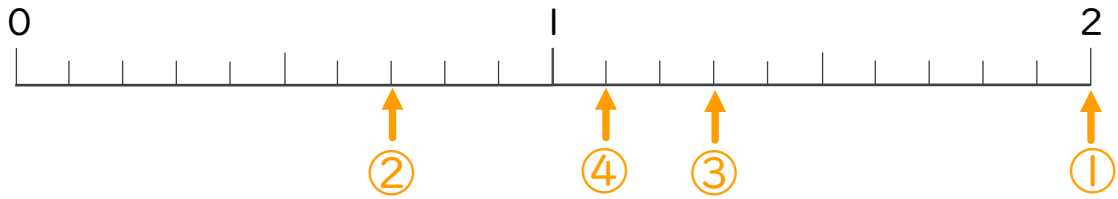
・ 次の数を表すメモリに ↑ を書きましょう。
(うすい字はなぞりましょう。)

① 2

② 0.7

③ 1.3

④ 1.1

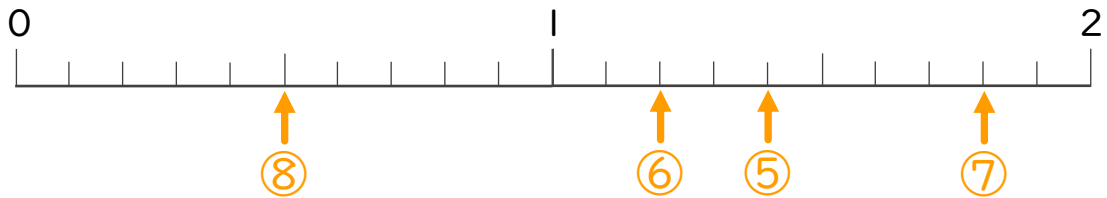


⑤ 1.4

⑥ 1.2

⑦ 1.8

⑧ 0.5

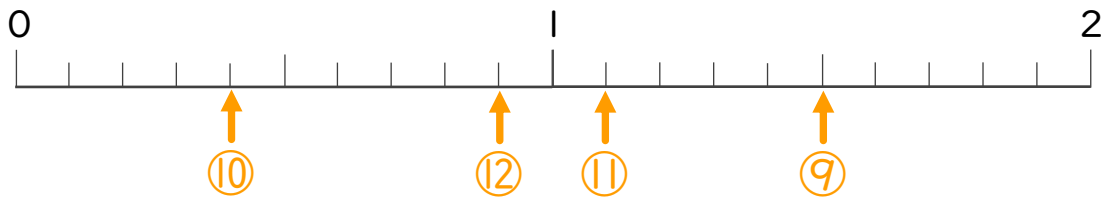


⑨ 1.5

⑩ 0.4

⑪ 1.1

⑫ 0.9





小数の意味と表し方 II

● 小数の位置を数直線へ書きこむ



日にち： 月 日

名まえ _____

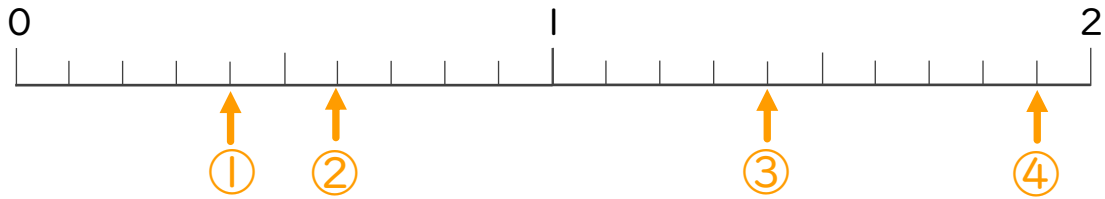
・ 次の数を表すめもりに ↑ を書きましょう。
(うすい字はなぞりましょう。)

① 0.4

② 0.6

③ 1.4

④ 1.9

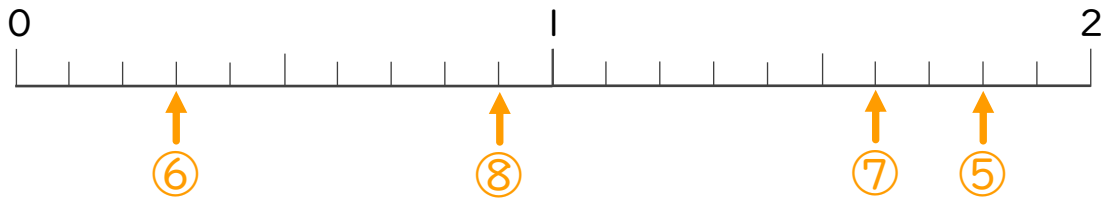


⑤ 1.8

⑥ 0.3

⑦ 1.6

⑧ 0.9

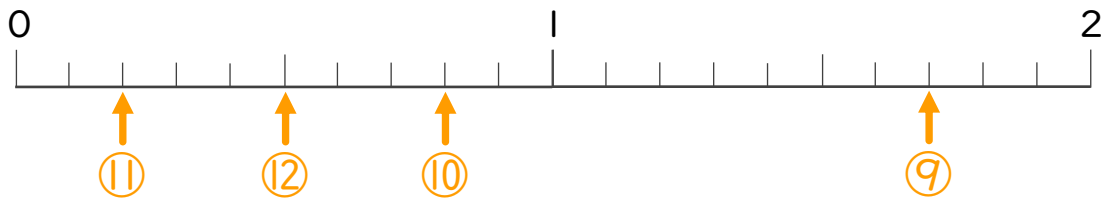


⑨ 1.7

⑩ 0.8

⑪ 0.2

⑫ 0.5





小数の意味と表し方II

● 小数の位置を数直線へ書きこむ



日にち： 月 日

名まえ _____

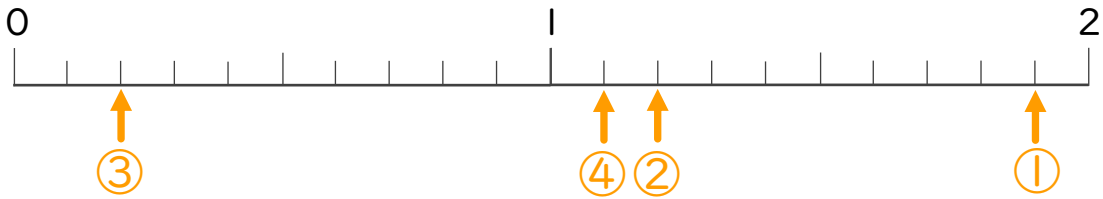
・ 次の数を表すめもりに ↑ を書きましょう。

① 1.9

② 1.2

③ 0.2

④ 1.1

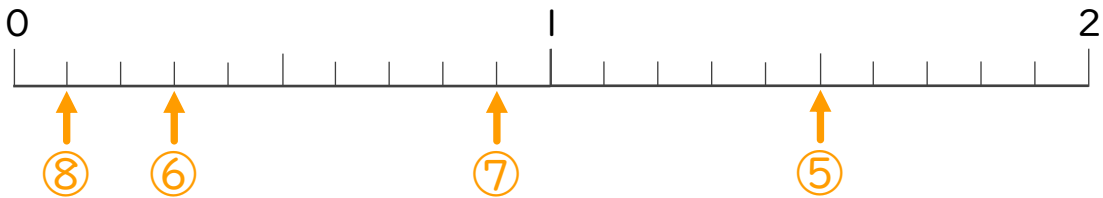


⑤ 1.5

⑥ 0.3

⑦ 0.9

⑧ 0.1

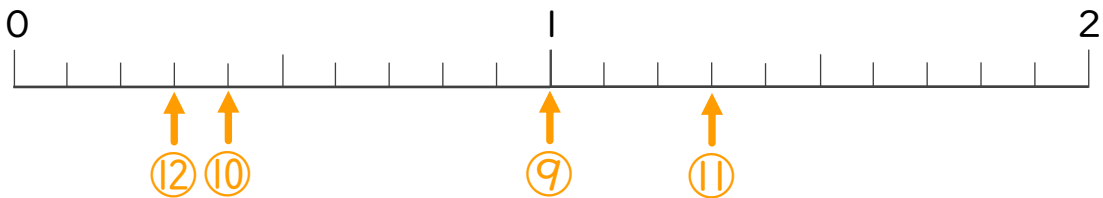


⑨ 1

⑩ 0.4

⑪ 1.3

⑫ 0.3





小数の意味と表し方II

● 小数の位置を数直線へ書きこむ

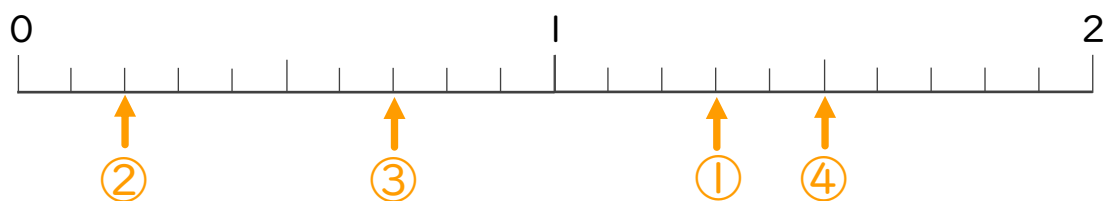


日にち： 月 日

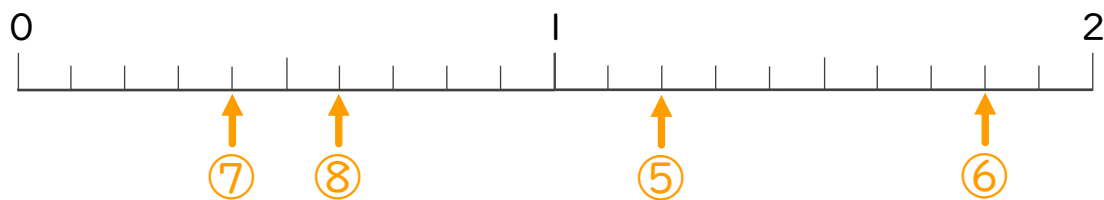
名まえ _____

・ 次の数を表すめもりに ↑ を書きましょう。

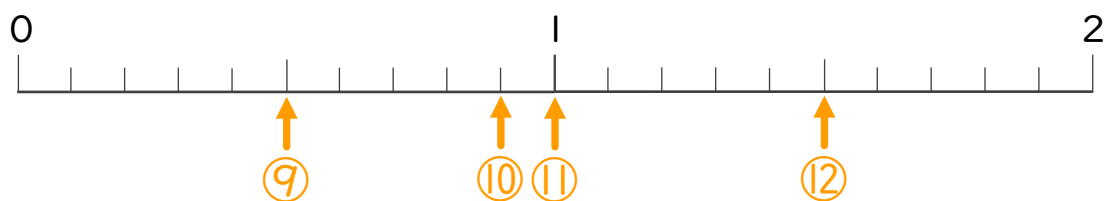
- ① 1.3 ② 0.2 ③ 0.7 ④ 1.5



- ⑤ 1.2 ⑥ 1.8 ⑦ 0.4 ⑧ 0.6



- ⑨ 0.5 ⑩ 0.9 ⑪ 1 ⑫ 1.5





小数の意味と表し方 10

● 小数の位置を数直線へ書きこむ

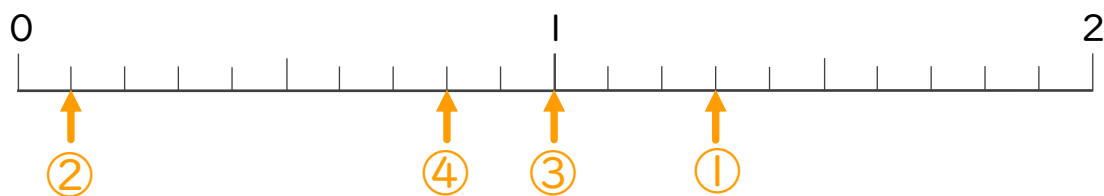


日にち： 月 日

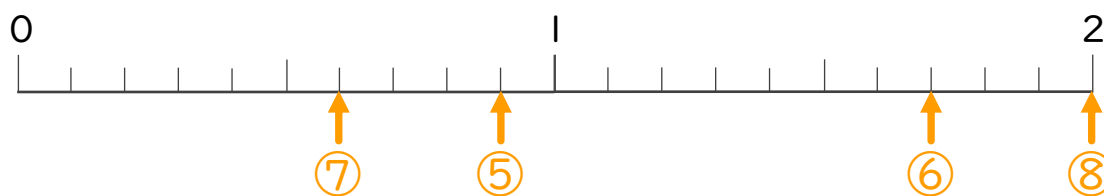
名まえ _____

1 次の数を表すメモリに ↑ を書きましょう。

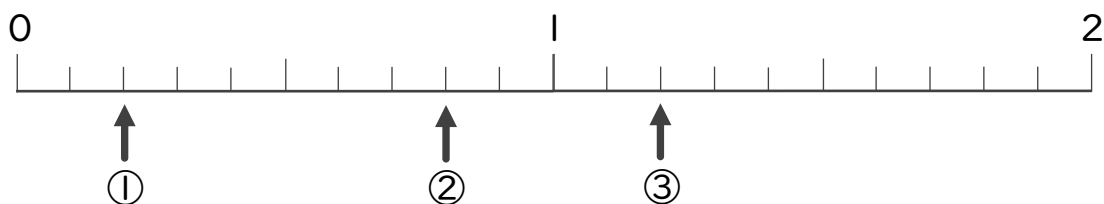
- ① 1.3 ② 0.1 ③ 1 ④ 0.8



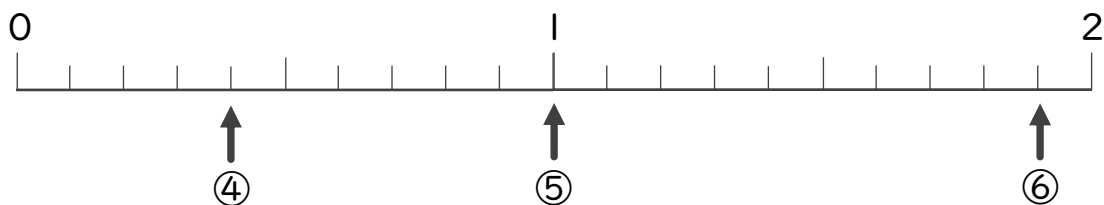
- ⑤ 0.9 ⑥ 1.7 ⑦ 0.6 ⑧ 2



2 下の数直線を見て ↑ のメモリが表す数を書きましょう。



- ① 0.2 ② 0.8 ③ 1.2



- ④ 0.4 ⑤ 1 ⑥ 1.9



小数の意味と表し方 II

● 小数の位置を数直線へ書きこむ



日にち： 月 日

名まえ _____

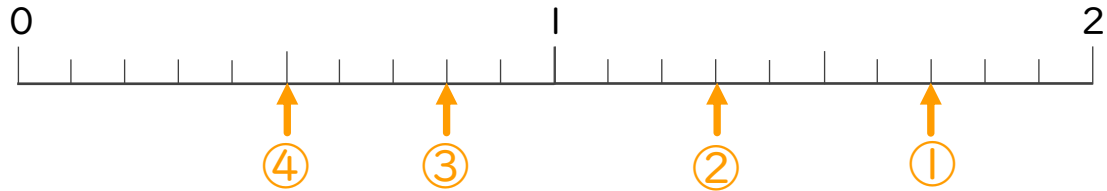
1 次の数を表すめもりに ↑ を書きましょう。

① 1.7

② 1.3

③ 0.8

④ 0.5

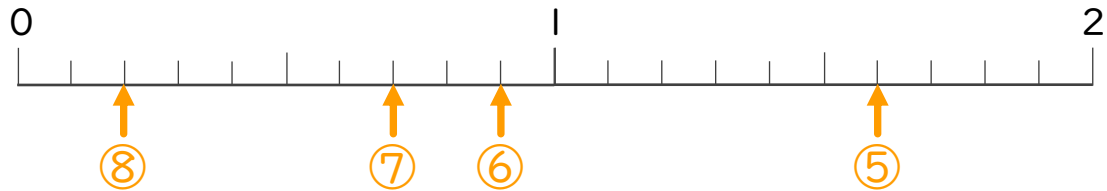


⑤ 1.6

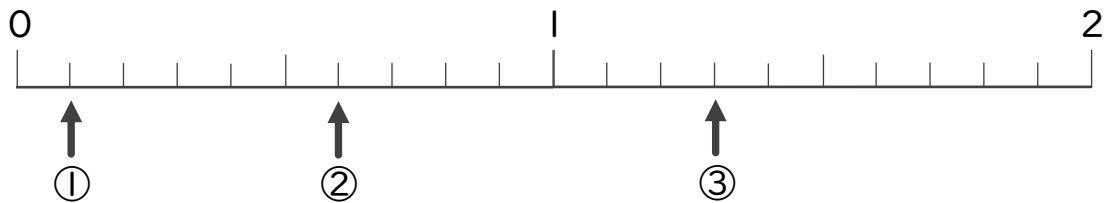
⑥ 0.9

⑦ 0.7

⑧ 0.2



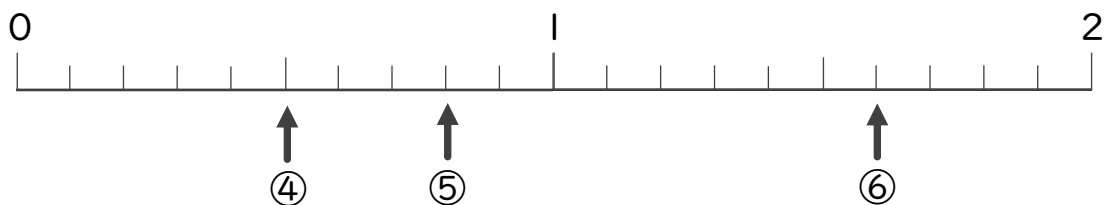
2 下の数直線を見て ↑ のめもりが表す数を書きましょう。



① 0.1

② 0.6

③ 1.3



④ 0.5

⑤ 0.8

⑥ 1.6



小数の意味と表し方 II

● 小数の位置を数直線へ書きこむ

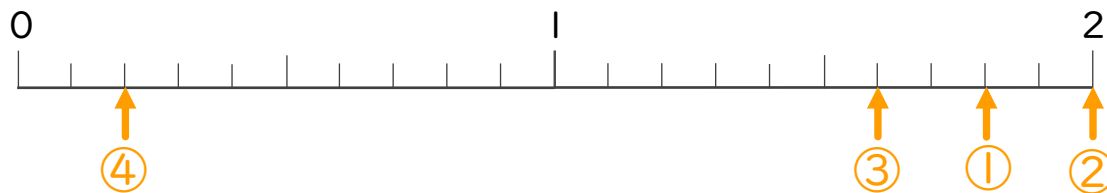


日にち： 月 日

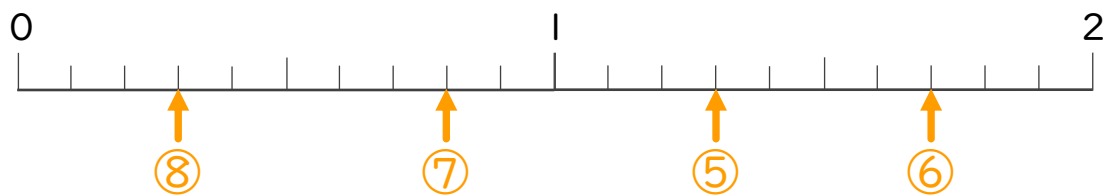
名まえ _____

1 次の数を表すめもりに ↑ を書きましょう。

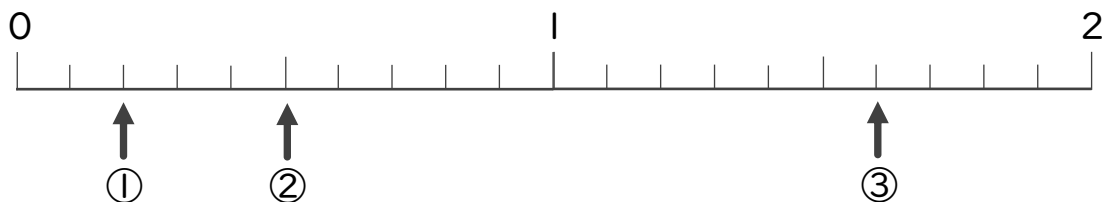
- ① 1.8 ② 2 ③ 1.6 ④ 0.2



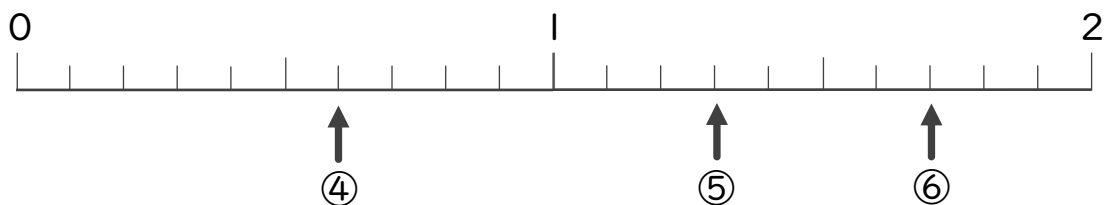
- ⑤ 1.3 ⑥ 1.7 ⑦ 0.8 ⑧ 0.3



2 下の数直線を見て ↑ のめもりが表す数を書きましょう。



- ① 0.2 ② 0.5 ③ 1.6



- ④ 0.6 ⑤ 1.3 ⑥ 1.7



小数の意味と表し方 11

● 小数の位置を数直線へ書きこむ



日にち： 月 日

名まえ _____

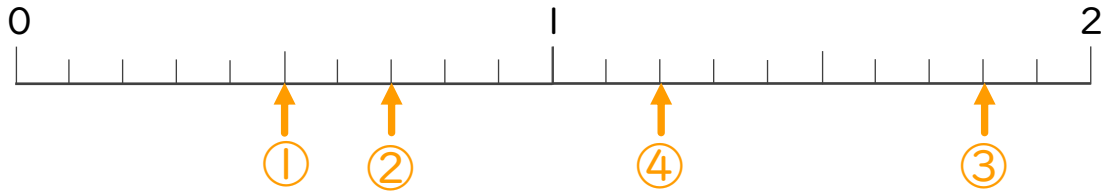
1 次の数を表すメモリに ↑ を書きましょう。

① 0.5

② 0.7

③ 1.8

④ 1.2

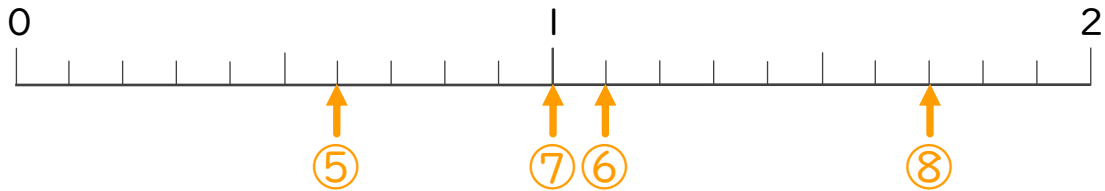


⑤ 0.6

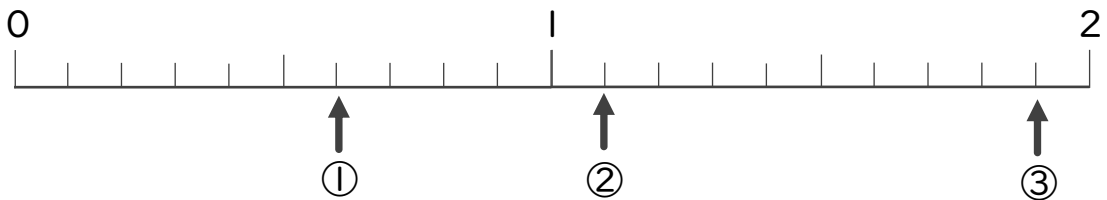
⑥ 1.1

⑦ 1

⑧ 1.7



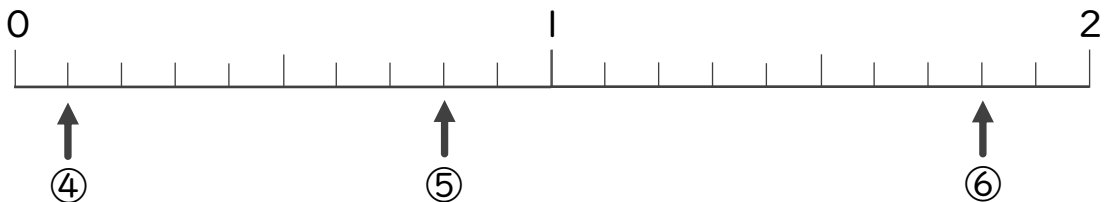
2 下の数直線を見て ↑ のメモリが表す数を書きましょう。



① 0.6

② 1.1

③ 1.9



④ 0.1

⑤ 0.8

⑥ 1.8



小数の意味と表し方 11

● 小数の位置を数直線へ書きこむ



日にち： 月 日

名まえ _____

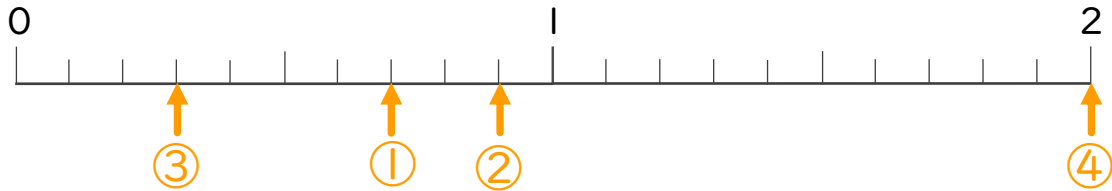
1 次の数を表すめもりに ↑ を書きましょう。

① 0.7

② 0.9

③ 0.3

④ 2

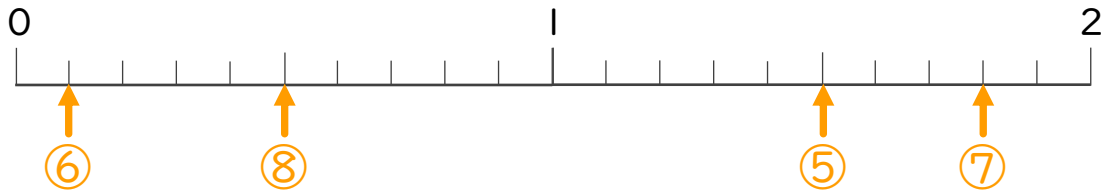


⑤ 1.5

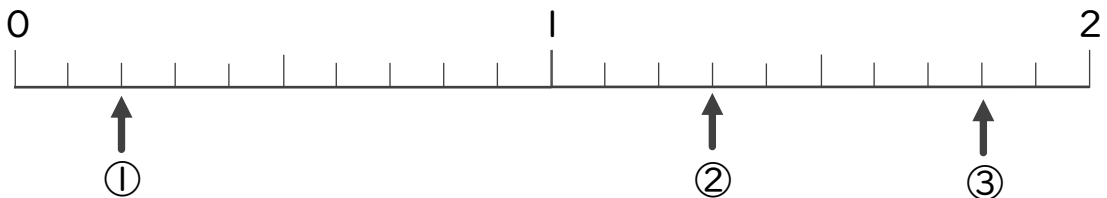
⑥ 0.1

⑦ 1.8

⑧ 0.5



2 下の数直線を見て ↑ のめもりが表す数を書きましょう。



①

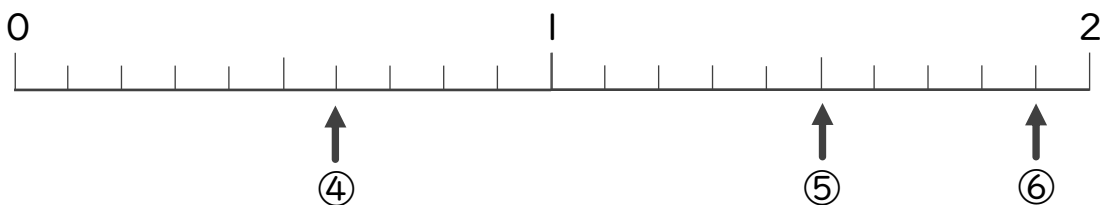
0.2

②

1.3

③

1.8



④

0.6

⑤

1.5

⑥

1.9



小数の意味と表し方 11

● 小数の位置を数直線へ書きこむ

15

目指せ80点!



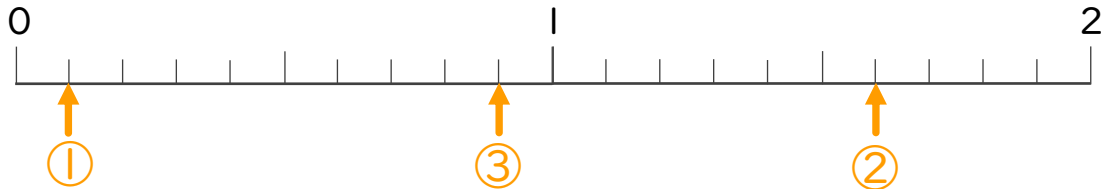
名まえ _____

1 次の数を表すメモリに↑を書きましょう。(各10点)

① 0.1

② 1.6

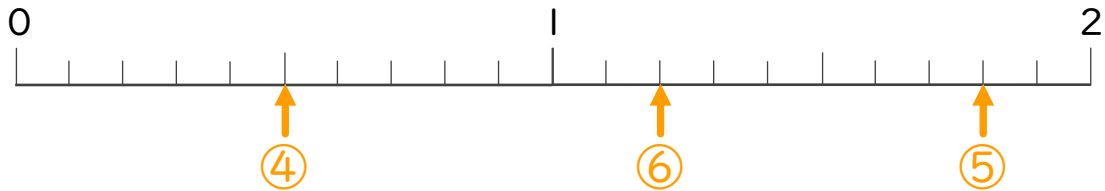
③ 0.9



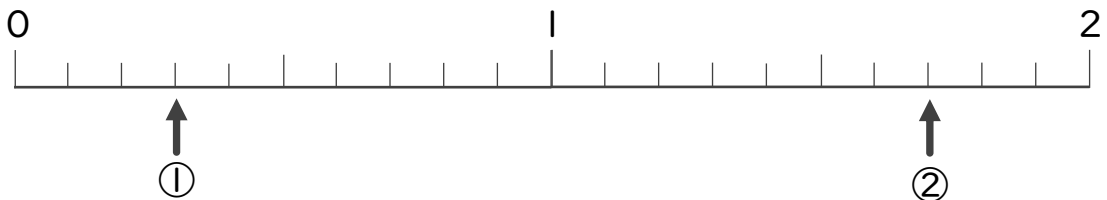
④ 0.5

⑤ 1.8

⑥ 1.2

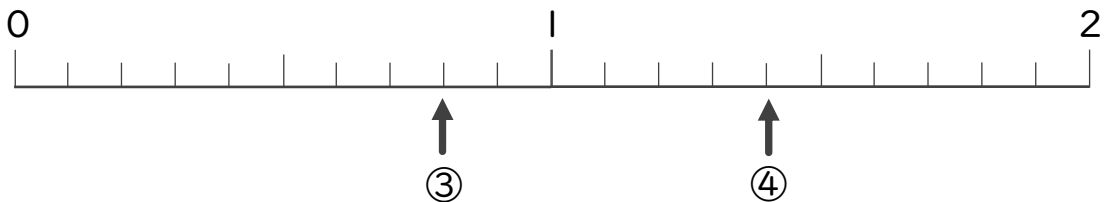


2 下の数直線を見て↑のメモリが表す数を書きましょう。(各10点)



① 0.3

② 1.7



③ 0.8

④ 1.4



小数の意味と表し方II

● 小数の位置を数直線へ書きこむ

16

目指せ80点!



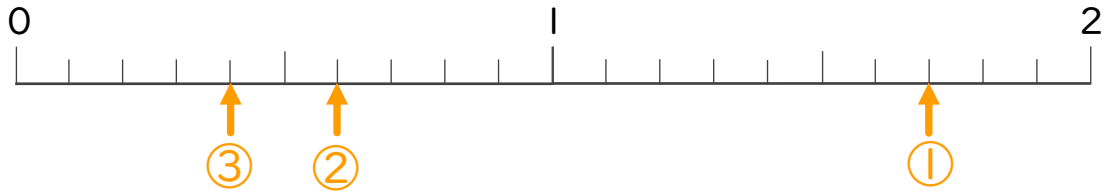
名まえ _____

1 次の数を表すメモリに↑を書きましょう。(各10点)

① 1.7

② 0.6

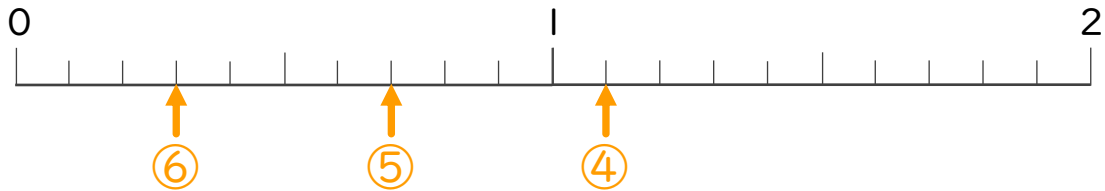
③ 0.4



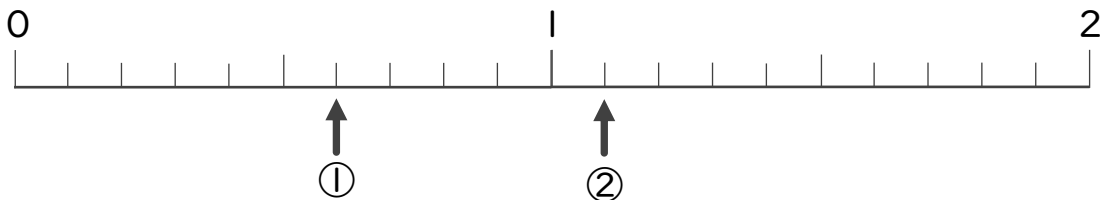
④ 1.1

⑤ 0.7

⑥ 0.3

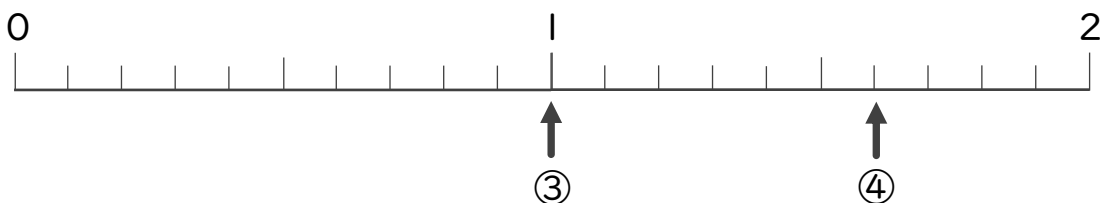


2 下の数直線を見て↑のメモリが表す数を書きましょう。(各10点)



① 0.6

② 1.1



③ 1

④ 1.6